



あわせていくつ？

◎ たしざんの しきの かきかた




日にち： 月 日

名まえ _____

- みかんをあわせるとぜんぶでいくつになるでしょう。(うすいじはなぞりましょう。)

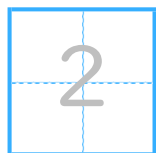
あわせる

ぜんぶで



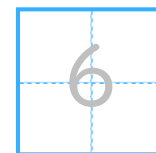
こ

と



こ

で




こ

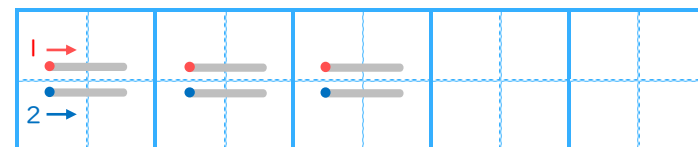
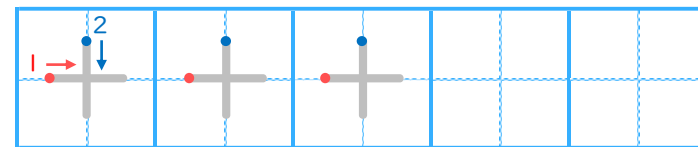
たす

は

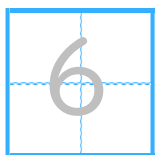
しき



▼ れんしゅうしよう！



こたえ



こ





あわせていくつ2

◎ たしざんの しきの かきかた





日にち： 月 日

名まえ _____

- りんごをあわせるとぜんぶでいくつになるでしょう。(うすいじはなぞりましょう。)

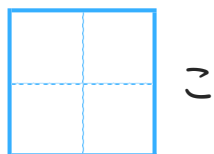
あわせる

ぜんぶで




こ

と



こ

で

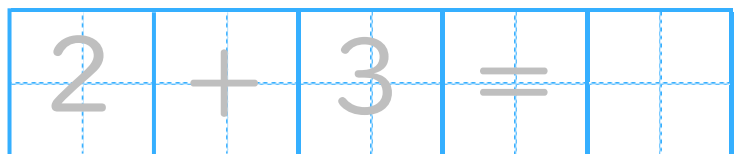


こ

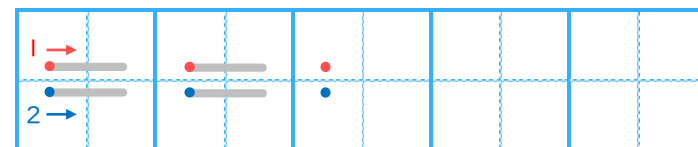
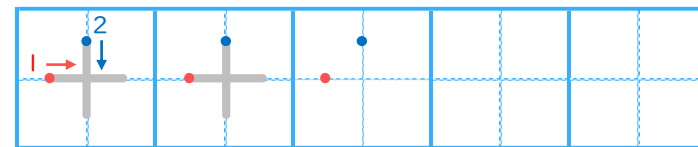
たす

は

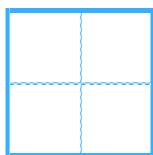
しき



▼ れんしゅうしよう!



こたえ



こ





あわせていくつ2

◎ たしざんの しきの かきかた







日にち： 月 日

名まえ _____

・ にんじんを あわせる と ぜんぶで いくつ になる でしょう。(うすいじは なぞりましよう。)

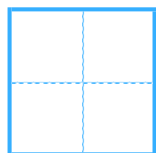
あわせる

ぜんぶで



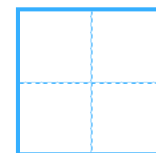
ぼん

と



ほん

で

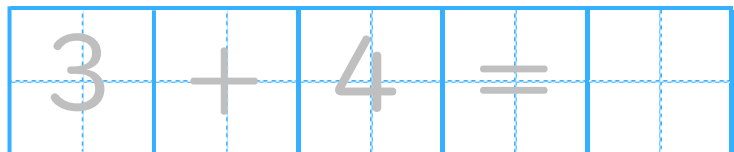


ほん

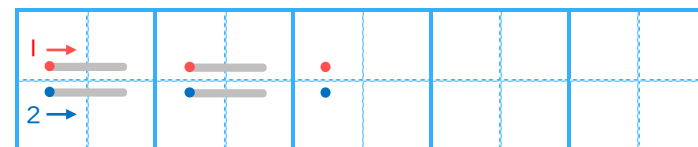
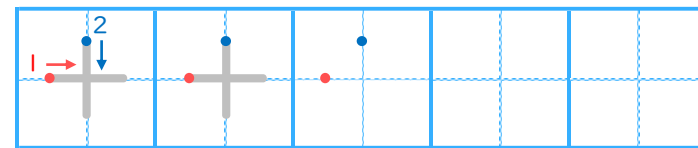
たす

は

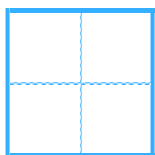
しき



▼ れんしゅうしよう!



こたえ



ほん





あわせていくつ2

◎ たしざんの しきの かきかた





日にち： 月 日

名まえ _____

- いちごをあわせるとぜんぶでいくつになるでしょう。(うすいじはなぞりましょう。)

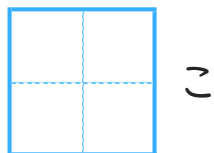
あわせる

ぜんぶで




こ

と



こ

で

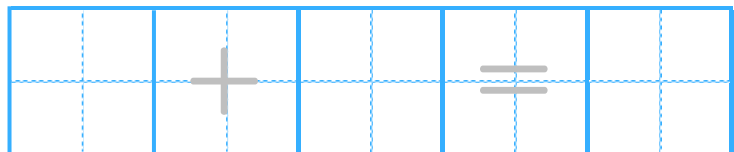


こ

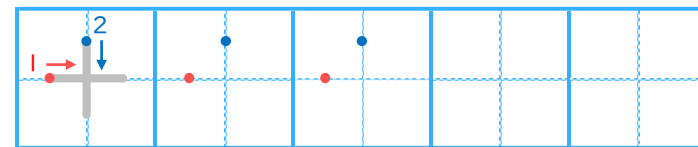
たす

は

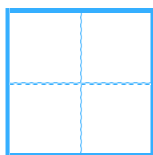
しき



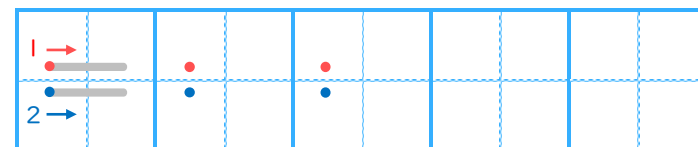
▼ れんしゅうしよう!



こたえ



こ





あわせていくつ2

たしざんのしきのかきかた



日にち： 月 日

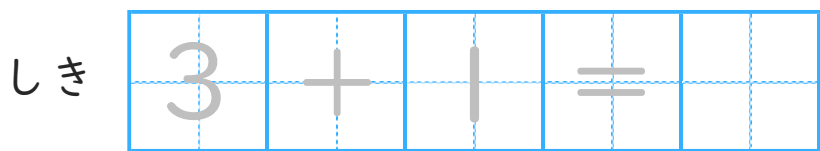

名まえ _____

みかんをあわせるとぜんぶでいくつになるでしょう。(うすいじはなぞりましょう。)

①

あわせる

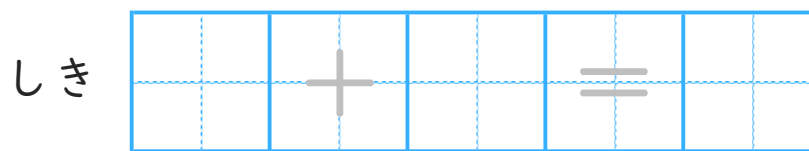
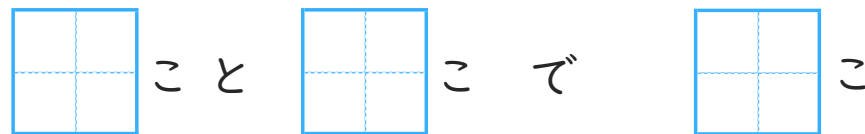
ぜんぶで



②

あわせる

ぜんぶで





あわせていくつ2

たしざんのしきのかきかた

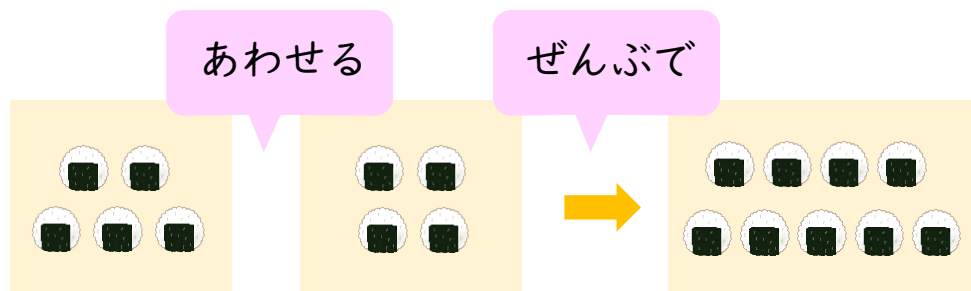


日にち： 月 日

名まえ _____

・ おにぎりをあわせるとぜんぶでいくつになるでしょう。(うすいじはなぞりましょう。)

①



 こと

 こ

 で

 こ

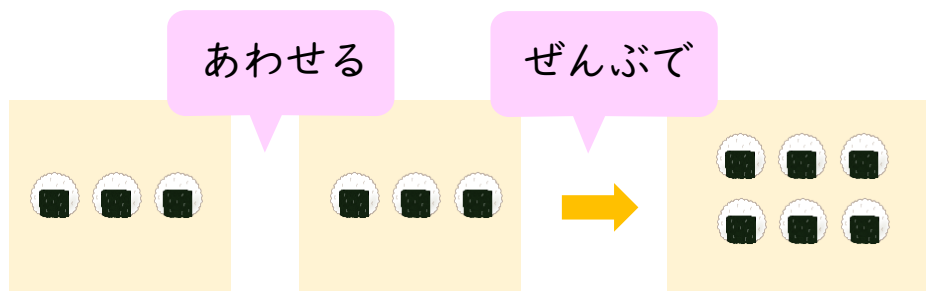
しき

			+					=			
--	--	--	---	--	--	--	--	---	--	--	--

こたえ

 こ

②



 こと

 こ

 で

 こ

しき

			+					=			
--	--	--	---	--	--	--	--	---	--	--	--

こたえ

 こ



あわせていくつ2

◎ たしざんの しきの かきかた



日にち： 月 日

名まえ _____

・ えんぴつを あわせると ぜんぶでいくつになるでしょう。

①

あわせる ぜんぶで

ほんと ぽんで ほん

しき

こたえ ほん

②

あわせる ぜんぶで

ほんと ぽんで ほん

しき

こたえ ほん



あわせていくつ2

たしざんのしきのかきかた



日にち： 月 日

名まえ _____

いちごをあわせるとぜんぶでいくつになるでしょう。

①

あわせる ぜんぶで

こと こ で こ

しき

こたえ

こ

②

あわせる ぜんぶで

こと こ で こ

しき

こたえ

こ



あわせていくつ2

たしざんのしきのかきかた



日にち： 月 日

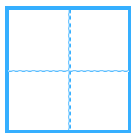
名まえ _____

・ にんじんをあわせるとぜんぶでいくつになるでしょう。


①

あわせる

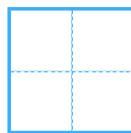
ぜんぶで



ぽんと

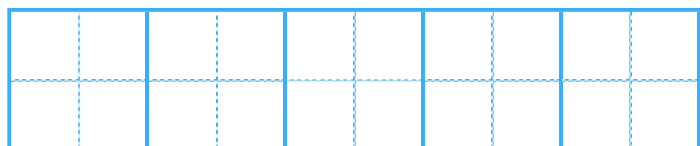


ぽんで

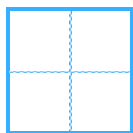


ぽん

しき



こたえ

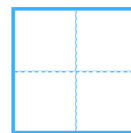


ぽん

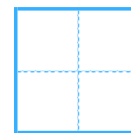
②

あわせる

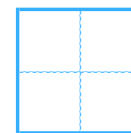
ぜんぶで



ほん

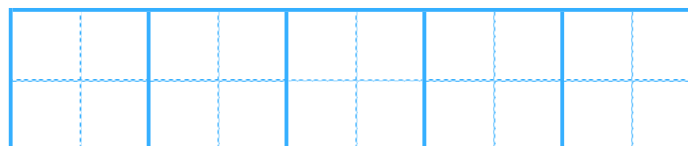


ぽんで

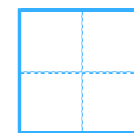


ぽん

しき



こたえ



ぽん





あわせていくつ？

◎ たしざんの しきの かきかた




日にち： 月 日

名まえ _____

- みかんをあわせるとぜんぶでいくつになるでしょう。(うすいじはなぞりましょう。)

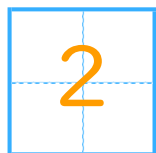
あわせる

ぜんぶで



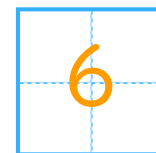
こ

と



こ

で



こ

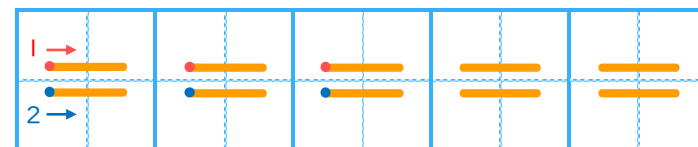
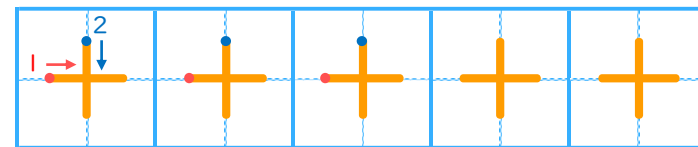
たす

は

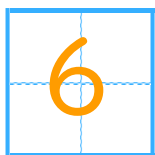
しき

$$4 + 2 = 6$$

▼ れんしゅうしよう！



こたえ



こ





あわせていくつ2

◎ たしざんの しきの かきかた







日にち： 月 日

名まえ _____

- りんごをあわせるとぜんぶでいくつになるでしょう。(うすいじはなぞりましょう。)

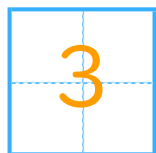
あわせる

ぜんぶで



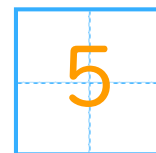
こ

と



こ

で



こ

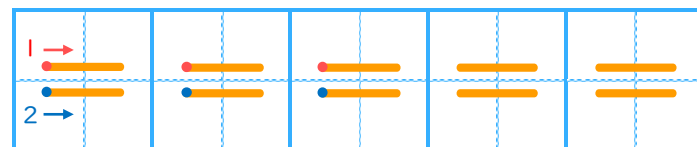
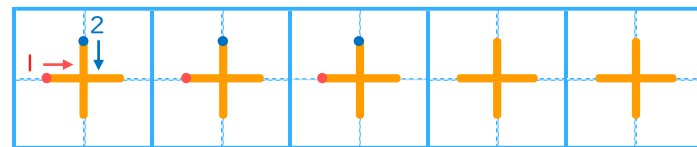
たす

は

しき

2	+	3	=	5
---	---	---	---	---

▼ れんしゅうしよう!



こたえ



こ





あわせていくつ？

たしざんのしきのかきかた



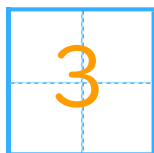



日にち： 月 日

名まえ _____

・ にんじんをあわせるとぜんぶでいくつになるでしょう。(うすいじはなぞりましょう。)

あわせる

ぜんぶで



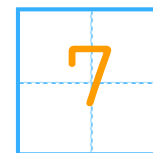
ぼん

と



ほん

で



ほん

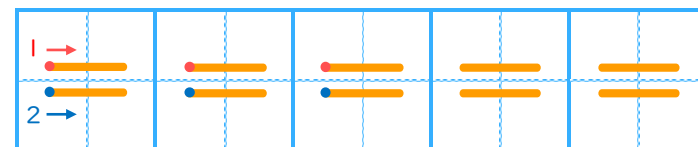
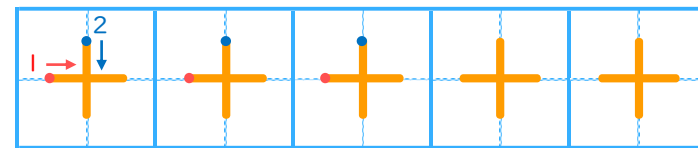
たす

は

しき

$$3 + 4 = 7$$

▼ れんしゅうしよう！



こたえ



ほん





あわせていくつ2

◎ たしざんの しきの かきかた







日にち： 月 日

名まえ _____

- いちごをあわせるとぜんぶでいくつになるでしょう。(うすいじはなぞりましょう。)

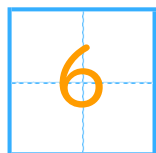
あわせる

ぜんぶで



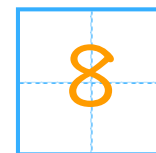
こ

と



こ

で



こ

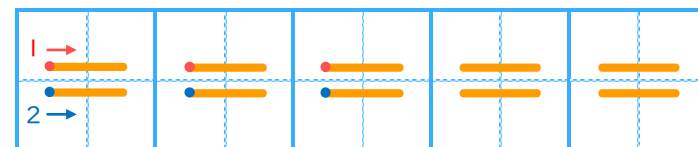
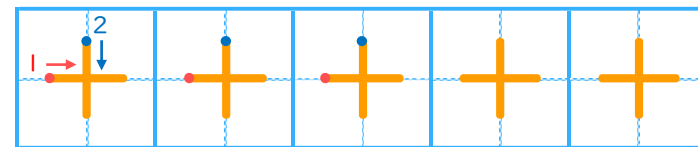
たす

は

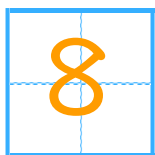
しき

2	+	6	=	8
---	---	---	---	---

▼ れんしゅうしよう!



こたえ



こ





あわせていくつ2

たしざんのしきのかきかた

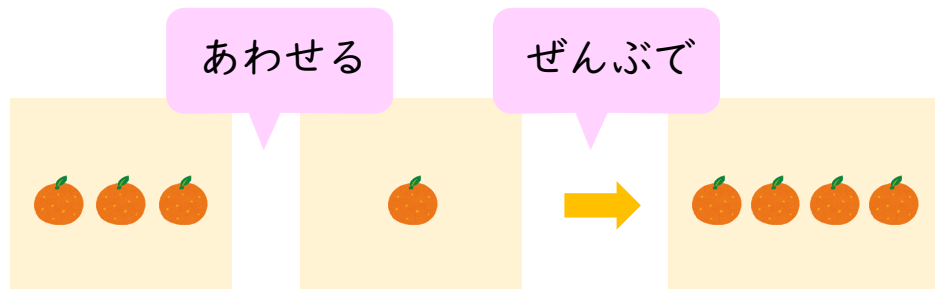


日にち： 月 日

名まえ _____

みかんをあわせるとぜんぶでいくつになるでしょう。(うすいじはなぞりましょう。)

①

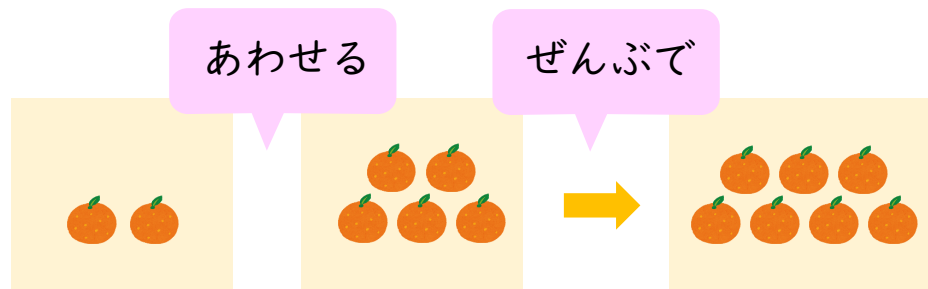


3 こと 1 こ で 4 こ

しき $3 + 1 = 4$

こたえ 4 こ

②



2 こと 5 こ で 7 こ

しき $2 + 5 = 7$

こたえ 7 こ





あわせていくつ？

たしざんのしきのかきかた

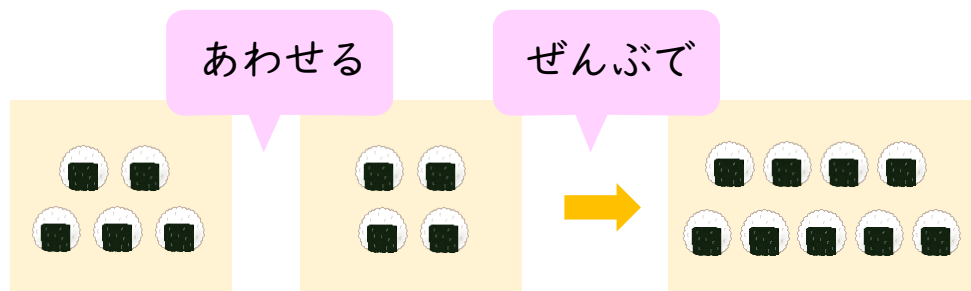


日にち： 月 日

名まえ _____

・ おにぎりをあわせるとぜんぶでいくつになるでしょう。(うすいじはなぞりましょう。)

①

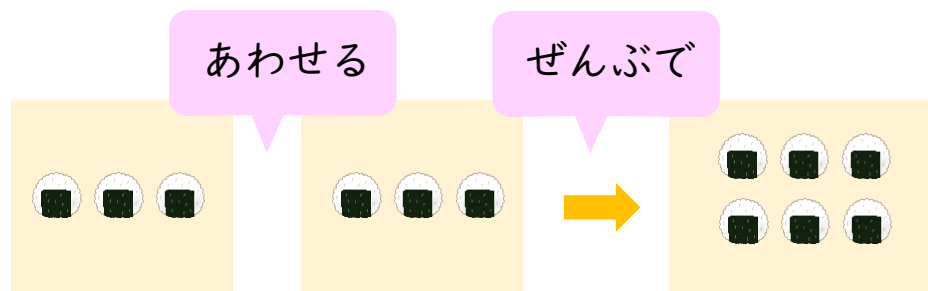


5 こと 4 こ で 9 こ

しき $5 + 4 = 9$

こたえ 9 こ

②



3 こと 3 こ で 6 こ

しき $3 + 3 = 6$

こたえ 6 こ



あわせていくつ2

たしざんのしきのかきかた

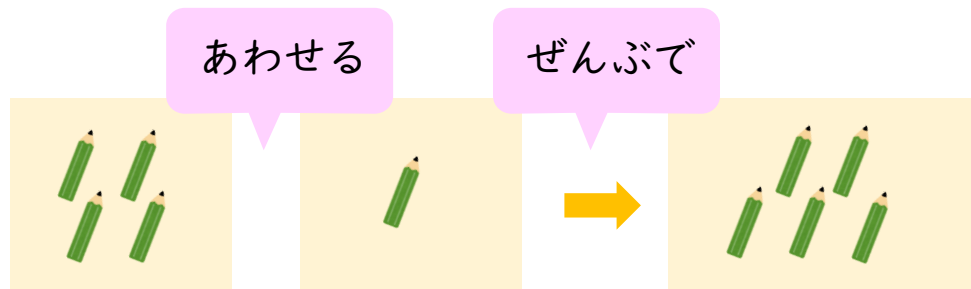


日にち： 月 日

名まえ _____

えんぴつをあわせるとぜんぶでいくつになるでしょう。

①

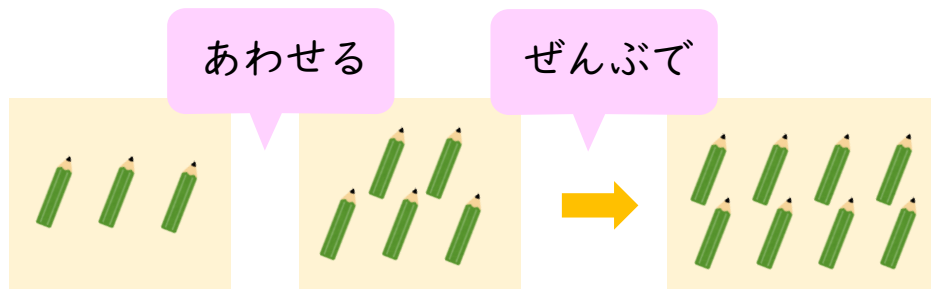


4 ほん と 1 ぽんで 5 ほん

しき $4 + 1 = 5$

こたえ 5 ほん

②



3 ほん と 5 ぽんで 8 ほん

しき $3 + 5 = 8$

こたえ 8 ほん



あわせていくつ2

たしざんのしきのかきかた

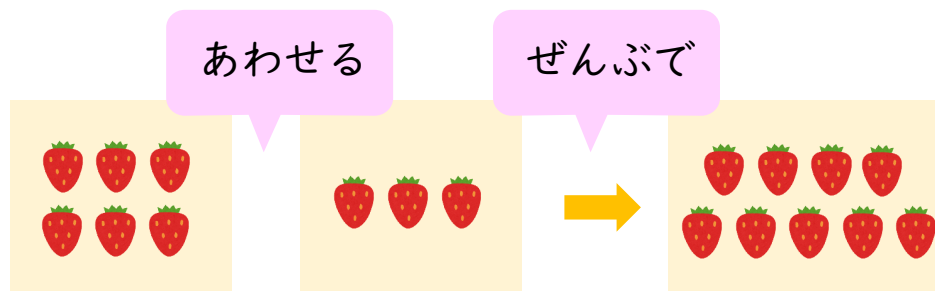


日にち： 月 日

名まえ _____

いちごをあわせるとぜんぶでいくつになるでしょう。

①

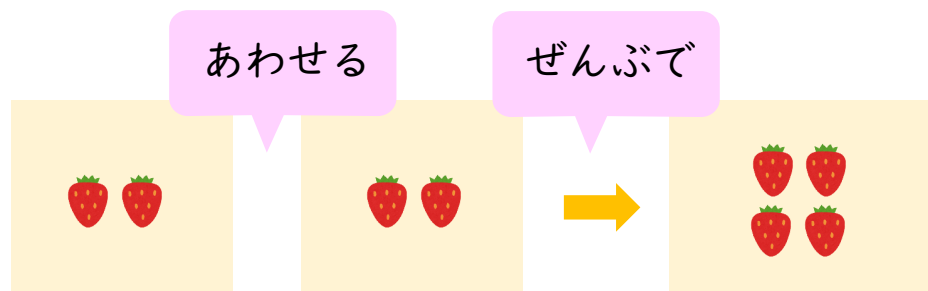


6 こと 3 こと で 9 こと

しき $6 + 3 = 9$

こたえ 9 こと

②



2 こと 2 こと で 4 こと

しき $2 + 2 = 4$

こたえ 4 こと





あわせていくつ？

たしざんのしきのかきかた



日にち： 月 日

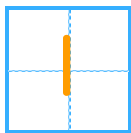
名まえ _____

・ にんじんをあわせるとぜんぶでいくつになるでしょう。

①

あわせる

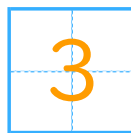
ぜんぶで



ぽんと



ほんで

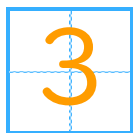


ぼん

しき

$$1 + 2 = 3$$

こたえ

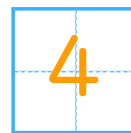


ぼん

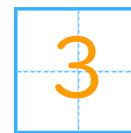
②

あわせる

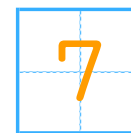
ぜんぶで



ほん



ほんで

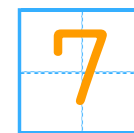


ぼん

しき

$$4 + 3 = 7$$

こたえ



ぼん

