



# あわせていくつ？

◎ たしざんの しきの かきかた




日にち：      月      日

名まえ \_\_\_\_\_

- みかんをあわせるとぜんぶでなんこになりますか。(うすいじはなぞりましょう。)

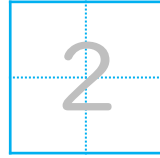
あわせる

ぜんぶで



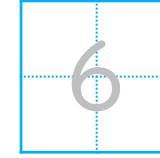
こ

と



こ

で




こ

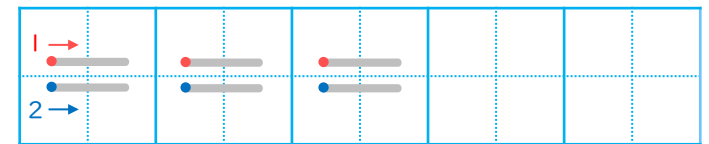
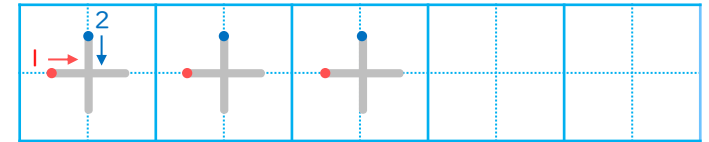
たす

は

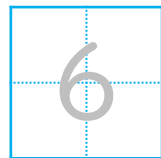
しき



▼ れんしゅうしよう！



こたえ



こ





# あわせていくつ2

◎ たしざんの しきの かきかた



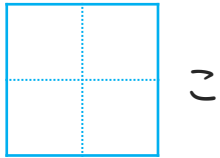

日にち：      月      日

名まえ \_\_\_\_\_

- りんごをあわせるとぜんぶでなんこになりますか。(うすいじはなぞりましょう。)

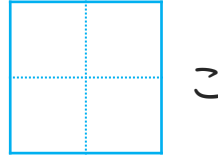
あわせる

ぜんぶで




こ

と



こ

で

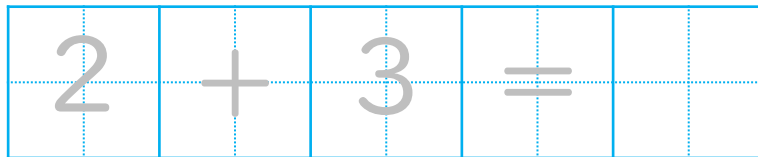


こ

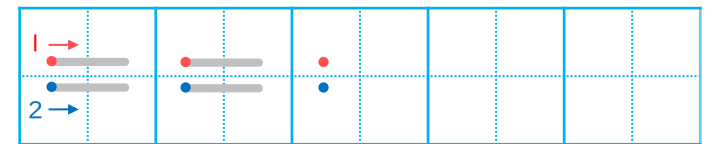
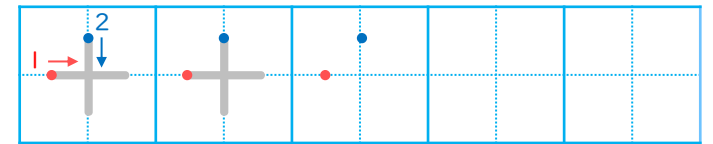
たす

は

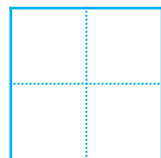
しき



▼ れんしゅうしよう!



こたえ



こ





# あわせていくつ2

たしざんのしきのかきかた



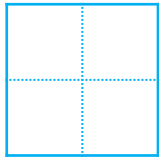


日にち： 月 日

名まえ \_\_\_\_\_

・ にんじんをあわせるとぜんぶでなんぼんになりますか。(うすいじはなぞりましょう。)

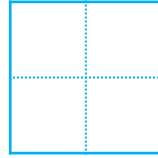
あわせる

ぜんぶで



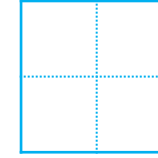
ぼん

と



ぼん

で



ぼん

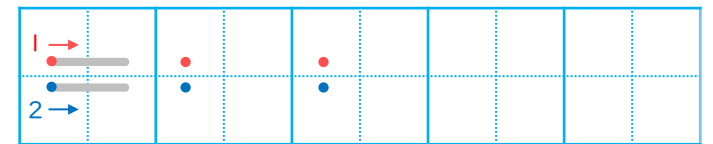
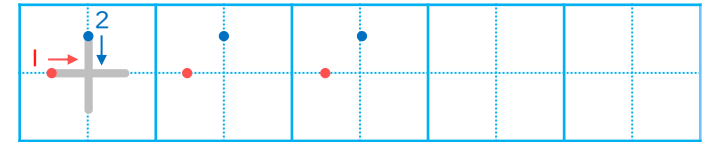
たす

は

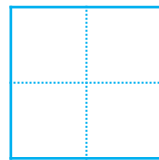
しき

3	+	4	=		
---	---	---	---	--	--

れんしゅうしよう!



こたえ



ぼん



すらすらぷりんと



# あわせていくつ？

◎ たしざんの しきの かきかた







日にち：      月      日

名まえ \_\_\_\_\_

- いちごをあわせるとぜんぶでなんこになりますか。(うすいじはなぞりましょう。)


あわせる

ぜんぶで



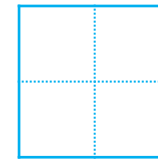
こ

と



こ

で

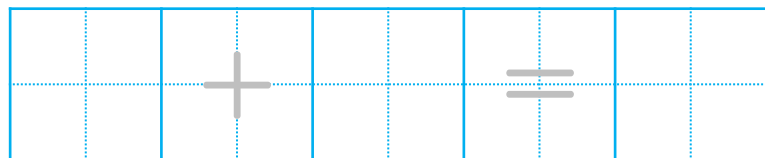


こ

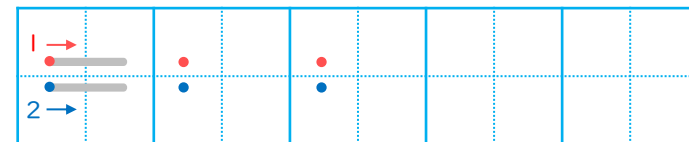
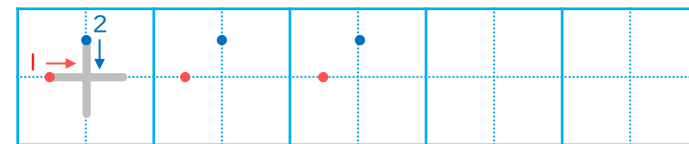
たす

は

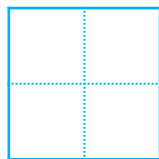
しき



▼ れんしゅうしよう！



こたえ



こ





# あわせていくつ2

たしざんのしきのかきかた



日にち： 月 日

名まえ \_\_\_\_\_

みかんをあわせるとぜんぶでなんこになりますか。(うすいじはなぞりましょう。)

①

あわせる      ぜんぶで


 こと 


 こ で 


 こ

しき 

3	+	1	=		

こたえ 


 こ

②

あわせる      ぜんぶで


 こと 


 こ で 


 こ

しき 

	+		=		

こたえ 


 こ



# あわせていくつ2

たしざんのしきのかきかた



日にち： 月 日

名まえ \_\_\_\_\_

・ おにぎりをあわせるとぜんぶでなんこになりますか(うすいじはなぞりましょう。)

①

あわせる      ぜんぶで

こと      こ      で      こ

しき

		+			=		
--	--	---	--	--	---	--	--

こたえ 


 こ

②

あわせる      ぜんぶで

こと      こ      で      こ

しき

		+			=		
--	--	---	--	--	---	--	--

こたえ 


 こ



# あわせていくつ2

たしざんのしきのかきかた



日にち： 月 日

名まえ \_\_\_\_\_

えんぴつをあわせるとぜんぶでなんぼんになりますか。

①

あわせる

ぜんぶで



ほん と ぽん で ほん


しき


こたえ  ほん

②

あわせる

ぜんぶで



ほん と ぽん で ほん

しき


こたえ  ほん



# あわせていくつ？

たしざんのしきのかきかた



日にち： 月 日

名まえ \_\_\_\_\_

いちごをあわせるとぜんぶでなんこになりますか。

①

あわせる      ぜんぶで


 こと 


 こ で 


 こ

しき


こたえ


 こ

②

あわせる      ぜんぶで


 こと 


 こ で 


 こ

しき


こたえ


 こ





# あわせていくつ2

◎ たしざんのしきのかきかた



日にち： 月 日

名まえ \_\_\_\_\_

・ にんじんをあわせるとぜんぶでなんぼんになりますか。

①

あわせる

ぜんぶで




 ぽんと 


 ほん で 


 ぼん

しき


こたえ 


 ぼん

②

あわせる

ぜんぶで




 ほん と 


 ぼん で 


 ぼん

しき


こたえ 


 ぼん



# あわせていくつ？

◎ たしざんの しきの かきかた



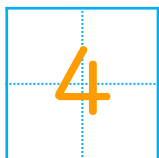



日にち：      月      日

名まえ \_\_\_\_\_

- みかんをあわせるとぜんぶでなんこになりますか。(うすいじはなぞりましょう。)

あわせる

ぜんぶで



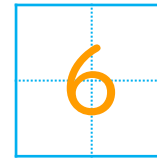
こ

と



こ

で



こ

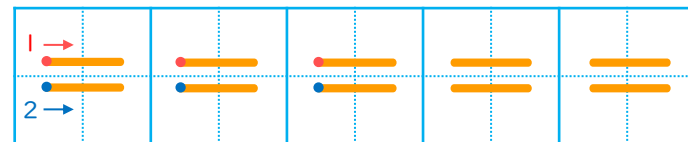
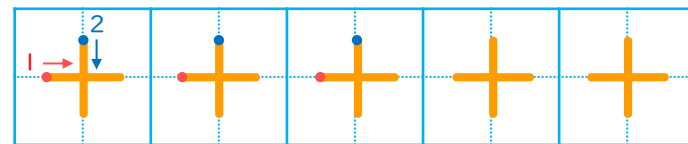
たす

は

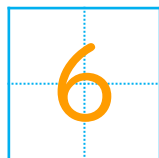
しき



▼ れんしゅうしよう！



こたえ



こ





# あわせていくつ？

◎ たしざんの しきの かきかた



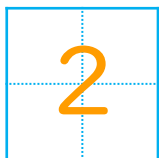

日にち： 月 日

名まえ \_\_\_\_\_

- りんごをあわせるとぜんぶでなんこになりますか。(うすいじはなぞりましょう。)

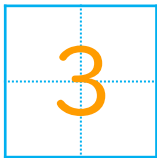
あわせる

ぜんぶで



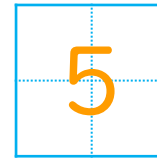
こ

と



こ

で



こ

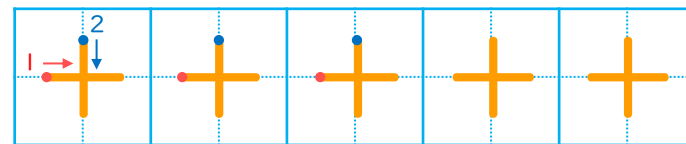
たす

は

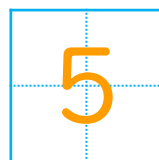
しき

2	+	3	=	5
---	---	---	---	---

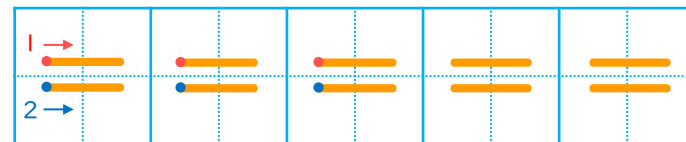
▼ れんしゅうしよう！



こたえ



こ





# あわせていくつ2

たしざんのしきのかきかた



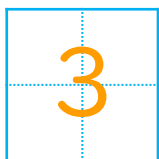



日にち： 月 日

名まえ \_\_\_\_\_

・ にんじんをあわせるとぜんぶでなんぼんになりますか。(うすいじはなぞりましょう。)

あわせる

ぜんぶで



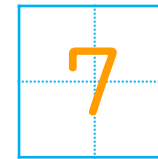
ぼん

と



ぼん

で



ぼん

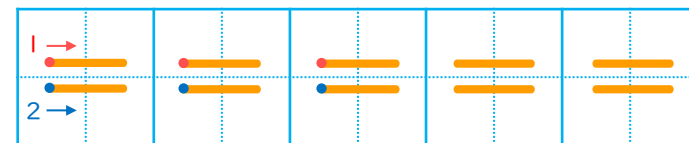
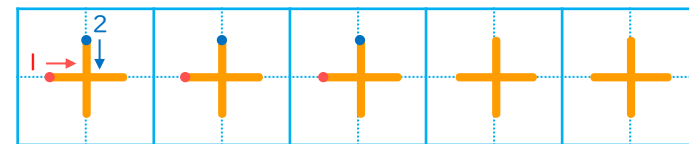
たす

は

しき



▼ れんしゅうしよう!



こたえ



ぼん





# あわせていくつ？

たしざんのしきのかきかた





日にち： 月 日

名まえ \_\_\_\_\_

- いちごをあわせるとぜんぶでなんこになりますか。(うすいじはなぞりましょう。)


あわせる

ぜんぶで



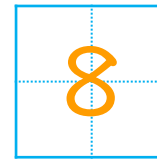
こ

と



こ

で

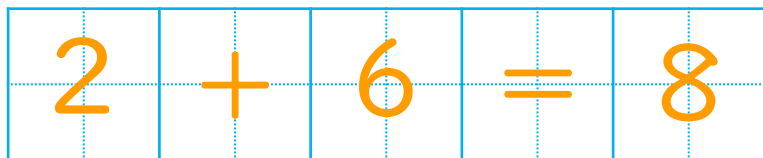


こ

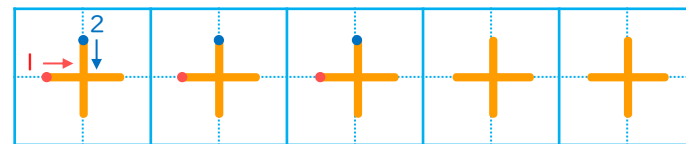
たす

は

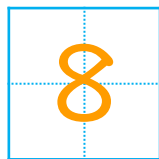
しき



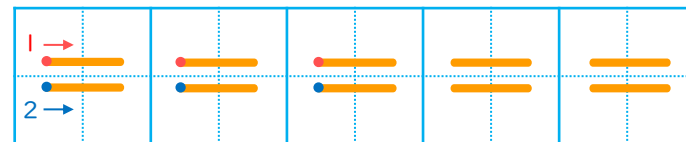
▼ れんしゅうしよう！



こたえ



こ





# あわせていくつ2

たしざんのしきのかきかた

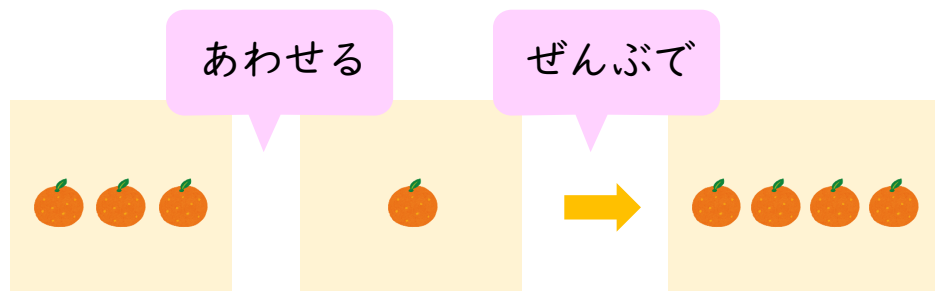


日にち： 月 日

名まえ \_\_\_\_\_

・ みかんをあわせるとぜんぶでなんこになりますか。(うすいじはなぞりましょう。)

①

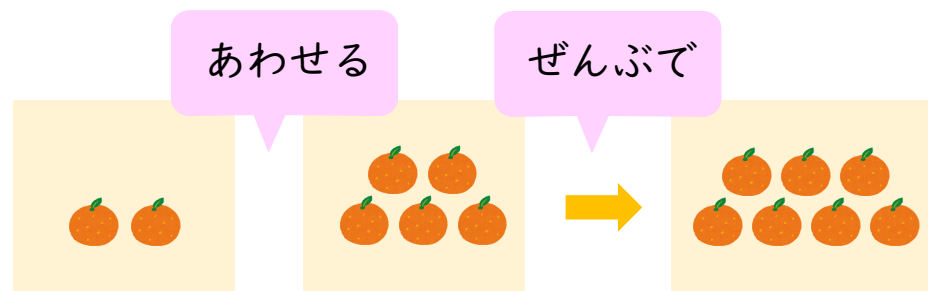


3 こと 1 こ で 4 こ

しき  $3 + 1 = 4$

こたえ  $4$  こ

②



2 こと 5 こ で 7 こ

しき  $2 + 5 = 7$

こたえ  $7$  こ



# あわせていくつ？

たしざんのしきのかきかた

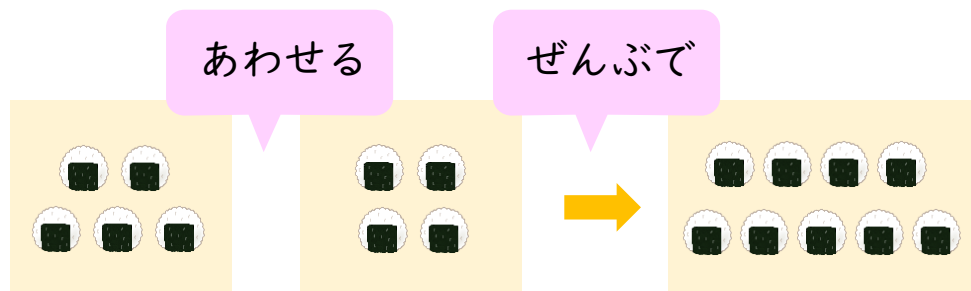


日にち： 月 日

名まえ \_\_\_\_\_

・ おにぎりをあわせるとぜんぶでなんこになりますか(うすいじはなぞりましょう。)

①

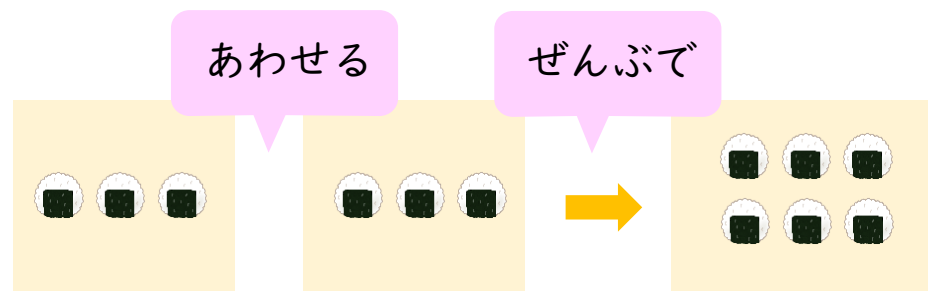


5 こと 4 こ で 9 こ

しき  $5 + 4 = 9$

こたえ  $9$  こ

②



3 こと 3 こ で 6 こ

しき  $3 + 3 = 6$

こたえ  $6$  こ



# あわせていくつ2

たしざんのしきのかきかた



日にち： 月 日

名まえ \_\_\_\_\_

えんぴつをあわせるとぜんぶでなんぼんになりますか。

①

あわせる

ぜんぶで



4 ほん と 1 ぽん で 5 ほん


しき  $4 + 1 = 5$

こたえ  $5$  ほん

②

あわせる

ぜんぶで



3 ほん と 5 ぽん で 8 ほん

しき  $3 + 5 = 8$

こたえ  $8$  ほん





# あわせていくつ？

たしざんのしきのかきかた

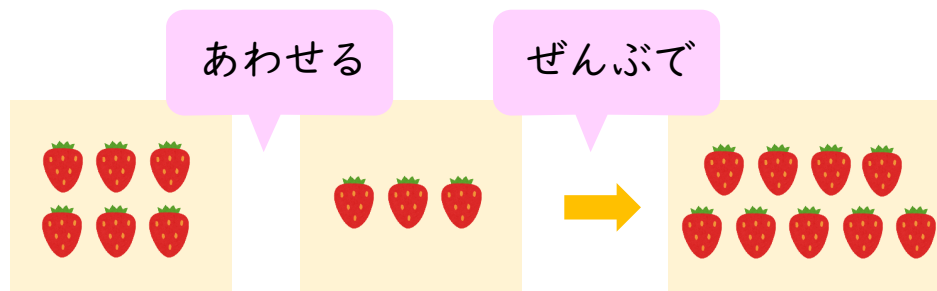


日にち： 月 日

名まえ \_\_\_\_\_

いちごをあわせるとぜんぶでなんこになりますか。

①

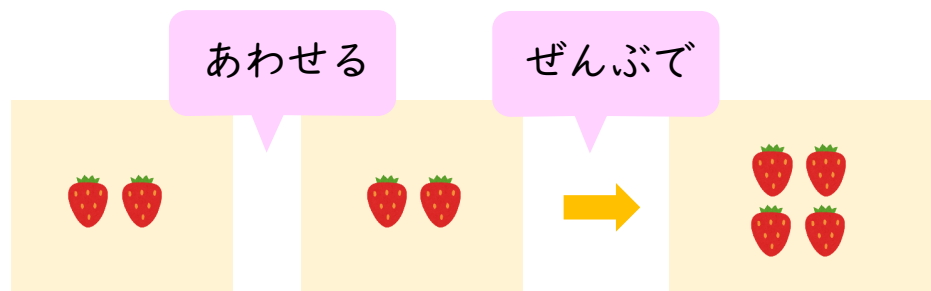


6 こと 3 こ で 9 こ

しき  $6 + 3 = 9$

こたえ  $9$  こ

②



2 こと 2 こ で 4 こ

しき  $2 + 2 = 4$

こたえ  $4$  こ



# あわせていくつ2

たしざんのしきのかきかた



日にち： 月 日

名まえ \_\_\_\_\_

・ にんじんをあわせるとぜんぶでなんぼんになりますか。

①

あわせる

ぜんぶで



1 ぽんと 2 ほん で 3 ぼん

しき  $1 + 2 = 3$

こたえ  $3$  ぼん

②

あわせる

ぜんぶで



4 ほん と 3 ぼん で 7 ほん

しき  $4 + 3 = 7$

こたえ  $7$  ぼん