



あわせていくつ3

◎ たしざんのしきをつくろう



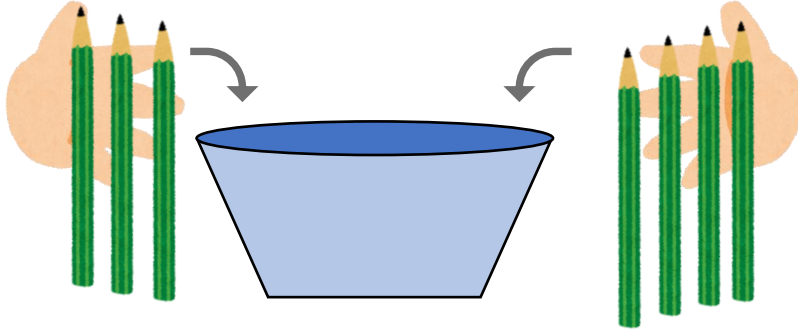
日にち： 月 日

名まえ _____

・ しきにかいて こたえましょう。(うすいじはなぞりましょう。)

① えんぴつを 3ぼんと 4ほん いれます。

あわせて なんぼん になりますか。



しき


3	+	4	=		
---	---	---	---	--	--

こたえ

 ほん

② はなが 6ぼんと 3ぼん あります。

ぜんぶで なんぼん ありますか。



しき

		+			=		
--	--	---	--	--	---	--	--

こたえ

 ほん





あわせていくつ3

◎ たしざんのしきをつくらう



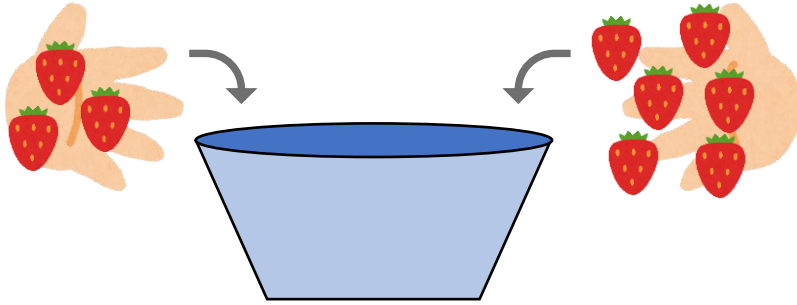
日にち： 月 日

名まえ _____

・ しきにかいて こたえましょう。(うすいじはなぞりましょう。)

① いちごを 3 こと 6 こ います。

あわせて なんこ になりますか。



しき


3	+		=	
---	---	--	---	--

こたえ

こ

② あめが 4 ほん と 2 ほん あります。

ぜんぶで なんほん ありますか。



しき

	+		=	
--	---	--	---	--

こたえ

ほん





あわせていくつ3

◎ たしざんのしきをつくろう



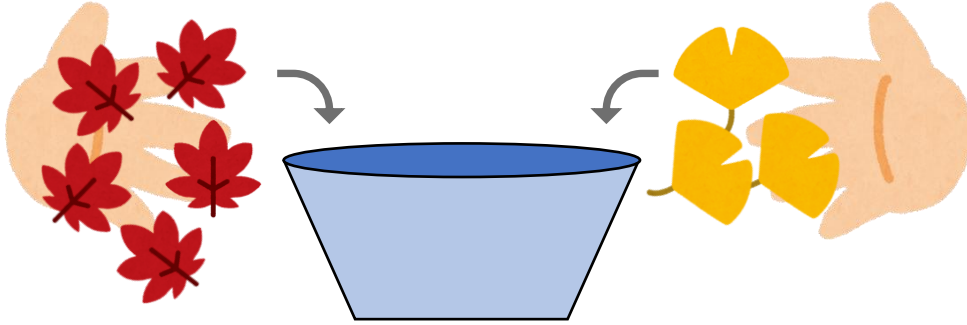
日にち： 月 日

名まえ _____

・ しきにかいて こたえましょう。(うすいじはなぞりましょう。)

① おちばを 5まいと 3まいいれます。

あわせてなんまいになりますか。



しき

5	+		=	
---	---	--	---	--

こたえ

--	--

まい

② しろいうさぎが 3びき、くろいうさぎが 2ひきいます。

うさぎはぜんぶでなんびきいますか。



しき

	+			
--	---	--	--	--

こたえ

--	--

ひき





あわせていくつ3

◎ たしざんのしきをつくろう



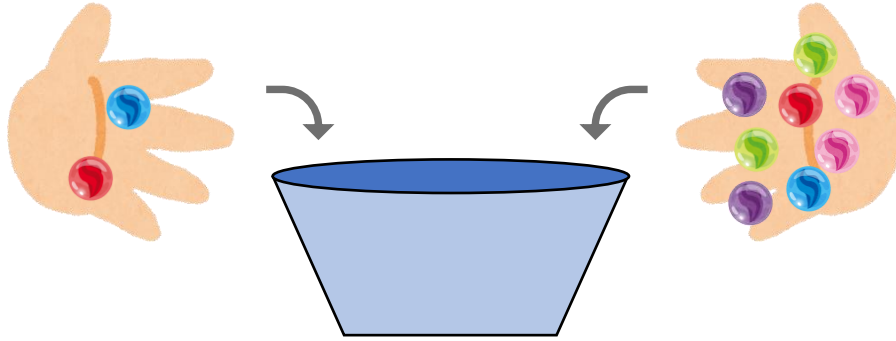
日にち： 月 日

名まえ _____

・ しきにかいてこたえましょう。(うすいじはなぞりましょう。)

① びいだまを 2 こと 8 こいれます。

あわせてなんこになりますか。



しき


		+			=		

こたえ

こ

② くろいねこが 4 ひき、しろいねこが 3 ひきいます。

ねこはぜんぶでなんひきいますか。



しき

		+			=		

こたえ

ひき





あわせていくつ3

◎ たしざんのしきをつくろう



日にち： 月 日

名まえ _____

・ しきにかいて こたえましょう。(うすいじはなぞりましょう。)

① あかいぼうしが4こ、あおいぼうしが2こあります。

ぼうしはあわせてなんこありますか。

しき

4	+	2	=		
---	---	---	---	--	--

○○○○

○○

こたえ

 こ

② くろいねこが3びき、しろいねこが4ひきいます。

ねこはぜんぶでなんびきいますか。

しき

		+			=		
--	--	---	--	--	---	--	--

○○○

○○○○

こたえ

 ひき

③ きいろいはなが2ほん、あかいはなが3ほんさいて

います。はなはぜんぶでなんほんさいていますか。

しき

		+			=		
--	--	---	--	--	---	--	--

○○

○○○

こたえ

 ほん





あわせていくつ3

◎ たしざんのしきをつくろう



日にち： 月 日

名まえ _____

・ しきにかいて こたえましょう。(うすいじはなぞりましょう。)

① こうえんでおとこのこが 3 にん、おんなのこが 7 にん あそんでいます。あわせてなんにん あそんでいますか。

しき

		+			=		
--	--	---	--	--	---	--	--

○○○ ○○○○○○○○

こたえ

 にん

② くろいうさぎが 2 ひき、しろいうさぎが 6 ひき います。うさぎはぜんぶでなんびき いますか。

しき

		+			=		
--	--	---	--	--	---	--	--

○○ ○○○○○○○○

こたえ

 ひき

③ きいろいとりが 5 わ、あおいとりが 1 わ います。とりはあわせてなんわ いますか。

しき

--	--	--	--	--	--	--	--

○○○○○ ○

こたえ

 わ





あわせていくつ3

◎ たしざんのしきをつくろう



日にち： 月 日

名まえ _____

・ しきにかいて こたえましょう。

① くりを ゆいさんは 4こ、 はなさんは 5こ ひろいました。
あわせて なんこ ひろいましたか。

しき

○○○○ ○○○○○

こたえ

 こ

② きいろいはなが 3ほん、 あかいはなが 2ほん さいて
います。 はなは ぜんぶで なんほん さいて いますか。

しき

○○○ ○○

こたえ

 ほん

③ しろいぼうしが 5こ、 あかいぼうしが 2こ あります。
ぼうしは あわせて なんこ ありますか。

しき

○○○○○ ○○

こたえ

 こ



あわせていくつ3

◎ たしざんのしきをつくろう



日にち： 月 日

名まえ _____

・ しきにかいて こたえましょう。

① びいだまをゆうさんは 6こ、おにいさんは 4こもっています。びいだまはあわせてなんこになりますか。

しき

○○○○○○ ○○○○

こたえ

 こ

② こうえんでおとこのこが 3にん、おんなのこが 6にんあそんでいます。あわせてなんにんあそんでいますか。

しき

○○○ ○○○○○○

こたえ

 にん

③ しろいうさぎが 1ぴき、しろいうさぎが 2ひきいます。うさぎはぜんぶでなんぴきいますか。

しき

○ ○○

こたえ

 ぴき



あわせていくつ3

◎ たしざんのしきをつくらう



日にち： 月 日

名まえ _____

・ しきにかいて こたえましょう。

- ① くろいうさぎが 5 ひき、しろいうさぎが 3 ひき います。
うさぎは ぜんぶで なんびき いますか。

しき

○○○○○ ○○○

こたえ

 ひき

- ② あかいはなが 3 ぼん、きいろいはなが 1 ぼん さいて
います。はなは ぜんぶで なんぼん さいて いますか。

しき

○○○ ○

こたえ

 ぼん

- ③ きいろいとりが 2 わ、あおいとりが 4 わ います。
とりは あわせて なんわ いますか。

しき

○○ ○○○○

こたえ

 わ



あわせていくつ3

◎ たしざんのしきをつくろう



日にち： 月 日

名まえ _____

・ しきにかいて こたえましょう。

① しろいぼうしが5こ、きいろいぼうしが3こあります。
ぼうしはあわせてなんこありますか。

しき

こたえ

こ

② くろいねこが4ひき、しろいねこが2ひきいます。
ねこはぜんぶでなんびきいますか。

しき

こたえ

びき

③ あかいはなが2ほん、しろいはなが8ほんさいて
います。はなはぜんぶでなんほんさいていますか。

しき

こたえ

ほん





あわせていくつ3

◎ たしざんのしきをつくろう



日にち： 月 日

名まえ _____

・ しきにかいて こたえましょう。

① こうえんでおとこのこが6にん、おんなのこが3にんあそんでいます。あわせてなんにんあそんでいますか。

しき

こたえ

 にん

② きいろいとりが2わ、あおいとりが5わいます。とりはあわせてなんわいますか。

しき

こたえ

 わ

③ びいだまをゆうさんは3こ、おとうとは1こもっています。びいだまはあわせてなんこになりますか。

しき

こたえ

 こ



あわせていくつ3

たしざんのしきをつくろう



日にち： 月 日

名まえ _____

・ しきにかいて こたえましょう。

① あかい はなが 7ほん、きいろい はなが 3ほん さいてい います。はなは ぜんぶで なんほん さいてい いますか。

しき

こたえ

 ほん

② しろい ぼうしが 6こ、きいろい ぼうしが 2こ あります。ぼうしは あわせて なんこ ありますか。

しき

こたえ

 こ

③ くりを ゆいさんは 4こ、はなさんは 5こ ひろいました。あわせて なんこ ひろいましたか。

しき

こたえ

 こ



あわせていくつ3

◎ たしざんのしきをつくろう



日にち： 月 日

名まえ _____

・ しきにかいて こたえましょう。

- ① くろい うさぎが 1ぴき、 しろい うさぎが 5ひき います。
うさぎは ぜんぶで なんびき いますか。

しき

こたえ

 ぴき

- ② びいだまを ゆうさんは 2こ、 おにいさんは 7こ もって
います。 びいだまは あわせて なんこ になりますか。

しき

こたえ

 こ

- ③ こうえんで おとこのこが 3にん、 おんなのこが 4にん
あそんでいます。 あわせて なんにん あそんでいますか。

しき

こたえ

 にん





あわせていくつ3

たしざんのしきをつくらう



日にち： 月 日

名まえ _____

・ しきにかいて こたえましょう。

① くりをゆいさんは 3こ、はなさんは 4こ ひろいました。

あわせて なんこ ひろいましたか。

しき

こたえ

こ

② くろいねこが 5ひき、しろいねこが 1ひき います。

ねこは ぜんぶで なんびき いますか。

しき

こたえ

ひき

③ あかいぼうしが 2こ、あおいぼうしが 3こ あります。

ぼうしは あわせて なんこ ありますか。

しき

こたえ

こ






あわせていくつ3

◎ たしざんのしきをつくろう

15

めざせ100てん!



名まえ _____

・ しきにかいてこたえましょう。(式・答え 各25点)

① しろいはなが2ほん、きいろいはなが3ほんさいています。はなはぜんぶでなんほんさいていますか。

しき

こたえ

ほん

② きいろいとりが4わ、あおいとりが5わいます。とりはあわせてなんわいますか。

しき

こたえ

わ






あわせていくつ3

◎ たしざんのしきをつくろう



めざせ100てん!



名まえ _____

・ しきにかいてこたえましょう。(式・答え各25点)

① こうえんでおとこのこが3にん、おんなのこが5にんあそんでいます。あわせてなんにんあそんでいますか。

しき

こたえ

 にん

② くりをゆいさんは4こ、はなさんは2こひろいました。あわせてなんこひろいましたか。

しき

こたえ

 こ



あわせていくつ3

◎ たしざんのしきをつくろう



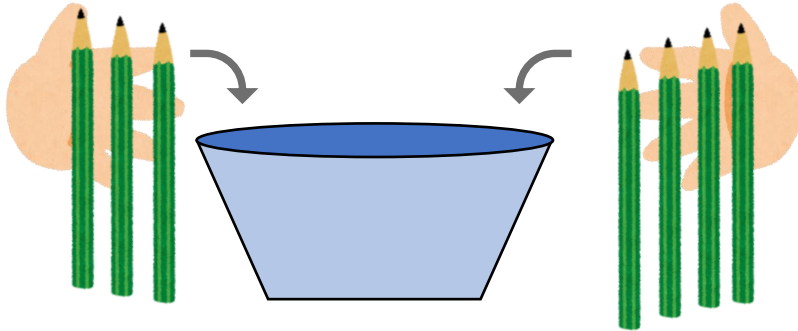
日にち： 月 日

名まえ _____

・ しきにかいて こたえましょう。(うすいじはなぞりましょう。)

① えんぴつを 3ぼんと 4ほん いれます。

あわせて なんぼん になりますか。




しき $3 + 4 = 7$

こたえ 7 ほん

② はなが 6ぼんと 3ぼん あります。

ぜんぶで なんぼん ありますか。



しき $6 + 3 = 9$

こたえ 9 ほん





あわせていくつ3

◎ たしざんのしきをつくろう



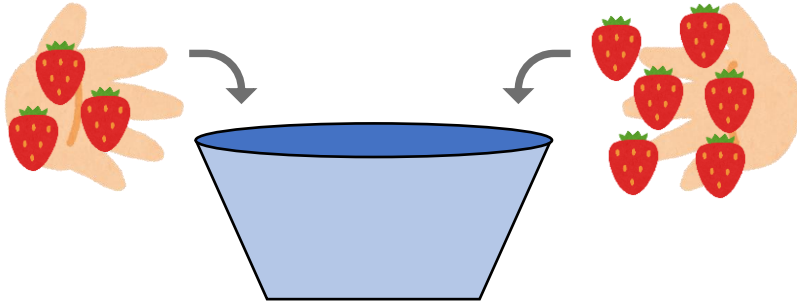
日にち： 月 日

名まえ _____

・ しきにかいて こたえましょう。(うすいじはなぞりましょう。)

① いちごを 3 こと 6 こ いれます。

あわせて なんこ になりますか。



しき

3	+	6	=	9
---	---	---	---	---


こたえ

9

 こ

② あめが 4 ほん と 2 ほん あります。

ぜんぶで なんほん ありますか。



しき

4	+	2	=	6
---	---	---	---	---

こたえ

6

 ぽん





あわせていくつ3

◎ たしざんのしきをつくろう



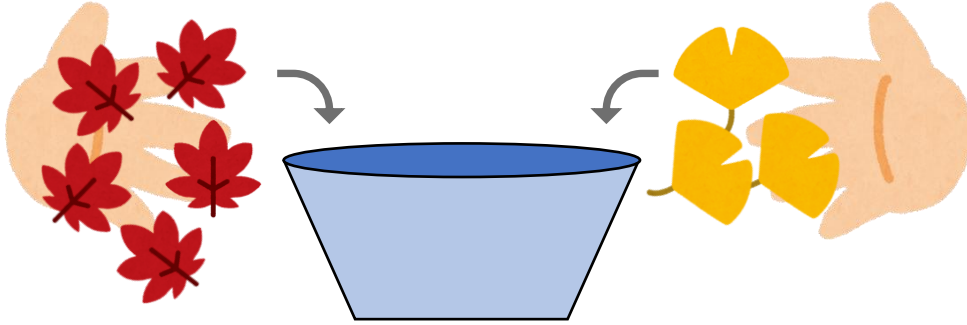
日にち： 月 日

名まえ _____

・ しきにかいて こたえましょう。(うすいじはなぞりましょう。)

① おちばを 5まいと 3まいいれます。

あわせてなんまいになりますか。




しき $5 + 3 = 8$

こたえ 8 まい

② しろいうさぎが 3びき、くろいうさぎが 2ひきいます。

うさぎはぜんぶでなんびきいますか。



しき $3 + 2 = 5$

こたえ 5 ひき





あわせていくつ3

◎ たしざんのしきをつくろう



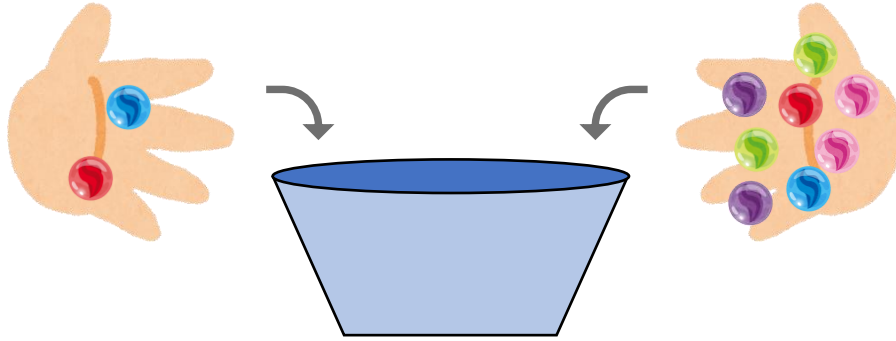
日にち： 月 日

名まえ _____

・ しきにかいて こたえましょう。(うすいじはなぞりましょう。)

① びいだまを 2こ と 8こ いきます。

あわせて なんこ になりますか。




しき $2 + 8 = 10$

こたえ 10 こ

② くろいねこが 4ひき、しろいねこが 3ひき います。

ねこは ぜんぶで なんびき いますか。



しき $4 + 3 = 7$

こたえ 7 ひき





あわせていくつ3

◎ たしざんのしきをつくろう



日にち： 月 日

名まえ _____

・ しきにかいて こたえましょう。(うすいじはなぞりましょう。)

① あかいぼうしが4こ、あおいぼうしが2こあります。

ぼうしはあわせてなんこありますか。

しき $4 + 2 = 6$

○○○○

○○

こたえ 6 こ

② くろいねこが3びき、しろいねこが4ひきいます。

ねこはぜんぶでなんびきいますか。

しき $3 + 4 = 7$

○○○

○○○○

こたえ 7 ひき

③ きいろいはなが2ほん、あかいはなが3ほんさいて

います。はなはぜんぶでなんほんさいていますか。

しき $2 + 3 = 5$

○○

○○○

こたえ 5 ほん





あわせていくつ3

◎ たしざんのしきをつくろう



日にち： 月 日

名まえ _____

・ しきにかいてこたえましょう。(うすいじはなぞりましょう。)

① こうえんでおとこのこが3にん、おんなのこが7にんあそんでいます。あわせてなんにんあそんでいますか。

しき $3 + 7 = 10$

○○○ ○○○○○○○○

こたえ 10 にん

② くろいうさぎが2ひき、しろいうさぎが6ひきいます。うさぎはぜんぶでなんびきいますか。

しき $2 + 6 = 8$

○○ ○○○○○○○○

こたえ 8 ひき

③ きいろいとりが5わ、あおいとりが1わいます。とりはあわせてなんわいますか。

しき $5 + 1 = 6$

○○○○○ ○

こたえ 6 わ





あわせていくつ3

◎ たしざんのしきをつくろう



日にち： 月 日

名まえ _____

・ しきにかいてこたえましょう。

① くりをゆいさんは4こ、はなさんは5こひろいました。
あわせてなんこひろいましたか。

しき $4 + 5 = 9$

○○○○ ○○○○○

こたえ 9 こ

② きいろいはなが3ほん、あかいはなが2ほんさいて
います。はなはぜんぶでなんほんさいていますか。

しき $3 + 2 = 5$

○○○ ○○

こたえ 5 ほん

③ しろいぼうしが5こ、あかいぼうしが2こあります。
ぼうしはあわせてなんこありますか。

しき $5 + 2 = 7$

○○○○○ ○○

こたえ 7 こ





あわせていくつ③

◎ たしざんのしきをつくらう



日にち： 月 日

名まえ _____

・ しきにかいてこたえましょう。

① びいだまをゆうさんは 6こ、おにいさんは 4こもっています。びいだまはあわせてなんこになりますか。

しき $6 + 4 = 10$

○○○○○○ ○○○○

こたえ 10 こ

② こうえんでおとこのこが 3にん、おんなのこが 6にんあそんでいます。あわせてなんにんあそんでいますか。

しき $3 + 6 = 9$

○○○ ○○○○○○

こたえ 9 にん

③ しろいうさぎが 1ぴき、しろいうさぎが 2ひきいます。うさぎはぜんぶでなんぴきいますか。

しき $1 + 2 = 3$

○ ○○

こたえ 3 ぴき





あわせていくつ3

◎ たしざんのしきをつくろう



日にち： 月 日

名まえ _____

・ しきにかいてこたえましょう。

- ① くろいうさぎが5ひき、しろいうさぎが3ひきいます。
うさぎはぜんぶでなんびきいますか。

しき $5 + 3 = 8$

○○○○○ ○○○

こたえ 8 ひき

- ② あかいはなが3ぼん、きいろいはなが1ぼんさいて
います。はなはぜんぶでなんぼんさいていますか。

しき $3 + 1 = 4$

○○○ ○

こたえ 4 ぼん

- ③ きいろいとりが2わ、あおいとりが4わいます。
とりはあわせてなんわいますか。

しき $2 + 4 = 6$

○○ ○○○○

こたえ 6 わ





あわせていくつ3

◎ たしざんのしきをつくらう

10

日にち： 月 日

名まえ _____

・ しきにかいてこたえましょう。

- ① しろいぼうしが5こ、きいろいぼうしが3こあります。
ぼうしはあわせてなんこありますか。

しき $5 + 3 = 8$

こたえ 8 こ

- ② くろいねこが4ひき、しろいねこが2ひきいます。
ねこはぜんぶでなんびきいますか。

しき $4 + 2 = 6$

こたえ 6 ひき

- ③ あかいはなが2ほん、しろいはなが8ほんさいて
います。はなはぜんぶでなんほんさいていますか。

しき $2 + 8 = 10$

こたえ 10 ほん





あわせていくつ3

◎ たしざんのしきをつくらう



日にち： 月 日

名まえ _____

・ しきにかいてこたえましょう。

- ① こうえんでおとこのこが6にん、おんなのこが3にんあそんでいます。あわせてなんにんあそんでいますか。

しき $6 + 3 = 9$

こたえ 9 にん

- ② きいろいとりが2わ、あおいとりが5わいます。とりはあわせてなんわいますか。

しき $2 + 5 = 7$

こたえ 7 わ

- ③ びいだまをゆうさんは3こ、おとうとは1こもっています。びいだまはあわせてなんこになりますか。

しき $3 + 1 = 4$

こたえ 4 こ





あわせていくつ3

◎ たしざんのしきをつくらう



日にち： 月 日

名まえ _____

・ しきにかいてこたえましょう。

- ① あかいはなが7ほん、きいろいはなが3ほんさいています。はなはぜんぶでなんほんさいていますか。

しき $7 + 3 = 10$

こたえ 10 ほん

- ② しろいぼうしが6こ、きいろいぼうしが2こあります。ぼうしはあわせてなんこありますか。

しき $6 + 2 = 8$

こたえ 8 こ

- ③ くりをゆいさんは4こ、はなさんは5こひろいました。あわせてなんこひろいましたか。

しき $4 + 5 = 9$

こたえ 9 こ





あわせていくつ③

◎ たしざんのしきをつくろう



日にち： 月 日

名まえ _____

・ しきにかいてこたえましょう。

- ① くろいうさぎが1ぴき、しろいうさぎが5ひきいます。
うさぎはぜんぶでなんびきいますか。

しき $1 + 5 = 6$

こたえ 6 ぴき

- ② びいだまをゆうさんは2こ、おにいさんは7こもっています。
びいだまはあわせてなんこになりますか。

しき $2 + 7 = 9$

こたえ 9 こ

- ③ こうえんでおとこのこが3にん、おんなのこが4にんあそんでいます。
あわせてなんにんあそんでいますか。

しき $3 + 4 = 7$

こたえ 7 にん





あわせていくつ③

◎ たしざんのしきをつくろう

14

日にち： 月 日

名まえ _____

・ しきにかいてこたえましょう。

① くりをゆいさんは3こ、はなさんは4こひろいました。

あわせてなんこひろいましたか。

しき $3 + 4 = 7$

こたえ 7 こ

② くろいねこが5ひき、しろいねこが1ひきいます。

ねこはぜんぶでなんびきいますか。

しき $5 + 1 = 6$

こたえ 6 ひき

③ あかいぼうしが2こ、あおいぼうしが3こあります。

ぼうしはあわせてなんこありますか。

しき $2 + 3 = 5$

こたえ 5 こ




あわせていくつ3

◎ たしざんのしきをつくろう

15

めざせ100てん!



名まえ _____

・ しきにかいて こたえましょう。(式・答え 各25点)

① しろいはなが 2ほん、きいろいはなが 3ほん さいてい
います。はなは ぜんぶで なんほん さいてい いますか。

しき

$$2 + 3 = 5$$

こたえ

5

ほん

② きいろいとりが 4わ、あおいとりが 5わ います。
とりは あわせて なんわ いますか。

しき

$$4 + 5 = 9$$

こたえ

9

わ





あわせていくつ3

◎ たしざんのしきをつくろう

16

めざせ100てん!



名まえ _____

・ しきにかいてこたえましょう。(式・答え各25点)

① こうえんでおとこのこが3にん、おんなのこが5にんあそんでいます。あわせてなんにんあそんでいますか。

しき $3 + 5 = 8$

こたえ 8 にん

② くりをゆいさんは4こ、はなさんは2こひろいました。あわせてなんこひろいましたか。

しき $4 + 2 = 6$

こたえ 6 こ

