



あわせていくつ4

◎ あとからふえる




日にち： 月 日

名まえ _____

・ しきにかいて こたえましょう。(うすいじはなぞりましょう。)

① うさぎが 3びき いました。あとから 1びき きました。
うさぎは ぜんぶで なんびき になりましたか。



しき

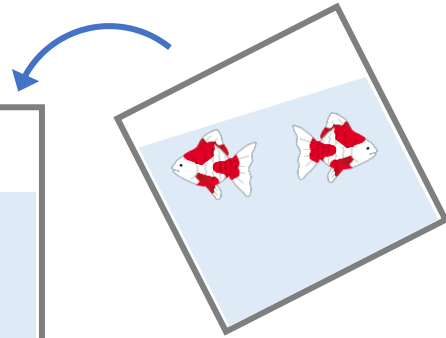
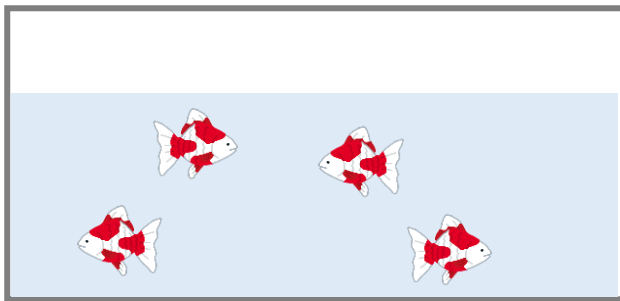
3	+	1	=		
---	---	---	---	--	--

こたえ

--	--

ひき

② きんぎょが 4ひき いました。あとから 2ひき いました。
きんぎょは ぜんぶで なんびき になったでしょう。



しき

	+		=		
--	---	--	---	--	--

こたえ

--	--

ぴき





あわせていくつ4

◎ あとから ふえる





日にち： 月 日

名まえ _____

・ しきにかいて こたえましょう。(うすいじはなぞりましょう。)

① あひるが 2わ います。あとから 4わ きました。

あひるは みんなで なんわ になりましたか。



しき

		+			=		

こたえ

わ

② かびんにはなが 3ぼん は います。あとから 5ぼん

いれました。はなは ぜんぶで なんぼん になりましたか。



しき

		+			=		

こたえ

ぼん





あわせていくつ 4

◎ あとからふえる



日にち： 月 日


名まえ _____

・ しきにかいてこたえましょう。(うすいじはなぞりましょう。)

① ゆいさんは えんぴつを 4ほん もっています。

おかあさんから 4ほん もらいました。

えんぴつは ぜんぶで なんぼん になりましたか。



しき

		+			=		
--	--	---	--	--	---	--	--


こたえ

--	--

ほん

② とりが 3わ いました。あとから 2わ きました。

とりは ぜんぶで なんわ になりましたか。



しき

		+			=		
--	--	---	--	--	---	--	--

こたえ

--	--

わ





あわせていくつ4

◎ あとから ふえる





日にち： 月 日

名まえ _____

・ しきにかいて こたえましょう。(うすいじはなぞりましょう。)

① うさぎが 4ひき いました。あとから 6ひき きました。
うさぎは ぜんぶで なんびき になりましたか。



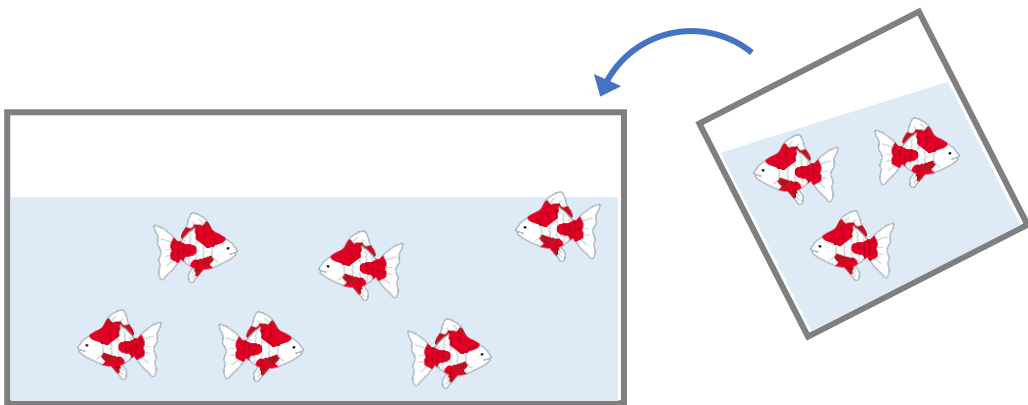
しき

		+			=		

こたえ

ひき

② きんぎょが 6ひき いました。あとから 3ひき いました。
きんぎょは ぜんぶで なんびき になったでしょう。



しき

--	--	--	--	--	--	--	--

こたえ

ひき





あわせていくつ 4

◎ あとから ふえる




日にち： 月 日

名まえ _____

・ しきにかいて こたえましょう。

① とりが 5 わ いました。あとから 4 わ きました。

とりは ぜんぶで なんわ になりましたか。



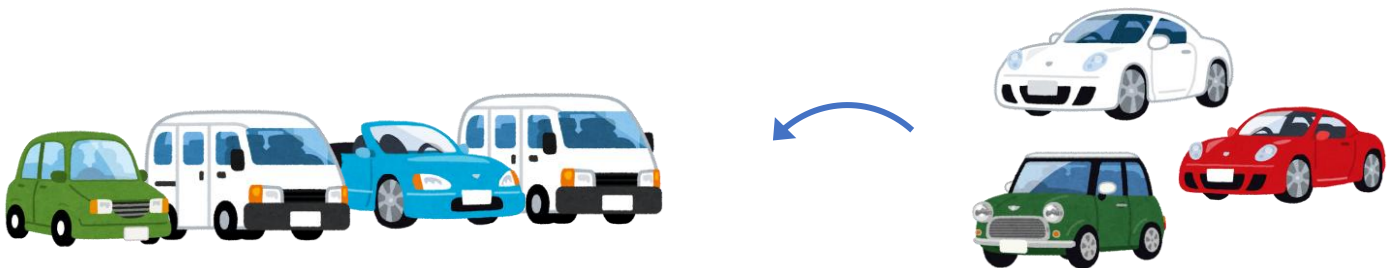
しき

こたえ

わ

② くるまが 4 だい とまっています。あとから 3 だい

きました。くるまは ぜんぶで なんだい になりましたか。



しき

こたえ

だい





あわせていくつ4

● あとからふえる



日にち： 月 日

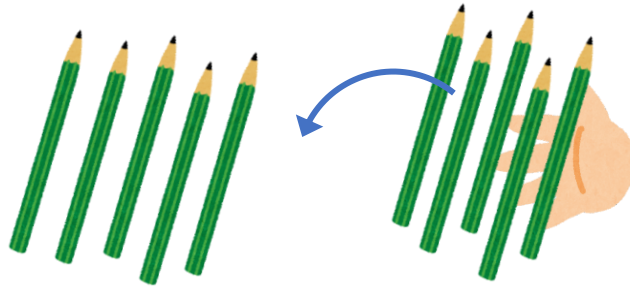
名まえ _____

・ しきにかいてこたえましょう。

① ゆいさんは えんぴつを 5ほん もっています。

おかあさんから 5ほん もらいました。

えんぴつは ぜんぶで なんぼん になりましたか。




しき

こたえ

ほん

② あひるが 3わ います。あとから 2わ きました。

あひるは みんなで なんわ になりましたか。



しき

こたえ

わ





あわせていくつ4

● あとからふえる

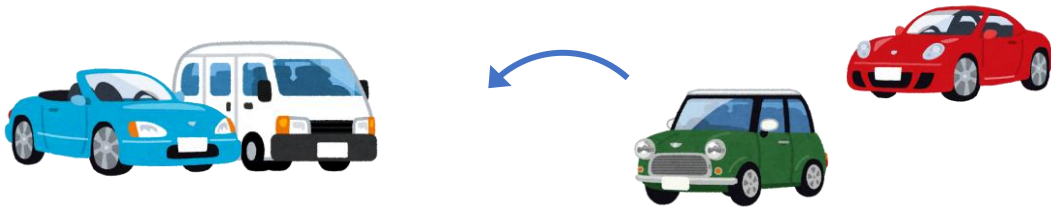


日にち： 月 日

名まえ _____

・ しきにかいてこたえましょう。

① くるまが2だいとまっています。あとから2だいききました。くるまはぜんぶでなんだいになりましたか。




しき

こたえ

だい

② かびんにはなが4ほんはっています。あとから2ほんいれました。はなはぜんぶでなんぼんになりましたか。



しき

こたえ

ぽん





あわせていくつ4

◎ あとからふえる

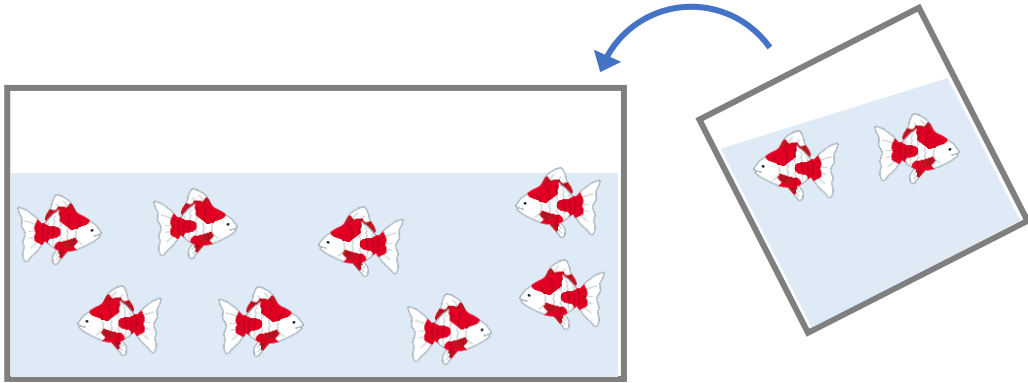


日にち： 月 日

名まえ _____

・ しきにかいて こたえましょう。

① きんぎょが 8匹 いました。あとから 2匹 いました。
きんぎょは ぜんぶで なん匹 になったでしょう。




しき

こたえ

 ぴき

② とりが 4わ いました。あとから 3わ きました。
とりは ぜんぶで なんわ になりましたか。



しき

こたえ

 わ





あわせていくつ4

● あとからふえる




日にち： 月 日

名まえ _____

・ しきにかいてこたえましょう。

① あひるが4わいます。あとから1わきました。

あひるはみんなでなんわになりましたか。



しき


こたえ

わ

② ゆいさんは えんぴつを 7ほん もっています。

おかあさんから 2ほん もらいました。

えんぴつは ぜんぶで なんぼん になりましたか。



しき

こたえ

ほん





あわせていくつ4

◎ あとからふえる




日にち： 月 日

名まえ _____

・ しきにかいて こたえましょう。(うすいじはなぞりましょう。)

① うさぎが 3びき いました。あとから 1びき きました。
うさぎは ぜんぶで なんびき になりましたか。



しき

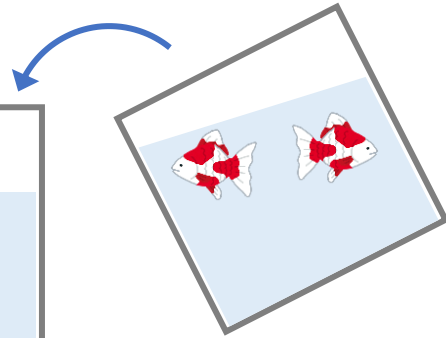
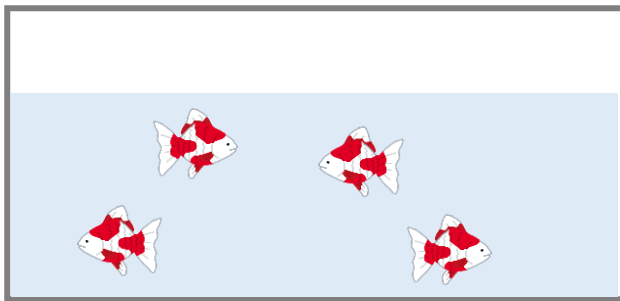
$$3 + 1 = 4$$

こたえ

$$4$$

ひき

② きんぎょが 4ひき いました。あとから 2ひき いました。
きんぎょは ぜんぶで なんびき になったでしょう。



しき

$$4 + 2 = 6$$

こたえ

$$6$$

ひき





あわせていくつ4

● あとからふえる

2



日にち： 月 日

名まえ _____

・ しきにかいてこたえましょう。(うすいじはなぞりましょう。)

① あひるが2わいます。あとから4わきました。

あひるはみんなでなんわになりましたか。



しき

$$2 + 4 = 6$$


こたえ

6

わ

② かびんにはなが3ぼんはっています。あとから5ぼん

いれました。はなはぜんぶでなんぼんになりましたか。



しき

$$3 + 5 = 8$$

こたえ

8

ぼん





あわせていくつ 4

● あとからふえる



日にち： 月 日


名まえ _____

・ しきにかいて こたえましょう。(うすいじはなぞりましょう。)

① ゆいさんは えんぴつを 4ほん もっています。

おかあさんから 4ほん もらいました。

えんぴつは ぜんぶで なんぼんになりましたか。



しき

$$4 + 4 = 8$$


こたえ

8

ほん

② とりが 3わ いました。あとから 2わ きました。

とりは ぜんぶで なんわになりましたか。



しき

$$3 + 2 = 5$$

こたえ

5

わ





あわせていくつ4

◎ あとから ふえる





日にち： 月 日

名まえ _____

・ しきにかいて こたえましょう。(うすいじはなぞりましょう。)

① うさぎが 4 ひき いました。あとから 6 ひき きました。
うさぎは ぜんぶで なんびき になりましたか。



しき

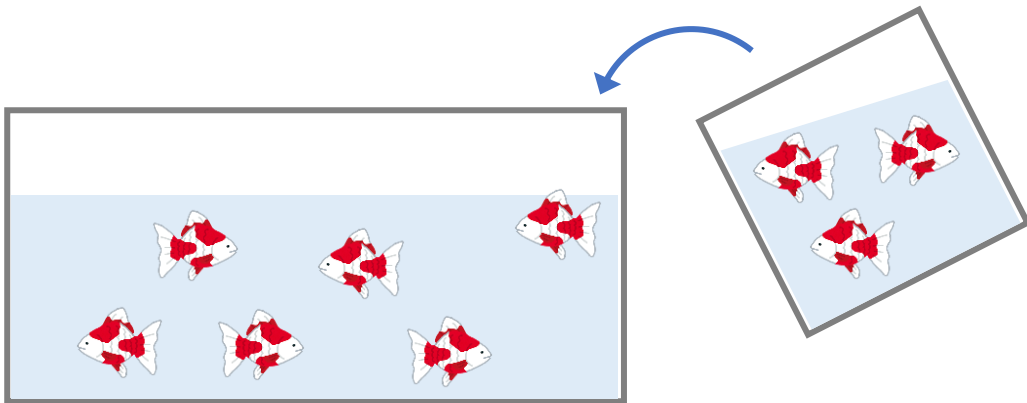
$$4 + 6 = 10$$

こたえ

$$10$$

ひき

② きんぎょが 6 ひき いました。あとから 3 ひき いました。
きんぎょは ぜんぶで なんびき になったでしょう。



しき

$$6 + 3 = 9$$

こたえ

$$9$$

ひき





あわせていくつ4

◎ あとからふえる




日にち： 月 日

名まえ _____

・ しきにかいてこたえましょう。

① とりが 5 わいました。あとから 4 わきました。

とりはぜんぶでなんわになりましたか。



しき

5	+	4	=	9
---	---	---	---	---

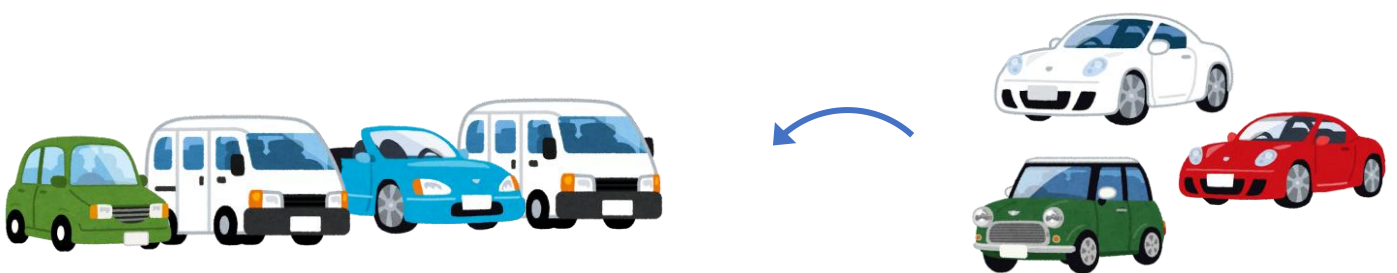
こたえ

9

 わ

② くるまが 4 だいとまっています。あとから 3 だい

きました。くるまはぜんぶでなんだいになりましたか。



しき

4	+	3	=	7
---	---	---	---	---

こたえ

7

 だい





あわせていくつ4

● あとからふえる



日にち： 月 日

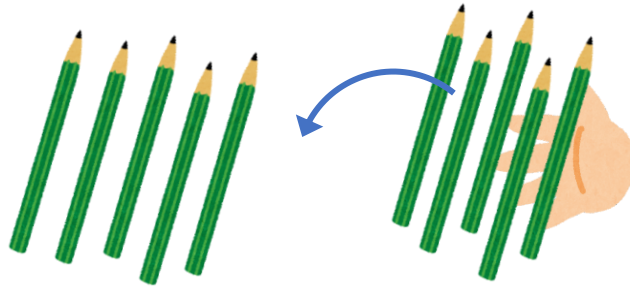
名まえ _____

・ しきにかいてこたえましょう。

① ゆいさんは えんぴつを 5ほん もっています。

おかあさんから 5ほん もらいました。

えんぴつは ぜんぶで なんぼんになりましたか。



しき

$$5 + 5 = 10$$


こたえ

10

ほん

② あひるが 3わ います。あとから 2わ きました。

あひるは みんなで なんわになりましたか。



しき

$$3 + 2 = 5$$

こたえ

5

わ





あわせていくつ4

● あとからふえる

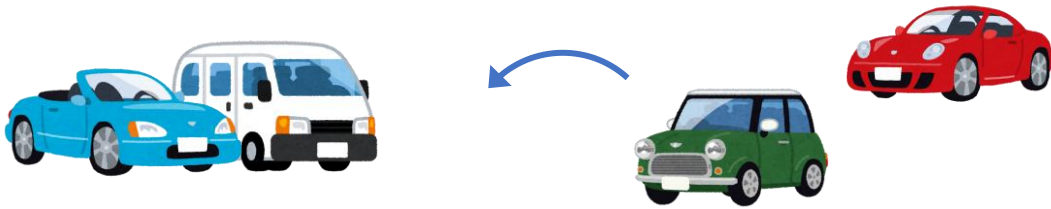


日にち： 月 日

名まえ _____

・ しきにかいて こたえましょう。

① くるまが 2だい とまっています。あとから 2だい きました。くるまは ぜんぶで なんだい になりましたか。



しき


$$2 + 2 = 4$$

こたえ

$$4$$

だい

② かびんにはなが 4ほん いています。あとから 2ほん いました。はなは ぜんぶで なんほん になりましたか。



しき

$$4 + 2 = 6$$

こたえ

$$6$$

ぽん





あわせていくつ4

◎ あとから ふえる

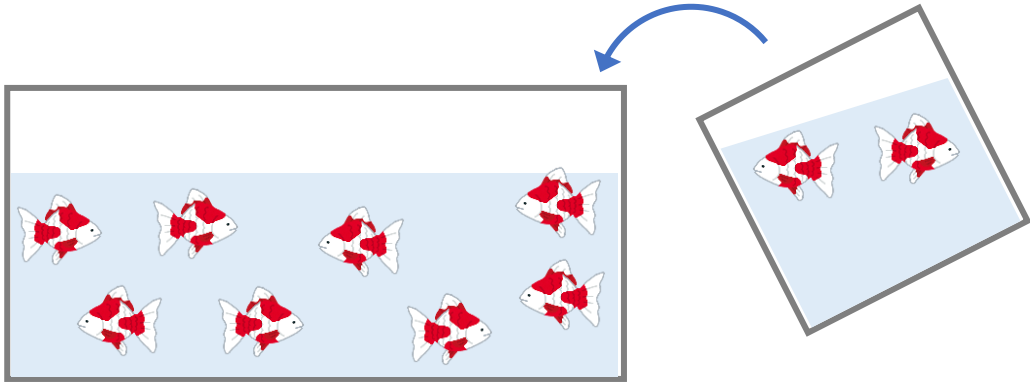


日にち： 月 日

名まえ _____

・ しきにかいて こたえましょう。


① きんぎょが 8ぴき いました。あとから 2ひき いました。
きんぎょは ぜんぶで なんびき になったでしょう。



しき $8 + 2 = 10$

こたえ 10 ぴき

② とりが 4わ いました。あとから 3わ きました。
とりは ぜんぶで なんわ になりましたか。



しき $4 + 3 = 7$

こたえ 7 わ





あわせていくつ 4

● あとから ふえる




日にち： 月 日

名まえ _____

・ しきにかいて こたえましょう。

① あひるが 4 わ います。あとから 1 わ きました。

あひるは みんなで なんわ になりましたか。



しき

$$4 + 1 = 5$$

こたえ


5

わ

② ゆいさんは えんぴつを 7ほん もっています。

おかあさんから 2ほん もらいました。

えんぴつは ぜんぶで なんほん になりましたか。



しき

$$7 + 2 = 9$$

こたえ

9

ほん

