



あわせていくつ？

いろいろなかずのたしざん



日にち： 月 日

名まえ _____

- ・ たしざんをしましょう。(うすいじはなぞりましょう。)

① $4 + 1 =$

5

② $4 + 2 =$

6

③ $4 + 3 =$

--

④ $4 + 4 =$

--

⑤ $4 + 5 =$

--





あわせていくつ？

いろいろなかずのたしざん



日にち： 月 日

名まえ _____

・ たしざんをしましょう。(うすいじはなぞりましょう。)

① $4 + 6 =$

1	0
---	---

② $5 + 1 =$

6

③ $5 + 2 =$

④ $5 + 3 =$

⑤ $5 + 4 =$





あわせていくつ？

いろいろなかずのたしざん



日にち： 月 日

名まえ _____

・ たしざんをしましょう。(うすいじはなぞりましょう。)

① $5 + 5 =$

1	0
---	---

② $6 + 1 =$

7

③ $6 + 2 =$

④ $6 + 3 =$

⑤ $6 + 4 =$



あわせていくつ？

いろいろなかずのたしざん



日にち： 月 日

名まえ _____

・ たしざんをしましょう。(うすいじはなぞりましょう。)

① $7 + 1 =$

8

② $7 + 2 =$

9

③ $7 + 3 =$

④ $8 + 1 =$

⑤ $8 + 2 =$

⑥ $9 + 1 =$



あわせていくつ？

いろいろなかずのたしざん



日にち： 月 日

名まえ _____

・ たしざんを しましょう。(うすいじは なぞりましょう。)

① $4 + 5 =$

9

② $5 + 1 =$

6

③ $6 + 2 =$

--

④ $7 + 3 =$

--

⑤ $4 + 2 =$

--

⑥ $8 + 1 =$

--





あわせていくつ？

いろいろなかずのたしざん

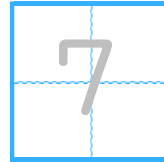


日にち： 月 日

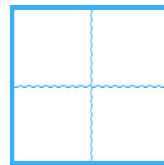
名まえ _____

・ たしざんを しましょう。(うすいじはなぞりましょう。)

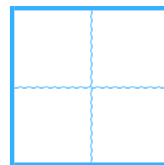
① $4 + 3 =$



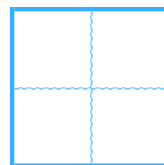
② $5 + 2 =$



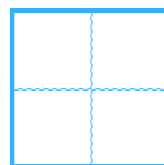
③ $6 + 4 =$



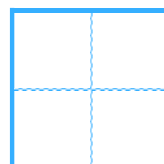
④ $7 + 1 =$



⑤ $9 + 1 =$



⑥ $5 + 4 =$





あわせていくつ?

いろいろなかずのたしざん

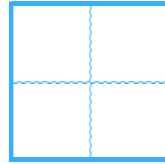


日にち： 月 日

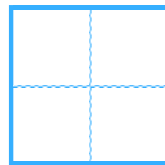
名まえ _____

・ たしざんをしましょう。

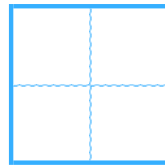
① $4 + 1 =$



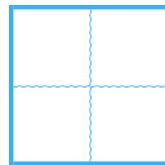
② $5 + 5 =$



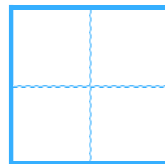
③ $6 + 1 =$



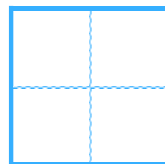
④ $8 + 2 =$



⑤ $4 + 4 =$



⑥ $7 + 2 =$





あわせていくつ？

いろいろなかずのたしざん

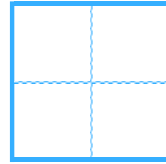


日にち： 月 日

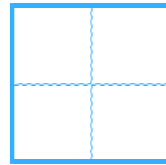
名まえ _____

・ たしざんをしましょう。

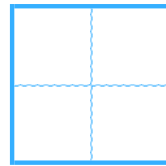
① $4 + 6 =$



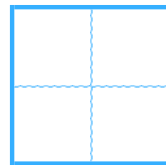
② $5 + 3 =$



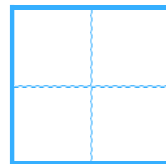
③ $8 + 2 =$



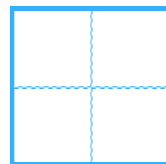
④ $6 + 3 =$



⑤ $4 + 1 =$



⑥ $7 + 3 =$





あわせていくつ？

いろいろなかずのたしざん

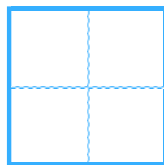


日にち： 月 日

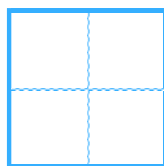
名まえ _____

・ たしざんをしましょう。

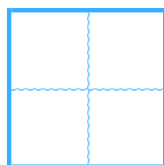
① $4 + 3 =$



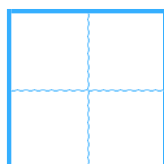
② $5 + 5 =$



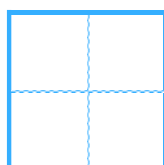
③ $8 + 1 =$



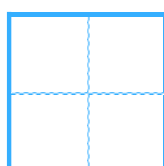
④ $4 + 4 =$



⑤ $6 + 1 =$



⑥ $7 + 2 =$





あわせていくつ？

いろいろなかずのたしざん

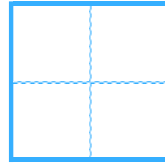


日にち： 月 日

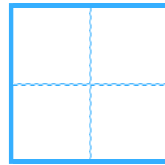
名まえ _____

・ たしざんをしましょう。

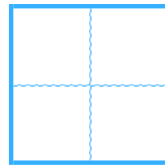
① $5 + 2 =$



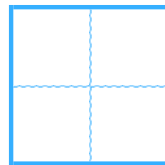
② $2 + 4 =$



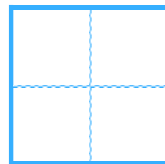
③ $6 + 1 =$



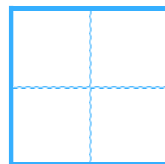
④ $3 + 6 =$



⑤ $8 + 2 =$



⑥ $4 + 4 =$





あわせていくつ?

● いろいろなかずのたしざん

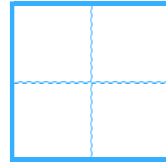


日にち： 月 日

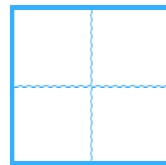
名まえ _____

・ たしざんをしましょう。

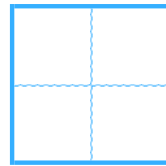
① $5 + 1 =$



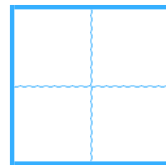
② $2 + 6 =$



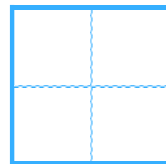
③ $6 + 4 =$



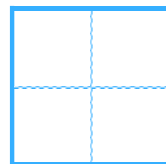
④ $3 + 5 =$



⑤ $1 + 2 =$



⑥ $4 + 2 =$





あわせていくつ？

いろいろなかずのたしざん

12

日にち： 月 日

名まえ _____

・ たしざんをしましょう。

① $7 + 3 =$

② $2 + 5 =$

③ $6 + 2 =$

④ $4 + 6 =$

⑤ $1 + 8 =$

⑥ $5 + 4 =$





あわせていくつ？

いろいろなかずのたしざん

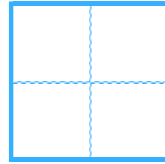
13

日にち： 月 日

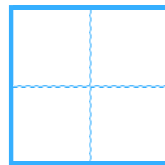
名まえ _____

・ たしざんをしましょう。

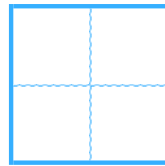
① $7 + 1 =$



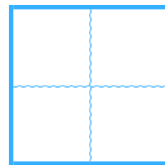
② $2 + 8 =$



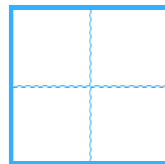
③ $6 + 3 =$



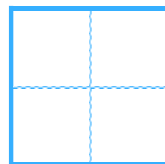
④ $3 + 2 =$



⑤ $4 + 5 =$



⑥ $8 + 1 =$





あわせていくつ?

いろいろなかずのたしざん

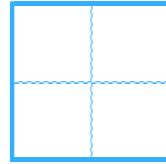


日にち： 月 日

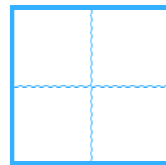
名まえ _____

・ たしざんをしましょう。

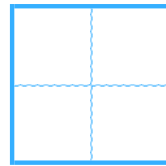
① $8 + 1 =$



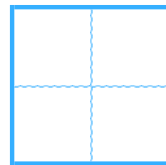
② $2 + 3 =$



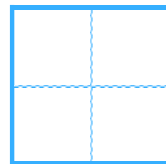
③ $4 + 5 =$



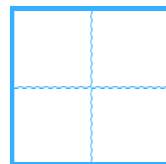
④ $3 + 7 =$



⑤ $1 + 1 =$



⑥ $4 + 3 =$






あわせていくつ？

● いろいろなかずのたしざん

15

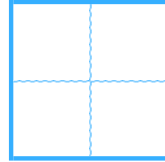
めざせ80てん!



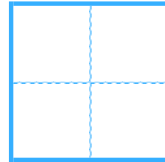
名まえ _____

・ たしざんをしましょう。(各20点)

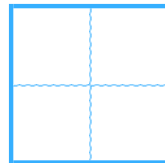
① $7 + 2 =$



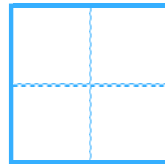
② $1 + 5 =$



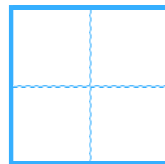
③ $9 + 1 =$



④ $2 + 2 =$



⑤ $5 + 3 =$






あわせていくつ?

● いろいろなかずのたしざん

16

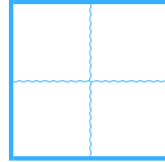
めざせ80てん!



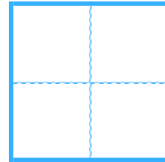
名まえ _____

・ たしざんをしましょう。(各20点)

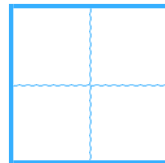
① $8 + 2 =$



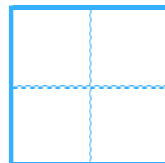
② $5 + 1 =$



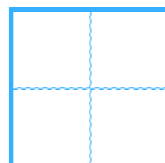
③ $4 + 2 =$



④ $3 + 4 =$



⑤ $6 + 3 =$





あわせていくつ？

いろいろなかずのたしざん

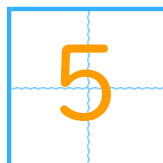


日にち： 月 日

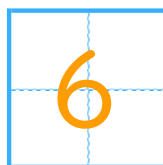
名まえ _____

・ たしざんを しましょう。(うすいじはなぞりましょう。)

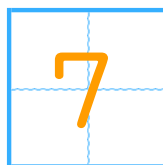
① $4 + 1 =$



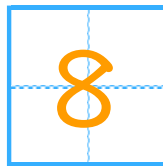
② $4 + 2 =$



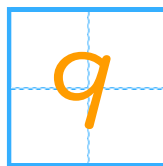
③ $4 + 3 =$



④ $4 + 4 =$



⑤ $4 + 5 =$





あわせていくつ？

いろいろなかずのたしざん

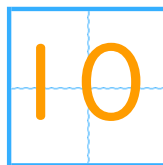


日にち： 月 日

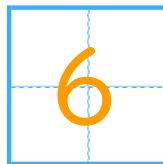
名まえ _____

・ たしざんを しましょう。(うすいじはなぞりましょう。)

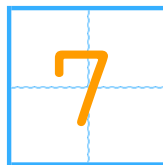
① $4 + 6 =$



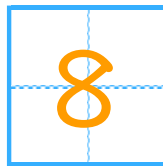
② $5 + 1 =$




③ $5 + 2 =$



④ $5 + 3 =$



⑤ $5 + 4 =$





あわせていくつ？

いろいろなかずのたしざん

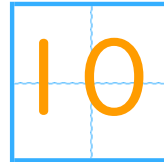


日にち： 月 日

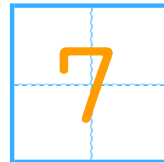
名まえ _____

・ たしざんを しましょう。(うすいじはなぞりましょう。)

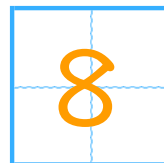
① $5 + 5 =$



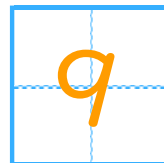
② $6 + 1 =$



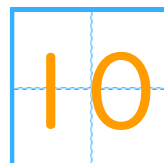
③ $6 + 2 =$



④ $6 + 3 =$



⑤ $6 + 4 =$





あわせていくつ？

いろいろなかずのたしざん



日にち： 月 日

名まえ _____

・ たしざんを しましょう。(うすいじはなぞりましょう。)

① $7 + 1 =$

8

② $7 + 2 =$

9

③ $7 + 3 =$

10

④ $8 + 1 =$

9

⑤ $8 + 2 =$

10

⑥ $9 + 1 =$

10





あわせていくつ？

◎ いろいろなかずのたしざん



日にち： 月 日

名まえ _____

・ たしざんを しまししょう。(うすいじはなぞりましよう。)

① $4 + 5 =$

9

② $5 + 1 =$

6

③ $6 + 2 =$

8

④ $7 + 3 =$

10

⑤ $4 + 2 =$

6

⑥ $8 + 1 =$

9





あわせていくつ？

いろいろなかずのたしざん



日にち： 月 日

名まえ _____

・ たしざんを しましょう。(うすいじはなぞりましょう。)

① $4 + 3 =$

7

② $5 + 2 =$

7

③ $6 + 4 =$

10

④ $7 + 1 =$

8

⑤ $9 + 1 =$

10

⑥ $5 + 4 =$

9





あわせていくつ？

いろいろなかずのたしざん



日にち： 月 日

名まえ _____

・ たしざんをしましょう。

$① \quad 4 + 1 =$

5

$② \quad 5 + 5 =$

10

$③ \quad 6 + 1 =$

7

$④ \quad 8 + 2 =$

10

$⑤ \quad 4 + 4 =$

8

$⑥ \quad 7 + 2 =$

9





あわせていくつ？

いろいろなかずのたしざん



日にち： 月 日

名まえ _____

・ たしざんをしましょう。

① $4 + 6 =$

10

② $5 + 3 =$

8

③ $8 + 2 =$

10

④ $6 + 3 =$

9

⑤ $4 + 1 =$

5

⑥ $7 + 3 =$

10





あわせていくつ？

いろいろなかずのたしざん



日にち： 月 日

名まえ _____

・ たしざんを しましょう。

① $4 + 3 =$

7

② $5 + 5 =$

10

③ $8 + 1 =$

9

④ $4 + 4 =$

8

⑤ $6 + 1 =$

7

⑥ $7 + 2 =$

9





あわせていくつ？

◎ いろいろなかずのたしざん




日にち： 月 日

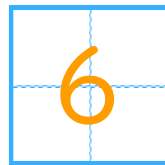
名まえ _____

・ たしざんをしましょう。


① $5 + 2 =$



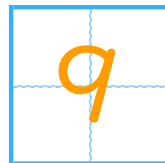
② $2 + 4 =$



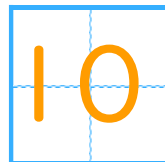
③ $6 + 1 =$



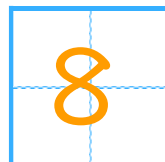
④ $3 + 6 =$



⑤ $8 + 2 =$



⑥ $4 + 4 =$





あわせていくつ？

● いろいろなかずのたしざん



日にち： 月 日

名まえ _____

・ たしざんをしましょう。

① $5 + 1 =$

6

② $2 + 6 =$

8

③ $6 + 4 =$

10

④ $3 + 5 =$

8

⑤ $1 + 2 =$

3

⑥ $4 + 2 =$

6





あわせていくつ？

いろいろなかずのたしざん

12

日にち： 月 日

名まえ _____

・ たしざんをしましょう。

① $7 + 3 =$

10

② $2 + 5 =$

7

③ $6 + 2 =$

8

④ $4 + 6 =$

10

⑤ $1 + 8 =$

9

⑥ $5 + 4 =$

9





あわせていくつ？

いろいろなかずのたしざん

13

日にち： 月 日

名まえ _____

・ たしざんをしましょう。

① $7 + 1 =$

8

② $2 + 8 =$

10

③ $6 + 3 =$

9

④ $3 + 2 =$

5

⑤ $4 + 5 =$

9

⑥ $8 + 1 =$

9





あわせていくつ？

◎ いろいろなかずのたしざん

14

日にち： 月 日

名まえ _____

・ たしざんをしましょう。

① $8 + 1 =$

9

② $2 + 3 =$

5

③ $4 + 5 =$

9

④ $3 + 7 =$

10

⑤ $1 + 1 =$

2

⑥ $4 + 3 =$

7






あわせていくつ？

いろいろなかずのたしざん

15

めざせ80てん!



名まえ

・ たしざんをしましょう。(各20点)

① $7 + 2 =$

② $1 + 5 =$

③ $9 + 1 =$

④ $2 + 2 =$

⑤ $5 + 3 =$






あわせていくつ？

● いろいろなかずのたしざん

16

めざせ80てん!



名まえ _____

・ たしざんをしましょう。(各20点)

① $8 + 2 =$

1	0
---	---

② $5 + 1 =$

6

③ $4 + 2 =$

6

④ $3 + 4 =$

7

⑤ $6 + 3 =$

9

