



あわせていくつ8

● 0のたしざん



日にち： 月 日

名まえ _____

- ・ たまのかずをあわせるといくつでしょう。
(うすいじはなぞりましょう。)

①



$$2 + 0 = \boxed{2}$$

②



$$0 + 3 = \boxed{}$$

③



$$0 + 0 = \boxed{0}$$





あわせていくつ8

0のたしざん




日にち： 月 日

名まえ _____

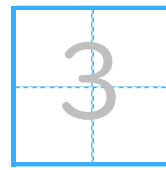
・ たまのかずをあわせるといくつでしょう。

(うすいじはなぞりましょう。)

①



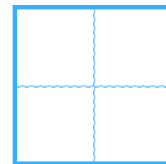
$$3 + 0 =$$



②



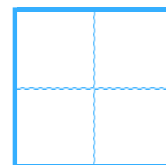
$$0 + 1 =$$



③



$$0 + 0 =$$





あわせていくつ8

● 0のたしざん

3

日にち： 月 日

名まえ _____

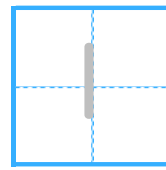
・ たまのかずをあわせるといくつでしょう。

(うすいじはなぞりましょう。)

①



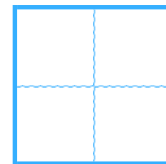
$$1 + 0 =$$



②



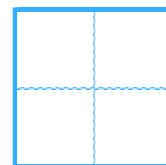
$$0 + 0 =$$



③



$$0 + 2 =$$





あわせていくつ8

0のたしざん

4

日にち： 月 日

名まえ _____

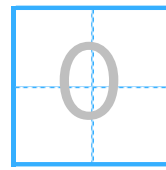
・ たまのかずをあわせるといくつでしょう。

(うすいじはなぞりましょう。)

①



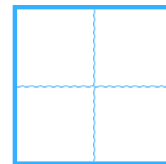
$$0 + 0 =$$



②



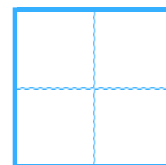
$$0 + 3 =$$



③



$$2 + 0 =$$





あわせていくつ8

● 0のたしざん



日にち： 月 日

名まえ _____

・ たしざんをしましょう。(うすいじはなぞりましょう。)

① $0 + 5 =$

5

② $1 + 0 =$

1

③ $0 + 2 =$

④ $7 + 0 =$

⑤ $0 + 3 =$

⑥ $0 + 0 =$





あわせていくつ8

● 0のたしざん

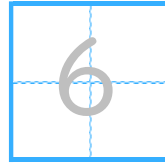


日にち： 月 日

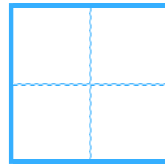
名まえ _____

・ たしざんをしましょう。(うすいじはなぞりましょう。)

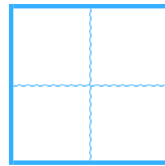
① $0 + 6 =$



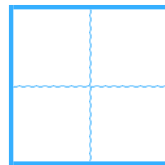
② $2 + 0 =$



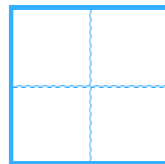
③ $0 + 3 =$



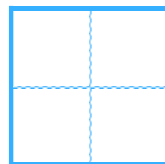
④ $0 + 0 =$



⑤ $0 + 4 =$



⑥ $1 + 0 =$





あわせていくつ8

● 0のたしざん

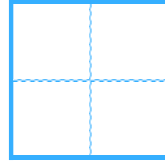


日にち： 月 日

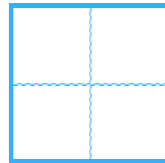
名まえ _____

・ たしざんをしましょう。

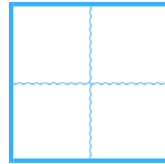
① $0 + 7 =$



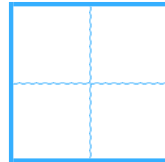
② $3 + 0 =$



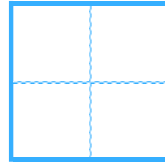
③ $0 + 0 =$



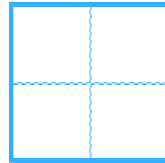
④ $2 + 0 =$



⑤ $0 + 5 =$



⑥ $6 + 0 =$





あわせていくつ8

0のたしざん

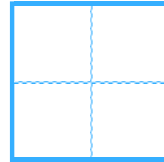


日にち： 月 日

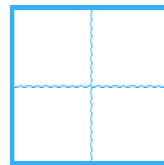
名まえ _____

・ たしざんをしましょう。

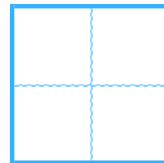
① $0 + 0 =$



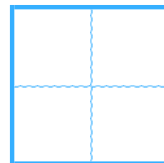
② $1 + 0 =$



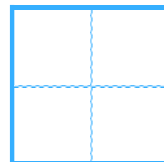
③ $0 + 4 =$



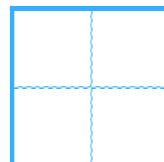
④ $3 + 0 =$



⑤ $0 + 2 =$



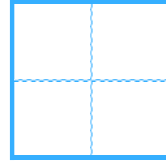
⑥ $5 + 0 =$



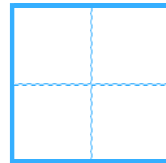


・ たしざんをしましょう。

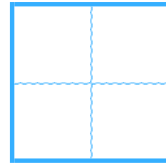
① $0 + 2 =$



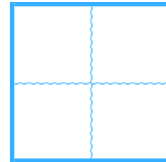
② $0 + 0 =$



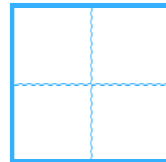
③ $0 + 3 =$



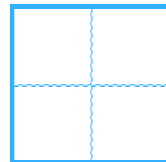
④ $1 + 0 =$



⑤ $0 + 4 =$



⑥ $7 + 0 =$





あわせていくつ8

● 0のたしざん

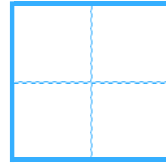
10

日にち： 月 日

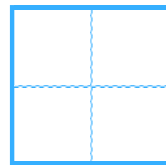
名まえ _____

・ たしざんをしましょう。

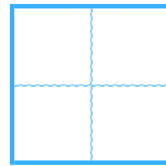
① $0 + 2 =$



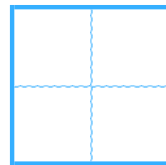
② $3 + 3 =$



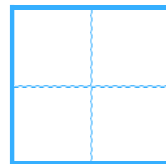
③ $0 + 0 =$



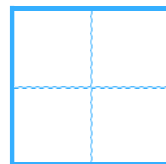
④ $4 + 2 =$



⑤ $0 + 7 =$



⑥ $4 + 5 =$





あわせていくつ8

● 0のたしざん

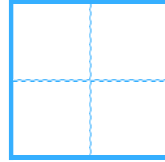


日にち： 月 日

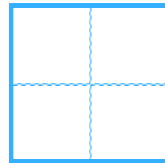
名まえ _____

・ たしざんをしましょう。

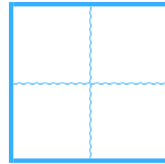
① $0 + 1 =$



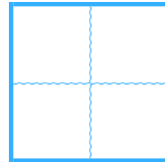
② $5 + 3 =$



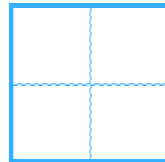
③ $0 + 0 =$



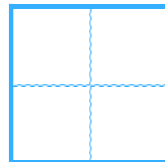
④ $6 + 4 =$



⑤ $2 + 0 =$



⑥ $7 + 1 =$





あわせていくつ8

0のたしざん

12

日にち： 月 日

名まえ _____

・ たしざんをしましょう。

① $0 + 2 =$

② $8 + 2 =$

③ $3 + 0 =$

④ $1 + 3 =$

⑤ $0 + 0 =$

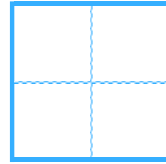
⑥ $9 + 1 =$



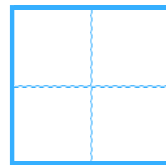


・ たしざんをしましょう。

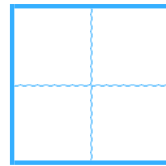
① $0 + 0 =$



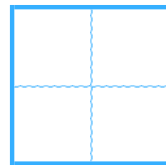
② $4 + 3 =$



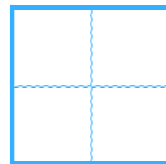
③ $2 + 0 =$



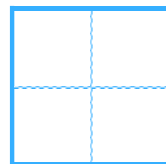
④ $7 + 1 =$



⑤ $0 + 5 =$



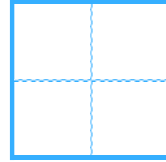
⑥ $6 + 4 =$



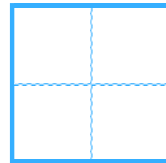


・ たしざんをしましょう。

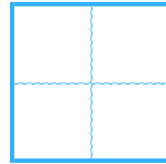
① $4 + 0 =$



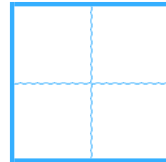
② $5 + 5 =$



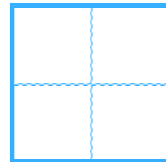
③ $0 + 3 =$



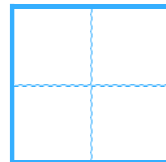
④ $4 + 2 =$



⑤ $0 + 0 =$



⑥ $8 + 1 =$






あわせていくつ8

15

● 0のたしざん

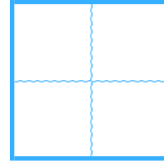
めざせ80てん!



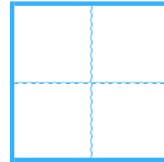
名まえ _____

・ たしざんをしましょう。(各20点)

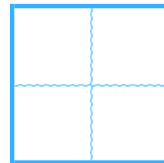
① $7 + 0 =$



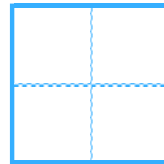
② $2 + 3 =$



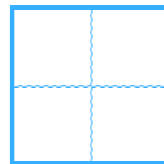
③ $0 + 1 =$



④ $6 + 4 =$



⑤ $5 + 0 =$






あわせていくつ8

● 0のたしざん

16

めざせ80てん!



名まえ _____

・ たしざんをしましょう。(各20点)

① $0 + 0 =$

② $3 + 2 =$

③ $0 + 4 =$

④ $7 + 3 =$

⑤ $2 + 0 =$





あわせていくつ8

● 0のたしざん



日にち： 月 日

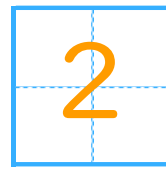
名まえ _____

- ・ たまのかずをあわせるといくつでしょう。
(うすいじはなぞりましょう。)

①



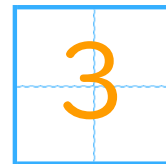
$$2 + 0 =$$



②



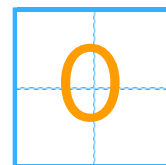
$$0 + 3 =$$



③



$$0 + 0 =$$





あわせていくつ8

● 0のたしざん




日にち： 月 日

名まえ _____

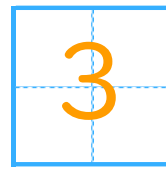
・ たまのかずをあわせるといくつでしょう。

(うすいじはなぞりましょう。)

①



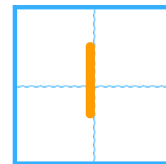
$$3 + 0 =$$



②



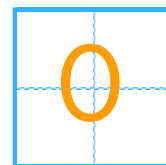
$$0 + 1 =$$



③



$$0 + 0 =$$





あわせていくつ8

● 0のたしざん



日にち： 月 日

名まえ _____

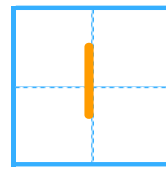
・ たまのかずをあわせるといくつでしょう。

(うすいじはなぞりましょう。)

①



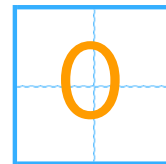
$$1 + 0 =$$



②



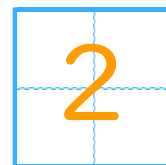
$$0 + 0 =$$



③



$$0 + 2 =$$





あわせていくつ8

● 0のたしざん

4

日にち： 月 日

名まえ _____

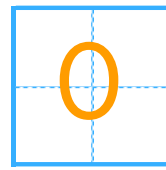
・ たまのかずをあわせるといくつでしょう。

(うすいじはなぞりましょう。)

①



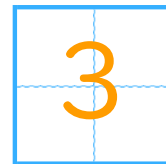
$$0 + 0 =$$



②



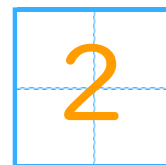
$$0 + 3 =$$



③



$$2 + 0 =$$





あわせていくつ8

● 0のたしざん



日にち： 月 日

名まえ _____

・ たしざんをしましょう。(うすいじはなぞりましょう。)

① $0 + 5 =$

5

② $1 + 0 =$

1

③ $0 + 2 =$

2

④ $7 + 0 =$

7

⑤ $0 + 3 =$

3

⑥ $0 + 0 =$

0





あわせていくつ8

● 0のたしざん

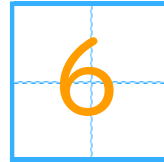


日にち： 月 日

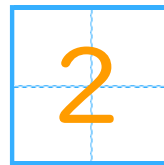
名まえ _____

・ たしざんをしましょう。(うすいじはなぞりましょう。)

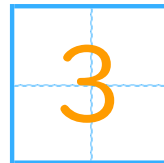
① $0 + 6 =$



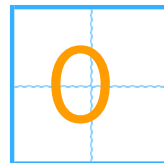
② $2 + 0 =$



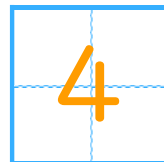
③ $0 + 3 =$



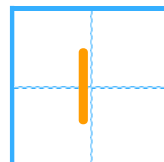
④ $0 + 0 =$



⑤ $0 + 4 =$



⑥ $1 + 0 =$





あわせていくつ8

● 0のたしざん



日にち： 月 日

名まえ _____

・ たしざんをしましょう。

$$\textcircled{1} \quad 0 + 7 =$$

7

$$\textcircled{2} \quad 3 + 0 =$$

3

$$\textcircled{3} \quad 0 + 0 =$$

0

$$\textcircled{4} \quad 2 + 0 =$$

2

$$\textcircled{5} \quad 0 + 5 =$$

5

$$\textcircled{6} \quad 6 + 0 =$$

6





あわせていくつ8

0のたしざん

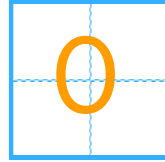


日にち： 月 日

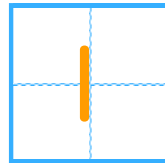
名まえ _____

・ たしざんをしましょう。

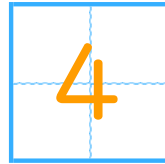
$① \quad 0 + 0 =$



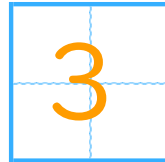
$② \quad 1 + 0 =$



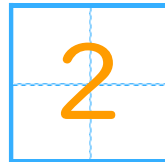
$③ \quad 0 + 4 =$



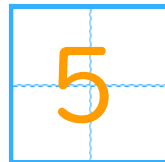
$④ \quad 3 + 0 =$



$⑤ \quad 0 + 2 =$



$⑥ \quad 5 + 0 =$





あわせていくつ8

● 0のたしざん



日にち： 月 日

名まえ _____

・ たしざんをしましょう。

① $0 + 2 =$

2

② $0 + 0 =$

0

③ $0 + 3 =$

3

④ $1 + 0 =$

1

⑤ $0 + 4 =$

4

⑥ $7 + 0 =$

7





あわせていくつ8

● 0のたしざん



日にち： 月 日

名まえ _____

・ たしざんをしましょう。

① $0 + 2 =$

2

② $3 + 3 =$

6

③ $0 + 0 =$

0

④ $4 + 2 =$

6

⑤ $0 + 7 =$

7

⑥ $4 + 5 =$

9





あわせていくつ8

● 0のたしざん

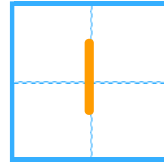


日にち： 月 日

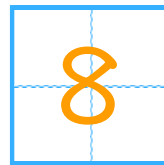
名まえ _____

・ たしざんをしましょう。

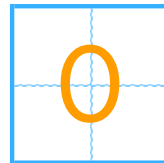
① $0 + 1 =$



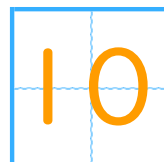
② $5 + 3 =$



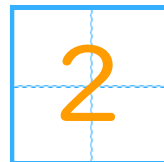
③ $0 + 0 =$



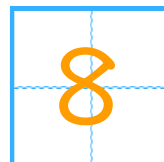
④ $6 + 4 =$



⑤ $2 + 0 =$



⑥ $7 + 1 =$





あわせていくつ8

● 0のたしざん

12

日にち： 月 日

名まえ _____

・ たしざんをしましょう。

① $0 + 2 =$

2

② $8 + 2 =$

10

③ $3 + 0 =$

3

④ $1 + 3 =$

4

⑤ $0 + 0 =$

0

⑥ $9 + 1 =$

10





・ たしざんをしましょう。

① $0 + 0 =$

0

② $4 + 3 =$

7

③ $2 + 0 =$

2

④ $7 + 1 =$

8

⑤ $0 + 5 =$

5

⑥ $6 + 4 =$

10





あわせていくつ8

● 0のたしざん

14

日にち： 月 日

名まえ _____

・ たしざんをしましょう。

① $4 + 0 =$

4

② $5 + 5 =$

10

③ $0 + 3 =$

3

④ $4 + 2 =$

6

⑤ $0 + 0 =$

0

⑥ $8 + 1 =$

9






あわせていくつ8

● 0のたしざん

15

めざせ80てん!



名まえ _____

・ たしざんをしましょう。(各20点)

① $7 + 0 =$

7

② $2 + 3 =$

5

③ $0 + 1 =$

1

④ $6 + 4 =$

10

⑤ $5 + 0 =$

5






あわせていくつ8

16

● 0のたしざん

めざせ80てん!



名まえ _____

・ たしざんをしましょう。(各20点)

① $0 + 0 =$

0

② $3 + 2 =$

5

③ $0 + 4 =$

4

④ $7 + 3 =$

10

⑤ $2 + 0 =$

2

