



あわせていくつ8

● 0のたしざん



日にち： 月 日

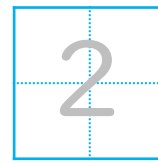
名まえ _____

- ・ たまのかずをあわせるといくつでしょう。
(うすいじはなぞりましょう。)

①



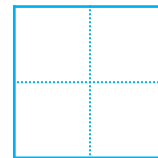
$$2 + 0 =$$



②



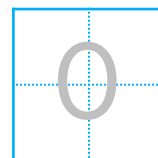
$$0 + 3 =$$



③



$$0 + 0 =$$





あわせていくつ8

● 0のたしざん



日にち： 月 日

名まえ _____

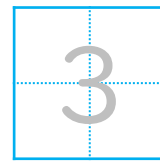
・ たまのかずをあわせるといくつでしょう。

(うすいじはなぞりましょう。)

①



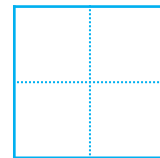
$$3 + 0 =$$



②



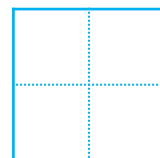
$$0 + 1 =$$



③



$$0 + 0 =$$





あわせていくつ8

● 0のたしざん



日にち： 月 日

名まえ _____

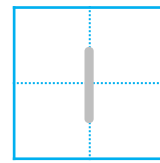
・ たまのかずをあわせるといくつでしょう。

(うすいじはなぞりましょう。)

①



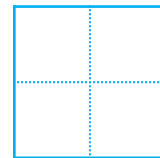
$$1 + 0 =$$



②



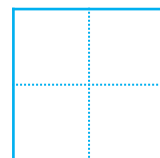
$$0 + 0 =$$



③



$$0 + 2 =$$





あわせていくつ8

0のたしざん

4

日にち： 月 日

名まえ _____

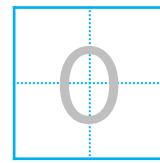
・ たまのかずをあわせるといくつでしょう。

(うすいじはなぞりましょう。)


①



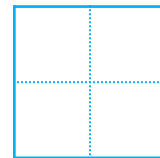
$$0 + 0 =$$



②



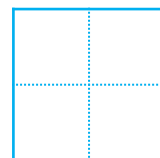
$$0 + 3 =$$



③



$$2 + 0 =$$





あわせていくつ8

● 0のたしざん



日にち： 月 日

名まえ _____

・ たしざんをしましょう。(うすいじはなぞりましょう。)

① $0 + 5 =$

② $1 + 0 =$

③ $0 + 2 =$

④ $7 + 0 =$

⑤ $0 + 3 =$

⑥ $0 + 0 =$



あわせていくつ8

● 0のたしざん



日にち： 月 日

名まえ _____

・ たしざんをしましょう。(うすいじはなぞりましょう。)

① $0 + 6 =$

② $2 + 0 =$

③ $0 + 3 =$

④ $0 + 0 =$

⑤ $0 + 4 =$

⑥ $1 + 0 =$



あわせていくつ8

● 0のたしざん



日にち： 月 日

名まえ _____

・ たしざんをしましょう。

① $0 + 7 =$

② $3 + 0 =$

③ $0 + 0 =$

④ $2 + 0 =$

⑤ $0 + 5 =$

⑥ $6 + 0 =$



あわせていくつ8

0のたしざん



日にち： 月 日

名まえ _____

・ たしざんをしましょう。

① $0 + 0 =$

② $1 + 0 =$

③ $0 + 4 =$

④ $3 + 0 =$

⑤ $0 + 2 =$

⑥ $5 + 0 =$





・ たしざんをしましょう。

① $0 + 2 =$

② $0 + 0 =$

③ $0 + 3 =$

④ $1 + 0 =$

⑤ $0 + 4 =$

⑥ $7 + 0 =$



・ たしざんをしましょう。

① $0 + 2 =$

② $3 + 3 =$

③ $0 + 0 =$

④ $4 + 2 =$

⑤ $0 + 7 =$

⑥ $4 + 5 =$



あわせていくつ8

0のたしざん



日にち： 月 日

名まえ _____

・ たしざんをしましょう。

① $0 + 1 =$

② $5 + 3 =$

③ $0 + 0 =$

④ $6 + 4 =$

⑤ $2 + 0 =$

⑥ $7 + 1 =$





あわせていくつ8

● 0のたしざん

12

日にち： 月 日

名まえ _____

・ たしざんをしましょう。

① $0 + 2 =$

② $8 + 2 =$

③ $3 + 0 =$

④ $1 + 3 =$

⑤ $0 + 0 =$

⑥ $9 + 1 =$



・ たしざんをしましょう。

① $0 + 0 =$

② $4 + 3 =$

③ $2 + 0 =$

④ $7 + 1 =$

⑤ $0 + 5 =$

⑥ $6 + 4 =$



・ たしざんをしましょう。

① $4 + 0 =$

② $5 + 5 =$

③ $0 + 3 =$

④ $4 + 2 =$

⑤ $0 + 0 =$

⑥ $8 + 1 =$




あわせていくつ8

15

● 0のたしざん

めざせ80てん!



名まえ _____

・ たしざんをしましょう。(各20点)

① $7 + 0 =$

② $2 + 3 =$

③ $0 + 1 =$

④ $6 + 4 =$

⑤ $5 + 0 =$




あわせていくつ8

● 0のたしざん

16

めざせ80てん!



名まえ _____

・ たしざんをしましょう。(各20点)

① $0 + 0 =$

② $3 + 2 =$

③ $0 + 4 =$

④ $7 + 3 =$

⑤ $2 + 0 =$



あわせていくつ8

● 0のたしざん



日にち： 月 日

名まえ _____

- ・ たまのかずをあわせるといくつでしょう。
(うすいじはなぞりましょう。)

①



$$2 + 0 = \boxed{2}$$

②




$$0 + 3 = \boxed{3}$$

③



$$0 + 0 = \boxed{0}$$





あわせていくつ8

● 0のたしざん



日にち： 月 日

名まえ _____

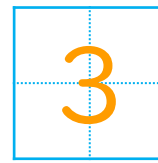
・ たまのかずをあわせるといくつでしょう。

(うすいじはなぞりましょう。)

①



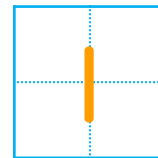
$$3 + 0 =$$



②



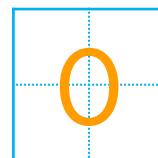
$$0 + 1 =$$



③



$$0 + 0 =$$





あわせていくつ8

● 0のたしざん

3

日にち： 月 日

名まえ _____

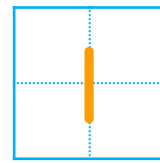
・ たまのかずをあわせるといくつでしょう。

(うすいじはなぞりましょう。)

①



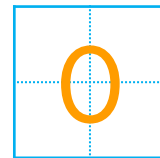
$$1 + 0 =$$



②



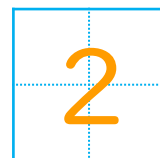
$$0 + 0 =$$



③



$$0 + 2 =$$





あわせていくつ8

0のたしざん

4

日にち： 月 日

名まえ _____

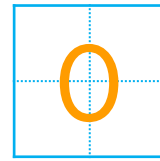
・ たまのかずをあわせるといくつでしょう。

(うすいじはなぞりましょう。)


①



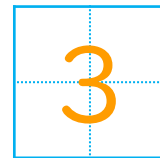
$$0 + 0 =$$



②



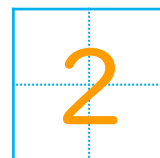
$$0 + 3 =$$



③



$$2 + 0 =$$





あわせていくつ8

● 0のたしざん



日にち： 月 日

名まえ _____

・ たしざんをしましょう。(うすいじはなぞりましょう。)

① $0 + 5 =$

② $1 + 0 =$

③ $0 + 2 =$

④ $7 + 0 =$

⑤ $0 + 3 =$

⑥ $0 + 0 =$





あわせていくつ8

● 0のたしざん

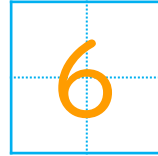


日にち： 月 日


名まえ _____

・ たしざんをしましょう。(うすいじはなぞりましょう。)

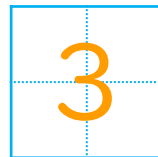
① $0 + 6 =$



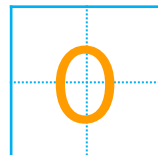
② $2 + 0 =$



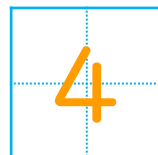
③ $0 + 3 =$



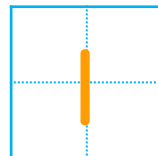
④ $0 + 0 =$



⑤ $0 + 4 =$



⑥ $1 + 0 =$





あわせていくつ8

● 0のたしざん



日にち： 月 日

名まえ _____

・ たしざんをしましょう。

① $0 + 7 =$

7

② $3 + 0 =$

3

③ $0 + 0 =$

0

④ $2 + 0 =$

2

⑤ $0 + 5 =$

5

⑥ $6 + 0 =$

6





あわせていくつ8

0のたしざん

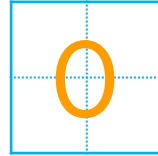


日にち： 月 日

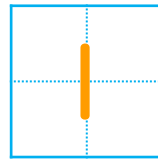
名まえ _____

・ たしざんをしましょう。

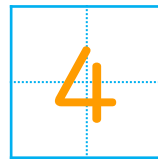
$① \quad 0 + 0 =$



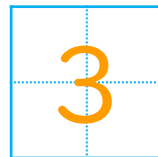
$② \quad 1 + 0 =$




$③ \quad 0 + 4 =$



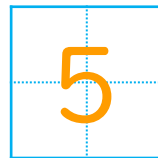
$④ \quad 3 + 0 =$



$⑤ \quad 0 + 2 =$



$⑥ \quad 5 + 0 =$





あわせていくつ8

● 0のたしざん



日にち： 月 日

名まえ _____

・ たしざんをしましょう。

① $0 + 2 =$

2

② $0 + 0 =$

0

③ $0 + 3 =$

3

④ $1 + 0 =$

1


⑤ $0 + 4 =$

4

⑥ $7 + 0 =$

7





あわせていくつ8

● 0のたしざん

10

日にち： 月 日

名まえ _____

・ たしざんをしましょう。

① $0 + 2 =$

2

② $3 + 3 =$

6

③ $0 + 0 =$

0

④ $4 + 2 =$

6

⑤ $0 + 7 =$

7

⑥ $4 + 5 =$

9





あわせていくつ8

● 0のたしざん

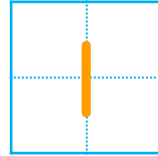


日にち： 月 日

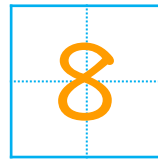
名まえ _____

・ たしざんをしましょう。

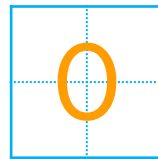
① $0 + 1 =$



② $5 + 3 =$




③ $0 + 0 =$



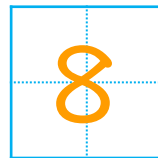
④ $6 + 4 =$



⑤ $2 + 0 =$



⑥ $7 + 1 =$





あわせていくつ8

● 0のたしざん

12

日にち： 月 日

名まえ _____

・ たしざんをしましょう。

① $0 + 2 =$

2

② $8 + 2 =$

10

③ $3 + 0 =$

3

④ $1 + 3 =$

4

⑤ $0 + 0 =$

0

⑥ $9 + 1 =$

10





あわせていくつ8

● 0のたしざん

13

日にち： 月 日

名まえ _____

・ たしざんをしましょう。

① $0 + 0 =$

0

② $4 + 3 =$

7

③ $2 + 0 =$

2

④ $7 + 1 =$

8

⑤ $0 + 5 =$

5

⑥ $6 + 4 =$

10



あわせていくつ8

● 0のたしざん

14

日にち： 月 日

名まえ _____

・ たしざんをしましょう。

① $4 + 0 =$

② $5 + 5 =$

③ $0 + 3 =$

④ $4 + 2 =$

⑤ $0 + 0 =$

⑥ $8 + 1 =$




あわせていくつ8

● 0のたしざん

15

めざせ80てん!



名まえ _____

・ たしざんをしましょう。(各20点)

① $7 + 0 =$

② $2 + 3 =$

③ $0 + 1 =$

④ $6 + 4 =$

⑤ $5 + 0 =$




あわせていくつ8

● 0のたしざん

16

めざせ80てん!



名まえ

・ たしざんをしましょう。(各20点)

① $0 + 0 =$

0

② $3 + 2 =$

5

③ $0 + 4 =$

4

④ $7 + 3 =$

10

⑤ $2 + 0 =$

2

