



おおきいかず 12

● 30と5をあわせた数

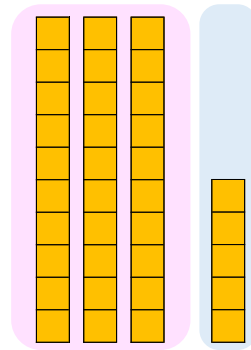


日にち： 月 日

名まえ _____

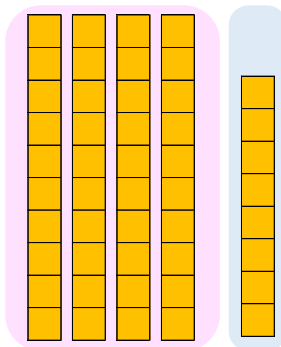
- にかずをかきましょう。(うすいじはなぞりましょう。)

① 30と5をあわせたかずは です。



しき： $30 + 5 =$

② 40と8をあわせたかずは です。



しき： $40 + 8 =$





おおきいかず 12

● 30と5をあわせた数

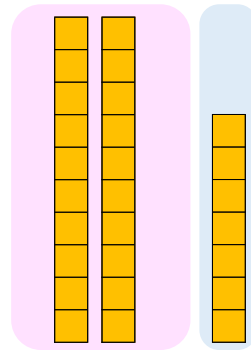


日にち： 月 日

名まえ _____

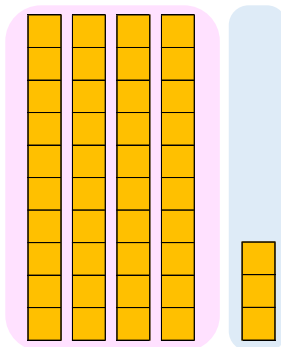
- にかずをかきましょう。(うすいじはなぞりましょう。)

① 20と7をあわせたかずは です。



しき： $20 + 7 =$

② 40と3をあわせたかずは です。



しき： $40 + 3 =$





おおきいかず 12

● 30と5をあわせた数

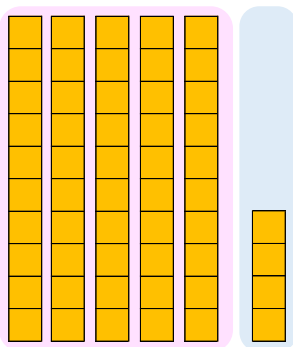


日にち： 月 日

名まえ _____

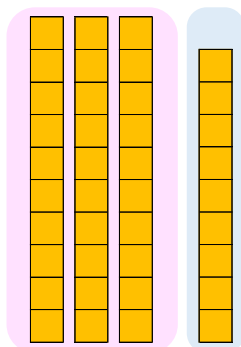
- にかずをかきましょう。(うすいじはなぞりましょう。)

① 50と4をあわせたかずは です。



しき： $50 + 4 =$

② 30と9をあわせたかずは です。



しき： $30 + 9 =$





おおきいかず 12

● 30と5をあわせた数

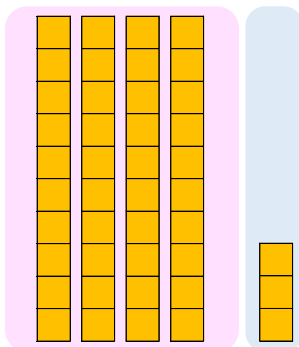
4

日にち： 月 日

名まえ _____

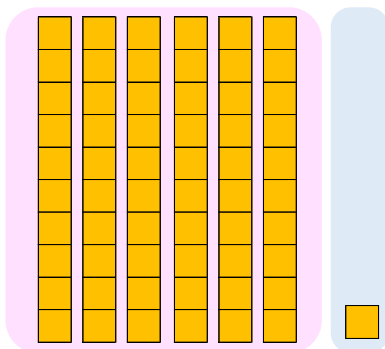
- にかずをかきましょう。(うすいじはなぞりましょう。)

① 40と3をあわせたかずは です。



$$\text{しき} : 40 + 3 = \square$$

② 60と1をあわせたかずは です。



$$\text{しき} : 60 + 1 = \square$$





おおきいかず 12

5

● 30 と 5 をあわせた数

日にち： 月 日

名まえ _____

・ たしざんをしましょう。(うすいじはなぞりましょう。)

① $80 + 5 = 85$

⑥ $40 + 1 = \square$

② $20 + 3 = 23$

⑦ $90 + 4 = \square$

③ $70 + 8 = 78$

⑧ $50 + 9 = \square$

④ $30 + 6 = \square$

⑨ $80 + 7 = \square$

⑤ $60 + 1 = \square$

⑩ $70 + 2 = \square$





おおきいかず 12

● 30と5をあわせた数



日にち： 月 日

名まえ _____

・たしざんをしましょう。(うすいじはなぞりましょう。)

① $90 + 6 =$

⑥ $50 + 2 =$

② $30 + 4 =$

⑦ $30 + 5 =$

③ $80 + 9 =$

⑧ $60 + 1 =$

④ $40 + 7 =$

⑨ $90 + 8 =$

⑤ $70 + 2 =$

⑩ $80 + 3 =$





おおきいかず 12

● 30 と 5 をあわせた数



日にち： 月 日

名まえ _____

・ たしざんをしましょう。(うすいじはなぞりましょう。)

① $30 + 7 =$

⑥ $60 + 3 =$

② $40 + 5 =$

⑦ $40 + 6 =$

③ $90 + 1 =$

⑧ $70 + 2 =$

④ $50 + 8 =$

⑨ $20 + 9 =$

⑤ $80 + 3 =$

⑩ $90 + 4 =$





おおきいかず 12

● 30 と 5 をあわせた数



日にち： 月 日

名まえ _____

・たしざんをしましょう。

① $40 + 8 =$

⑥ $70 + 4 =$

② $50 + 6 =$

⑦ $50 + 7 =$

③ $30 + 2 =$

⑧ $80 + 3 =$

④ $60 + 9 =$

⑨ $30 + 1 =$

⑤ $90 + 4 =$

⑩ $20 + 5 =$





おおきいかず 12

● 30 と 5 をあわせた数



日にち： 月 日

名まえ _____

・たしざんをしましょう。

① $50 + 9 =$

⑥ $80 + 5 =$

② $60 + 7 =$

⑦ $60 + 8 =$

③ $40 + 3 =$

⑧ $90 + 4 =$

④ $70 + 1 =$

⑨ $40 + 2 =$

⑤ $30 + 5 =$

⑩ $80 + 6 =$



おおきいかず 12

● 30 と 5 をあわせた数



日にち： 月 日

名まえ _____

1 たしざんをしましょう。

① $50 + 5 =$

④ $60 + 1 =$

② $90 + 3 =$

⑤ $80 + 9 =$

③ $30 + 8 =$

⑥ $40 + 6 =$

2 にかずをかきましょう。

①



②





おおきいかず 12

● 30と5をあわせた数



日にち： 月 日

名まえ _____

1 たしざんをしましょう。

① $60 + 8 =$

④ $70 + 2 =$

② $30 + 4 =$

⑤ $90 + 1 =$

③ $40 + 9 =$

⑥ $50 + 7 =$

2 にかずをかきましょう。

①



②





おおきいかず 12

● 30と5をあわせた数

12

日にち： 月 日

名まえ _____

1 たしざんをしましょう。

① $70 + 9 =$

④ $80 + 3 =$

② $40 + 5 =$

⑤ $30 + 2 =$

③ $50 + 1 =$

⑥ $60 + 8 =$

2 にかずをかきましょう。

①



②





おおきいかず 12

● 30 と 5 をあわせた数

13

日にち： 月 日

名まえ _____

1 たしざんをしましょう。

① $80 + 1 =$

④ $90 + 4 =$

② $50 + 6 =$

⑤ $40 + 3 =$

③ $60 + 2 =$

⑥ $70 + 9 =$

2 にかずをかきましょう。

①



②





おおきいかず 12

● 30 と 5 をあわせた数

14

日にち： 月 日

名まえ _____

1 たしざんをしましょう。

① $90 + 2 = \square$

④ $30 + 5 = \square$

② $60 + 7 = \square$

⑤ $50 + 4 = \square$

③ $40 + 3 = \square$

⑥ $80 + 6 = \square$

2 にかずをかきましょう。

①



②





おおきいかず 12

● 30と5をあわせた数

15

めざせ90点!



てん

名まえ _____

1 たしざんをしましょう。(各10点)

① $50 + 6 = \square$

④ $60 + 2 = \square$

② $90 + 4 = \square$


⑤ $80 + 1 = \square$

③ $30 + 9 = \square$

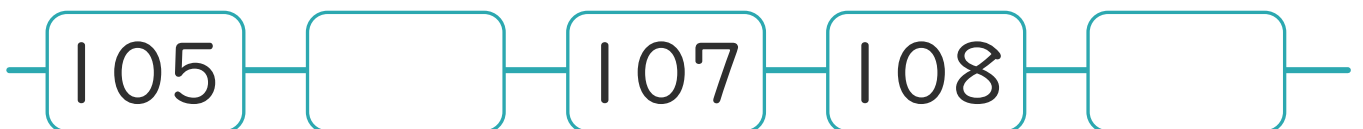
⑥ $40 + 7 = \square$

2 にかずをかきましょう。(各10点)

①



②





おおきいかず 12

● 30 と 5 をあわせた数

16

めざせ90点!



名まえ _____

1 たしざんをしましょう。(各10点)

① $60 + 8 =$

④ $70 + 5 =$

② $30 + 7 =$

⑤ $90 + 9 =$

③ $40 + 1 =$

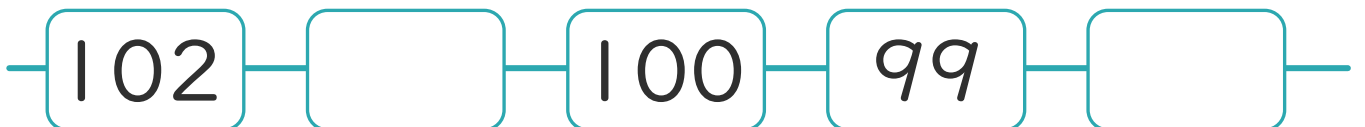
⑥ $50 + 3 =$

2 にかずをかきましょう。(各10点)

①



②





おおきいかず 12

● 30と5をあわせた数

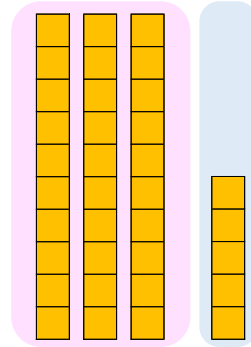


日にち： 月 日

名まえ _____

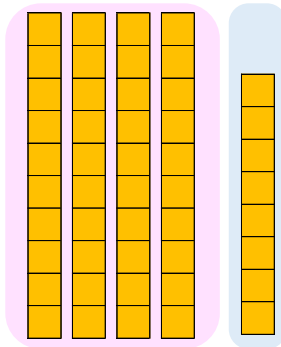
- にかずをかきましょう。(うすいじはなぞりましょう。)

① 30と5をあわせたかずは **35** です。



$$\text{しき} : 30 + 5 = \mathbf{35}$$

② 40と8をあわせたかずは **48** です。



$$\text{しき} : 40 + 8 = \mathbf{48}$$





おおきいかず 12

● 30と5をあわせた数

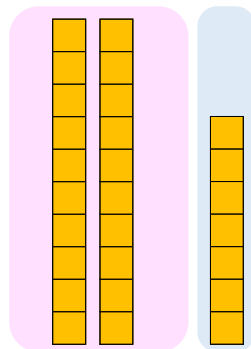
2

日にち： 月 日

名まえ _____

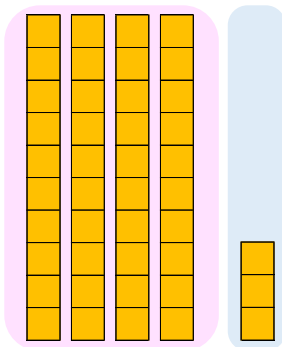
- にかずをかきましょう。(うすいじはなぞりましょう。)

① 20と7をあわせたかずは **27** です。



$$\text{しき} : 20 + 7 = \mathbf{27}$$

② 40と3をあわせたかずは **43** です。



$$\text{しき} : 40 + 3 = \mathbf{43}$$





おおきいかず 12

● 30と5をあわせた数

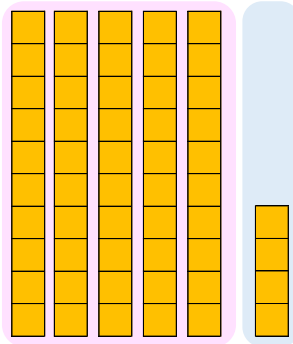


日にち： 月 日

名まえ _____

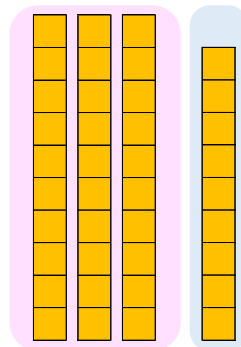
- にかずをかきましょう。(うすいじはなぞりましょう。)

① 50と4をあわせたかずは **54** です。



$$\text{しき} : 50 + 4 = \mathbf{54}$$

② 30と9をあわせたかずは **39** です。



$$\text{しき} : 30 + 9 = \mathbf{39}$$





おおきいかず 12

● 30と5をあわせた数

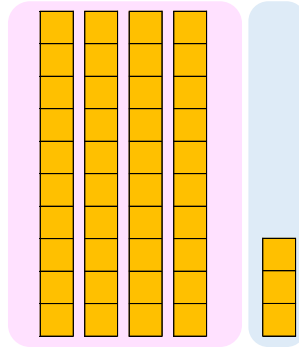
4

日にち： 月 日

名まえ _____

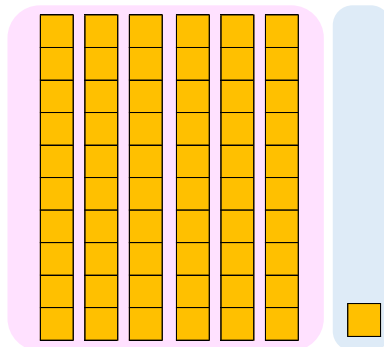
- にかずをかきましょう。(うすいじはなぞりましょう。)

① 40と3をあわせたかずは **43** です。



$$\text{しき} : 40 + 3 = \mathbf{43}$$

② 60と1をあわせたかずは **61** です。



$$\text{しき} : 60 + 1 = \mathbf{61}$$





おおきいかず 12

5

● 30 と 5 をあわせた数

日にち： 月 日

名まえ _____

・ たしざんをしましょう。(うすいじはなぞりましょう。)

① $80 + 5 = 85$

⑥ $40 + 1 = 41$

② $20 + 3 = 23$

⑦ $90 + 4 = 94$

③ $70 + 8 = 78$

⑧ $50 + 9 = 59$

④ $30 + 6 = 36$

⑨ $80 + 7 = 87$

⑤ $60 + 1 = 61$

⑩ $70 + 2 = 72$





おおきいかず 12

● 30 と 5 をあわせた数



日にち： 月 日

名まえ _____

・ たしざんをしましょう。(うすいじはなぞりましょう。)

① $90 + 6 = 96$

⑥ $50 + 2 = 52$

② $30 + 4 = 34$

⑦ $30 + 5 = 35$

③ $80 + 9 = 89$

⑧ $60 + 1 = 61$

④ $40 + 7 = 47$

⑨ $90 + 8 = 98$

⑤ $70 + 2 = 72$

⑩ $80 + 3 = 83$





おおきいかず 12

● 30 と 5 をあわせた数

7

日にち： 月 日

名まえ _____

・ たしざんをしましょう。(うすいじはなぞりましょう。)

① $30 + 7 = 37$

⑥ $60 + 3 = 63$

② $40 + 5 = 45$

⑦ $40 + 6 = 46$

③ $90 + 1 = 91$

⑧ $70 + 2 = 72$

④ $50 + 8 = 58$

⑨ $20 + 9 = 29$

⑤ $80 + 3 = 83$

⑩ $90 + 4 = 94$



おおきいかず 12

● 30 と 5 をあわせた数



日にち： 月 日

名まえ _____

・たしざんをしましょう。

$① \quad 40 + 8 = 48$

$⑥ \quad 70 + 4 = 74$

$② \quad 50 + 6 = 56$

$⑦ \quad 50 + 7 = 57$

$③ \quad 30 + 2 = 32$

$⑧ \quad 80 + 3 = 83$

$④ \quad 60 + 9 = 69$

$⑨ \quad 30 + 1 = 31$

$⑤ \quad 90 + 4 = 94$

$⑩ \quad 20 + 5 = 25$





おおきいかず 12

● 30 と 5 をあわせた数



日にち： 月 日

名まえ _____

・たしざんをしましょう。

① $50 + 9 = 59$

⑥ $80 + 5 = 85$

② $60 + 7 = 67$

⑦ $60 + 8 = 68$

③ $40 + 3 = 43$

⑧ $90 + 4 = 94$

④ $70 + 1 = 71$

⑨ $40 + 2 = 42$

⑤ $30 + 5 = 35$

⑩ $80 + 6 = 86$





おおきいかず 12

● 30 と 5 をあわせた数

10

日にち： 月 日

名まえ _____

1 たしざんをしましょう。

① $50 + 5 = 55$

④ $60 + 1 = 61$

② $90 + 3 = 93$

⑤ $80 + 9 = 89$

③ $30 + 8 = 38$

⑥ $40 + 6 = 46$

2 □ にかずをかきましょう。

①



②





おおきいかず 12

● 30と5をあわせた数



日にち： 月 日

名まえ _____

1 たしざんをしましょう。

$① \quad 60 + 8 = 68$

$④ \quad 70 + 2 = 72$

$② \quad 30 + 4 = 34$

$⑤ \quad 90 + 1 = 91$

$③ \quad 40 + 9 = 49$

$⑥ \quad 50 + 7 = 57$

2 □ にかずをかきましょう。

①



②





おおきいかず 12

● 30 と 5 をあわせた数

12

日にち： 月 日

名まえ _____

1 たしざんをしましょう。

① $70 + 9 = 79$

④ $80 + 3 = 83$

② $40 + 5 = 45$

⑤ $30 + 2 = 32$

③ $50 + 1 = 51$

⑥ $60 + 8 = 68$

2 □ にかずをかきましょう。

①



②





おおきいかず 12

● 30 と 5 をあわせた数

13

日にち： 月 日

名まえ _____

1 たしざんをしましょう。

① $80 + 1 = 81$

④ $90 + 4 = 94$

② $50 + 6 = 56$

⑤ $40 + 3 = 43$

③ $60 + 2 = 62$

⑥ $70 + 9 = 79$

2 □ にかずをかきましょう。

①



②





おおきいかず 12

● 30 と 5 をあわせた数

14

日にち： 月 日

名まえ _____

1 たしざんをしましょう。

① $90 + 2 = 92$

④ $30 + 5 = 35$

② $60 + 7 = 67$

⑤ $50 + 4 = 54$

③ $40 + 3 = 43$

⑥ $80 + 6 = 86$

2 □ にかずをかきましょう。

①



②





おおきいかず 12

● 30 と 5 をあわせた数

15

めざせ90点!



てん

名まえ _____

1 たしざんをしましょう。(各10点)

① $50 + 6 = 56$

④ $60 + 2 = 62$

② $90 + 4 = 94$

⑤ $80 + 1 = 81$

③ $30 + 9 = 39$

⑥ $40 + 7 = 47$

2 □ にかずをかきましょう。(各10点)

①

— 118 — 119 — 120 — 121 — 122 —

②

— 105 — 106 — 107 — 108 — 109 —





おおきいかず 12

● 30 と 5 をあわせた数

16

めざせ90点!



名まえ _____

1 たしざんをしましょう。(各10点)

① $60 + 8 = 68$

④ $70 + 5 = 75$

② $30 + 7 = 37$

⑤ $90 + 9 = 99$

③ $40 + 1 = 41$

⑥ $50 + 3 = 53$

2 □ にかずをかきましょう。(各10点)

①



②

