



# おおきいかず 14

十のたばのたしざん

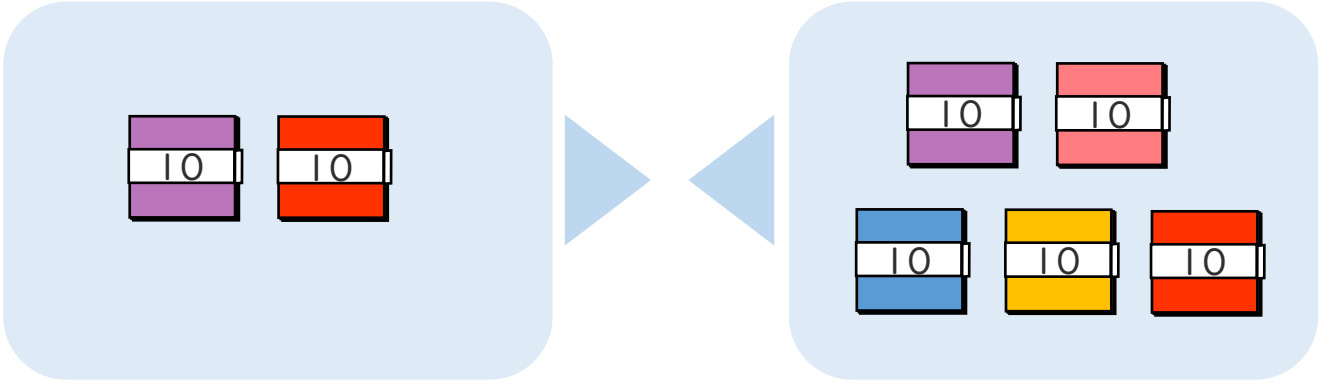


日にち：            月            日

名まえ \_\_\_\_\_

・ □ にかずをかきましょう。(うすいじはなぞりましょう。)

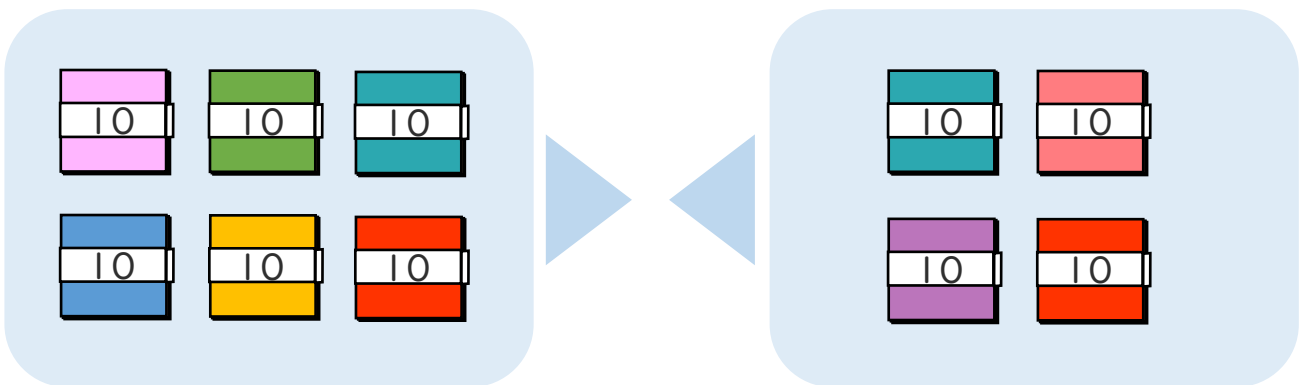
① 20+50の こたえはいくつですか。



10のたばが  +  =  で  こだから

$$20 + 50 = \boxed{70}$$

② 60+40の こたえはいくつですか。



10のたばが  +  =  で  こだから

$$60 + 40 = \boxed{100}$$





# おおきいかず 14

十のたばのたしざん

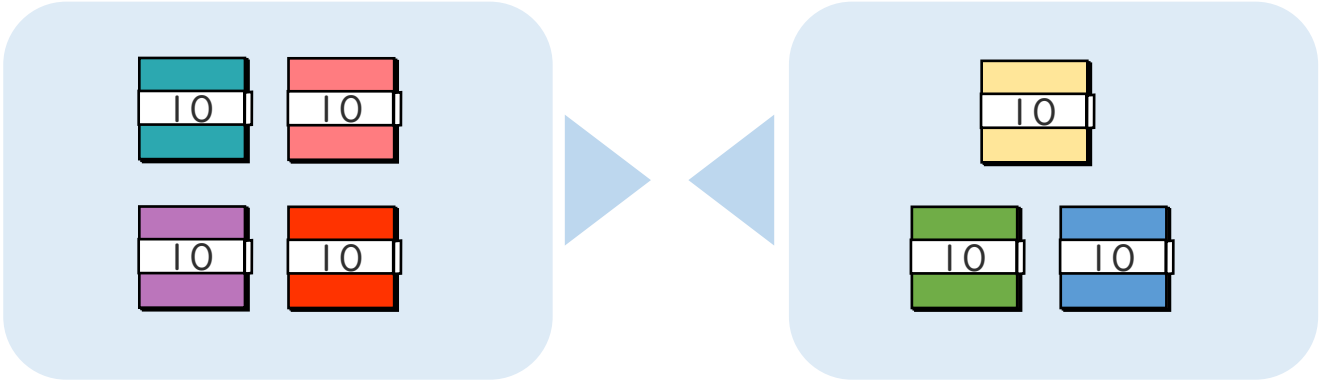


日にち： 月 日

名まえ \_\_\_\_\_

・ □ にかずをかきましょう。(うすいじはなぞりましょう。)

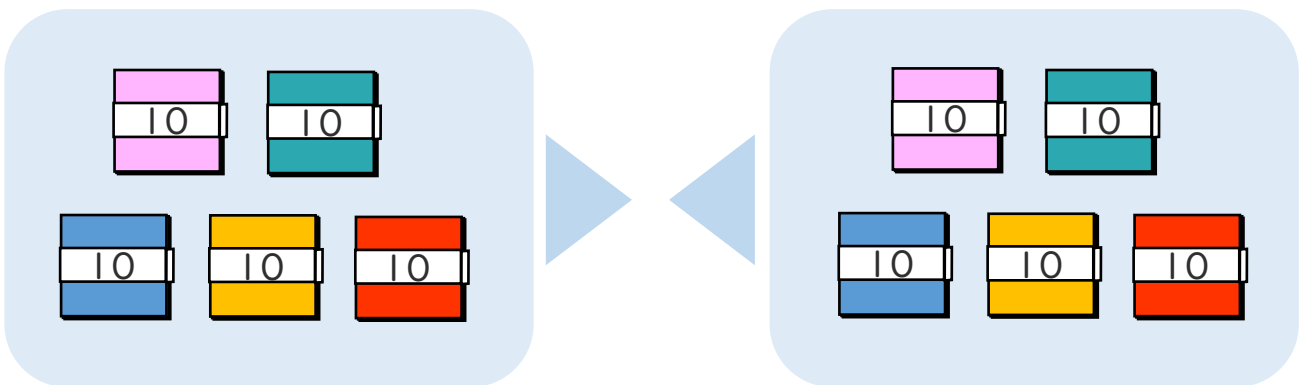
① 40+30の こたえはいくつですか。



10のたばが  $4 + 3 = \square$  で  $\square$  こだから

$$40 + 30 = \square$$

② 50+50の こたえはいくつですか。



10のたばが  $5 + 5 = \square$  で  $\square$  こだから

$$50 + 50 = \square$$





# おおきいかず 14

十のたばのたしざん

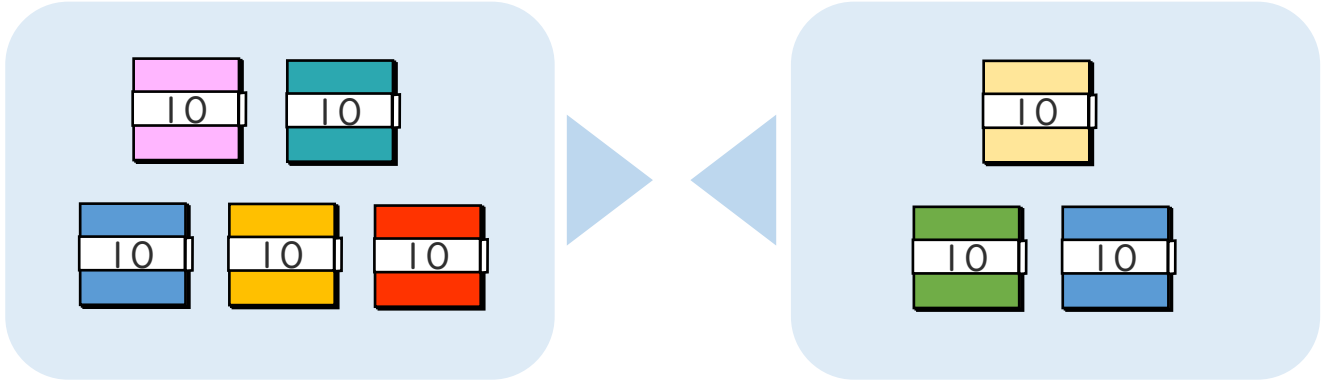


日にち： 月 日

名まえ \_\_\_\_\_

・ □ にかずをかきましょう。(うすいじはなぞりましょう。)

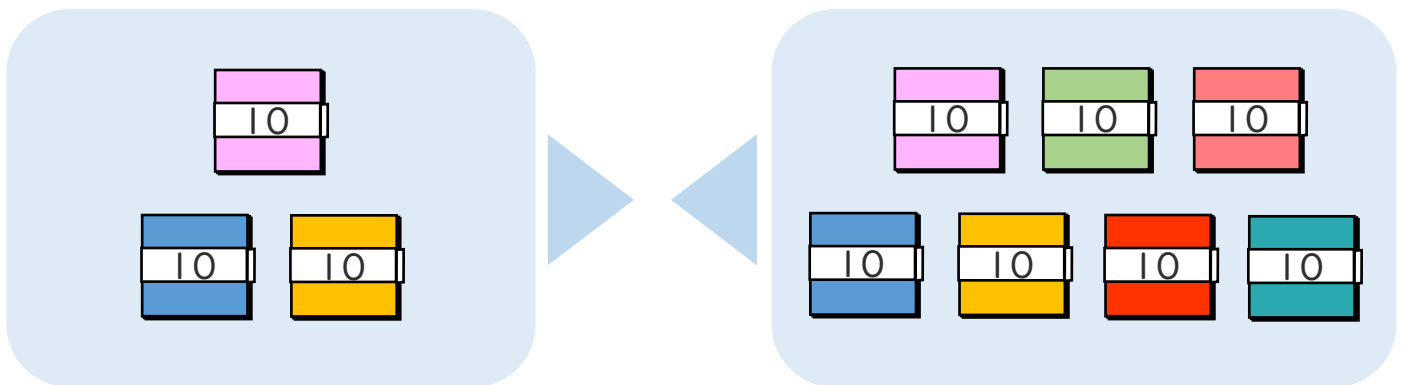
① 50+30の こたえはいくつですか。



10のたばが  $5 + 3 = \square$  で  $\square$  こだから

$$50 + 30 = \square$$

② 30+70の こたえはいくつですか。



10のたばが  $3 + \square = \square$  で  $\square$  こだから

$$30 + 70 = \square$$





おおきいかず 14

十のたばのたしざん

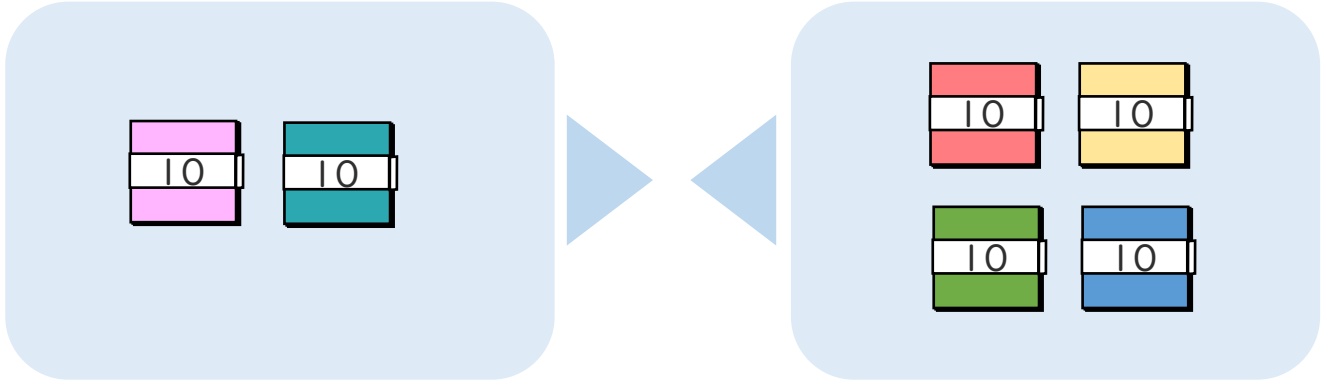


日にち： 月 日

名まえ \_\_\_\_\_

・ □ にかずをかきましょう。(うすいじはなぞりましょう。)

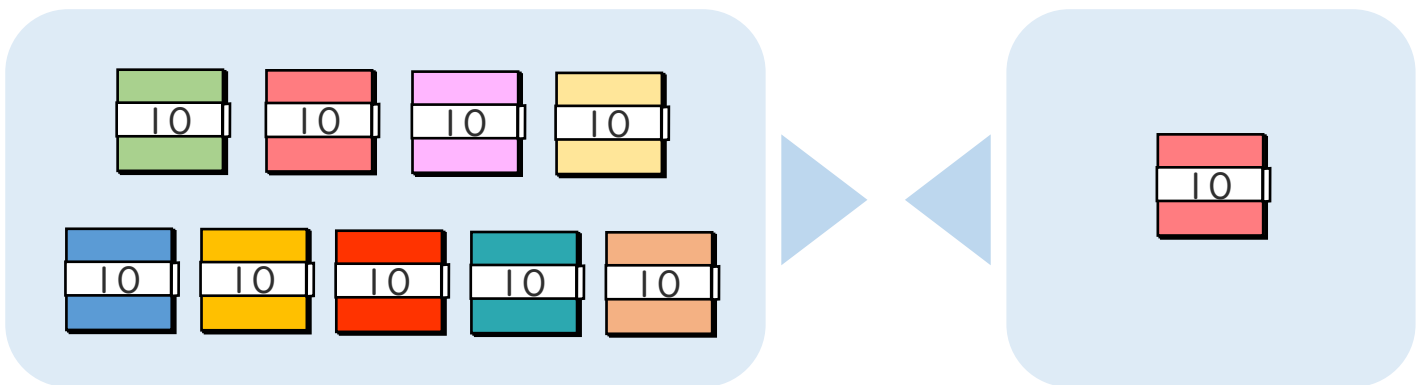
①  $20 + 40$  の こたえは いくつですか。



10のたばが  $2 + \square = \square$  で  $\square$  こだから

$$20 + 40 = \square$$

②  $90 + 10$  の こたえは いくつですか。



10のたばが  $9 + \square = \square$  で  $\square$  こだから

$$90 + 10 = \square$$





おおきいかず 14

● 十のたばのたしざん



日にち：            月            日

名まえ \_\_\_\_\_

・ たしざんを しまししょう。(うすいじはなぞりましよう。)

①  $20 + 40 = 60$

②  $80 + 20 = 100$

③  $30 + 50 =$

④  $60 + 30 =$

⑤  $10 + 40 =$

⑥  $50 + 20 =$



おおきいかず 14

● 十のたばのたしざん



日にち：          月          日

名まえ \_\_\_\_\_

・ たしざんを しましょう。(うすいじはなぞりましょう。)

①  $30 + 40 =$

②  $40 + 60 =$

③  $10 + 50 =$

④  $20 + 30 =$

⑤  $50 + 30 =$

⑥  $40 + 50 =$



おおきいかず 14

● 十のたばのたしざん



日にち：          月          日

名まえ \_\_\_\_\_

・ たしざんを しましう。

①  $40 + 40 =$

②  $90 + 10 =$

③  $20 + 30 =$

④  $50 + 20 =$

⑤  $30 + 60 =$

⑥  $10 + 70 =$



おおきいかず 14

● 十のたばのたしざん



日にち：            月            日

名まえ \_\_\_\_\_

・ たしざんを しましう。

①  $70 + 20 =$

②  $50 + 50 =$

③  $30 + 30 =$

④  $30 + 50 =$

⑤  $10 + 40 =$

⑥  $40 + 30 =$





おおきいかず 14

● 十のたばのたしざん



日にち：            月            日

名まえ \_\_\_\_\_

・ たしざんを しましう。

①  $50 + 10 =$

②  $60 + 30 =$

③  $50 + 20 =$

④  $30 + 20 =$

⑤  $10 + 90 =$

⑥  $40 + 40 =$





おおきいかず 14

● 十のたばのたしざん



日にち： 月 日

名まえ \_\_\_\_\_

・ たしざんを しましう。

①  $30 + 60 =$

②  $90 + 10 =$

③  $26 + 3 =$

④  $20 + 30 =$

⑤  $34 + 3 =$

⑥  $40 + 40 =$



# おおきいかず 14

● 十のたばのたしざん



日にち：            月            日

名まえ \_\_\_\_\_

・ たしざんを しましう。

①  $50 + 40 =$

②  $30 + 70 =$

③  $37 + 1 =$

④  $40 + 10 =$

⑤  $45 + 3 =$

⑥  $60 + 20 =$



おおきいかず 14

● 十のたばのたしざん

12

日にち：            月            日

名まえ \_\_\_\_\_

・ たしざんを しましう。

①  $40 + 40 =$

②  $50 + 10 =$

③  $42 + 2 =$

④  $60 + 40 =$

⑤  $51 + 5 =$

⑥  $50 + 40 =$



おおきいかず 14

● 十のたばのたしざん

13

日にち：            月            日

名まえ \_\_\_\_\_

・ たしざんを しましう。

①  $60 + 30 =$

②  $20 + 50 =$

③  $53 + 6 =$

④  $10 + 90 =$

⑤  $62 + 1 =$

⑥  $30 + 50 =$





おおきいかず 14

● 十のたばのたしざん



日にち：            月            日

名まえ \_\_\_\_\_

・ たしざんを しましう。

①  $60 + 10 =$

②  $30 + 30 =$

③  $64 + 2 =$

④  $50 + 30 =$

⑤  $73 + 4 =$

⑥  $80 + 20 =$



おおきいかず 14

● 十のたばのたしざん

15

めざせ80点!



名まえ \_\_\_\_\_

・ たしざんを しましょう。(各20点)

①  $20 + 80 =$

②  $70 + 20 =$

③  $63 + 5 =$

④  $40 + 30 =$

⑤  $52 + 6 =$



おおきいかず 14

● 十のたばのたしざん

16

めざせ80点!



名まえ \_\_\_\_\_

・ たしざんを しましょう。(各20点)

①  $40 + 20 =$

②  $60 + 40 =$

③  $74 + 1 =$

④  $30 + 60 =$

⑤  $32 + 7 =$





# おおきいかず 14

十のたばのたしざん

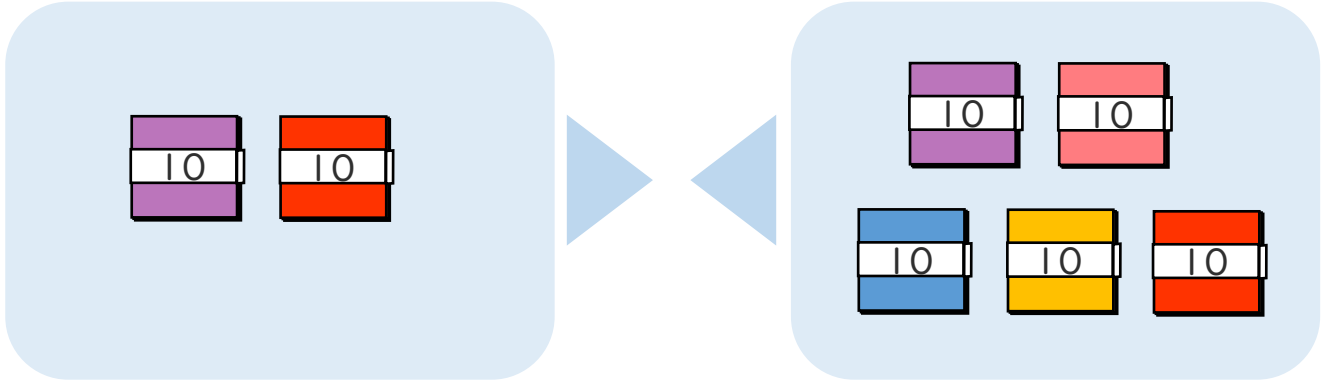


日にち：            月            日

名まえ \_\_\_\_\_

・ □ にかずをかきましょう。(うすいじはなぞりましょう。)

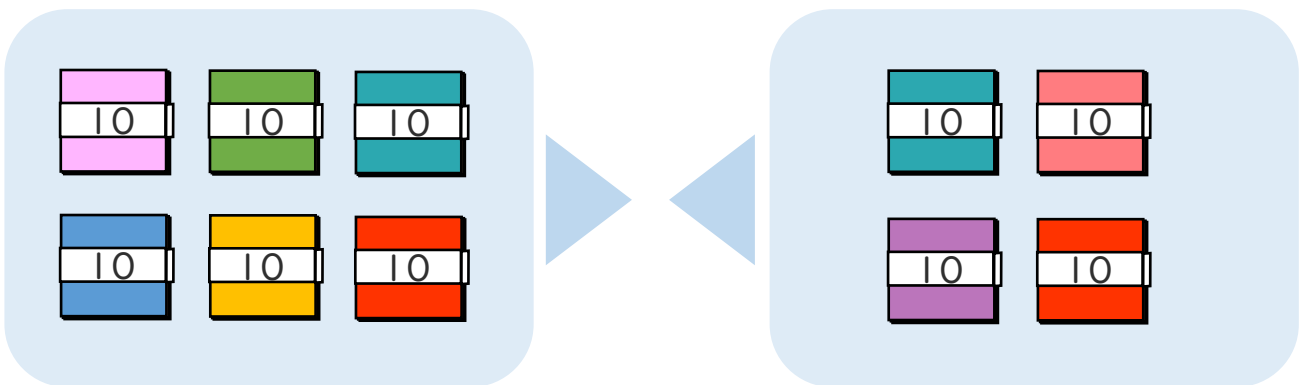
① 20+50の こたえはいくつですか。



10のたばが  $2 + 5 = 7$  で  $7$  こだから

$$20 + 50 = 70$$

② 60+40の こたえはいくつですか。



10のたばが  $6 + 4 = 10$  で  $10$  こだから

$$60 + 40 = 100$$





おおきいかず 14

十のたばのたしざん

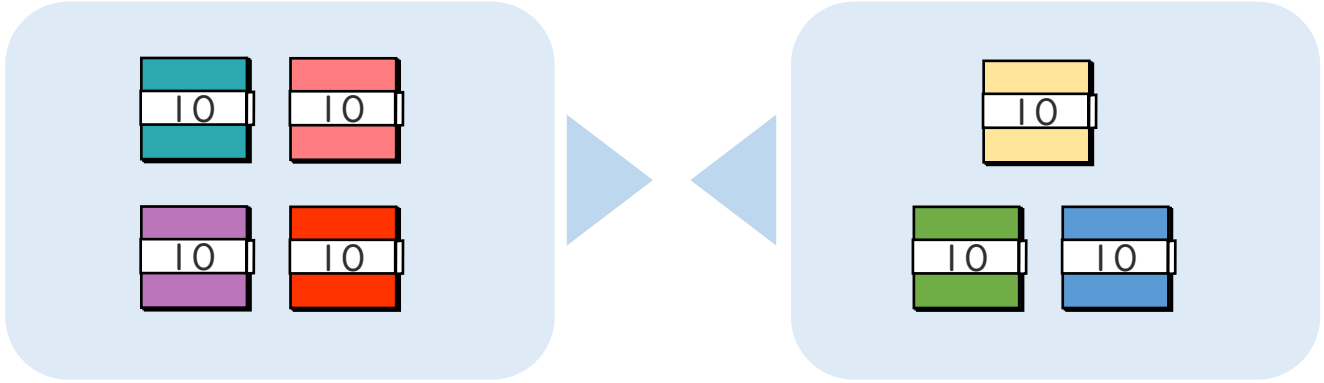


日にち： 月 日

名まえ \_\_\_\_\_

・ □ にかずをかきましょう。(うすいじはなぞりましょう。)

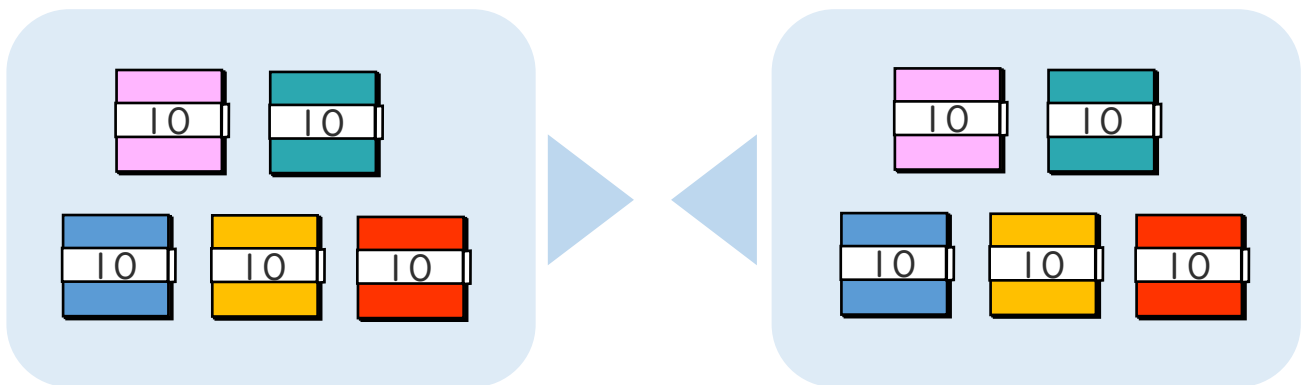
①  $40 + 30$ の こたえはいくつですか。



10のたばが  $4 + 3 = 7$  で  $7$  こだから

$$40 + 30 = 70$$

②  $50 + 50$ の こたえはいくつですか。



10のたばが  $5 + 5 = 10$  で  $10$  こだから

$$50 + 50 = 100$$





おおきいかず 14

十のたばのたしざん

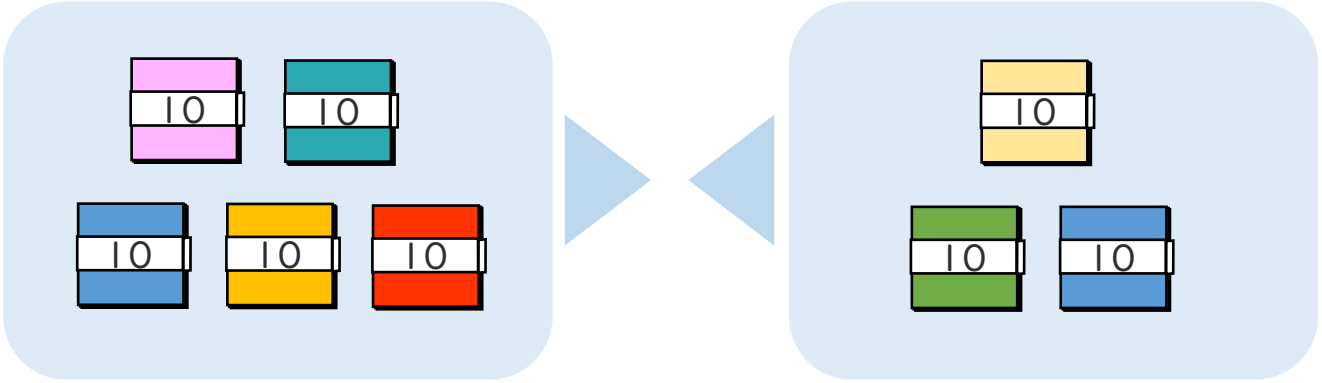


日にち： 月 日

名まえ \_\_\_\_\_

・ □ にかずをかきましょう。(うすいじはなぞりましょう。)

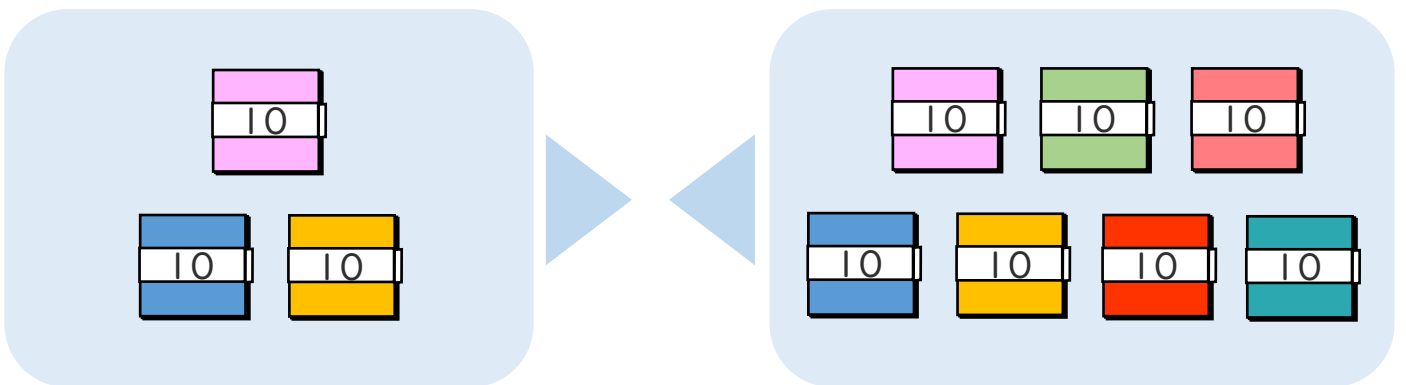
①  $50 + 30$ の こたえは いくつですか。



10のたばが  $5 + 3 = 8$  で  $8$  こだから

$$50 + 30 = 80$$

②  $30 + 70$ の こたえは いくつですか。



10のたばが  $3 + 7 = 10$  で  $10$  こだから

$$30 + 70 = 100$$





おおきいかず 14

十のたばのたしざん

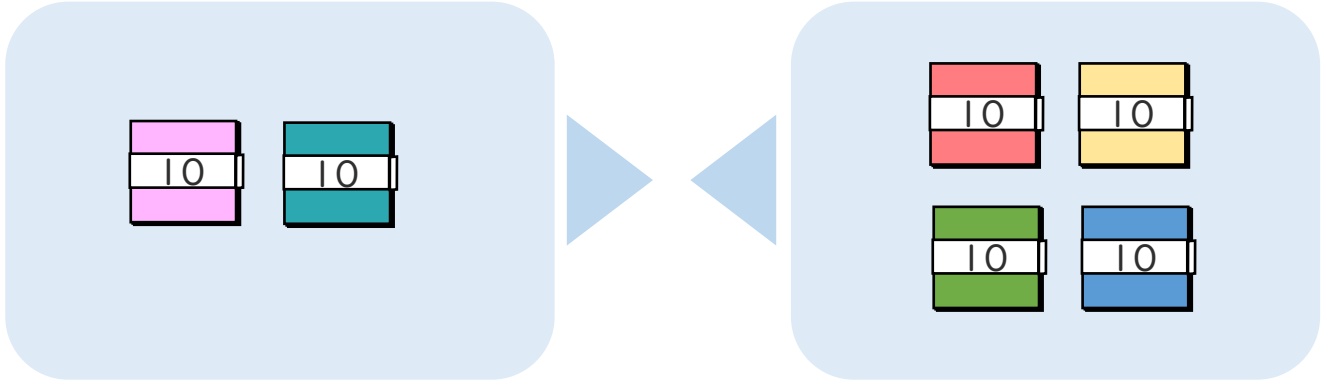


日にち： 月 日

名まえ \_\_\_\_\_

・ □ にかずをかきましょう。(うすいじはなぞりましょう。)

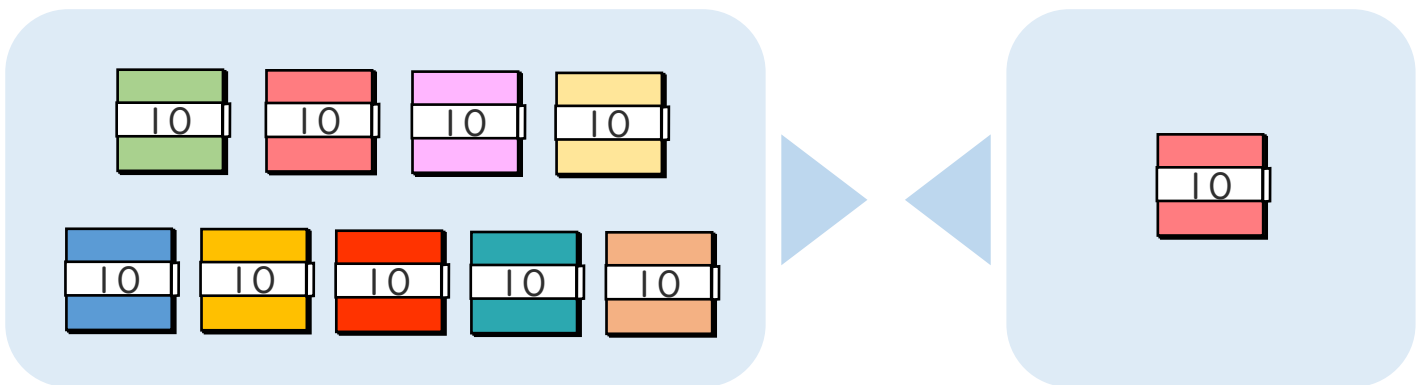
①  $20 + 40$ の こたえは いくつですか。



10のたばが  $2 + 4 = 6$  で  $6$  こだから

$$20 + 40 = 60$$

②  $90 + 10$ の こたえは いくつですか。



10のたばが  $9 + 1 = 10$  で  $10$  こだから

$$90 + 10 = 100$$





おおきいかず 14

● 十のたばのたしざん



日にち：          月          日

名まえ \_\_\_\_\_

・ たしざんを しまししょう。(うすいじはなぞりましよう。)

$$\textcircled{1} \quad 20 + 40 = 60$$

$$\textcircled{2} \quad 80 + 20 = 100$$

$$\textcircled{3} \quad 30 + 50 = 80$$

$$\textcircled{4} \quad 60 + 30 = 90$$

$$\textcircled{5} \quad 10 + 40 = 50$$

$$\textcircled{6} \quad 50 + 20 = 70$$





おおきいかず 14

● 十のたばのたしざん



日にち：            月            日

名まえ \_\_\_\_\_

・ たしざんを しましょう。(うすいじはなぞりましょう。)

$$\textcircled{1} \quad 30 + 40 = 70$$

$$\textcircled{2} \quad 40 + 60 = 100$$

$$\textcircled{3} \quad 10 + 50 = 60$$

$$\textcircled{4} \quad 20 + 30 = 50$$

$$\textcircled{5} \quad 50 + 30 = 80$$

$$\textcircled{6} \quad 40 + 50 = 90$$





おおきいかず 14

● 十のたばのたしざん



日にち：          月          日

名まえ \_\_\_\_\_

・ たしざんを しましう。

$$\textcircled{1} \quad 40 + 40 = 80$$

$$\textcircled{2} \quad 90 + 10 = 100$$

$$\textcircled{3} \quad 20 + 30 = 50$$

$$\textcircled{4} \quad 50 + 20 = 70$$

$$\textcircled{5} \quad 30 + 60 = 90$$

$$\textcircled{6} \quad 10 + 70 = 80$$



おおきいかず 14

● 十のたばのたしざん



日にち：            月            日

名まえ \_\_\_\_\_

・ たしざんを しましう。

$$\textcircled{1} \quad 70 + 20 = 90$$

$$\textcircled{2} \quad 50 + 50 = 100$$

$$\textcircled{3} \quad 30 + 30 = 60$$

$$\textcircled{4} \quad 30 + 50 = 80$$

$$\textcircled{5} \quad 10 + 40 = 50$$

$$\textcircled{6} \quad 40 + 30 = 70$$







おおきいかず 14

● 十のたばのたしざん



日にち：            月            日

名まえ \_\_\_\_\_

・ たしざんを しましう。

$$\textcircled{1} \quad 50 + 10 = 60$$

$$\textcircled{2} \quad 60 + 30 = 90$$

$$\textcircled{3} \quad 50 + 20 = 70$$

$$\textcircled{4} \quad 30 + 20 = 50$$

$$\textcircled{5} \quad 10 + 90 = 100$$

$$\textcircled{6} \quad 40 + 40 = 80$$





おおきいかず 14

● 十のたばのたしざん

10

日にち： 月 日

名まえ \_\_\_\_\_

・ たしざんを しましう。

$$\textcircled{1} \quad 30 + 60 = 90$$

$$\textcircled{2} \quad 90 + 10 = 100$$

$$\textcircled{3} \quad 26 + 3 = 29$$

$$\textcircled{4} \quad 20 + 30 = 50$$

$$\textcircled{5} \quad 34 + 3 = 37$$

$$\textcircled{6} \quad 40 + 40 = 80$$



おおきいかず 14

● 十のたばのたしざん



日にち：            月            日

名まえ \_\_\_\_\_

・ たしざんを しましう。

$$\textcircled{1} \quad 50 + 40 = 90$$

$$\textcircled{2} \quad 30 + 70 = 100$$

$$\textcircled{3} \quad 37 + 1 = 38$$

$$\textcircled{4} \quad 40 + 10 = 50$$

$$\textcircled{5} \quad 45 + 3 = 48$$

$$\textcircled{6} \quad 60 + 20 = 80$$





おおきいかず 14

● 十のたばのたしざん

12

日にち：            月            日

名まえ \_\_\_\_\_

・ たしざんを しましう。

$$\textcircled{1} \quad 40 + 40 = 80$$

$$\textcircled{2} \quad 50 + 10 = 60$$

$$\textcircled{3} \quad 42 + 2 = 44$$

$$\textcircled{4} \quad 60 + 40 = 100$$

$$\textcircled{5} \quad 51 + 5 = 56$$

$$\textcircled{6} \quad 50 + 40 = 90$$



おおきいかず 14

● 十のたばのたしざん

13

日にち：            月            日

名まえ \_\_\_\_\_

・ たしざんを しましう。

$$\textcircled{1} \quad 60 + 30 = 90$$

$$\textcircled{2} \quad 20 + 50 = 70$$

$$\textcircled{3} \quad 53 + 6 = 59$$

$$\textcircled{4} \quad 10 + 90 = 100$$

$$\textcircled{5} \quad 62 + 1 = 63$$

$$\textcircled{6} \quad 30 + 50 = 80$$





おおきいかず 14

● 十のたばのたしざん



日にち：            月            日

名まえ \_\_\_\_\_

・ たしざんを しましう。

$$\textcircled{1} \quad 60 + 10 = 70$$

$$\textcircled{2} \quad 30 + 30 = 60$$

$$\textcircled{3} \quad 64 + 2 = 66$$

$$\textcircled{4} \quad 50 + 30 = 80$$

$$\textcircled{5} \quad 73 + 4 = 77$$

$$\textcircled{6} \quad 80 + 20 = 100$$



おおきいかず 14

● 十のたばのたしざん

15

めざせ80点!



名まえ \_\_\_\_\_

・ たしざんを しましょう。(各20点)

$$\textcircled{1} \quad 20 + 80 = 100$$

$$\textcircled{2} \quad 70 + 20 = 90$$

$$\textcircled{3} \quad 63 + 5 = 68$$

$$\textcircled{4} \quad 40 + 30 = 70$$

$$\textcircled{5} \quad 52 + 6 = 58$$






おおきいかず 14

● 十のたばのたしざん

16

めざせ80点!



名まえ \_\_\_\_\_

・ たしざんを しましょう。(各20点)

$$\textcircled{1} \quad 40 + 20 = 60$$

$$\textcircled{2} \quad 60 + 40 = 100$$

$$\textcircled{3} \quad 74 + 1 = 75$$

$$\textcircled{4} \quad 30 + 60 = 90$$

$$\textcircled{5} \quad 32 + 7 = 39$$

