



おおきいかず 15

◎ 33 から 3 をひいた数

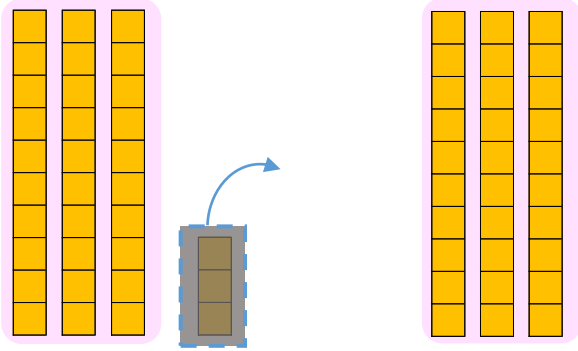


日にち： 月 日

名まえ _____

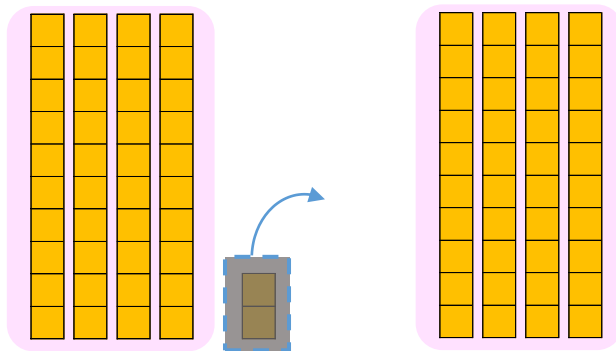
- にかずをかきましょう。(うすいじはなぞりましょう。)

① 33から 3を ひいた かずは です。



しき： 33 - 3 =

② 42から 2を ひいた かずは です。



しき： 42 - 2 =





おおきいかず 15

◎ 33 から 3 をひいた数

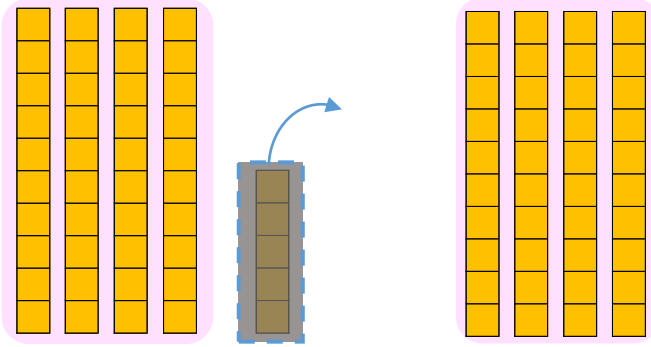


日にち： 月 日

名まえ _____

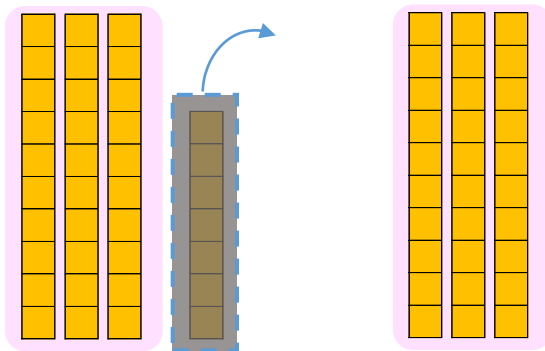
- にかずをかきましょう。(うすいじはなぞりましょう。)

① 45から5をひいたかずは です。



しき： $45 - 5 =$

② 37から7をひいたかずは です。



しき： $37 - 7 =$





おおきいかず 15

◎ 33 から 3 をひいた数

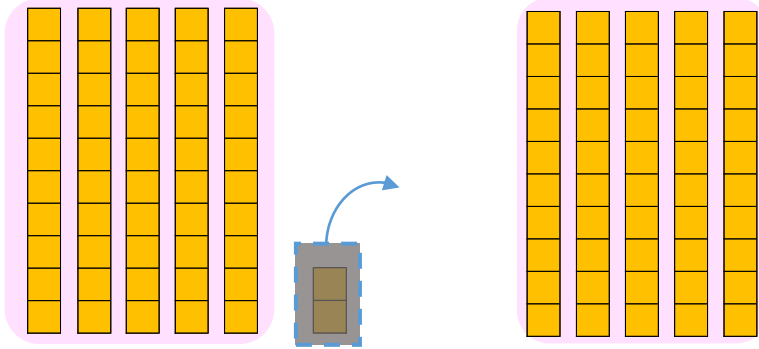


日にち： 月 日

名まえ _____

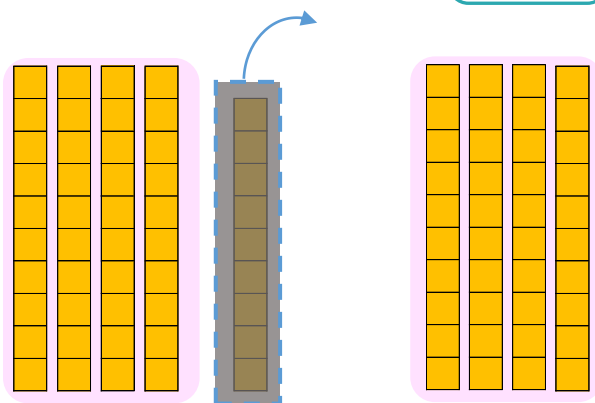
- にかずをかきましょう。(うすいじはなぞりましょう。)

① 52から2をひいたかずは です。



$$\text{しき} : 52 - 2 = \square$$

② 49から9をひいたかずは です。



$$\text{しき} : 49 - 9 = \square$$





おおきいかず 15

◎ 33 から 3 をひいた数

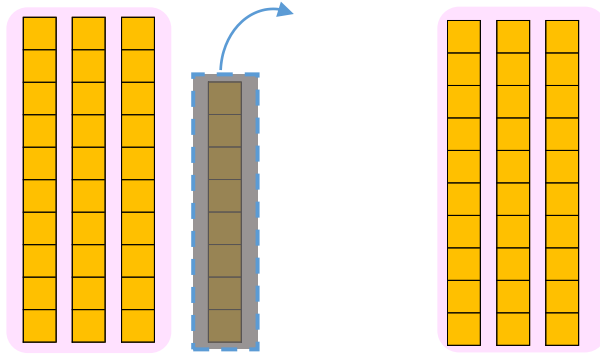


日にち： 月 日

名まえ _____

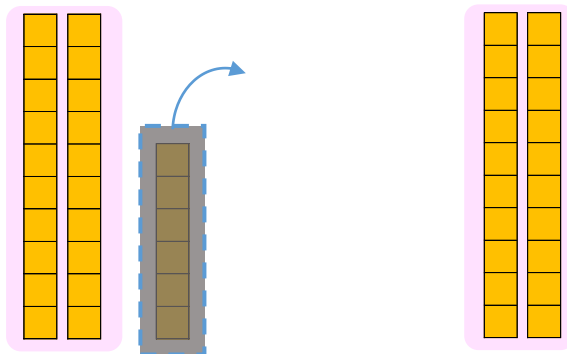
- にかずをかきましょう。(うすいじはなぞりましょう。)

① 38から8をひいたかずは です。



しき： $38 - 8 =$

② 26から6をひいたかずは です。



しき： $26 - 6 =$





おおきいかず 15

◎ 33 から 3 をひいた数



日にち： 月 日

名まえ _____

・ひきざんをしましょう。(うすいじはなぞりましょう。)

① $85 - 5 = 80$

⑥ $46 - 6 =$

② $29 - 9 = 20$

⑦ $51 - 1 =$

③ $73 - 3 =$

⑧ $97 - 7 =$

④ $38 - 8 =$

⑨ $84 - 4 =$

⑤ $62 - 2 =$

⑩ $25 - 5 =$



おおきいかず 15

◎ 33 から 3 をひいた数



日にち： 月 日

名まえ _____

・ひきざんをしましょう。(うすいじはなぞりましょう。)

① $96 - 6 =$

⑥ $57 - 7 =$

② $32 - 2 =$

⑦ $62 - 2 =$

③ $84 - 4 =$

⑧ $28 - 8 =$

④ $49 - 9 =$

⑨ $95 - 5 =$

⑤ $73 - 3 =$

⑩ $36 - 6 =$



おおきいかず 15

◎ 33 から 3 をひいた数



日にち： 月 日

名まえ _____

・ひきざんをしましょう。

① $27 - 7 =$

⑥ $68 - 8 =$

② $43 - 3 =$

⑦ $73 - 3 =$

③ $95 - 5 =$

⑧ $39 - 9 =$

④ $51 - 1 =$

⑨ $26 - 6 =$

⑤ $84 - 4 =$

⑩ $42 - 2 =$



おおきいかず 15

◎ 33 から 3 をひいた数



日にち： 月 日

名まえ _____

・ひきざんをしましょう。

① $38 - 8 = \square$

⑥ $79 - 9 = \square$

② $54 - 4 = \square$

⑦ $84 - 4 = \square$

③ $26 - 6 = \square$

⑧ $41 - 1 = \square$

④ $62 - 2 = \square$

⑨ $37 - 7 = \square$

⑤ $95 - 5 = \square$

⑩ $53 - 3 = \square$



おおきいかず 15

◎ 33 から 3 をひいた数



日にち： 月 日

名まえ _____

・ひきざんをしましょう。

① $49 - 9 =$

⑥ $81 - 1 =$

② $65 - 5 =$

⑦ $96 - 6 =$

③ $37 - 7 =$

⑧ $52 - 2 =$

④ $73 - 3 =$

⑨ $48 - 8 =$

⑤ $26 - 6 =$

⑩ $64 - 4 =$



おおきいかず 15

◎ 33 から 3 をひいた数



日にち： 月 日

名まえ _____

・ つぎの けいさん を しましょう。

① $55 - 5 = \square$

⑥ $20 + 6 = \square$

② $49 - 9 = \square$

⑦ $81 - 1 = \square$

③ $60 + 3 = \square$

⑧ $57 - 7 = \square$

④ $38 - 8 = \square$

⑨ $90 + 4 = \square$

⑤ $70 + 2 = \square$

⑩ $46 - 6 = \square$



おおきいかず 15

◎ 33 から 3 をひいた数



日にち： 月 日

名まえ _____

・ つぎの けいさん を しましょう。

① $65 - 5 =$

⑥ $60 + 7 =$

② $51 - 1 =$

⑦ $92 - 2 =$

③ $70 + 4 =$

⑧ $78 - 8 =$

④ $49 - 9 =$

⑨ $30 + 5 =$

⑤ $80 + 3 =$

⑩ $87 - 7 =$





おおきいかず 15

◎ 33 から 3 をひいた数



日にち： 月 日

名まえ _____

・ つぎの けいさん を しましょう。

① $76 - 6 =$

⑥ $40 + 8 =$

② $92 - 2 =$

⑦ $63 - 3 =$

③ $80 + 5 =$

⑧ $89 - 9 =$

④ $51 - 1 =$

⑨ $40 + 6 =$

⑤ $90 + 4 =$

⑩ $48 - 8 =$



おおきいかず 15

◎ 33 から 3 をひいた数

13

日にち： 月 日

名まえ _____

・ つぎの けいさん を しましょう。

① $87 - 7 = \square$

⑥ $50 + 9 = \square$

② $33 - 3 = \square$

⑦ $74 - 4 = \square$

③ $90 + 6 = \square$

⑧ $91 - 1 = \square$

④ $42 - 2 = \square$

⑨ $50 + 7 = \square$

⑤ $30 + 5 = \square$

⑩ $59 - 9 = \square$





おおきいかず 15

◎ 33 から 3 をひいた数

14

日にち： 月 日

名まえ _____

・ つぎの けいさん を しましょう。

① $98 - 8 =$

⑥ $60 + 1 =$

② $43 - 3 =$

⑦ $85 - 5 =$

③ $30 + 7 =$

⑧ $22 - 2 =$

④ $54 - 4 =$

⑨ $60 + 8 =$

⑤ $40 + 6 =$

⑩ $79 - 9 =$



おおきいかず 15

◎ 33 から 3 をひいた数

15

めざせ90点!



てん

名まえ _____

・ つぎの けいさん を しましう。(各10点)

① $26 - 6 =$

⑥ $70 + 8 =$

② $91 - 1 =$

⑦ $53 - 3 =$

③ $30 + 4 =$

⑧ $65 - 5 =$

④ $89 - 9 =$

⑨ $20 + 7 =$

⑤ $40 + 3 =$

⑩ $92 - 2 =$





おおきいかず 15

◎ 33 から 3 をひいた数

16

めざせ90点!



名まえ _____

・ つぎの けいさん を しましう。(各10点)

① $37 - 7 =$

⑥ $80 + 9 =$

② $82 - 2 =$

⑦ $64 - 4 =$

③ $40 + 5 =$

⑧ $76 - 6 =$

④ $91 - 1 =$

⑨ $30 + 8 =$

⑤ $50 + 5 =$

⑩ $23 - 3 =$



おおきいかず 15

◎ 33 から 3 をひいた数

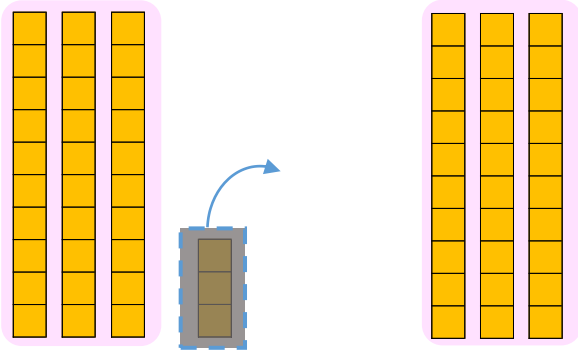


日にち： 月 日

名まえ _____

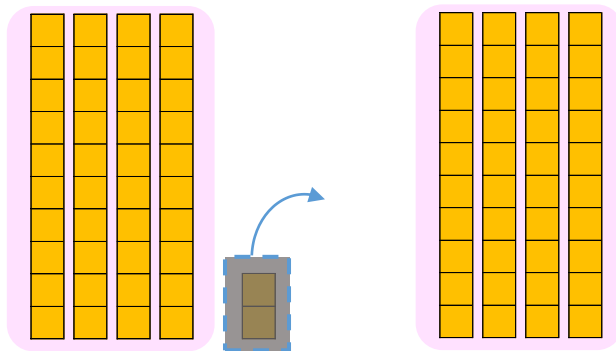
- にかずをかきましょう。(うすいじはなぞりましょう。)

① 33から3をひいたかずは **30** です。



$$\text{しき} : 33 - 3 = \mathbf{30}$$

② 42から2をひいたかずは **40** です。



$$\text{しき} : 42 - 2 = \mathbf{40}$$





おおきいかず 15

◎ 33 から 3 をひいた数

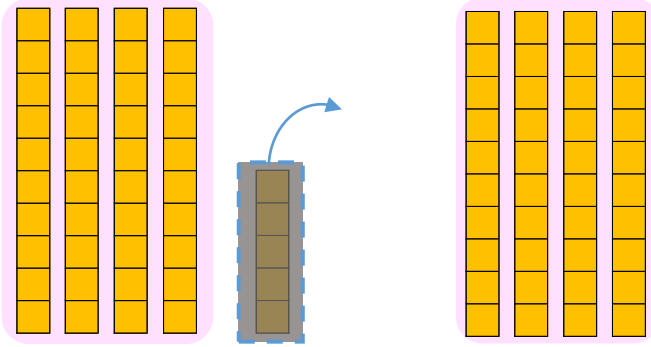


日にち： 月 日

名まえ _____

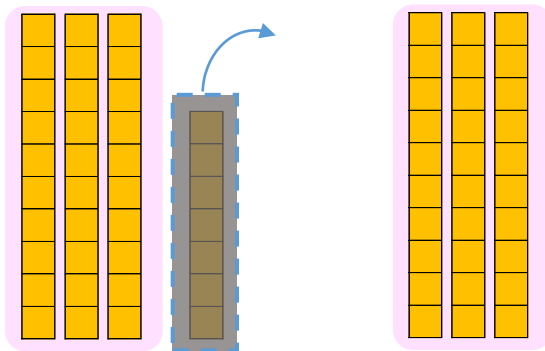
- にかずをかきましょう。(うすいじはなぞりましょう。)

① 45から5をひいたかずは **40** です。



$$\text{しき} : 45 - 5 = \mathbf{40}$$

② 37から7をひいたかずは **30** です。



$$\text{しき} : 37 - 7 = \mathbf{30}$$





おおきいかず 15

◎ 33 から 3 をひいた数

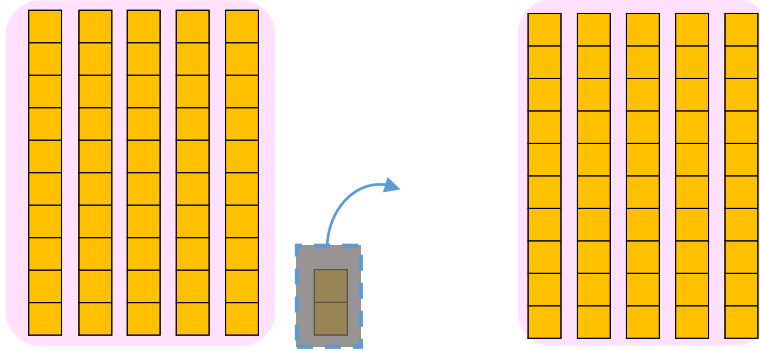


日にち： 月 日

名まえ _____

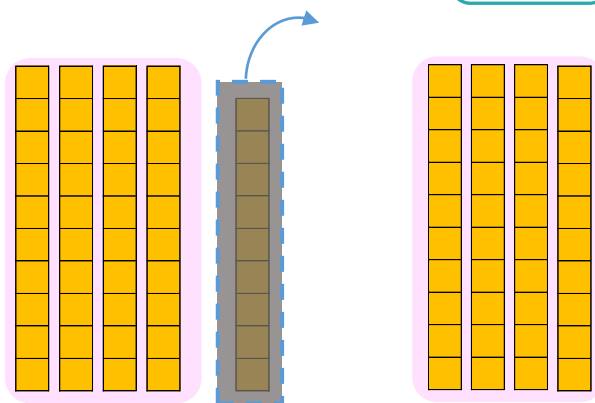
- にかずをかきましょう。(うすいじはなぞりましょう。)

① 52から2をひいたかずは **50** です。



$$\text{しき} : 52 - 2 = \mathbf{50}$$

② 49から9をひいたかずは **40** です。



$$\text{しき} : 49 - 9 = \mathbf{40}$$





おおきいかず 15

◎ 33 から 3 をひいた数

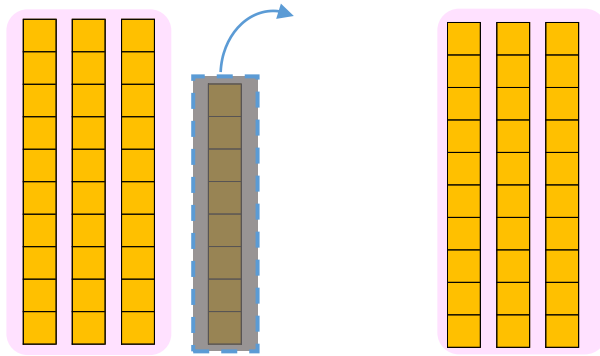
4

日にち： 月 日

名まえ _____

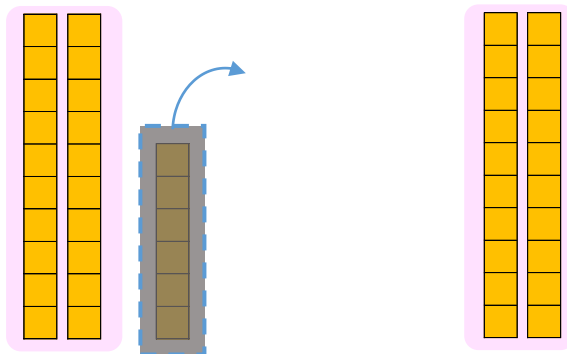
- にかずをかきましょう。(うすいじはなぞりましょう。)

① 38から8をひいたかずは **30** です。



$$\text{しき} : 38 - 8 = \mathbf{30}$$

② 26から6をひいたかずは **20** です。



$$\text{しき} : 26 - 6 = \mathbf{20}$$





おおきいかず 15

◎ 33 から 3 をひいた数



日にち： 月 日

名まえ _____

・ひきざんをしましょう。(うすいじはなぞりましょう。)

$① \quad 85 - 5 = 80$

$⑥ \quad 46 - 6 = 40$

$② \quad 29 - 9 = 20$

$⑦ \quad 51 - 1 = 50$

$③ \quad 73 - 3 = 70$

$⑧ \quad 97 - 7 = 90$

$④ \quad 38 - 8 = 30$

$⑨ \quad 84 - 4 = 80$

$⑤ \quad 62 - 2 = 60$

$⑩ \quad 25 - 5 = 20$



おおきいかず 15

◎ 33 から 3 をひいた数



日にち： 月 日

名まえ _____

・ひきざんをしましょう。(うすいじはなぞりましょう。)

$$\textcircled{1} \quad 96 - 6 = 90$$

$$\textcircled{6} \quad 57 - 7 = 50$$

$$\textcircled{2} \quad 32 - 2 = 30$$

$$\textcircled{7} \quad 62 - 2 = 60$$

$$\textcircled{3} \quad 84 - 4 = 80$$

$$\textcircled{8} \quad 28 - 8 = 20$$

$$\textcircled{4} \quad 49 - 9 = 40$$

$$\textcircled{9} \quad 95 - 5 = 90$$

$$\textcircled{5} \quad 73 - 3 = 70$$

$$\textcircled{10} \quad 36 - 6 = 30$$





おおきいかず 15

◎ 33 から 3 をひいた数



日にち： 月 日

名まえ _____

・ひきざんをしましょう。

$$\textcircled{1} \quad 27 - 7 = 20$$

$$\textcircled{6} \quad 68 - 8 = 60$$

$$\textcircled{2} \quad 43 - 3 = 40$$

$$\textcircled{7} \quad 73 - 3 = 70$$

$$\textcircled{3} \quad 95 - 5 = 90$$

$$\textcircled{8} \quad 39 - 9 = 30$$

$$\textcircled{4} \quad 51 - 1 = 50$$

$$\textcircled{9} \quad 26 - 6 = 20$$

$$\textcircled{5} \quad 84 - 4 = 80$$

$$\textcircled{10} \quad 42 - 2 = 40$$





おおきいかず 15

◎ 33 から 3 をひいた数



日にち： 月 日

名まえ _____

・ひきざんをしましょう。

$$\textcircled{1} \quad 38 - 8 = 30$$

$$\textcircled{6} \quad 79 - 9 = 70$$

$$\textcircled{2} \quad 54 - 4 = 50$$

$$\textcircled{7} \quad 84 - 4 = 80$$

$$\textcircled{3} \quad 26 - 6 = 20$$

$$\textcircled{8} \quad 41 - 1 = 40$$

$$\textcircled{4} \quad 62 - 2 = 60$$

$$\textcircled{9} \quad 37 - 7 = 30$$

$$\textcircled{5} \quad 95 - 5 = 90$$

$$\textcircled{10} \quad 53 - 3 = 50$$



おおきいかず 15

◎ 33 から 3 をひいた数



日にち： 月 日

名まえ _____

・ひきざんをしましょう。

$① \quad 49 - 9 = 40$

$⑥ \quad 81 - 1 = 80$

$② \quad 65 - 5 = 60$

$⑦ \quad 96 - 6 = 90$

$③ \quad 37 - 7 = 30$

$⑧ \quad 52 - 2 = 50$

$④ \quad 73 - 3 = 70$

$⑨ \quad 48 - 8 = 40$

$⑤ \quad 26 - 6 = 20$

$⑩ \quad 64 - 4 = 60$





おおきいかず 15

◎ 33 から 3 をひいた数



日にち： 月 日

名まえ _____

・ つぎの けいさん を しましょう。

$① \quad 55 - 5 = 50$

$⑥ \quad 20 + 6 = 26$

$② \quad 49 - 9 = 40$

$⑦ \quad 81 - 1 = 80$

$③ \quad 60 + 3 = 63$

$⑧ \quad 57 - 7 = 50$

$④ \quad 38 - 8 = 30$

$⑨ \quad 90 + 4 = 94$

$⑤ \quad 70 + 2 = 72$

$⑩ \quad 46 - 6 = 40$





おおきいかず 15

◎ 33 から 3 をひいた数



日にち： 月 日

名まえ _____

・ つぎの けいさんを しましょう。

$① \quad 65 - 5 = 60$

$⑥ \quad 60 + 7 = 67$

$② \quad 51 - 1 = 50$

$⑦ \quad 92 - 2 = 90$

$③ \quad 70 + 4 = 74$

$⑧ \quad 78 - 8 = 70$

$④ \quad 49 - 9 = 40$

$⑨ \quad 30 + 5 = 35$

$⑤ \quad 80 + 3 = 83$

$⑩ \quad 87 - 7 = 80$





おおきいかず 15

◎ 33 から 3 をひいた数

12

日にち： 月 日

名まえ _____

・ つぎの けいさんを しましょう。

$$\textcircled{1} \quad 76 - 6 = 70$$

$$\textcircled{6} \quad 40 + 8 = 48$$

$$\textcircled{2} \quad 92 - 2 = 90$$

$$\textcircled{7} \quad 63 - 3 = 60$$

$$\textcircled{3} \quad 80 + 5 = 85$$

$$\textcircled{8} \quad 89 - 9 = 80$$

$$\textcircled{4} \quad 51 - 1 = 50$$

$$\textcircled{9} \quad 40 + 6 = 46$$

$$\textcircled{5} \quad 90 + 4 = 94$$

$$\textcircled{10} \quad 48 - 8 = 40$$



おおきいかず 15

◎ 33 から 3 をひいた数

13

日にち： 月 日

名まえ _____

・ つぎの けいさん を しましょう。

$$\textcircled{1} \quad 87 - 7 = 80$$

$$\textcircled{6} \quad 50 + 9 = 59$$

$$\textcircled{2} \quad 33 - 3 = 30$$

$$\textcircled{7} \quad 74 - 4 = 70$$

$$\textcircled{3} \quad 90 + 6 = 96$$

$$\textcircled{8} \quad 91 - 1 = 90$$

$$\textcircled{4} \quad 42 - 2 = 40$$

$$\textcircled{9} \quad 50 + 7 = 57$$

$$\textcircled{5} \quad 30 + 5 = 35$$

$$\textcircled{10} \quad 59 - 9 = 50$$





おおきいかず 15

◎ 33 から 3 をひいた数

14

日にち： 月 日

名まえ _____

・ つぎの けいさん を しましょう。

$$\textcircled{1} \quad 98 - 8 = 90$$

$$\textcircled{6} \quad 60 + 1 = 61$$

$$\textcircled{2} \quad 43 - 3 = 40$$

$$\textcircled{7} \quad 85 - 5 = 80$$

$$\textcircled{3} \quad 30 + 7 = 37$$

$$\textcircled{8} \quad 22 - 2 = 20$$

$$\textcircled{4} \quad 54 - 4 = 50$$

$$\textcircled{9} \quad 60 + 8 = 68$$

$$\textcircled{5} \quad 40 + 6 = 46$$

$$\textcircled{10} \quad 79 - 9 = 70$$





おおきいかず 15

◎ 33 から 3 をひいた数

15

めざせ90点!



てん

名まえ _____

・ つぎの けいさん を しましう。(各10点)

① $26 - 6 = 20$

⑥ $70 + 8 = 78$

② $91 - 1 = 90$

⑦ $53 - 3 = 50$

③ $30 + 4 = 34$

⑧ $65 - 5 = 60$

④ $89 - 9 = 80$

⑨ $20 + 7 = 27$

⑤ $40 + 3 = 43$

⑩ $92 - 2 = 90$



おおきいかず 15

◎ 33 から 3 をひいた数

16

めざせ90点!



名まえ _____

・ つぎの けいさん を しましう。(各10点)

① $37 - 7 = 30$

⑥ $80 + 9 = 89$

② $82 - 2 = 80$

⑦ $64 - 4 = 60$

③ $40 + 5 = 45$

⑧ $76 - 6 = 70$

④ $91 - 1 = 90$

⑨ $30 + 8 = 38$

⑤ $50 + 5 = 55$

⑩ $23 - 3 = 20$