

おおきいかず 16

2けたと1けたのひきざん

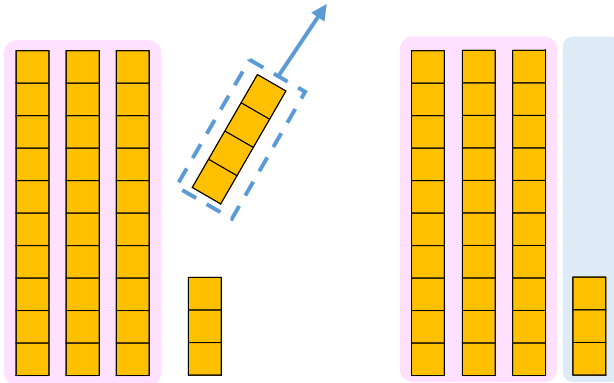


日にち： 月 日

名まえ _____

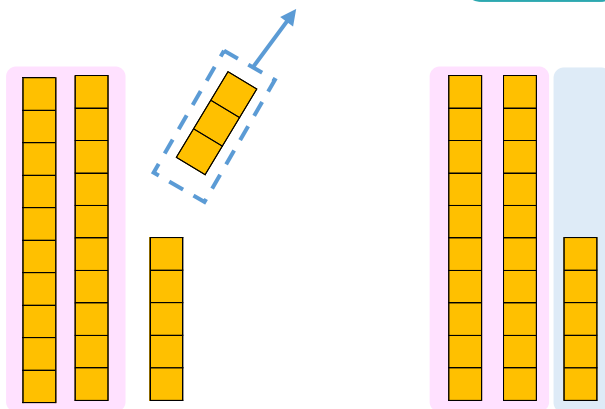
- にかずをかきましょう。(うすいじはなぞりましょう。)

① 37から4をひいたかずは です。



$$\text{しき： } 37 - 4 = \square$$

② 28から3をひいたかずは です。



$$\text{しき： } 28 - 3 = \square$$





おおきいかず 16

2けたと1けたのひきざん

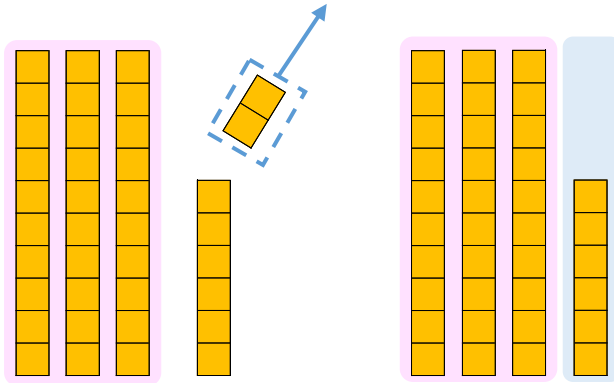


日にち： 月 日

名まえ _____

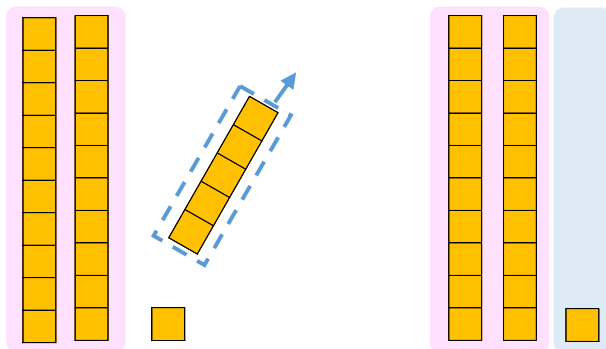
- にかずをかきましょう。(うすいじはなぞりましょう。)

① 38から2をひいたかずは です。



$$\text{しき： } 38 - 2 = \square$$

② 26から5をひいたかずは です。



$$\text{しき： } 26 - 5 = \square$$





おおきいかず 16

◎ 2けたと1けたのひきざん

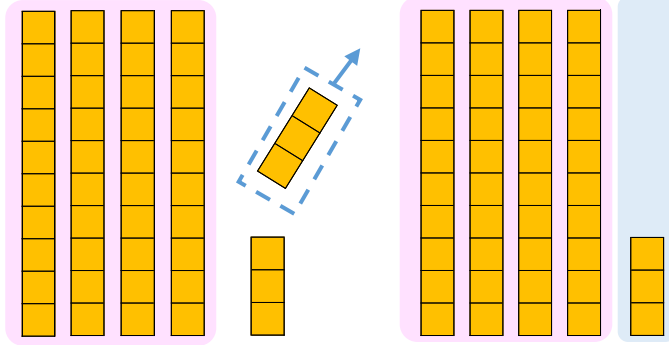


日にち： 月 日

名まえ _____

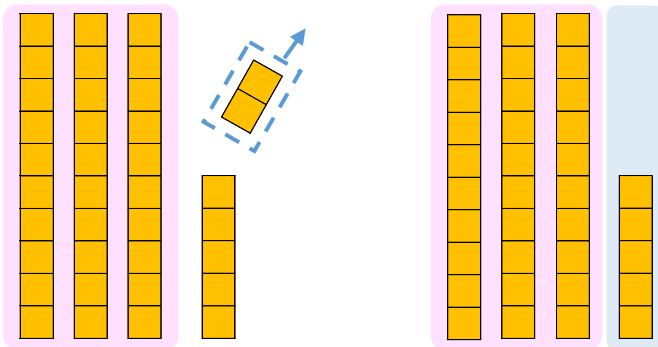
- にかずをかきましょう。(うすいじはなぞりましょう。)

① 46から3をひいたかずは 43 です。



$$\text{しき： } 46 - 3 = \square$$

② 37から2をひいたかずは です。



$$\text{しき： } 37 - 2 = \square$$





おおきいかず 16

2けたと1けたのひきざん

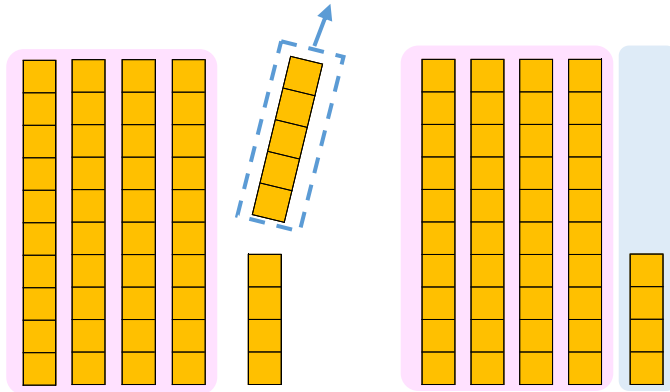


日にち： 月 日

名まえ _____

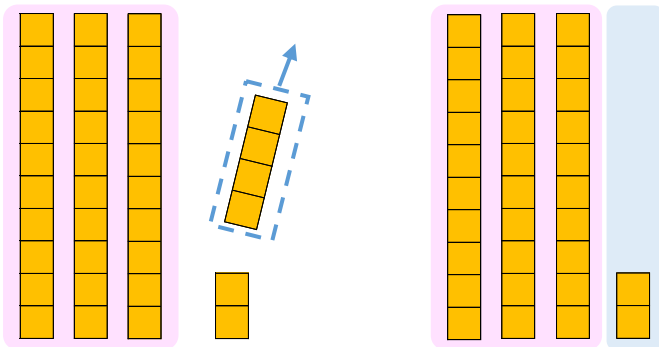
- にかずをかきましょう。(うすいじはなぞりましょう。)

① 49から5をひいたかずは です。



$$\text{しき： } 49 - 5 = \square$$

② 36から4をひいたかずは です。



$$\text{しき： } 36 - 4 = \square$$



おおきいかず 16

2けたと1けたのひきざん



日にち： 月 日

名まえ _____

・ひきざんをしましょう。(うすいじはなぞりましょう。)

① $95 - 2 = 93$

⑥ $76 - 2 = \square$

② $29 - 4 = \square$

⑦ $48 - 3 = \square$

③ $33 - 1 = 32$


⑧ $57 - 5 = \square$

④ $88 - 5 = \square$

⑨ $94 - 2 = \square$

⑤ $42 - 1 = \square$

⑩ $65 - 4 = \square$



おおきいかず 16

● 2けたと1けたのひきざん



日にち： 月 日

名まえ _____

・ひきざんをしましょう。(うすいじはなぞりましょう。)

① $22 - 1 = \square$

⑥ $87 - 2 = \square$

② $34 - 2 = 32$

⑦ $59 - 6 = \square$

③ $45 - 4 = \square$

⑧ $68 - 2 = \square$

④ $97 - 3 = \square$

⑨ $26 - 3 = \square$

⑤ $53 - 2 = \square$

⑩ $75 - 3 = \square$



おおきいかず 16

◎ 2けたと1けたのひきざん



日にち： 月 日

名まえ _____

・ひきざんをしましょう。

① $34 - 2 =$

⑥ $98 - 3 =$

② $45 - 1 =$

⑦ $62 - 1 =$

③ $56 - 3 =$

⑧ $79 - 3 =$

④ $28 - 2 =$

⑨ $37 - 5 =$

⑤ $64 - 1 =$

⑩ $86 - 2 =$



おおきいかず 16

◎ 2けたと1けたのひきざん



日にち： 月 日

名まえ _____

・ひきざんをしましょう。

① $35 - 1 = \square$

⑥ $29 - 6 = \square$

② $56 - 4 = \square$

⑦ $73 - 2 = \square$

③ $67 - 6 = \square$


⑧ $86 - 3 = \square$

④ $39 - 2 = \square$

⑨ $48 - 3 = \square$

⑤ $75 - 2 = \square$

⑩ $97 - 1 = \square$



おおきいかず 16

◎ 2けたと1けたのひきざん



日にち： 月 日

名まえ _____

・ひきざんをしましょう。

① $46 - 3 = \square$

⑥ $33 - 2 = \square$

② $67 - 2 = \square$

⑦ $84 - 1 = \square$

③ $78 - 4 = \square$

⑧ $97 - 5 = \square$

④ $42 - 1 = \square$

⑨ $59 - 3 = \square$

⑤ $86 - 2 = \square$

⑩ $28 - 6 = \square$



おおきいかず 16

◎ 2けたと1けたのひきざん



日にち： 月 日

名まえ _____

・ つぎのけいさんをしましょう。

① $65 - 3 = \square$

⑥ $21 + 6 = \square$

② $42 + 6 = \square$

⑦ $58 - 5 = \square$

③ $79 - 4 = \square$

⑧ $67 - 1 = \square$

④ $34 - 3 = \square$

⑨ $93 + 4 = \square$

⑤ $87 + 2 = \square$

⑩ $46 - 2 = \square$



おおきいかず 16

● 2けたと1けたのひきざん



日にち： 月 日

名まえ _____

・ つぎのけいさんをしましょう。

① $76 - 2 = \square$

⑥ $32 + 5 = \square$

② $53 + 6 = \square$

⑦ $69 - 2 = \square$

③ $82 - 1 = \square$

⑧ $78 - 3 = \square$

④ $45 - 3 = \square$

⑨ $34 + 1 = \square$

⑤ $91 + 7 = \square$

⑩ $57 - 2 = \square$



おおきいかず 16

● 2けたと1けたのひきざん

12

日にち： 月 日

名まえ _____

・ つぎのけいさんをしましょう。

① $87 - 4 =$

⑥ $43 + 3 =$

② $64 + 1 =$

⑦ $74 - 2 =$

③ $93 - 2 =$

⑧ $89 - 5 =$

④ $56 - 2 =$

⑨ $45 + 4 =$

⑤ $31 + 8 =$

⑩ $68 - 6 =$



おおきいかず 16

◎ 2けたと1けたのひきざん

13

日にち： 月 日

名まえ _____

・ つぎのけいさんをしましょう。

① $98 - 2 = \square$

⑥ $64 + 3 = \square$

② $75 + 3 = \square$

⑦ $85 - 4 = \square$

③ $29 - 6 = \square$


⑧ $94 - 2 = \square$

④ $67 - 4 = \square$

⑨ $56 + 1 = \square$

⑤ $42 + 2 = \square$

⑩ $79 - 7 = \square$



おおきいかず 16

● 2けたと1けたのひきざん

14

日にち： 月 日

名まえ _____

・ つぎのけいさんをしましょう。

① $29 - 6 =$

⑥ $75 + 2 =$

② $86 + 1 =$

⑦ $96 - 2 =$

③ $32 - 1 =$

⑧ $35 - 3 =$

④ $78 - 2 =$

⑨ $67 + 1 =$

⑤ $53 + 6 =$

⑩ $84 - 3 =$



おおきいかず 16

● 2けたと1けたのひきざん

15

めざせ90点!



名まえ _____

・つぎのけいさんをしましょう。(各10点)

① $36 - 3 = \square$

⑥ $72 + 5 = \square$

② $91 + 6 = \square$

⑦ $67 - 5 = \square$

③ $48 - 2 = \square$

⑧ $24 - 3 = \square$

④ $85 - 1 = \square$

⑨ $36 + 2 = \square$

⑤ $53 + 4 = \square$

⑩ $99 - 4 = \square$



おおきいかず 16

● 2けたと1けたのひきざん



めざせ90点!



名まえ _____

・ つぎのけいさんをしましょう。(各10点)

① $47 - 3 = \square$

⑥ $93 + 1 = \square$

② $82 + 6 = \square$

⑦ $78 - 3 = \square$

③ $59 - 7 = \square$

⑧ $35 - 4 = \square$


④ $96 - 3 = \square$

⑨ $47 + 2 = \square$

⑤ $64 + 4 = \square$

⑩ $23 - 2 = \square$





おおきいかず 16

2けたと1けたのひきざん

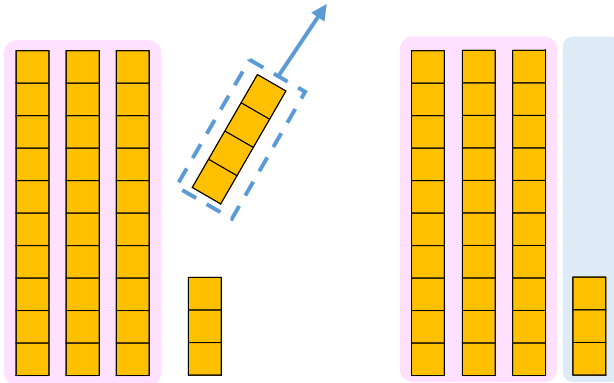


日にち： 月 日

名まえ _____

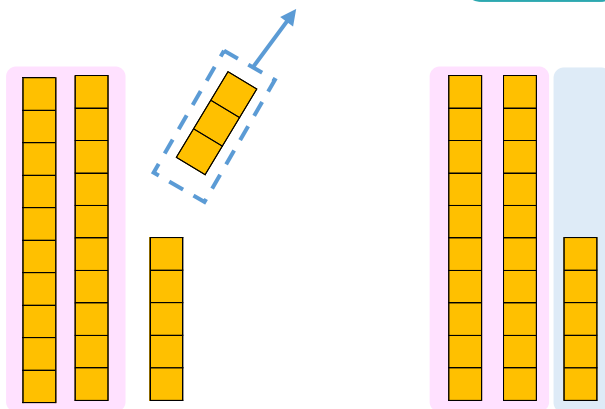
- にかずをかきましょう。(うすいじはなぞりましょう。)

① 37から4をひいたかずは **33** です。



$$\text{しき： } 37 - 4 = 33$$

② 28から3をひいたかずは **25** です。



$$\text{しき： } 28 - 3 = 25$$





おおきいかず 16

2けたと1けたのひきざん

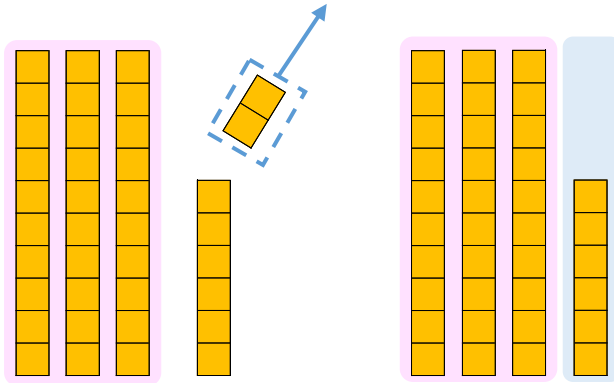


日にち： 月 日

名まえ _____

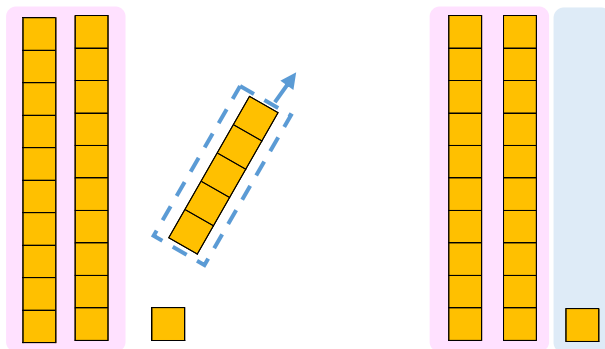
- にかずをかきましょう。(うすいじはなぞりましょう。)

① 38から2をひいたかずは **36** です。



$$\text{しき： } 38 - 2 = 36$$

② 26から5をひいたかずは **21** です。



$$\text{しき： } 26 - 5 = 21$$





おおきいかず 16

◎ 2けたと1けたのひきざん

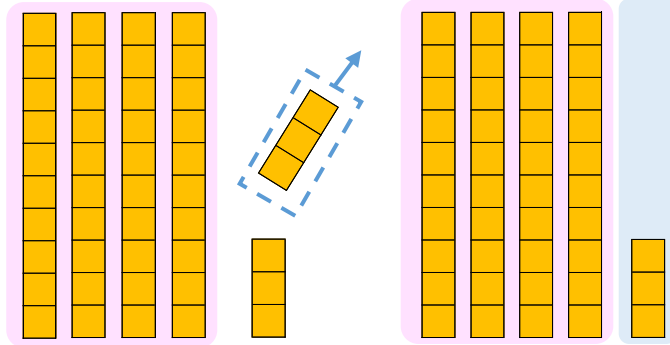


日にち： 月 日

名まえ _____

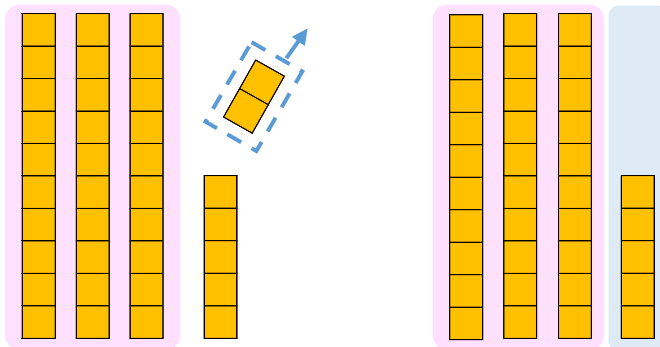
- にかずをかきましょう。(うすいじはなぞりましょう。)

① 46から3をひいたかずは **43** です。



$$\text{しき： } 46 - 3 = 43$$

② 37から2をひいたかずは **35** です。



$$\text{しき： } 37 - 2 = 35$$





おおきいかず 16

◎ 2けたと1けたのひきざん

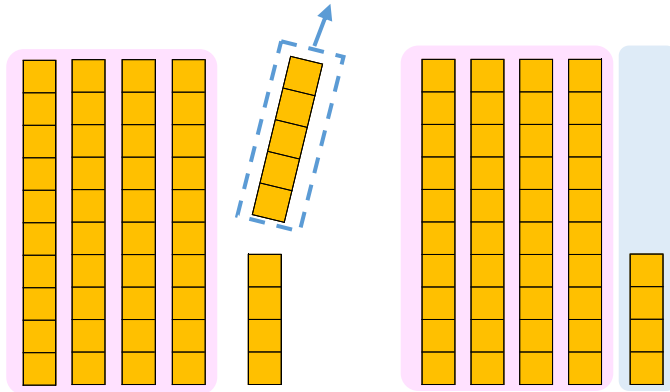
4

日にち： 月 日

名まえ _____

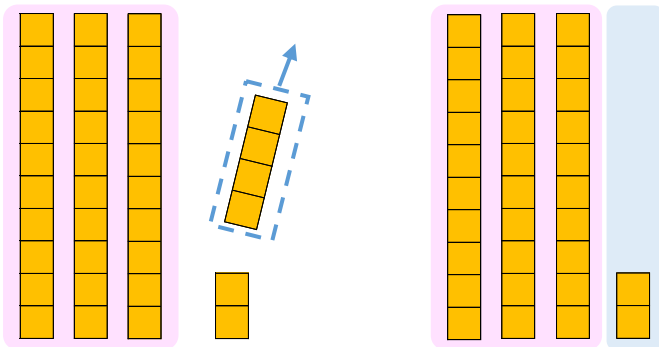
- にかずをかきましょう。(うすいじはなぞりましょう。)

① 49から5をひいたかずは **44** です。



$$\text{しき： } 49 - 5 = 44$$

② 36から4をひいたかずは **32** です。



$$\text{しき： } 36 - 4 = 32$$





おおきいかず 16

◎ 2けたと1けたのひきざん



日にち： 月 日

名まえ _____

・ひきざんをしましょう。(うすいじはなぞりましょう。)

$$\textcircled{1} \quad 95 - 2 = 93$$

$$\textcircled{6} \quad 76 - 2 = 74$$

$$\textcircled{2} \quad 29 - 4 = 25$$

$$\textcircled{7} \quad 48 - 3 = 45$$

$$\textcircled{3} \quad 33 - 1 = 32$$


$$\textcircled{8} \quad 57 - 5 = 52$$

$$\textcircled{4} \quad 88 - 5 = 83$$

$$\textcircled{9} \quad 94 - 2 = 92$$

$$\textcircled{5} \quad 42 - 1 = 41$$

$$\textcircled{10} \quad 65 - 4 = 61$$



おおきいかず 16

◎ 2けたと1けたのひきざん



日にち： 月 日

名まえ _____

・ひきざんをしましょう。(うすいじはなぞりましょう。)

$$\textcircled{1} \quad 22 - 1 = 21$$

$$\textcircled{6} \quad 87 - 2 = 85$$

$$\textcircled{2} \quad 34 - 2 = 32$$

$$\textcircled{7} \quad 59 - 6 = 53$$

$$\textcircled{3} \quad 45 - 4 = 41$$

$$\textcircled{8} \quad 68 - 2 = 66$$

$$\textcircled{4} \quad 97 - 3 = 94$$

$$\textcircled{9} \quad 26 - 3 = 23$$

$$\textcircled{5} \quad 53 - 2 = 51$$

$$\textcircled{10} \quad 75 - 3 = 72$$



おおきいかず 16

◎ 2けたと1けたのひきざん



日にち： 月 日

名まえ _____

・ひきざんをしましょう。

$① \quad 34 - 2 = 32$

$⑥ \quad 98 - 3 = 95$

$② \quad 45 - 1 = 44$

$⑦ \quad 62 - 1 = 61$

$③ \quad 56 - 3 = 53$

$⑧ \quad 79 - 3 = 76$

$④ \quad 28 - 2 = 26$

$⑨ \quad 37 - 5 = 32$

$⑤ \quad 64 - 1 = 63$

$⑩ \quad 86 - 2 = 84$



おおきいかず 16

◎ 2けたと1けたのひきざん



日にち： 月 日

名まえ _____

・ひきざんをしましょう。

$① \quad 35 - 1 = 34$

$⑥ \quad 29 - 6 = 23$

$② \quad 56 - 4 = 52$

$⑦ \quad 73 - 2 = 71$

$③ \quad 67 - 6 = 61$


$⑧ \quad 86 - 3 = 83$

$④ \quad 39 - 2 = 37$

$⑨ \quad 48 - 3 = 45$

$⑤ \quad 75 - 2 = 73$

$⑩ \quad 97 - 1 = 96$



おおきいかず 16

◎ 2けたと1けたのひきざん



日にち： 月 日

名まえ _____

・ひきざんをしましょう。

$① \quad 46 - 3 = 43$

$⑥ \quad 33 - 2 = 31$

$② \quad 67 - 2 = 65$

$⑦ \quad 84 - 1 = 83$

$③ \quad 78 - 4 = 74$

$⑧ \quad 97 - 5 = 92$

$④ \quad 42 - 1 = 41$

$⑨ \quad 59 - 3 = 56$

$⑤ \quad 86 - 2 = 84$

$⑩ \quad 28 - 6 = 22$



おおきいかず 16

◎ 2けたと1けたのひきざん



日にち： 月 日

名まえ _____

・ つぎのけいさんをしましょう。

① $65 - 3 = 62$

⑥ $21 + 6 = 27$

② $42 + 6 = 48$

⑦ $58 - 5 = 53$

③ $79 - 4 = 75$

⑧ $67 - 1 = 66$

④ $34 - 3 = 31$

⑨ $93 + 4 = 97$

⑤ $87 + 2 = 89$

⑩ $46 - 2 = 44$





おおきいかず 16

● 2けたと1けたのひきざん



日にち： 月 日

名まえ _____

・ つぎのけいさんをしましょう。

① $76 - 2 = 74$

⑥ $32 + 5 = 37$

② $53 + 6 = 59$

⑦ $69 - 2 = 67$

③ $82 - 1 = 81$

⑧ $78 - 3 = 75$

④ $45 - 3 = 42$

⑨ $34 + 1 = 35$

⑤ $91 + 7 = 98$

⑩ $57 - 2 = 55$





おおきいかず 16

◎ 2けたと1けたのひきざん

12

日にち： 月 日

名まえ _____

・ つぎのけいさんをしましょう。

① $87 - 4 = 83$

⑥ $43 + 3 = 46$

② $64 + 1 = 65$

⑦ $74 - 2 = 72$

③ $93 - 2 = 91$

⑧ $89 - 5 = 84$

④ $56 - 2 = 54$

⑨ $45 + 4 = 49$

⑤ $31 + 8 = 39$

⑩ $68 - 6 = 62$



おおきいかず 16

◎ 2けたと1けたのひきざん

13

日にち： 月 日

名まえ _____

・ つぎのけいさんをしましょう。

① $98 - 2 = 96$

⑥ $64 + 3 = 67$

② $75 + 3 = 78$

⑦ $85 - 4 = 81$

③ $29 - 6 = 23$

⑧ $94 - 2 = 92$


④ $67 - 4 = 63$

⑨ $56 + 1 = 57$

⑤ $42 + 2 = 44$

⑩ $79 - 7 = 72$





おおきいかず 16

● 2けたと1けたのひきざん

14

日にち： 月 日

名まえ _____

・ つぎのけいさんをしましょう。

$① \quad 29 - 6 = 23$

$⑥ \quad 75 + 2 = 77$

$② \quad 86 + 1 = 87$

$⑦ \quad 96 - 2 = 94$

$③ \quad 32 - 1 = 31$

$⑧ \quad 35 - 3 = 32$

$④ \quad 78 - 2 = 76$

$⑨ \quad 67 + 1 = 68$

$⑤ \quad 53 + 6 = 59$

$⑩ \quad 84 - 3 = 81$





おおきいかず 16

● 2けたと1けたのひきざん

15

めざせ90点!



名まえ _____

・ つぎのけいさんをしましょう。(各10点)

① $36 - 3 = 33$

⑥ $72 + 5 = 77$

② $91 + 6 = 97$

⑦ $67 - 5 = 62$

③ $48 - 2 = 46$

⑧ $24 - 3 = 21$

④ $85 - 1 = 84$

⑨ $36 + 2 = 38$

⑤ $53 + 4 = 57$

⑩ $99 - 4 = 95$



おおきいかず 16

● 2けたと1けたのひきざん



めざせ90点!



名まえ _____

・ つぎのけいさんをしましょう。(各10点)

$① \quad 47 - 3 = 44$

$⑥ \quad 93 + 1 = 94$

$② \quad 82 + 6 = 88$

$⑦ \quad 78 - 3 = 75$

$③ \quad 59 - 7 = 52$

$⑧ \quad 35 - 4 = 31$

$④ \quad 96 - 3 = 93$

$⑨ \quad 47 + 2 = 49$

$⑤ \quad 64 + 4 = 68$

$⑩ \quad 23 - 2 = 21$

