



おおきいかず 17

十のたばのひきざん

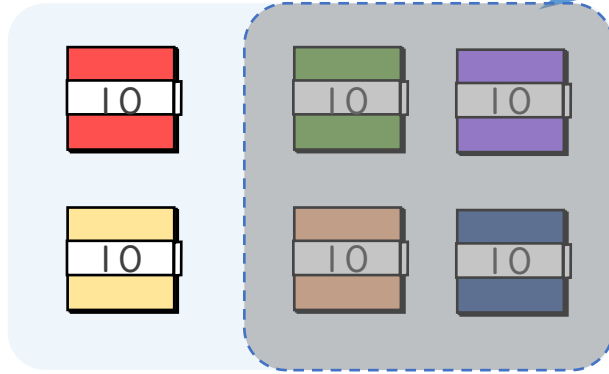


日にち： 月 日

名まえ _____

・ □ にかずをかきましょう。(うすいじはなぞりましょう。)

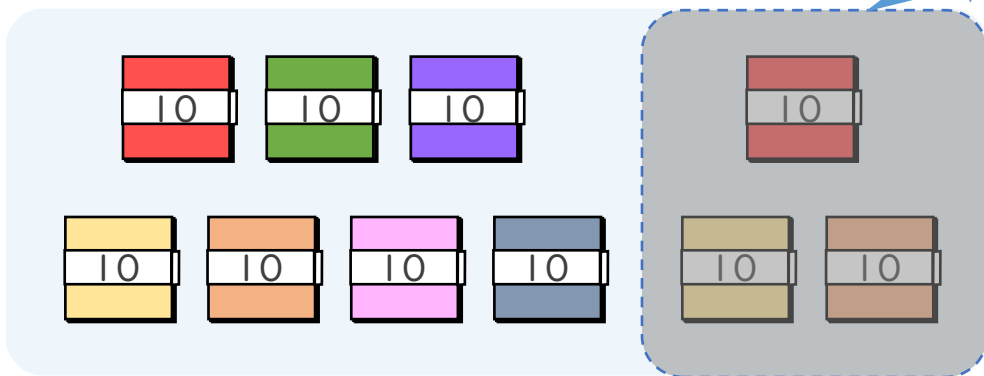
① 60-40の こたえはいくつですか。



10のたばが $6 - 4 = 2$ で 2 こだから

$$60 - 40 = 20$$

② 100-30の こたえはいくつですか。



10のたばが $10 - 3 = \square$ で \square こだから

$$100 - 30 = \square$$





おおきいかず 17

十のたばのひきざん

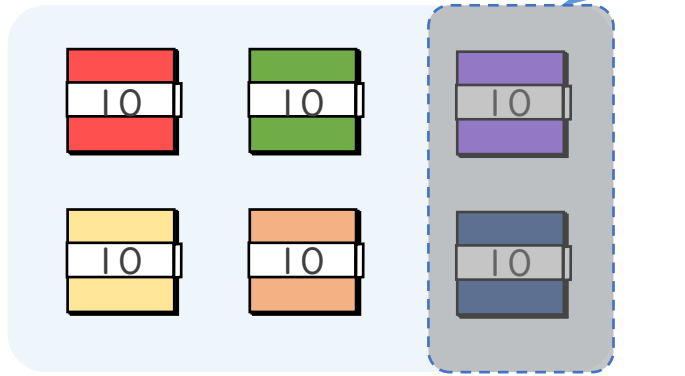


日にち： 月 日

名まえ _____

・ □ にかずをかきましょう。(うすいじはなぞりましょう。)

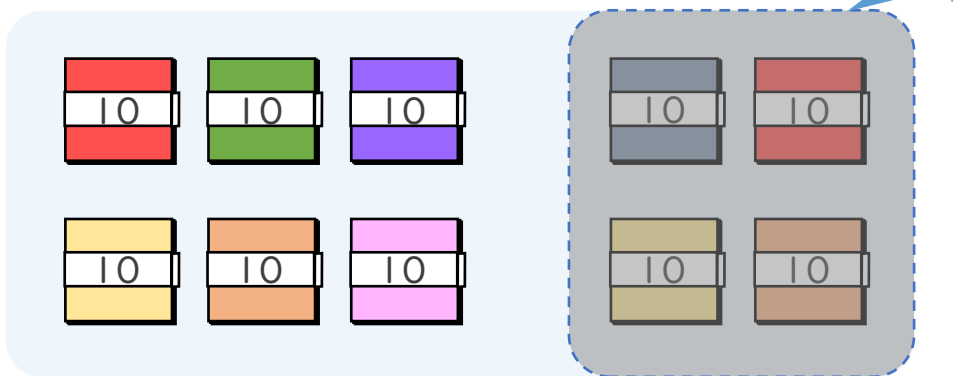
① $60 - 20$ のこたえはいくつですか。



10のたばが $6 - 2 = \square$ で \square こだから

$$60 - 20 = \square$$

② $100 - 40$ のこたえはいくつですか。



10のたばが $10 - 4 = \square$ で \square こだから

$$100 - 40 = \square$$





おおきいかず 17

十のたばのひきざん

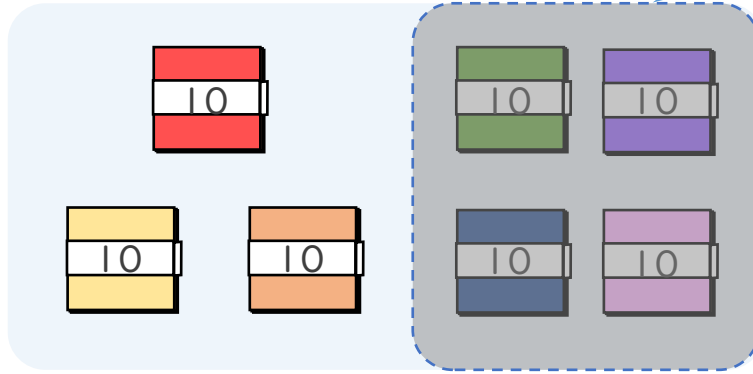


日にち： 月 日

名まえ _____

・ □ にかずをかきましょう。(うすいじはなぞりましょう。)

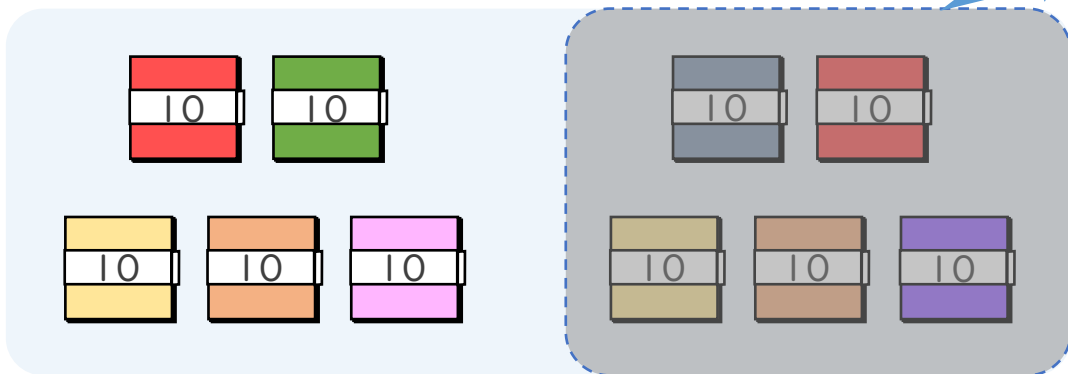
① $70 - 40$ の こたえは いくつですか。



10のたばが $7 - 4 = \square$ で \square こだから

$$70 - 40 = \square$$

② $100 - 50$ の こたえは いくつですか。



10のたばが $10 - \square = \square$ で \square こだから

$$100 - 50 = \square$$





おおきいかず 17

十のたばのひきざん

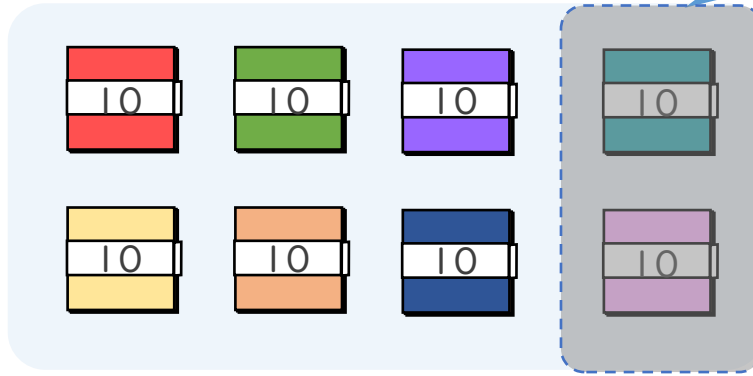


日にち： 月 日

名まえ _____

・ □ にかずをかきましょう。(うすいじはなぞりましょう。)

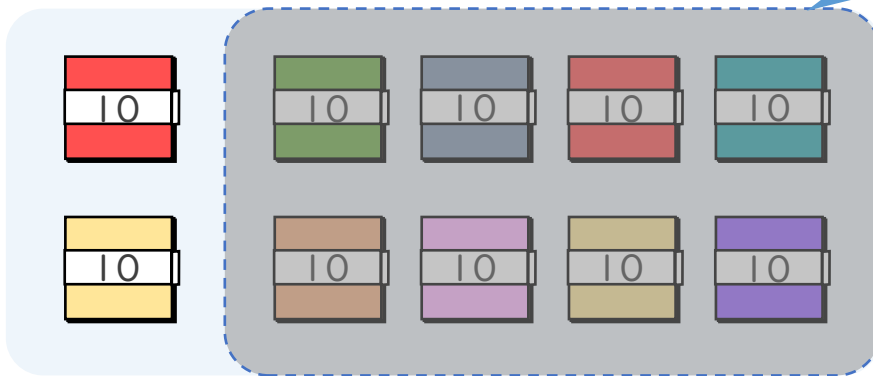
① $80 - 20$ の こたえは いくつですか。



10のたばが $8 - \square = \square$ で \square こだから

$$80 - 20 = \square$$

② $100 - 80$ の こたえは いくつですか。



10のたばが $\square - \square = \square$ で \square こだから

$$100 - 80 = \square$$





おおきいかず 17



● 十のたばのひきざん

日にち： 月 日

名まえ _____

・ひきざんをしましょう。(うすいじはなぞりましょう。)

$$\textcircled{1} \quad 60 - 40 = \boxed{20}$$

$$\textcircled{2} \quad 100 - 30 = \boxed{70}$$

$$\textcircled{3} \quad 80 - 50 = \boxed{}$$

$$\textcircled{4} \quad 90 - 40 = \boxed{}$$

$$\textcircled{5} \quad 100 - 60 = \boxed{}$$

$$\textcircled{6} \quad 40 - 10 = \boxed{}$$



おおきいかず 17



● 十のたばのひきざん

日にち： 月 日

名まえ _____

・ひきざんをしましょう。(うすいじはなぞりましょう。)

① $80 - 50 =$

② $100 - 20 =$

③ $60 - 30 =$

④ $70 - 10 =$

⑤ $100 - 50 =$

⑥ $60 - 20 =$





おおきいかず 17

● 十のたばのひきざん



日にち： 月 日

名まえ _____

・ひきざんをしましょう。

① $60 - 20 =$

② $100 - 70 =$

③ $70 - 50 =$

④ $90 - 20 =$

⑤ $100 - 40 =$

⑥ $80 - 30 =$





おおきいかず 17



● 十のたばのひきざん

日にち： 月 日

名まえ _____

・ひきざんをしましょう。

① $70 - 20 =$

② $100 - 60 =$

③ $30 - 20 =$

④ $90 - 30 =$

⑤ $100 - 50 =$

⑥ $40 - 10 =$





おおきいかず 17



● 十のたばのひきざん

日にち： 月 日

名まえ _____

・ひきざんをしましょう。

① $90 - 30 =$

② $100 - 80 =$

③ $50 - 10 =$

④ $70 - 40 =$

⑤ $100 - 30 =$

⑥ $80 - 30 =$





おおきいかず 17

● 十のたばのひきざん



日にち： 月 日

名まえ _____

・ つぎの けいさん を しましう。

① $90 - 40 =$

② $100 - 20 =$

③ $20 + 50 =$

④ $60 - 30 =$

⑤ $100 - 90 =$

⑥ $40 + 20 =$





おおきいかず 17

● 十のたばのひきざん



日にち： 月 日

名まえ _____

・ つぎの けいさんを しましょう。

① $60 - 20 =$

② $100 - 30 =$

③ $10 + 50 =$

④ $40 - 20 =$

⑤ $100 - 70 =$

⑥ $30 + 50 =$





おおきいかず 17

● 十のたばのひきざん

12

日にち： 月 日

名まえ _____

・ つぎの けいさんを しましょう。

① $90 - 60 =$

② $100 - 40 =$

③ $20 + 80 =$

④ $50 - 40 =$

⑤ $100 - 50 =$

⑥ $70 + 20 =$



おおきいかず 17

13

● 十のたばのひきざん

日にち： 月 日

名まえ _____

・ つぎの けいさんを しましょう。

① $70 - 40 =$

② $100 - 50 =$

③ $30 + 20 =$

④ $80 - 70 =$

⑤ $100 - 10 =$

⑥ $60 + 30 =$



おおきいかず 17

● 十のたばのひきざん



日にち： 月 日

名まえ _____

・ つぎの けいさんを しましょう。

① $80 - 50 =$

② $100 - 60 =$

③ $20 + 70 =$

④ $60 - 10 =$

⑤ $100 - 80 =$

⑥ $70 + 30 =$





おおきいかず 17

15

● 十のたばのひきざん

めざせ80点!



名まえ _____

・ つぎの けいさん を しましう。 (各20点)

① $100 - 20 =$

② $60 - 30 =$

③ $90 + 10 =$

④ $80 - 40 =$

⑤ $100 - 70 =$



おおきいかず 17

16

● 十のたばのひきざん

めざせ80点!



名まえ _____

・ つぎの けいさん を しましう。 (各20点)

① $100 - 30 =$

② $80 - 40 =$

③ $20 + 80 =$

④ $90 - 60 =$

⑤ $100 - 90 =$



おおきいかず 17

十のたばのひきざん

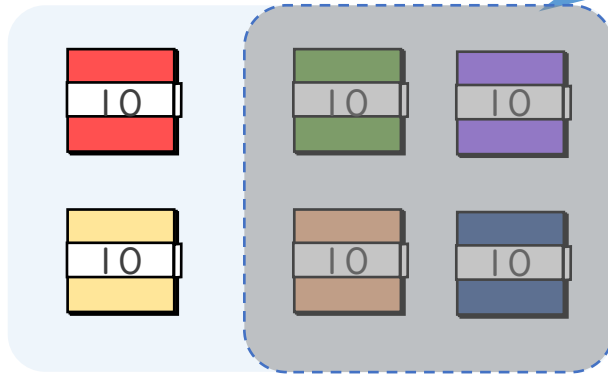


日にち： 月 日

名まえ _____

・ □ にかずをかきましょう。(うすいじはなぞりましょう。)

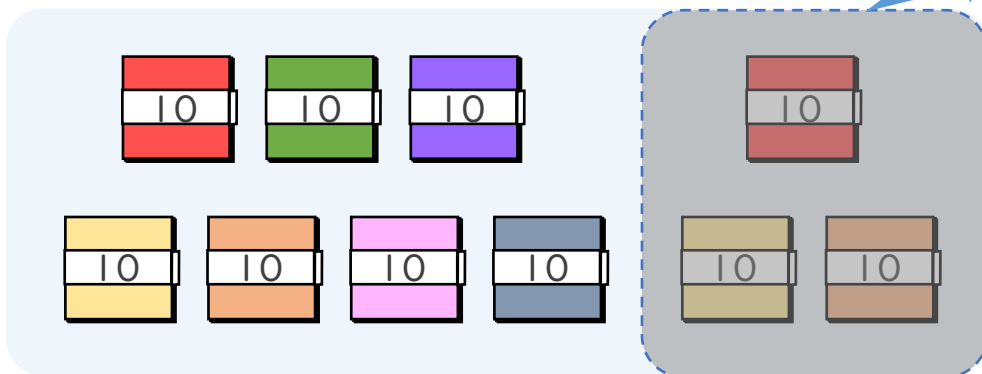
① $60 - 40$ の こたえは いくつですか。



10のたばが $6 - 4 = 2$ で 2 こだから

$$60 - 40 = 20$$

② $100 - 30$ の こたえは いくつですか。



10のたばが $10 - 3 = 7$ で 7 こだから

$$100 - 30 = 70$$





おおきいかず 17

十のたばのひきざん

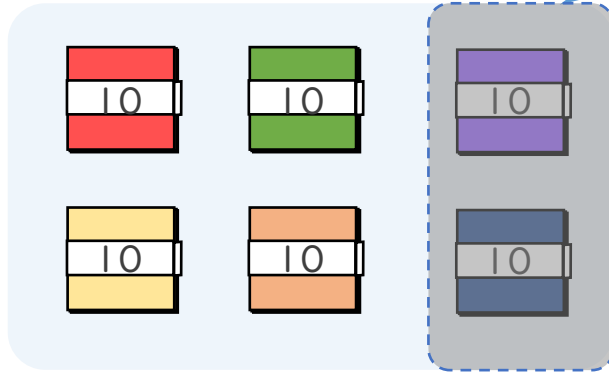


日にち： 月 日

名まえ _____

・ □ にかずをかきましょう。(うすいじはなぞりましょう。)

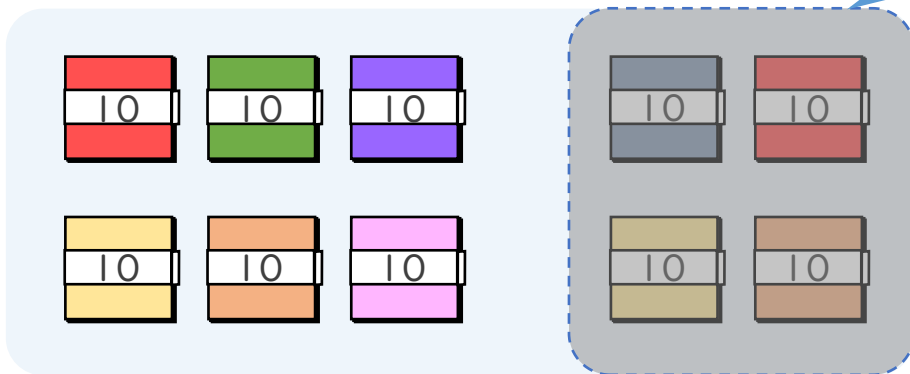
① 60-20の こたえはいくつですか。



10のたばが $6 - 2 = 4$ で 4 こだから

$$60 - 20 = 40$$

② 100-40の こたえはいくつですか。



10のたばが $10 - 4 = 6$ で 6 こだから

$$100 - 40 = 60$$





おおきいかず 17

十のたばのひきざん

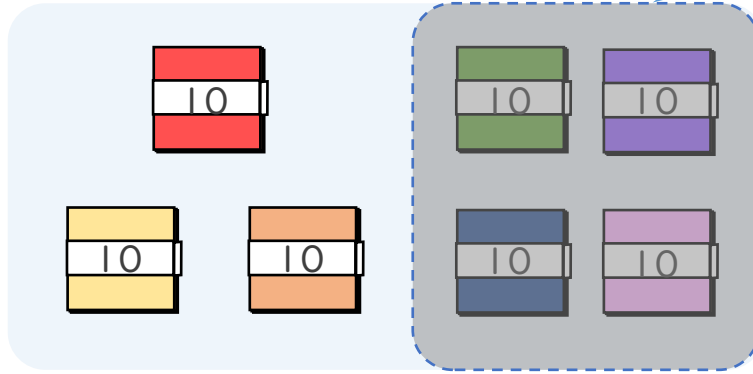


日にち： 月 日

名まえ _____

・ □ にかずをかきましょう。(うすいじはなぞりましょう。)

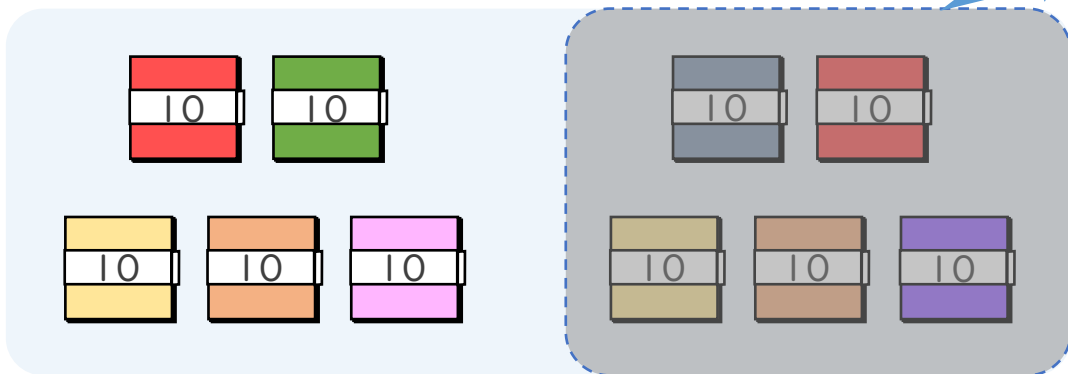
① 70-40の こたえはいくつですか。



10のたばが 7 - 4 = 3 で 3 こだから

$$70 - 40 = 30$$

② 100-50の こたえはいくつですか。



10のたばが 10 - 5 = 5 で 5 こだから

$$100 - 50 = 50$$





おおきいかず 17

十のたばのひきざん

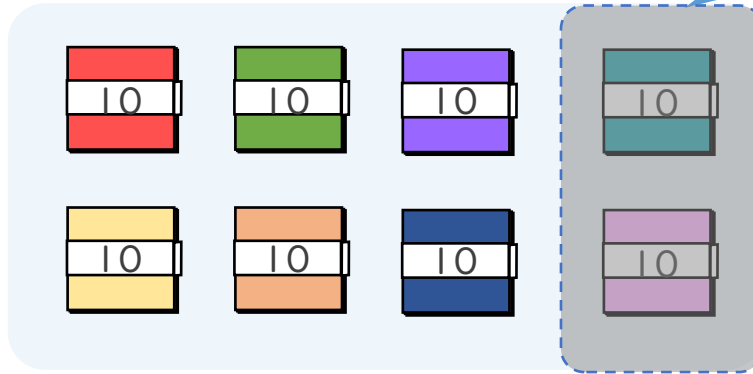


日にち： 月 日

名まえ _____

・ □ にかずをかきましょう。(うすいじはなぞりましょう。)

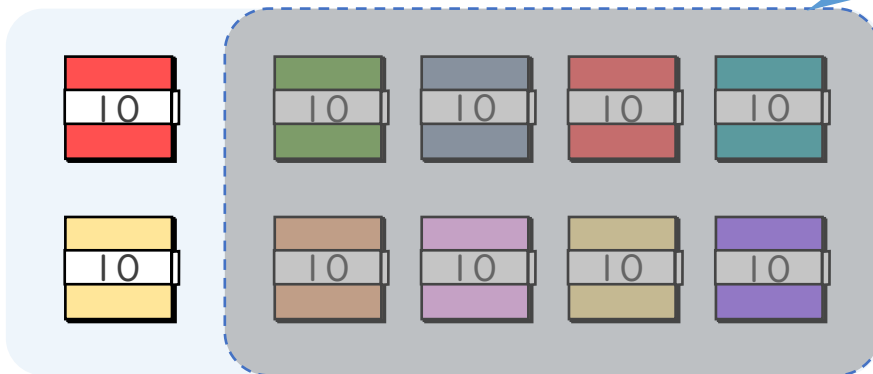
① $80 - 20$ の こたえは いくつですか。



10のたばが $8 - 2 = 6$ で 6 こだから

$$80 - 20 = 60$$

② $100 - 80$ の こたえは いくつですか。



10のたばが $10 - 8 = 2$ で 2 こだから

$$100 - 80 = 20$$





おおきいかず 17



● 十のたばのひきざん

日にち： 月 日

名まえ _____

・ひきざんをしましょう。(うすいじはなぞりましょう。)

$$\textcircled{1} \quad 60 - 40 = 20$$

$$\textcircled{2} \quad 100 - 30 = 70$$

$$\textcircled{3} \quad 80 - 50 = 30$$

$$\textcircled{4} \quad 90 - 40 = 50$$

$$\textcircled{5} \quad 100 - 60 = 40$$

$$\textcircled{6} \quad 40 - 10 = 30$$



おおきいかず 17



● 十のたばのひきざん

日にち： 月 日

名まえ _____

・ひきざんをしましょう。(うすいじはなぞりましょう。)

$$\textcircled{1} \quad 80 - 50 = 30$$

$$\textcircled{2} \quad 100 - 20 = 80$$

$$\textcircled{3} \quad 60 - 30 = 30$$

$$\textcircled{4} \quad 70 - 10 = 60$$

$$\textcircled{5} \quad 100 - 50 = 50$$

$$\textcircled{6} \quad 60 - 20 = 40$$





おおきいかず 17

● 十のたばのひきざん



日にち： 月 日

名まえ _____

・ひきざんをしましょう。

$$\textcircled{1} \quad 60 - 20 = 40$$

$$\textcircled{2} \quad 100 - 70 = 30$$

$$\textcircled{3} \quad 70 - 50 = 20$$

$$\textcircled{4} \quad 90 - 20 = 70$$

$$\textcircled{5} \quad 100 - 40 = 60$$

$$\textcircled{6} \quad 80 - 30 = 50$$





おおきいかず 17



● 十のたばのひきざん

日にち： 月 日

名まえ _____

・ひきざんをしましょう。

$$\textcircled{1} \quad 70 - 20 = 50$$

$$\textcircled{2} \quad 100 - 60 = 40$$

$$\textcircled{3} \quad 30 - 20 = 10$$

$$\textcircled{4} \quad 90 - 30 = 60$$

$$\textcircled{5} \quad 100 - 50 = 50$$

$$\textcircled{6} \quad 40 - 10 = 30$$





おおきいかず 17



● 十のたばのひきざん

日にち： 月 日

名まえ _____

・ひきざんをしましょう。

$$\textcircled{1} \quad 90 - 30 = 60$$

$$\textcircled{2} \quad 100 - 80 = 20$$

$$\textcircled{3} \quad 50 - 10 = 40$$

$$\textcircled{4} \quad 70 - 40 = 30$$

$$\textcircled{5} \quad 100 - 30 = 70$$

$$\textcircled{6} \quad 80 - 30 = 50$$





おおきいかず 17

● 十のたばのひきざん



日にち： 月 日

名まえ _____

・ つぎの けいさん を しましう。

$$\textcircled{1} \quad 90 - 40 = 50$$

$$\textcircled{2} \quad 100 - 20 = 80$$

$$\textcircled{3} \quad 20 + 50 = 70$$

$$\textcircled{4} \quad 60 - 30 = 30$$

$$\textcircled{5} \quad 100 - 90 = 10$$

$$\textcircled{6} \quad 40 + 20 = 60$$





おおきいかず 17

● 十のたばのひきざん



日にち： 月 日

名まえ _____

・ つぎの けいさんを しましょう。

$$\textcircled{1} \quad 60 - 20 = 40$$

$$\textcircled{2} \quad 100 - 30 = 70$$

$$\textcircled{3} \quad 10 + 50 = 60$$

$$\textcircled{4} \quad 40 - 20 = 20$$

$$\textcircled{5} \quad 100 - 70 = 30$$

$$\textcircled{6} \quad 30 + 50 = 80$$





おおきいかず 17

12

● 十のたばのひきざん

日にち： 月 日

名まえ _____

・ つぎの けいさんを しましょう。

$$\textcircled{1} \quad 90 - 60 = 30$$

$$\textcircled{2} \quad 100 - 40 = 60$$

$$\textcircled{3} \quad 20 + 80 = 100$$

$$\textcircled{4} \quad 50 - 40 = 10$$

$$\textcircled{5} \quad 100 - 50 = 50$$

$$\textcircled{6} \quad 70 + 20 = 90$$





おおきいかず 17

13

● 十のたばのひきざん

日にち： 月 日

名まえ _____

・ つぎの けいさんを しましょう。

$$\textcircled{1} \quad 70 - 40 = 30$$

$$\textcircled{2} \quad 100 - 50 = 50$$

$$\textcircled{3} \quad 30 + 20 = 50$$

$$\textcircled{4} \quad 80 - 70 = 10$$

$$\textcircled{5} \quad 100 - 10 = 90$$

$$\textcircled{6} \quad 60 + 30 = 90$$





おおきいかず 17

● 十のたばのひきざん

14

日にち： 月 日

名まえ _____

・ つぎの けいさんを しましょう。

$$\textcircled{1} \quad 80 - 50 = 30$$

$$\textcircled{2} \quad 100 - 60 = 40$$

$$\textcircled{3} \quad 20 + 70 = 90$$

$$\textcircled{4} \quad 60 - 10 = 50$$

$$\textcircled{5} \quad 100 - 80 = 20$$

$$\textcircled{6} \quad 70 + 30 = 100$$





おおきいかず 17

15

● 十のたばのひきざん

めざせ80点!



名まえ _____

・ つぎの けいさん を しましう。 (各20点)

$$\textcircled{1} \quad 100 - 20 = 80$$

$$\textcircled{2} \quad 60 - 30 = 30$$

$$\textcircled{3} \quad 90 + 10 = 100$$

$$\textcircled{4} \quad 80 - 40 = 40$$

$$\textcircled{5} \quad 100 - 70 = 30$$



おおきいかず 17

16

● 十のたばのひきざん

めざせ80点!



名まえ _____

・ つぎの けいさん を しましう。 (各20点)

$$\textcircled{1} \quad 100 - 30 = 70$$

$$\textcircled{2} \quad 80 - 40 = 40$$

$$\textcircled{3} \quad 20 + 80 = 100$$

$$\textcircled{4} \quad 90 - 60 = 30$$

$$\textcircled{5} \quad 100 - 90 = 10$$

