



## おおきいかず 2

● 10がいくつと  
1がいくつ?



日にち： 月 日

名まえ \_\_\_\_\_

・ □ にかずをかきましょう。(うすいじはなぞりましょう。)

① 10が6こで

6	0
---	---

② 10が8こで

--	--

③ 10が5こで

--	--

④ 72は10が  こと、1が  こ

⑤ 56は10が  こと、1が  こ

⑥ 81は10が  こと、1が  こ



## おおきいかず 2

● 10がいくつと  
1がいくつ?



日にち： 月 日

名まえ \_\_\_\_\_

・ □ にかずをかきましょう。(うすいじはなぞりましょう。)

① 10が7こで

7	0
---	---

② 10が9こで

--	--

③ 10が3こで

--	--

④ 64は10が□こと、1が□こ

6
---

4
---

⑤ 47は10が□こと、1が□こ

--

--

⑥ 52は10が□こと、1が□こ

--

--



## おおきいかず 2

● 10がいくつと  
1がいくつ?



日にち： 月 日

名まえ \_\_\_\_\_

・ □ にかずをかきましょう。(うすいじはなぞりましょう。)

① 10が3こで

② 10が2こで

③ 10が4こで

④ 78は10が□こと、1が□こ

⑤ 93は10が□こと、1が□こ

⑥ 65は10が□こと、1が□こ



## おおきいかず 2

● 10がいくつと  
1がいくつ?



日にち： 月 日

名まえ \_\_\_\_\_

・ □ にかずをかきましょう。(うすいじはなぞりましょう。)

① 10が5こで

② 10が8こで

③ 10が7こで

④ 44は10が  こと、1が  こ

⑤ 29は10が  こと、1が  こ

⑥ 38は10が  こと、1が  こ



## おおきいかず 2

● 10がいくつと  
1がいくつ?



日にち： 月 日

名まえ \_\_\_\_\_

・ □ にかずをかきましょう。(うすいじはなぞりましょう。)

① 10 が 4 まで

② 54 は 10 が  こと、 1 が  こ

③ 10 が 8 まで

④ 67 は 10 が  こと、 1 が  こ

⑤ 10 が 7 まで

⑥ 95 は 10 が  こと、 1 が  こ



## おおきいかず 2

● 10がいくつと  
1がいくつ?



日にち： 月 日

名まえ \_\_\_\_\_

・ □ にかずをかきましょう。(うすいじはなぞりましょう。)

① 10が5こで

② 65は10が  こと、1が

③ 10が9こで

④ 71は10が  こと、1が  こ

⑤ 10が8こで

⑥ 26は10が  こと、1が  こ



## おおきいかず 2

● 10がいくつと  
1がいくつ?



日にち： 月 日

名まえ \_\_\_\_\_

・ □ にかずをかきましょう。

① 10 が 6 まで

② 76 は 10 が □ ごと、 1 が □ ごと

③ 10 が 3 まで

④ 82 は 10 が □ ごと、 1 が □ ごと

⑤ 10 が 9 まで

⑥ 34 は 10 が □ ごと、 1 が □ ごと



## おおきいかず 2

● 10がいくつと  
1がいくつ?



日にち： 月 日

名まえ \_\_\_\_\_

・ □ にかずをかきましょう。

① 10 が 7 まで

② 87 は 10 が □ ごと、 1 が □ ごと

③ 10 が 4 まで

④ 93 は 10 が □ ごと、 1 が □ ごと

⑤ 10 が 3 まで

⑥ 48 は 10 が □ ごと、 1 が □ ごと





## おおきいかず 2

● 10がいくつと  
1がいくつ?



日にち： 月 日

名まえ \_\_\_\_\_

・ □ にかずをかきましょう。

① 10が8こで

② 98は10が□こと、1が□こ

③ 10が5こで

④ 35は10が□こと、1が□こ

⑤ 10が6こで

⑥ 59は10が□こと、1が□こ



## おおきいかず 2

● 10がいくつと  
1がいくつ?



日にち： 月 日

名まえ \_\_\_\_\_

1  にかずをかきましょう。

① 10が4こで

② 54は10が  こと、1が  こ

③ 10が8こで

④ 67は10が  こと、1が  こ

2 たねは、なんこありますか。



こ



# おおきいかず 2

● 10がいくつと  
1がいくつ?



日にち： 月 日

名まえ \_\_\_\_\_

1  にかずをかきましょう。

① 10が5こで

② 61は10が  こと、1が  こ

③ 10が9こで

④ 78は10が  こと、1が  こ

2 どんぐりは、なんこありますか。



こ



## おおきいかず 2

● 10がいくつと  
1がいくつ?

12

日にち： 月 日

名まえ \_\_\_\_\_

1  にかずをかきましょう。


① 10が6こで

② 72は10が  こと、1が  こ

③ 10が3こで

④ 89は10が  こと、1が  こ

2 びいだまは、なんこありますか。



こ



## おおきいかず 2

● 10がいくつと  
1がいくつ?

13

日にち： 月 日

名まえ \_\_\_\_\_

1  にかずをかきましょう。


① 10が7こで

② 83は10が  こと、1が  こ

③ 10が4こで

④ 92は10が  こと、1が  こ

2 えんぴつは、なんぼんありますか。



ほん



## おおきいかず 2

● 10がいくつと  
1がいくつ?

14

日にち： 月 日

名まえ \_\_\_\_\_

1  にかずをかきましょう。

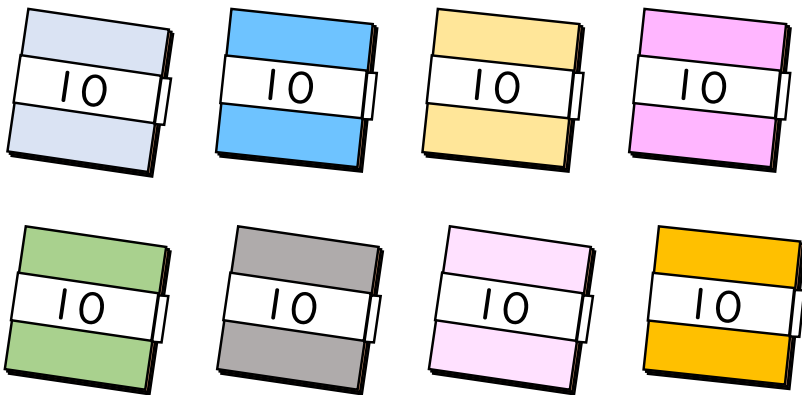
① 10が8こで

② 94は10が  こと、1が  こ

③ 10が5こで

④ 36は10が  こと、1が  こ

2 おりがみは、なんまいありますか。



まい



## おおきいかず 2

● 10がいくつと  
1がいくつ?

15

目指せ80点!



名まえ

---

1  にかずをかきましょう。(各20点)

① 10が9こで

② 65は10が  こと、1が  こ

③ 10が7こで

④ 42は10が  こと、1が  こ

2 どんぐりは、なんこありますか。(20点)



こ



## おおきいかず 2

● 10がいくつと  
1がいくつ?

16

目指せ80点!



名まえ

1  にかずをかきましょう。(各20点)

① 10が3こで

② 76は10が  こと、1が  こ

③ 10が8こで

④ 51は10が  こと、1が  こ

2 おちばは、なんまいありますか。(20点)



まい





## おおきいかず 2

● 10がいくつと  
1がいくつ?



日にち： 月 日

名まえ \_\_\_\_\_

・ □ にかずをかきましょう。(うすいじはなぞりましょう。)

① 10が6こで

60

② 10が8こで

80

③ 10が5こで

50

④ 72は10が7こと、1が2こ

⑤ 56は10が5こと、1が6こ

⑥ 81は10が8こと、1が1こ



## おおきいかず 2

● 10がいくつと  
1がいくつ?



日にち： 月 日

名まえ \_\_\_\_\_

・ □ にかずをかきましょう。(うすいじはなぞりましょう。)

① 10が7こで

70

② 10が9こで

90

③ 10が3こで

30

④ 64は10が6こと、1が4こ

⑤ 47は10が4こと、1が7こ

⑥ 52は10が5こと、1が2こ



## おおきいかず 2

● 10がいくつと  
1がいくつ?



日にち： 月 日

名まえ \_\_\_\_\_

・ □ にかずをかきましょう。(うすいじはなぞりましょう。)

① 10 が 3 まで

30

② 10 が 2 まで

20

③ 10 が 4 まで

40

④ 78 は 10 が 7 こと、1 が 8 こ

⑤ 93 は 10 が 9 こと、1 が 3 こ

⑥ 65 は 10 が 6 こと、1 が 5 こ



## おおきいかず 2

● 10がいくつと  
1がいくつ?



日にち： 月 日

名まえ \_\_\_\_\_

- ・ □ にかずをかきましょう。(うすいじはなぞりましょう。)

① 10 が 5 まで

50

② 10 が 8 まで

80

③ 10 が 7 まで

70

④ 44 は 10 が  こと、1 が  こ

⑤ 29 は 10 が  こと、1 が  こ

⑥ 38 は 10 が  こと、1 が  こ



## おおきいかず 2

● 10がいくつと  
1がいくつ?



日にち： 月 日

名まえ \_\_\_\_\_

・ □ にかずをかきましょう。(うすいじはなぞりましょう。)

① 10が4こで **40**

② 54は10が **5** こと、1が **4** こ

③ 10が8こで **80**

④ 67は10が **6** こと、1が **7** こ

⑤ 10が7こで **70**

⑥ 95は10が **9** こと、1が **5** こ



## おおきいかず 2

● 10がいくつと  
1がいくつ?



日にち： 月 日

名まえ \_\_\_\_\_

・ □ にかずをかきましょう。(うすいじはなぞりましょう。)

① 10が5こで **50**

② 65は10が **6** こと、1が **5** こ

③ 10が9こで **90**

④ 71は10が **7** こと、1が **1** こ

⑤ 10が8こで **80**

⑥ 26は10が **2** こと、1が **6** こ



## おおきいかず 2

● 10がいくつと  
1がいくつ?



日にち： 月 日

名まえ \_\_\_\_\_

・ □ にかずをかきましょう。

① 10が6こで

② 76は10が  こと、1が  こ

③ 10が3こで

④ 82は10が  こと、1が  こ

⑤ 10が9こで

⑥ 34は10が  こと、1が  こ



## おおきいかず 2

● 10がいくつと  
1がいくつ?



日にち： 月 日

名まえ \_\_\_\_\_

・ □ にかずをかきましょう。

① 10 が 7 まで

② 87 は 10 が  こと、 1 が  こ

③ 10 が 4 まで

④ 93 は 10 が  こと、 1 が  こ

⑤ 10 が 3 まで

⑥ 48 は 10 が  こと、 1 が  こ





## おおきいかず 2

● 10がいくつと  
1がいくつ?



日にち： 月 日

名まえ \_\_\_\_\_

・ □ にかずをかきましょう。

① 10が8こで

② 98は10が  こと、1が  こ

③ 10が5こで

④ 35は10が  こと、1が  こ

⑤ 10が6こで

⑥ 59は10が  こと、1が  こ



## おおきいかず 2

● 10がいくつと  
1がいくつ?

10

日にち： 月 日

名まえ \_\_\_\_\_

1  にかずをかきましょう。

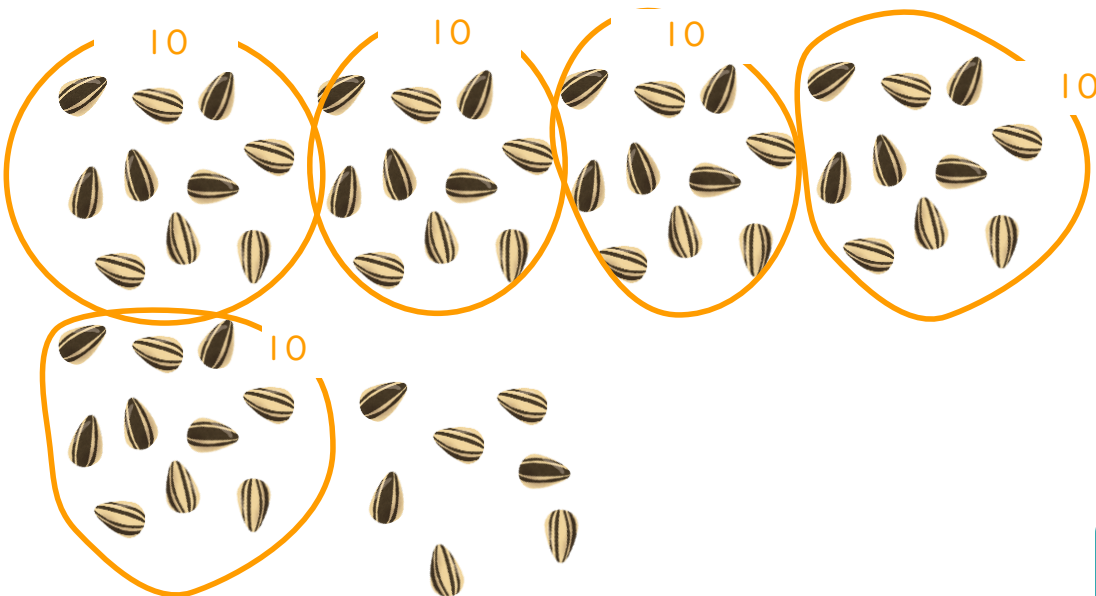
① 10が4こで **40**

② 54は10が **5** こと、1が **4** こ

③ 10が8こで **80**

④ 67は10が **6** こと、1が **7** こ

2 たねは、なんこありますか。



**57** こ



## おおきいかず 2

● 10がいくつと  
1がいくつ?



日にち： 月 日

名まえ \_\_\_\_\_

1  にかずをかきましょう。

① 10が5こで **50**

② 61は10が **6** こと、1が **1** こ

③ 10が9こで **90**

④ 78は10が **7** こと、1が **8** こ

2 どんぐりは、なんこありますか。

10 10 10

10 10 10

**65** こ



## おおきいかず 2

● 10がいくつと  
1がいくつ?

12

日にち： 月 日

名まえ \_\_\_\_\_

1  にかずをかきましょう。

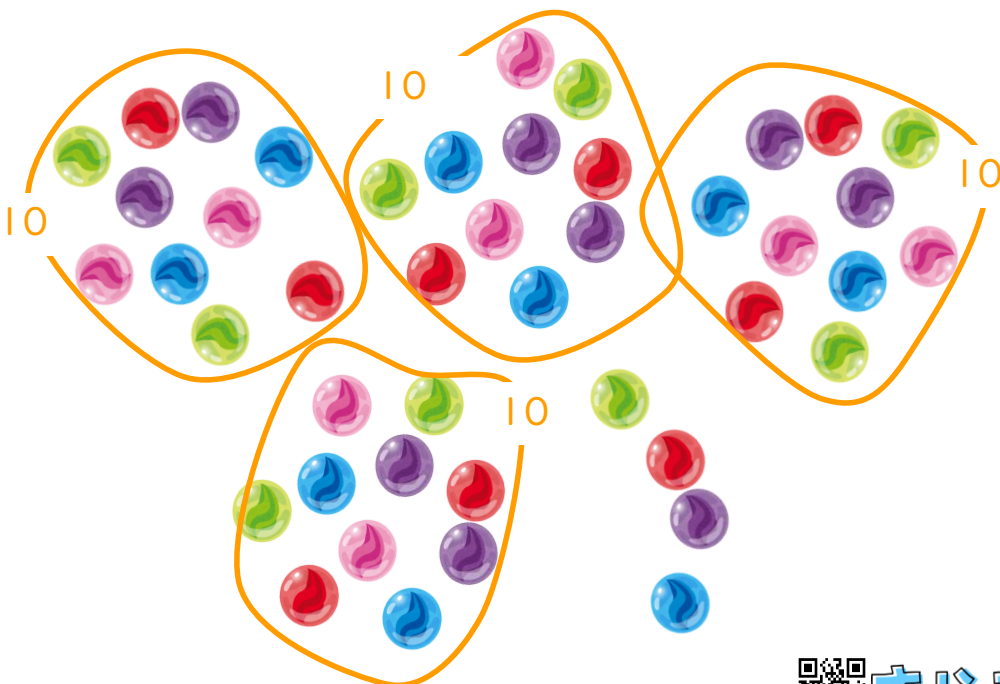
① 10が6こで

② 72は10が  こと、1が  こ

③ 10が3こで

④ 89は10が  こと、1が  こ

2 びいだまは、なんこありますか。



こ



## おおきいかず 2

● 10がいくつと  
1がいくつ?

13

日にち： 月 日

名まえ \_\_\_\_\_

1  にかずをかきましょう。


① 10が7こで **70**

② 83は10が **8** こと、1が **3** こ

③ 10が4こで **40**

④ 92は10が **9** こと、1が **2** こ

2 えんぴつは、なんぼんありますか。



**72** ほん



## おおきいかず 2

● 10がいくつと  
1がいくつ?

14

日にち： 月 日

名まえ \_\_\_\_\_

1  にかずをかきましょう。

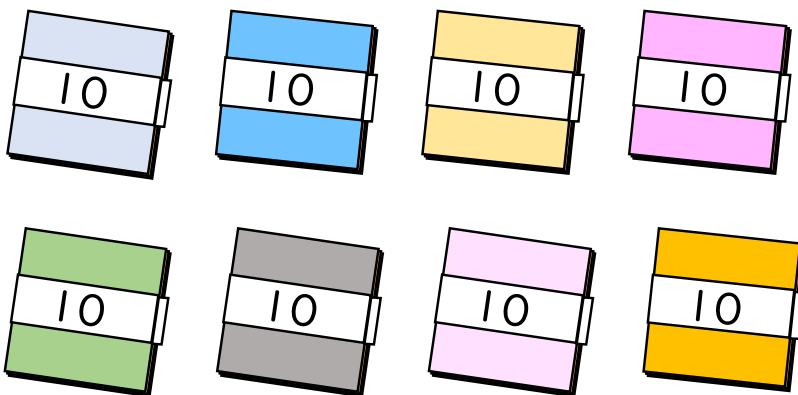
① 10が8こで

② 94は10が  こと、1が  こ


③ 10が5こで

④ 36は10が  こと、1が  こ

2 おりがみは、なんまいありますか。



まい



# おおきいかず 2

● 10がいくつと  
1がいくつ?

15

名まえ \_\_\_\_\_

1 □ にかずをかきましょう。(各20点)

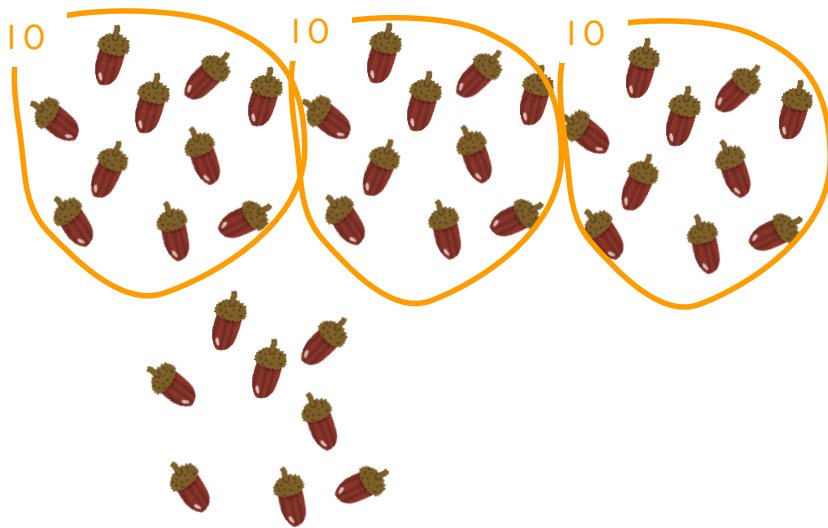
① 10が9こで 90

② 65は10が 6 こと、1が 5 こ

③ 10が7こで 70

④ 42は10が 4 こと、1が 2 こ

2 どんぐりは、なんこありますか。(20点)



38 こ



## おおきいかず 2

● 10がいくつと  
1がいくつ?

16

目指せ80点!



名まえ \_\_\_\_\_

1  にかずをかきましょう。(各20点)

① 10が3こで

② 76は10が  こと、1が  こ

③ 10が8こで

④ 51は10が  こと、1が  こ

2 おちばは、なんまいありますか。(20点)

