



くりあがりのある
たしざん！

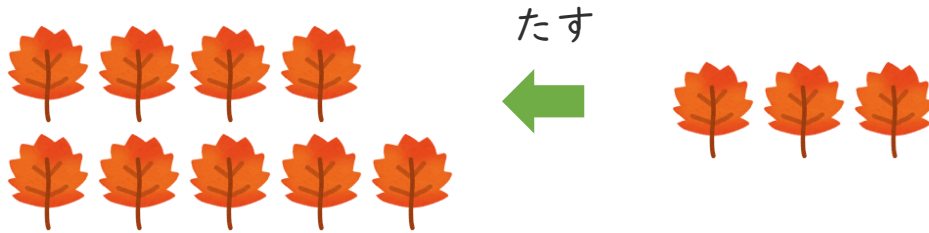
● あわせていくつ？
(えをみてかんがえよう)



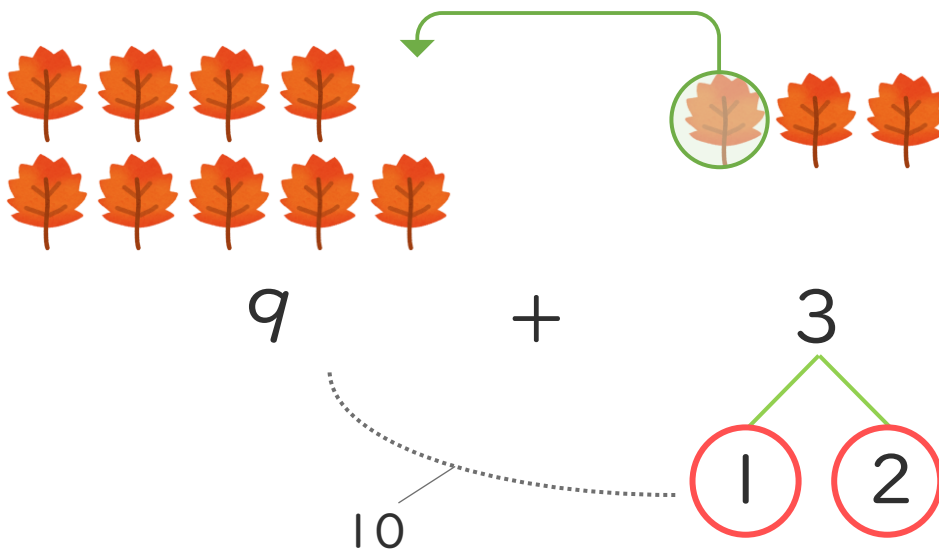
日にち： 月 日

名まえ _____

- ・ ゆうきさんは おちばを 9まい、たくやさんは 3まいひろいました。あわせてなんまいひろいましたか。



① けいさんのしかたをかんがえましょう。



② しきとこたえをかきましょう。(うすいじはなぞりましょう。)

しき $\left[9 + 3 = \right]$

こたえ $\left[\quad \text{まい} \right]$





くりあがりのある
たしざん！

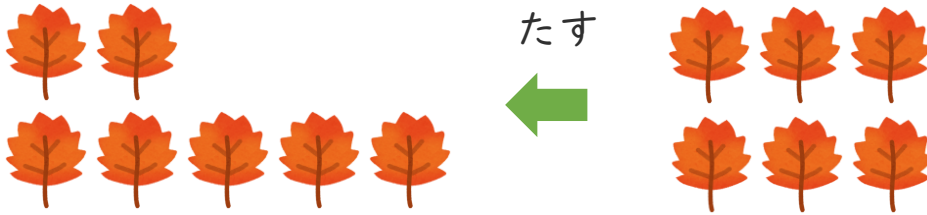
● あわせていくつ？
(えをみてかんがえよう)



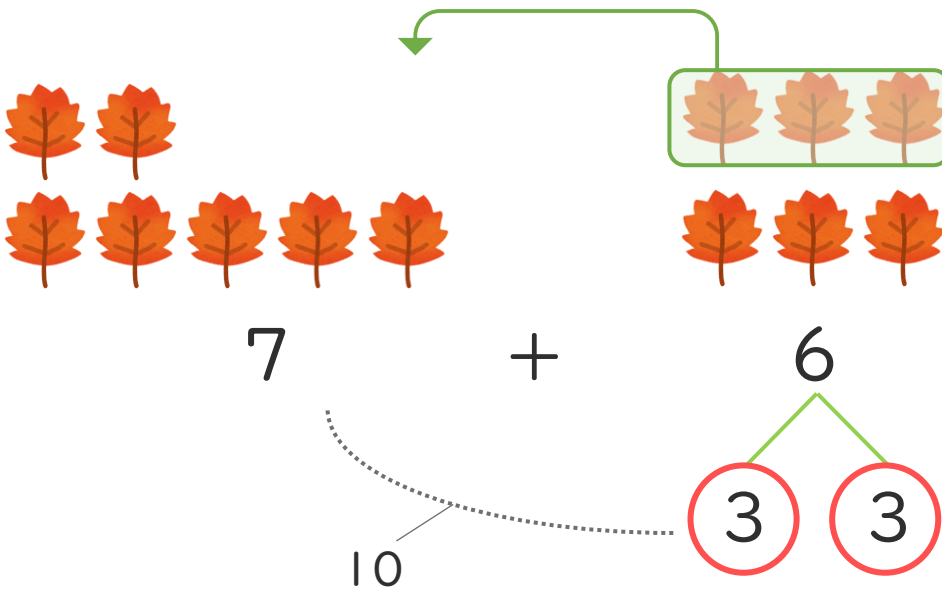
日にち： 月 日

名まえ _____

- ・ ゆうきさんは おちばを 7まい、たくやさんは 6まいひろいました。あわせてなんまいひろいましたか。



- ① けいさんのしかたをかんがえましょう。



- ② しきとこたえをかきましょう。(うすいじはなぞりましょう。)

しき $\left[\quad 7 \quad + \quad = \quad \right]$

こたえ $\left[\quad \quad \right]$





くりあがりのある
たしざん！

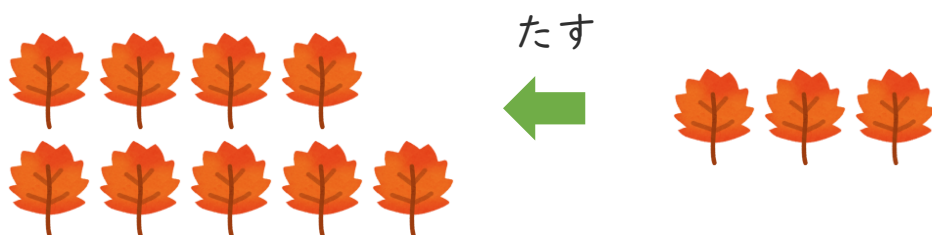
● あわせていくつ？
(えをみてかんがえよう)



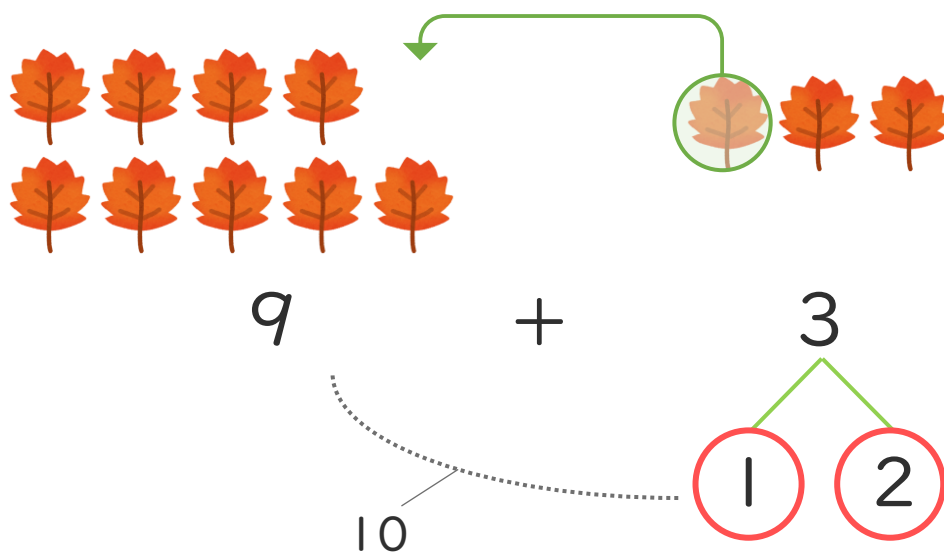
日にち： 月 日

名まえ _____

- ・ ゆうきさんは おちばを 9まい、たくやさんは 3まいひろいました。あわせてなんまいひろいましたか。



- ① けいさんのしかたをかんがえましょう。



- ② しきとこたえをかきましょう。(うすいじはなぞりましょう。)

しき $\left[9 + 3 = 12 \right]$

こたえ $\left[12 \text{まい} \right]$





くりあがりのある たしざん！

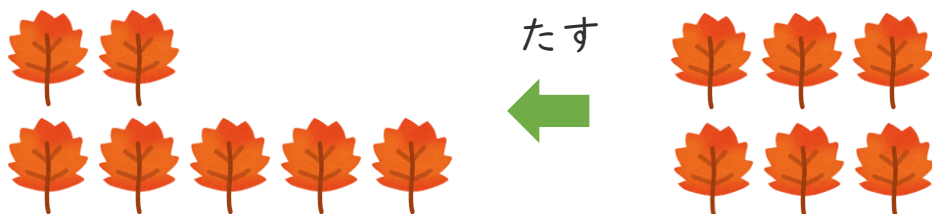
● あわせていくつ？
(えをみてかんがえよう)



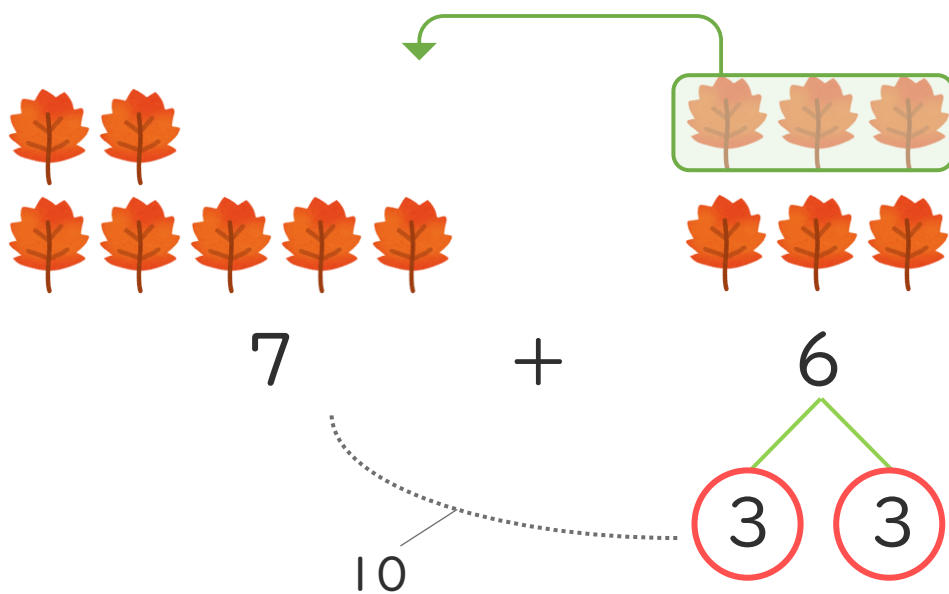
日にち： 月 日

名まえ _____

- ・ ゆうきさんは おちばを 7まい、たくやさんは 6まいひろいました。あわせてなんまいひろいましたか。



- ① けいさんのしかたをかんがえましょう。



- ② しきとこたえをかきましょう。(うすいじはなぞりましょう。)

しき $\left[7 + 6 = 13 \right]$

こたえ $\left[13 \text{まい} \right]$





くりあがりのある たしざん！

● あわせていくつ？
(えをみてかんがえよう)



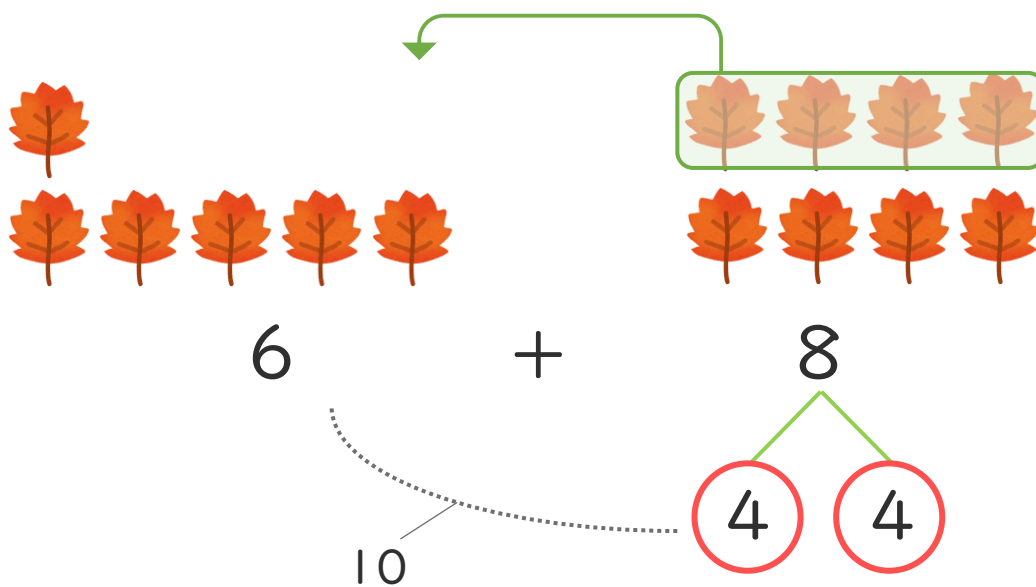
日にち： 月 日

名まえ _____

- ・ ゆうきさんは おちばを 6まい、たくやさんは 8まいひろいました。あわせてなんまいひろいましたか。



- ① けいさんのしかたをかんがえましょう。



- ② しきとこたえをかきましょう。

しき $\left[6 + 8 = 14 \right]$

こたえ $\left[14 \text{まい} \right]$





くりあがりのある
たしざん！

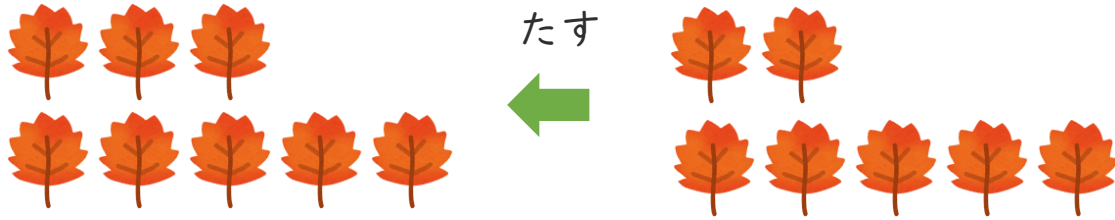
● あわせていくつ？
(えをみてかんがえよう)



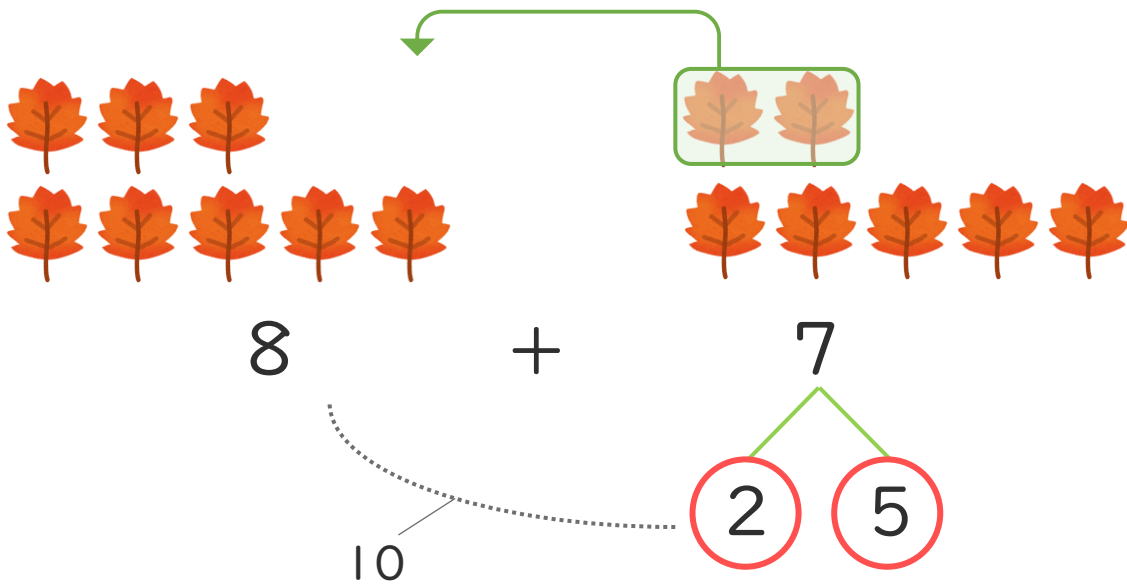
日にち： 月 日

名まえ _____

- ・ ゆうきさんは おちばを 8まい、たくやさんは 7まいひろいました。あわせてなんまいひろいましたか。



- ① けいさんのしかたをかんがえましょう。



- ② しきとこたえをかきましょう。

しき $\left[8 + 7 = 15 \right]$

こたえ $\left[15 \text{まい} \right]$

