



くりあがりのある
たしざん 9

◎ ぶんしょう もんだい



日にち： 月 日

名まえ _____

- 1 おとなが 6 にん、こどもが 9 にん います。
みんなで なんにん いますか。(うすいじはなぞりましょう。)

しき： $6 + 9 =$

こたえ (にん)

- 2 はとが 7 わ います。4 わ きました。
はとは、ぜんぶで なんわ になりましたか。(うすいじは
なぞりましょう。)

しき： $\quad + \quad =$

こたえ (わ)

- 3 ゆうきさんは さかなを 8 ぴき、しほさんは 6 ぴき
つりました。さかなは、ぜんぶで なんびき つれましたか。

しき： _____

こたえ ()



くりあがりのある
たしざん 9

◎ ぶんしょう もんだい



日にち： 月 日

名まえ _____

1 すずめが 5わいます。8わ きました。

すずめは、ぜんぶで なんわに なりましたか。(うすいじは
なぞりましょう。)

しき： $5 + 8 =$

こたえ (わ)

2 かなこさんは さかなを 7ひき、ゆうきさんは 9ひき
つりました。さかなは、ぜんぶで なんびき つれましたか。

しき：

こたえ ()

3 おとなが 9にん、こどもが 8にん います。
みんなで なんにん いますか。

しき：

こたえ ()



くりあがりのある
たしざん 9

● ぶんしょう もんだい



日にち： 月 日

名まえ _____

1 すいそうに きんぎょが 6ぴき います。7ひき もらいました。
きんぎょは、ぜんぶで なんびき になりましたか。

しき：

+ =

(うすいじは
なぞりましょう。)

こたえ

2 おやの とりが 3わ、こどもの とりが 9わ います。
とりは、ぜんぶで なんわ いますか。

しき：

こたえ

3 かだんに しろい はなが 4ほん あります。あかい はなが
7ほん あります。はなは、ぜんぶで なんほん ありますか。

しき：

こたえ



くりあがりのある
たしざん 9

● ぶんしょう もんだい



日にち： 月 日

名まえ _____

1 けんたさんは さかなを 2ひき、なみこさんは 9ひき
つりました。さかなは、ぜんぶで なんびき つれましたか。

しき：

+

=

(うすいじは
なぞりましょう。)

こたえ

2 おとなが 6にん、こどもが 6にん います。
みんなで なんにん いますか。

しき：

こたえ

3 すいそうに めだかが 9ひき います。7ひき もらいました。
めだかは、ぜんぶで なんびき になりましたか。

しき：

こたえ



くりあがりのある
たしざん 9

◎ ぶんしょう もんだい



日にち： 月 日

名まえ _____

1 おやのとりが 8 わ、こどものとりが 3 わ います。
とりは、ぜんぶで なん わ いますか。

しき：

こたえ ()

2 すいそうに きんぎょが 5 ひき います。7 ひき もらいました。
きんぎょは、ぜんぶで なん ひき になりましたか。

しき：

こたえ ()

3 かだんに きいろい はなが 9 ほん あります。あかい はなが
6 ほん あります。はなは、ぜんぶで なん ほん ありますか。

しき：

こたえ ()





くりあがりのある
たしざん 9

● ぶんしょう もんだい



日にち： 月 日

名まえ _____

- 1 はとが 9 わいます。2 わきました。
はとは、ぜんぶで なんわ になりましたか。

しき：

こたえ

- 2 かだんに あかい はなが 5 ほん あります。きいろい はなが
8 ほん あります。はなは、ぜんぶで なんほん ありますか。

しき：

こたえ

- 3 ゆうこさんは さかなを 8 ぴき、とおるさんは 9 ひき
つりました。さかなは、ぜんぶで なんびき つれましたか。

しき：

こたえ





くりあがりのある
たしざん 9

● ぶんしょう もんだい



日にち： 月 日

名まえ _____

1 すいそうに きんぎょが 8ひき います。4ひき もらいました。
きんぎょは、ぜんぶで なんびき になりましたか。

しき：

こたえ

2 おやの いんこが 6わ、こどもの いんこが 5わ います。
とりは、ぜんぶで なんわ いますか。

しき：

こたえ

3 おとなが 9にん、こどもが 9にん います。
みんなで なんにん いますか。

しき：

こたえ



くりあがりのある
たしざん 9

◎ ぶんしょう もんだい



日にち： 月 日

名まえ _____

1 つばめが 7 わいます。8 わ きました。
つばめは、ぜんぶで なんわ になりましたか。

しき：

こたえ

2 かなたさんは さかなを 9 ひき、るみさんは 5 ひき
つりました。さかなは、ぜんぶで なんびき つれましたか。

しき：

こたえ

3 かだんに あかい はなが 6 ぽん あります。しろい はなが
7 ぽん あります。はなは、ぜんぶで なんぽん ありますか。

しき：

こたえ



くりあがりのある
たしざん 9

◎ ぶんしょう もんだい



日にち： 月 日

名まえ _____

1 すいそうに めだかが 4 ひき います。9 ひき もらいました。
めだかは、ぜんぶで なんびき になりましたか。

しき：

こたえ

2 おやの とりが 7 わ、こどもの とりが 7 わ います。
とりは、ぜんぶで なんわ いますか。

しき：

こたえ

3 けんとさんは さかなを 9 ひき、かなさんは 3 ひき
つりました。さかなは、ぜんぶで なんびき つれましたか。

しき：

こたえ



くりあがりのある
たしざん 9

◎ ぶんしょう もんだい



日にち： 月 日

名まえ _____

1 おとなが 7 にん、こどもが 5 にん います。
みんなで なんにん いますか。

しき：


こたえ

2 はとが 3 わい います。8 わ きました。
はとは、ぜんぶで なんわ になりましたか。


しき：

こたえ

3 とまとは あわせて なんこ ですか。しきをかきましょう。



6 こ



9 こ

しき：

 + = 



くりあがりのある
たしざん 9

◎ ぶんしょう もんだい



日にち： 月 日

名まえ _____

- 1 すずめが 8 わいます。8 わ きました。
すずめは、ぜんぶで なんわ になりましたか。

しき：


こたえ

- 2 かだんに あかい はなが 7 ほん あります。しろい はなが
6 ほん あります。はなは、ぜんぶで なんほん ありますか。


しき：

こたえ

- 3 いちごは あわせて なんこ ですか。しきをかきましょう。



5 こ



7 こ

しき：

 + = 



くりあがりのある
たしざん 9

◎ ぶんしょう もんだい

12

日にち： 月 日

名まえ _____

1 すいそうに きんぎょが 5ひき います。9ひき もらいました。
きんぎょは、ぜんぶで なんびき になりましたか。

しき：


こたえ

2 おやの とりが 8わ、こどもの とりが 7わ います。
とりは、ぜんぶで なんわ いますか。


しき：

こたえ

3 みかんは あわせて なんこ ですか。しきをかきましょう。



6こ



5こ

しき：

 + =



くりあがりのある
たしざん 9

● ぶんしょう もんだい

13

日にち： 月 日

名まえ _____

1 かだんに きいろい はなが 8ぽん あります。あかい はなが 5ぽん あります。はなは、ぜんぶで なんぽん ありますか。

しき：

こたえ

2 はとが 9わいます。3わ きました。はとは、ぜんぶで なんわ になりましたか。

しき：

こたえ

3 けえきは あわせて なんこ ですか。しきをかきましょう。



4こ



7こ

しき：

 $\square + \square = \square$ 



くりあがりのある
たしざん 9

◎ぶんしょう もんだい

14

日にち： 月 日

名まえ _____

1 おとなが 6 にん、こどもが 8 にん います。
みんなで なんにん いますか。

しき：


こたえ

2 ゆうとさんは さかなを 5 ひき、あいさんは 6 ひき
つりました。さかなは、ぜんぶで なんびき つれましたか。


しき：

こたえ

3 にんじんは あわせて なんぼん ですか。しきを かきましょう。



9 ほん



4 ほん

しき：

 + = 




くりあがりのある
たしざん 9

● ぶんしょう もんだい

15

めざせ100点!



名まえ _____

1 かだんに しろい はなが 9ほん あります。あかい はなが 6ほん あります。はなは、ぜんぶで なんほん ありますか。
(35点)

しき :


こたえ

2 おやの いんこが 4わ、こどもの いんこが 8わ います。いんこは、ぜんぶで なんわ いますか。
(35点)


しき :

こたえ

3 さかなは あわせて なんびき ですか。しきをかきましょう。
(30点)



7 ひき



5 ひき

しき :

 + =





くりあがりのある
たしざん 9

● ぶんしょう もんだい

16

めざせ100点!



名まえ _____

1 すいそうに きんぎょが 9ひき います。7ひき もらいました。
きんぎょは、ぜんぶで なんびき になりましたか。

(35点)

しき：

こたえ

2 おとなが 6にん、こどもが 8にん います。
みんなで なんにん いますか。


(35点)

しき：


こたえ

3 えんぴつは あわせて なんほん ですか。しきをかきましょう。

(30点)



4ほん



9ほん

しき：

 + =



くりあがりのある
たしざん 9

◎ ぶんしょう もんだい



日にち： 月 日

名まえ _____

- 1 おとなが 6 にん、こどもが 9 にん います。
みんなで なんにん いますか。(うすいじはなぞりましょう。)

しき： $6 + 9 = 15$

こたえ (15 にん)

- 2 はとが 7 わいます。4 わ きました。
はとは、ぜんぶで なんわ になりましたか。(うすいじは
なぞりましょう。)

しき： $7 + 4 = 11$

こたえ (11 わ)

- 3 ゆうきさんは さかなを 8 ぴき、しほさんは 6 ぴき
つりました。さかなは、ぜんぶで なんびき つれましたか。

しき： $8 + 6 = 14$

こたえ (14 ひき)



くりあがりのある
たしざん 9

◎ ぶんしょう もんだい



日にち： 月 日

名まえ _____

1 すずめが 5わいます。8わ きました。

すずめは、ぜんぶで なんわに なりましたか。(うすいじは
なぞりましょう。)

しき： $5 + 8 = 13$

こたえ (13わ)

2 かなこさんは さかなを 7ひき、ゆうきさんは 9ひき
つりました。さかなは、ぜんぶで なんびき つれましたか。

しき： $7 + 9 = 16$

こたえ (16ひき)

3 おとなが 9にん、こどもが 8にん います。
みんなで なんにん いますか。

しき： $9 + 8 = 17$

こたえ (17にん)



くりあがりのある
たしざん 9

● ぶんしょう もんだい



日にち： 月 日

名まえ _____

1 すいそうに きんぎょが 6ぴき います。7ぴき もらいました。
きんぎょは、ぜんぶで なんぴき になりましたか。

しき： $6 + 7 = 13$

(うすいじは
なぞりましょう。)

こたえ (13 ぴき)

2 おやの とりが 3わ、こどもの とりが 9わ います。
とりは、ぜんぶで なんわ いますか。

しき： $3 + 9 = 12$

こたえ (12 わ)

3 かだんに しろい はなが 4ほん あります。あかい はなが
7ほん あります。はなは、ぜんぶで なんほん ありますか。

しき： $4 + 7 = 11$

こたえ (11 ほん)



くりあがりのある
たしざん 9

● ぶんしょう もんだい

4

日にち： 月 日

名まえ _____

1 けんたさんは さかなを 2 ひき、なみこさんは 9 ひき
つりました。さかなは、ぜんぶで なんびき つれましたか。

しき： $2 + 9 = 11$

(うすいじは
なぞりましょう。)

こたえ (11 ひき)

2 おとなが 6 にん、こどもが 6 にん います。
みんなで なんにん いますか。

しき： $6 + 6 = 12$

こたえ (12 にん)

3 すいそうに めだかが 9 ひき います。7 ひき もらいました。
めだかは、ぜんぶで なんびき になりましたか。

しき： $9 + 7 = 16$

こたえ (16 ひき)



くりあがりのある
たしざん 9

◎ ぶんしょう もんだい



日にち： 月 日

名まえ _____

- 1 おやのとりが 8わ、こどものとりが 3わ います。
とりは、ぜんぶで なんわ いますか。

しき： $8 + 3 = 11$

こたえ (11 わ)

- 2 すいそうに きんぎょが 5ひき います。7ひき もらいました。
きんぎょは、ぜんぶで なんびき になりましたか。

しき： $5 + 7 = 12$

こたえ (12 ひき)

- 3 かだんに きいろい はなが 9ほん あります。あかい はなが
6ほん あります。はなは、ぜんぶで なんほん ありますか。

しき： $9 + 6 = 15$

こたえ (15 ほん)



くりあがりのある
たしざん 9

◎ ぶんしょう もんだい



日にち： 月 日

名まえ _____

- 1 はとが 9わいます。2わ きました。
はとは、ぜんぶで なんわになりましたか。

しき： $9 + 2 = 11$

こたえ (11 わ)

- 2 かだんに あかい はなが 5ほん あります。きいろい はなが 8ほん あります。はなは、ぜんぶで なんほん ありますか。

しき： $5 + 8 = 13$

こたえ (13 ほん)

- 3 ゆうこさんは さかなを 8ひき、とおるさんは 9ひき つりました。さかなは、ぜんぶで なんひき つれましたか。

しき： $8 + 9 = 17$

こたえ (17 ひき)



くりあがりのある
たしざん 9

◎ ぶんしょう もんだい



日にち： 月 日

名まえ _____

1 すいそうに きんぎょが 8ひき います。4ひき もらいました。
きんぎょは、ぜんぶで なんびき になりましたか。

しき： $8 + 4 = 12$

こたえ $(12ひき)$

2 おやの いんこが 6わ、こどもの いんこが 5わ います。
とりは、ぜんぶで なんわ いますか。

しき： $6 + 5 = 11$

こたえ $(11わ)$

3 おとなが 9にん、こどもが 9にん います。
みんなで なんにん いますか。

しき： $9 + 9 = 18$

こたえ $(18にん)$



くりあがりのある
たしざん 9

◎ ぶんしょう もんだい



日にち： 月 日

名まえ _____

- 1 つばめが 7 わいます。8 わ きました。
つばめは、ぜんぶで なんわ になりましたか。

しき： $7 + 8 = 15$

こたえ (15 わ)

- 2 かなたさんは さかなを 9 ひき、るみさんは 5 ひき
つりました。さかなは、ぜんぶで なんびき つれましたか。

しき： $9 + 5 = 14$

こたえ (14 ひき)

- 3 かだんに あかい はなが 6 ぽん あります。しろい はなが
7 ぽん あります。はなは、ぜんぶで なんぽん ありますか。

しき： $6 + 7 = 13$

こたえ (13 ぽん)



くりあがりのある
たしざん 9

◎ ぶんしょう もんだい



日にち： 月 日

名まえ _____

1 すいそうに めだかが 4 ひき います。9 ひき もらいました。
めだかは、ぜんぶで なんびき になりましたか。

しき： $4 + 9 = 13$

こたえ (13 ひき)

2 おやの とりが 7 わ、こどもの とりが 7 わ います。
とりは、ぜんぶで なんわ いますか。

しき： $7 + 7 = 14$

こたえ (14 わ)

3 けんとさんは さかなを 9 ひき、かなさんは 3 ひき
つりました。さかなは、ぜんぶで なんびき つれましたか。

しき： $9 + 3 = 12$

こたえ (12 ひき)



くりあがりのある
たしざん 9

◎ ぶんしょう もんだい

10

日にち： 月 日

名まえ _____

1 おとなが 7 にん、こどもが 5 にん います。
みんなで なんにん いますか。

しき： $7 + 5 = 12$


こたえ (12 にん)

2 はとが 3 わ います。8 わ きました。
はとは、ぜんぶで なんわ になりましたか。


しき： $3 + 8 = 11$

こたえ (11 わ)

3 とまとは あわせて なんこ ですか。しきをかきましょう。



6 こ



9 こ

しき： $6 + 9 = 15$





くりあがりのある
たしざん 9

● ぶんしょう もんだい



日にち： 月 日

名まえ _____

- 1 すずめが 8わいます。8わ きました。
すずめは、ぜんぶで なんわになりましたか。

しき： $8 + 8 = 16$


こたえ (16 わ)

- 2 かだんに あかい はなが 7ほん あります。しろい はなが
6ほん あります。はなは、ぜんぶで なんほん ありますか。


しき： $7 + 6 = 13$

こたえ (13 ほん)

- 3 いちごは あわせて なんこ ですか。しきをかきましょう。



5 こ



7 こ

しき： $5 + 7 = 12$





くりあがりのある
たしざん 9

◎ ぶんしょう もんだい

12

日にち： 月 日

名まえ _____

1 すいそうに きんぎょが 5ひき います。9ひき もらいました。
きんぎょは、ぜんぶで なんびき になりましたか。

しき： $5 + 9 = 14$


こたえ $\left(14ひき \right)$

2 おやの とりが 8わ、こどもの とりが 7わ います。
とりは、ぜんぶで なんわ いますか。


しき： $8 + 7 = 15$

こたえ $\left(15わ \right)$

3 みかんは あわせて なんこ ですか。しきをかきましょう。



6こ



5こ

しき： $\boxed{6} + \boxed{5} = \boxed{11}$



くりあがりのある
たしざん 9

● ぶんしょう もんだい

13

日にち： 月 日

名まえ _____

1 かだんに きいろい はなが 8ぽん あります。あかい はなが 5ぽん あります。はなは、ぜんぶで なんぽん ありますか。

しき： $8 + 5 = 13$

こたえ (13 ぽん)

2 はとが 9わいます。3わ きました。はとは、ぜんぶで なんわ になりましたか。

しき： $9 + 3 = 12$

こたえ (12 わ)

3 けえきは あわせて なんこ ですか。しきをかきましょう。



4 こ



7 こ

しき： $4 + 7 = 11$





くりあがりのある
たしざん 9

◎ ぶんしょう もんだい

14

日にち： 月 日

名まえ _____

1 おとなが 6 にん、こどもが 8 にん います。
みんなで なんにん いますか。

しき： $6 + 8 = 14$


こたえ $\left(14 \text{ にん} \right)$

2 ゆうとさんは さかなを 5 ひき、あいさんは 6 ひき
つりました。さかなは、ぜんぶで なんびき つれましたか。


しき： $5 + 6 = 11$

こたえ $\left(11 \text{ ひき} \right)$

3 にんじんは あわせて なんぼん ですか。しきをかきましょう。



9 ほん



4 ほん

しき： $\boxed{9} + \boxed{4} = \boxed{13}$




くりあがりのある
たしざん 9

● ぶんしょう もんだい

15

めざせ100点!



名まえ _____

- 1 かだんに しろい はなが 9ほん あります。あかい はなが 6ほん あります。はなは、ぜんぶで なんほん ありますか。
(35点)

しき： $9 + 6 = 15$


こたえ $(15ほん)$

- 2 おやの いんこが 4わ、こどもの いんこが 8わ います。いんこは、ぜんぶで なんわ いますか。
(35点)

しき： $4 + 8 = 12$

こたえ $(12わ)$

- 3 さかなは あわせて なんびき ですか。しきをかきましょう。
(30点)



7 ひき



5 ひき

しき： $7 + 5 = 12$






くりあがりのある
たしざん 9

● ぶんしょう もんだい

16

めざせ100点!



名まえ _____

1 すいそうに きんぎょが 9ひき います。7ひき もらいました。
きんぎょは、ぜんぶで なんびき になりましたか。

(35点)

しき： $9 + 7 = 16$

こたえ $\left(16 \text{ ひき} \right)$

2 おとなが 6にん、こどもが 8にん います。
みんなで なんにん いますか。


(35点)

しき： $6 + 8 = 14$


こたえ $\left(14 \text{ にん} \right)$

3 えんぴつは あわせて なんぼん ですか。しきをかきましょう。

(30点)



4ほん



9ほん

しき： $\boxed{4} + \boxed{9} = \boxed{13}$

