



くりあがりのある  
たしざん 8


● えとぶんしょうから  
しきをつくろう




日にち：            月            日

名まえ \_\_\_\_\_

1 みかんは あわせて なんこ ですか。しきをかきましょう。  
(うすいじは なぞりましょう。)




8 こ




6 こ

しき：  +  =

2 いちごは あわせて なんこ ですか。しきをかきましょう。  
(うすいじは なぞりましょう。)



5 こ



7 こ

しき：  +  =



くりあがりのある  
たしざん 8


● えとぶんしょうから  
しきをつくろう




日にち：            月            日

名まえ \_\_\_\_\_

1 にんじんは あわせて なんぼん ですか。しきをかきましょう。  
(うすいじは なぞりましょう。)



9 ぼん



3 ぼん

しき：  +  =

2 けえきは あわせて なんこ ですか。しきをかきましょう。



7 こ



8 こ

しき：  +  =





くりあがりのある  
たしざん ⑧


● えとぶんしょうから  
しきをつくろう




日にち：            月            日

名まえ \_\_\_\_\_

1 えんぴつは あわせて なんぼん ですか。しきをかきましょう。  
(うすいじは なぞりましょう。)




6 ぼん




9 ぼん

しき：  +  =

2 とまとは あわせて なんこ ですか。しきをかきましょう。



8 こ



5 こ

しき：  +  =





くりあがりのある  
たしざん ⑧


● えとぶんしょうから  
しきをつくろう




日にち：            月            日

名まえ \_\_\_\_\_

1 さかなは あわせて なんびき ですか。しきをかきましょう。




2 ひき




9 ひき

しき：  +  =

2 とりは あわせて なんわ ですか。しきをかきましょう。



9 わ



7 わ

しき：  +  =





くりあがりのある  
たしざん 8


● えとぶんしょうから  
しきをつくろう



日にち：            月            日

名まえ \_\_\_\_\_

1 けえきは あわせて なんこ ですか。しきをかきましょう。




4 こ




7 こ

しき：  +  =

2 にんじんは あわせて なんぽん ですか。しきをかきましょう。



6 ぽん



6 ぽん

しき：  +  =



くりあがりのある  
たしざん 8


● えとぶんしょうから  
しきをつくろう




日にち：            月            日

名まえ \_\_\_\_\_

1 いちごは あわせて なんこ ですか。しきを かきましょう。




7 こ




4 こ

しき：  +  =

2 とまとは あわせて なんこ ですか。しきを かきましょう。



5 こ



9 こ

しき：  +  =





くりあがりのある  
たしざん 8

● えとぶんしょうから  
しきをつくろう



日にち：            月            日

名まえ \_\_\_\_\_

1 けえきは あわせて なんこ ですか。しきをかきましょう。



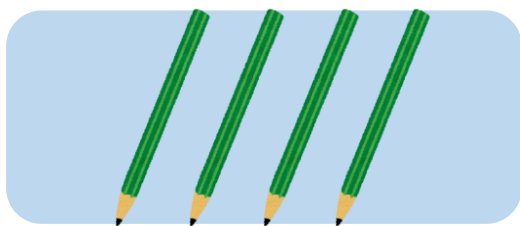
8 こ




3 こ

しき： +  =

2 えんぴつは あわせて なんほん ですか。しきをかきましょう。



4 ほん



9 ほん

しき： +  =



くりあがりのある  
たしざん 8


● えとぶんしょうから  
しきをつくろう




日にち：            月            日

名まえ \_\_\_\_\_

1 とりは あわせて なんわ ですか。しきをかきましょう。




9わ




8わ

しき： +  =

2 みかんは あわせて なんこ ですか。しきをかきましょう。



6こ



5こ

しき： +  =





くりあがりのある  
たしざん 8


● えとぶんしょうから  
しきをつくろう




日にち： 月 日

名まえ \_\_\_\_\_

1 さかなは あわせて なんびき ですか。しきをかきましょう。




3 びき




9 ひき

しき：  +  =

2 にんじんは あわせて なんぼん ですか。しきをかきましょう。



8 ぼん



7 ぼん

しき：  +  =



くりあがりのある  
たしざん 8


● えとぶんしょうから  
しきをつくろう

10


日にち：            月            日

名まえ \_\_\_\_\_

1 とまとは あわせて なんこ ですか。しきを かきましょう。



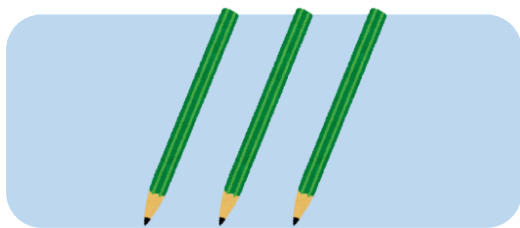
7こ




9こ

しき： +  =

2 えんぴつは あわせて なんぼん ですか。しきを かきましょう。



3ぼん



8ぼん

しき： +  =



くりあがりのある  
たしざん 8


● えとぶんしょうから  
しきをつくろう




日にち：            月            日

名まえ \_\_\_\_\_

1 とりは あわせて なんわ ですか。しきをかきましょう。




4 わ




8 わ

しき： +  =

2 とまとは あわせて なんこ ですか。しきをかきましょう。



9 こ



5 こ

しき： +  =





くりあがりのある  
たしざん 8


● えとぶんしょうから  
しきをつくろう

12


日にち：            月            日

名まえ \_\_\_\_\_

1 いちごは あわせて なんこ ですか。しきをかきましょう。




6 こ




8 こ

しき：  +  =

2 にんじんは あわせて なんぼん ですか。しきをかきましょう。



8 ぼん



4 ぼん

しき：  +  =



くりあがりのある  
たしざん 8


● えとぶんしょうから  
しきをつくろう

13


日にち：            月            日

名まえ \_\_\_\_\_

1 えんぴつは あわせて なんぼん ですか。しきをかきましょう。



7 ほん



6 ぽん

しき： +  =

2 けえきは あわせて なんこ ですか。しきをかきましょう。



9 こ



9 こ

しき： +  =



くりあがりのある  
たしざん 8


● えとぶんしょうから  
しきをつくろう

14


日にち：            月            日

名まえ \_\_\_\_\_

1 さかなは あわせて なんびき ですか。しきをかきましょう。




9 ひき




2 ひき

しき： +  =

2 みかんは あわせて なんこ ですか。しきをかきましょう。



5 こ



8 こ

しき： +  =




くりあがりのある  
たしざん 8

● えとぶんしょうから  
しきをつくろう

15


めざせ100点!




名まえ \_\_\_\_\_

1 とりは あわせて なんわ ですか。しきをかきましょう。

(50点)



5 わ




6 わ


しき :  +  =

2 さかなは あわせて なんびき ですか。しきをかきましょう。

(50点)



9 ひき



4 ひき

しき :  +  =






くりあがりのある  
たしざん 8

● えとぶんしょうから  
しきをつくろう


16

めざせ100点!




名まえ \_\_\_\_\_

1 みかんは あわせて なんこ ですか。しきをかきましょう。(50点)




8こ




9こ

しき： +  =

2 いちごは あわせて なんこ ですか。しきをかきましょう。(50点)



7こ



5こ

しき： +  =





くりあがりのある  
たしざん 8


● えとぶんしょうから  
しきをつくろう




日にち：            月            日

名まえ \_\_\_\_\_

1 みかんは あわせて なんこ ですか。しきをかきましょう。  
(うすいじは なぞりましょう。)




8 こ




6 こ

しき：  $\boxed{8} + \boxed{6} = \boxed{14}$

2 いちごは あわせて なんこ ですか。しきをかきましょう。  
(うすいじは なぞりましょう。)



5 こ



7 こ

しき：  $\boxed{5} + \boxed{7} = \boxed{12}$





くりあがりのある  
たしざん 8


● えとぶんしょうから  
しきをつくろう




日にち：            月            日

名まえ \_\_\_\_\_

1 にんじんは あわせて なんぼん ですか。しきをかきましょう。  
(うすいじは なぞりましょう。)



9 ぼん



3 ぼん

しき：  $\boxed{9} + \boxed{3} = \boxed{12}$

2 けえきは あわせて なんこ ですか。しきをかきましょう。



7 こ



8 こ

しき：  $\boxed{7} + \boxed{8} = \boxed{15}$



くりあがりのある  
たしざん ⑧


● えとぶんしょうから  
しきをつくろう




日にち：            月            日

名まえ \_\_\_\_\_

1 えんぴつは あわせて なんぼん ですか。しきをかきましょう。  
(うすいじは なぞりましょう。)




6 ぼん




9 ぼん

しき：  $\boxed{6} + \boxed{9} = \boxed{15}$

2 とまとは あわせて なんこ ですか。しきをかきましょう。



8 こ



5 こ

しき：  $\boxed{8} + \boxed{5} = \boxed{13}$





くりあがりのある  
たしざん 8


● えとぶんしょうから  
しきをつくろう




日にち：            月            日

名まえ \_\_\_\_\_

1 さかなは あわせて なんびき ですか。しきをかきましょう。




2 ひき




9 ひき

しき：  $\boxed{2} + \boxed{9} = \boxed{11}$

2 とりは あわせて なんわ ですか。しきをかきましょう。



9 わ



7 わ

しき：  $\boxed{9} + \boxed{7} = \boxed{16}$





くりあがりのある  
たしざん 8

● えとぶんしょうから  
しきをつくろう



日にち：            月            日

名まえ \_\_\_\_\_

1 けえきは あわせて なんこ ですか。しきをかきましょう。




4 こ




7 こ

しき：  $\boxed{4} + \boxed{7} = \boxed{11}$

2 にんじんは あわせて なんぽん ですか。しきをかきましょう。



6 ぽん



6 ぽん

しき：  $\boxed{6} + \boxed{6} = \boxed{12}$



くりあがりのある  
たしざん 8


● えとぶんしょうから  
しきをつくろう




日にち：            月            日

名まえ \_\_\_\_\_

1 いちごは あわせて なんこ ですか。しきを かきましょう。




7 こ




4 こ

しき：  $\boxed{7} + \boxed{4} = \boxed{11}$

2 とまとは あわせて なんこ ですか。しきを かきましょう。



5 こ



9 こ

しき：  $\boxed{5} + \boxed{9} = \boxed{14}$





くりあがりのある  
たしざん 8

● えとぶんしょうから  
しきをつくろう



日にち：            月            日

名まえ \_\_\_\_\_

1 けえきは あわせて なんこ ですか。しきをかきましょう。



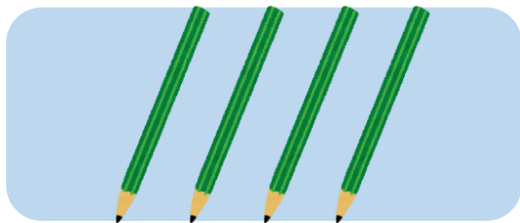
8 こ




3 こ

しき：  $\boxed{8} + \boxed{3} = \boxed{11}$

2 えんぴつは あわせて なんほん ですか。しきをかきましょう。



4 ほん



9 ほん

しき：  $\boxed{4} + \boxed{9} = \boxed{13}$





くりあがりのある  
たしざん 8


● えとぶんしょうから  
しきをつくろう




日にち：            月            日

名まえ \_\_\_\_\_

1 とりは あわせて なんわ ですか。しきをかきましょう。




9わ




8わ

しき：  $\boxed{9} + \boxed{8} = \boxed{17}$

2 みかんは あわせて なんこ ですか。しきをかきましょう。



6こ



5こ

しき：  $\boxed{6} + \boxed{5} = \boxed{11}$





くりあがりのある  
たしざん 8


● えとぶんしょうから  
しきをつくろう




日にち：            月            日

名まえ \_\_\_\_\_

1 さかなは あわせて なんびき ですか。しきをかきましょう。




3 びき




9 ひき

しき：  $\boxed{3} + \boxed{9} = \boxed{12}$

2 にんじんは あわせて なんぼん ですか。しきをかきましょう。



8 ぼん



7 ぼん

しき：  $\boxed{8} + \boxed{7} = \boxed{15}$





くりあがりのある  
たしざん 8


● えとぶんしょうから  
しきをつくろう

10


日にち：            月            日

名まえ \_\_\_\_\_

1 とまとは あわせて なんこ ですか。しきをかきましょう。



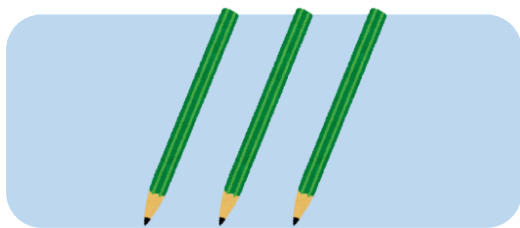
7 こ




9 こ

しき：  $\boxed{7} + \boxed{9} = \boxed{16}$

2 えんぴつは あわせて なんぼん ですか。しきをかきましょう。



3 ぼん



8 ぼん

しき：  $\boxed{3} + \boxed{8} = \boxed{11}$



くりあがりのある  
たしざん 8


● えとぶんしょうから  
しきをつくろう




日にち：            月            日

名まえ \_\_\_\_\_

1 とりは あわせて なんわ ですか。しきをかきましょう。




4 わ




8 わ

しき：  $\boxed{4} + \boxed{8} = \boxed{12}$

2 とまとは あわせて なんこ ですか。しきをかきましょう。



9 こ



5 こ

しき：  $\boxed{9} + \boxed{5} = \boxed{14}$





くりあがりのある  
たしざん 8


● えとぶんしょうから  
しきをつくろう

12


日にち：            月            日

名まえ \_\_\_\_\_

1 いちごは あわせて なんこ ですか。しきをかきましょう。




6 こ




8 こ

しき：  $\boxed{6} + \boxed{8} = \boxed{14}$

2 にんじんは あわせて なんぼん ですか。しきをかきましょう。



8 ぼん



4 ぼん

しき：  $\boxed{8} + \boxed{4} = \boxed{12}$



くりあがりのある  
たしざん 8


● えとぶんしょうから  
しきをつくろう

13


日にち：            月            日

名まえ \_\_\_\_\_

1 えんぴつは あわせて なんぼん ですか。しきをかきましょう。



7 ほん



6 ぽん

しき：  $\boxed{7} + \boxed{6} = \boxed{13}$

2 けえきは あわせて なんこ ですか。しきをかきましょう。



9 こ



9 こ

しき：  $\boxed{9} + \boxed{9} = \boxed{18}$



くりあがりのある  
たしざん 8


● えとぶんしょうから  
しきをつくろう

14


日にち：            月            日

名まえ \_\_\_\_\_

1 さかなは あわせて なんびき ですか。しきをかきましょう。




9 ひき




2 ひき

しき：  $\boxed{9} + \boxed{2} = \boxed{11}$

2 みかんは あわせて なんこ ですか。しきをかきましょう。



5 こ



8 こ

しき：  $\boxed{5} + \boxed{8} = \boxed{13}$




くりあがりのある  
たしざん 8

● えとぶんしょうから  
しきをつくろう

15

めざせ100点!




名まえ \_\_\_\_\_

1 とりは あわせて なんわ ですか。しきをかきましょう。

(50点)



5 わ




6 わ


しき :  $\boxed{5} + \boxed{6} = \boxed{11}$

2 さかなは あわせて なんびき ですか。しきをかきましょう。

(50点)



9 ひき



4 ひき

しき :  $\boxed{9} + \boxed{4} = \boxed{13}$




くりあがりのある  
たしざん 8

● えとぶんしょうから  
しきをつくろう


16

めざせ100点!




名まえ \_\_\_\_\_

1 みかんは あわせて なんこ ですか。しきをかきましょう。(50点)




8こ




9こ

しき :  $\boxed{8} + \boxed{9} = \boxed{17}$

2 いちごは あわせて なんこ ですか。しきをかきましょう。(50点)



7こ



5こ

しき :  $\boxed{7} + \boxed{5} = \boxed{12}$