



くりあがりのある  
たしざん 10

● けいさんのしかたを  
かんがえよう

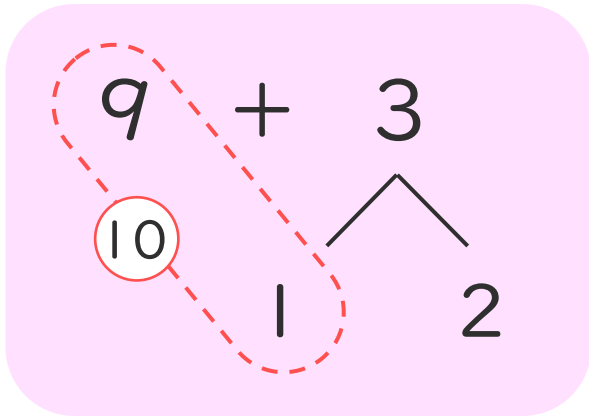


日にち： 月 日

名まえ \_\_\_\_\_

- ・  $9 + 3$  のけいさんのしかたをかんがえます。

にあうかずをかきましょう。(うすいじはなぞりましょう。)



① 9はあと  で 10。

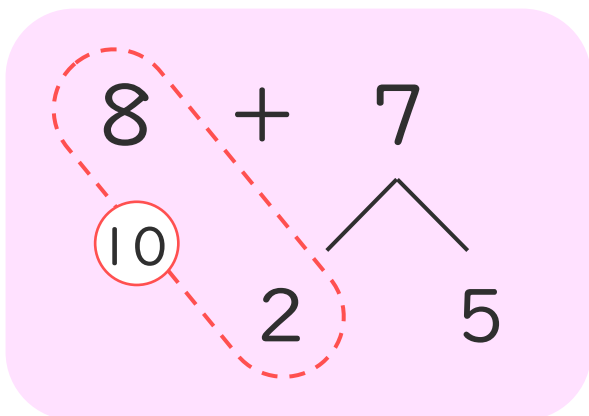
② 3を  と 2にわける。

③ 9に  をたして 10。

④ 10と  で 12。

- ・  $8 + 7$  のけいさんをします。

にあうかずをかきましょう。(うすいじはなぞりましょう。)



① 8はあと  で 10。

② 5を  と 5にわける。

③ 8に  をたして 10。

④ 10と  で 15。





くりあがりのある  
たしざん 10

● けいさんのしかたを  
かんがえよう

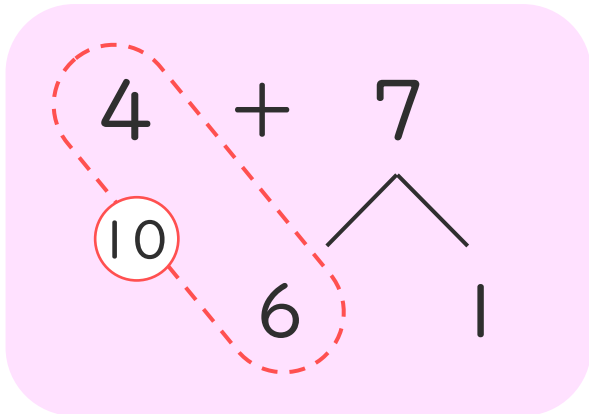


日にち： 月 日

名まえ \_\_\_\_\_

- ・  $4 + 7$  のけいさんのしかたをかんがえます。

にあうかずをかきましょう。(うすいじはなぞりましょう。)



① 4はあと  で10。

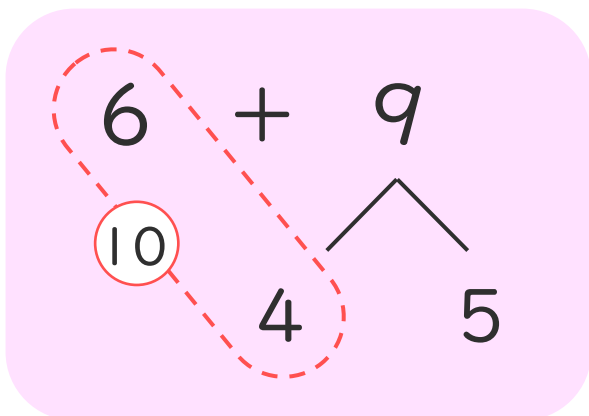
② 7を  と1にわける。

③ 4に  をたして10。

④ 10と  で11。

- ・  $6 + 9$  のけいさんをします。

にあうかずをかきましょう。



① 6はあと  で10。

② 9を  と5にわける。

③ 6に  をたして10。

④ 10と  で15。





くりあがりのある  
たしざん 10

● けいさんのしかたを  
かんがえよう

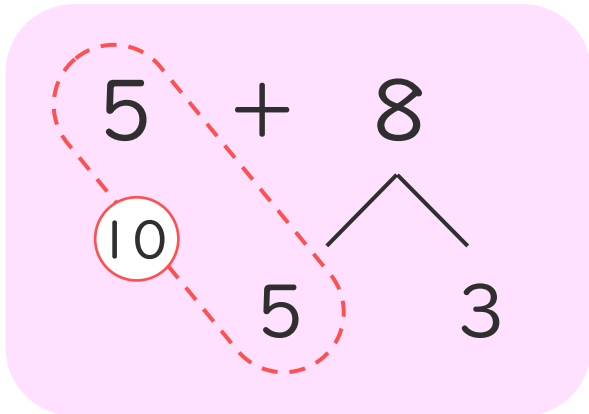


日にち：        月        日

名まえ \_\_\_\_\_

- 5 + 8 のけいさんのしかたをかんがえます。

にあうかずをかきましょう。(うすいじはなぞりましょう。)



① 5はあと  で10。

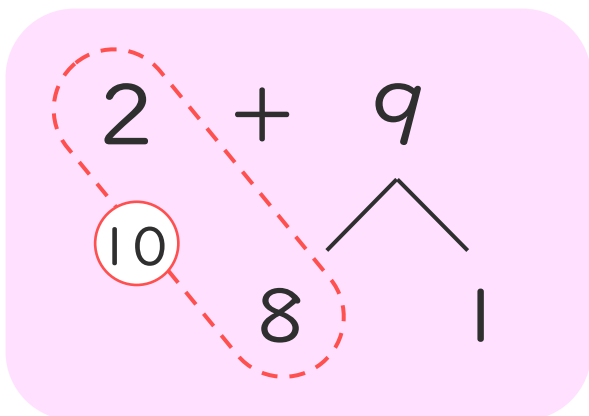
② 8を  と3にわける。

③ 5に  をたして10。

④ 10と  で13。

- 2 + 9 のけいさんのしかたをかんがえます。

にあうかずをかきましょう。



① 2はあと  で10。

② 9を  と1にわける。

③ 2に  をたして10。

④ 10と  で11。





くりあがりのある  
たしざん 10

● けいさんのしかたを  
かんがえよう

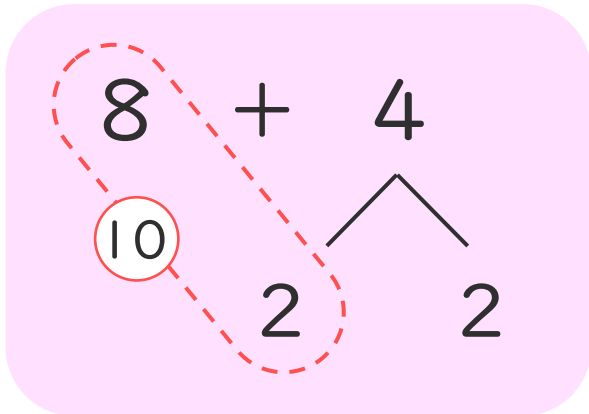


日にち： 月 日

名まえ \_\_\_\_\_

- ・  $8 + 4$  のけいさんのしかたをかんがえます。

にあうかずをかきましょう。(うすいじはなぞりましょう。)



① 8はあと  で10。

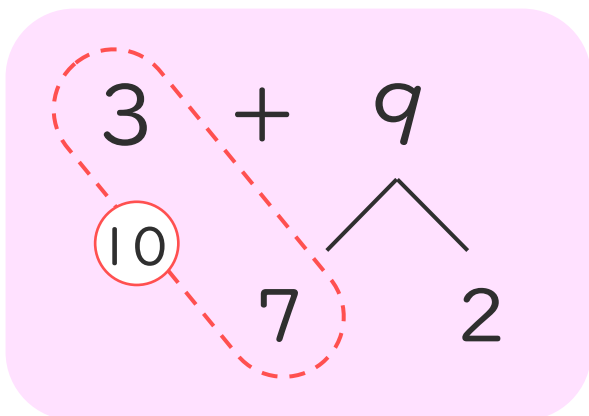
② 4を  と2にわける。

③ 8に  をたして10。

④ 10と  で12。

- ・  $3 + 9$  のけいさんのしかたをかんがえます。

にあうかずをかきましょう。



① 3はあと  で10。

② 9を  と2にわける。

③ 3に  をたして10。

④ 10と  で12。





くりあがりのある  
たしざん 10

● けいさんのしかたを  
かんがえよう

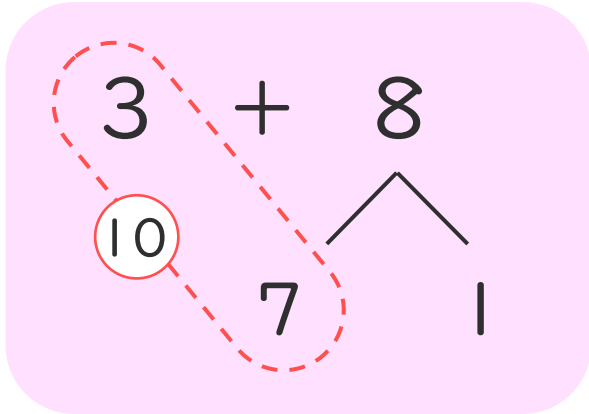


日にち： 月 日

名まえ \_\_\_\_\_

- ・  $3 + 8$  のけいさんのしかたをかんがえます。

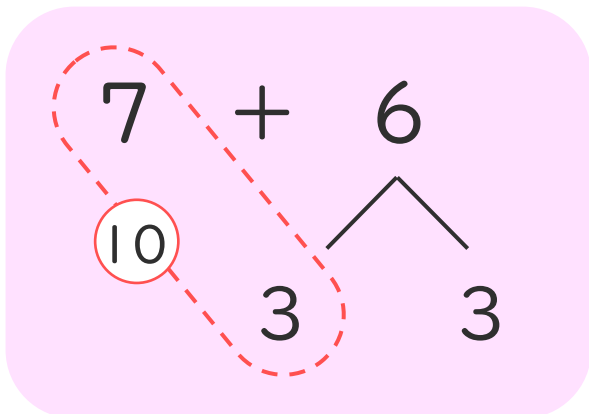
にあうかずをかきましょう。



- ① 3はあと  で10。
- ② 8を  と1にわける。
- ③ 3に  をたして10。
- ④ 10と  で11。

- ・  $7 + 6$  のけいさんのしかたをかんがえます。

にあうかずをかきましょう。



- ① 7はあと  で10。
- ② 6を  と3にわける。
- ③ 7に  をたして10。
- ④ 10と  で13。



くりあがりのある  
たしざん 10

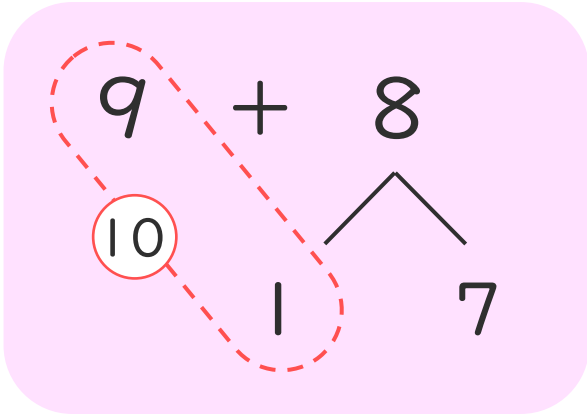
● けいさんのしかたを  
かんがえよう



日にち： 月 日

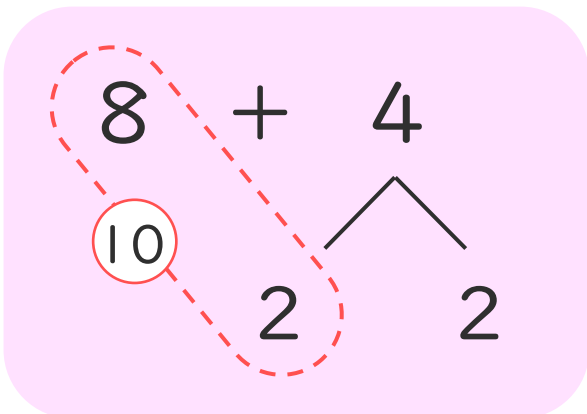
名まえ \_\_\_\_\_

- ・  $9 + 8$  のけいさんのしかたをかんがえます。  
□にあうかずをかきましょう。



- ① 9はあと□で10。
- ② 8を□と7にわける。
- ③ 9に□をたして10。
- ④ 10と□で17。

- ・  $8 + 4$  のけいさんのしかたをかんがえます。  
□にあうかずをかきましょう。



- ① 8はあと□で10。
- ② 4を□と2にわける。
- ③ 8に□をたして10。
- ④ 10と□で12。





くりあがりのある  
たしざん 10

● けいさんのしかたを  
かんがえよう

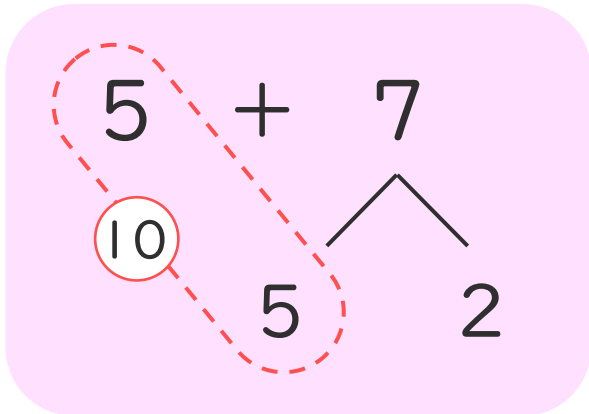


日にち： 月 日

名まえ \_\_\_\_\_

- ・  $5 + 7$  のけいさんのしかたをかんがえます。

にあうかずをかきましょう。



① 5はあと  で10。

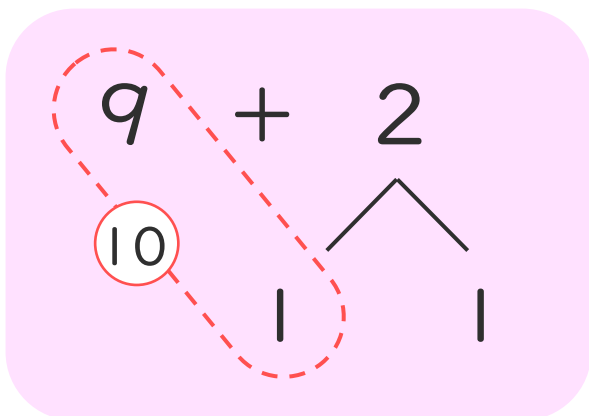
② 7を  と2にわける。

③ 5に  をたして10。

④ 10と  で12。

- ・  $9 + 2$  のけいさんのしかたをかんがえます。

にあうかずをかきましょう。



① 9はあと  で10。

② 2を  と1にわける。

③ 9に  をたして10。

④ 10と  で11。





くりあがりのある  
たしざん 10

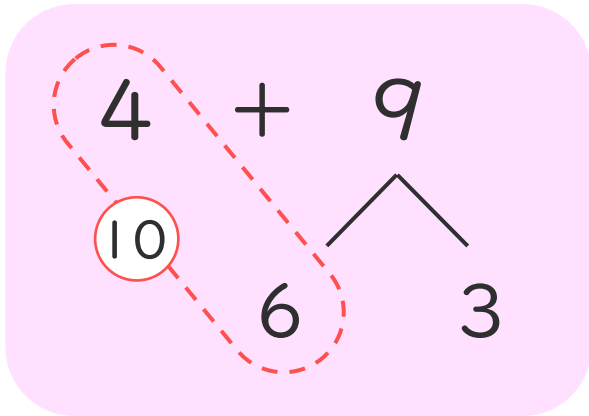
● けいさんのしかたを  
かんがえよう



日にち： 月 日

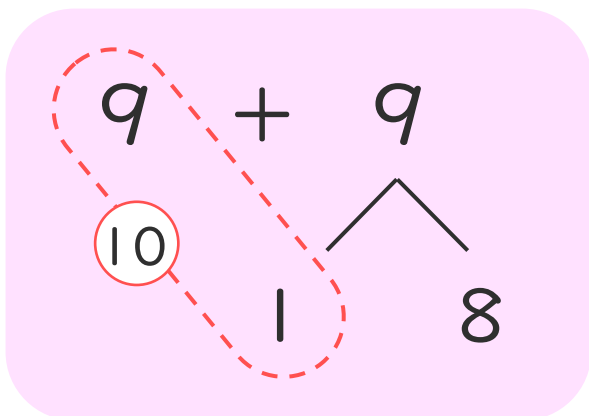
名まえ \_\_\_\_\_

- ・  $4 + 9$  のけいさんのしかたをかんがえます。  
□にあうかずをかきましょう。



- ① 4はあと□で10。
- ② 9を□と3にわける。
- ③ 4に□をたして10。
- ④ 10と□で13。

- ・  $9 + 9$  のけいさんのしかたをかんがえます。  
□にあうかずをかきましょう。



- ① 9はあと□で10。
- ② 9を□と8にわける。
- ③ 9に□をたして10。
- ④ 10と□で18。







くりあがりのある  
たしざん 10

● けいさんのしかたを  
かんがえよう

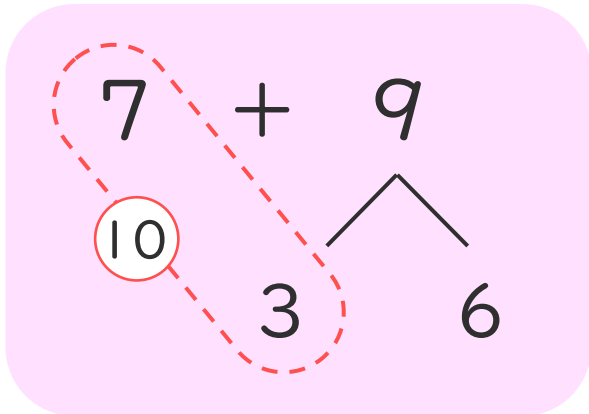


日にち：        月        日

名まえ \_\_\_\_\_

・  $7 + 9$  のけいさんのしかたをかんがえます。

にあうかずをかきましょう。



① 7はあと  で10。

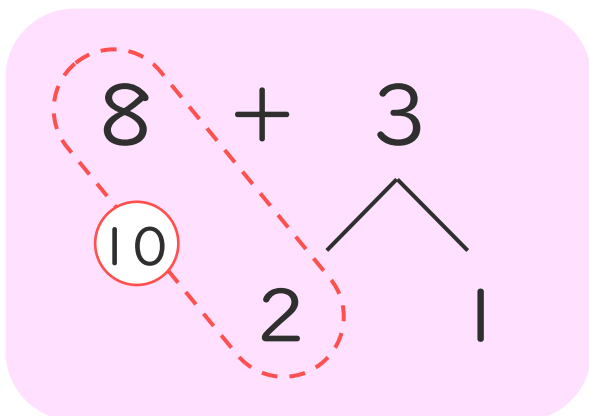
② 9を  と6にわける。

③ 7に  をたして10。

④ 10と  で16。

・  $8 + 3$  のけいさんのしかたをかんがえます。

にあうかずをかきましょう。



① 8はあと  で10。

② 3を  と1にわける。

③ 8に  をたして10。

④ 10と  で11。





くりあがりのある  
たしざん 10

● けいさんのしかたを  
かんがえよう

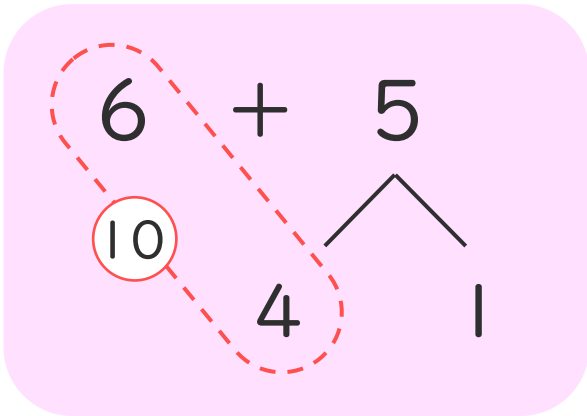


日にち： 月 日

名まえ \_\_\_\_\_

1  $6 + 5$  のけいさんのしかたをかんがえます。

にあうかずをかきましょう。



① 6はあと  で10。

② 5を  と1にわける。

③ 6に  をたして10。

④ 10と  で11。

2 おやのいんこが4わ、こどものいんこが8わいます。  
いんこは、ぜんぶでなんわいますか。

しき：

こたえ ( )





くりあがりのある  
たしざん 10

● けいさんのしかたを  
かんがえよう

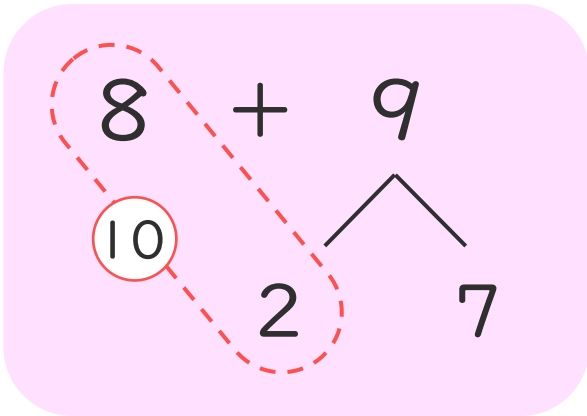


日にち： 月 日

名まえ \_\_\_\_\_

1  $8 + 9$  のけいさんのしかたをかんがえます。

にあうかずをかきましょう。



① 8はあと  で10。

② 9を  と7にわける。

③ 8に  をたして10。

④ 10と  で17。

2 おとなが9にん、こどもが4にんいます。  
みんなでなんにんいますか。

しき：

こたえ ( )





くりあがりのある  
たしざん 10

● けいさんのしかたを  
かんがえよう

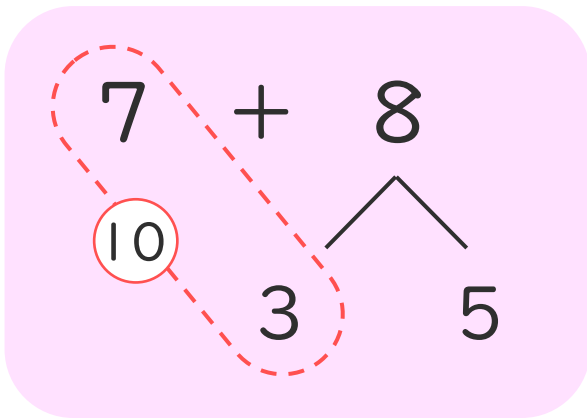
12

日にち： 月 日

名まえ \_\_\_\_\_

1 7 + 8 の けいさんのしかたを かんがえます。

に あう かず を かき まし ょう。



① 7 は あと  で 10。

② 8 を  と 5 に わける。

③ 7 に  を たして 10。

④ 10 と  で 15。

2 はとが 6 わいます。6 わ きました。

はとは、ぜんぶで なんわ に なり ました か。

しき：

こたえ ( )



くりあがりのある  
たしざん 10

● けいさんのしかたを  
かんがえよう

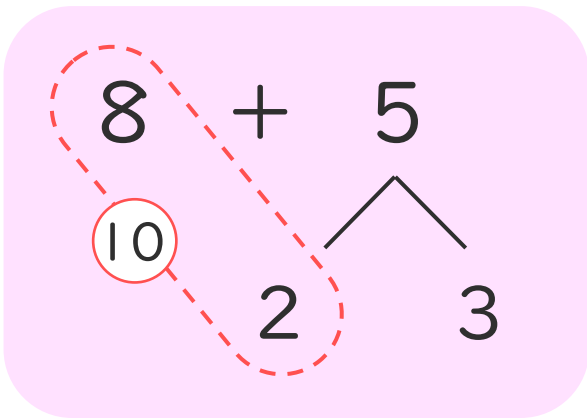
13

日にち： 月 日

名まえ \_\_\_\_\_

1  $8 + 5$  のけいさんのしかたをかんがえます。

にあうかずをかきましょう。



① 8はあと  で10。

② 5を  と3にわける。

③ 8に  をたして10。

④ 10と  で13。

2 すいそうにめだかが9ひきいます。7ひきもらいました。  
めだかは、ぜんぶでなんびきになりましたか。

しき：

こたえ ( )



くりあがりのある  
たしざん 10

● けいさんのしかたを  
かんがえよう

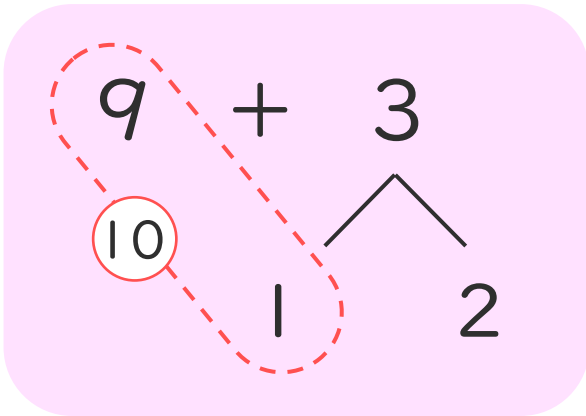
14

日にち： 月 日

名まえ \_\_\_\_\_

1  $9 + 3$  のけいさんのしかたをかんがえます。

にあうかずをかきましょう。



① 9はあと  で10。

② 3を  と2にわける。

③ 9に  をたして10。

④ 10と  で12。

2 かだんにしろいはなが7ほんあります。あかいはなが7ほんあります。はなは、ぜんぶでなんぼんありますか。

しき：

こたえ ( )



くりあがりのある  
たしざん 10

● けいさんのしかたを  
かんがえよう

15

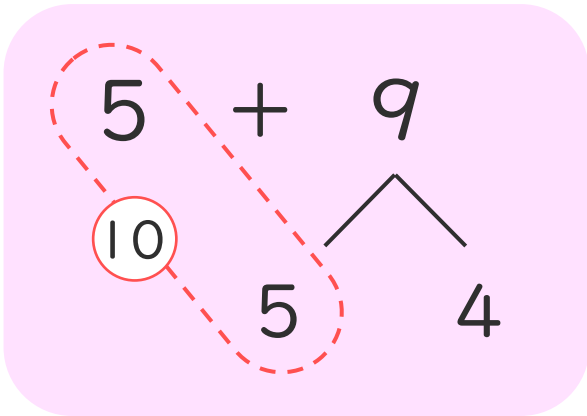
めざせ80点!



名まえ \_\_\_\_\_

1 6 + 5 の けいさんのしかたを かんがえます。

に あう かず を かき まし ょう。 (各15点)



① 5 は あと  で 10。

② 9 を  と 4 に わける。

③ 5 に  を たして 10。

④ 10 と  で 14。

2 ゆうきさんは さかなを 8ぴき、しほさんは 6ぴき  
つりました。さかなは、ぜんぶで なんびき つれましたか。

(40点)

しき :

こたえ ( )



くりあがりのある  
たしざん 10

● けいさんのしかたを  
かんがえよう

16

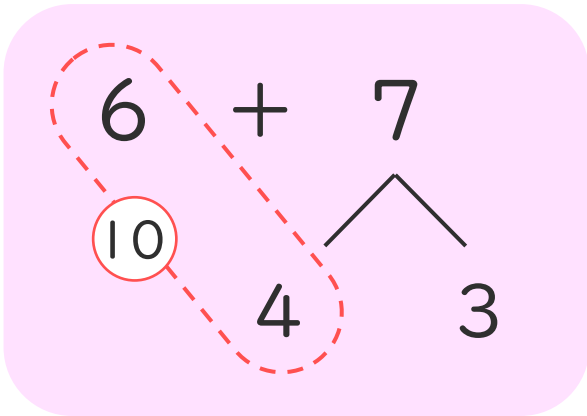
めざせ80点!



名まえ \_\_\_\_\_

1  $6 + 7$  のけいさんのしかたをかんがえます。

にあうかずをかきましょう。(各15点)



① 6はあと  で10。

② 7を  と3にわける。

③ 6に  をたして10。

④ 10と  で13。

2 おやのとりが5わ、こどものとりが6わいます。

とりは、ぜんぶでなんわいますか。

(40点)

しき：

こたえ ( )





くりあがりのある  
たしざん 10

● けいさんのしかたを  
かんがえよう

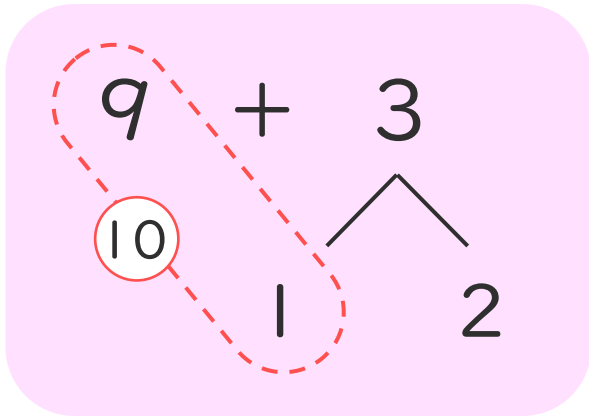


日にち：            月            日

名まえ \_\_\_\_\_

- ・  $9 + 3$  のけいさんのしかたをかんがえます。

にあうかずをかきましょう。(うすいじはなぞりましょう。)



① 9はあと  で10。

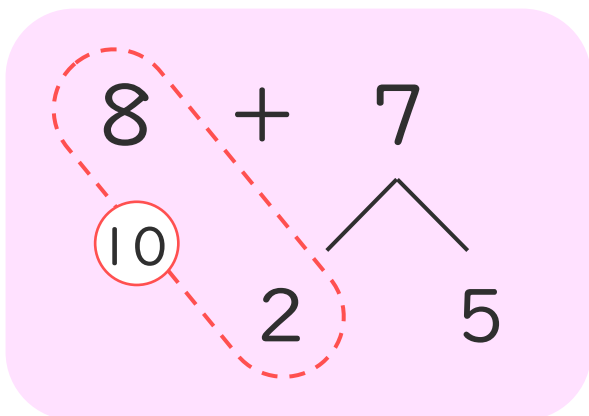
② 3を  と2にわける。

③ 9に  をたして10。

④ 10と  で12。

- ・  $8 + 7$  のけいさんをします。

にあうかずをかきましょう。(うすいじはなぞりましょう。)



① 8はあと  で10。

② 5を  と5にわける。

③ 8に  をたして10。

④ 10と  で15。





くりあがりのある  
たしざん 10

● けいさんのしかたを  
かんがえよう

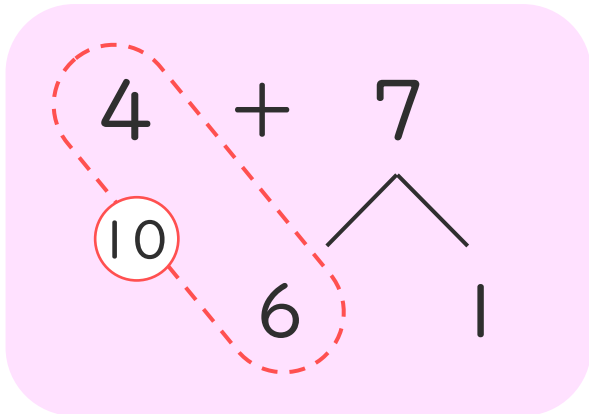


日にち： 月 日

名まえ \_\_\_\_\_

- ・  $4 + 7$  のけいさんのしかたをかんがえます。

にあうかずをかきましょう。(うすいじはなぞりましょう。)



① 4はあと  で10。

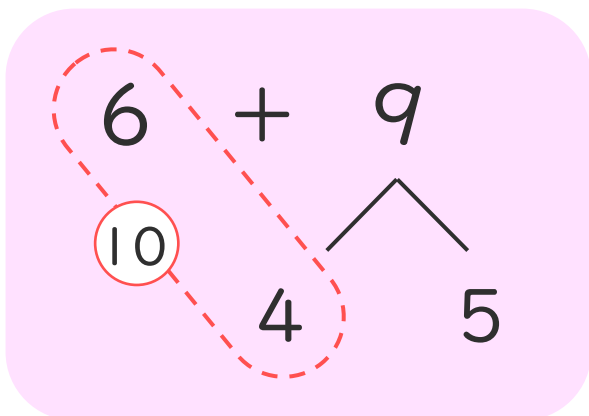
② 7を  と1にわける。

③ 4に  をたして10。

④ 10と  で11。

- ・  $6 + 9$  のけいさんのしかたをかんがえます。

にあうかずをかきましょう。



① 6はあと  で10。

② 9を  と5にわける。

③ 6に  をたして10。

④ 10と  で15。





くりあがりのある  
たしざん 10

● けいさんのしかたを  
かんがえよう

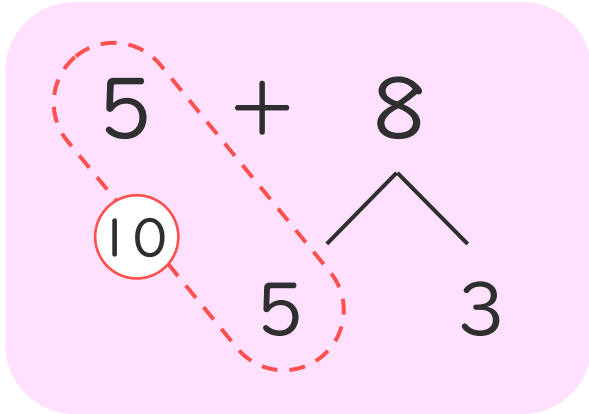


日にち： 月 日

名まえ \_\_\_\_\_

- 5 + 8 のけいさんのしかたをかんがえます。

にあうかずをかきましょう。(うすいじはなぞりましょう。)



① 5はあと  で10。

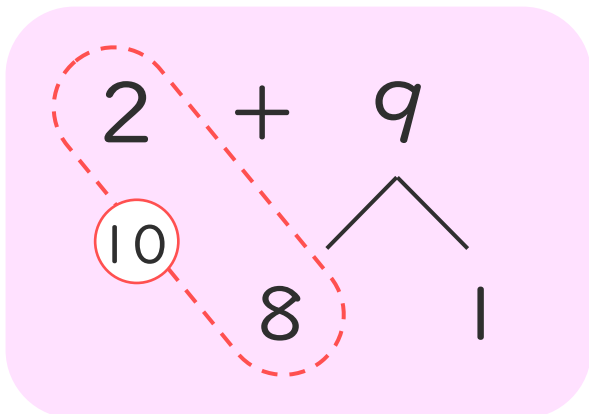
② 8を  と3にわける。

③ 5に  をたして10。

④ 10と  で13。

- 2 + 9 のけいさんのしかたをかんがえます。

にあうかずをかきましょう。



① 2はあと  で10。

② 9を  と1にわける。

③ 2に  をたして10。

④ 10と  で11。





くりあがりのある  
たしざん 10

● けいさんのしかたを  
かんがえよう

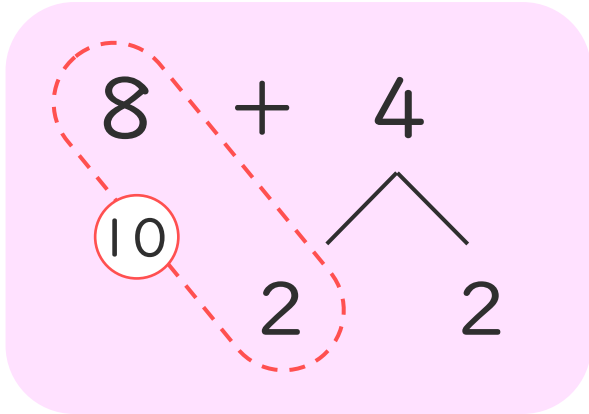


日にち：            月            日

名まえ \_\_\_\_\_

- ・  $8 + 4$  のけいさんのしかたをかんがえます。

にあうかずをかきましょう。(うすいじはなぞりましょう。)



① 8はあと  で10。

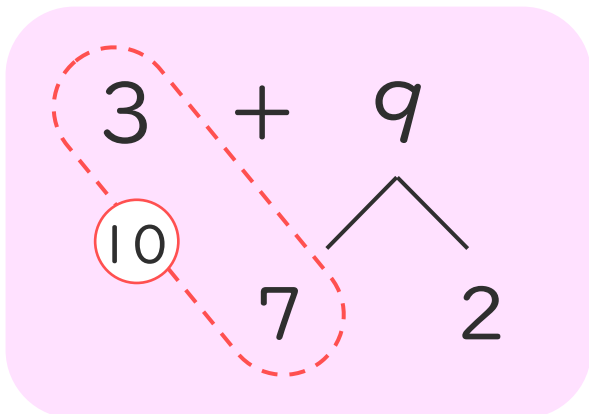
② 4を  と2にわける。

③ 8に  をたして10。

④ 10と  で12。

- ・  $3 + 9$  のけいさんのしかたをかんがえます。

にあうかずをかきましょう。



① 3はあと  で10。

② 9を  と2にわける。

③ 3に  をたして10。

④ 10と  で12。





くりあがりのある  
たしざん 10

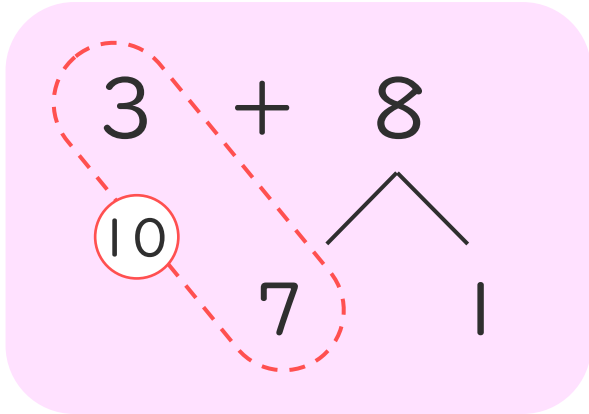
● けいさんのしかたを  
かんがえよう



日にち： 月 日

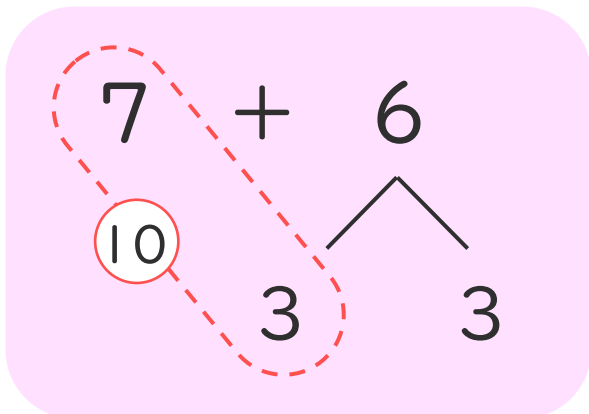
名まえ \_\_\_\_\_

- ・  $3 + 8$  のけいさんのしかたをかんがえます。  
□にあうかずをかきましょう。



- ① 3はあと  で10。
- ② 8を  と1にわける。
- ③ 3に  をたして10。
- ④ 10と  で11。

- ・  $7 + 6$  のけいさんのしかたをかんがえます。  
□にあうかずをかきましょう。



- ① 7はあと  で10。
- ② 6を  と3にわける。
- ③ 7に  をたして10。
- ④ 10と  で13。



くりあがりのある  
たしざん 10

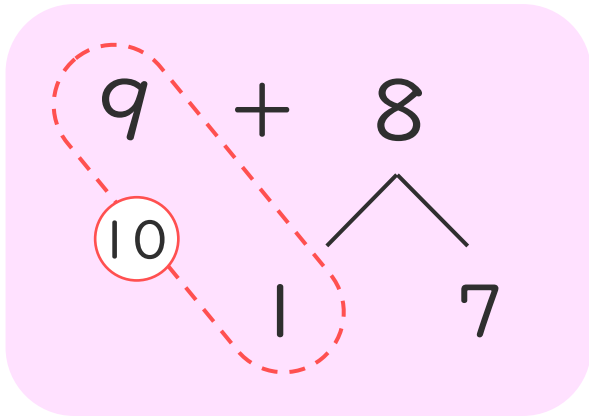
● けいさんのしかたを  
かんがえよう



日にち： 月 日

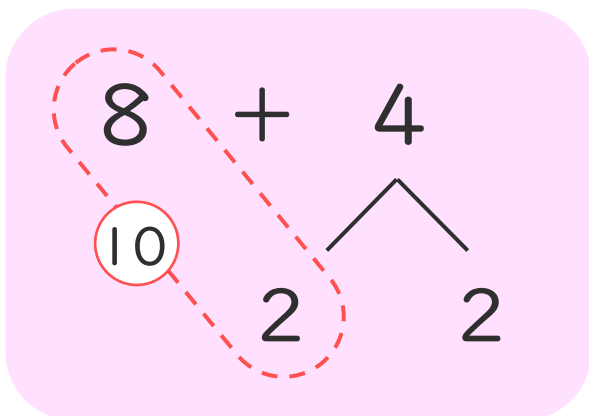
名まえ \_\_\_\_\_

- ・  $9 + 8$  のけいさんのしかたをかんがえます。  
□にあうかずをかきましょう。



- ① 9はあと □1 で 10。
- ② 8を □1 と 7にわける。
- ③ 9に □1 をたして 10。
- ④ 10と □7 で 17。

- ・  $8 + 4$  のけいさんのしかたをかんがえます。  
□にあうかずをかきましょう。



- ① 8はあと □2 で 10。
- ② 4を □2 と 2にわける。
- ③ 8に □2 をたして 10。
- ④ 10と □2 で 12。





くりあがりのある  
たしざん 10

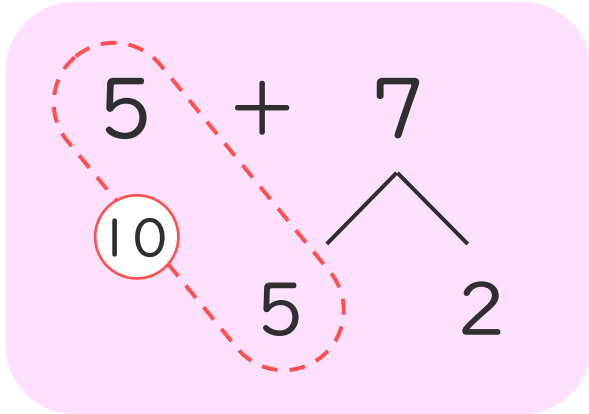
● けいさんのしかたを  
かんがえよう



日にち： 月 日

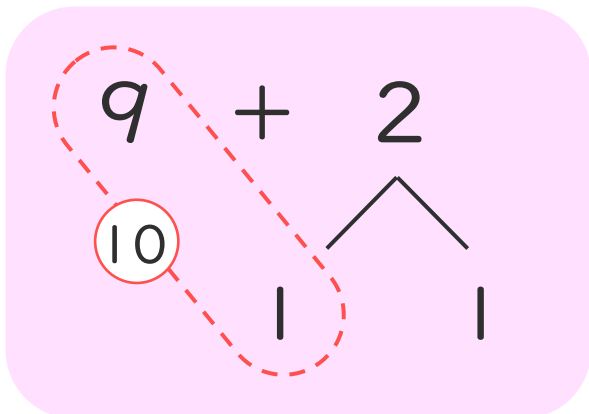
名まえ \_\_\_\_\_

- 5 + 7 のけいさんのしかたをかんがえます。  
□にあうかずをかきましょう。



- ① 5はあと  で10。
- ② 7を  と2にわける。
- ③ 5に  をたして10。
- ④ 10と  で12。

- 9 + 2 のけいさんのしかたをかんがえます。  
□にあうかずをかきましょう。



- ① 9はあと  で10。
- ② 2を  と1にわける。
- ③ 9に  をたして10。
- ④ 10と  で11。





くりあがりのある  
たしざん 10

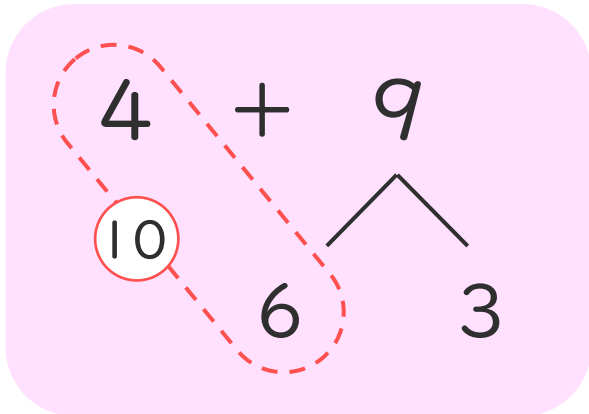
● けいさんのしかたを  
かんがえよう



日にち：            月            日

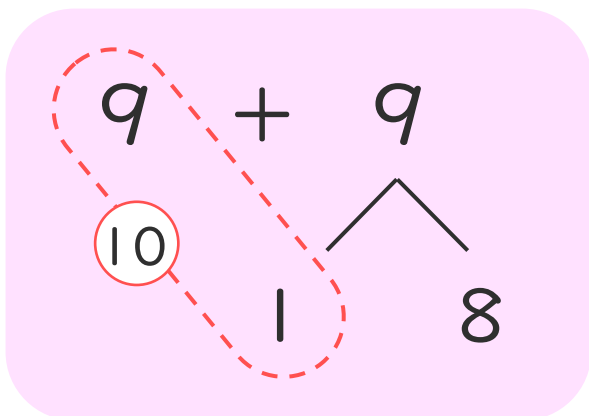
名まえ \_\_\_\_\_

- ・  $4 + 9$  のけいさんのしかたをかんがえます。  
□にあうかずをかきましょう。



- ① 4はあと  で10。
- ② 9を  と3にわける。
- ③ 4に  をたして10。
- ④ 10と  で13。

- ・  $9 + 9$  のけいさんのしかたをかんがえます。  
□にあうかずをかきましょう。



- ① 9はあと  で10。
- ② 9を  と8にわける。
- ③ 9に  をたして10。
- ④ 10と  で18。







くりあがりのある  
たしざん 10

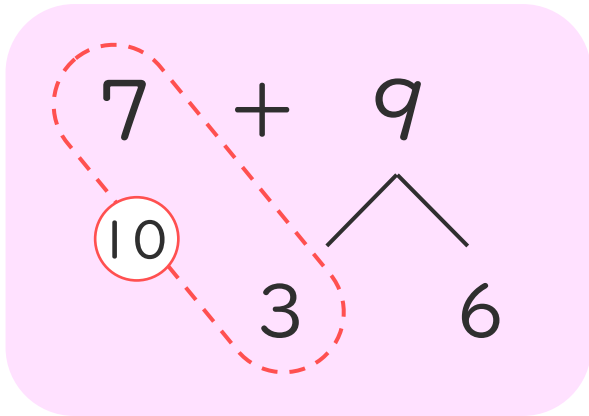
● けいさんのしかたを  
かんがえよう



日にち：        月        日

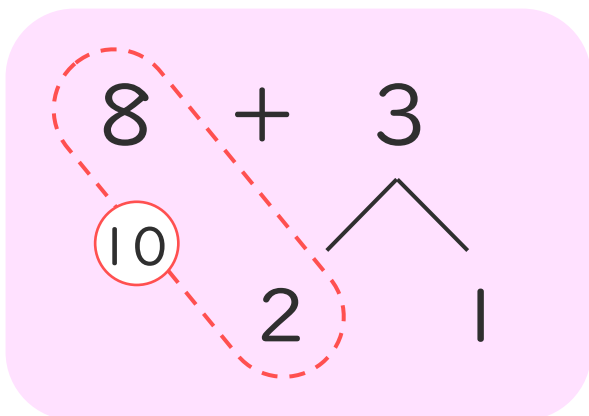
名まえ \_\_\_\_\_

- ・  $7 + 9$  のけいさんのしかたをかんがえます。  
□にあうかずをかきましょう。



- ① 7はあと  で10。
- ② 9を  と6にわける。
- ③ 7に  をたして10。
- ④ 10と  で16。

- ・  $8 + 3$  のけいさんのしかたをかんがえます。  
□にあうかずをかきましょう。



- ① 8はあと  で10。
- ② 3を  と1にわける。
- ③ 8に  をたして10。
- ④ 10と  で11。





くりあがりのある  
たしざん 10

● けいさんのしかたを  
かんがえよう

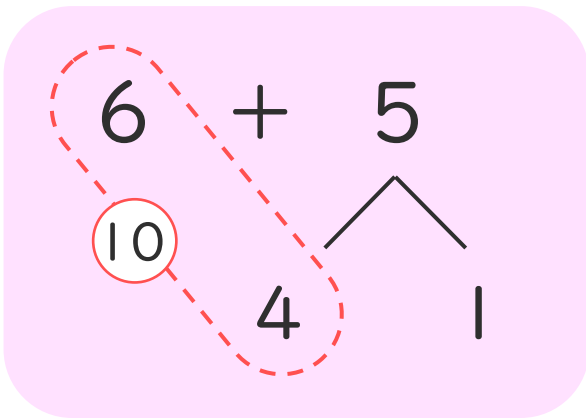


日にち： 月 日

名まえ \_\_\_\_\_

1  $6 + 5$  のけいさんのしかたをかんがえます。

にあうかずをかきましょう。



① 6はあと  4 で10。

② 5を  4 と1にわける。

③ 6に  4 をたして10。

④ 10と  1 で11。

2 おやのいんこが4わ、こどものいんこが8わいます。  
いんこは、ぜんぶでなんわいますか。

しき：

こたえ



くりあがりのある  
たしざん 10

● けいさんのしかたを  
かんがえよう

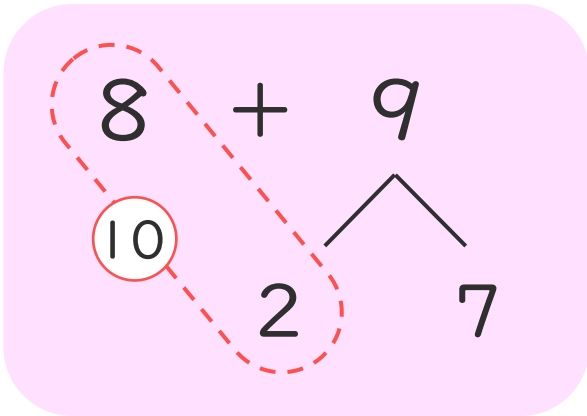


日にち：            月            日

名まえ \_\_\_\_\_

1  $8 + 9$  の けいさんのしかたを かんがえます。

に あう かず を かきましょう。



① 8 は あと  で 10。

② 9 を  と 7 に わける。

③ 8 に  を たして 10。

④ 10 と  で 17。

2 おとなが 9 にん、こどもが 4 にん います。  
みんなで なんにん いますか。

しき：

$$9 + 4 = 13$$

こたえ





くりあがりのある  
たしざん 10

● けいさんのしかたを  
かんがえよう

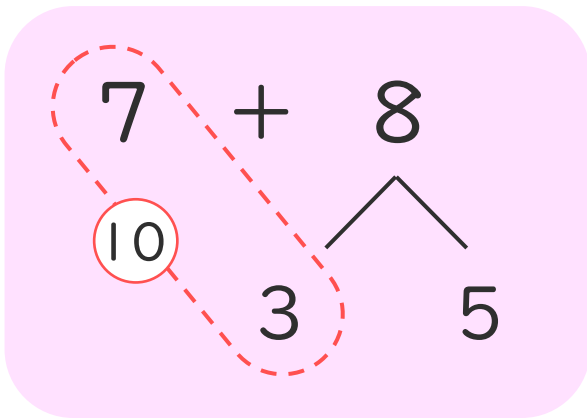
12

日にち： 月 日

名まえ \_\_\_\_\_

1 7 + 8 の けいさんのしかたを かんがえます。

□ に あう かず を かき まし ょう。



① 7 は あと **3** で 10。

② 8 を **3** と 5 に わける。

③ 7 に **3** を たして 10。

④ 10 と **5** で 15。

2 はとが 6 わいます。6 わ きました。

はとは、ぜんぶで なんわ に なり ました か。

しき：

$$6 + 6 = 12$$

こたえ { 12 わ }





くりあがりのある  
たしざん 10

● けいさんのしかたを  
かんがえよう

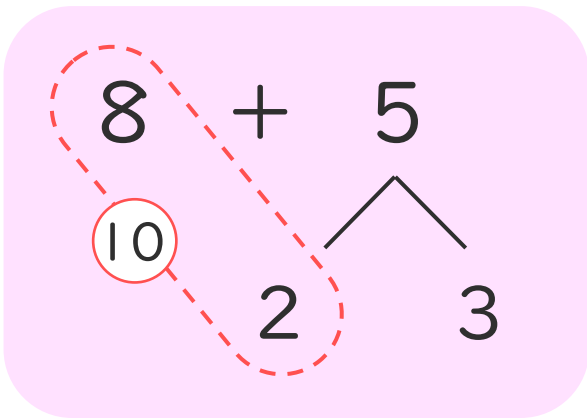
13

日にち： 月 日

名まえ \_\_\_\_\_

1  $8 + 5$  のけいさんのしかたをかんがえます。

にあうかずをかきましょう。



① 8はあと  2 で10。

② 5を  2 と3にわける。

③ 8に  2 をたして10。

④ 10と  3 で13。

2 すいそうにめだかが9ひきいます。7ひきもらいました。  
めだかは、ぜんぶでなんびきになりましたか。

しき：

$$9 + 7 = 16$$

こたえ  16ひき





くりあがりのある  
たしざん 10

● けいさんのしかたを  
かんがえよう

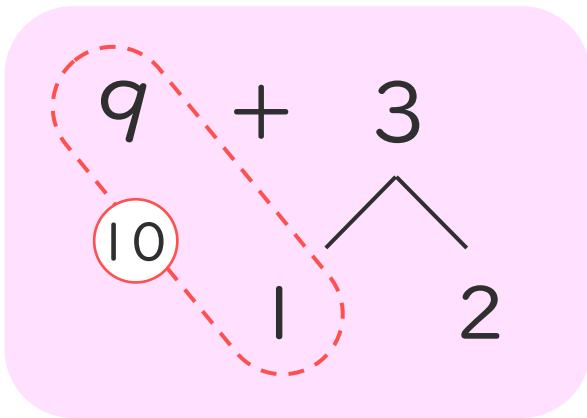
14

日にち： 月 日

名まえ \_\_\_\_\_

1  $9 + 3$  のけいさんのしかたをかんがえます。

にあうかずをかきましょう。



① 9はあと  で10。

② 3を  と2にわける。

③ 9に  をたして10。

④ 10と  で12。

2 かだんにしろいはなが7ほんあります。あかいはなが7ほんあります。はなは、ぜんぶでなんぼんありますか。

しき：

$$7 + 7 = 14$$

こたえ



くりあがりのある  
たしざん 10

● けいさんのしかたを  
かんがえよう

15

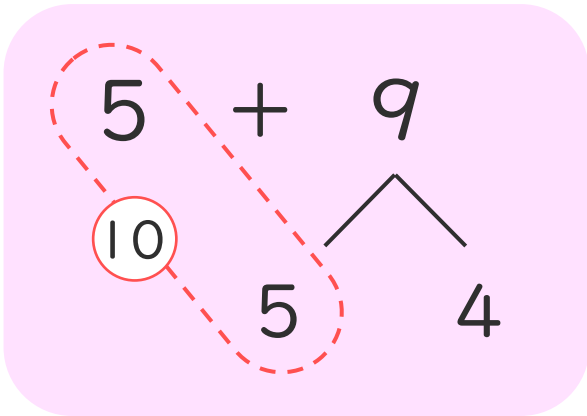
めざせ80点!



名まえ \_\_\_\_\_

1  $6 + 5$  のけいさんのしかたをかんがえます。

にあうかずをかきましょう。(各15点)



① 5はあと  5 で10。

② 9を  5 と4にわける。

③ 5に  5 をたして10。

④ 10と  4 で14。

2 ゆうきさんはさかなを8ぴき、しほさんは6ぴき  
つりました。さかなは、ぜんぶでなんびきつれましたか。

(40点)

しき：

こたえ



くりあがりのある  
たしざん 10

● けいさんのしかたを  
かんがえよう

16

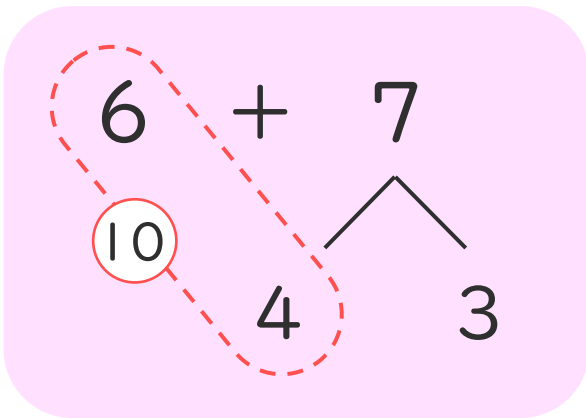
めざせ80点!



名まえ \_\_\_\_\_

1  $6 + 7$  のけいさんのしかたをかんがえます。

にあうかずをかきましょう。(各15点)



① 6はあと  4 で10。

② 7を  4 と3にわける。

③ 6に  4 をたして10。

④ 10と  3 で13。

2 おやのとりが5わ、こどものとりが6わいます。  
とりは、ぜんぶでなんわいますか。

(40点)

しき：

こたえ

