



くりあがりのある
たしざん 10

● けいさんのしかたを
かんがえよう

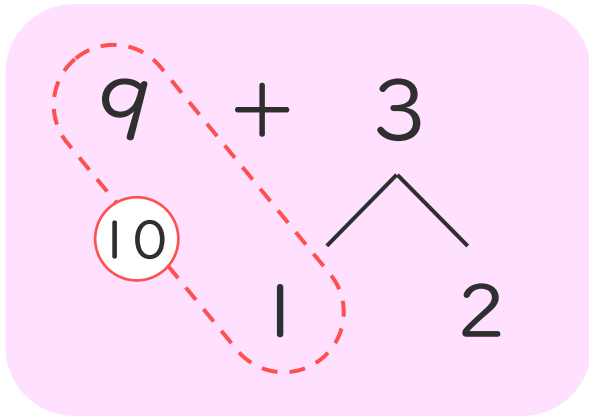


日にち： 月 日

名まえ _____

・ $9 + 3$ のけいさんのしかたをかんがえます。

にあうかずをかきましょう。(うすいじはなぞりましょう。)



① 9はあと で 10。

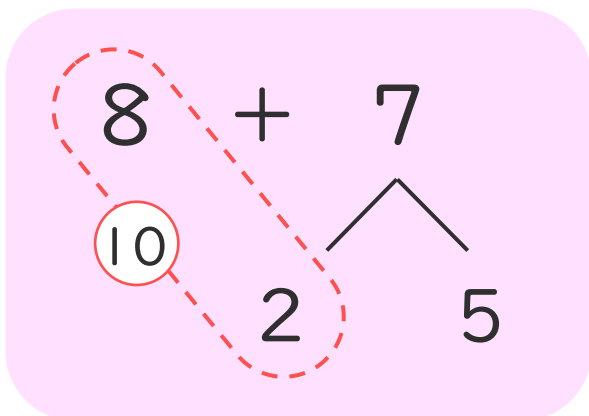
② 3を と 2にわける。

③ 9に をたして 10。

④ 10と で 12。

・ $8 + 7$ のけいさんをします。

にあうかずをかきましょう。(うすいじはなぞりましょう。)



① 8はあと で 10。

② 7を と 5にわける。

③ 8に をたして 10。

④ 10と で 15。





くりあがりのある
たしざん 10

● けいさんのしかたを
かんがえよう

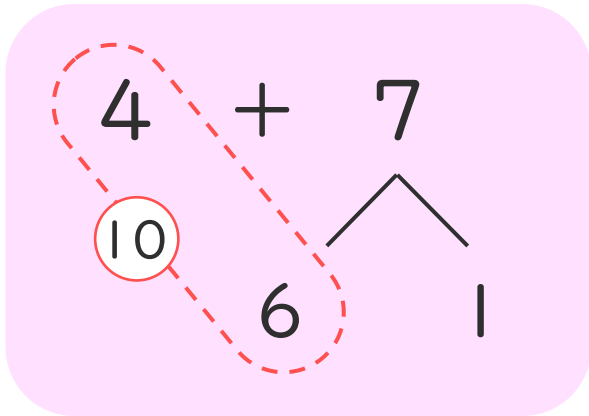


日にち： 月 日

名まえ _____

- ・ $4 + 7$ のけいさんのしかたをかんがえます。

にあうかずをかきましょう。(うすいじはなぞりましょう。)



① 4はあと で10。

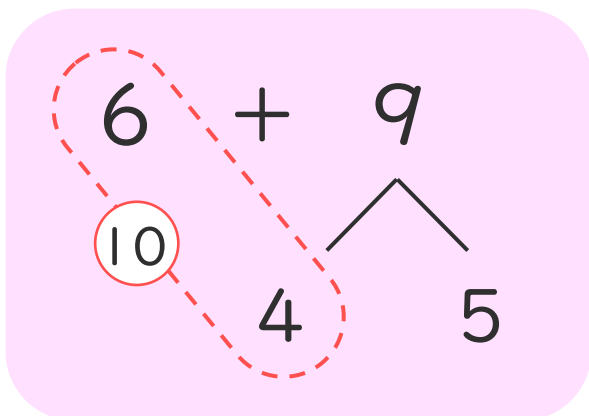
② 7を と1にわける。

③ 4に をたして10。

④ 10と で11。

- ・ $6 + 9$ のけいさんをします。

にあうかずをかきましょう。



① 6はあと で10。

② 9を と5にわける。

③ 6に をたして10。

④ 10と で15。





くりあがりのある
たしざん 10

● けいさんのしかたを
かんがえよう

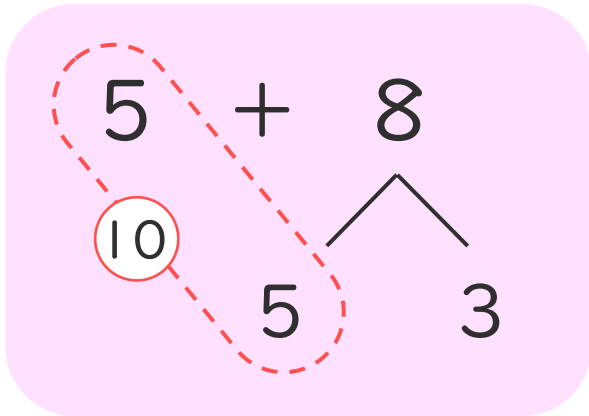


日にち： 月 日

名まえ _____

- $5 + 8$ のけいさんのしかたをかんがえます。

にあうかずをかきましょう。(うすいじはなぞりましょう。)



① 5はあと で10。

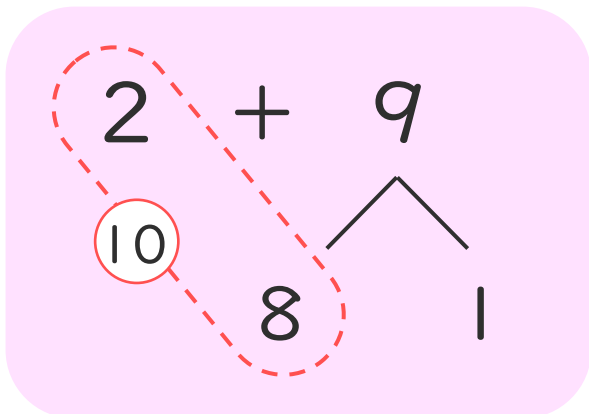
② 8を と3にわける。

③ 5に をたして10。

④ 10と で13。

- $2 + 9$ のけいさんのしかたをかんがえます。

にあうかずをかきましょう。



① 2はあと で10。

② 9を と1にわける。

③ 2に をたして10。

④ 10と で11。





くりあがりのある
たしざん 10

● けいさんのしかたを
かんがえよう

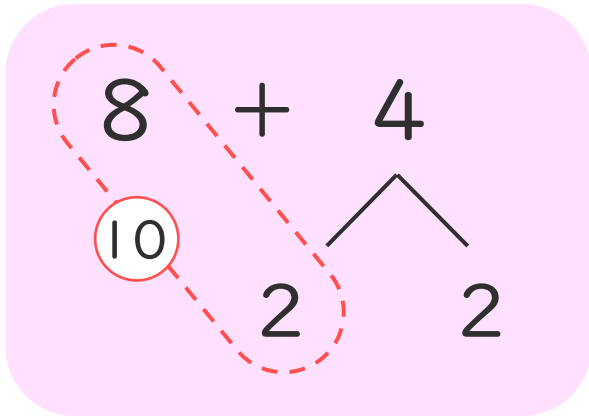


日にち： 月 日

名まえ _____

- ・ $8 + 4$ のけいさんのしかたをかんがえます。

にあうかずをかきましょう。(うすいじはなぞりましょう。)



① 8はあと で10。

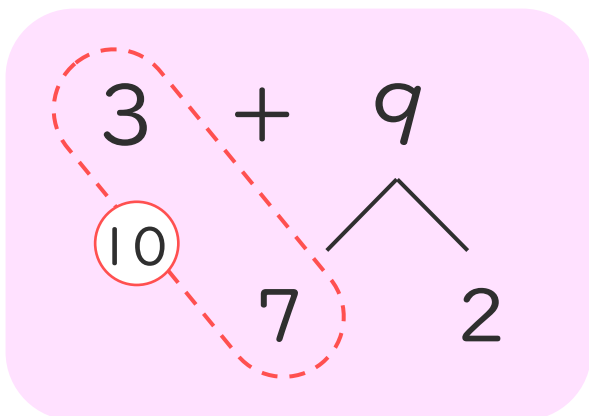
② 4を と2にわける。

③ 8に をたして10。

④ 10と で12。

- ・ $3 + 9$ のけいさんのしかたをかんがえます。

にあうかずをかきましょう。



① 3はあと で10。

② 9を と2にわける。

③ 3に をたして10。

④ 10と で12。





くりあがりのある
たしざん 10

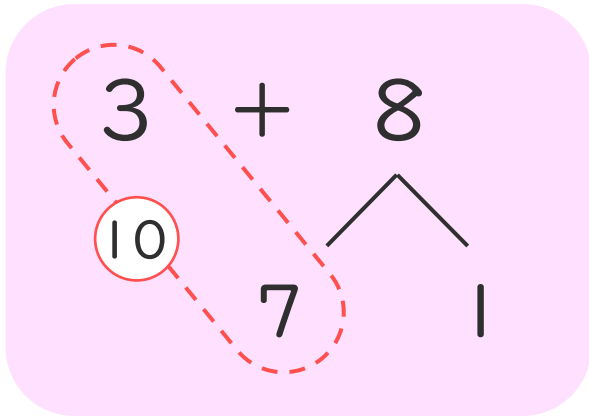
● けいさんのしかたを
かんがえよう



日にち： 月 日

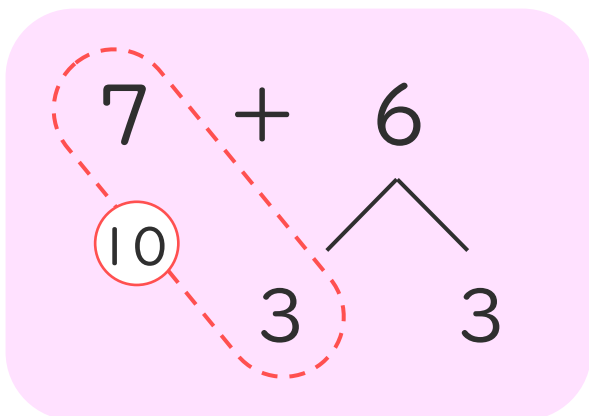
名まえ _____

- ・ $3 + 8$ のけいさんのしかたをかんがえます。
□にあうかずをかきましょう。



- ① 3はあと □ で 10。
- ② 8を □ と 1にわける。
- ③ 3に □ をたして 10。
- ④ 10と □ で 11。

- ・ $7 + 6$ のけいさんのしかたをかんがえます。
□にあうかずをかきましょう。



- ① 7はあと □ で 10。
- ② 6を □ と 3にわける。
- ③ 7に □ をたして 10。
- ④ 10と □ で 13。





くりあがりのある
たしざん 10

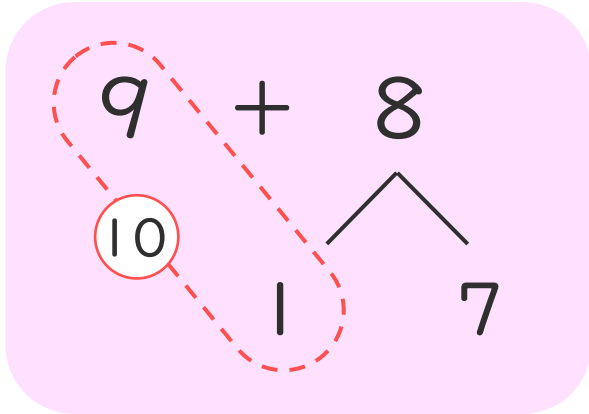
● けいさんのしかたを
かんがえよう



日にち： 月 日

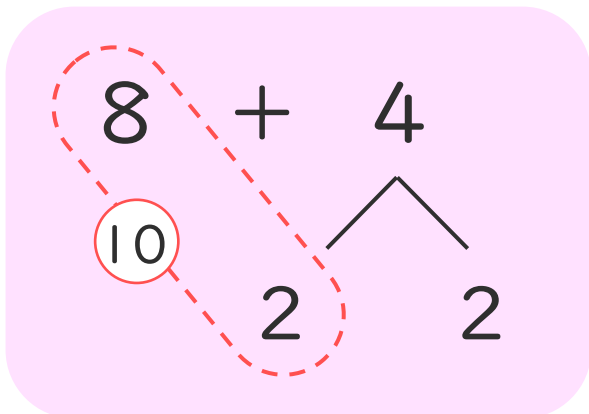
名まえ _____

- ・ $9 + 8$ のけいさんのしかたをかんがえます。
□にあうかずをかきましょう。



- ① 9はあと □ で 10。
- ② 8を □ と 7にわける。
- ③ 9に □ をたして 10。
- ④ 10と □ で 17。

- ・ $8 + 4$ のけいさんのしかたをかんがえます。
□にあうかずをかきましょう。



- ① 8はあと □ で 10。
- ② 4を □ と 2にわける。
- ③ 8に □ をたして 10。
- ④ 10と □ で 12。



くりあがりのある
たしざん 10

● けいさんのしかたを
かんがえよう

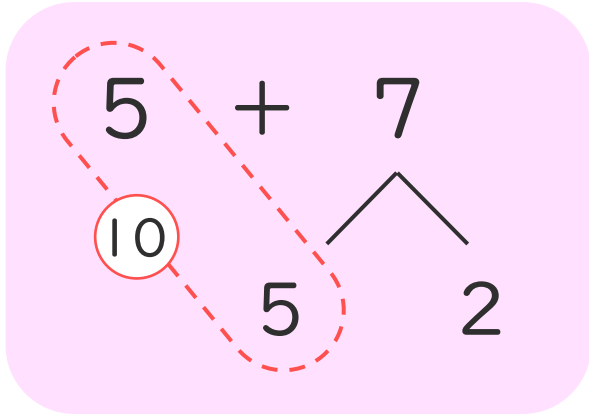


日にち： 月 日

名まえ _____

- ・ $5 + 7$ のけいさんのしかたをかんがえます。

にあうかずをかきましょう。



① 5はあと で10。

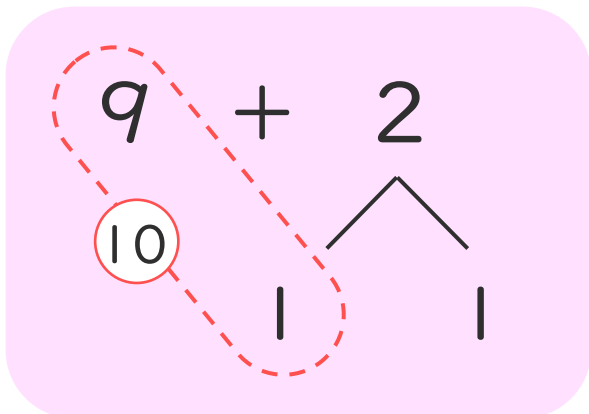
② 7を と2にわける。

③ 5に をたして10。

④ 10と で12。

- ・ $9 + 2$ のけいさんのしかたをかんがえます。

にあうかずをかきましょう。



① 9はあと で10。

② 2を と1にわける。

③ 9に をたして10。

④ 10と で11。





くりあがりのある
たしざん 10

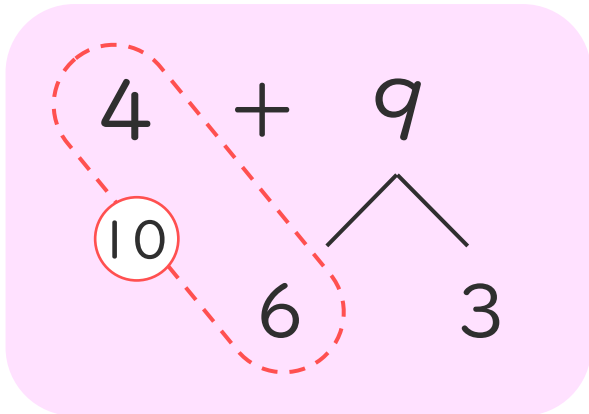
● けいさんのしかたを
かんがえよう



日にち： 月 日

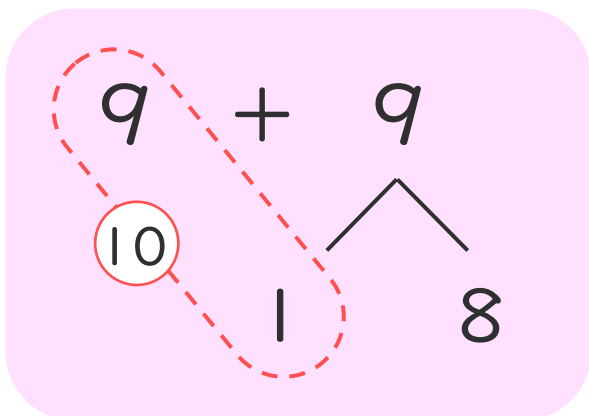
名まえ _____

- ・ $4 + 9$ のけいさんのしかたをかんがえます。
□にあうかずをかきましょう。



- ① 4はあと □ で 10。
- ② 9を □ と 3にわける。
- ③ 4に □ をたして 10。
- ④ 10と □ で 13。

- ・ $9 + 9$ のけいさんのしかたをかんがえます。
□にあうかずをかきましょう。



- ① 9はあと □ で 10。
- ② 9を □ と 8にわける。
- ③ 9に □ をたして 10。
- ④ 10と □ で 18。





くりあがりのある
たしざん 10

● けいさんのしかたを
かんがえよう

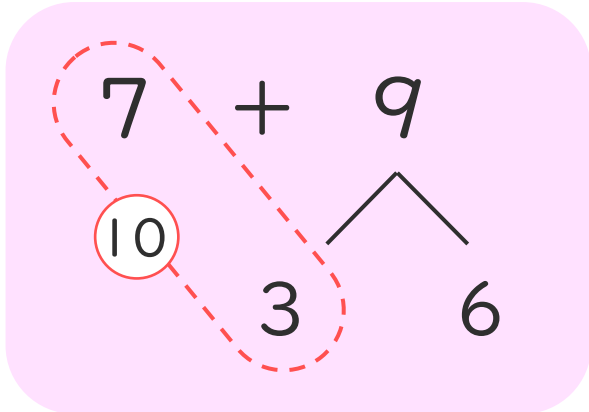


日にち： 月 日

名まえ _____

- ・ $7 + 9$ のけいさんのしかたをかんがえます。

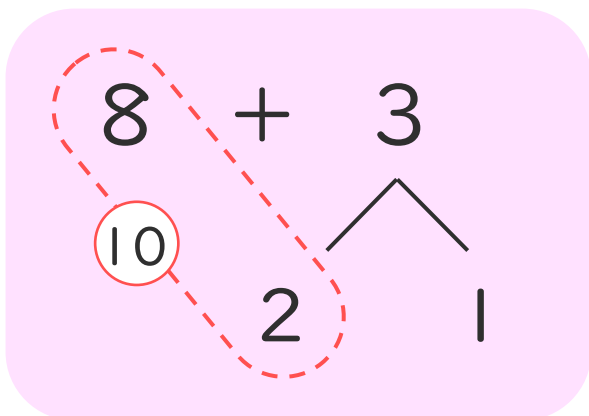
にあうかずをかきましょう。



- ① 7はあと で10。
- ② 9を と6にわける。
- ③ 7に をたして10。
- ④ 10と で16。

- ・ $8 + 3$ のけいさんのしかたをかんがえます。

にあうかずをかきましょう。



- ① 8はあと で10。
- ② 3を と1にわける。
- ③ 8に をたして10。
- ④ 10と で11。





くりあがりのある
たしざん 10

● けいさんのしかたを
かんがえよう

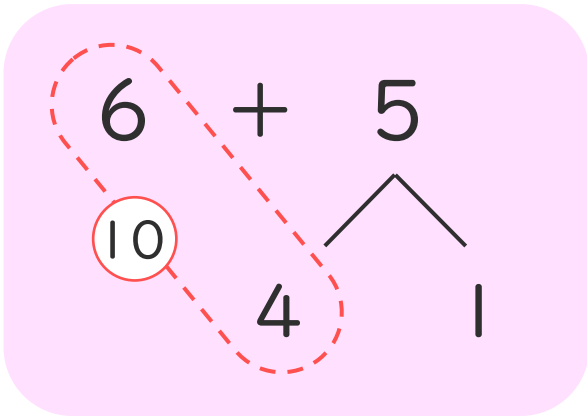


日にち： 月 日

名まえ _____

1 $6 + 5$ のけいさんのしかたをかんがえます。

にあうかずをかきましょう。



① 6はあと で10。

② 5を と1にわける。

③ 6に をたして10。

④ 10と で11。

2 おやのいんこが4わ、こどものいんこが8わいます。
いんこは、ぜんぶでなんわいますか。

しき：

こたえ ()



くりあがりのある
たしざん 10

● けいさんのしかたを
かんがえよう

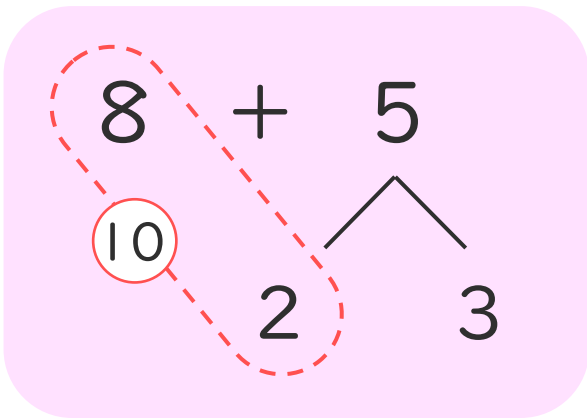
13

日にち： 月 日

名まえ _____

1 $8 + 5$ のけいさんのしかたをかんがえます。

にあうかずをかきましょう。



① 8はあと で10。

② 5を と3にわける。

③ 8に をたして10。

④ 10と で13。

2 すいそうにめだかが9ひきいます。7ひきもらいました。
めだかは、ぜんぶでなんびきになりましたか。

しき：

こたえ ()



くりあがりのある
たしざん 10

● けいさんのしかたを
かんがえよう

15

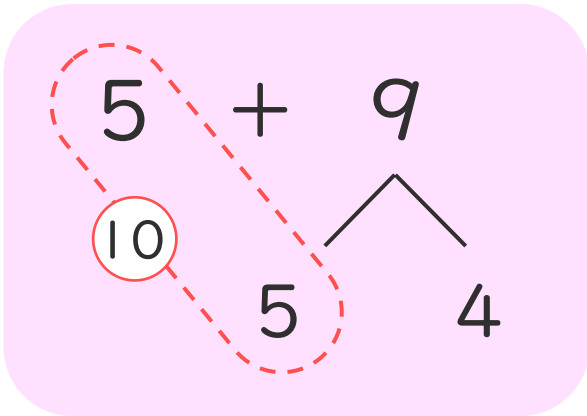
めざせ80点!



名まえ _____

1 $6 + 5$ のけいさんのしかたをかんがえます。

にあうかずをかきましょう。(各15点)



① 5はあと で10。

② 9を と4にわける。

③ 5に をたして10。

④ 10と で14。

2 ゆうきさんはさかなを8ぴき、しほさんは6ぴき
つりました。さかなは、ぜんぶでなんびきつれましたか。

(40点)

しき：

こたえ ()



くりあがりのある
たしざん 10

● けいさんのしかたを
かんがえよう

16

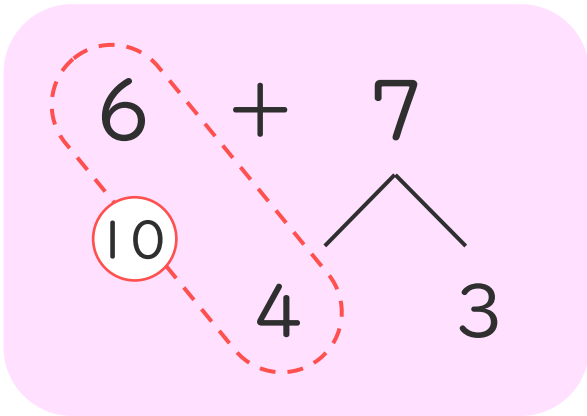
めざせ80点!



名まえ _____

1 $6 + 7$ のけいさんのしかたをかんがえます。

にあうかずをかきましょう。(各15点)



① 6はあと で10。

② 7を と3にわける。

③ 6に をたして10。

④ 10と で13。

2 おやのとりが5わ、こどものとりが6わいます。

とりは、ぜんぶでなんわいますか。

(40点)

しき：

こたえ ()



くりあがりのある
たしざん 10

● けいさんのしかたを
かんがえよう

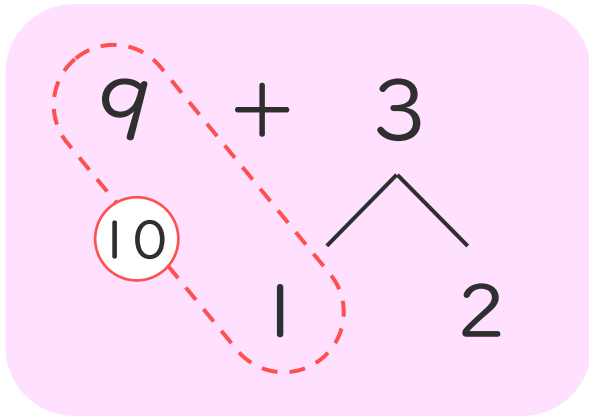


日にち： 月 日

名まえ _____

- ・ $9 + 3$ のけいさんのしかたをかんがえます。

にあうかずをかきましょう。(うすいじはなぞりましょう。)



① 9はあと で 10。

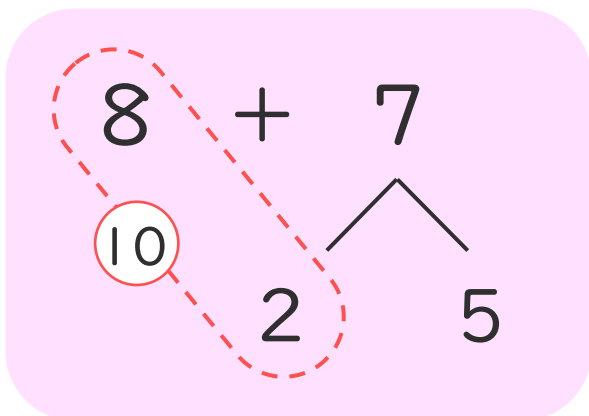
② 3を と 2にわける。

③ 9に をたして 10。

④ 10と で 12。

- ・ $8 + 7$ のけいさんをします。

にあうかずをかきましょう。(うすいじはなぞりましょう。)



① 8はあと で 10。

② 7を と 5にわける。

③ 8に をたして 10。

④ 10と で 15。





くりあがりのある
たしざん 10

● けいさんのしかたを
かんがえよう

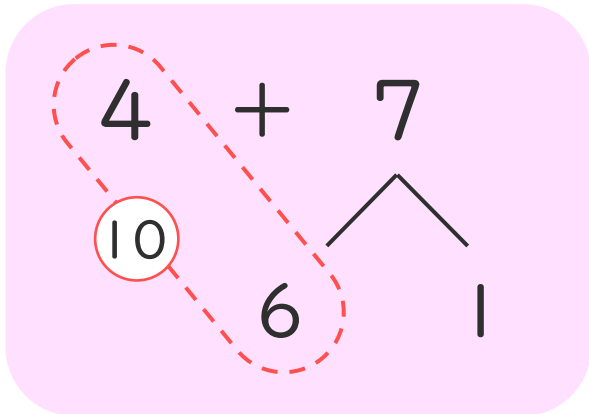


日にち： 月 日

名まえ _____

- ・ $4 + 7$ のけいさんのしかたをかんがえます。

にあうかずをかきましょう。(うすいじはなぞりましょう。)



① 4はあと で10。

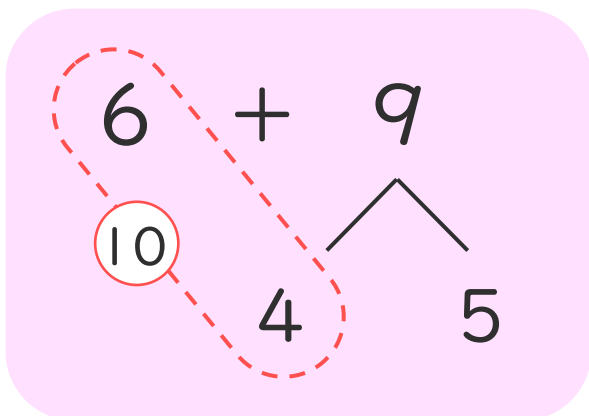
② 7を と1にわける。

③ 4に をたして10。

④ 10と で11。

- ・ $6 + 9$ のけいさんのしかたをかんがえます。

にあうかずをかきましょう。



① 6はあと で10。

② 9を と5にわける。

③ 6に をたして10。

④ 10と で15。





くりあがりのある
たしざん 10

● けいさんのしかたを
かんがえよう

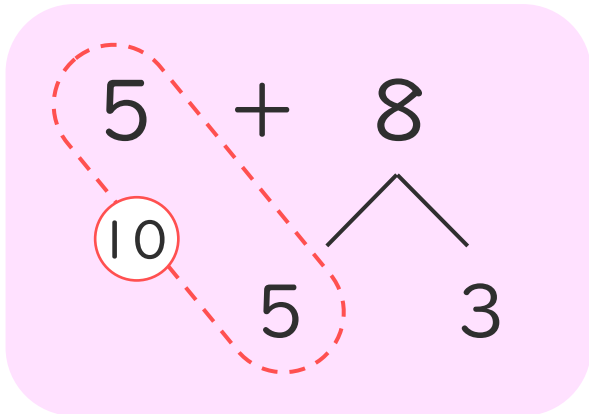


日にち： 月 日

名まえ _____

- 5 + 8 のけいさんのしかたをかんがえます。

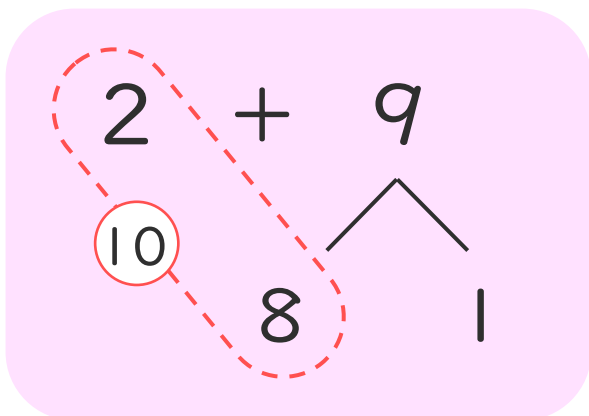
にあうかずをかきましょう。(うすいじはなぞりましょう。)



- ① 5はあと で10。
- ② 8を と3にわける。
- ③ 5に をたして10。
- ④ 10と で13。

- 2 + 9 のけいさんのしかたをかんがえます。

にあうかずをかきましょう。



- ① 2はあと で10。
- ② 9を と1にわける。
- ③ 2に をたして10。
- ④ 10と で11。





くりあがりのある
たしざん 10

● けいさんのしかたを
かんがえよう

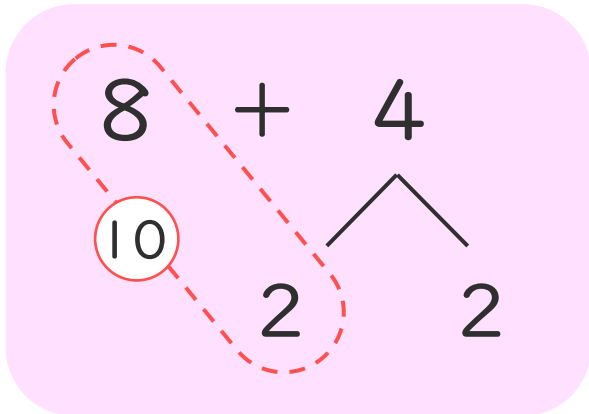


日にち： 月 日

名まえ _____

- ・ $8 + 4$ のけいさんのしかたをかんがえます。

にあうかずをかきましょう。(うすいじはなぞりましょう。)



① 8はあと で10。

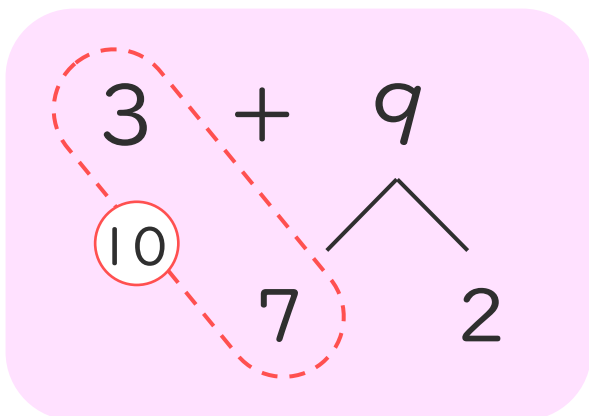
② 4を と2にわける。

③ 8に をたして10。

④ 10と で12。

- ・ $3 + 9$ のけいさんのしかたをかんがえます。

にあうかずをかきましょう。



① 3はあと で10。

② 9を と2にわける。

③ 3に をたして10。

④ 10と で12。





くりあがりのある
たしざん 10

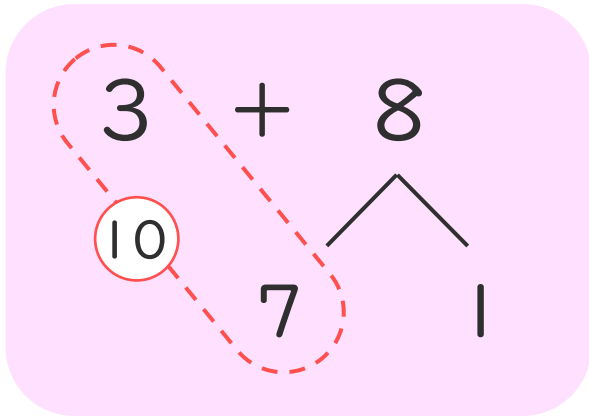
● けいさんのしかたを
かんがえよう



日にち： 月 日

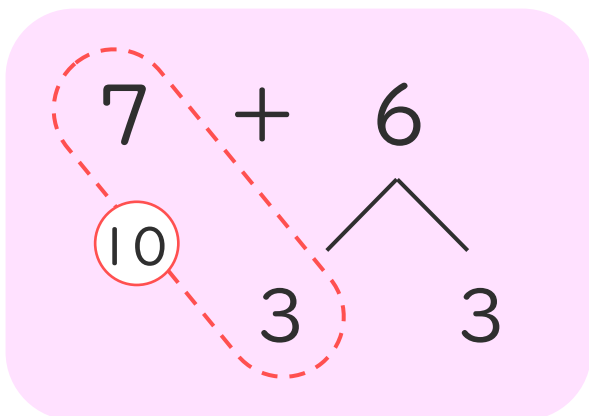
名まえ _____

- ・ $3 + 8$ のけいさんのしかたをかんがえます。
□にあうかずをかきましょう。



- ① 3はあと で10。
- ② 8を と1にわける。
- ③ 3に をたして10。
- ④ 10と で11。

- ・ $7 + 6$ のけいさんのしかたをかんがえます。
□にあうかずをかきましょう。



- ① 7はあと で10。
- ② 6を と3にわける。
- ③ 7に をたして10。
- ④ 10と で13。





くりあがりのある
たしざん 10

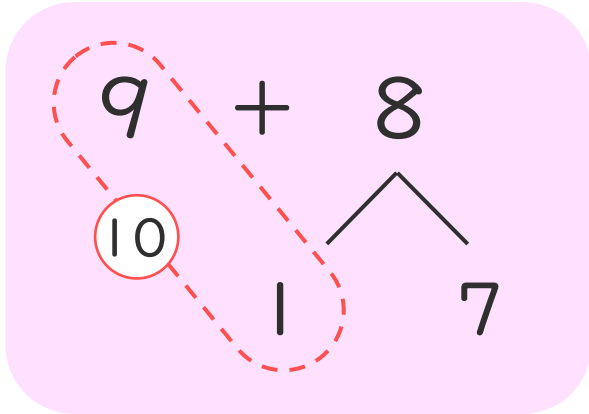
● けいさんのしかたを
かんがえよう



日にち： 月 日

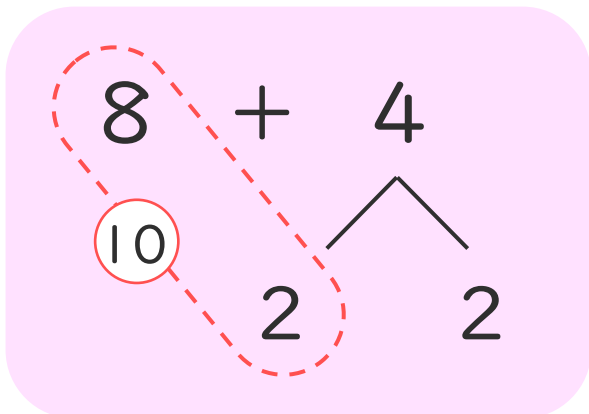
名まえ _____

- ・ $9 + 8$ のけいさんのしかたをかんがえます。
□にあうかずをかきましょう。



- ① 9はあと □1□ で10。
- ② 8を □1□ と7にわける。
- ③ 9に □1□ をたして10。
- ④ 10と □7□ で17。

- ・ $8 + 4$ のけいさんのしかたをかんがえます。
□にあうかずをかきましょう。



- ① 8はあと □2□ で10。
- ② 4を □2□ と2にわける。
- ③ 8に □2□ をたして10。
- ④ 10と □2□ で12。



くりあがりのある
たしざん 10

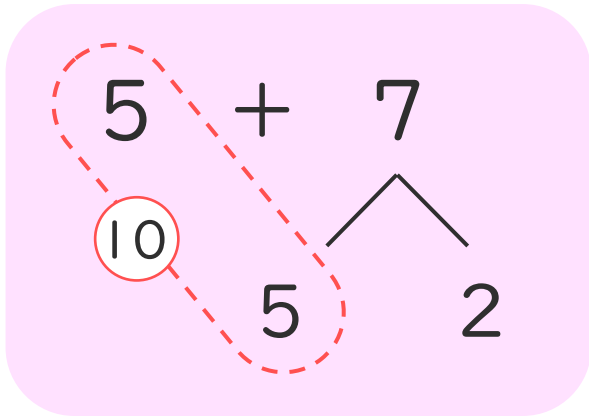
● けいさんのしかたを
かんがえよう



日にち： 月 日

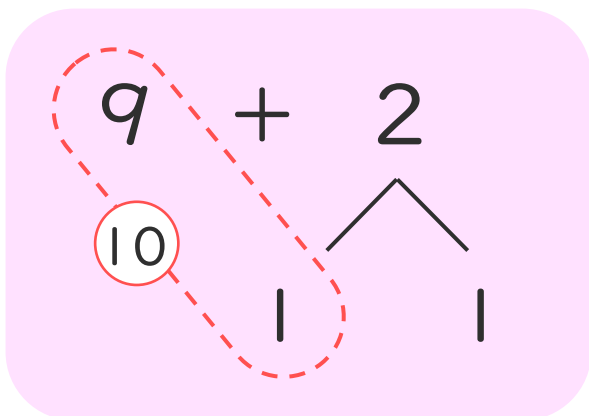
名まえ _____

- ・ $5 + 7$ のけいさんのしかたをかんがえます。
□にあうかずをかきましょう。



- ① 5はあと で10。
- ② 7を と2にわける。
- ③ 5に をたして10。
- ④ 10と で12。

- ・ $9 + 2$ のけいさんのしかたをかんがえます。
□にあうかずをかきましょう。



- ① 9はあと で10。
- ② 2を と1にわける。
- ③ 9に をたして10。
- ④ 10と で11。





くりあがりのある
たしざん 10

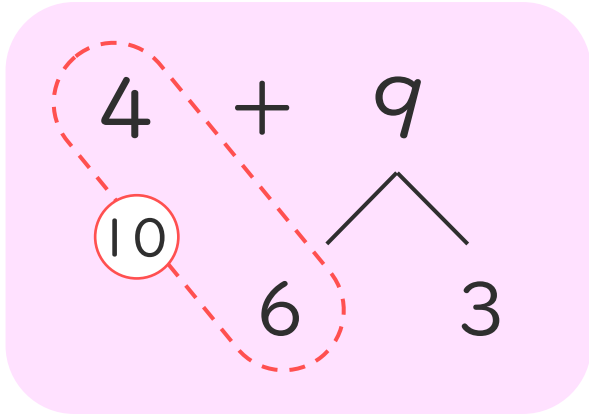
● けいさんのしかたを
かんがえよう



日にち： 月 日

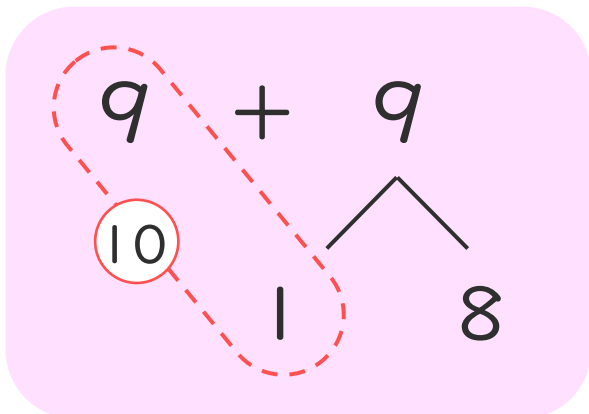
名まえ _____

- ・ $4 + 9$ のけいさんのしかたをかんがえます。
□にあうかずをかきましょう。



- ① 4はあと で10。
- ② 9を と3にわける。
- ③ 4に をたして10。
- ④ 10と で13。

- ・ $9 + 9$ のけいさんのしかたをかんがえます。
□にあうかずをかきましょう。



- ① 9はあと で10。
- ② 9を と8にわける。
- ③ 9に をたして10。
- ④ 10と で18。





くりあがりのある
たしざん 10

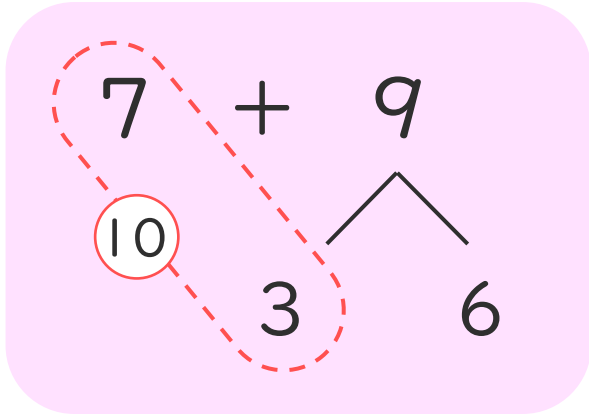
● けいさんのしかたを
かんがえよう



日にち： 月 日

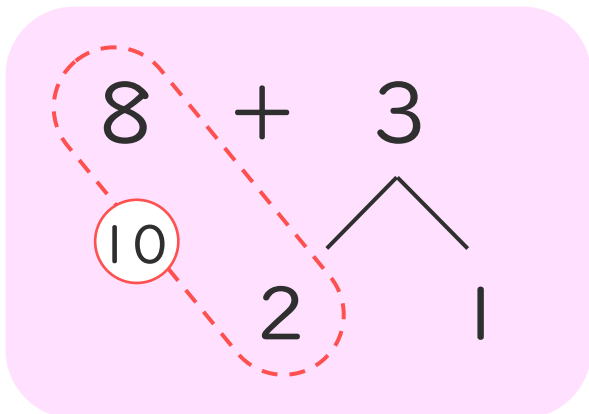
名まえ _____

- ・ $7 + 9$ のけいさんのしかたをかんがえます。
□にあうかずをかきましょう。



- ① 7はあと で10。
- ② 9を と6にわける。
- ③ 7に をたして10。
- ④ 10と で16。

- ・ $8 + 3$ のけいさんのしかたをかんがえます。
□にあうかずをかきましょう。



- ① 8はあと で10。
- ② 3を と1にわける。
- ③ 8に をたして10。
- ④ 10と で11。





くりあがりのある
たしざん 10

● けいさんのしかたを
かんがえよう

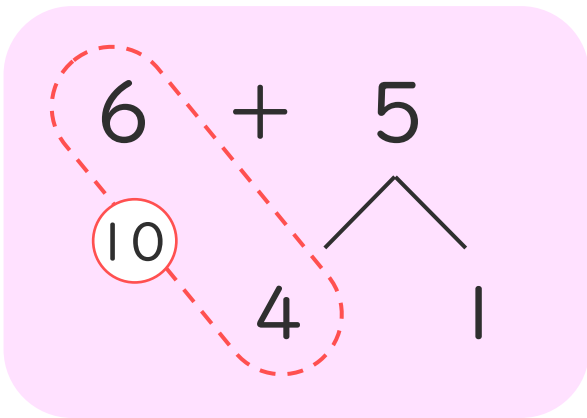


日にち： 月 日

名まえ _____

1 $6 + 5$ のけいさんのしかたをかんがえます。

にあうかずをかきましょう。



① 6はあと で10。

② 5を と1にわける。

③ 6に をたして10。

④ 10と で11。

2 おやのいんこが4わ、こどものいんこが8わいます。
いんこは、ぜんぶでなんわいますか。

しき：

こたえ



くりあがりのある
たしざん 10

● けいさんのしかたを
かんがえよう

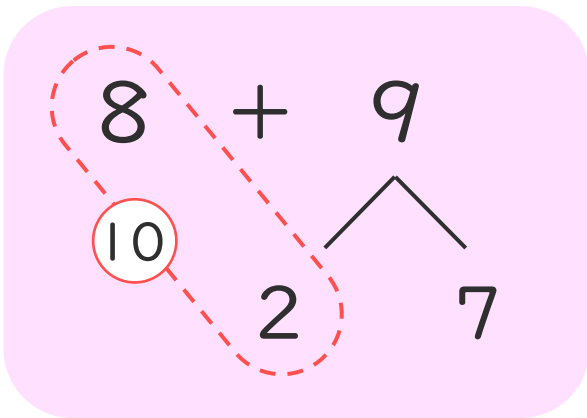


日にち： 月 日

名まえ _____

1 $8 + 9$ のけいさんのしかたをかんがえます。

にあうかずをかきましょう。



① 8はあと で10。

② 9を と7にわける。

③ 8に をたして10。

④ 10と で17。

2 おとなが9にん、こどもが4にんいます。
みんなでなんにんいますか。

しき：

$$9 + 4 = 13$$

こたえ





くりあがりのある
たしざん 10

● けいさんのしかたを
かんがえよう

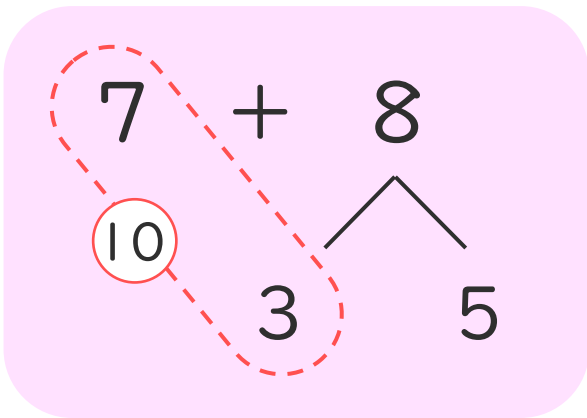
12

日にち： 月 日

名まえ _____

1 7 + 8 の けいさんのしかたを かんがえます。

に あう かず を かき まし ょう。



① 7 は あと 3 で 10。

② 8 を 3 と 5 に わける。

③ 7 に 3 を たして 10。

④ 10 と 5 で 15。

2 はとが 6 わいます。6 わ きました。

はとは、ぜんぶで なんわ に なり まし た か。

しき：

$$6 + 6 = 12$$

こたえ





くりあがりのある
たしざん 10

● けいさんのしかたを
かんがえよう

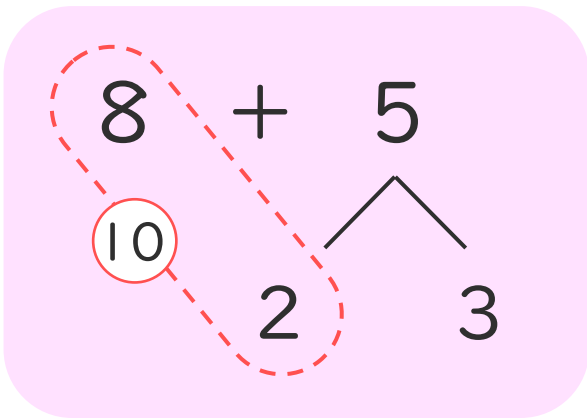
13

日にち： 月 日

名まえ _____

1 $8 + 5$ のけいさんのしかたをかんがえます。

にあうかずをかきましょう。



① 8はあと で10。

② 5を と3にわける。

③ 8に をたして10。

④ 10と で13。

2 すいそうにめだかが9ひきいます。7ひきもらいました。
めだかは、ぜんぶでなんびきになりましたか。

しき：

$$9 + 7 = 16$$

こたえ



くりあがりのある
たしざん 10

● けいさんのしかたを
かんがえよう

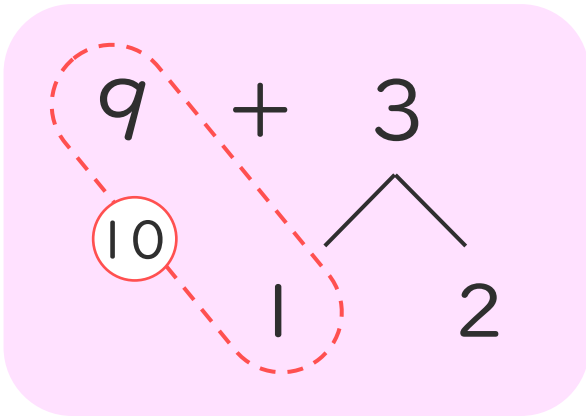
14

日にち： 月 日

名まえ _____

1 $9 + 3$ のけいさんのしかたをかんがえます。

にあうかずをかきましょう。



① 9はあと で10。

② 3を と2にわける。

③ 9に をたして10。

④ 10と で12。

2 かだんにしろいはなが7ほんあります。あかいはなが7ほんあります。はなは、ぜんぶでなんぼんありますか。

しき：

$$7 + 7 = 14$$

こたえ



くりあがりのある
たしざん 10

● けいさんのしかたを
かんがえよう

15

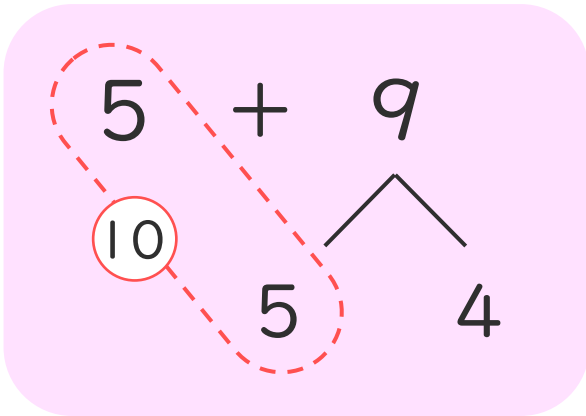
めざせ80点!



名まえ _____

1 $6 + 5$ のけいさんのしかたをかんがえます。

にあうかずをかきましょう。(各15点)



① 5はあと 5 で10。

② 9を 5 と4にわける。

③ 5に 5 をたして10。

④ 10と 4 で14。

2 ゆうきさんはさかなを8ぴき、しほさんは6ぴき
つりました。さかなは、ぜんぶでなんぴきつれましたか。

(40点)

しき：

こたえ





くりあがりのある
たしざん 10

● けいさんのしかたを
かんがえよう

16

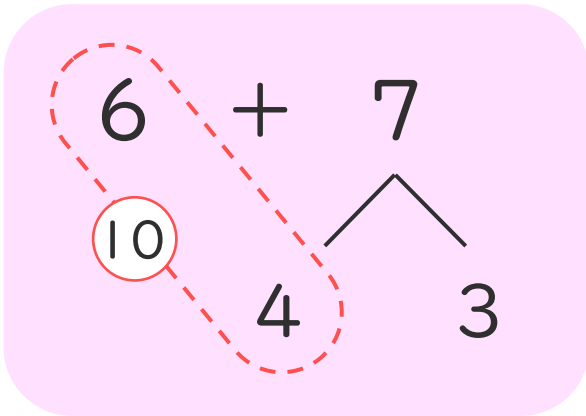
めざせ80点!



名まえ _____

1 6 + 7 の けいさんのしかたを かんがえます。

に あう かず を かき まし ょう。 (各15点)



① 6 は あと で 10。

② 7 を と 3 に わける。

③ 6 に を たして 10。

④ 10 と で 13。

2 おやの とりが 5 わ、こどもの とりが 6 わ います。
とりは、ぜんぶで なん わ いますか。

(40点)

しき：

こたえ