



くりあがりのある
たしざん 4

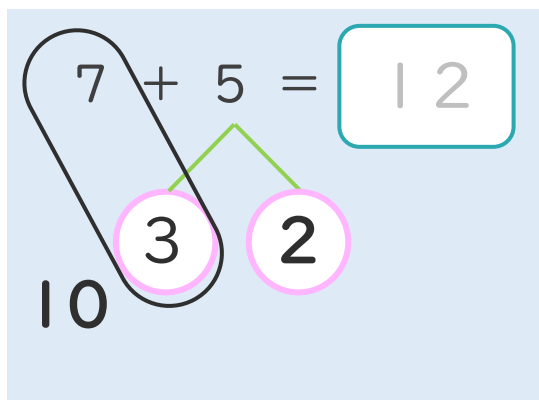
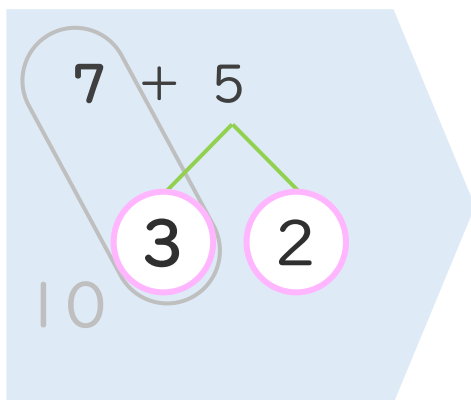
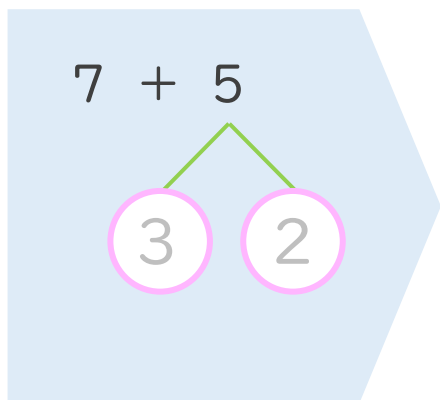
● くりあがりのけいさん
(7とたす)



日にち： 月 日

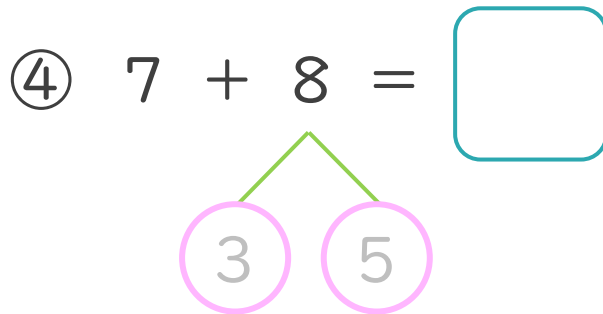
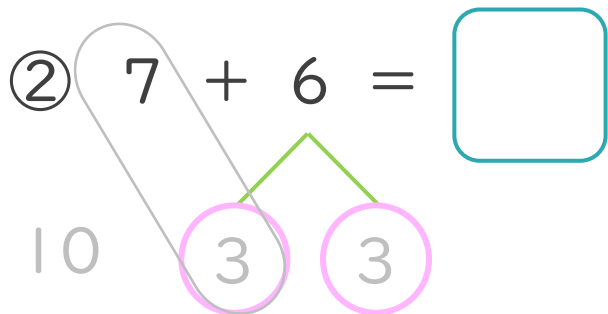
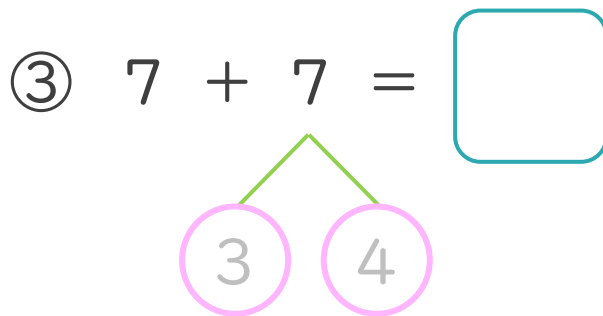
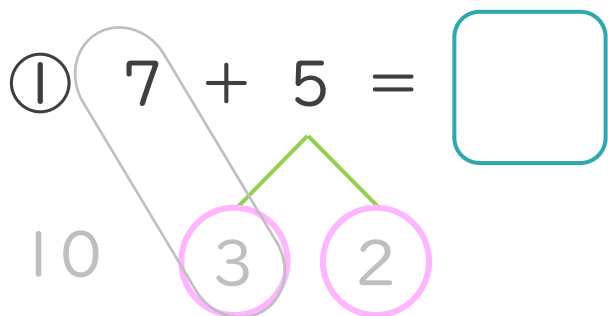
名まえ _____

< 7 + 5 のけいさんのしかた > (うすいじはなぞりましょう。)



- ① 5を
3と2に
わけます。
- ② 7に3を
たして10。
- ③ 10と2で12。

・ けいさんをしましょう。(うすいじはなぞりましょう。)





くりあがりのある
たしざん 4

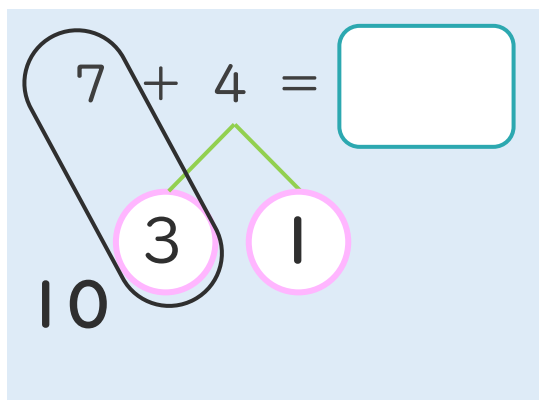
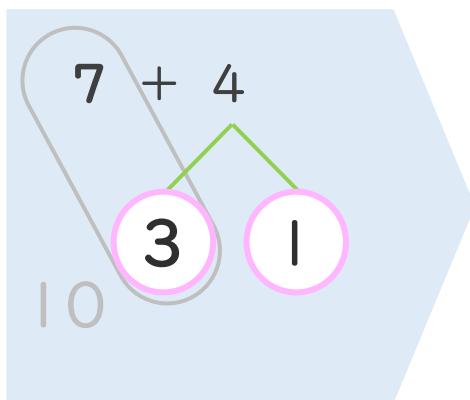
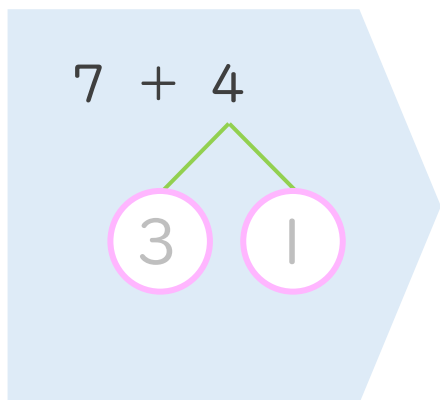
● くりあがりのけいさん
(7とたす)



日にち： 月 日

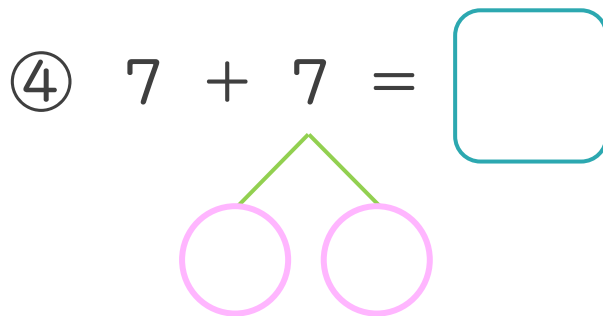
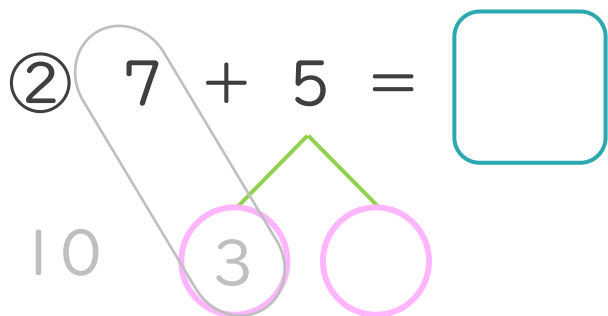
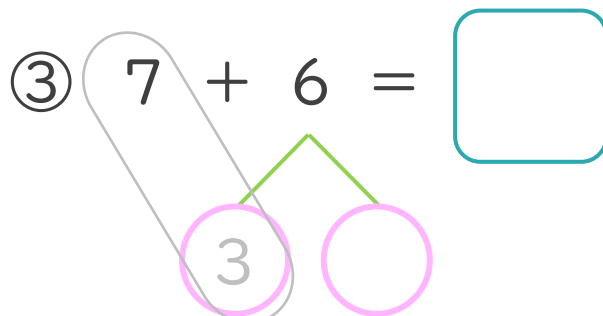
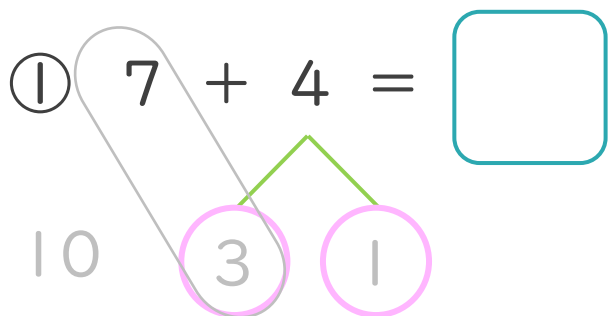
名まえ _____

< 7 + 4 の けいさんの しかた > (うすいじはなぞりましょう。)



- ① 4を
3と1に
わけます。
- ② 7に3を
たして10。
- ③ 10と1で11。

・ けいさんを しましょう。(うすいじはなぞりましょう。)





くりあがりのある
たしざん 4

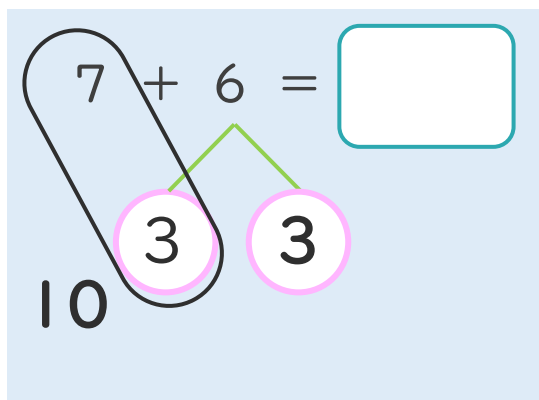
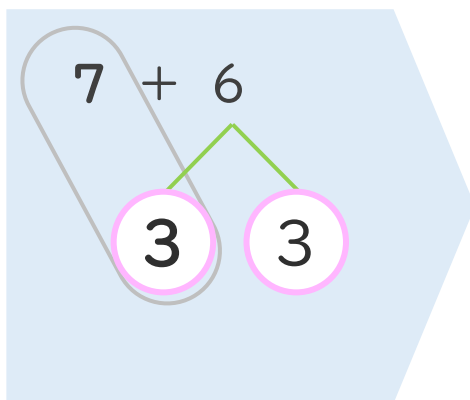
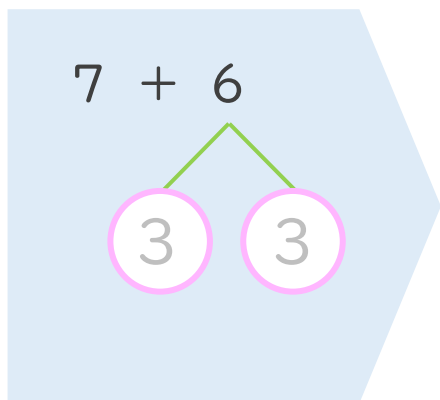
● くりあがりのけいさん
(7とたす)



日にち： 月 日

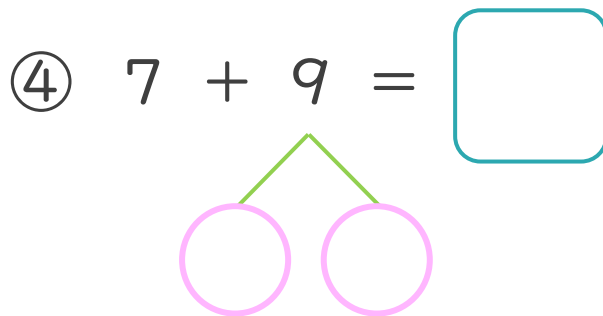
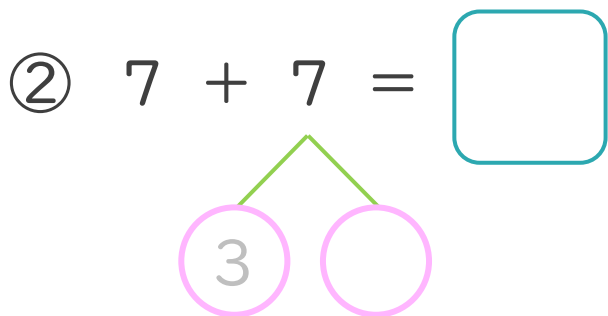
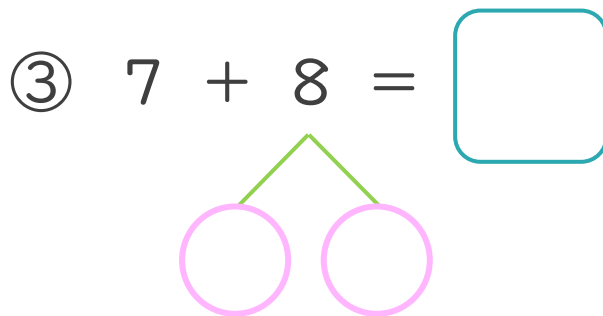
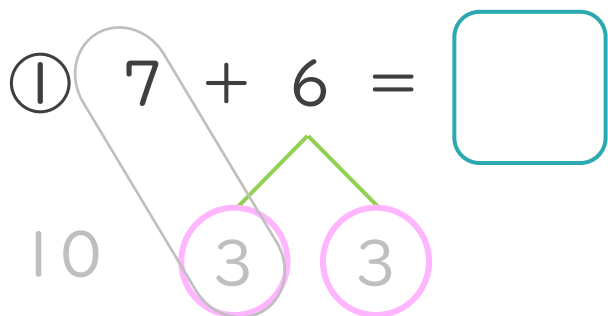
名まえ _____

< 7 + 6 のけいさんのしかた > (うすいじはなぞりましょう。)



- ① 6を
3と3に
わけます。
- ② 7に3を
たして10。
- ③ 10と3で13。

・ けいさんをしましょう。(うすいじはなぞりましょう。)





くりあがりのある
たしざん 4

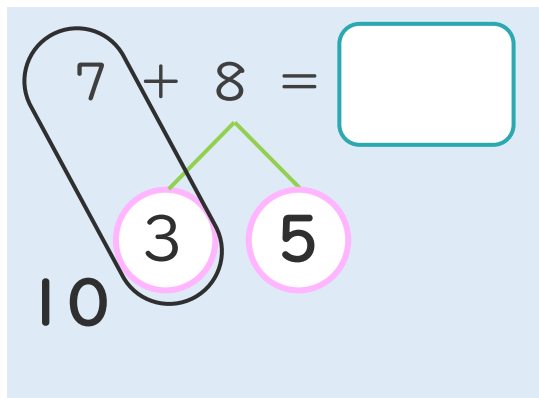
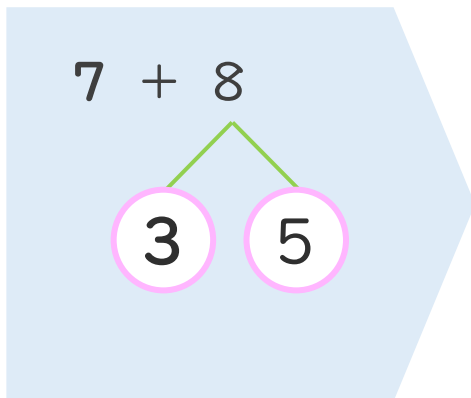
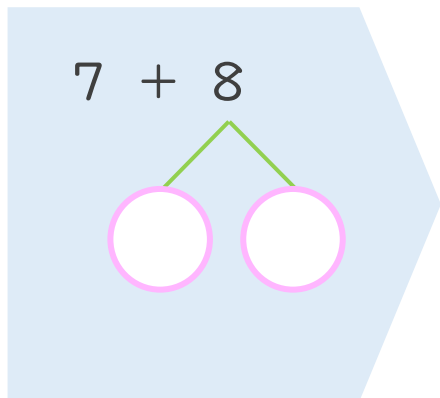
● くりあがりのけいさん
(7とたす)



日にち： 月 日

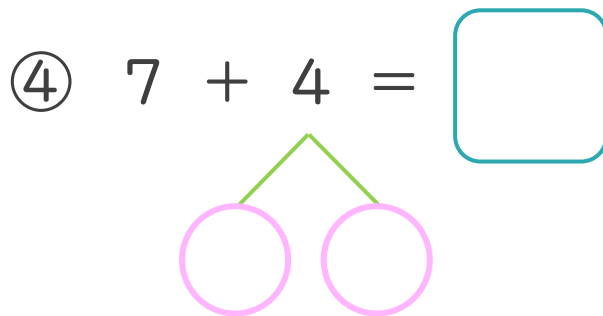
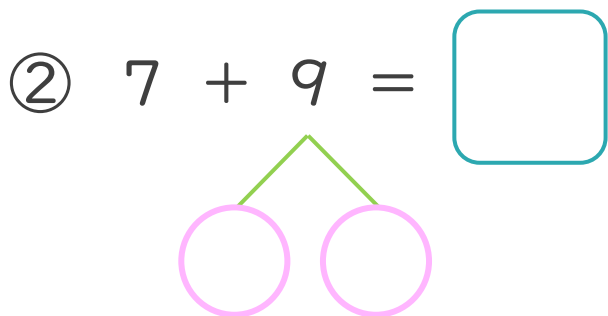
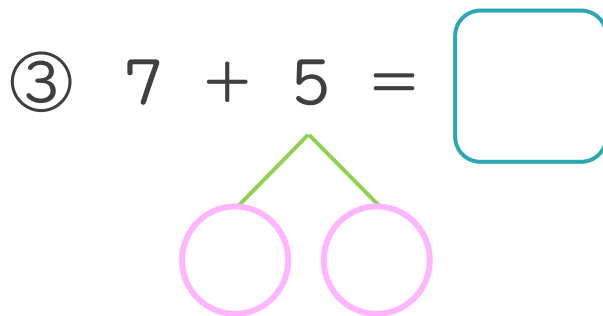
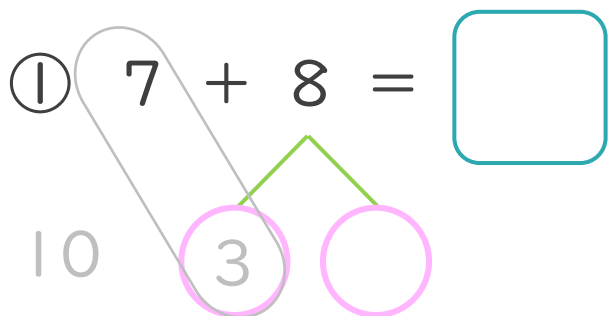
名まえ _____

< 7 + 8 の けいさんの しかた >



- ① 8を
3と5に
わけます。
- ② 7に3を
たして10。
- ③ 10と5で15。

・ けいさんを しましょう。(うすいじはなぞりましょう。)





くりあがりのある
たしざん 4

● くりあがりのけいさん
(7とたす)

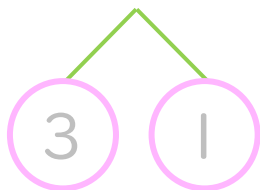


日にち： 月 日

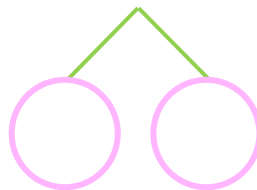
名まえ _____

・ けいさんをしましょう。(うすいじはなぞりましょう。)

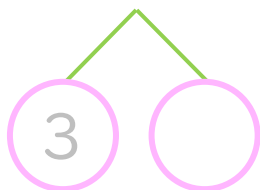
① $7 + 4 = \square$



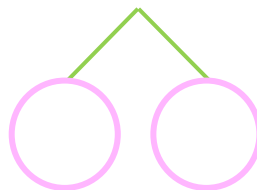
⑤ $7 + 9 = \square$



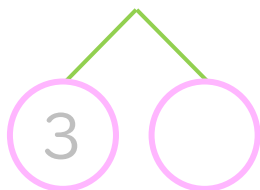
② $7 + 7 = \square$



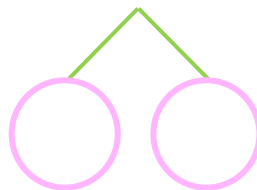
⑥ $7 + 5 = \square$



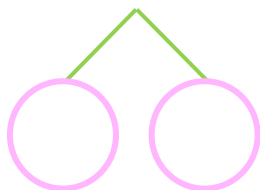
③ $7 + 6 = \square$



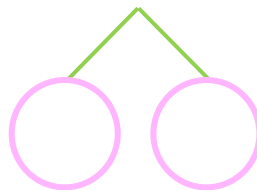
⑦ $7 + 7 = \square$



④ $7 + 8 = \square$



⑧ $7 + 4 = \square$





くりあがりのある
たしざん 4

● くりあがりのけいさん
(7とたす)

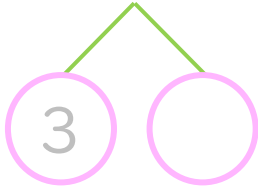


日にち： 月 日

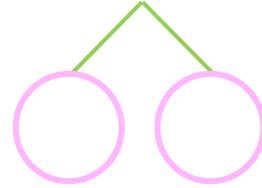
名まえ _____

・ けいさんをしましょう。(うすいじはなぞりましょう。)

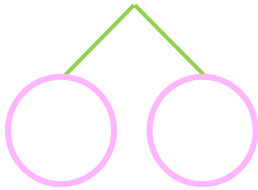
① $7 + 5 =$



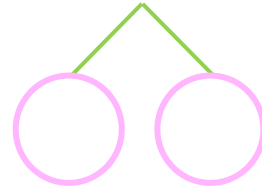
⑤ $7 + 8 =$



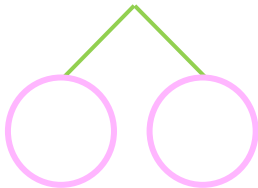
② $7 + 6 =$



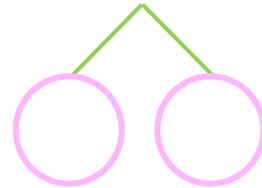
⑥ $7 + 7 =$



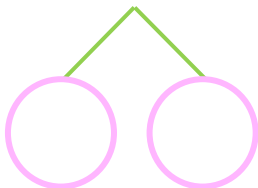
③ $7 + 9 =$



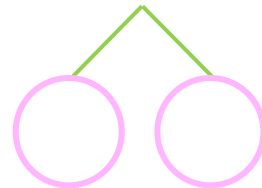
⑦ $7 + 5 =$



④ $7 + 4 =$



⑧ $7 + 9 =$





くりあがりのある
たしざん 4

● くりあがりのけいさん
(7とたす)

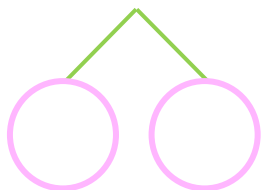


日にち： 月 日

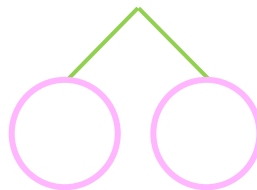
名まえ _____

・ けいさんをしましょう。

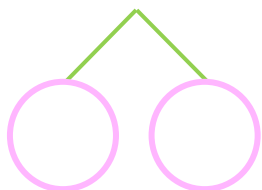
① $7 + 8 =$



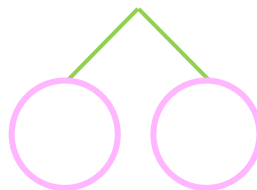
⑤ $7 + 4 =$



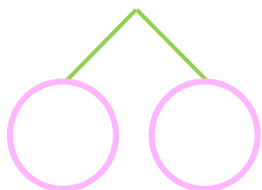
② $7 + 9 =$



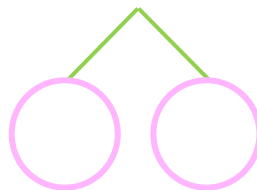
⑥ $7 + 5 =$



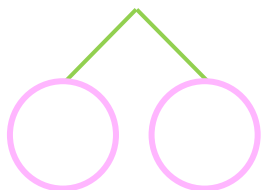
③ $7 + 7 =$



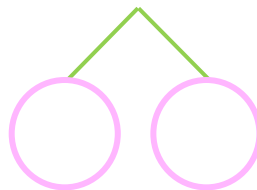
⑦ $7 + 6 =$



④ $7 + 6 =$



⑧ $7 + 8 =$





くりあがりのある
たしざん 4

● くりあがりのけいさん
(7とたす)

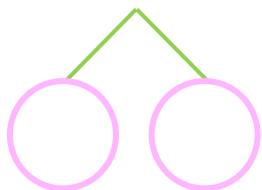


日にち： 月 日

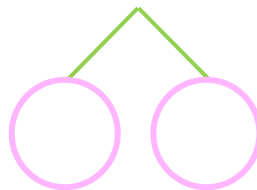
名まえ _____

・ けいさんをしましょう。

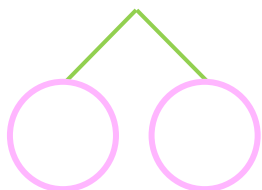
① $7 + 9 =$



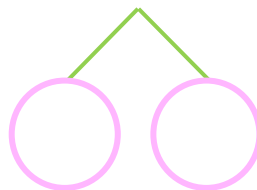
⑤ $7 + 6 =$



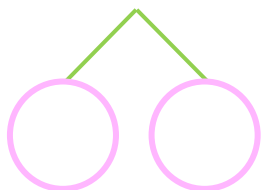
② $7 + 4 =$



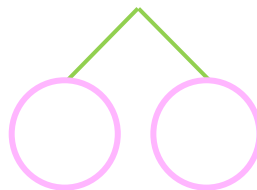
⑥ $7 + 8 =$



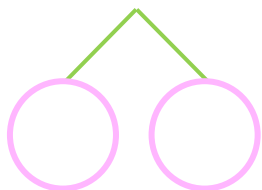
③ $7 + 5 =$



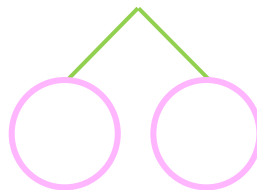
⑦ $7 + 7 =$



④ $7 + 7 =$



⑧ $7 + 9 =$





くりあがりのある
たしざん 4

● くりあがりのけいさん
(7 と たす)



日にち： 月 日

名まえ _____

・ けいさんをしましょう。

① $7 + 4 =$

⑤ $7 + 9 =$

② $7 + 6 =$

⑥ $7 + 4 =$

③ $7 + 7 =$

⑦ $7 + 8 =$

④ $7 + 5 =$

⑧ $7 + 6 =$





くりあがりのある
たしざん 4

● くりあがりのけいさん
(7 と たす)

10

日にち： 月 日

名まえ _____

・ けいさんを しましよう。

① $7 + 4 =$

⑤ $7 + 8 =$

② $7 + 9 =$

⑥ $8 + 6 =$

③ $8 + 7 =$

⑦ $7 + 5 =$

④ $7 + 6 =$

⑧ $8 + 4 =$



くりあがりのある
たしざん 4

● くりあがりのけいさん
(7とたす)



日にち： 月 日

名まえ _____

・ けいさんをしましょう。

① $8 + 8 =$

⑤ $7 + 6 =$

② $7 + 5 =$

⑥ $7 + 9 =$

③ $7 + 7 =$

⑦ $8 + 5 =$

④ $8 + 3 =$

⑧ $7 + 4 =$



くりあがりのある
たしざん 4

● くりあがりのけいさん
(7 と たす)

12

日にち： 月 日

名まえ _____

・ けいさんを しましよう。

① $7 + 7 =$

⑤ $8 + 5 =$

② $8 + 9 =$

⑥ $7 + 5 =$

③ $7 + 8 =$

⑦ $7 + 6 =$

④ $7 + 4 =$

⑧ $8 + 3 =$



くりあがりのある
たしざん 4

● くりあがりのけいさん
(7 と たす)

13

日にち： 月 日

名まえ _____

・ けいさんを しましよう。

① $8 + 4 =$

⑤ $7 + 9 =$

② $7 + 7 =$

⑥ $7 + 8 =$

③ $7 + 5 =$

⑦ $8 + 9 =$

④ $8 + 7 =$

⑧ $7 + 6 =$



くりあがりのある
たしざん 4

● くりあがりのけいさん
(7 と たす)

14

日にち： 月 日

名まえ _____

・ けいさんを しましよう。

① $8 + 6 =$

⑤ $7 + 7 =$

② $7 + 4 =$

⑥ $8 + 3 =$

③ $8 + 8 =$

⑦ $7 + 9 =$

④ $7 + 5 =$

⑧ $7 + 8 =$



くりあがりのある
たしざん 4

● くりあがりのけいさん
(7 と たす)

15

めざせ80点!



名まえ _____

・ けいさんをしましょう。(各20点)

① $7 + 6 =$

② $8 + 9 =$

③ $7 + 4 =$

④ $7 + 8 =$

⑤ $7 + 5 =$



くりあがりのある
たしざん 4

● くりあがりのけいさん
(7 と たす)

16

めざせ80点!



名まえ _____

・ けいさんをしましょう。(各20点)

① $7 + 8 =$

② $7 + 7 =$

③ $7 + 9 =$

④ $8 + 7 =$

⑤ $7 + 4 =$



くりあがりのある
たしざん 4

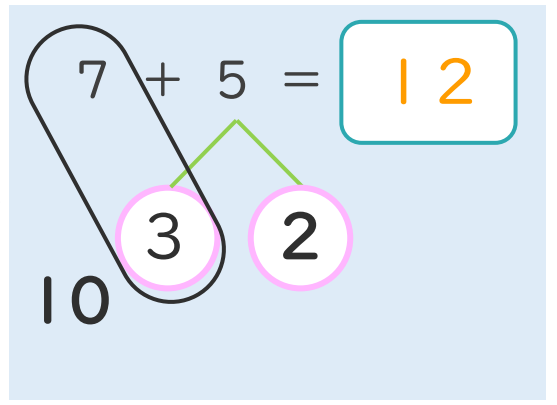
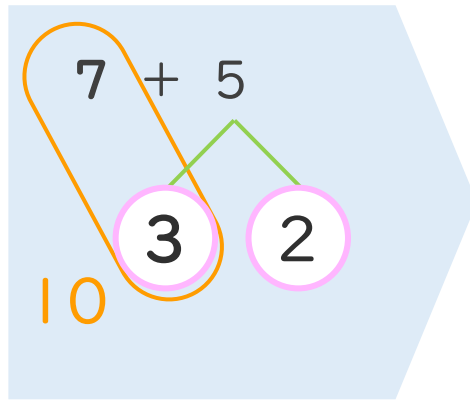
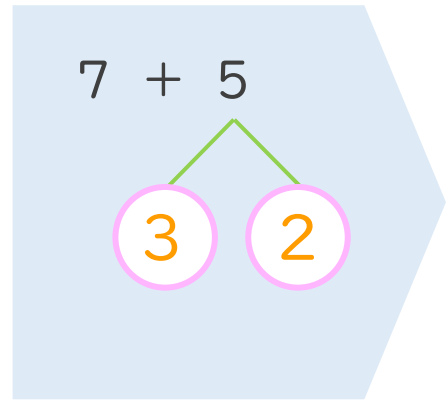
● くりあがりのけいさん
(7とたす)



日にち： 月 日

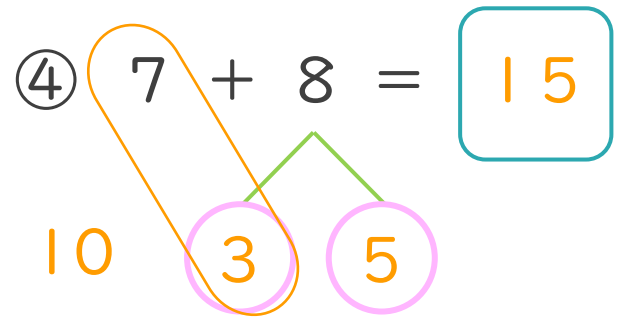
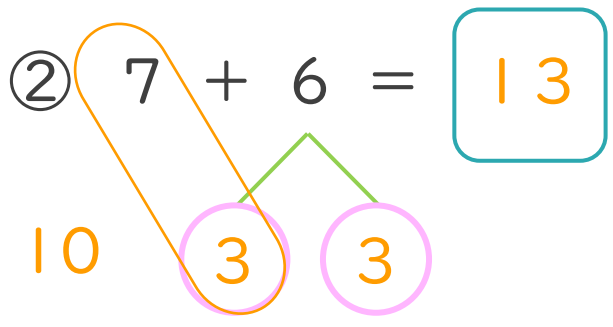
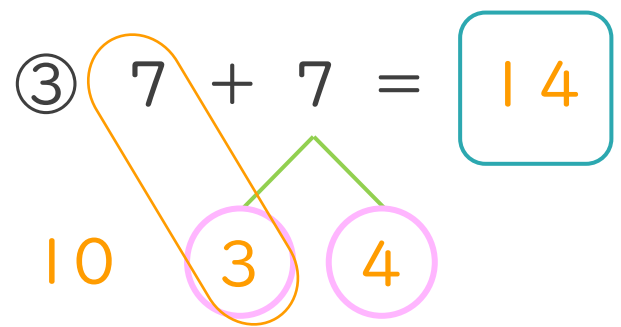
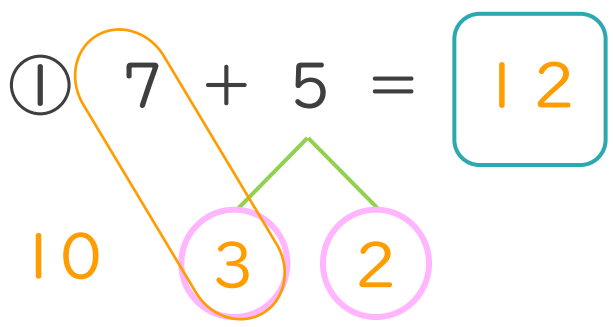
名まえ _____

< 7 + 5 の けいさんの しかた > (うすいじはなぞりましょう。)



- ① 5を
3と2に
わけます。
- ② 7に3を
たして10。
- ③ 10と2で12。

・ けいさんを しましょう。(うすいじはなぞりましょう。)





くりあがりのある
たしざん 4

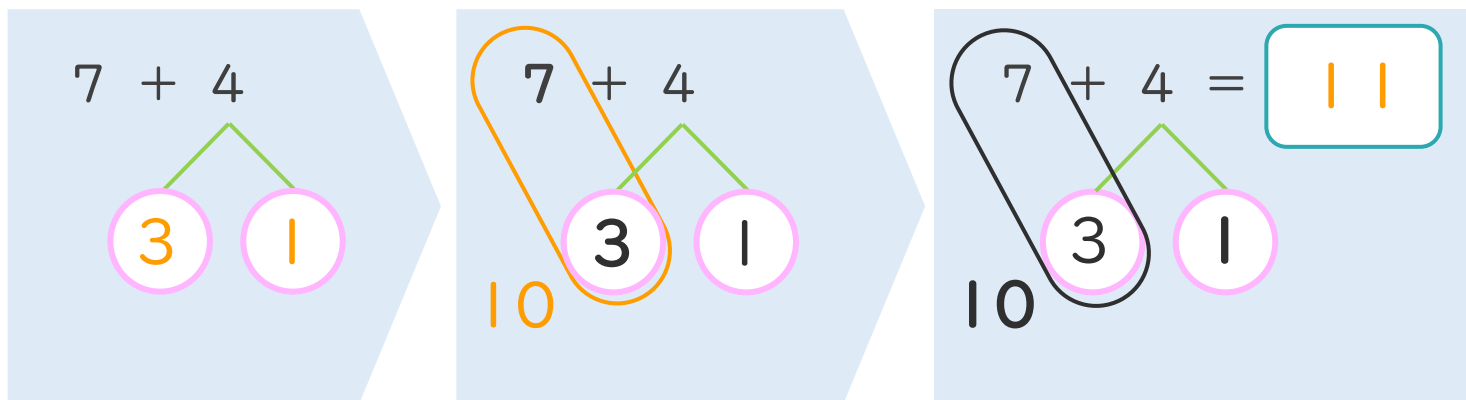
● くりあがりのけいさん
(7とたす)



日にち： 月 日

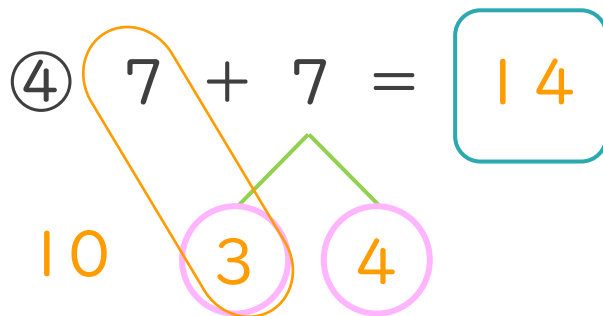
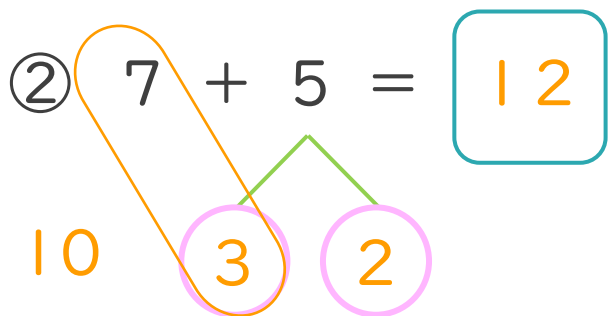
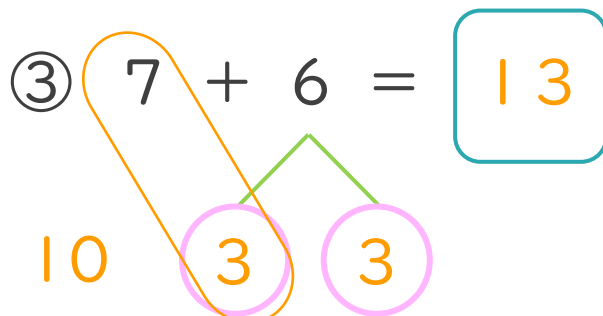
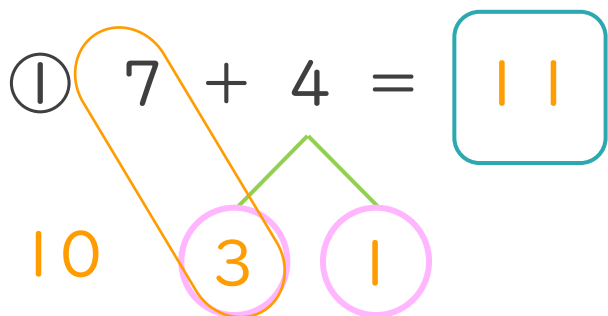
名まえ _____

< 7 + 4 の けいさんの しかた > (うすいじはなぞりましょう。)



- ① 4を
3と1に
わけます。
- ② 7に3を
たして10。
- ③ 10と1で11。

・ けいさんをしましょう。(うすいじはなぞりましょう。)





くりあがりのある
たしざん 4

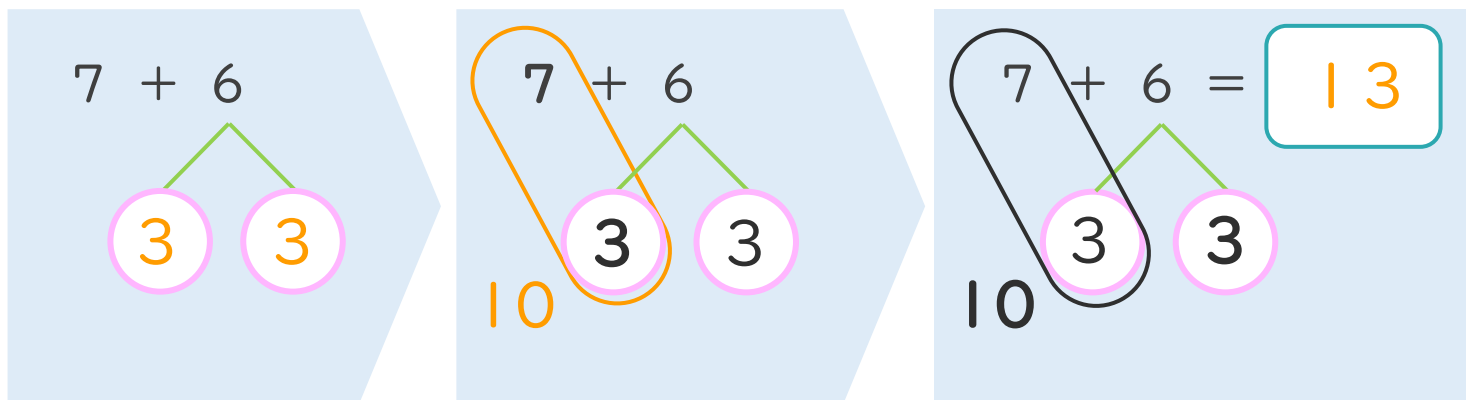
● くりあがりのけいさん
(7とたす)



日にち： 月 日

名まえ _____

< 7 + 6 の けいさんの しかた > (うすいじはなぞりましょう。)



- ① 6を
3と3に
わけます。
- ② 7に3を
たして10。
- ③ 10と3で13。

・ けいさんをしましょう。(うすいじはなぞりましょう。)

① $7 + 6 = 13$

10 3 3

③ $7 + 8 = 15$

10 3 5

② $7 + 7 = 14$

10 3 4

④ $7 + 9 = 16$

10 3 6





くりあがりのある
たしざん 4

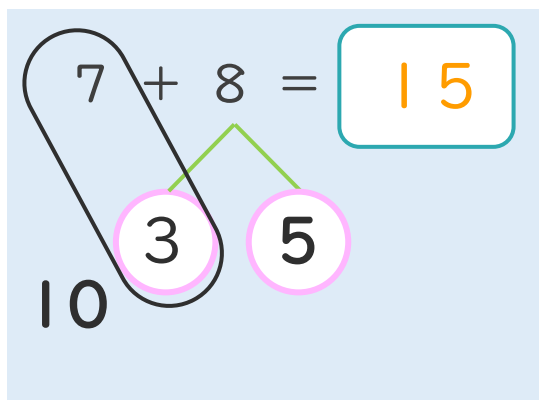
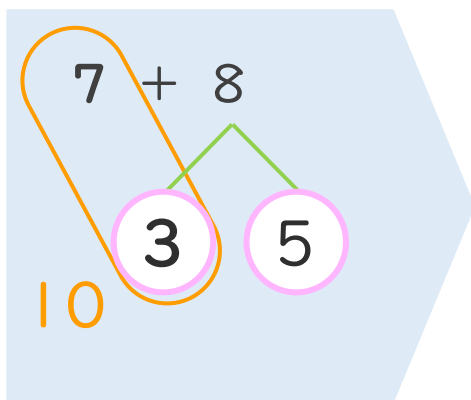
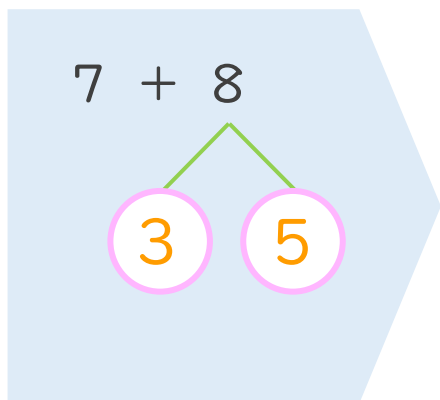
● くりあがりのけいさん
(7とたす)



日にち： 月 日

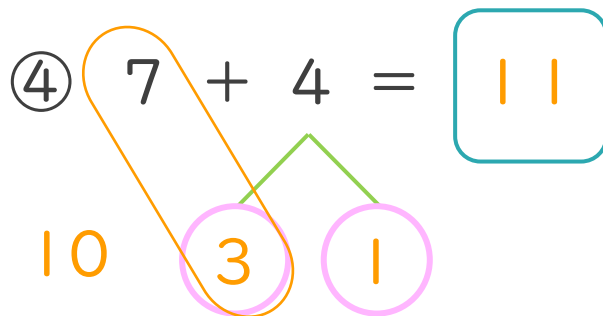
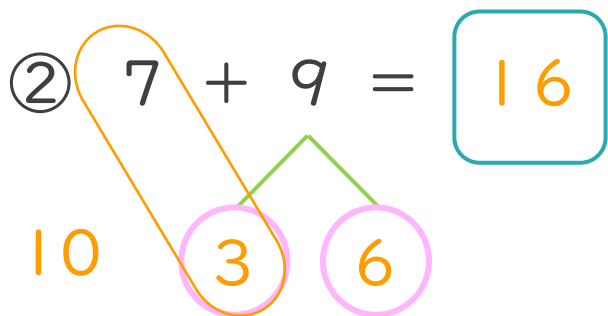
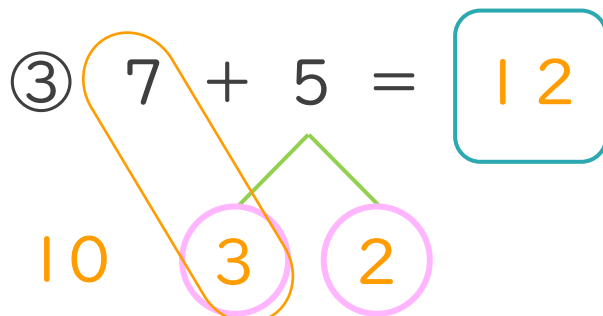
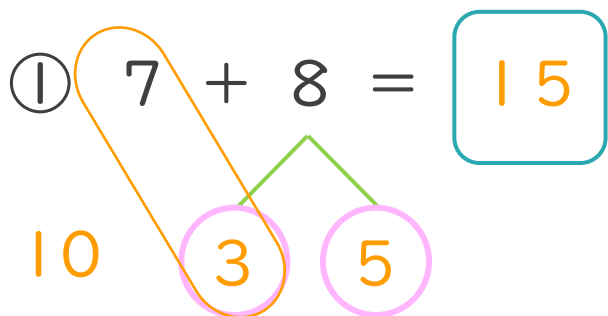
名まえ _____

< 7 + 8 の けいさんの しかた >



- ① 8を
3と5に
わけます。
- ② 7に3を
たして10。
- ③ 10と5で15。

・ けいさんを しましょう。(うすいじはなぞりましょう。)





くりあがりのある
たしざん 4

● くりあがりのけいさん
(7とたす)



日にち： 月 日

名まえ _____

・ けいさんをしましょう。(うすいじはなぞりましょう。)

① $7 + 4 = 11$
10 3 1

⑤ $7 + 9 = 16$
10 3 6

② $7 + 7 = 14$
10 3 4

⑥ $7 + 5 = 12$
10 3 2

③ $7 + 6 = 13$
10 3 3

⑦ $7 + 7 = 14$
10 3 4

④ $7 + 8 = 15$
10 3 5

⑧ $7 + 4 = 11$
10 3 1





くりあがりのある
たしざん 4

● くりあがりのけいさん
(7とたす)



日にち： 月 日

名まえ _____

・ けいさんを しまししょう。(うすいじはなぞりまししょう。)

① $7 + 5 = 12$

10 3 2

⑤ $7 + 8 = 15$

10 3 5

② $7 + 6 = 13$

10 3 3

⑥ $7 + 7 = 14$

10 3 4

③ $7 + 9 = 16$

10 3 6

⑦ $7 + 5 = 12$

10 3 2

④ $7 + 4 = 11$

10 3 1

⑧ $7 + 9 = 16$

10 3 6



くりあがりのある
たしざん 4

● くりあがりのけいさん
(7とたす)



日にち： 月 日

名まえ _____

・ けいさんをしましょう。

① $7 + 8 = 15$

10 3 5

⑤ $7 + 4 = 11$

10 3 1

② $7 + 9 = 16$

10 3 6

⑥ $7 + 5 = 12$

10 3 2

③ $7 + 7 = 14$

10 3 4

⑦ $7 + 6 = 13$

10 3 3

④ $7 + 6 = 13$

10 3 3

⑧ $7 + 8 = 15$

10 3 5



くりあがりのある
たしざん 4

● くりあがりのけいさん
(7とたす)



日にち： 月 日

名まえ _____

・ けいさんをしましょう。

① $7 + 9 = 16$
10 3 6

⑤ $7 + 6 = 13$
10 3 3

② $7 + 4 = 11$
10 3 1

⑥ $7 + 8 = 15$
10 3 5

③ $7 + 5 = 12$
10 3 2

⑦ $7 + 7 = 14$
10 3 4

④ $7 + 7 = 14$
10 3 4

⑧ $7 + 9 = 16$
10 3 6





くりあがりのある
たしざん 4

● くりあがりのけいさん
(7とたす)



日にち： 月 日

名まえ _____

・ けいさんをしましょう。

① $7 + 4 = 11$
10 3 1

⑤ $7 + 9 = 16$
10 3 6

② $7 + 6 = 13$
10 3 3

⑥ $7 + 4 = 11$
10 3 1

③ $7 + 7 = 14$
10 3 4

⑦ $7 + 8 = 15$
10 3 5

④ $7 + 5 = 12$
10 3 2

⑧ $7 + 6 = 13$
10 3 3





くりあがりのある
たしざん 4

● くりあがりのけいさん
(7とたす)



日にち： 月 日

名まえ _____

・ けいさんをしましょう。

① $7 + 4 = 11$

10 3 1

⑤ $7 + 8 = 15$

10 3 5

② $7 + 9 = 16$

10 3 6

⑥ $8 + 6 = 14$

10 2 4

③ $8 + 7 = 15$

10 2 5

⑦ $7 + 5 = 12$

10 3 2

④ $7 + 6 = 13$

10 3 3

⑧ $8 + 4 = 12$

10 2 2



くりあがりのある
たしざん 4

● くりあがりのけいさん
(7とたす)



日にち： 月 日

名まえ _____

・ けいさんをしましょう。

① $8 + 8 = 16$
10 2 6

⑤ $7 + 6 = 13$
10 3 3

② $7 + 5 = 12$
10 3 2

⑥ $7 + 9 = 16$
10 3 6

③ $7 + 7 = 14$
10 3 4

⑦ $8 + 5 = 13$
10 2 3

④ $8 + 3 = 11$
10 2 1

⑧ $7 + 4 = 11$
10 3 1





くりあがりのある
たしざん 4

● くりあがりのけいさん
(7とたす)

12

日にち： 月 日

名まえ _____

・ けいさんをしましょう。

① $7 + 7 = 14$
10 3 4

⑤ $8 + 5 = 13$
10 2 3

② $8 + 9 = 17$
10 2 7

⑥ $7 + 5 = 12$
10 3 2

③ $7 + 8 = 15$
10 3 5

⑦ $7 + 6 = 13$
10 3 3

④ $7 + 4 = 11$
10 3 1

⑧ $8 + 3 = 11$
10 2 1





くりあがりのある
たしざん 4

● くりあがりのけいさん
(7とたす)

13

日にち： 月 日

名まえ _____

・ けいさんをしましょう。

① $8 + 4 = 12$
10 2 2

⑤ $7 + 9 = 16$
10 3 6

② $7 + 7 = 14$
10 3 4

⑥ $7 + 8 = 15$
10 3 5

③ $7 + 5 = 12$
10 3 2

⑦ $8 + 9 = 17$
10 2 7

④ $8 + 7 = 15$
10 2 5

⑧ $7 + 6 = 13$
10 3 3





くりあがりのある
たしざん 4

● くりあがりのけいさん
(7とたす)

14

日にち： 月 日

名まえ _____

・ けいさんをしましょう。

① $8 + 6 = 14$
10 2 4

⑤ $7 + 7 = 14$
10 3 4

② $7 + 4 = 11$
10 3 1

⑥ $8 + 3 = 11$
10 2 1

③ $8 + 8 = 16$
10 2 6

⑦ $7 + 9 = 16$
10 3 6

④ $7 + 5 = 12$
10 3 2

⑧ $7 + 8 = 15$
10 3 5





くりあがりのある
たしざん 4

● くりあがりのけいさん
(7とたす)

15

めざせ80点!



名まえ _____

・ けいさんをしましょう。(各20点)

① $7 + 6 = 13$

10 3 3

② $8 + 9 = 17$

10 2 7

③ $7 + 4 = 11$

10 3 1

④ $7 + 8 = 15$

10 3 5

⑤ $7 + 5 = 12$

10 3 2





くりあがりのある
たしざん 4

● くりあがりのけいさん
(7とたす)

16

めざせ80点!



名まえ _____

・ けいさんをしましょう。(各20点)

① $7 + 8 = 15$
10 3 5

② $7 + 7 = 14$
10 3 4

③ $7 + 9 = 16$
10 3 6

④ $8 + 7 = 15$
10 2 5

⑤ $7 + 4 = 11$
10 3 1

