



くりあがりのある  
たしざん 5

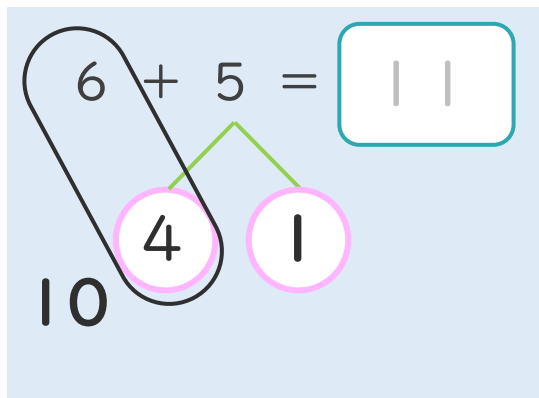
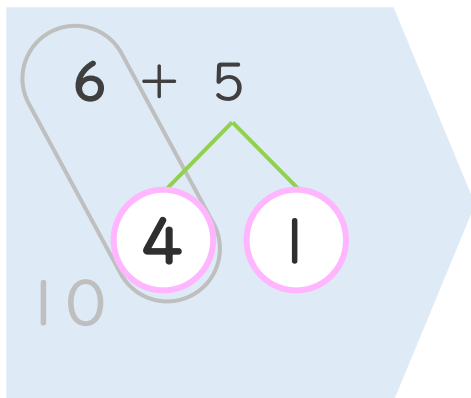
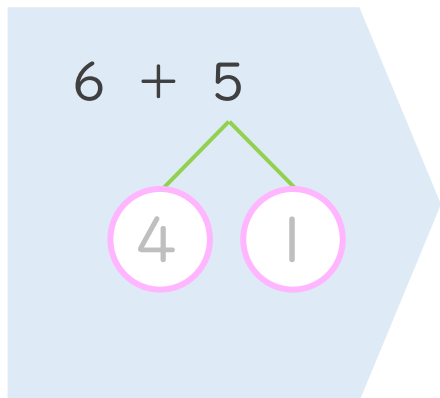
● くりあがりのけいさん  
(6や5とたす)



日にち： 月 日

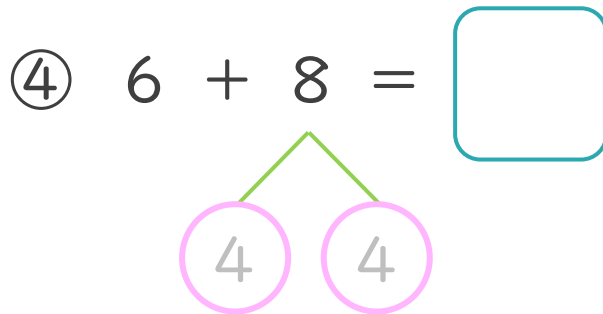
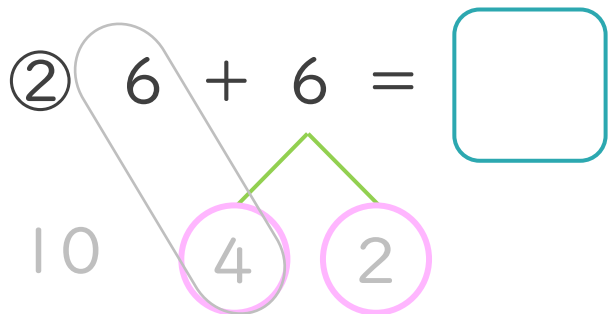
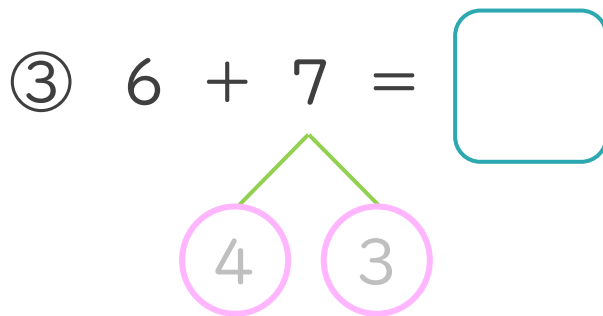
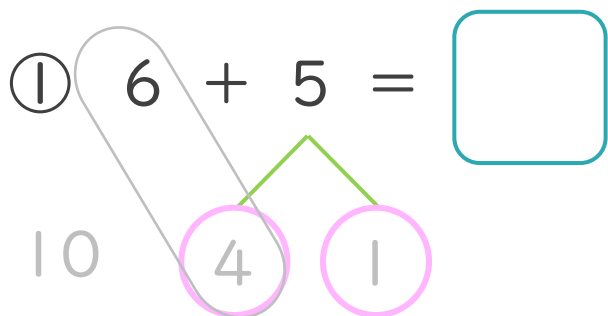
名まえ \_\_\_\_\_


< 6 + 5 の けいさんの しかた > (うすいじはなぞりましょう。)



- ① 5を  
4と1に  
わけます。
- ② 6に4を  
たして10。
- ③ 10と1で11。

・ けいさんをしましょう。(うすいじはなぞりましょう。)





くりあがりのある  
たしざん 5

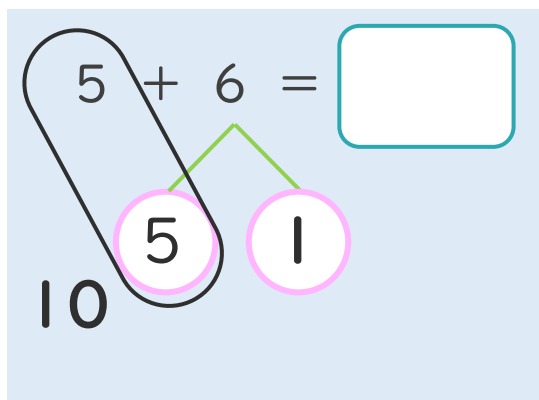
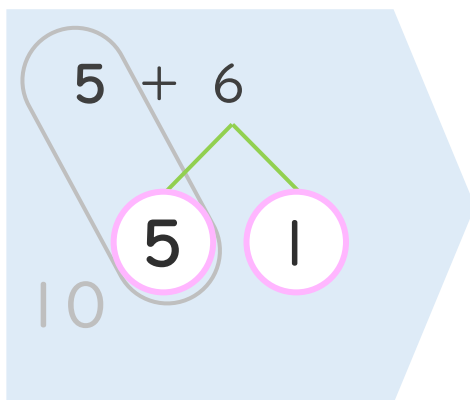
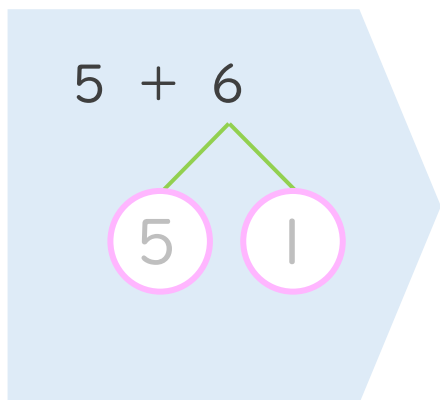
● くりあがりのけいさん  
(6や5とたす)



日にち： 月 日

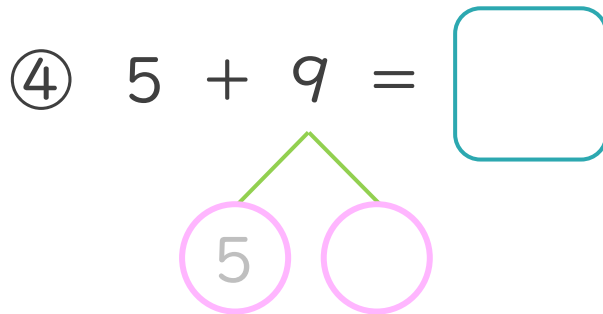
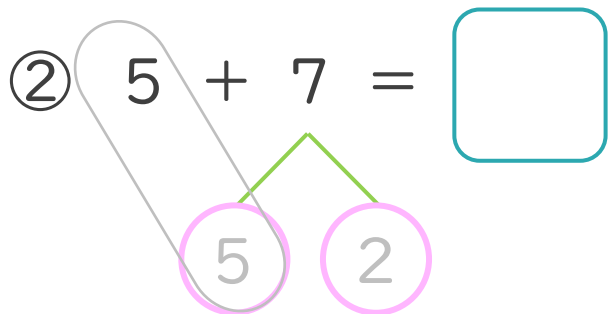
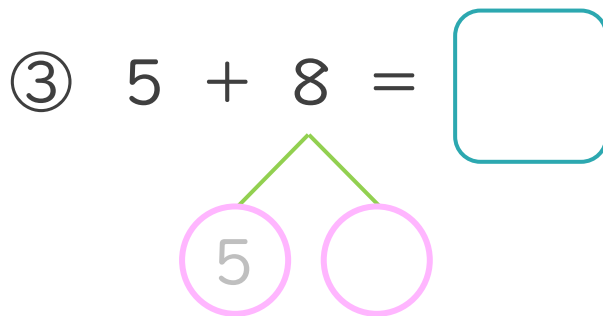
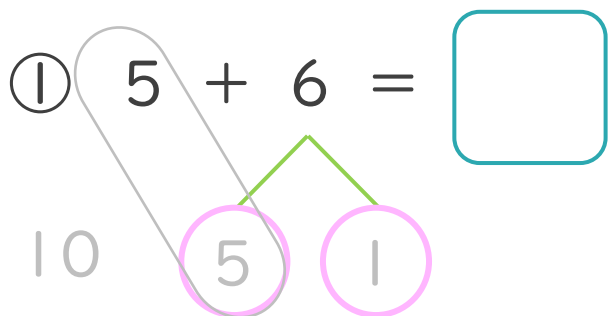
名まえ \_\_\_\_\_


< 5 + 6 の けいさんの しかた > (うすいじはなぞりましょう。)



- ① 6を  
5と1に  
わけます。
- ② 5に5を  
たして10。
- ③ 10と1で11。

・ けいさんをしましょう。(うすいじはなぞりましょう。)





くりあがりのある  
たしざん 5

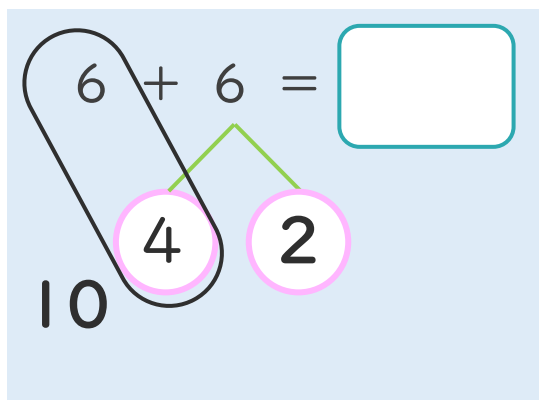
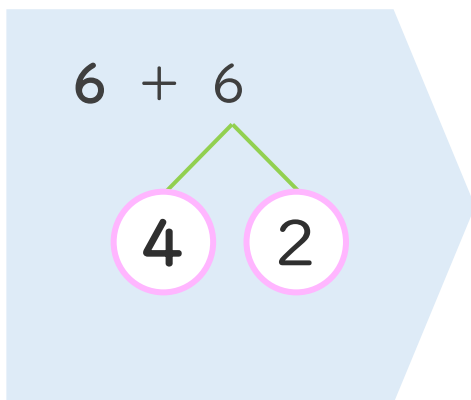
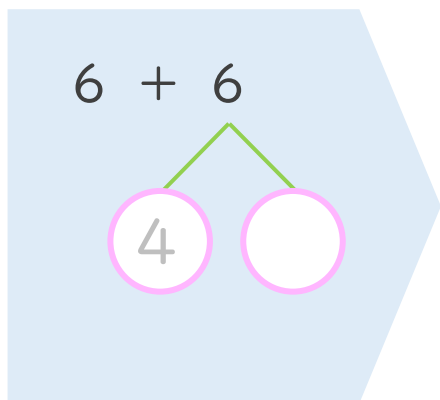
● くりあがりのけいさん  
(6や5とたす)



日にち： 月 日

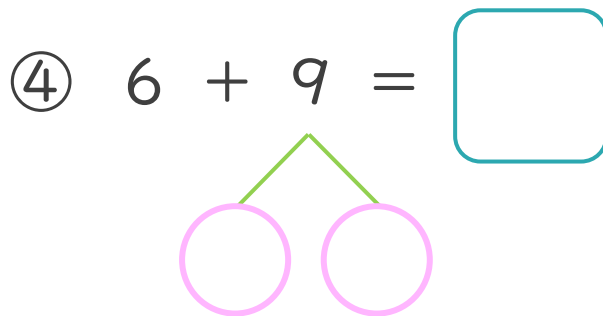
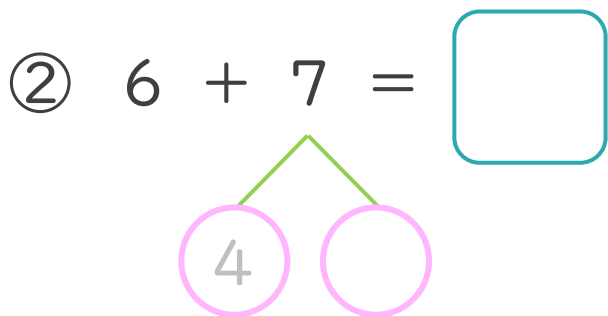
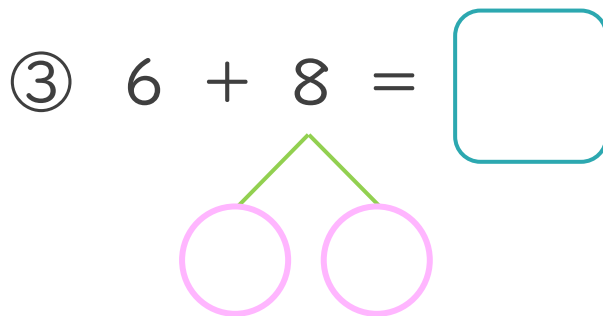
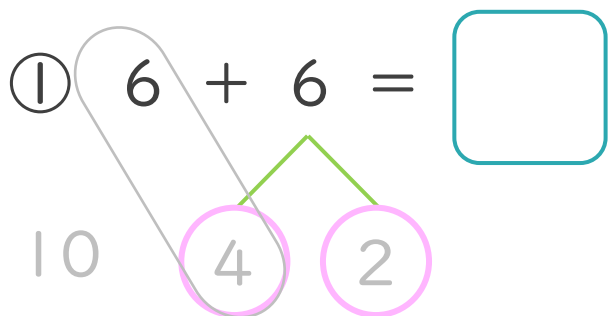
名まえ \_\_\_\_\_


< 6 + 6 のけいさんのしかた > (うすいじはなぞりましょう。)



- ① 6を  
4と2に  
わけます。
- ② 6に4を  
たして10。
- ③ 10と2で12。

・ けいさんをしましょう。(うすいじはなぞりましょう。)





くりあがりのある  
たしざん 5

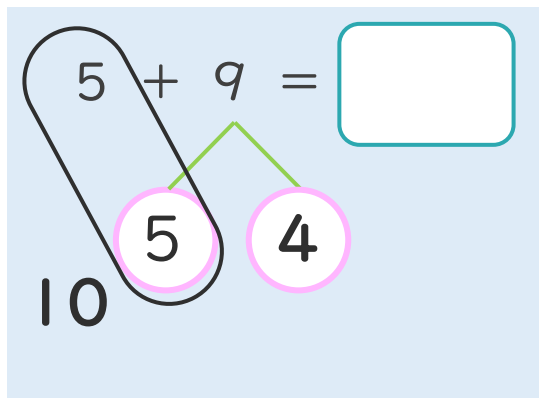
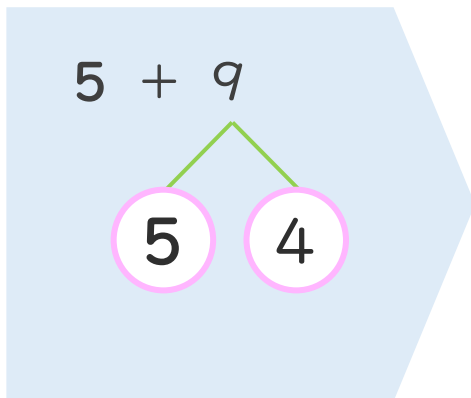
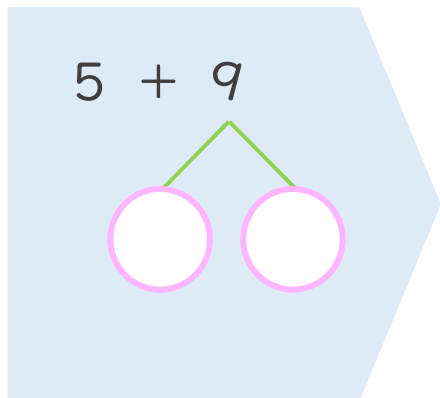
● くりあがりのけいさん  
(6や5とたす)



日にち： 月 日

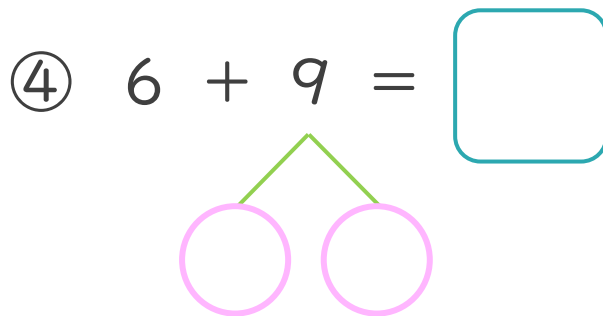
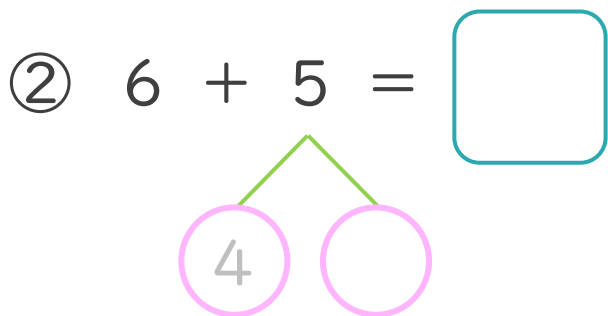
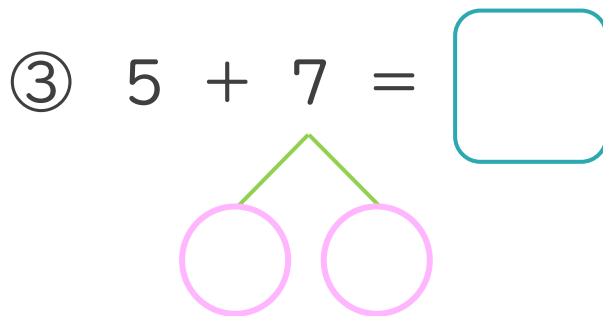
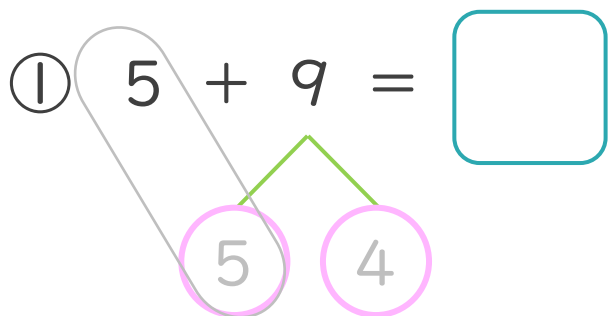
名まえ \_\_\_\_\_


< 5 + 9 のけいさんのしかた >



- ① 9を  
5と4に  
わけます。
- ② 5に5を  
たして10。
- ③ 10と4で14。

・ けいさんをしましょう。(うすいじはなぞりましょう。)





くりあがりのある  
たしざん 5

● くりあがりのけいさん  
(6や5とたす)



日にち： 月 日

名まえ \_\_\_\_\_

・ けいさんをしましょう。(うすいじはなぞりましょう。)

①  $6 + 5 = \square$

4 1

⑤  $5 + 9 = \square$

5 4

②  $6 + 7 = \square$

4

⑥  $5 + 6 = \square$


5

③  $6 + 6 = \square$

⑦  $5 + 8 = \square$

④  $6 + 8 = \square$

⑧  $5 + 7 = \square$



くりあがりのある  
たしざん 5

● くりあがりのけいさん  
(6や5とたす)



日にち：            月            日

名まえ \_\_\_\_\_

・ けいさんをしましょう。(うすいじはなぞりましょう。)

①  $6 + 9 = \square$

4   5

⑤  $5 + 8 = \square$

5  

②  $6 + 5 = \square$

⑥  $5 + 7 = \square$

③  $6 + 7 = \square$


⑦  $5 + 9 = \square$

④  $6 + 6 = \square$

⑧  $5 + 6 = \square$



くりあがりのある  
たしざん 5

● くりあがりのけいさん  
(6や5とたす)

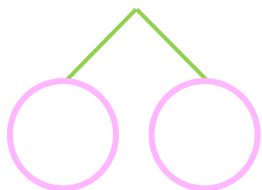


日にち：            月            日

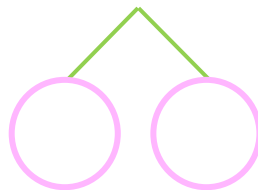
名まえ \_\_\_\_\_

・ けいさんをしましょう。

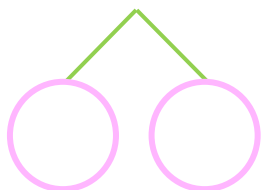
①  $6 + 7 =$



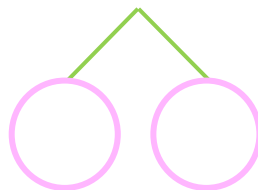
⑤  $5 + 9 =$



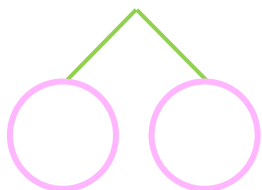
②  $6 + 9 =$



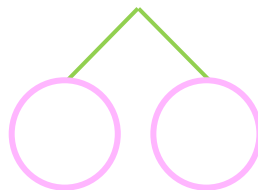
⑥  $5 + 8 =$



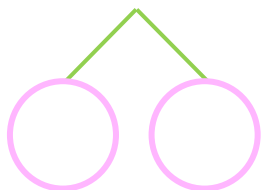
③  $6 + 6 =$



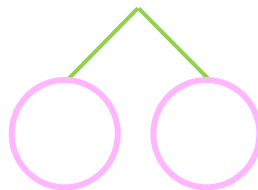
⑦  $5 + 6 =$




④  $6 + 8 =$



⑧  $5 + 7 =$





くりあがりのある  
たしざん 5

● くりあがりのけいさん  
(6や5とたす)

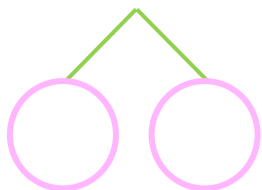


日にち：            月            日

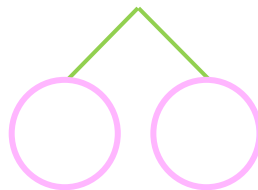
名まえ \_\_\_\_\_

・ けいさんをしましょう。

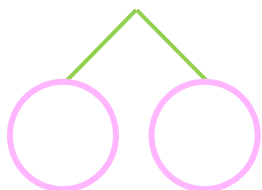
①  $6 + 5 =$



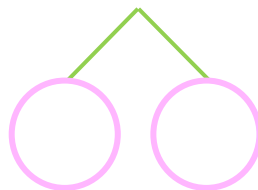
⑤  $5 + 7 =$



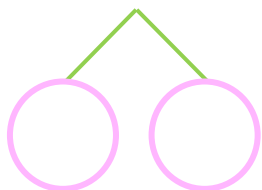
②  $6 + 8 =$



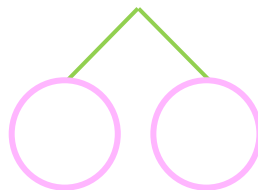
⑥  $5 + 6 =$



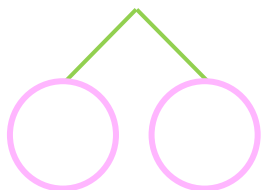
③  $6 + 9 =$



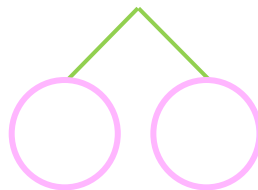
⑦  $5 + 9 =$



④  $6 + 6 =$



⑧  $5 + 8 =$







くりあがりのある  
たしざん 5

● くりあがりのけいさん  
(6や5とたす)

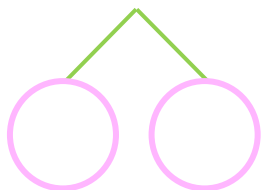


日にち：            月            日

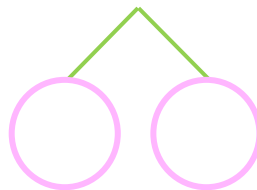
名まえ \_\_\_\_\_

・ けいさんをしましょう。

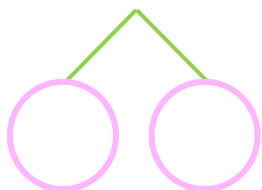
①  $6 + 8 =$



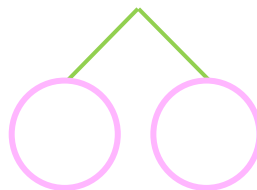
⑤  $5 + 8 =$



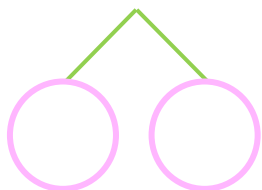
②  $6 + 5 =$



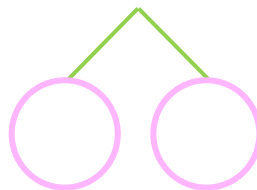
⑥  $5 + 9 =$



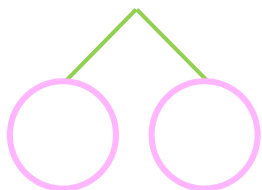
③  $6 + 7 =$



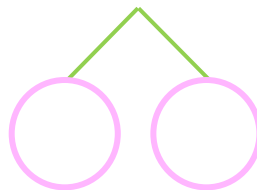
⑦  $5 + 7 =$



④  $6 + 9 =$



⑧  $5 + 6 =$





くりあがりのある  
たしざん 5

● くりあがりのけいさん  
(6や5とたす)

10

日にち：            月            日

名まえ \_\_\_\_\_

・ けいさんをしましょう。

①  $5 + 6 =$

⑤  $6 + 9 =$

②  $6 + 8 =$

⑥  $5 + 7 =$


③  $7 + 4 =$

⑦  $7 + 8 =$

④  $6 + 7 =$

⑧  $5 + 9 =$





くりあがりのある  
たしざん 5

● くりあがりのけいさん  
(6や5とたす)



日にち：            月            日

名まえ \_\_\_\_\_

・ けいさんをしましょう。

①  $6 + 5 =$

⑤  $7 + 7 =$

②  $7 + 9 =$

⑥  $5 + 8 =$

③  $5 + 9 =$

⑦  $5 + 6 =$

④  $6 + 6 =$

⑧  $6 + 7 =$



くりあがりのある  
たしざん 5

● くりあがりのけいさん  
(6や5とたす)

12

日にち：            月            日

名まえ \_\_\_\_\_

・ けいさんをしましょう。

①  $7 + 8 =$

⑤  $5 + 8 =$

②  $6 + 5 =$

⑥  $6 + 6 =$


③  $6 + 9 =$

⑦  $7 + 9 =$

④  $5 + 7 =$

⑧  $5 + 6 =$





くりあがりのある  
たしざん 5

● くりあがりのけいさん  
(6や5とたす)

13

日にち：            月            日

名まえ \_\_\_\_\_

・ けいさんをしましょう。

①  $6 + 8 =$

⑤  $6 + 6 =$

②  $7 + 6 =$

⑥  $5 + 9 =$


③  $5 + 7 =$

⑦  $6 + 5 =$

④  $5 + 8 =$

⑧  $7 + 7 =$





くりあがりのある  
たしざん 5

● くりあがりのけいさん  
(6や5とたす)

14

日にち：          月          日

名まえ \_\_\_\_\_

・ けいさんをしましょう。

①  $5 + 9 =$

⑤  $5 + 8 =$

②  $6 + 8 =$

⑥  $7 + 5 =$

③  $7 + 4 =$

⑦  $5 + 6 =$

④  $6 + 7 =$

⑧  $6 + 9 =$



くりあがりのある  
たしざん 5

● くりあがりのけいさん  
(6や5とたす)

15

めざせ80点!



名まえ \_\_\_\_\_

・ けいさんをしましょう。(各20点)

①  $6 + 7 =$


②  $5 + 8 =$

③  $7 + 5 =$

④  $6 + 9 =$

⑤  $5 + 6 =$





くりあがりのある  
たしざん 5

● くりあがりのけいさん  
(6や5とたす)

16

めざせ80点!



名まえ \_\_\_\_\_

・ けいさんをしましょう。(各20点)

①  $5 + 9 =$

②  $6 + 6 =$

③  $6 + 5 =$

④  $5 + 7 =$

⑤  $7 + 8 =$







# くりあがりのある たしざん 5

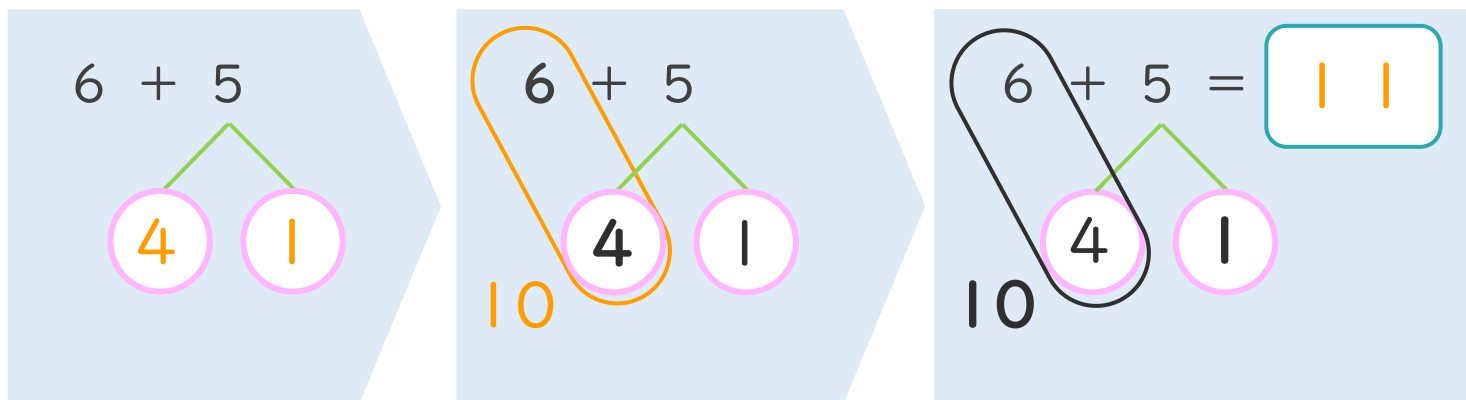
● くりあがりのけいさん  
(6や5とたす)



日にち：            月            日

名まえ \_\_\_\_\_

< 6 + 5 の けいさんの しかた > (うすいじはなぞりましょう。)



- ① 5を  
4と1に  
わけます。
- ② 6に4を  
たして10。
- ③ 10と1で11。

・ けいさんを しましょう。(うすいじはなぞりましょう。)


①  $6 + 5 = 11$

③  $6 + 7 = 13$

②  $6 + 6 = 12$

④  $6 + 8 = 14$





くりあがりのある  
たしざん 5

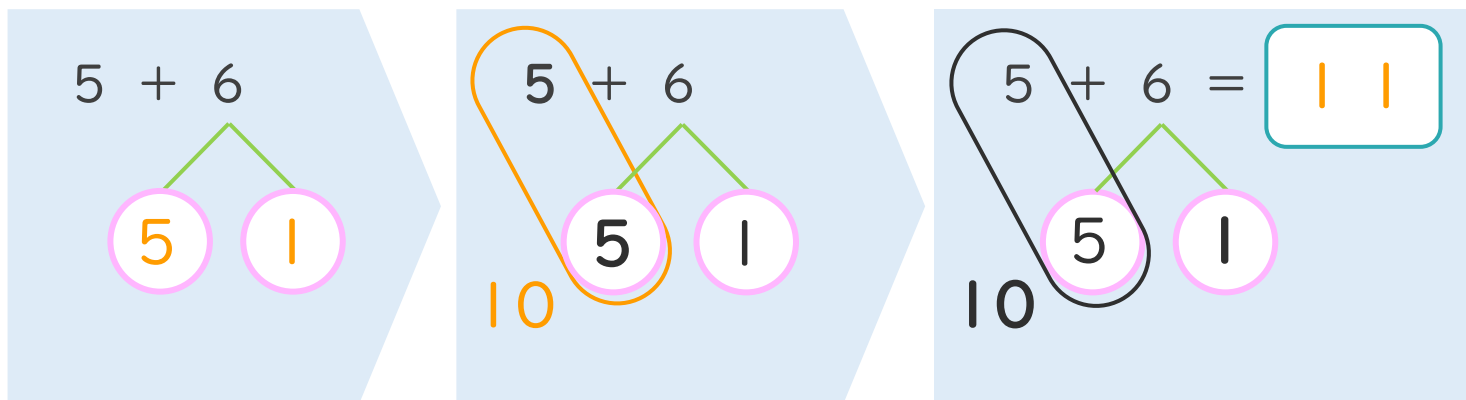
● くりあがりのけいさん  
(6や5とたす)



日にち： 月 日

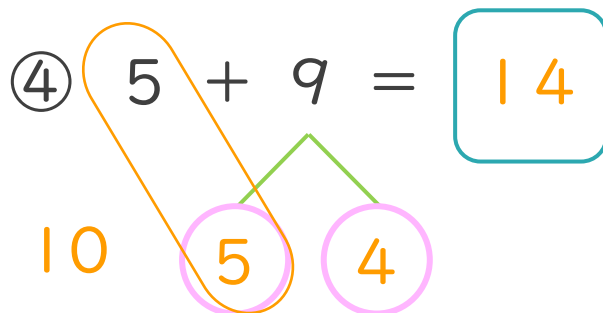
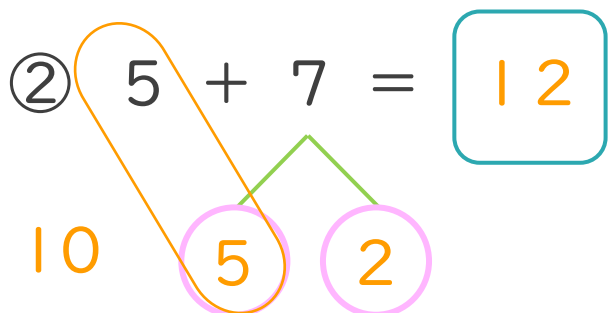
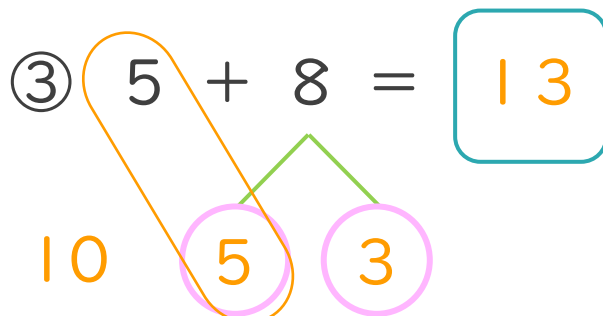
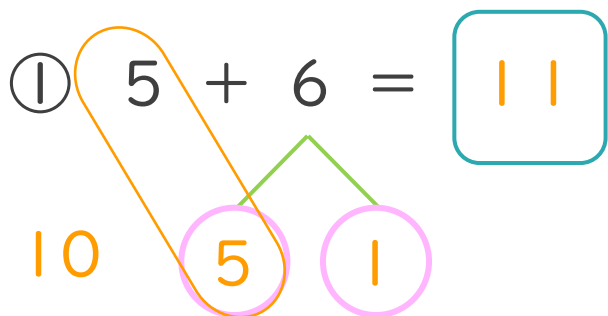
名まえ \_\_\_\_\_


< 5 + 6 の けいさんの しかた > (うすいじはなぞりましょう。)



- ① 6を  
5と1に  
わけます。
- ② 5に5を  
たして10。
- ③ 10と1で11。

・ けいさんをしましょう。(うすいじはなぞりましょう。)





くりあがりのある  
たしざん 5

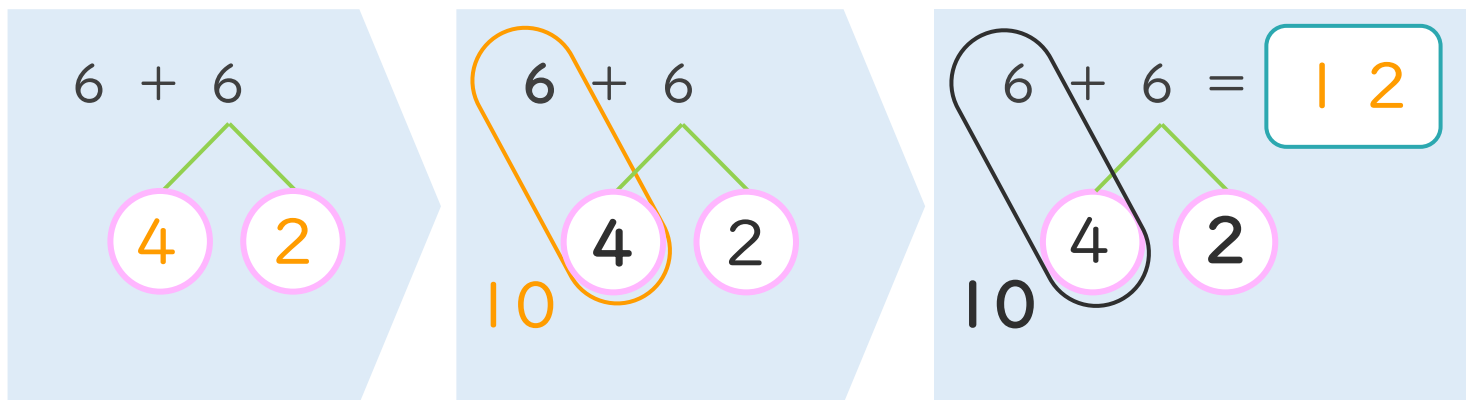
● くりあがりのけいさん  
(6や5とたす)



日にち：            月            日

名まえ \_\_\_\_\_

< 6 + 6 の けいさんの しかた > (うすいじはなぞりましょう。)



- ① 6を  
4と2に  
わけます。
- ② 6に4を  
たして10。
- ③ 10と2で12。

・ けいさんをしましょう。(うすいじはなぞりましょう。)

①  $6 + 6 = 12$

10 4 2

③  $6 + 8 = 14$

10 4 4

②  $6 + 7 = 13$

10 4 3

④  $6 + 9 = 15$

10 4 5





くりあがりのある  
たしざん 5

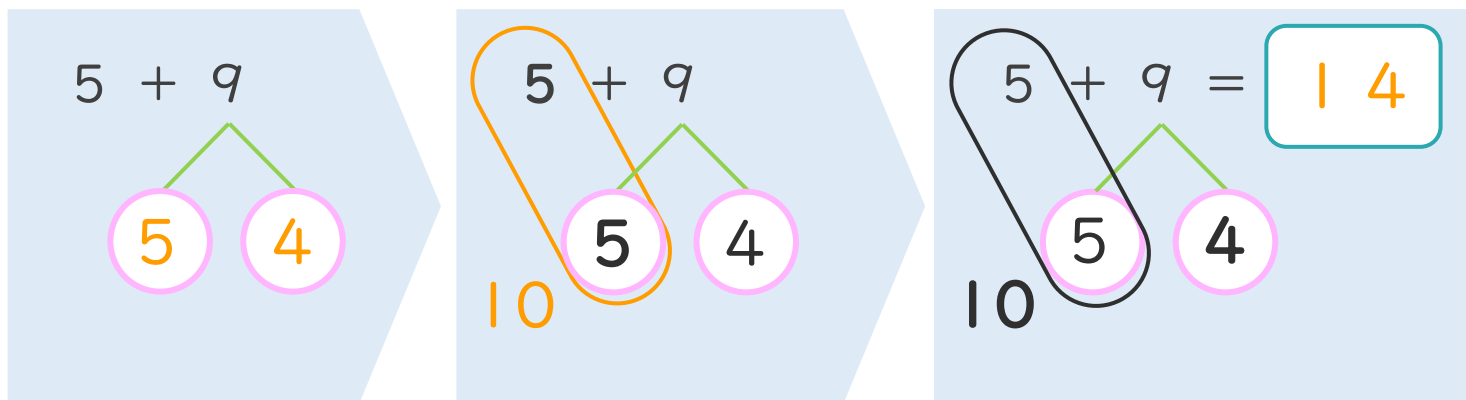
● くりあがりのけいさん  
(6や5とたす)



日にち： 月 日

名まえ \_\_\_\_\_

< 5 + 9 の けいさんの しかた >



- ① 9を  
5と4に  
わけます。
- ② 5に5を  
たして10。
- ③ 10と4で14。

・ けいさんを しましょう。(うすいじはなぞりましょう。)


①  $5 + 9 = 14$

③  $5 + 7 = 12$

②  $6 + 5 = 11$

④  $6 + 9 = 15$





くりあがりのある  
たしざん 5

● くりあがりのけいさん  
(6や5とたす)



日にち：            月            日

名まえ \_\_\_\_\_

・ けいさんをしましょう。(うすいじはなぞりましょう。)

①  $6 + 5 = 11$   
10   4   1

⑤  $5 + 9 = 14$   
10   5   4

②  $6 + 7 = 13$   
10   4   3

⑥  $5 + 6 = 11$   
10   5   1


③  $6 + 6 = 12$   
10   4   2

⑦  $5 + 8 = 13$   
10   5   3

④  $6 + 8 = 14$   
10   4   4

⑧  $5 + 7 = 12$   
10   5   2





くりあがりのある  
たしざん 5

● くりあがりのけいさん  
(6や5とたす)



日にち：        月        日

名まえ \_\_\_\_\_

・ けいさんをしましょう。(うすいじはなぞりましょう。)

①  $6 + 9 = 15$   
10 (4) (5)

⑤  $5 + 8 = 13$   
10 (5) (3)

②  $6 + 5 = 11$   
10 (4) (1)

⑥  $5 + 7 = 12$   
10 (5) (2)

③  $6 + 7 = 13$   
10 (4) (3)

⑦  $5 + 9 = 14$   
10 (5) (4)

④  $6 + 6 = 12$   
10 (4) (2)

⑧  $5 + 6 = 11$   
10 (5) (1)





くりあがりのある  
たしざん 5

● くりあがりのけいさん  
(6や5とたす)



日にち：      月      日

名まえ \_\_\_\_\_

・ けいさんをしましょう。

①  $6 + 7 = 13$   
10 4 3

⑤  $5 + 9 = 14$   
10 5 4

②  $6 + 9 = 15$   
10 4 5

⑥  $5 + 8 = 13$   
10 5 3


③  $6 + 6 = 12$   
10 4 2

⑦  $5 + 6 = 11$   
10 5 1

④  $6 + 8 = 14$   
10 4 4

⑧  $5 + 7 = 12$   
10 5 2





くりあがりのある  
たしざん 5

● くりあがりのけいさん  
(6や5とたす)



日にち： 月 日

名まえ \_\_\_\_\_

・ けいさんをしましょう。

①  $6 + 5 = 11$   
10 4 1

⑤  $5 + 7 = 12$   
10 5 2

②  $6 + 8 = 14$   
10 4 4

⑥  $5 + 6 = 11$   
10 5 1

③  $6 + 9 = 15$   
10 4 5

⑦  $5 + 9 = 14$   
10 5 4

④  $6 + 6 = 12$   
10 4 2

⑧  $5 + 8 = 13$   
10 5 3







くりあがりのある  
たしざん 5

● くりあがりのけいさん  
(6や5とたす)



日にち：            月            日

名まえ \_\_\_\_\_

・ けいさんをしましょう。

①  $6 + 8 = 14$   
10 4 4

⑤  $5 + 8 = 13$   
10 5 3

②  $6 + 5 = 11$   
10 4 1

⑥  $5 + 9 = 14$   
10 5 4

③  $6 + 7 = 13$   
10 4 3

⑦  $5 + 7 = 12$   
10 5 2

④  $6 + 9 = 15$   
10 4 5

⑧  $5 + 6 = 11$   
10 5 1





くりあがりのある  
たしざん 5

● くりあがりのけいさん  
(6や5とたす)



日にち： 月 日

名まえ \_\_\_\_\_

・ けいさんをしましょう。

①  $5 + 6 = 11$

10 5 1

⑤  $6 + 9 = 15$

10 4 5

②  $6 + 8 = 14$

10 4 4

⑥  $5 + 7 = 12$

10 5 2

③  $7 + 4 = 11$

10 3 1

⑦  $7 + 8 = 15$

10 3 5


④  $6 + 7 = 13$

10 4 3

⑧  $5 + 9 = 14$

10 5 4





くりあがりのある  
たしざん 5

● くりあがりのけいさん  
(6や5とたす)



日にち：            月            日

名まえ \_\_\_\_\_

・ けいさんをしましょう。

①  $6 + 5 = 11$   
10   4   1

⑤  $7 + 7 = 14$   
10   3   4

②  $7 + 9 = 16$   
10   3   6

⑥  $5 + 8 = 13$   
10   5   3

③  $5 + 9 = 14$   
10   5   4

⑦  $5 + 6 = 11$   
10   5   1

④  $6 + 6 = 12$   
10   4   2

⑧  $6 + 7 = 13$   
10   4   3





くりあがりのある  
たしざん 5

● くりあがりのけいさん  
(6や5とたす)

12

日にち：        月        日

名まえ \_\_\_\_\_

・ けいさんをしましょう。

①  $7 + 8 = 15$   
10 3 5

⑤  $5 + 8 = 13$   
10 5 3

②  $6 + 5 = 11$   
10 4 1

⑥  $6 + 6 = 12$   
10 4 2


③  $6 + 9 = 15$   
10 4 5

⑦  $7 + 9 = 16$   
10 3 6

④  $5 + 7 = 12$   
10 5 2

⑧  $5 + 6 = 11$   
10 5 1





くりあがりのある  
たしざん 5

● くりあがりのけいさん  
(6や5とたす)

13

日にち： 月 日

名まえ \_\_\_\_\_

・ けいさんをしましょう。

①  $6 + 8 = 14$   
10 4 4

⑤  $6 + 6 = 12$   
10 4 2

②  $7 + 6 = 13$   
10 3 3

⑥  $5 + 9 = 14$   
10 5 4


③  $5 + 7 = 12$   
10 5 2

⑦  $6 + 5 = 11$   
10 4 1

④  $5 + 8 = 13$   
10 5 3

⑧  $7 + 7 = 14$   
10 3 4





くりあがりのある  
たしざん 5

● くりあがりのけいさん  
(6や5とたす)

14

日にち： 月 日

名まえ \_\_\_\_\_

・ けいさんをしましょう。

①  $5 + 9 = 14$   
10 5 4

⑤  $5 + 8 = 13$   
10 5 3

②  $6 + 8 = 14$   
10 4 4

⑥  $7 + 5 = 12$   
10 3 2

③  $7 + 4 = 11$   
10 3 1

⑦  $5 + 6 = 11$   
10 5 1

④  $6 + 7 = 13$   
10 4 3

⑧  $6 + 9 = 15$   
10 4 5





くりあがりのある  
たしざん 5

● くりあがりのけいさん  
(6や5とたす)

15

めざせ80点!



名まえ \_\_\_\_\_

・ けいさんをしましょう。(各20点)

①  $6 + 7 = 13$

10 4 3

②  $5 + 8 = 13$

10 5 3

③  $7 + 5 = 12$

10 3 2


④  $6 + 9 = 15$

10 4 5

⑤  $5 + 6 = 11$

10 5 1





くりあがりのある  
たしざん 5

● くりあがりのけいさん  
(6や5とたす)

16

めざせ80点!



名まえ \_\_\_\_\_

・ けいさんをしましょう。(各20点)

①  $5 + 9 = 14$

10 5 4

②  $6 + 6 = 12$

10 4 2

③  $6 + 5 = 11$

10 4 1

④  $5 + 7 = 12$

10 5 2

⑤  $7 + 8 = 15$

10 3 5

