

くりあがりのある
たしざん 6

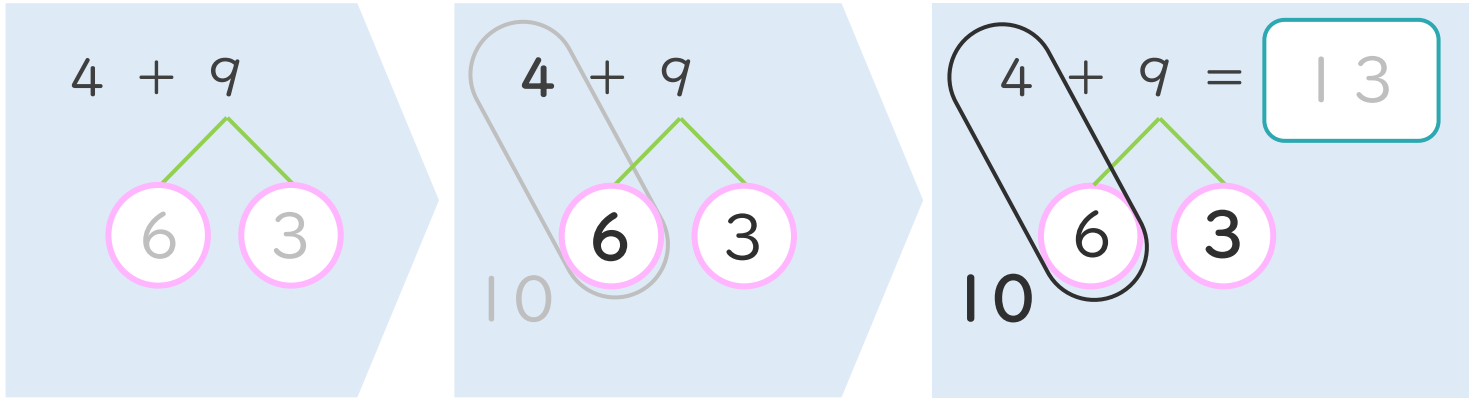
● くりあがりのけいさん
(4や3とたす)



日にち： 月 日

名まえ _____

< 4 + 9 の けいさんの しかた > (うすいじはなぞりましょう。)



- ① 9を
6と3に
わけます。
- ② 4に6を
たして10。
- ③ 10と3で13。

・ けいさんをしましょう。(うすいじはなぞりましょう。)

① $4 + 9 = \square$

③ $3 + 9 = \square$

② $4 + 8 = \square$

④ $3 + 8 = \square$



くりあがりのある
たしざん 6

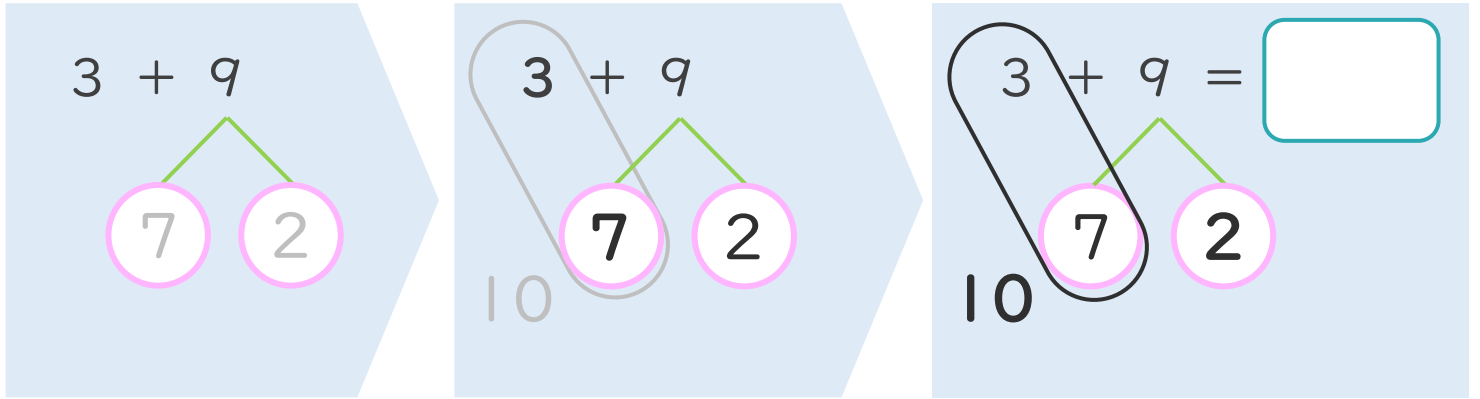
● くりあがりのけいさん
(4や3とたす)



日にち： 月 日

名まえ _____

< 3 + 9 のけいさんのしかた > (うすいじはなぞりましょう。)



- ① 9を
7と2に
わけます。
- ② 3に7を
たして10。
- ③ 10と2で12。

・ けいさんをしましょう。(うすいじはなぞりましょう。)

① $3 + 9 = \square$

10 (7) (2)

③ $4 + 8 = \square$

(6) ()

② $3 + 8 = \square$

10 (7) (1)

④ $4 + 7 = \square$

() ()



くりあがりのある
たしざん 6

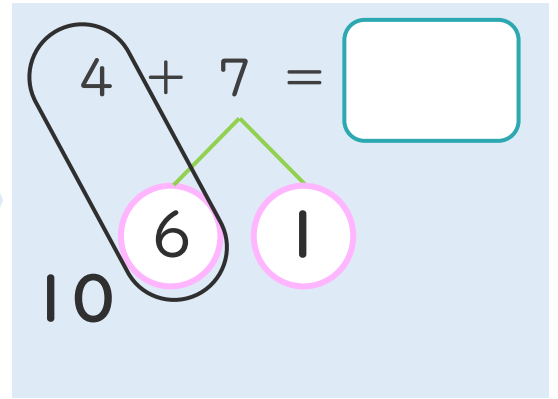
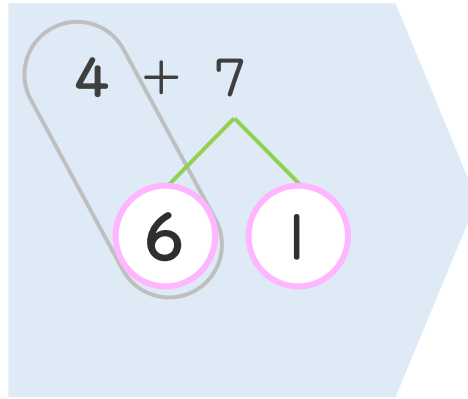
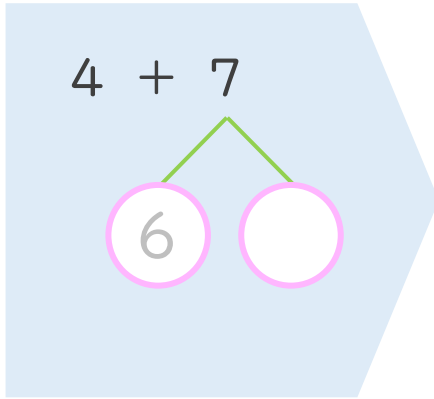
● くりあがりのけいさん
(4や3とたす)



日にち： 月 日

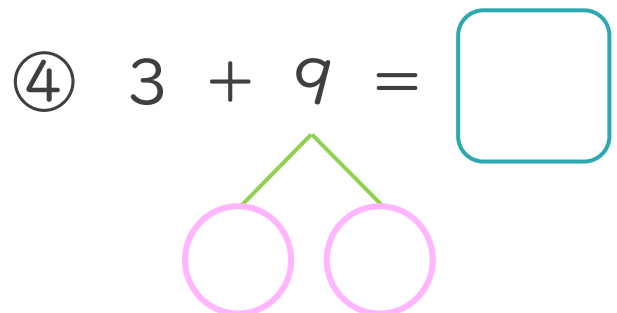
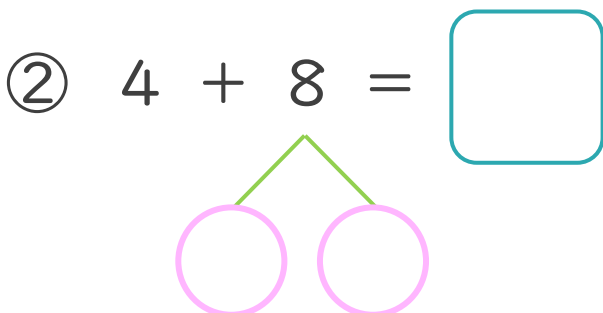
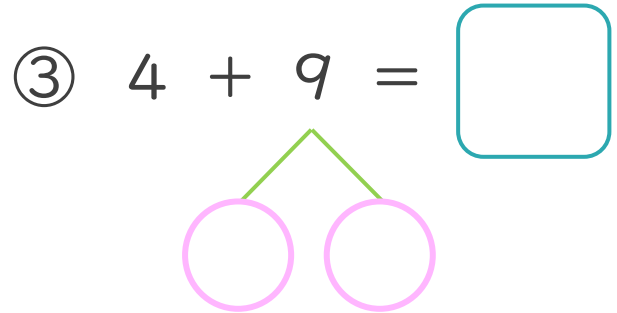
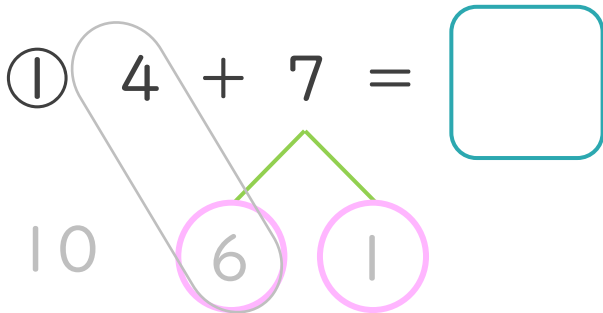
名まえ _____

< 4 + 7 のけいさんのしかた > (うすいじはなぞりましょう。)



- ① 7を
6と1に
わけます。
- ② 4に6を
たして10。
- ③ 10と1で11。

・ けいさんをしましょう。(うすいじはなぞりましょう。)





くりあがりのある
たしざん 6

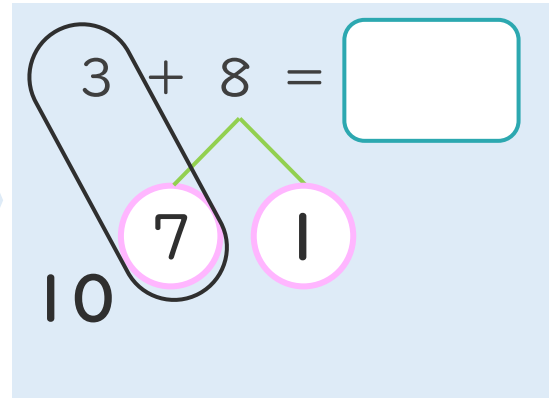
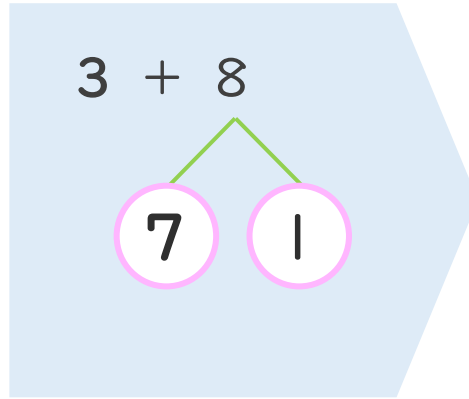
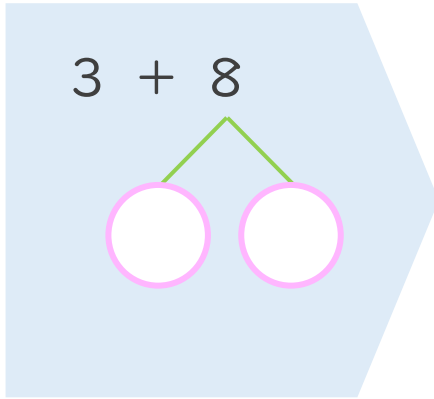
● くりあがりのけいさん
(4や3とたす)



日にち： 月 日

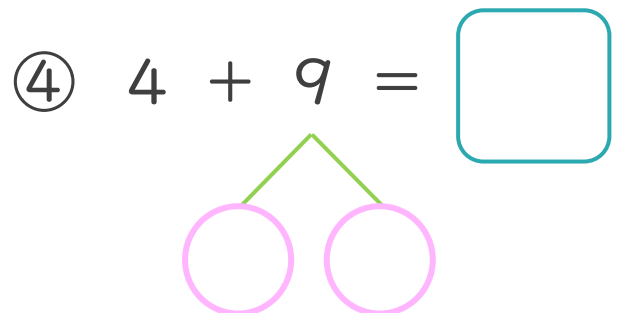
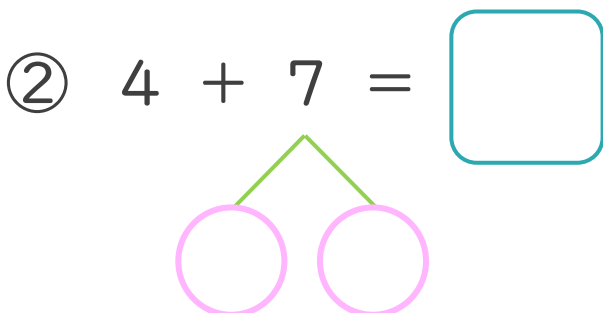
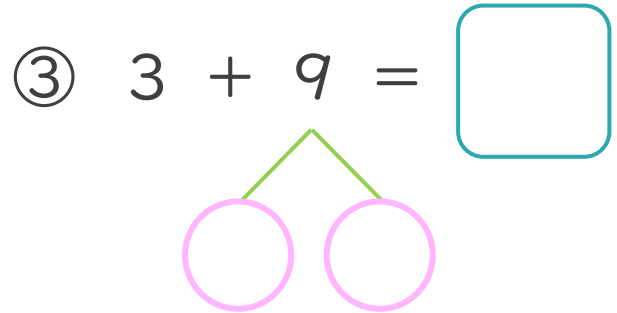
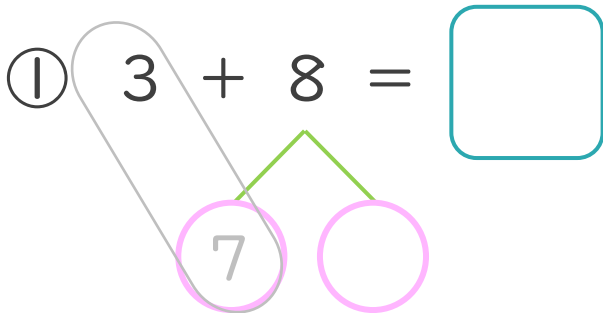
名まえ _____

< 3 + 8 の けいさんの しかた >



- ① 8を
7と1に
わけます。
- ② 3に7を
たして10。
- ③ 10と1で11。

・ けいさんを しましょう。(うすいじは なぞりましょう。)





くりあがりのある
たしざん 6

● くりあがりのけいさん
(4や3とたす)

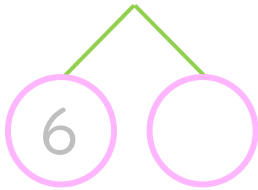


日にち： 月 日

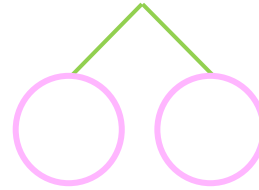
名まえ _____

・ けいさんをしましょう。(うすいじはなぞりましょう。)

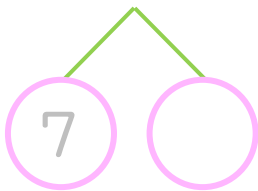
① $4 + 7 = \square$



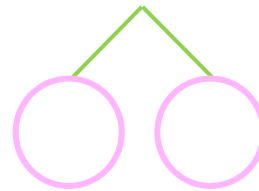
⑤ $3 + 8 = \square$



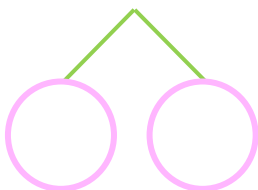
② $3 + 9 = \square$



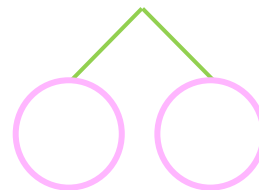
⑥ $4 + 9 = \square$



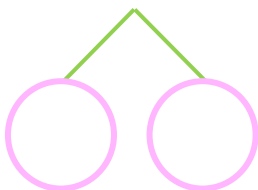
③ $4 + 8 = \square$



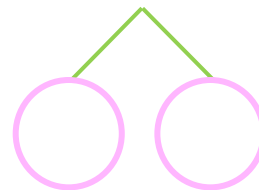
⑦ $4 + 7 = \square$



④ $4 + 9 = \square$



⑧ $3 + 8 = \square$





くりあがりのある
たしざん 6

● くりあがりのけいさん
(4や3とたす)

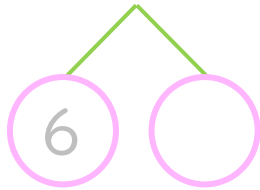


日にち： 月 日

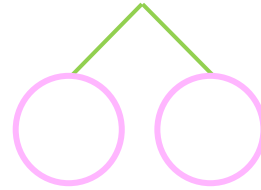
名まえ _____

・ けいさんをしましょう。(うすいじはなぞりましょう。)

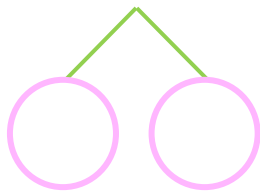
① $4 + 8 = \square$



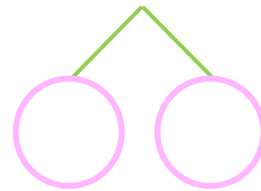
⑤ $4 + 7 = \square$



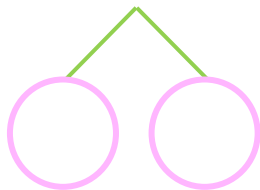
② $4 + 9 = \square$



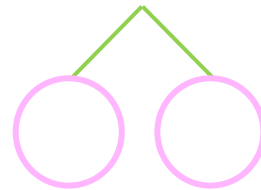
⑥ $3 + 9 = \square$



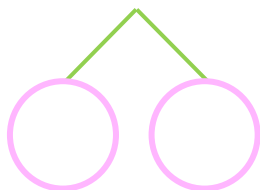
③ $3 + 8 = \square$



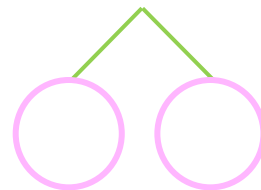
⑦ $4 + 8 = \square$



④ $3 + 9 = \square$



⑧ $4 + 9 = \square$





くりあがりのある
たしざん 6

● くりあがりのけいさん
(4や3とたす)

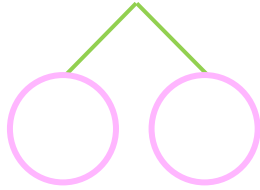


日にち： 月 日

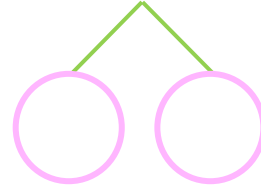
名まえ _____

・ けいさんをしましょう。

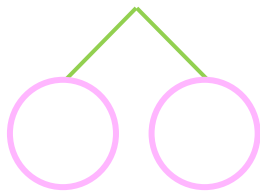
① $4 + 9 =$



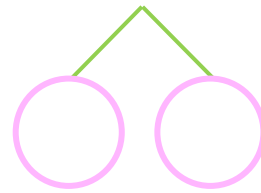
⑤ $3 + 8 =$



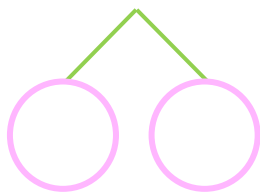
② $3 + 9 =$



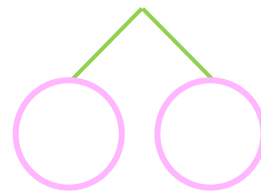
⑥ $4 + 9 =$



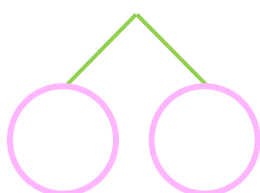
③ $4 + 8 =$



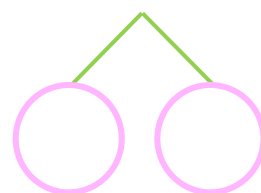
⑦ $3 + 9 =$



④ $4 + 7 =$



⑧ $4 + 8 =$





くりあがりのある
たしざん 6

● くりあがりのけいさん
(4や3とたす)



日にち： 月 日

名まえ _____

・ けいさんをしましょう。

① $4 + 7 = \square$

⑤ $3 + 9 = \square$

② $3 + 8 = \square$


⑥ $4 + 7 = \square$

③ $4 + 9 = \square$

⑦ $4 + 8 = \square$

④ $4 + 8 = \square$

⑧ $3 + 8 = \square$



くりあがりのある
たしざん 6

● くりあがりのけいさん
(4や3とたす)

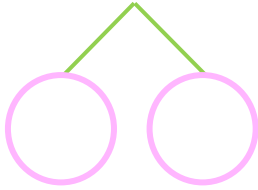


日にち： 月 日

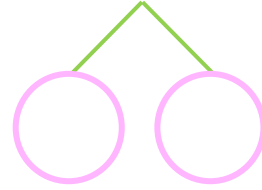
名まえ _____

・ けいさんをしましょう。

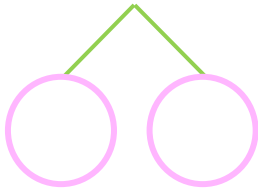
① $3 + 9 = \square$



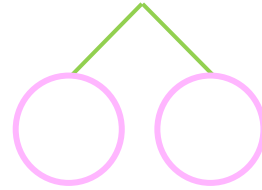
⑤ $4 + 7 = \square$



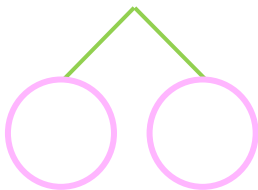
② $4 + 8 = \square$



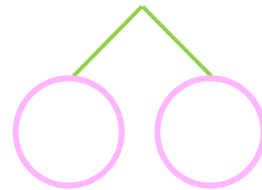
⑥ $4 + 9 = \square$



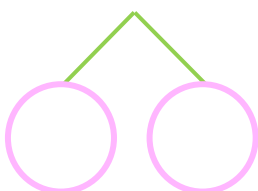
③ $4 + 7 = \square$



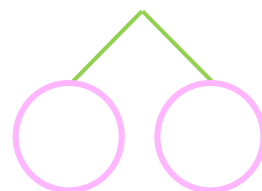
⑦ $3 + 8 = \square$



④ $3 + 8 = \square$



⑧ $3 + 9 = \square$





くりあがりのある
たしざん 6

● くりあがりのけいさん
(4や3とたす)



日にち： 月 日

名まえ _____

・ けいさんをしましょう。

① $3 + 8 =$

⑤ $4 + 8 =$

② $4 + 9 =$

⑥ $5 + 6 =$

③ $6 + 7 =$

⑦ $3 + 9 =$

④ $4 + 7 =$

⑧ $5 + 9 =$



くりあがりのある
たしざん 6

● くりあがりのけいさん
(4や3とたす)



日にち： 月 日

名まえ _____

・ けいさんをしましょう。

① $4 + 9 =$

⑤ $3 + 9 =$

② $5 + 7 =$

⑥ $6 + 5 =$

③ $4 + 8 =$

⑦ $4 + 7 =$

④ $3 + 8 =$

⑧ $6 + 9 =$



くりあがりのある
たしざん 6

● くりあがりのけいさん
(4や3とたす)



日にち： 月 日

名まえ _____

・ けいさんをしましょう。

① $5 + 8 =$

⑤ $3 + 9 =$

② $3 + 8 =$

⑥ $4 + 7 =$

③ $4 + 9 =$

⑦ $6 + 6 =$

④ $4 + 8 =$

⑧ $5 + 6 =$



くりあがりのある
たしざん 6

● くりあがりのけいさん
(4や3とたす)



日にち： 月 日

名まえ _____

・ けいさんをしましょう。

① $4 + 9 =$

⑤ $3 + 8 =$

② $6 + 8 =$

⑥ $3 + 9 =$

③ $4 + 7 =$

⑦ $5 + 9 =$

④ $6 + 7 =$

⑧ $4 + 8 =$



くりあがりのある
たしざん 6

● くりあがりのけいさん
(4や3とたす)



日にち： 月 日

名まえ _____

・ けいさんをしましょう。

① $5 + 7 =$

⑤ $4 + 9 =$

② $3 + 8 =$

⑥ $4 + 7 =$

③ $4 + 8 =$

⑦ $5 + 8 =$

④ $6 + 5 =$

⑧ $3 + 9 =$



くりあがりのある
たしざん 6

● くりあがりの けいさん
(4 や 3 とたす)

15

めざせ80点!



名まえ _____

・ けいさんを しましょう。(各20点)

① $3 + 8 =$

② $4 + 7 =$

③ $3 + 9 =$

④ $4 + 9 =$

⑤ $4 + 8 =$





くりあがりのある
たしざん 6

● くりあがりの けいさん
(4 や 3 とたす)

16

めざせ80点!



てん

名まえ _____

・ けいさんを しましょう。(各20点)

① $4 + 9 =$


② $4 + 8 =$

③ $3 + 8 =$

④ $3 + 9 =$

⑤ $4 + 7 =$





くりあがりのある
たしざん 6

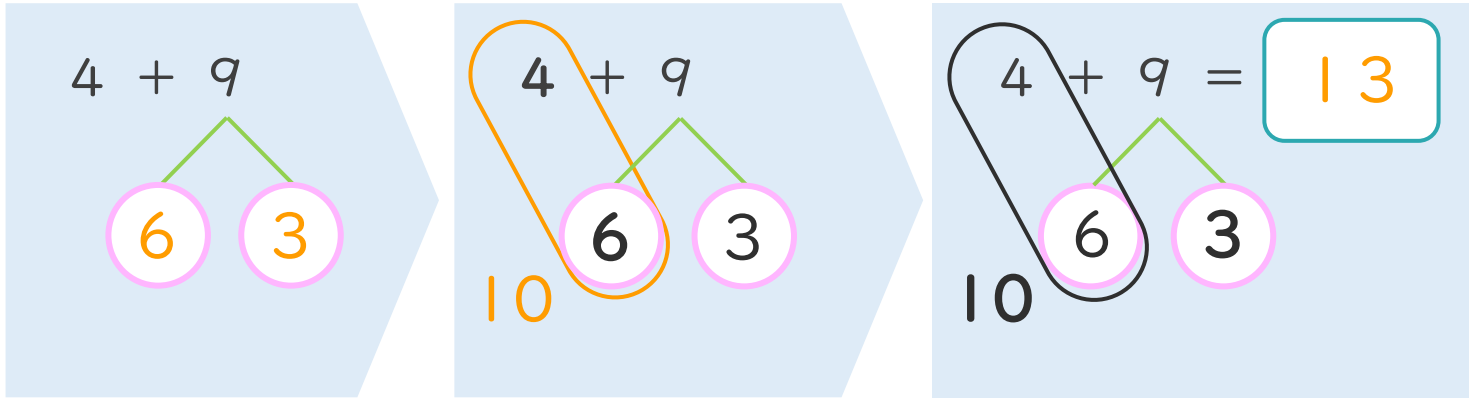
● くりあがりのけいさん
(4や3とたす)



日にち： 月 日

名まえ _____

< 4 + 9 の けいさんの しかた > (うすいじはなぞりましょう。)



- ① 9を
6と3に
わけます。
- ② 4に6を
たして10。
- ③ 10と3で13。

・ けいさんを しましょう。(うすいじはなぞりましょう。)

① $4 + 9 = 13$

10 6 3

③ $3 + 9 = 12$

10 7 2

② $4 + 8 = 12$

10 6 2

④ $3 + 8 = 11$

10 7 1





くりあがりのある
たしざん 6

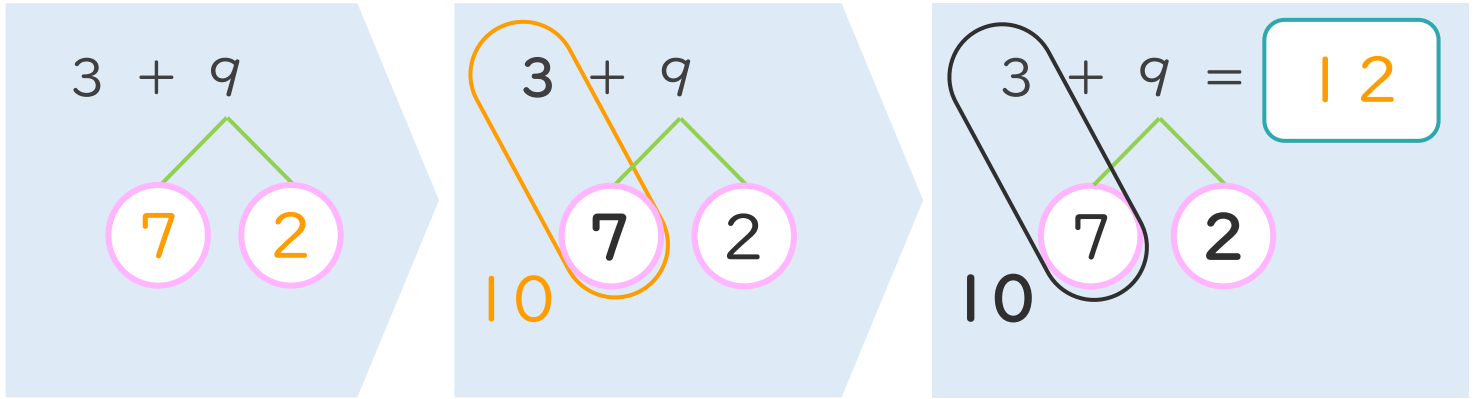
● くりあがりのけいさん
(4や3とたす)



日にち： 月 日

名まえ _____

< 3 + 9 の けいさんの しかた > (うすいじはなぞりましょう。)



- ① 9を
7と2に
わけます。
- ② 3に7を
たして10。
- ③ 10と2で12。

・ けいさんをしましょう。(うすいじはなぞりましょう。)

① $3 + 9 = 12$
10 7 2

③ $4 + 8 = 12$
10 6 2

② $3 + 8 = 11$
10 7 1

④ $4 + 7 = 11$
10 6 1





くりあがりのある
たしざん 6

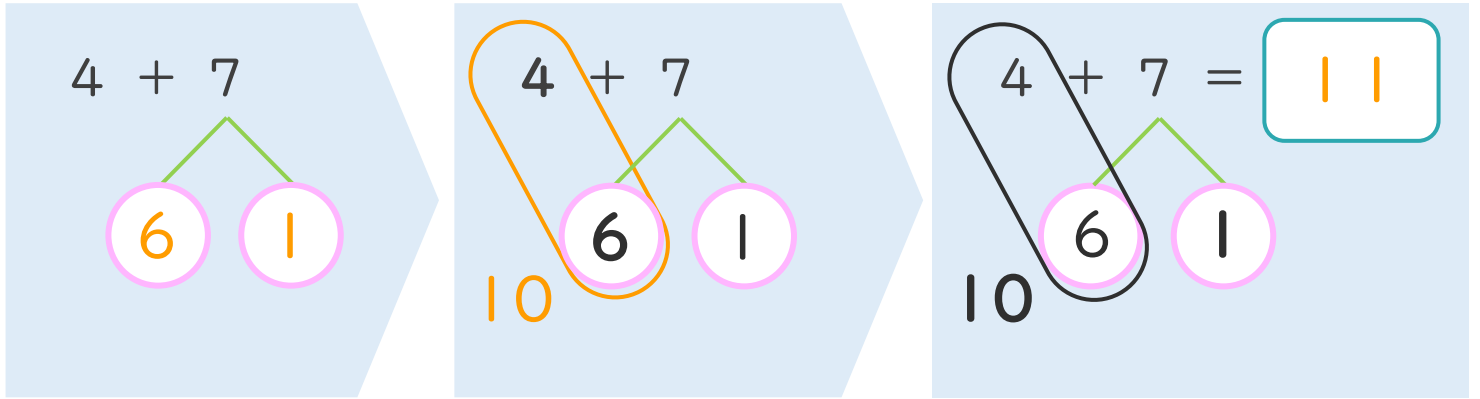
● くりあがりのけいさん
(4や3とたす)



日にち： 月 日

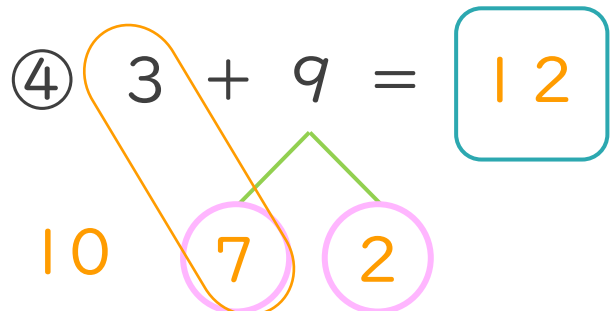
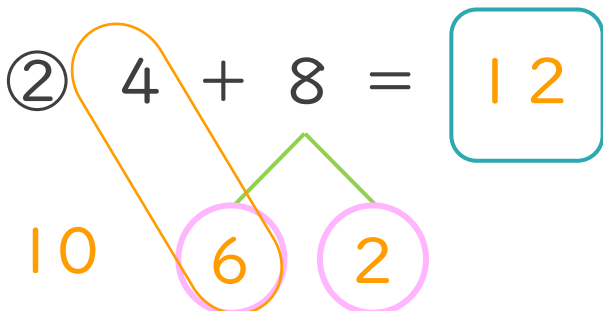
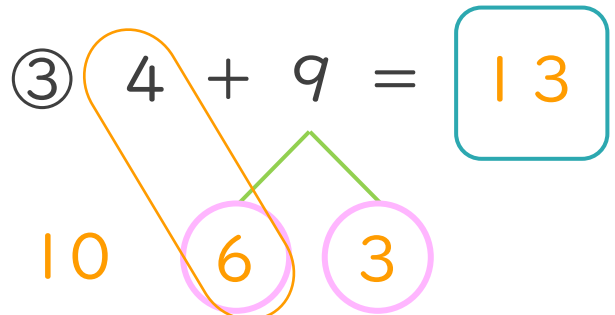
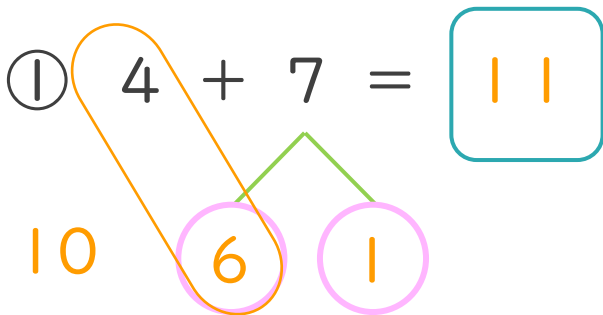
名まえ _____

< 4 + 7 の けいさんの しかた > (うすいじはなぞりましょう。)



- ① 7を
6と1に
わけます。
- ② 4に6を
たして10。
- ③ 10と1で11。

・ けいさんを しましょう。(うすいじはなぞりましょう。)





くりあがりのある
たしざん 6

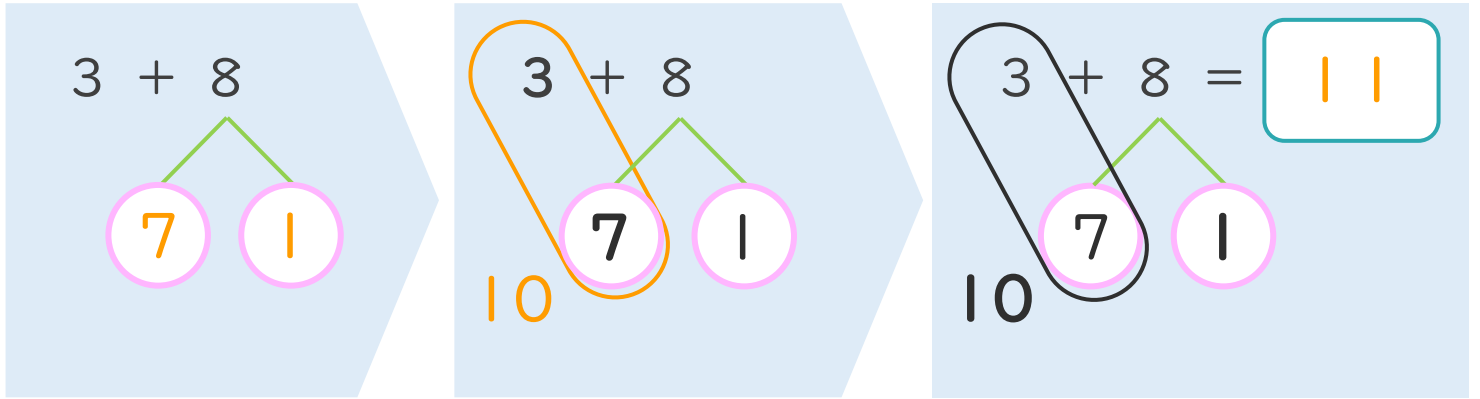
● くりあがりのけいさん
(4や3とたす)



日にち： 月 日

名まえ _____

< 3 + 8 の けいさんの しかた >



- ① 8を
7と1に
わけます。
- ② 3に7を
たして10。
- ③ 10と1で11。

・ けいさんを しましょう。(うすいじはなぞりましょう。)

① $3 + 8 = 11$

③ $3 + 9 = 12$

② $4 + 7 = 11$

④ $4 + 9 = 13$





くりあがりのある
たしざん 6

● くりあがりのけいさん
(4や3とたす)



日にち： 月 日

名まえ _____

・ けいさんをしましょう。(うすいじはなぞりましょう。)

① $4 + 7 = \boxed{11}$
10 6 1

⑤ $3 + 8 = \boxed{11}$
10 7 1

② $3 + 9 = \boxed{12}$
10 7 2

⑥ $4 + 9 = \boxed{13}$
10 6 3

③ $4 + 8 = \boxed{12}$
10 6 2

⑦ $4 + 7 = \boxed{11}$
10 6 1

④ $4 + 9 = \boxed{13}$
10 6 3

⑧ $3 + 8 = \boxed{11}$
10 7 1



くりあがりのある
たしざん 6

● くりあがりのけいさん
(4や3とたす)



日にち： 月 日

名まえ _____

・ けいさんをしましょう。(うすいじはなぞりましょう。)

① $4 + 8 = 12$
10 6 2

⑤ $4 + 7 = 11$
10 6 1

② $4 + 9 = 13$
10 6 3

⑥ $3 + 9 = 12$
10 7 2

③ $3 + 8 = 11$
10 7 1

⑦ $4 + 8 = 12$
10 6 2

④ $3 + 9 = 12$
10 7 2

⑧ $4 + 9 = 13$
10 6 3



くりあがりのある
たしざん 6

● くりあがりのけいさん
(4や3とたす)



日にち： 月 日

名まえ _____

・ けいさんをしましょう。

① $4 + 9 = 13$
10 6 3

⑤ $3 + 8 = 11$
10 7 1

② $3 + 9 = 12$
10 7 2

⑥ $4 + 9 = 13$
10 6 3

③ $4 + 8 = 12$
10 6 2

⑦ $3 + 9 = 12$
10 7 2

④ $4 + 7 = 11$
10 6 1

⑧ $4 + 8 = 12$
10 6 2



くりあがりのある
たしざん 6

● くりあがりのけいさん
(4や3とたす)



日にち： 月 日

名まえ _____

・ けいさんをしましょう。

① $4 + 7 = 11$
10 6 1

⑤ $3 + 9 = 12$
10 7 2

② $3 + 8 = 11$
10 7 1

⑥ $4 + 7 = 11$
10 6 1


③ $4 + 9 = 13$
10 6 3

⑦ $4 + 8 = 12$
10 6 2

④ $4 + 8 = 12$
10 6 2

⑧ $3 + 8 = 11$
10 7 1





くりあがりのある
たしざん 6

● くりあがりのけいさん
(4や3とたす)



日にち： 月 日

名まえ _____

・ けいさんをしましょう。

① $3 + 9 = 12$
10 7 2

⑤ $4 + 7 = 11$
10 6 1

② $4 + 8 = 12$
10 6 2

⑥ $4 + 9 = 13$
10 6 3

③ $4 + 7 = 11$
10 6 1

⑦ $3 + 8 = 11$
10 7 1

④ $3 + 8 = 11$
10 7 1

⑧ $3 + 9 = 12$
10 7 2





くりあがりのある
たしざん 6

● くりあがりのけいさん
(4や3とたす)



日にち： 月 日

名まえ _____

・ けいさんをしましょう。

① $3 + 8 = 11$
10 7 1

⑤ $4 + 8 = 12$
10 6 2

② $4 + 9 = 13$
10 6 3

⑥ $5 + 6 = 11$
10 5 1

③ $6 + 7 = 13$
10 4 3

⑦ $3 + 9 = 12$
10 7 2

④ $4 + 7 = 11$
10 6 1

⑧ $5 + 9 = 14$
10 5 4



くりあがりのある
たしざん 6

● くりあがりのけいさん
(4や3とたす)



日にち： 月 日

名まえ _____

・ けいさんをしましょう。

① $4 + 9 = 13$
10 6 3

⑤ $3 + 9 = 12$
10 7 2

② $5 + 7 = 12$
10 5 2

⑥ $6 + 5 = 11$
10 4 1

③ $4 + 8 = 12$
10 6 2

⑦ $4 + 7 = 11$
10 6 1

④ $3 + 8 = 11$
10 7 1

⑧ $6 + 9 = 15$
10 4 5





くりあがりのある
たしざん 6

● くりあがりのけいさん
(4や3とたす)

12

日にち： 月 日

名まえ _____

・ けいさんをしましょう。

$$\textcircled{1} \quad 5 + 8 = \boxed{13}$$

10 5 3

$$\textcircled{5} \quad 3 + 9 = \boxed{12}$$

10 7 2

$$\textcircled{2} \quad 3 + 8 = \boxed{11}$$

10 7 1

$$\textcircled{6} \quad 4 + 7 = \boxed{11}$$

10 6 1

$$\textcircled{3} \quad 4 + 9 = \boxed{13}$$

10 6 3

$$\textcircled{7} \quad 6 + 6 = \boxed{12}$$

10 4 2

$$\textcircled{4} \quad 4 + 8 = \boxed{12}$$

10 6 2

$$\textcircled{8} \quad 5 + 6 = \boxed{11}$$

10 5 1





くりあがりのある
たしざん 6

● くりあがりのけいさん
(4や3とたす)

13

日にち： 月 日

名まえ _____

・ けいさんをしましょう。

① $4 + 9 = 13$
10 6 3

⑤ $3 + 8 = 11$
10 7 1

② $6 + 8 = 14$
10 4 4

⑥ $3 + 9 = 12$
10 7 2

③ $4 + 7 = 11$
10 6 1

⑦ $5 + 9 = 14$
10 5 4

④ $6 + 7 = 13$
10 4 3

⑧ $4 + 8 = 12$
10 6 2



くりあがりのある
たしざん 6

● くりあがりのけいさん
(4や3とたす)

14

日にち： 月 日

名まえ _____

・ けいさんをしましょう。

① $5 + 7 = 12$
10 5 2

⑤ $4 + 9 = 13$
10 6 3

② $3 + 8 = 11$
10 7 1


⑥ $4 + 7 = 11$
10 6 1

③ $4 + 8 = 12$
10 6 2

⑦ $5 + 8 = 13$
10 5 3

④ $6 + 5 = 11$
10 4 1

⑧ $3 + 9 = 12$
10 7 2




くりあがりのある
たしざん 6

● くりあがりのけいさん
(4や3とたす)

15

めざせ80点!



名まえ _____

・ けいさんをしましょう。(各20点)

① $3 + 8 = \boxed{11}$
10 7 1

② $4 + 7 = \boxed{11}$
10 6 1

③ $3 + 9 = \boxed{12}$
10 7 2

④ $4 + 9 = \boxed{13}$
10 6 3

⑤ $4 + 8 = \boxed{12}$
10 6 2





くりあがりのある
たしざん 6

● くりあがりのけいさん
(4や3とたす)

16

めざせ80点!



名まえ _____

・ けいさんをしましょう。(各20点)

① $4 + 9 = 13$

10 6 3

② $4 + 8 = 12$

10 6 2

③ $3 + 8 = 11$

10 7 1

④ $3 + 9 = 12$

10 7 2

⑤ $4 + 7 = 11$

10 6 1

