



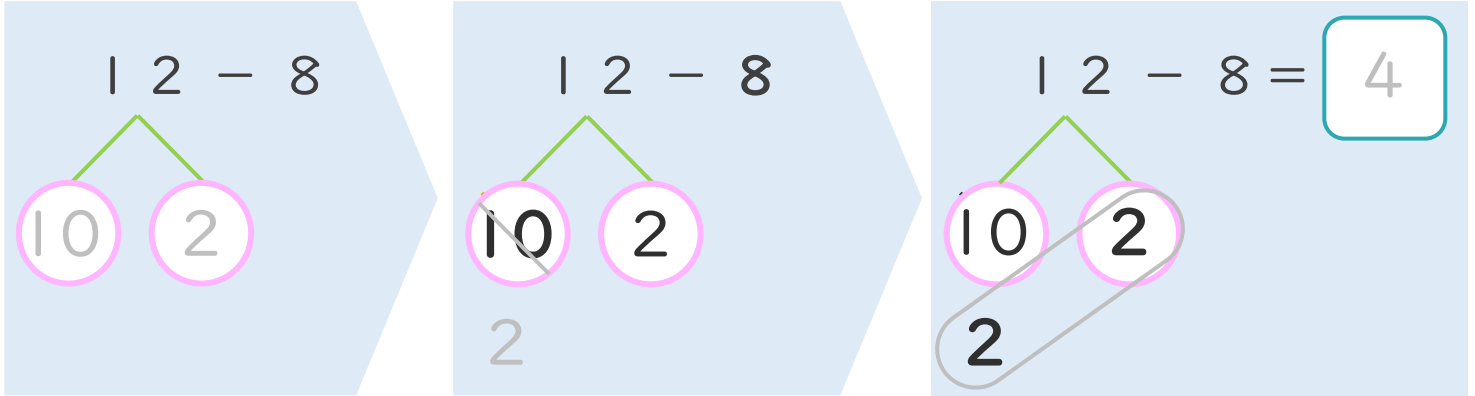
くりさがりのある  
ひきざん 3  
● くりさがりのけいさん  
(8をひく)



日にち： 月 日

名まえ \_\_\_\_\_

< 12 - 8 のけいさんのしかた > (うすいじはなぞりましょう。)



- ① 12を  
10と2に  
わけます。
- ② 10から8を  
ひいて2。
- ③ 2と2で4。

・ けいさんをしましょう。(うすいじはなぞりましょう。)

① 12 - 8 =

③ 14 - 8 =

② 13 - 8 =

④ 15 - 8 =



くりさがりのある  
ひきざん 3

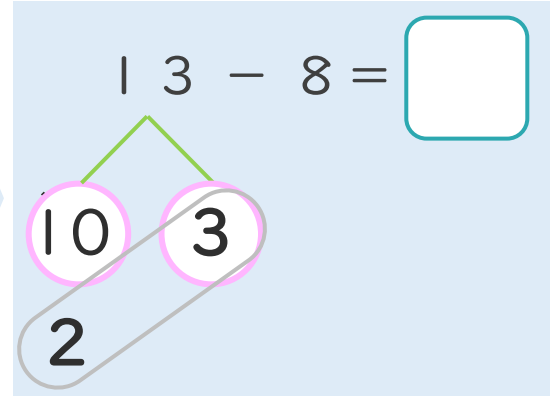
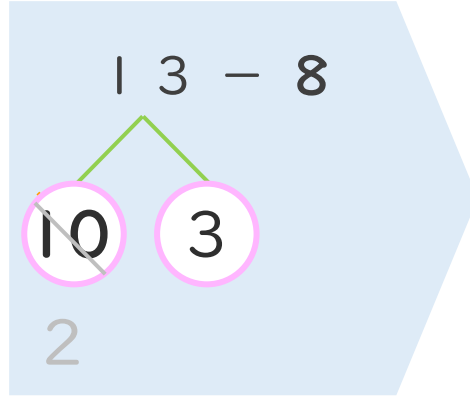
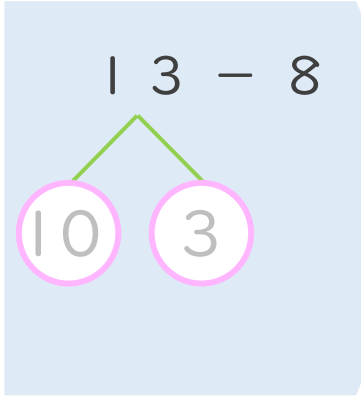
● くりさがりのけいさん  
(8をひく)



日にち：            月            日

名まえ \_\_\_\_\_

< 13 - 8 の けいさんの しかた > (うすいじはなぞりましょう。)

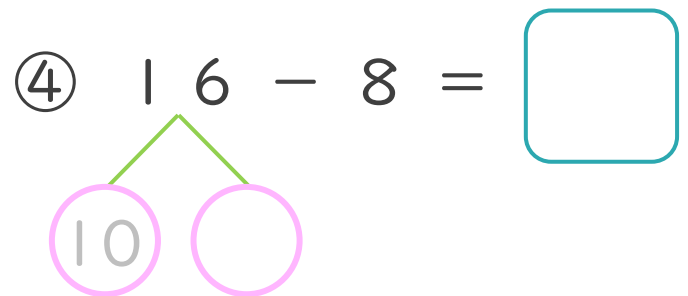
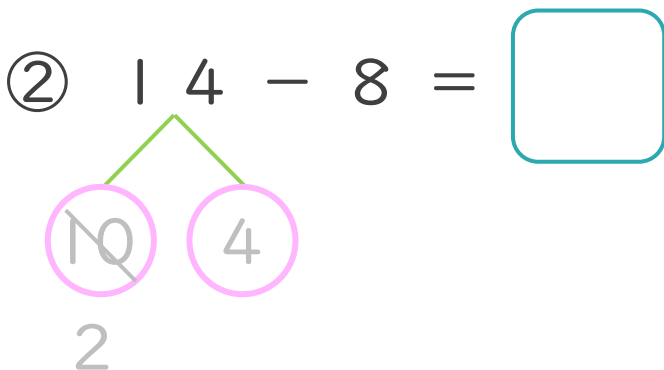
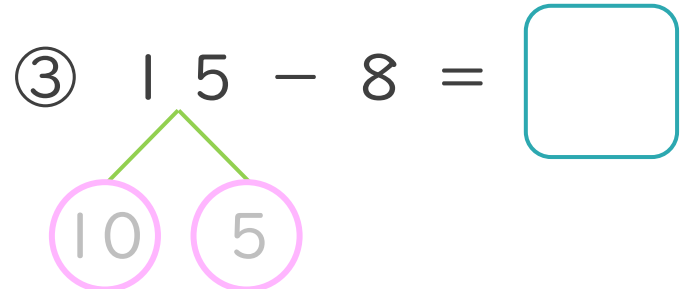
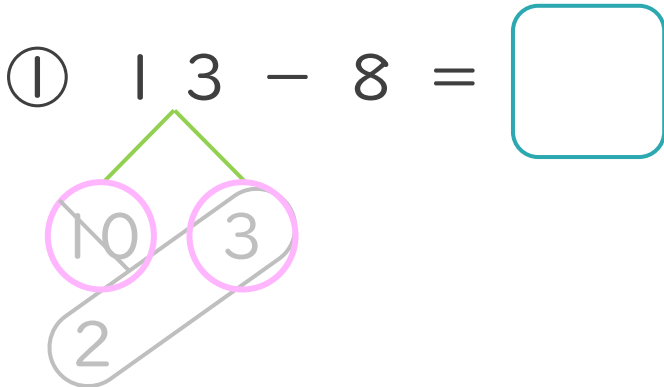


① 13を  
10と3に  
わけます。

② 10から8を  
ひいて2。

③ 2と3で5。

・ けいさんを しましょう。(うすいじはなぞりましょう。)





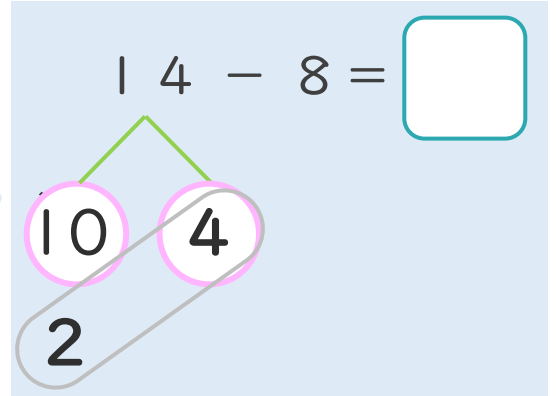
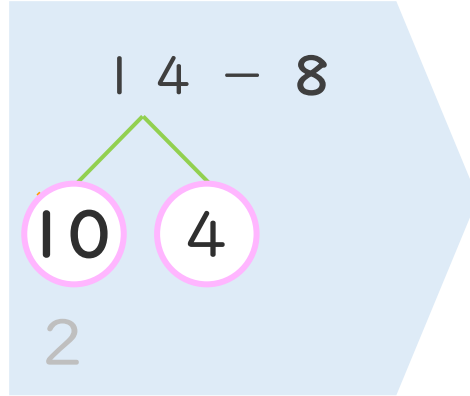
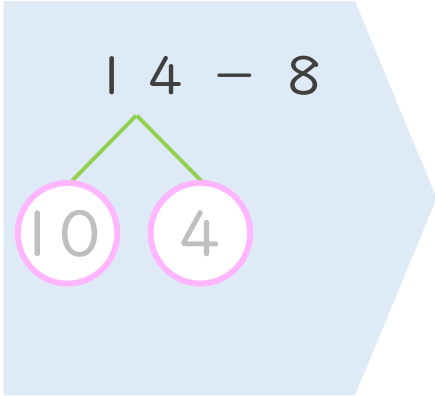
くりさがりのある  
ひきざん 3  
● くりさがりのけいさん  
(8をひく)



日にち：            月            日

名まえ \_\_\_\_\_

< 14 - 8 の けいさんの しかた > (うすいじはなぞりましょう。)

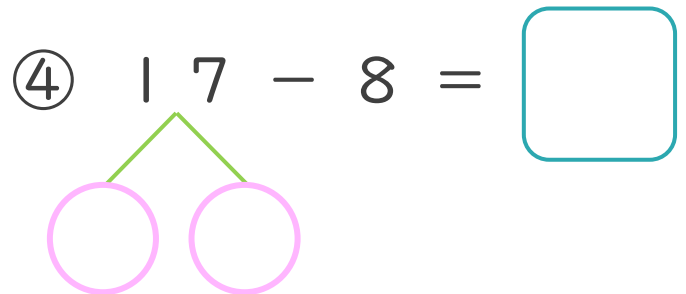
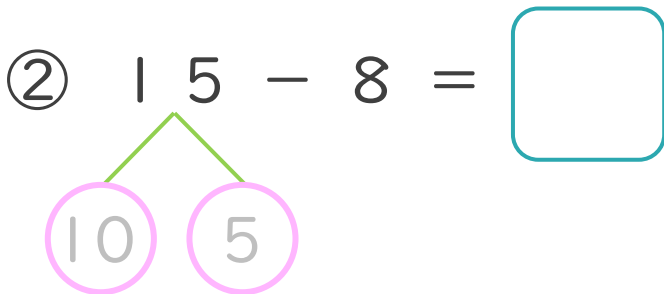
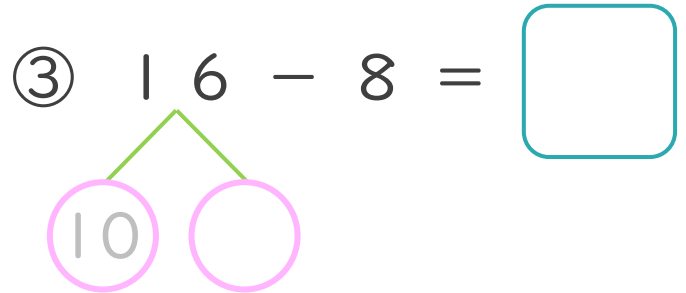
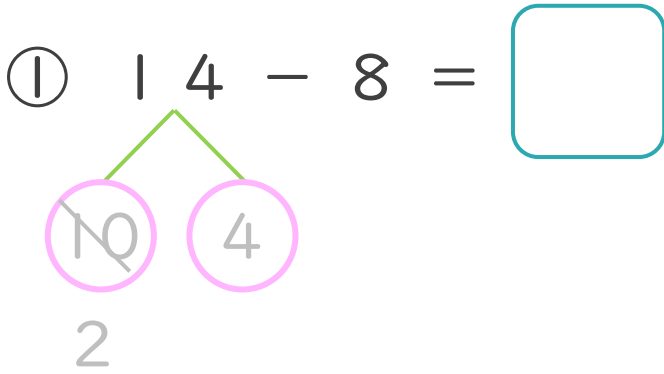


① 14を  
10と4に  
わけます。

② 10から8を  
ひいて2。

③ 2と4で6。

・ けいさんを しましょう。(うすいじはなぞりましょう。)





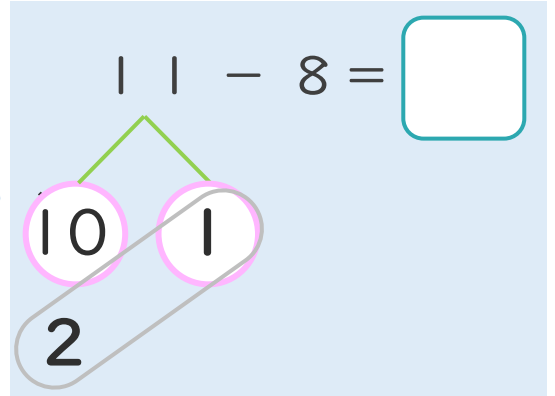
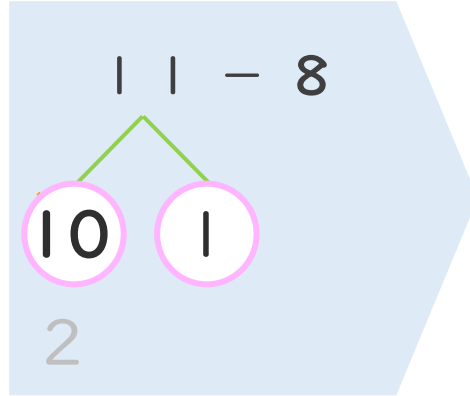
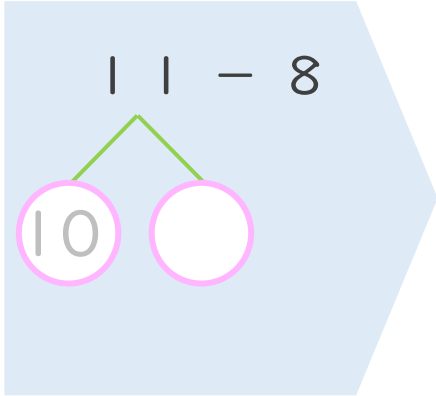
くりさがりのある  
ひきざん 3  
● くりさがりのけいさん  
(8をひく)



日にち：            月            日

名まえ \_\_\_\_\_

< 11 - 8 のけいさんのしかた > (うすいじはなぞりましょう。)

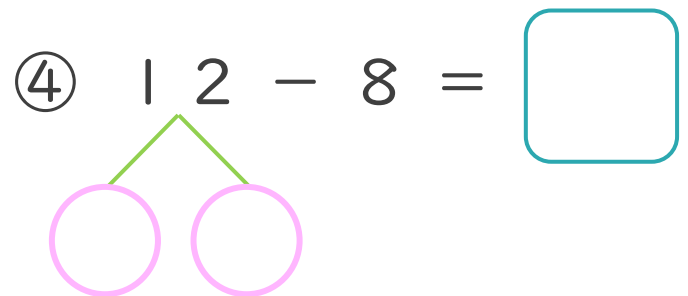
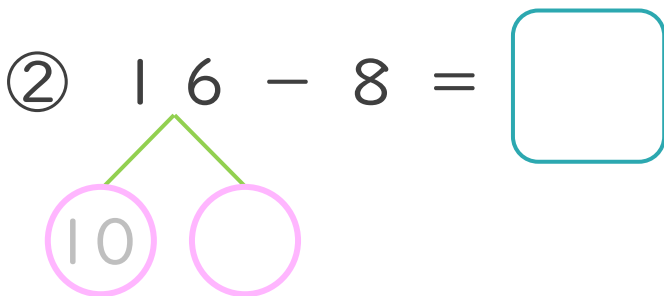
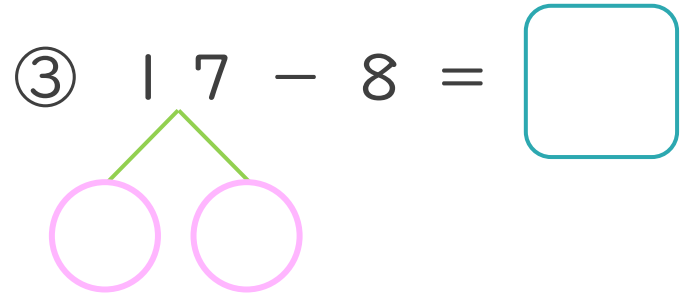
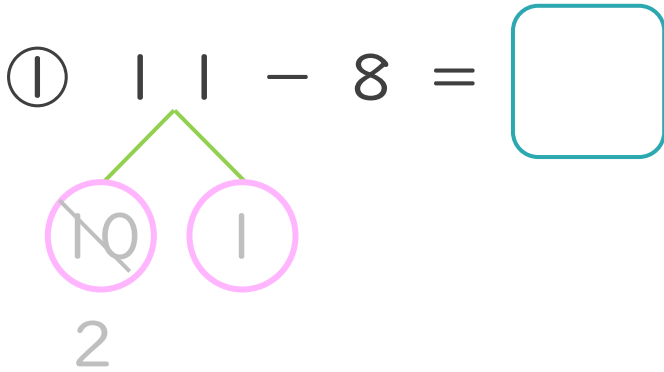


① 11を  
10と1に  
わけます。

② 10から8を  
ひいて2。

③ 2と1で3。

・ けいさんをしましょう。(うすいじはなぞりましょう。)





くりさがりのある  
ひきざん 3

● くりさがりの けいさん  
(8 をひく)

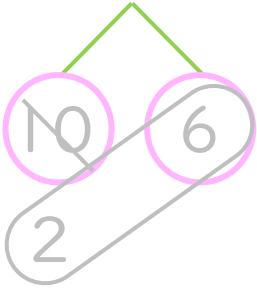


日にち：            月            日

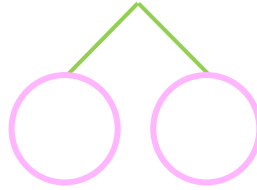
名まえ \_\_\_\_\_

・ けいさんを しましょう。(うすいじは なぞりましょう。)

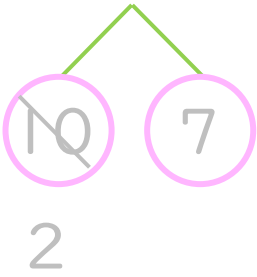
①  $16 - 8 = \square$



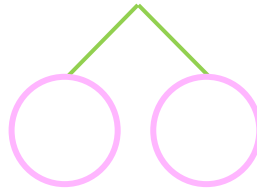
⑤  $11 - 8 = \square$



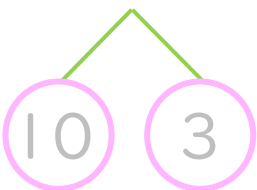
②  $17 - 8 = \square$



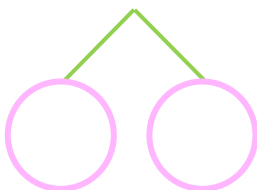
⑥  $14 - 8 = \square$



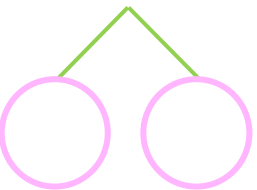
③  $13 - 8 = \square$



⑦  $17 - 8 = \square$



④  $12 - 8 = \square$



⑧  $15 - 8 = \square$





くりさがりのある  
ひきざん 3

● くりさがりの けいさん  
(8 をひく)

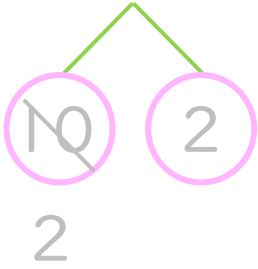


日にち：            月            日

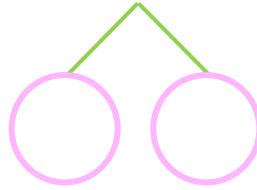
名まえ \_\_\_\_\_

・ けいさんを しましょう。(うすいじは なぞりましょう。)

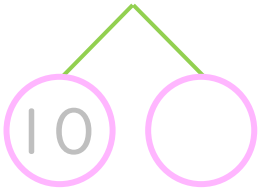
①  $12 - 8 = \square$



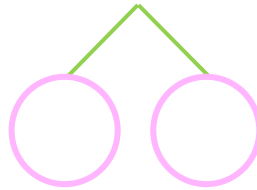
⑤  $13 - 8 = \square$



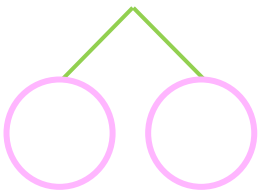
②  $11 - 8 = \square$



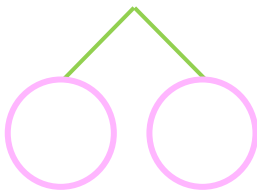
⑥  $15 - 8 = \square$



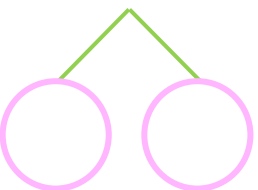
③  $14 - 8 = \square$



⑦  $16 - 8 = \square$



④  $17 - 8 = \square$



⑧  $11 - 8 = \square$





くりさがりのある  
ひきざん 3  
● くりさがりの けいさん  
(8 をひく)

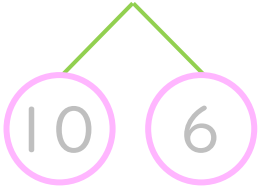


日にち：            月            日

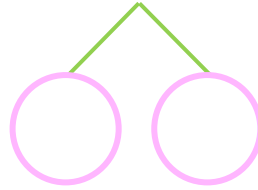
名まえ \_\_\_\_\_

・ けいさんを しましょう。(うすいじは なぞりましょう。)

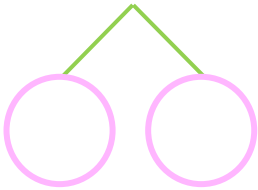
①  $16 - 8 = \square$



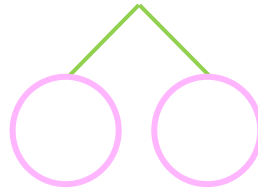
⑤  $17 - 8 = \square$



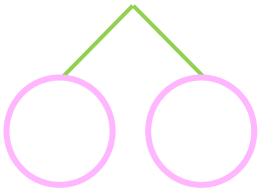
②  $12 - 8 = \square$



⑥  $13 - 8 = \square$



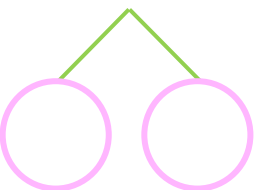
③  $11 - 8 = \square$



⑦  $12 - 8 = \square$



④  $15 - 8 = \square$



⑧  $14 - 8 = \square$





くりさがりのある  
ひきざん 3  
● くりさがりのけいさん  
(8をひく)



日にち：      月      日

名まえ \_\_\_\_\_

・ けいさんをしましょう。

①  $11 - 8 = \square$

⑤  $15 - 8 = \square$

②  $13 - 8 = \square$

⑥  $14 - 8 = \square$

③  $12 - 8 = \square$

⑦  $13 - 8 = \square$

④  $17 - 8 = \square$

⑧  $16 - 8 = \square$





くりさがりのある  
ひきざん 3  
● くりさがりのけいさん  
(8をひく)

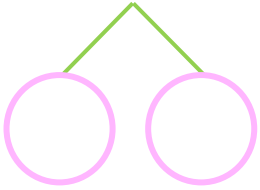


日にち：            月            日

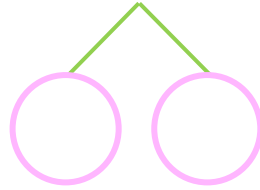
名まえ \_\_\_\_\_

・ けいさんをしましょう。

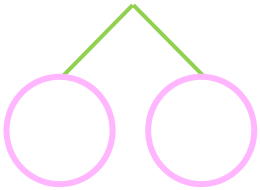
①  $12 - 8 = \square$



⑤  $16 - 8 = \square$



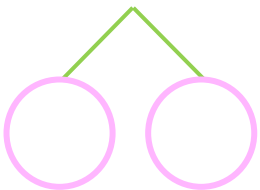
②  $16 - 8 = \square$



⑥  $13 - 8 = \square$



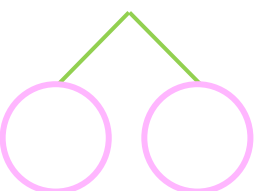
③  $11 - 8 = \square$



⑦  $17 - 8 = \square$



④  $15 - 8 = \square$



⑧  $14 - 8 = \square$





くりさがりのある  
ひきざん 3

● くりさがりの けいさん  
(8 をひく)

10

日にち：            月            日

名まえ \_\_\_\_\_

・ けいさんをしましょう。

①  $17 - 8 = \square$

⑤  $12 - 9 = \square$

②  $11 - 8 = \square$

⑥  $15 - 8 = \square$

③  $14 - 8 = \square$

⑦  $11 - 9 = \square$

④  $13 - 9 = \square$

⑧  $16 - 8 = \square$



くりさがりのある  
ひきざん 3

● くりさがりの けいさん  
(8 をひく)



日にち：            月            日

名まえ \_\_\_\_\_

・ けいさんを しましょう。

①  $11 - 8 = \square$

⑤  $17 - 8 = \square$

②  $14 - 8 = \square$

⑥  $18 - 9 = \square$

③  $17 - 9 = \square$

⑦  $12 - 8 = \square$

④  $13 - 8 = \square$

⑧  $14 - 9 = \square$



くりさがりのある  
ひきざん 3

● くりさがりの けいさん  
(8 をひく)

12

日にち：            月            日

名まえ \_\_\_\_\_

・ けいさんを しましょう。

①  $12 - 8 = \square$

⑤  $15 - 9 = \square$

②  $11 - 9 = \square$

⑥  $13 - 8 = \square$

③  $11 - 8 = \square$

⑦  $15 - 8 = \square$

④  $16 - 9 = \square$

⑧  $16 - 8 = \square$



くりさがりのある  
ひきざん 3

● くりさがりの けいさん  
(8 をひく)

13

日にち：            月            日

名まえ \_\_\_\_\_

・ けいさんを しましょう。

①  $12 - 9 = \square$

⑤  $15 - 8 = \square$

②  $14 - 8 = \square$

⑥  $18 - 9 = \square$

③  $14 - 9 = \square$

⑦  $13 - 8 = \square$

④  $17 - 8 = \square$

⑧  $12 - 8 = \square$



くりさがりのある  
ひきざん 3

● くりさがりの けいさん  
(8 をひく)



日にち：            月            日

名まえ \_\_\_\_\_

・ けいさんをしましょう。

①  $16 - 8 =$

⑤  $13 - 9 =$

②  $13 - 8 =$

⑥  $14 - 8 =$

③  $11 - 8 =$

⑦  $17 - 9 =$

④  $15 - 9 =$

⑧  $17 - 8 =$




くりさがりのある  
ひきざん 3

● くりさがりの けいさん  
(8 をひく)

15

めざせ80点!



名まえ \_\_\_\_\_

・ けいさんをしましょう。(各20点)

①  $15 - 8 =$

②  $12 - 8 =$

③  $16 - 9 =$

④  $11 - 8 =$

⑤  $13 - 9 =$



くりさがりのある  
ひきざん 3

● くりさがりの けいさん  
(8 をひく)

16

めざせ80点!



名まえ \_\_\_\_\_

・ けいさんをしましょう。(各20点)

①  $17 - 8 =$

②  $11 - 9 =$

③  $13 - 8 =$

④  $18 - 9 =$

⑤  $16 - 8 =$





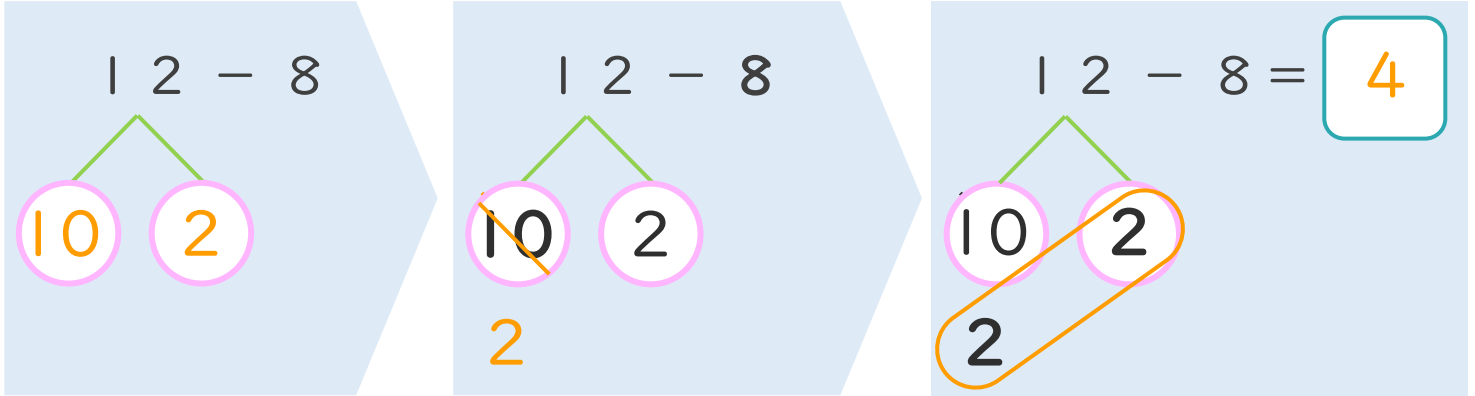
くりさがりのある  
ひきざん 3  
● くりさがりのけいさん  
(8をひく)



日にち：            月            日

名まえ \_\_\_\_\_

< 12 - 8 のけいさんのしかた > (うすいじはなぞりましょう。)



- ① 12を  
10と2に  
わけます。
- ② 10から8を  
ひいて2。
- ③ 2と2で4。

・ けいさんをしましょう。(うすいじはなぞりましょう。)

<p>① 12 - 8 = 4</p>	<p>③ 14 - 8 = 6</p>
<p>② 13 - 8 = 5</p>	<p>④ 15 - 8 = 7</p>



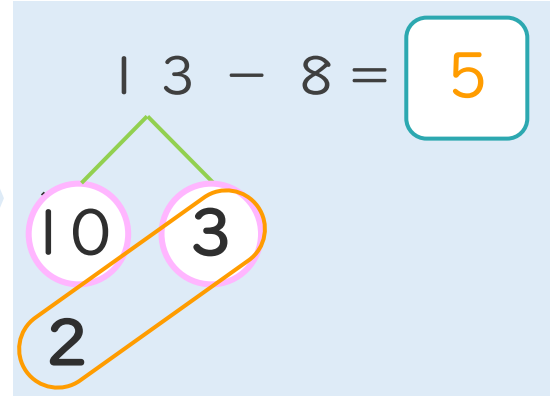
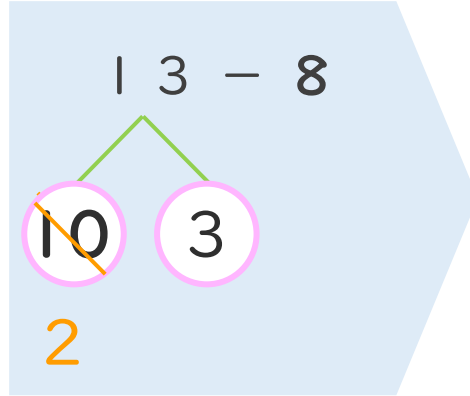
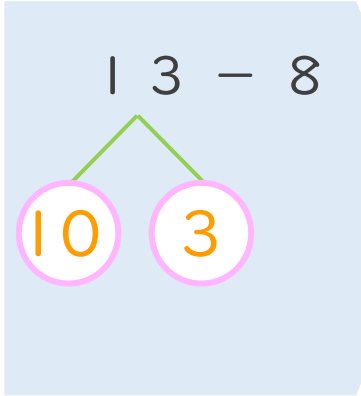
くりさがりのある  
ひきざん 3  
● くりさがりのけいさん  
(8をひく)



日にち：            月            日

名まえ \_\_\_\_\_

< 13 - 8 の けいさんの しかた > (うすいじはなぞりましょう。)

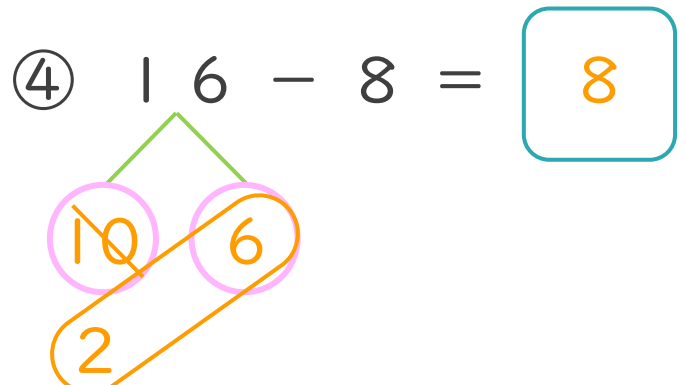
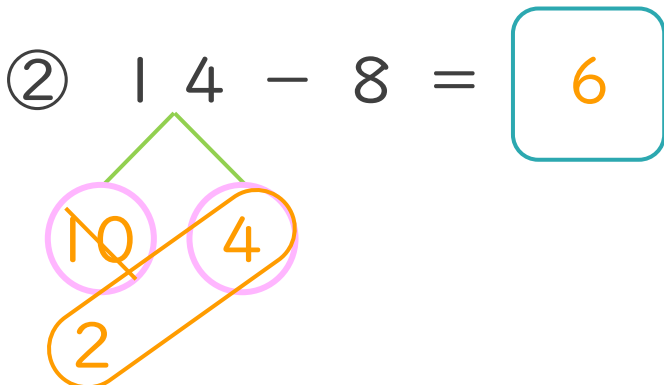
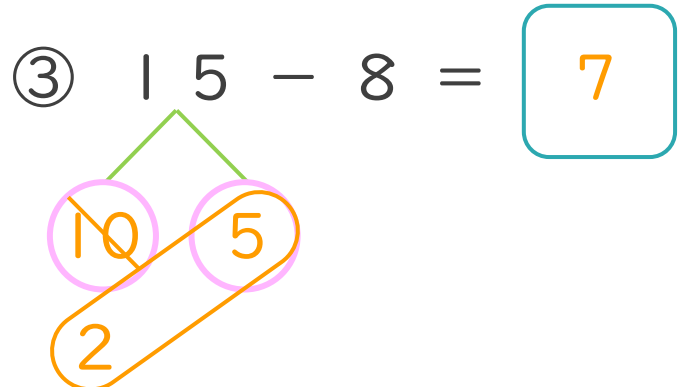
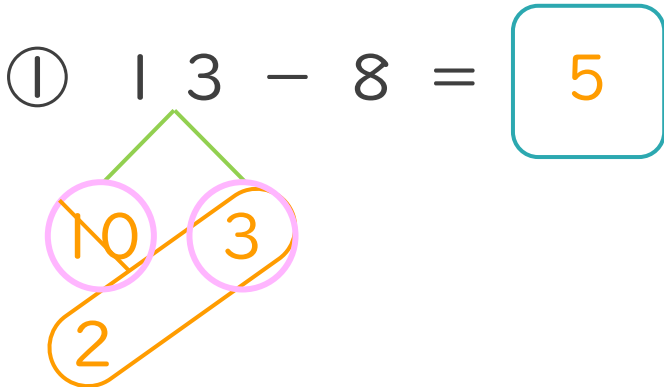


① 13を  
10と3に  
わけます。

② 10から8を  
ひいて2。

③ 2と3で5。

・ けいさんを しましょう。(うすいじはなぞりましょう。)





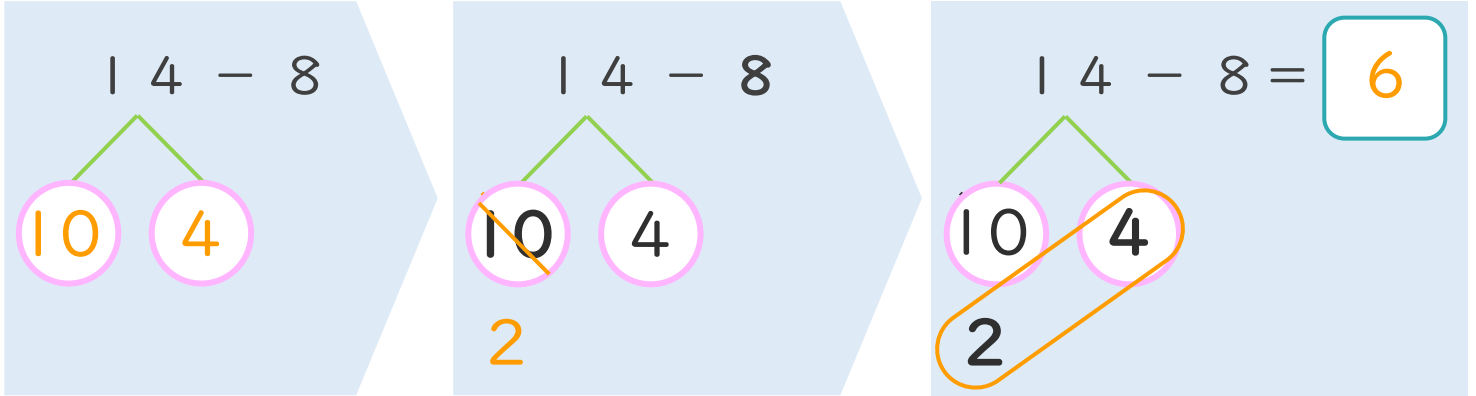
くりさがりのある  
ひきざん 3  
● くりさがりのけいさん  
(8をひく)



日にち：            月            日

名まえ \_\_\_\_\_

< 14 - 8 のけいさんのしかた > (うすいじはなぞりましょう。)



- ① 14を  
10と4に  
わけます。
- ② 10から8を  
ひいて2。
- ③ 2と4で6。

・ けいさんをしましょう。(うすいじはなぞりましょう。)

<p>① 14 - 8 = 6</p>	<p>③ 16 - 8 = 8</p>
<p>② 15 - 8 = 7</p>	<p>④ 17 - 8 = 9</p>



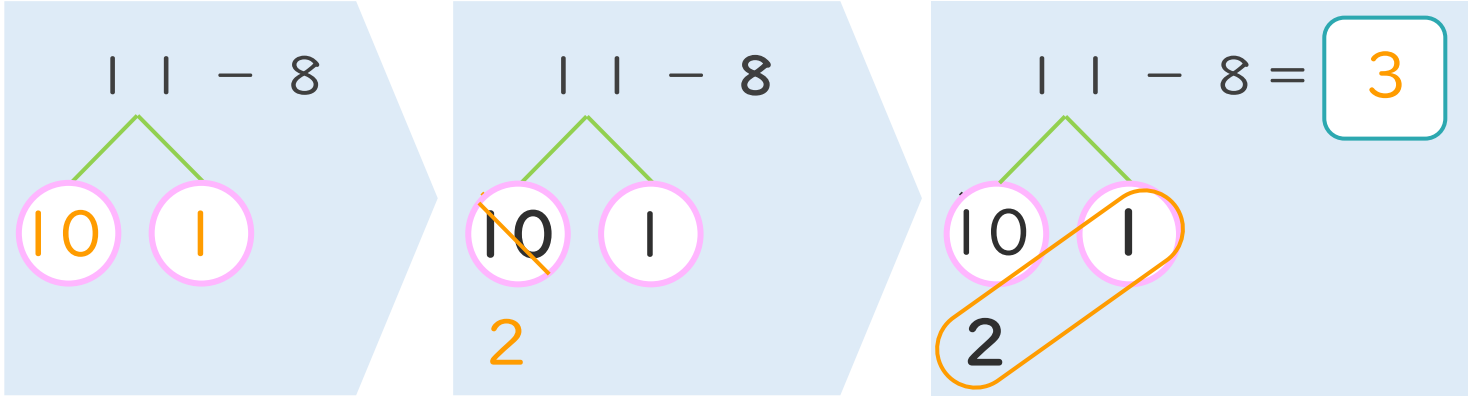
くりさがりのある  
ひきざん 3  
● くりさがりのけいさん  
(8をひく)



日にち：            月            日

名まえ \_\_\_\_\_

< 11 - 8 のけいさんのしかた > (うすいじはなぞりましょう。)



- ① 11を  
10と1に  
わけます。
- ② 10から8を  
ひいて2。
- ③ 2と1で3。

・ けいさんをしましょう。(うすいじはなぞりましょう。)

<p>① 11 - 8 = 3</p>	<p>③ 17 - 8 = 9</p>
<p>② 16 - 8 = 8</p>	<p>④ 12 - 8 = 4</p>





くりさがりのある  
ひきざん 3

● くりさがりのけいさん  
(8をひく)

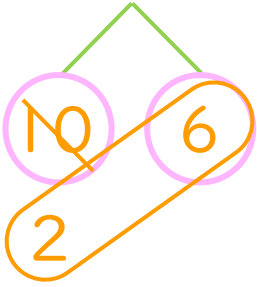


日にち：            月            日

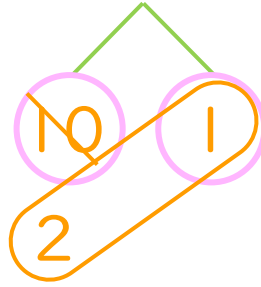
名まえ \_\_\_\_\_

・ けいさんをしましょう。(うすいじはなぞりましょう。)

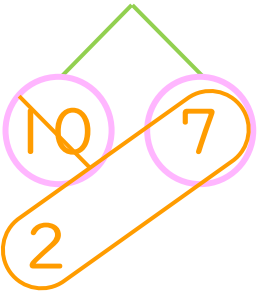
①  $16 - 8 = 8$



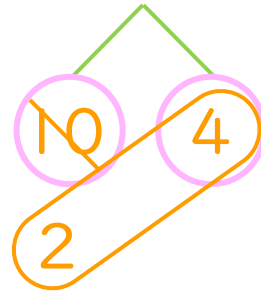
⑤  $11 - 8 = 3$



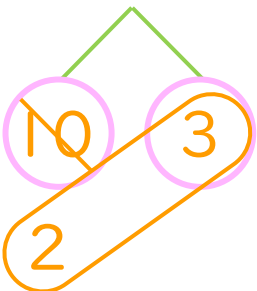
②  $17 - 8 = 9$



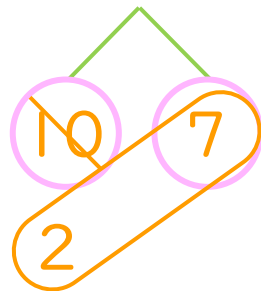
⑥  $14 - 8 = 6$



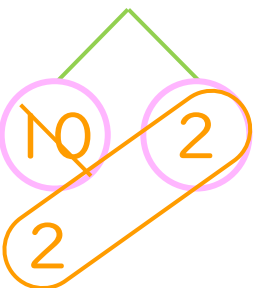
③  $13 - 8 = 5$



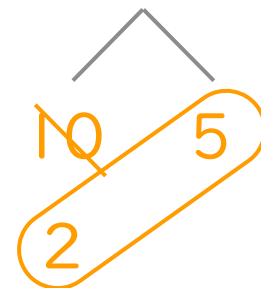
⑦  $17 - 8 = 9$



④  $12 - 8 = 4$



⑧  $15 - 8 = 7$





くりさがりのある  
ひきざん 3

● くりさがりのけいさん  
(8をひく)

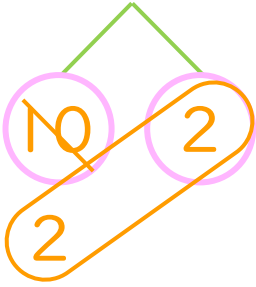


日にち：            月            日

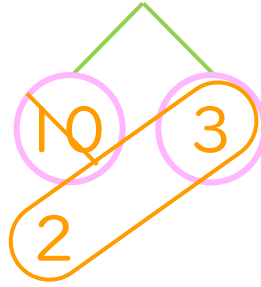
名まえ \_\_\_\_\_

・ けいさんをしましょう。(うすいじはなぞりましょう。)

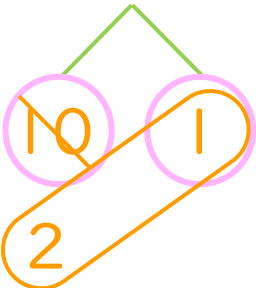
①  $12 - 8 = 4$



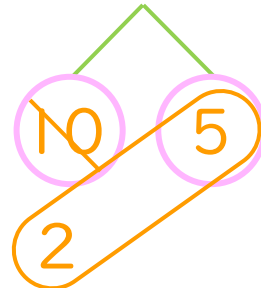
⑤  $13 - 8 = 5$



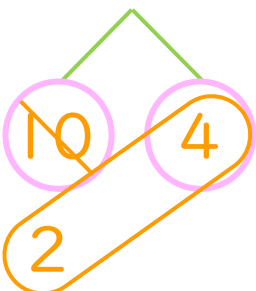
②  $11 - 8 = 3$



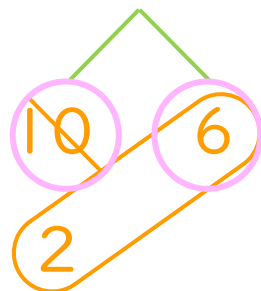
⑥  $15 - 8 = 7$



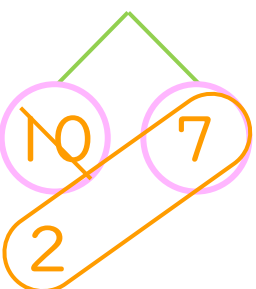
③  $14 - 8 = 6$



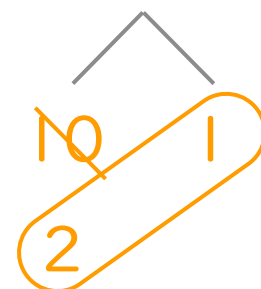
⑦  $16 - 8 = 8$



④  $17 - 8 = 9$



⑧  $11 - 8 = 3$





くりさがりのある  
ひきざん 3

● くりさがりのけいさん  
(8をひく)

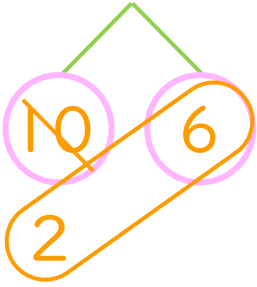


日にち：            月            日

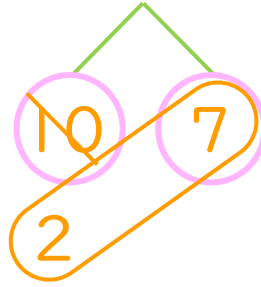
名まえ \_\_\_\_\_

・ けいさんをしましょう。(うすいじはなぞりましょう。)

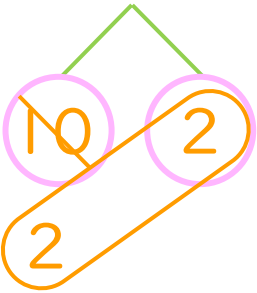
① 16 - 8 = 8



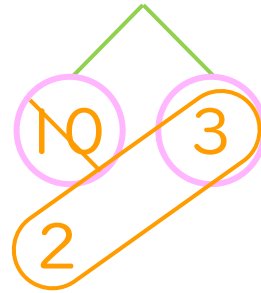
⑤ 17 - 8 = 9



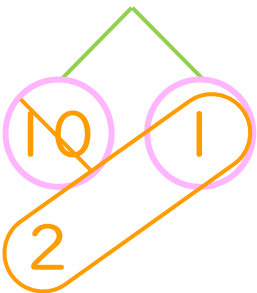
② 12 - 8 = 4



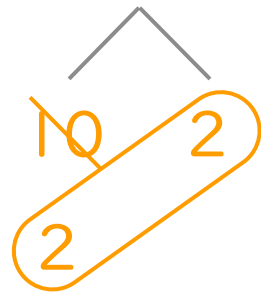
⑥ 13 - 8 = 5



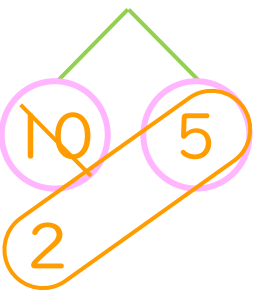
③ 11 - 8 = 3



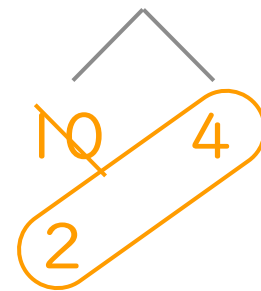
⑦ 12 - 8 = 4



④ 15 - 8 = 7



⑧ 14 - 8 = 6





くりさがりのある  
ひきざん 3

● くりさがりのけいさん  
(8をひく)

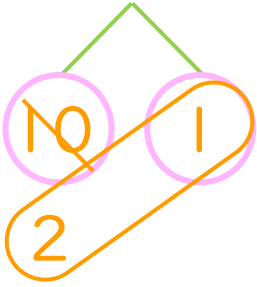


日にち：            月            日

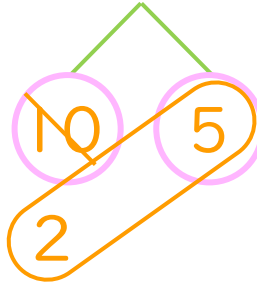
名まえ \_\_\_\_\_

・ けいさんをしましょう。

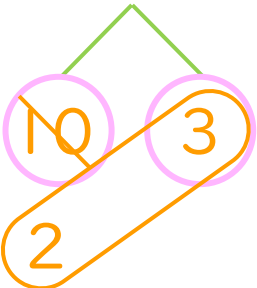
①  $11 - 8 = 3$



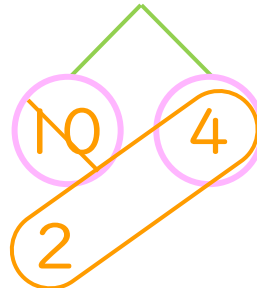
⑤  $15 - 8 = 7$



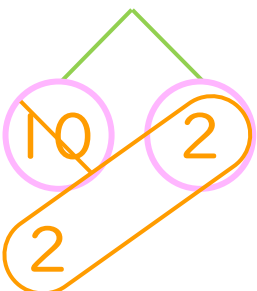
②  $13 - 8 = 5$



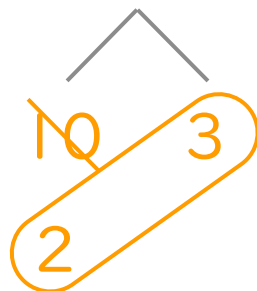
⑥  $14 - 8 = 6$



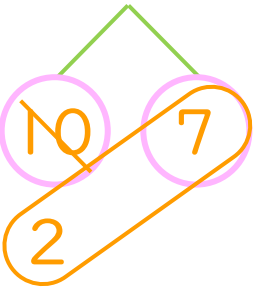
③  $12 - 8 = 4$



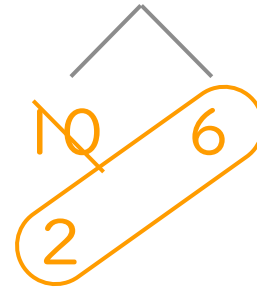
⑦  $13 - 8 = 5$



④  $17 - 8 = 9$



⑧  $16 - 8 = 8$







くりさがりのある  
ひきざん 3  
● くりさがりのけいさん  
(8をひく)

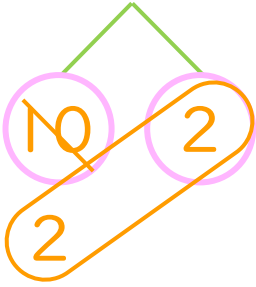


日にち：            月            日

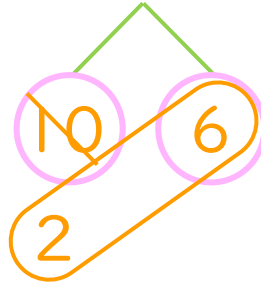
名まえ \_\_\_\_\_

・ けいさんをしましょう。

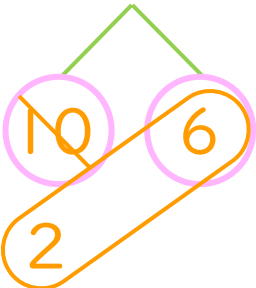
$$\textcircled{1} \quad | \quad 2 - 8 = \boxed{4}$$



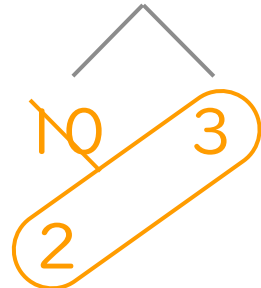
$$\textcircled{5} \quad | \quad 6 - 8 = \boxed{8}$$



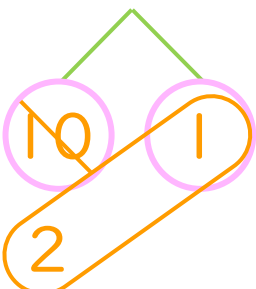
$$\textcircled{2} \quad | \quad 6 - 8 = \boxed{8}$$



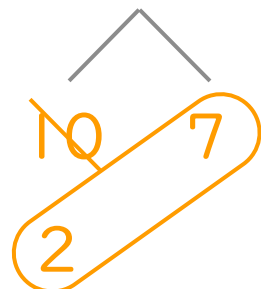
$$\textcircled{6} \quad | \quad 3 - 8 = \boxed{5}$$



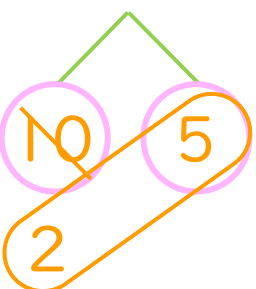
$$\textcircled{3} \quad | \quad 1 - 8 = \boxed{3}$$



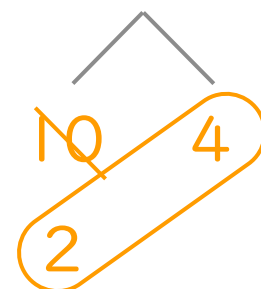
$$\textcircled{7} \quad | \quad 7 - 8 = \boxed{9}$$



$$\textcircled{4} \quad | \quad 5 - 8 = \boxed{7}$$



$$\textcircled{8} \quad | \quad 4 - 8 = \boxed{6}$$





くりさがりのある  
ひきざん 3

● くりさがりのけいさん  
(8をひく)




日にち： 月 日

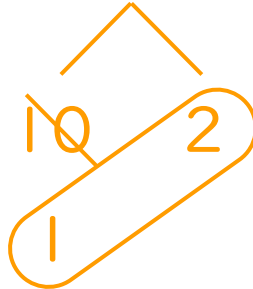
名まえ \_\_\_\_\_

・ けいさんをしましょう。

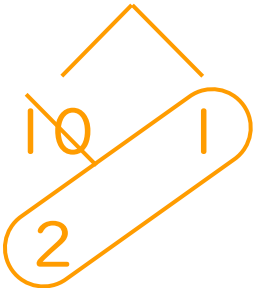
①  $17 - 8 = 9$



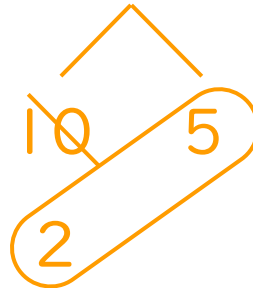
⑤  $12 - 9 = 3$



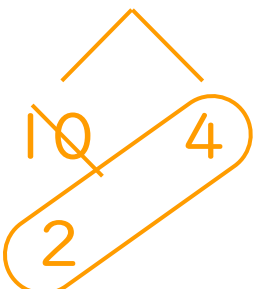
②  $11 - 8 = 3$



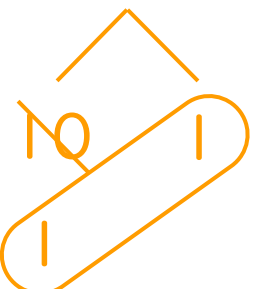
⑥  $15 - 8 = 7$



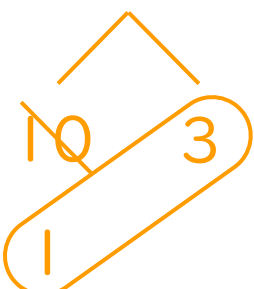
③  $14 - 8 = 6$



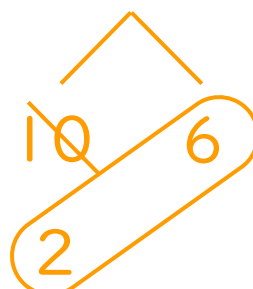
⑦  $11 - 9 = 2$



④  $13 - 9 = 4$



⑧  $16 - 8 = 8$





くりさがりのある  
ひきざん 3

● くりさがりのけいさん  
(8をひく)

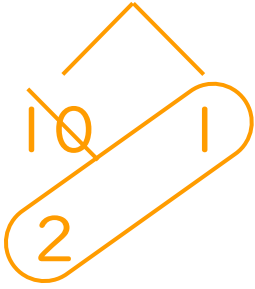


日にち：            月            日

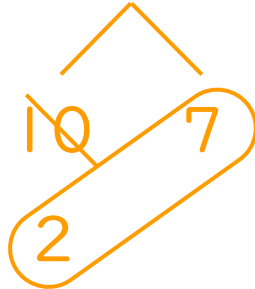
名まえ \_\_\_\_\_

・ けいさんをしましょう。

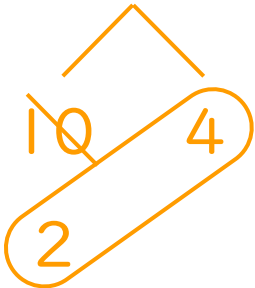
①  $11 - 8 = 3$



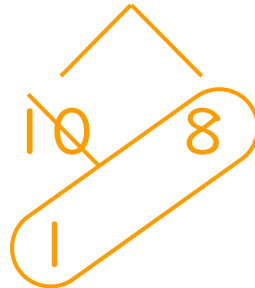
⑤  $17 - 8 = 9$



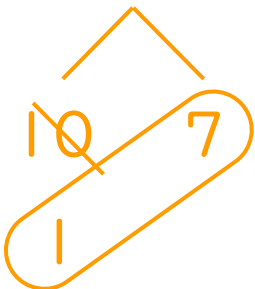
②  $14 - 8 = 6$



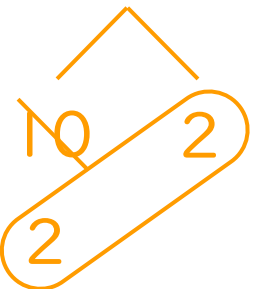
⑥  $18 - 9 = 9$



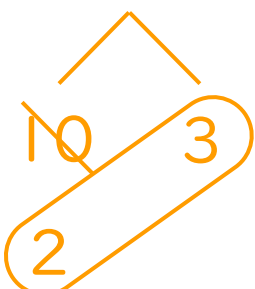
③  $17 - 9 = 8$



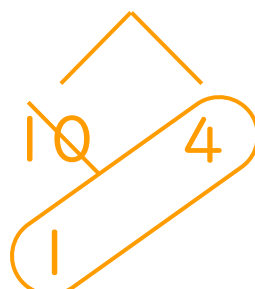
⑦  $12 - 8 = 4$



④  $13 - 8 = 5$



⑧  $14 - 9 = 5$





くりさがりのある  
ひきざん 3

● くりさがりのけいさん  
(8をひく)

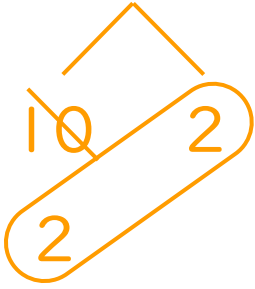
12

日にち： 月 日

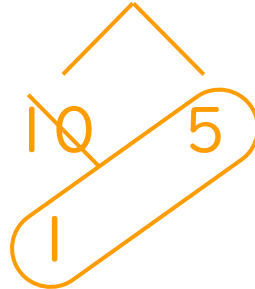
名まえ \_\_\_\_\_

・ けいさんをしましょう。

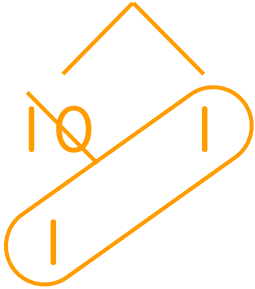
①  $12 - 8 = 4$



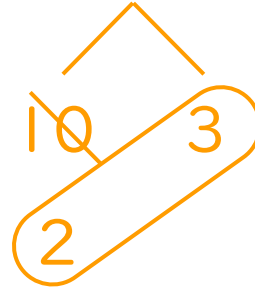
⑤  $15 - 9 = 6$



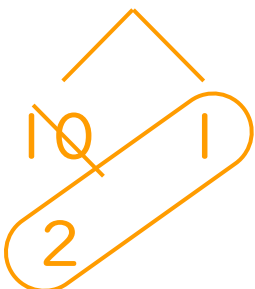
②  $11 - 9 = 2$



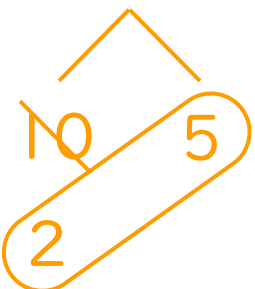
⑥  $13 - 8 = 5$



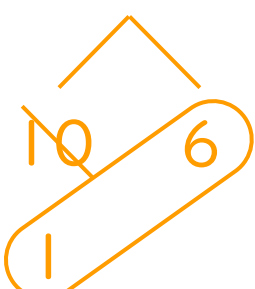
③  $11 - 8 = 3$



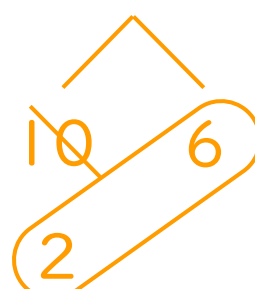
⑦  $15 - 8 = 7$



④  $16 - 9 = 7$



⑧  $16 - 8 = 8$





くりさがりのある  
ひきざん 3

● くりさがりのけいさん  
(8をひく)

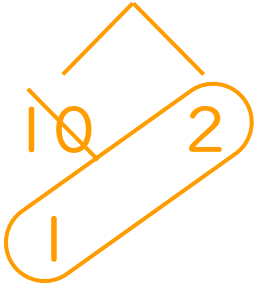
13

日にち： 月 日

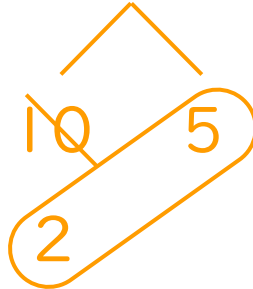
名まえ \_\_\_\_\_

・ けいさんをしましょう。

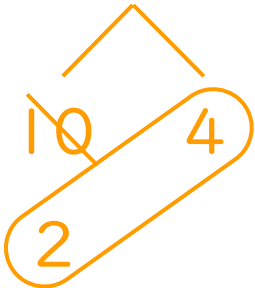
$$\textcircled{1} \quad 12 - 9 = \boxed{3}$$



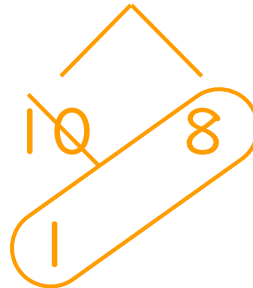
$$\textcircled{5} \quad 15 - 8 = \boxed{7}$$



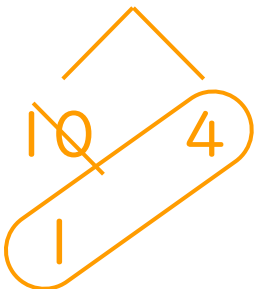
$$\textcircled{2} \quad 14 - 8 = \boxed{6}$$



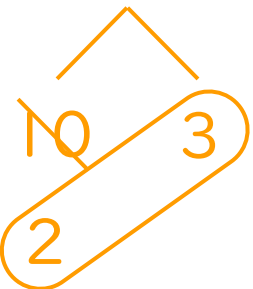
$$\textcircled{6} \quad 18 - 9 = \boxed{9}$$



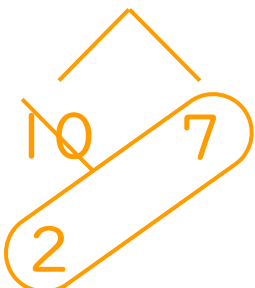
$$\textcircled{3} \quad 14 - 9 = \boxed{5}$$



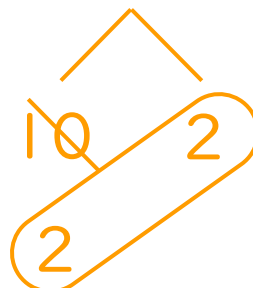
$$\textcircled{7} \quad 13 - 8 = \boxed{5}$$



$$\textcircled{4} \quad 17 - 8 = \boxed{9}$$



$$\textcircled{8} \quad 12 - 8 = \boxed{4}$$





くりさがりのある  
ひきざん 3  
● くりさがりのけいさん  
(8をひく)

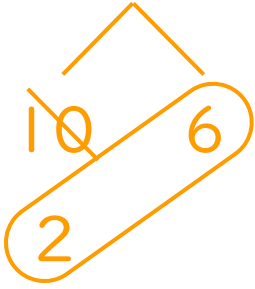
14

日にち： 月 日

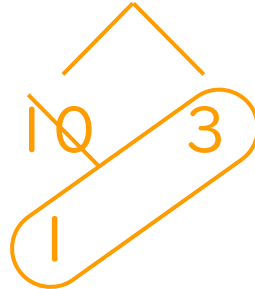
名まえ \_\_\_\_\_

・ けいさんをしましょう。

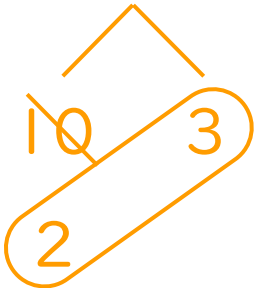
$$\textcircled{1} \quad 16 - 8 = 8$$



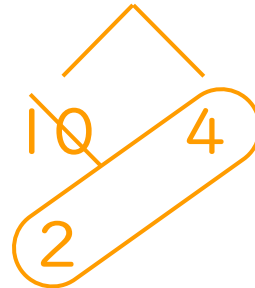
$$\textcircled{5} \quad 13 - 9 = 4$$



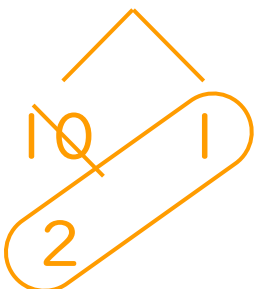
$$\textcircled{2} \quad 13 - 8 = 5$$




$$\textcircled{6} \quad 14 - 8 = 6$$



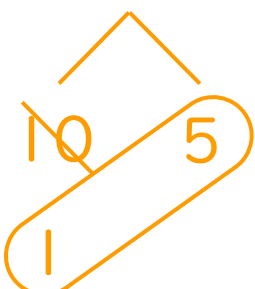
$$\textcircled{3} \quad 11 - 8 = 3$$



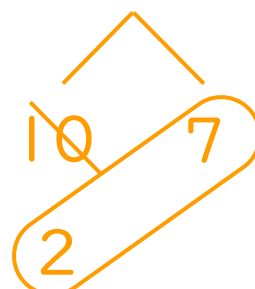
$$\textcircled{7} \quad 17 - 9 = 8$$



$$\textcircled{4} \quad 15 - 9 = 6$$



$$\textcircled{8} \quad 17 - 8 = 9$$






くりさがりのある  
ひきざん 3  
● くりさがりの けいさん  
(8 をひく)

15

めざせ80点!

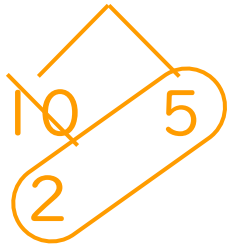


名まえ \_\_\_\_\_

・ けいさんをしましょう。(各20点)

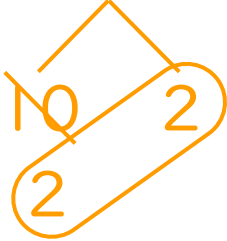
①  $15 - 8 =$

7



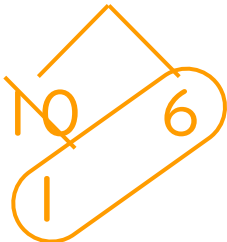
②  $12 - 8 =$

4



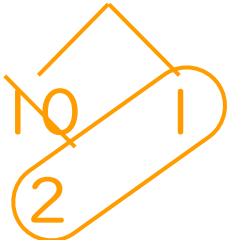
③  $16 - 9 =$

7



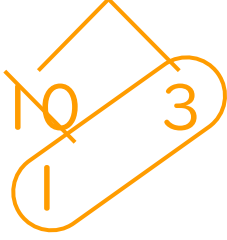
④  $11 - 8 =$

3



⑤  $13 - 9 =$

4






くりさがりのある  
ひきざん 3  
● くりさがりの けいさん  
(8 をひく)

16

めざせ80点!

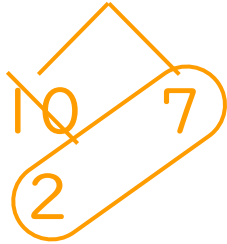


名まえ \_\_\_\_\_

・ けいさんをしましょう。(各20点)

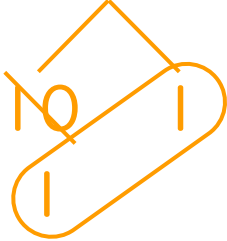
$$\textcircled{1} \quad 17 - 8 =$$

9



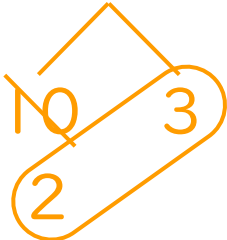
$$\textcircled{2} \quad 11 - 9 =$$

2



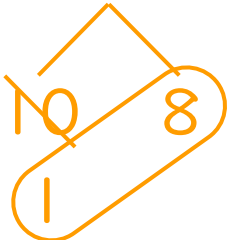
$$\textcircled{3} \quad 13 - 8 =$$

5



$$\textcircled{4} \quad 18 - 9 =$$

9



$$\textcircled{5} \quad 16 - 8 =$$

8

