



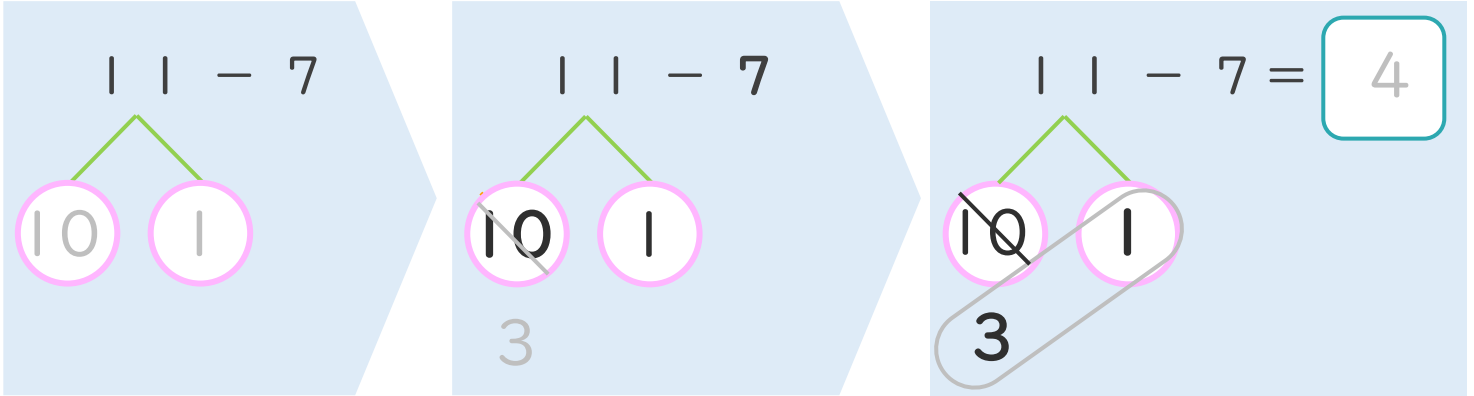
くりさがりのある
ひきざん 4
● くりさがりのけいさん
(7をひく)



日にち： 月 日

名まえ _____

< 11 - 7 の けいさんの しかた > (うすいじはなぞりましょう。)



- ① 11を
10と1に
わけます。
- ② 10から7を
ひいて3。
- ③ 3と1で4。

・ けいさんを しましょう。(うすいじはなぞりましょう。)

① 11 - 7 =

③ 13 - 7 =

② 12 - 7 =

④ 14 - 7 =





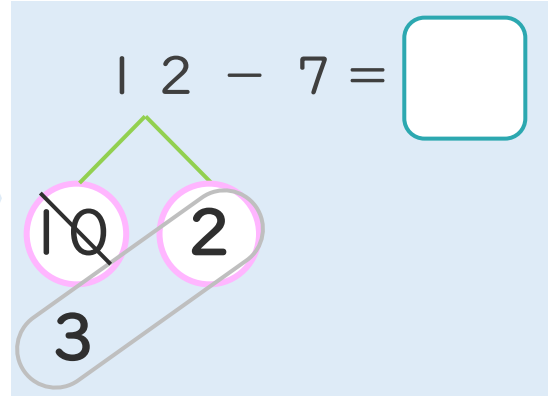
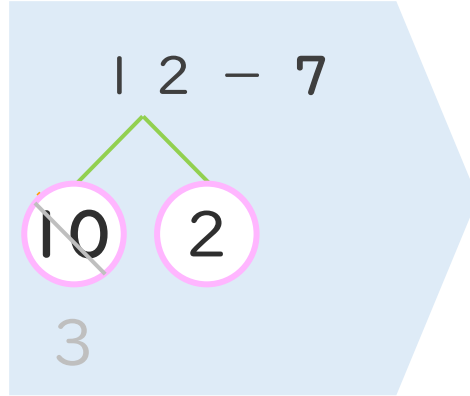
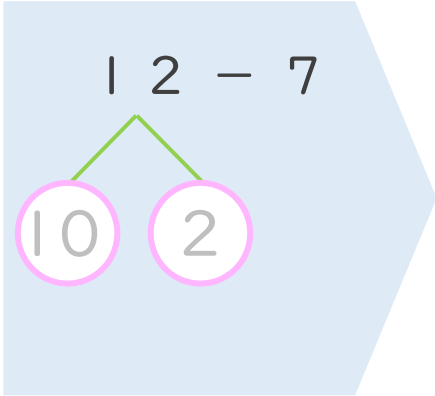
くりさがりのある
ひきざん 4
● くりさがりのけいさん
(7をひく)



日にち： 月 日

名まえ _____

< 12 - 7 のけいさんのしかた > (うすいじはなぞりましょう。)

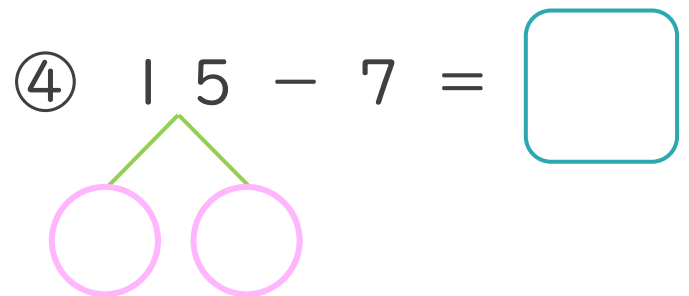
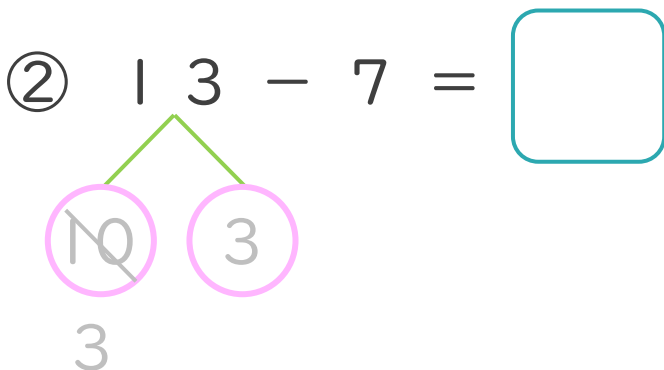
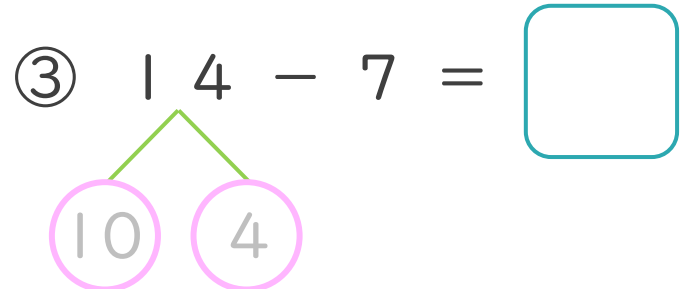
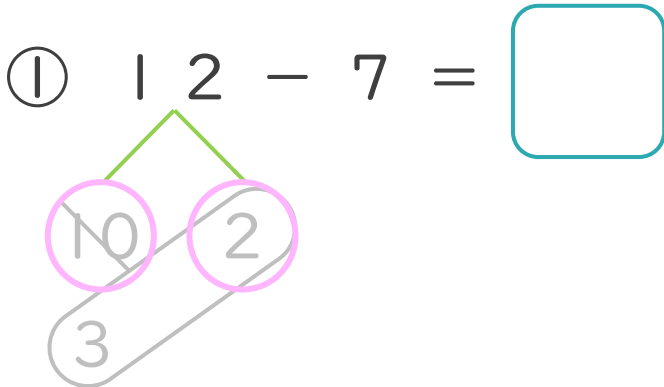


① 12を
10と2に
わけます。

② 10から7を
ひいて3。

③ 3と2で5。

・ けいさんをしましょう。(うすいじはなぞりましょう。)





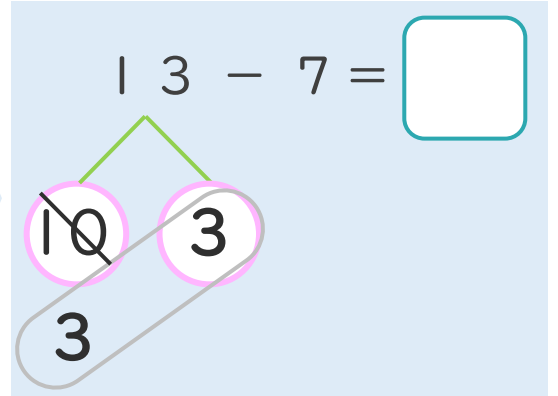
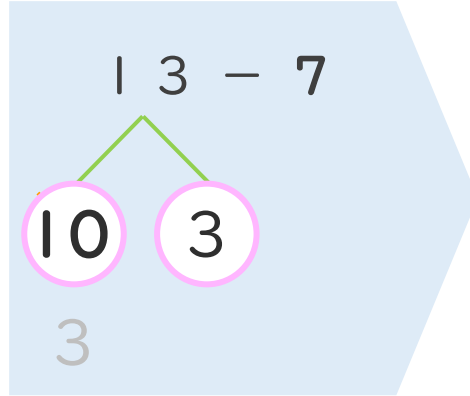
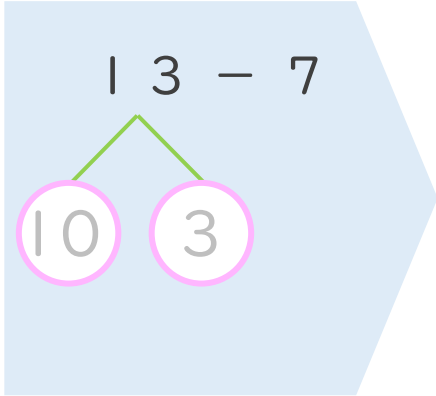
くりさがりのある
ひきざん 4
● くりさがりのけいさん
(7をひく)



日にち： 月 日

名まえ _____

< 13 - 7 の けいさんの しかた > (うすいじはなぞりましょう。)

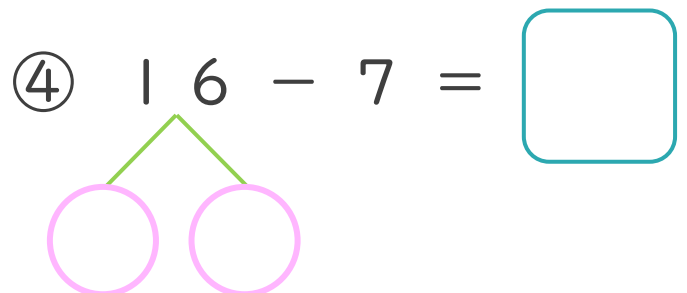
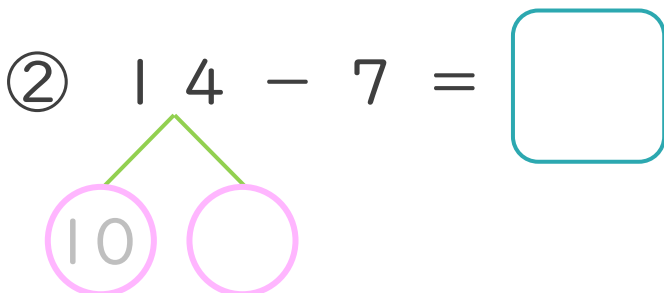
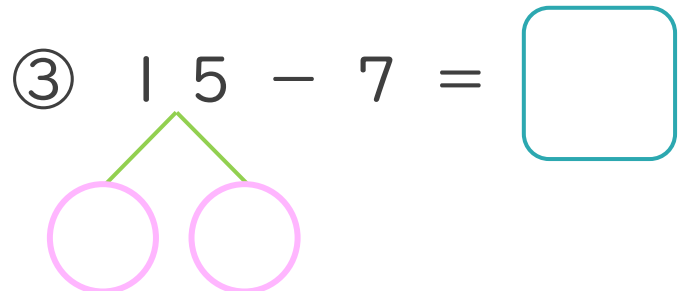
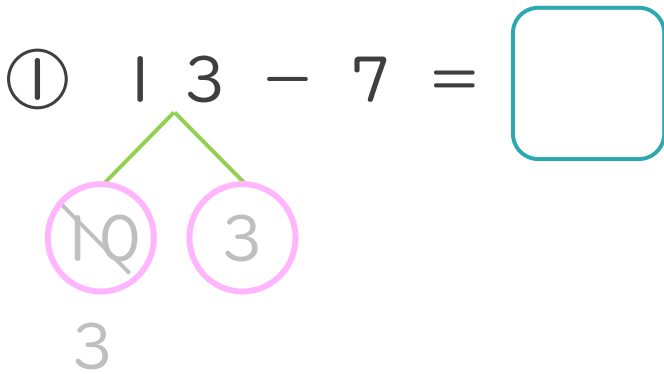


① 13を
10と3に
わけます。

② 10から7を
ひいて3。

③ 3と3で6。

・ けいさんを しましょう。(うすいじはなぞりましょう。)





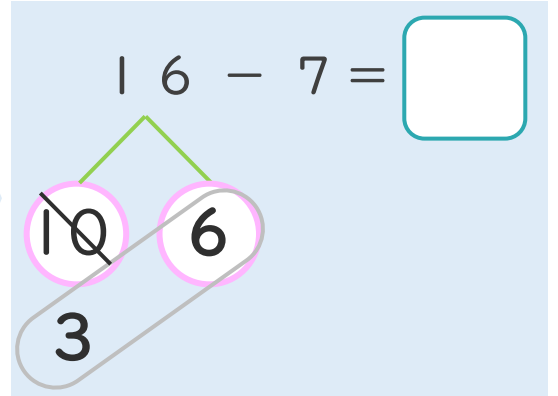
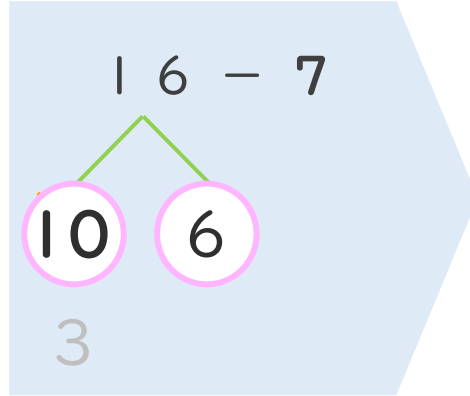
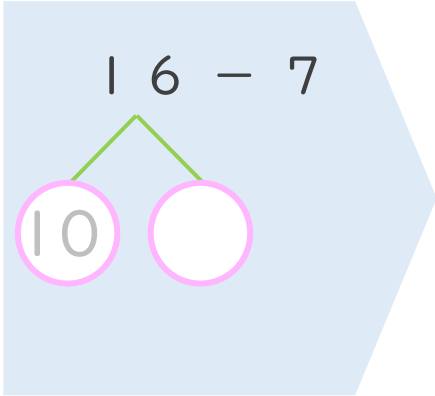
くりさがりのある
ひきざん 4
● くりさがりのけいさん
(7をひく)



日にち： 月 日

名まえ _____

< 16 - 7 の けいさんの しかた > (うすいじはなぞりましょう。)

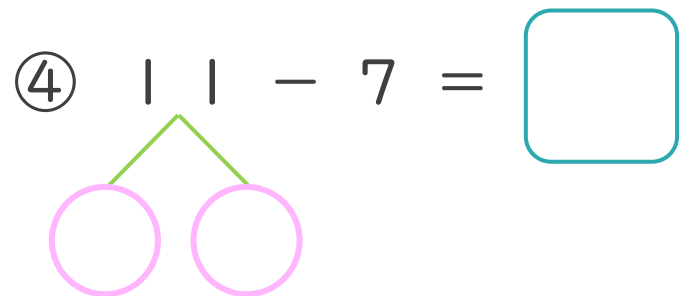
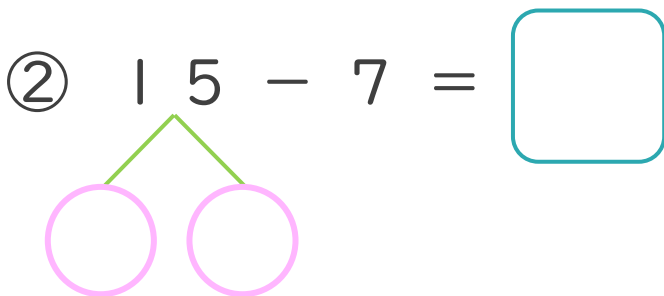
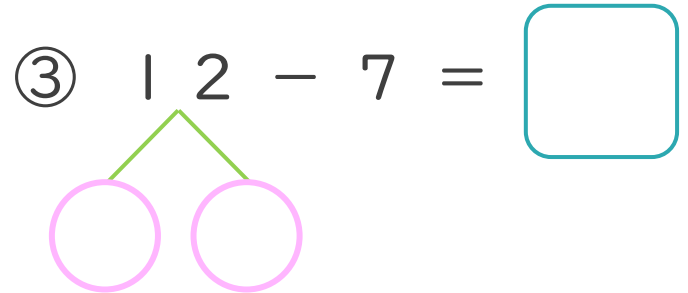
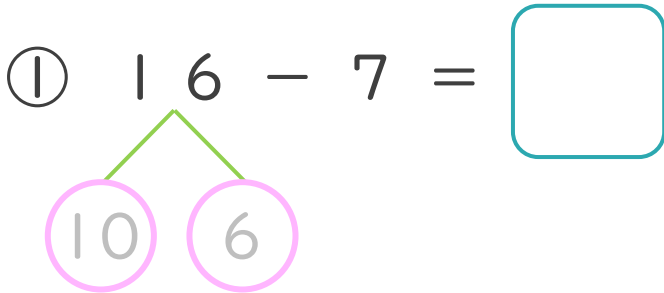


① 16を
10と6に
わけます。

② 10から7を
ひいて3。

③ 3と6で9。

・ けいさんを しましょう。(うすいじはなぞりましょう。)





くりさがりのある
ひきざん 4
● くりさがりのけいさん
(7をひく)

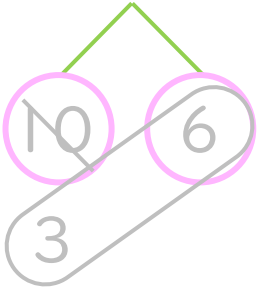


日にち： 月 日

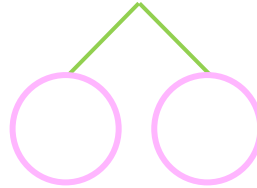
名まえ _____

・ けいさんをしましょう。(うすいじはなぞりましょう。)

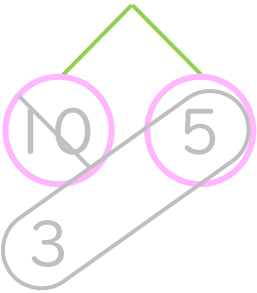
① $16 - 7 = \square$



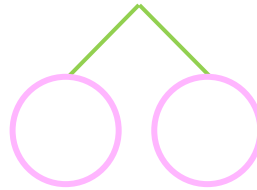
⑤ $11 - 7 = \square$



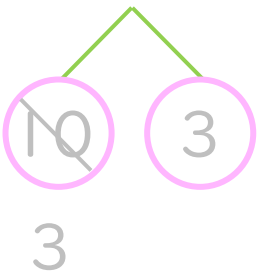
② $15 - 7 = \square$



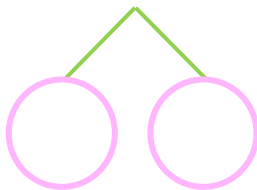
⑥ $14 - 7 = \square$



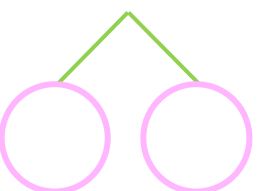
③ $13 - 7 = \square$



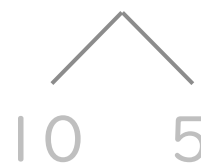
⑦ $16 - 7 = \square$



④ $12 - 7 = \square$



⑧ $15 - 7 = \square$





くりさがりのある
ひきざん 4
● くりさがりのけいさん
(7をひく)

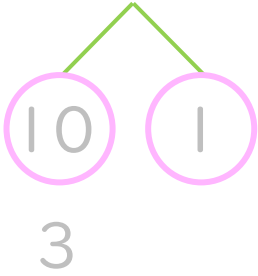


日にち： 月 日

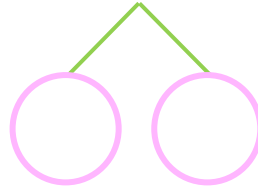
名まえ _____

・ けいさんをしましょう。(うすいじはなぞりましょう。)

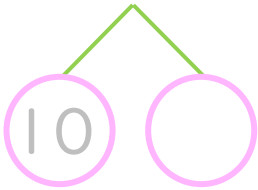
① $11 - 7 = \square$



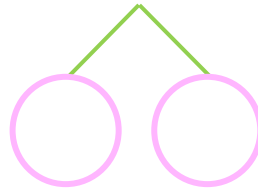
⑤ $12 - 7 = \square$



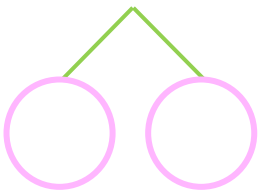
② $13 - 7 = \square$



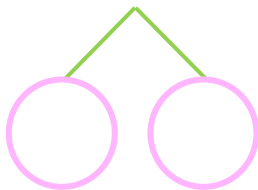
⑥ $11 - 7 = \square$



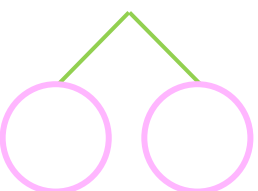
③ $14 - 7 = \square$



⑦ $13 - 7 = \square$



④ $15 - 7 = \square$



⑧ $16 - 7 = \square$





くりさがりのある
ひきざん 4
● くりさがりのけいさん
(7をひく)

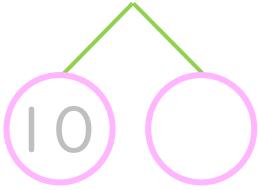


日にち： 月 日

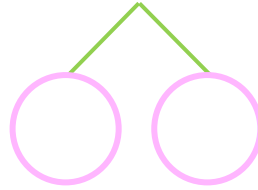
名まえ _____

・ けいさんをしましょう。(うすいじはなぞりましょう。)

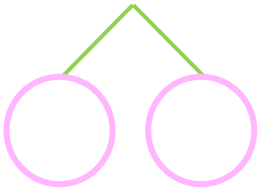
① $13 - 7 = \square$



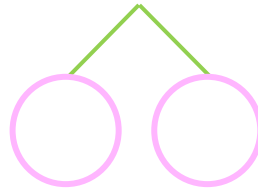
⑤ $14 - 7 = \square$



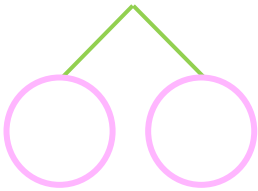
② $14 - 7 = \square$



⑥ $15 - 7 = \square$



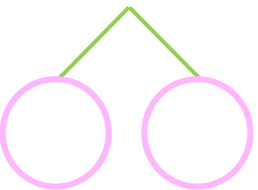
③ $16 - 7 = \square$



⑦ $12 - 7 = \square$



④ $12 - 7 = \square$



⑧ $11 - 7 = \square$





くりさがりのある
ひきざん 4
● くりさがりのけいさん
(7をひく)

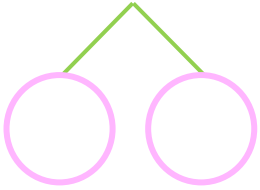


日にち： 月 日

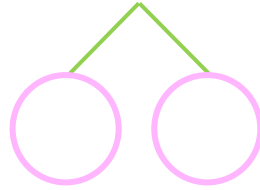
名まえ _____

・ けいさんをしましょう。

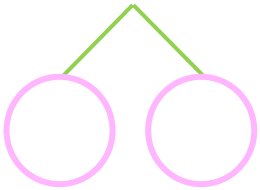
① $16 - 7 = \square$



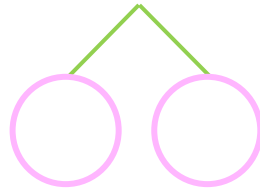
⑤ $11 - 7 = \square$



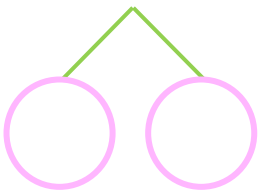
② $12 - 7 = \square$



⑥ $14 - 7 = \square$



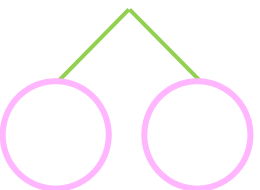
③ $13 - 7 = \square$



⑦ $15 - 7 = \square$



④ $11 - 7 = \square$



⑧ $16 - 7 = \square$





くりさがりのある
ひきざん 4
● くりさがりのけいさん
(7をひく)

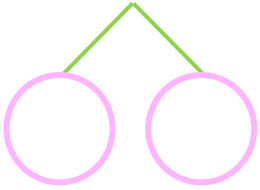


日にち： 月 日

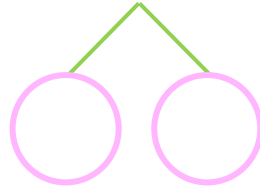
名まえ _____

・ けいさんをしましょう。

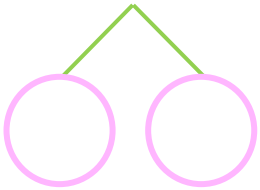
① $12 - 7 = \square$



⑤ $13 - 7 = \square$



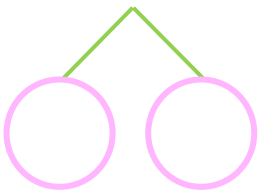
② $15 - 7 = \square$



⑥ $11 - 7 = \square$



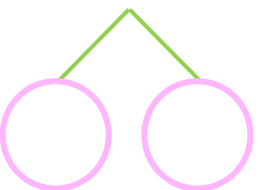
③ $14 - 7 = \square$



⑦ $12 - 7 = \square$



④ $16 - 7 = \square$



⑧ $15 - 7 = \square$





くりさがりのある
ひきざん 4
● くりさがりのけいさん
(7をひく)

10

日にち： 月 日

名まえ _____

・ けいさんをしましょう。

① $14 - 7 = \square$

⑤ $12 - 8 = \square$

② $11 - 7 = \square$

⑥ $15 - 7 = \square$

③ $15 - 8 = \square$

⑦ $12 - 7 = \square$

④ $13 - 7 = \square$

⑧ $16 - 8 = \square$



くりさがりのある
ひきざん 4

● くりさがりのけいさん
(7をひく)



日にち： 月 日

名まえ _____

・ けいさんをしましょう。

① $11 - 8 = \square$

⑤ $13 - 7 = \square$

② $13 - 8 = \square$

⑥ $12 - 7 = \square$

③ $15 - 7 = \square$

⑦ $14 - 8 = \square$

④ $16 - 7 = \square$

⑧ $14 - 7 = \square$



くりさがりのある
ひきざん 4
● くりさがりのけいさん
(7をひく)

12

日にち： 月 日

名まえ _____

・ けいさんをしましょう。

① $13 - 7 = \square$

⑤ $17 - 8 = \square$

② $11 - 7 = \square$

⑥ $16 - 8 = \square$

③ $14 - 8 = \square$

⑦ $16 - 7 = \square$

④ $14 - 7 = \square$

⑧ $15 - 7 = \square$



くりさがりのある
ひきざん 4
● くりさがりのけいさん
(7をひく)

13

日にち： 月 日

名まえ _____

・ けいさんをしましょう。

① $12 - 7 = \square$

⑤ $15 - 7 = \square$

② $11 - 8 = \square$

⑥ $13 - 7 = \square$

③ $16 - 7 = \square$

⑦ $13 - 8 = \square$

④ $17 - 8 = \square$

⑧ $11 - 7 = \square$



くりさがりのある
ひきざん 4
● くりさがりのけいさん
(7をひく)

14

日にち： 月 日

名まえ _____

・ けいさんをしましょう。

① $12 - 8 =$

⑤ $15 - 8 =$

② $12 - 7 =$

⑥ $11 - 7 =$

③ $14 - 8 =$

⑦ $16 - 7 =$

④ $14 - 7 =$


⑧ $13 - 7 =$



くりさがりのある
ひきざん 4
● くりさがりのけいさん
(7をひく)

15

めざせ80点!



名まえ _____

・ けいさんをしましょう。(各20点)

① $15 - 7 =$

② $12 - 7 =$

③ $16 - 8 =$

④ $11 - 7 =$


⑤ $13 - 8 =$



くりさがりのある
ひきざん 4
● くりさがりのけいさん
(7をひく)

16

めざせ80点!



名まえ _____

・ けいさんをしましょう。(各20点)

① $13 - 7 =$

② $11 - 8 =$

③ $16 - 7 =$

④ $12 - 8 =$

⑤ $14 - 7 =$



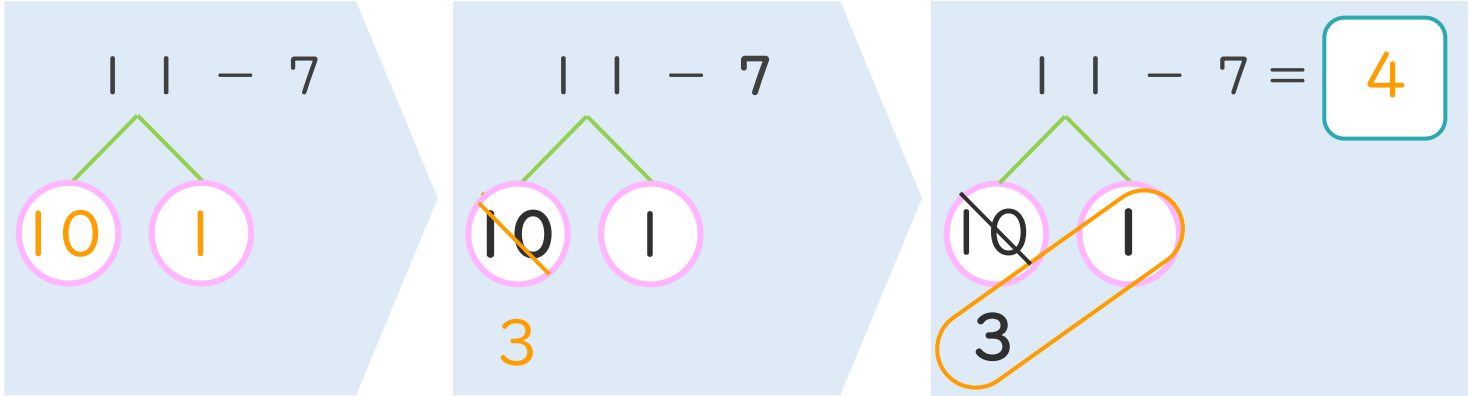
くりさがりのある
ひきざん 4
● くりさがりのけいさん
(7をひく)



日にち： 月 日

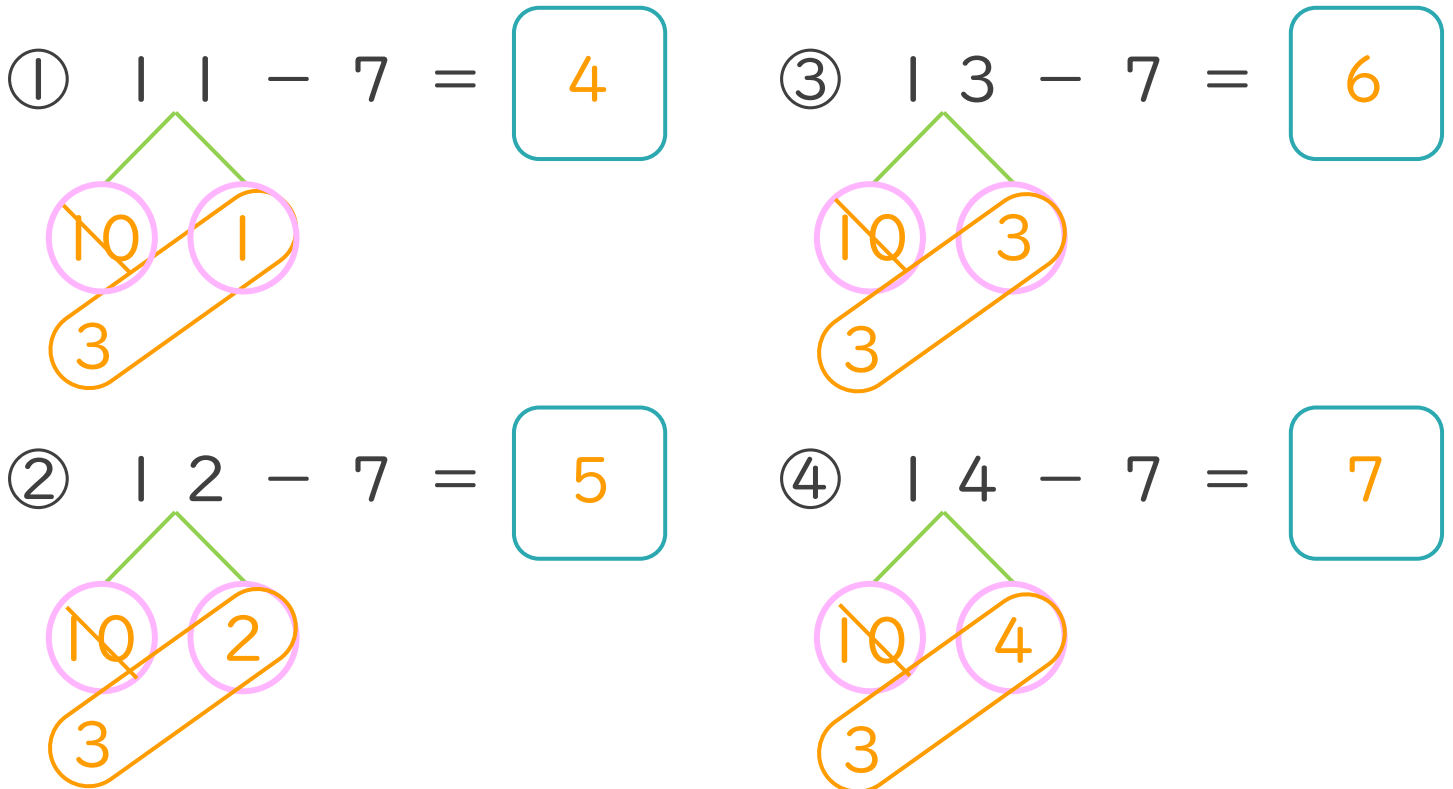
名まえ _____

< 11 - 7 の けいさんの しかた > (うすいじはなぞりましょう。)



- ① 11を
10と1に
わけます。
- ② 10から7を
ひいて3。
- ③ 3と1で4。

・ けいさんを しましょう。(うすいじはなぞりましょう。)





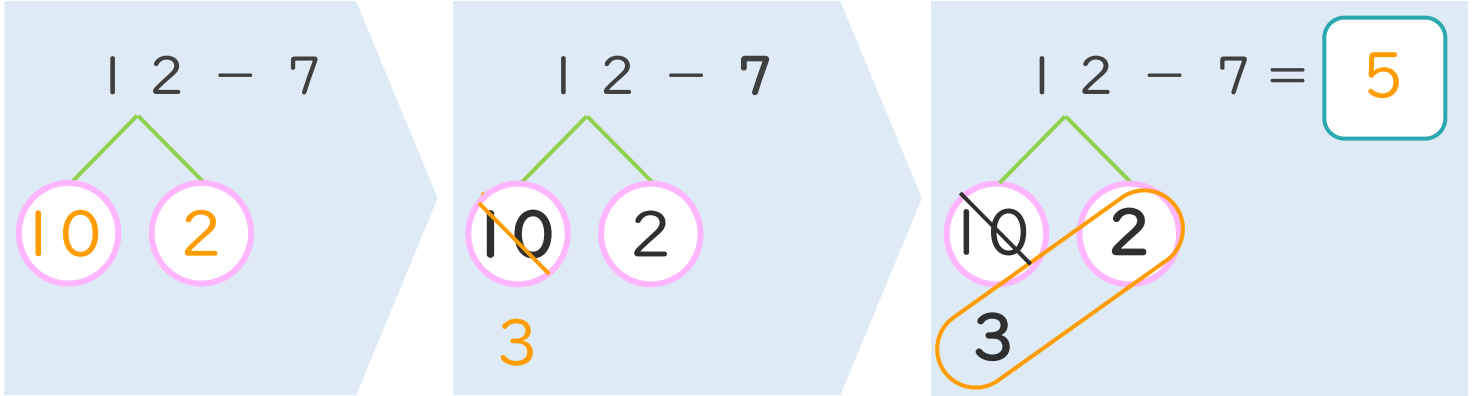
くりさがりのある
ひきざん 4
くりさがりのけいさん
(7をひく)



日にち： 月 日

名まえ _____

< 12 - 7 のけいさんのしかた > (うすいじはなぞりましょう。)



- ① 12を
10と2に
わけます。
- ② 10から7を
ひいて3。
- ③ 3と2で5。

・ けいさんをしましょう。(うすいじはなぞりましょう。)

① $12 - 7 = 5$

③ $14 - 7 = 7$

② $13 - 7 = 6$

④ $15 - 7 = 8$



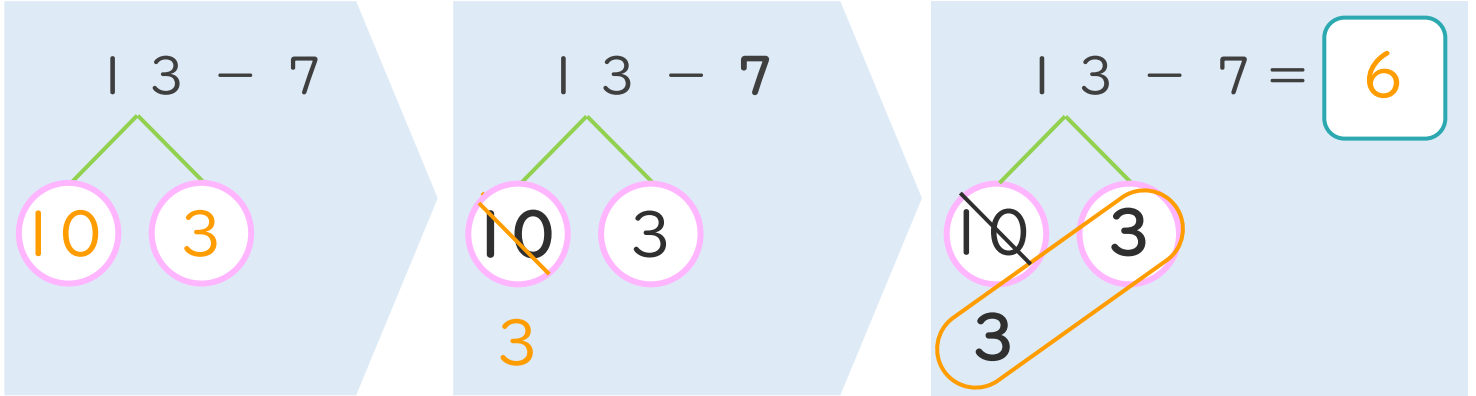
くりさがりのある
ひきざん 4
くりさがりのけいさん
(7をひく)



日にち： 月 日

名まえ _____

< 13 - 7 の けいさんの しかた > (うすいじはなぞりましょう。)



- ① 13を
10と3に
わけます。
- ② 10から7を
ひいて3。
- ③ 3と3で6。

・ けいさんを しましょう。(うすいじはなぞりましょう。)

<p>① $13 - 7 = 6$</p>	<p>③ $15 - 7 = 8$</p>
<p>② $14 - 7 = 7$</p>	<p>④ $16 - 7 = 9$</p>





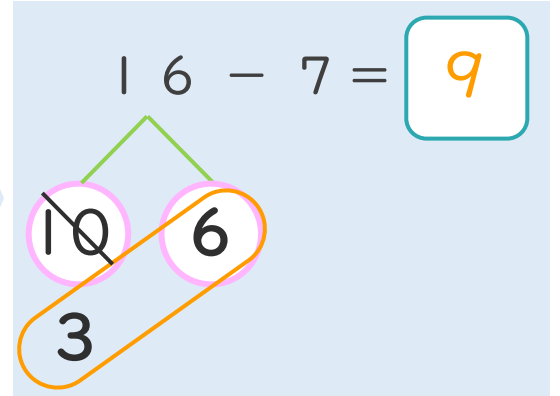
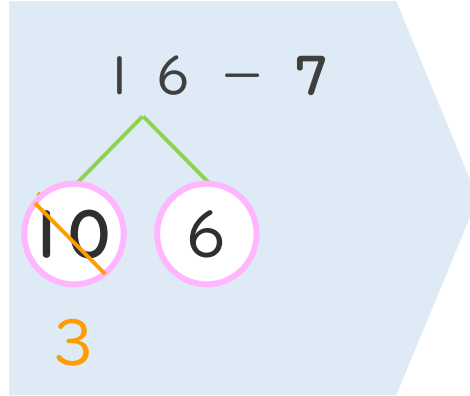
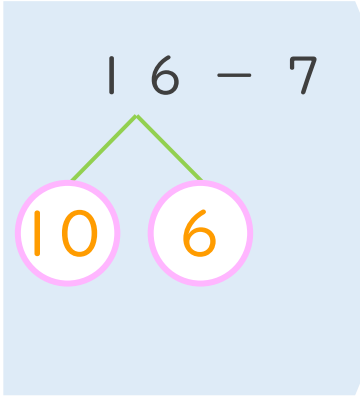
くりさがりのある
ひきざん 4
● くりさがりのけいさん
(7をひく)



日にち： 月 日

名まえ _____

< 16 - 7 のけいさんのしかた > (うすいじはなぞりましょう。)

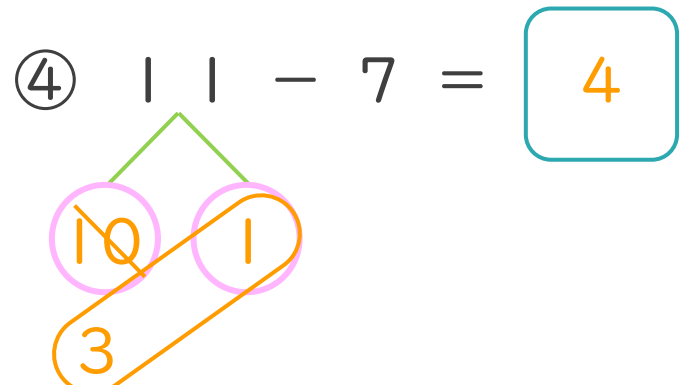
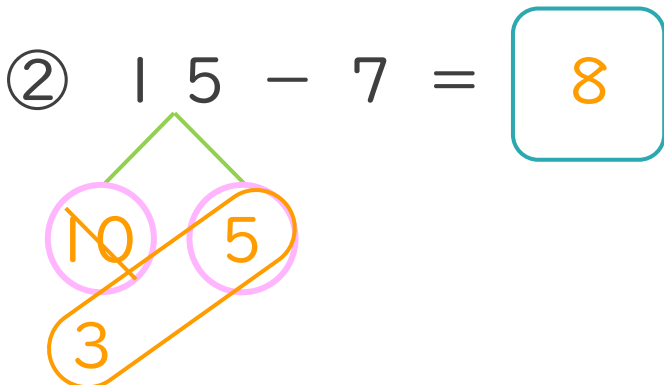
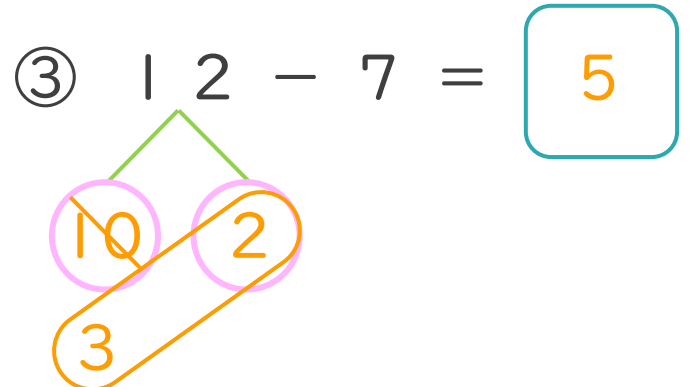
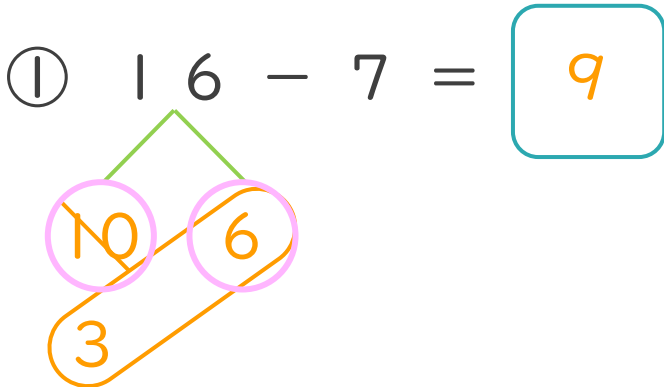


① 16を
10と6に
わけます。

② 10から7を
ひいて3。

③ 3と6で9。

・ けいさんをしましょう。(うすいじはなぞりましょう。)





くりさがりのある
ひきざん 4
● くりさがりのけいさん
(7をひく)

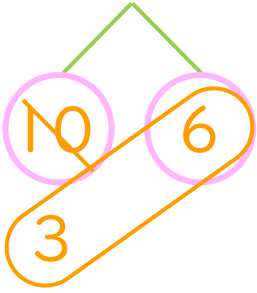


日にち： 月 日

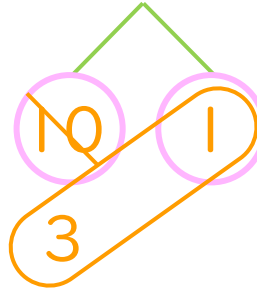
名まえ _____

・ けいさんをしましょう。(うすいじはなぞりましょう。)

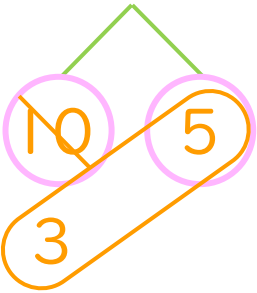
① $16 - 7 = 9$



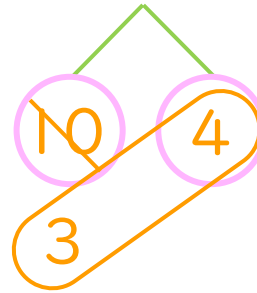
⑤ $11 - 7 = 4$



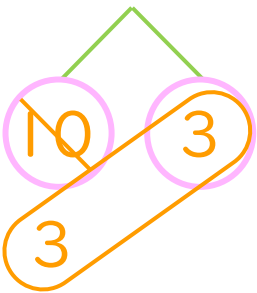
② $15 - 7 = 8$



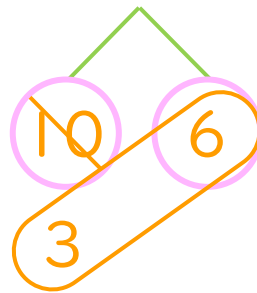
⑥ $14 - 7 = 7$



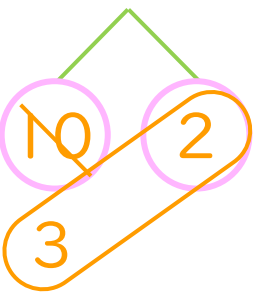
③ $13 - 7 = 6$



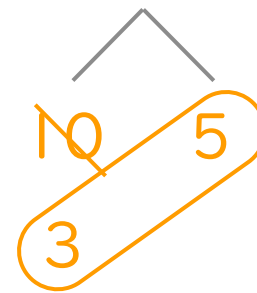
⑦ $16 - 7 = 9$



④ $12 - 7 = 5$



⑧ $15 - 7 = 8$





くりさがりのある
ひきざん 4
● くりさがりのけいさん
(7をひく)

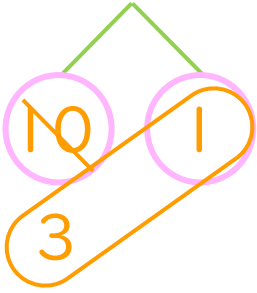


日にち： 月 日

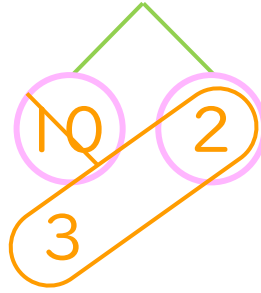
名まえ _____

・ けいさんをしましょう。(うすいじはなぞりましょう。)

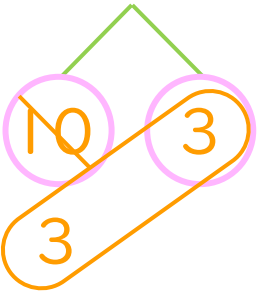
$$\textcircled{1} \quad 11 - 7 = \boxed{4}$$



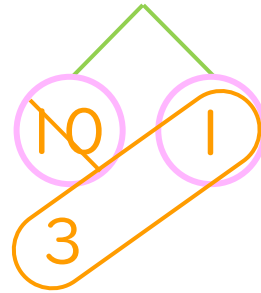
$$\textcircled{5} \quad 12 - 7 = \boxed{5}$$



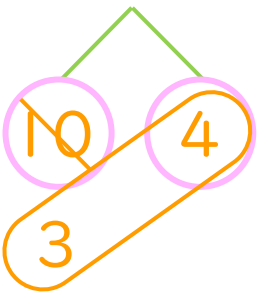
$$\textcircled{2} \quad 13 - 7 = \boxed{6}$$



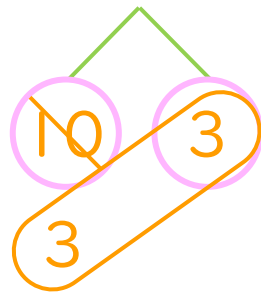
$$\textcircled{6} \quad 11 - 7 = \boxed{4}$$



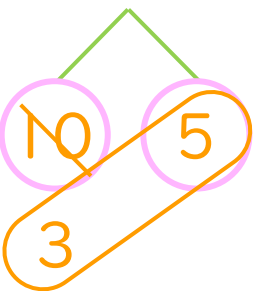
$$\textcircled{3} \quad 14 - 7 = \boxed{7}$$



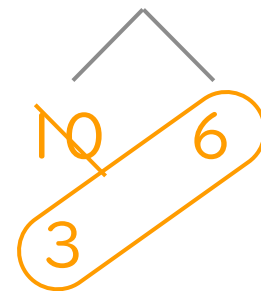
$$\textcircled{7} \quad 13 - 7 = \boxed{6}$$



$$\textcircled{4} \quad 15 - 7 = \boxed{8}$$



$$\textcircled{8} \quad 16 - 7 = \boxed{9}$$





くりさがりのある
ひきざん 4
● くりさがりのけいさん
(7をひく)

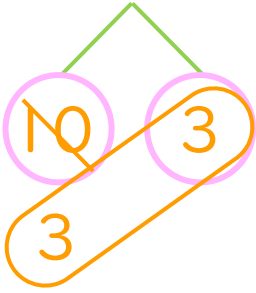


日にち： 月 日

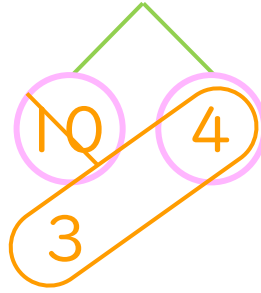
名まえ _____

・ けいさんをしましょう。(うすいじはなぞりましょう。)

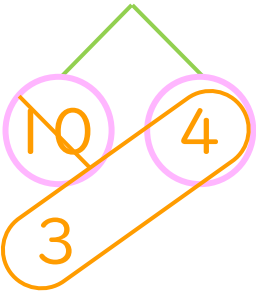
① $13 - 7 =$ 6



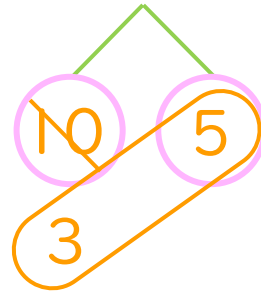
⑤ $14 - 7 =$ 7



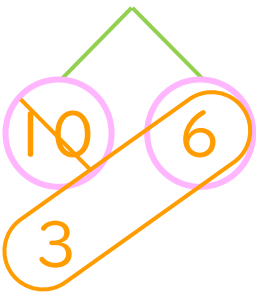
② $14 - 7 =$ 7



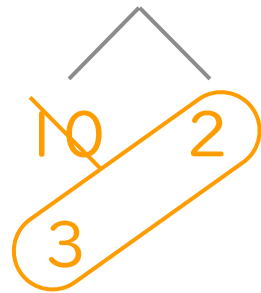
⑥ $15 - 7 =$ 8



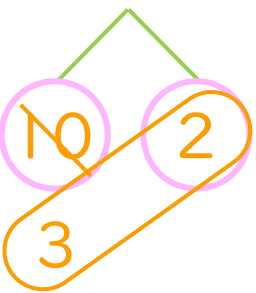
③ $16 - 7 =$ 9



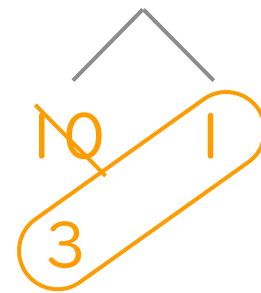
⑦ $12 - 7 =$ 5



④ $12 - 7 =$ 5



⑧ $11 - 7 =$ 4





くりさがりのある
ひきざん 4
● くりさがりのけいさん
(7をひく)

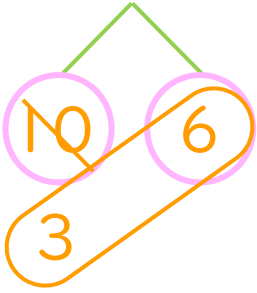


日にち： 月 日

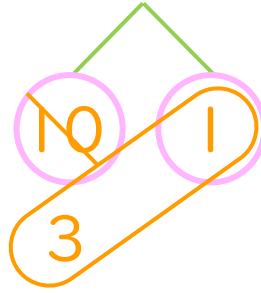
名まえ _____

・ けいさんをしましょう。

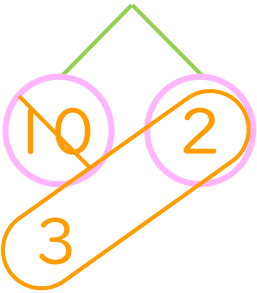
$$\textcircled{1} \quad | \quad 6 - 7 = \boxed{9}$$



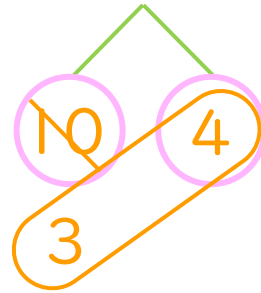
$$\textcircled{5} \quad | \quad | - 7 = \boxed{4}$$



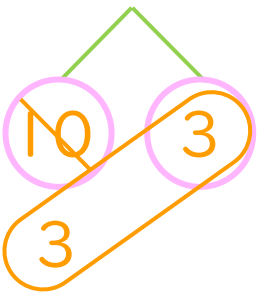
$$\textcircled{2} \quad | \quad 2 - 7 = \boxed{5}$$



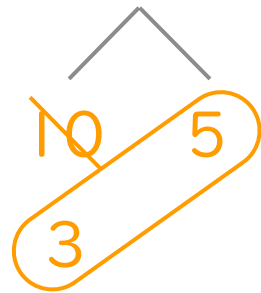
$$\textcircled{6} \quad | \quad 4 - 7 = \boxed{7}$$



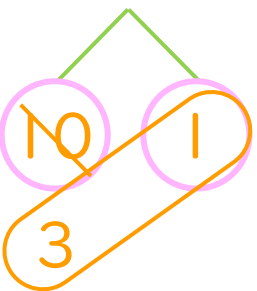
$$\textcircled{3} \quad | \quad 3 - 7 = \boxed{6}$$



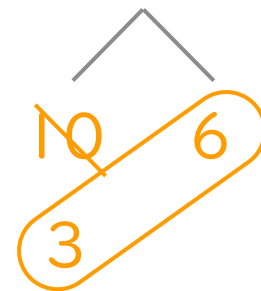
$$\textcircled{7} \quad | \quad 5 - 7 = \boxed{8}$$



$$\textcircled{4} \quad | \quad | - 7 = \boxed{4}$$



$$\textcircled{8} \quad | \quad 6 - 7 = \boxed{9}$$





くりさがりのある
ひきざん 4
● くりさがりのけいさん
(7をひく)

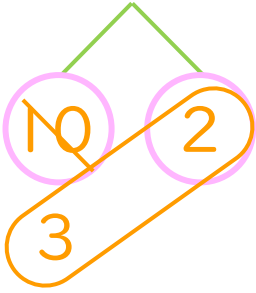


日にち： 月 日

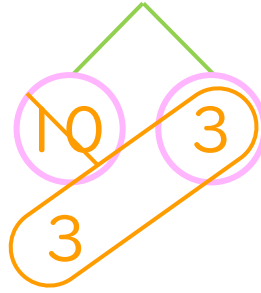
名まえ _____

・ けいさんをしましょう。

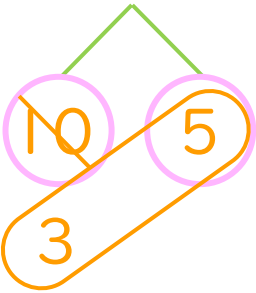
① $12 - 7 = 5$



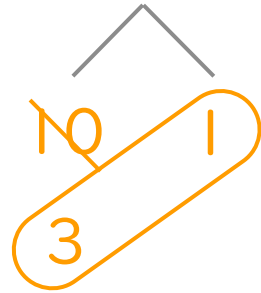
⑤ $13 - 7 = 6$



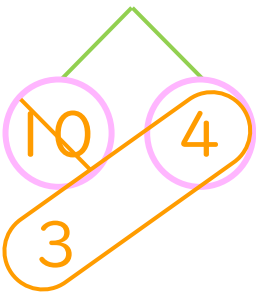
② $15 - 7 = 8$



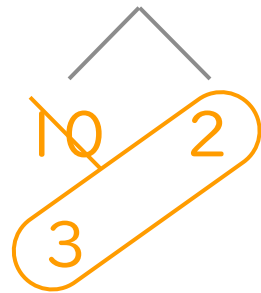
⑥ $11 - 7 = 4$



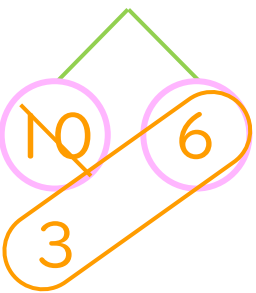
③ $14 - 7 = 7$



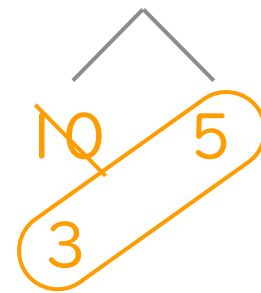
⑦ $12 - 7 = 5$



④ $16 - 7 = 9$



⑧ $15 - 7 = 8$





くりさがりのある
ひきざん 4
● くりさがりのけいさん
(7をひく)

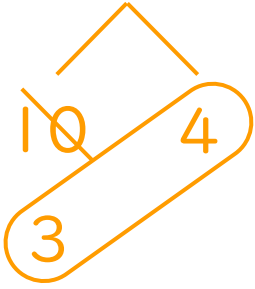


日にち： 月 日

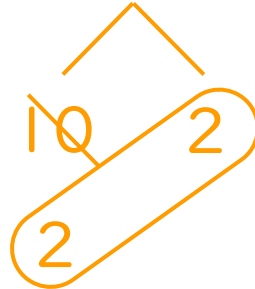
名まえ _____

・ けいさんをしましょう。

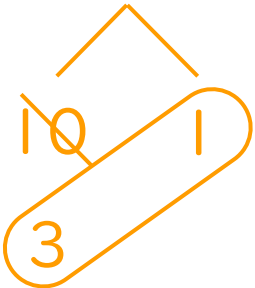
① $14 - 7 = 7$



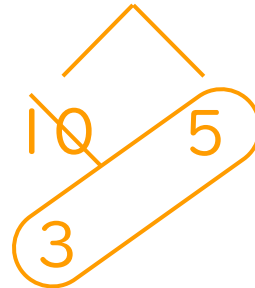
⑤ $12 - 8 = 4$



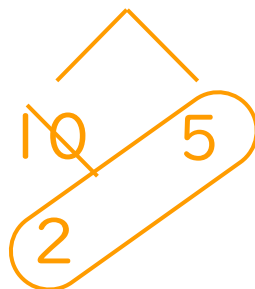
② $11 - 7 = 4$



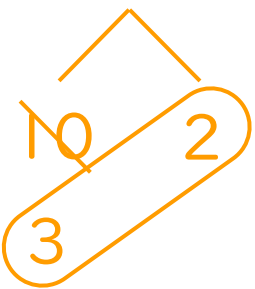
⑥ $15 - 7 = 8$



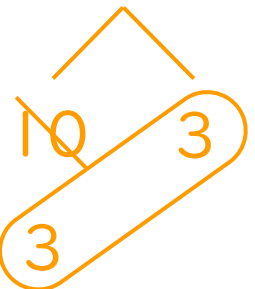
③ $15 - 8 = 7$



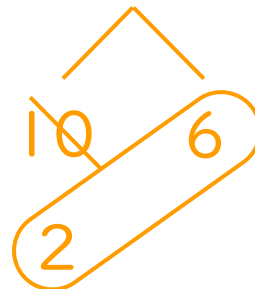
⑦ $12 - 7 = 5$



④ $13 - 7 = 6$



⑧ $16 - 8 = 8$





くりさがりのある
ひきざん 4
● くりさがりのけいさん
(7をひく)

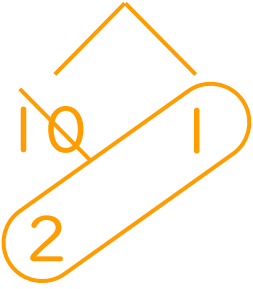


日にち： 月 日

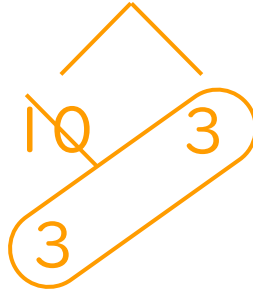
名まえ _____

・ けいさんをしましょう。

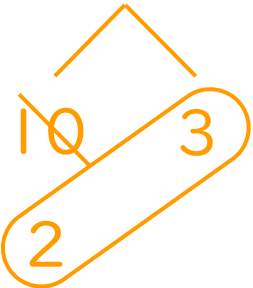
① $11 - 8 = 3$



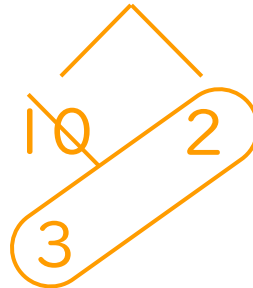
⑤ $13 - 7 = 6$



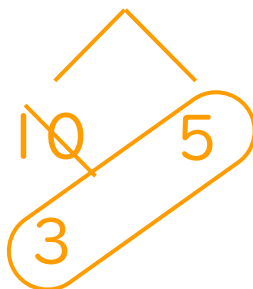
② $13 - 8 = 5$



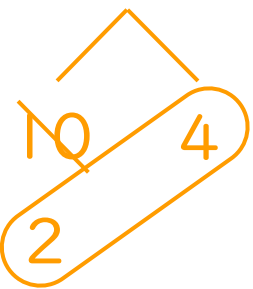
⑥ $12 - 7 = 5$



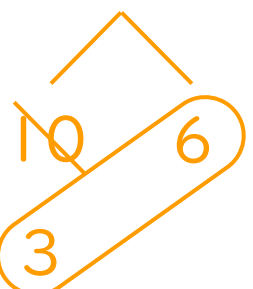
③ $15 - 7 = 8$



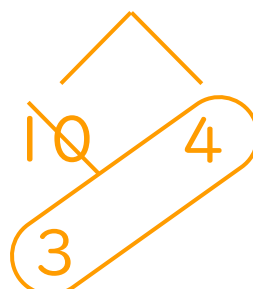
⑦ $14 - 8 = 6$



④ $16 - 7 = 9$



⑧ $14 - 7 = 7$





くりさがりのある
ひきざん 4

● くりさがりのけいさん
(7をひく)

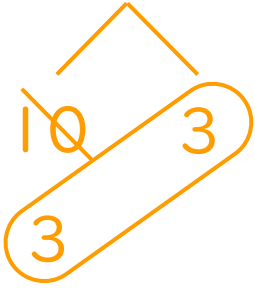
12

日にち： 月 日

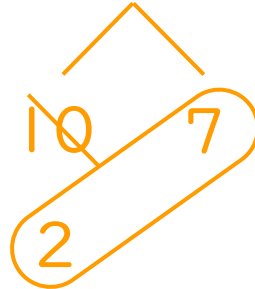
名まえ _____

・ けいさんをしましょう。

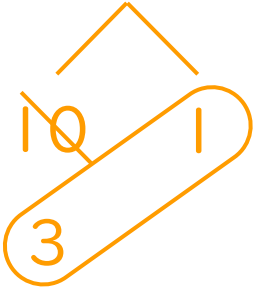
① $13 - 7 = 6$



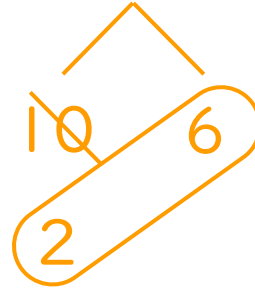
⑤ $17 - 8 = 9$



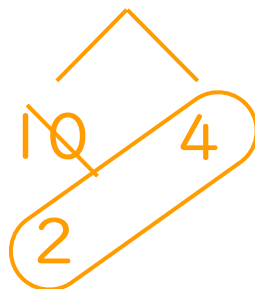
② $11 - 7 = 4$



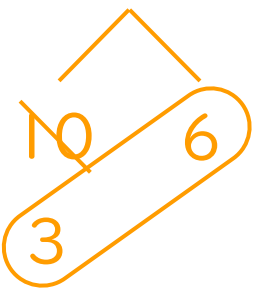
⑥ $16 - 8 = 8$



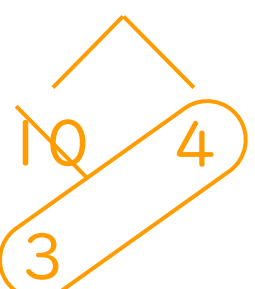
③ $14 - 8 = 6$



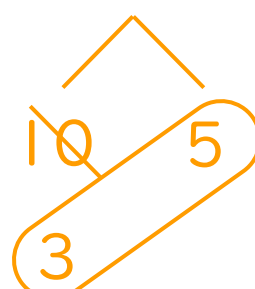
⑦ $16 - 7 = 9$



④ $14 - 7 = 7$



⑧ $15 - 7 = 8$





くりさがりのある
ひきざん 4

● くりさがりのけいさん
(7をひく)

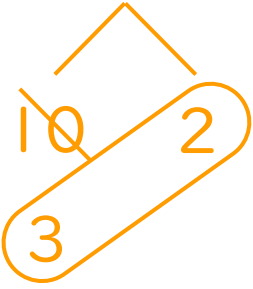
13

日にち： 月 日

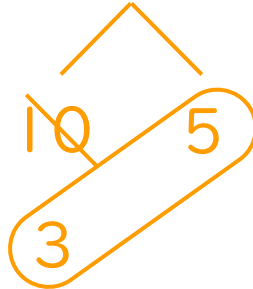
名まえ _____

・ けいさんをしましょう。

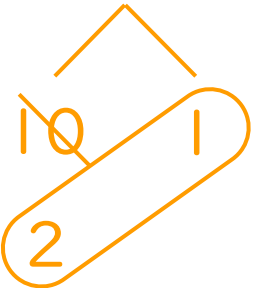
① $12 - 7 = 5$



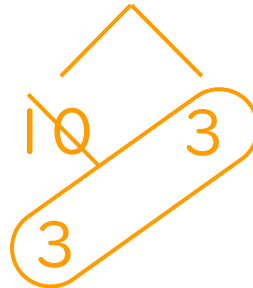
⑤ $15 - 7 = 8$



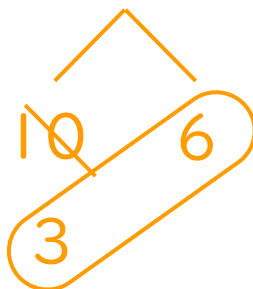
② $11 - 8 = 3$



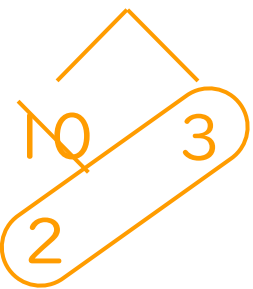
⑥ $13 - 7 = 6$




③ $16 - 7 = 9$



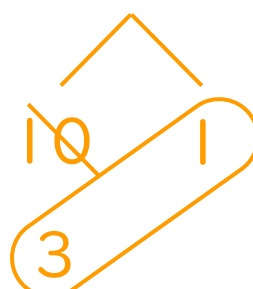
⑦ $13 - 8 = 5$



④ $17 - 8 = 9$



⑧ $11 - 7 = 4$





くりさがりのある
ひきざん 4
● くりさがりのけいさん
(7をひく)

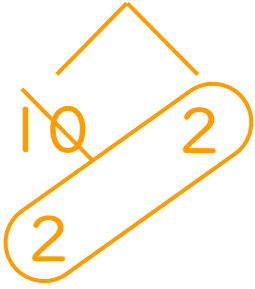
14

日にち： 月 日

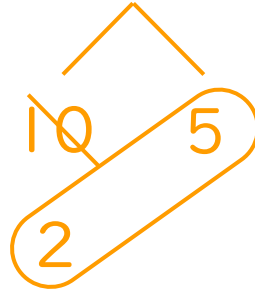
名まえ _____

・ けいさんをしましょう。

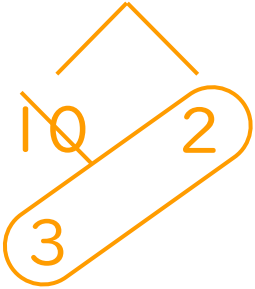
① $12 - 8 = 4$



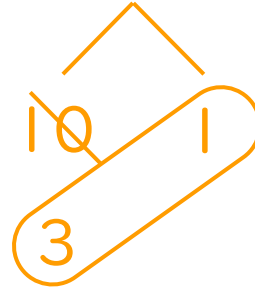
⑤ $15 - 8 = 7$



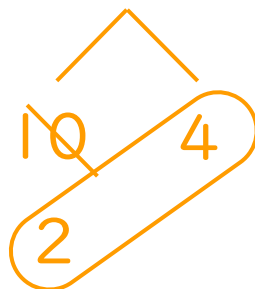
② $12 - 7 = 5$



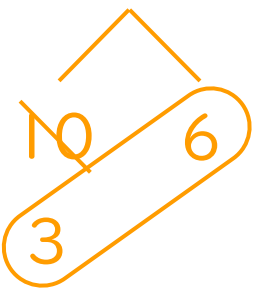
⑥ $11 - 7 = 4$



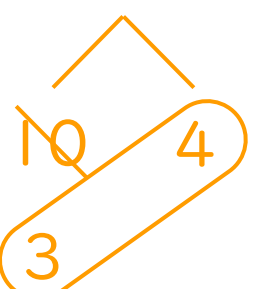
③ $14 - 8 = 6$



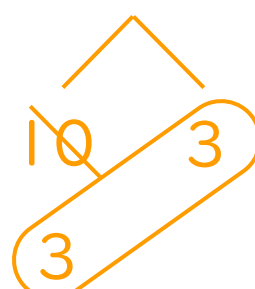
⑦ $16 - 7 = 9$



④ $14 - 7 = 7$



⑧ $13 - 7 = 6$






くりさがりのある
ひきざん 4
● くりさがりのけいさん
(7をひく)

15

めざせ80点!

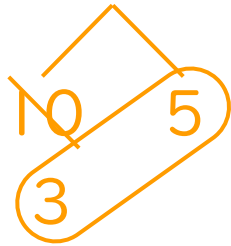


名まえ _____

・ けいさんをしましょう。(各20点)

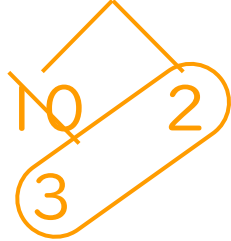
$$\textcircled{1} \quad 15 - 7 =$$

8



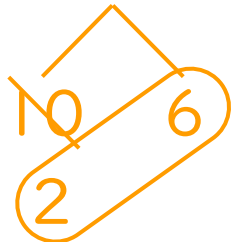
$$\textcircled{2} \quad 12 - 7 =$$

5



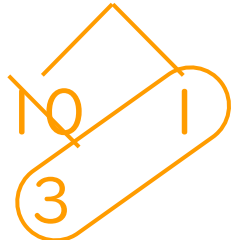
$$\textcircled{3} \quad 16 - 8 =$$

8



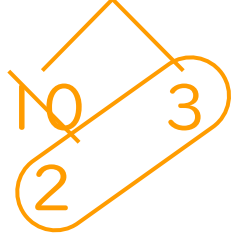
$$\textcircled{4} \quad 11 - 7 =$$

4



$$\textcircled{5} \quad 13 - 8 =$$

5






くりさがりのある
ひきざん 4
● くりさがりのけいさん
(7をひく)

16

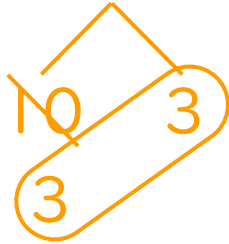
めざせ80点!



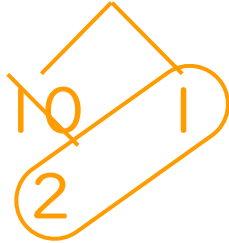
名まえ _____

・ けいさんをしましょう。(各20点)

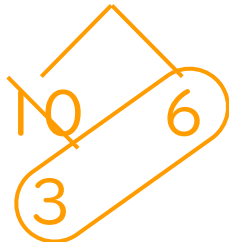
① $13 - 7 =$ 6



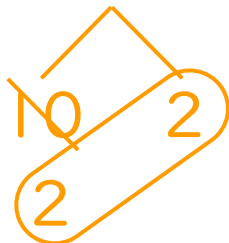
② $11 - 8 =$ 3



③ $16 - 7 =$ 9



④ $12 - 8 =$ 4



⑤ $14 - 7 =$ 7

