



くりさがりのある
ひきざん 5

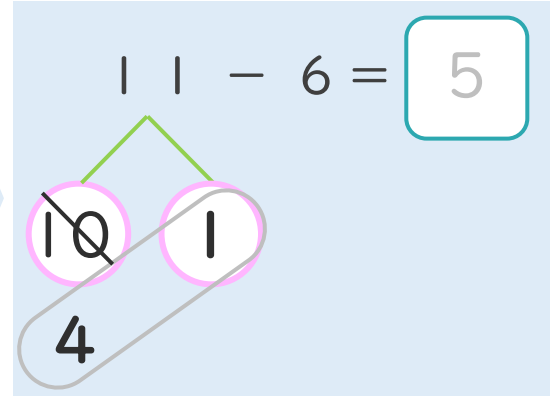
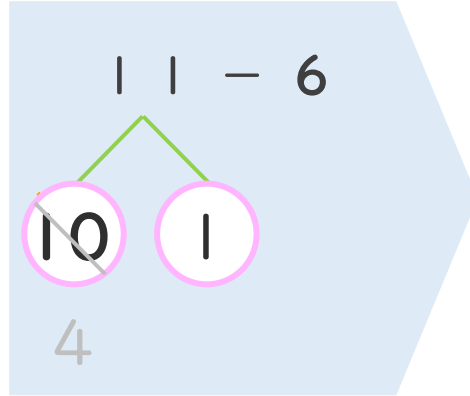
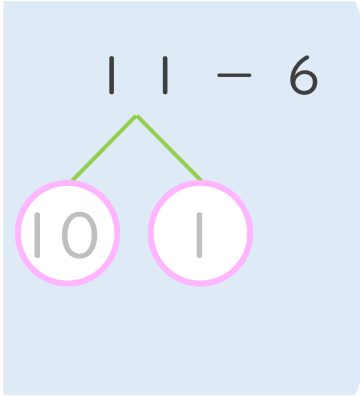
● くりさがりのけいさん
(6や5をひく)



日にち： 月 日

名まえ _____

< 11 - 6 の けいさんの しかた > (うすいじはなぞりましょう。)

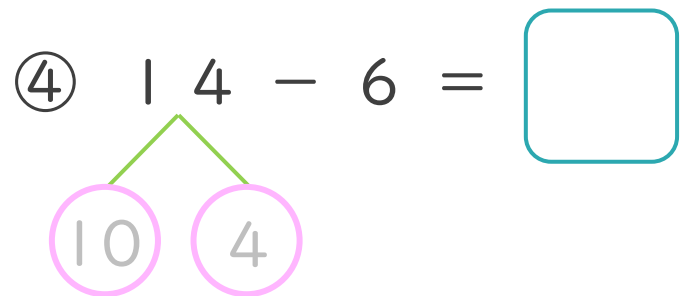
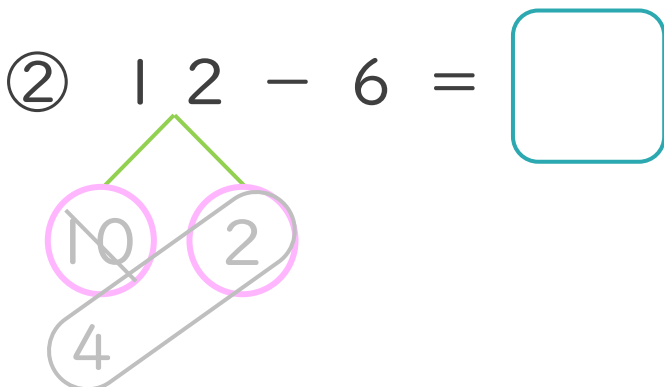
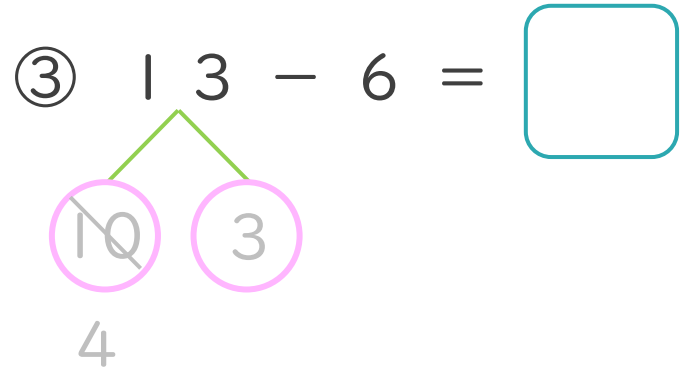
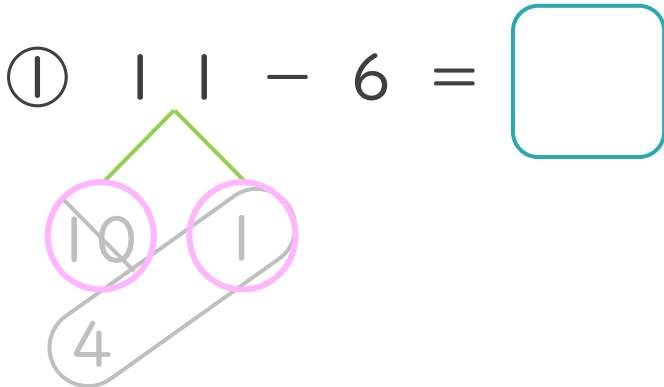


① 11を
10と1に
わけます。

② 10から6を
ひいて4。

③ 4と1で5。

・ けいさんを しましょう。(うすいじはなぞりましょう。)





くりさがりのある
ひきざん 5

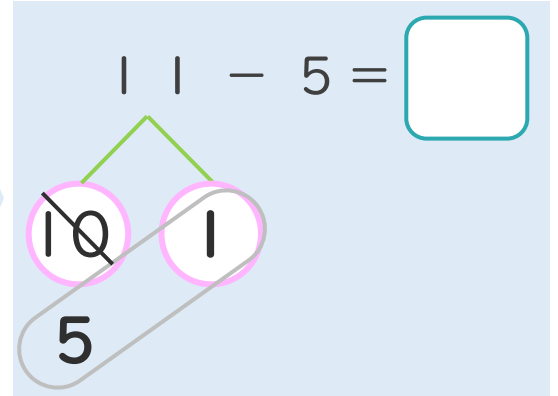
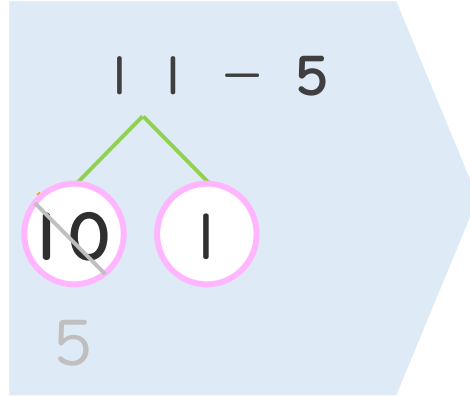
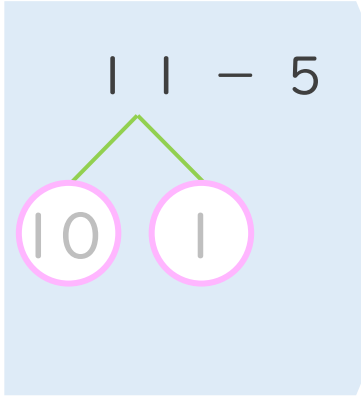
● くりさがりのけいさん
(6や5をひく)



日にち： 月 日

名まえ _____

< 11 - 5 の けいさんの しかた > (うすいじはなぞりましょう。)

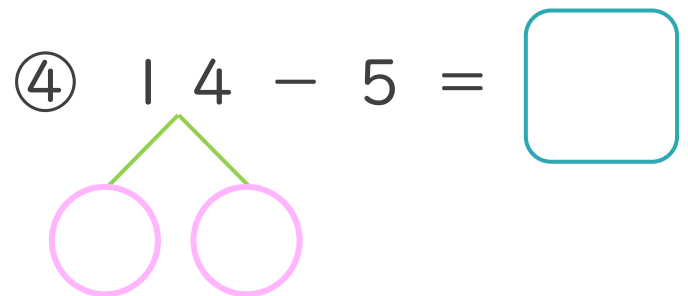
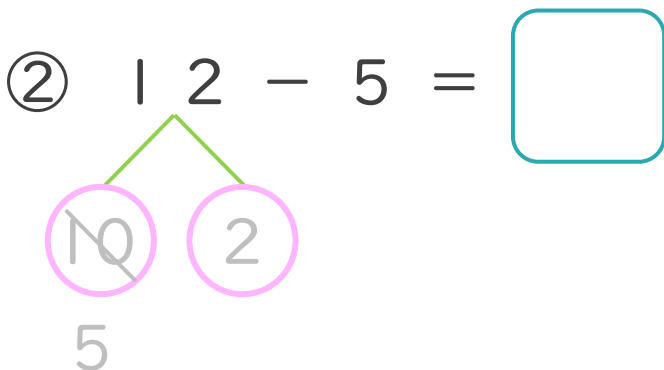
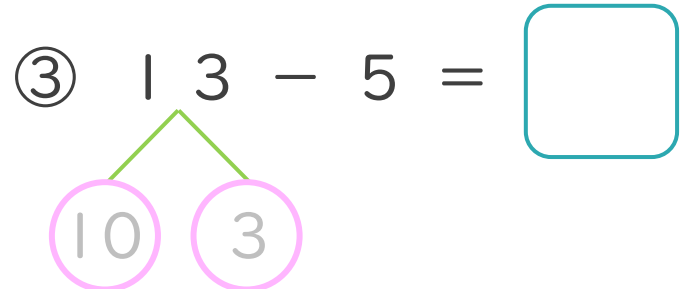
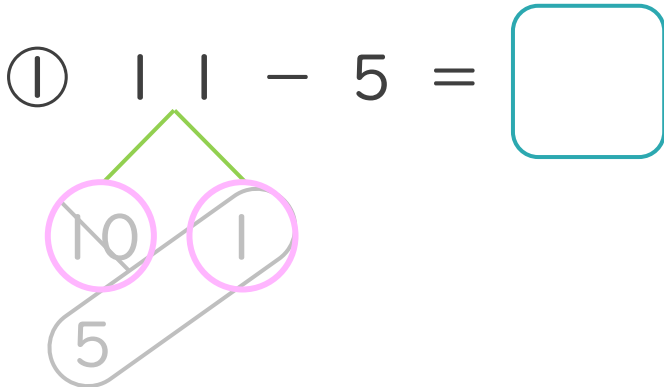


① 11を
10と1に
わけます。

② 10から5を
ひいて5。

③ 5と1で6。

・ けいさんを しましょう。(うすいじはなぞりましょう。)





くりさがりのある
ひきざん 5

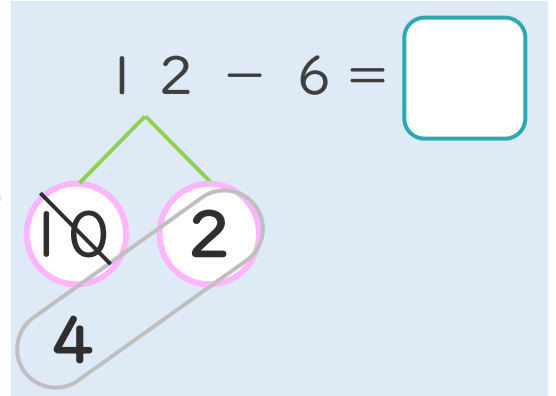
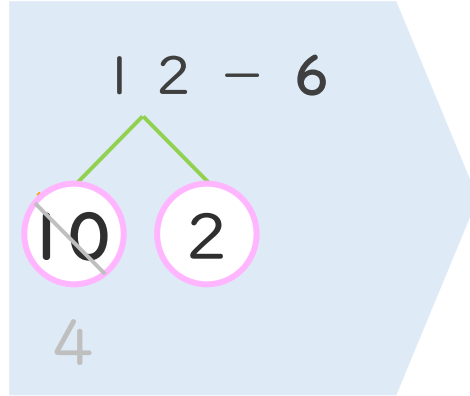
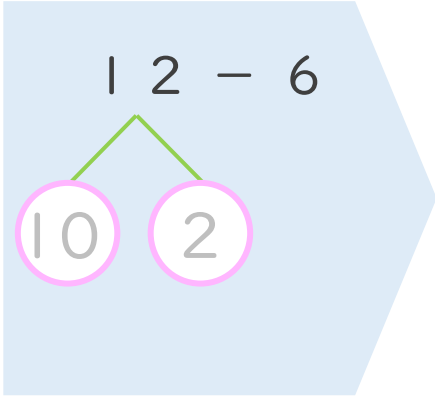
● くりさがりのけいさん
(6や5をひく)



日にち： 月 日

名まえ _____

< 12 - 6 の けいさんの しかた > (うすいじはなぞりましょう。)

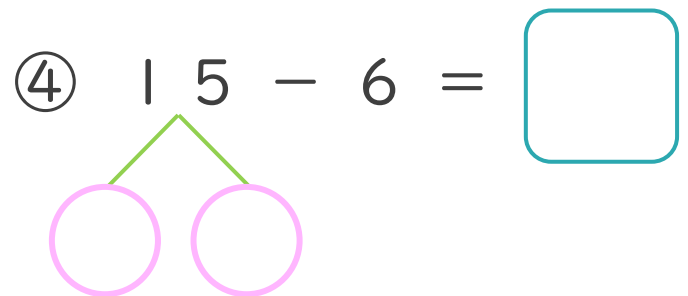
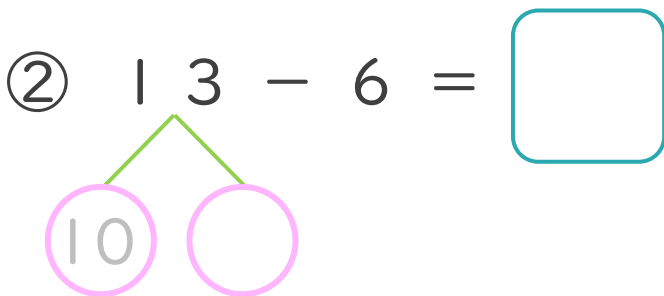
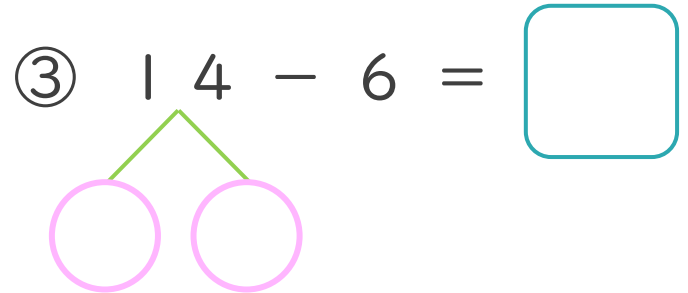
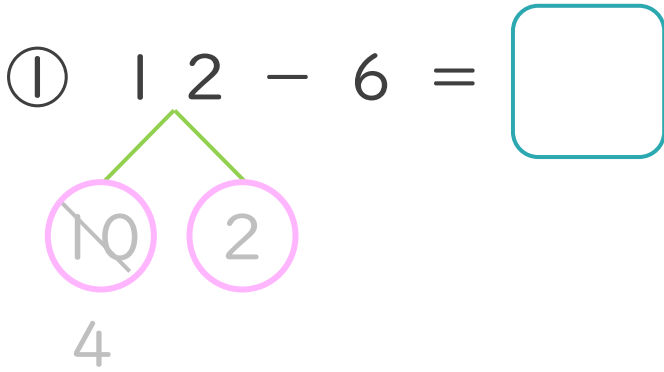


① 12を
10と2に
わけます。

② 10から6を
ひいて4。

③ 4と2で6。

・ けいさんを しましょう。(うすいじはなぞりましょう。)





くりさがりのある
ひきざん 5

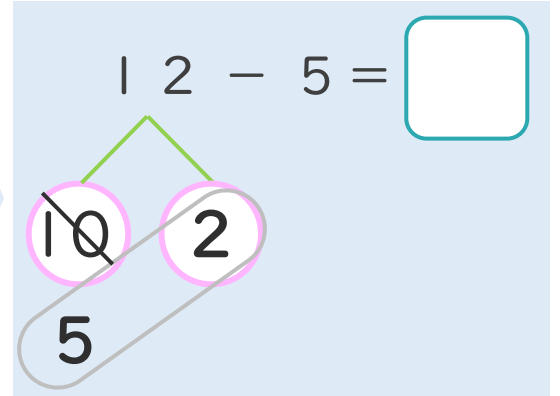
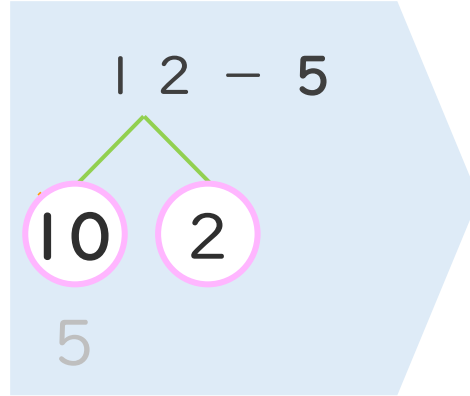
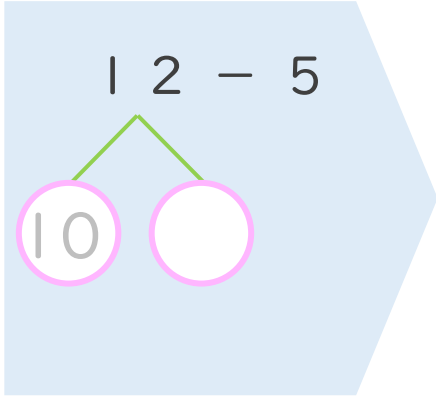
● くりさがりのけいさん
(6や5をひく)



日にち： 月 日

名まえ _____

< 12 - 5 の けいさんの しかた > (うすいじはなぞりましょう。)



① 12を
10と2に
わけます。

② 10から5を
ひいて5。

③ 5と2で7。

・ けいさんを しましょう。(うすいじはなぞりましょう。)

① $12 - 5 = \square$

③ $11 - 6 = \square$

② $13 - 5 = \square$

④ $11 - 5 = \square$





くりさがりのある
ひきざん 5

● くりさがりのけいさん
(6や5をひく)

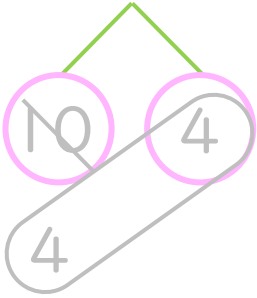


日にち： 月 日

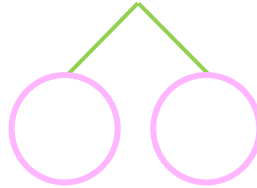
名まえ _____

・ けいさんをしましょう。(うすいじはなぞりましょう。)

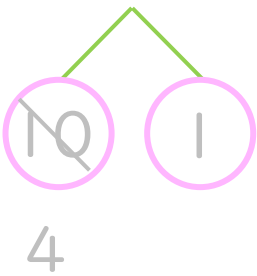
① $14 - 6 = \square$



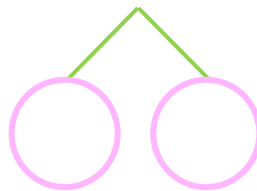
⑤ $11 - 5 = \square$



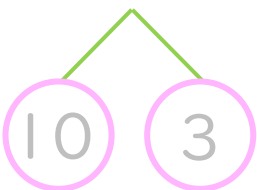
② $11 - 6 = \square$



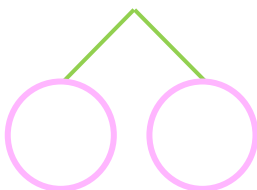
⑥ $14 - 5 = \square$



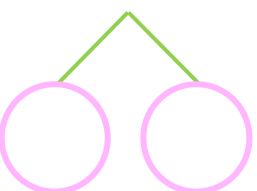
③ $13 - 6 = \square$



⑦ $13 - 5 = \square$



④ $12 - 6 = \square$



⑧ $12 - 5 = \square$





くりさがりのある
ひきざん 5

● くりさがりのけいさん
(6や5をひく)

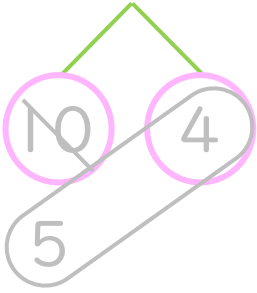


日にち： 月 日

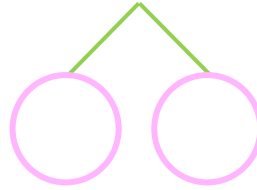
名まえ _____

・ けいさんをしましょう。(うすいじはなぞりましょう。)

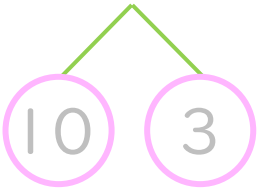
① $14 - 5 = \square$



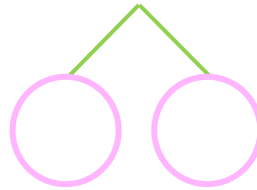
⑤ $14 - 6 = \square$



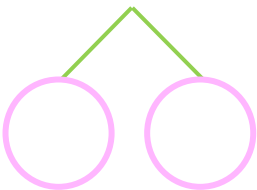
② $13 - 5 = \square$



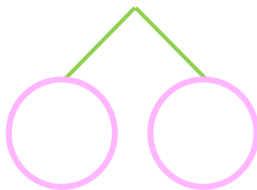
⑥ $12 - 6 = \square$



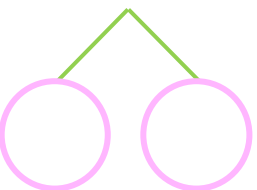
③ $11 - 5 = \square$



⑦ $13 - 6 = \square$



④ $12 - 5 = \square$



⑧ $15 - 6 = \square$





くりさがりのある
ひきざん 5

● くりさがりのけいさん
(6や5をひく)

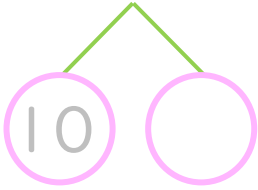


日にち： 月 日

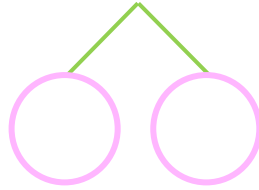
名まえ _____

・ けいさんをしましょう。(うすいじはなぞりましょう。)

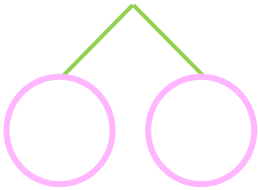
① $13 - 6 = \square$



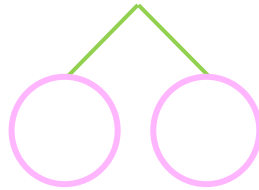
⑤ $13 - 5 = \square$



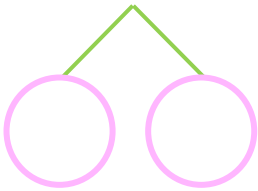
② $14 - 6 = \square$



⑥ $12 - 5 = \square$



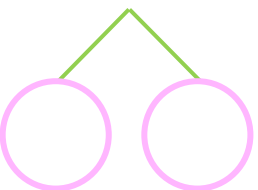
③ $11 - 6 = \square$



⑦ $14 - 5 = \square$



④ $15 - 6 = \square$



⑧ $11 - 5 = \square$





くりさがりのある
ひきざん 5

● くりさがりのけいさん
(6や5をひく)

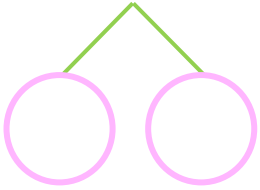


日にち： 月 日

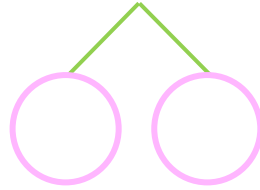
名まえ _____

・ けいさんをしましょう。

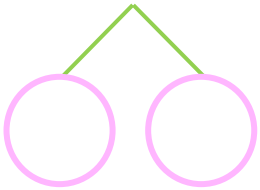
① $11 - 5 = \square$



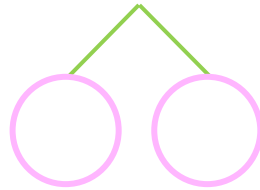
⑤ $15 - 6 = \square$



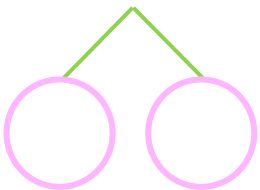
② $14 - 5 = \square$



⑥ $14 - 6 = \square$



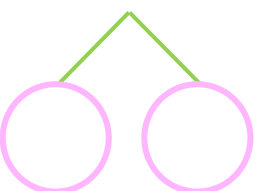
③ $12 - 5 = \square$



⑦ $12 - 6 = \square$



④ $13 - 5 = \square$



⑧ $11 - 6 = \square$





くりさがりのある
ひきざん 5

● くりさがりのけいさん
(6や5をひく)

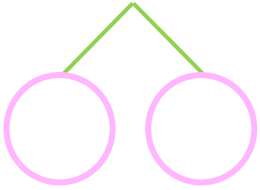


日にち： 月 日

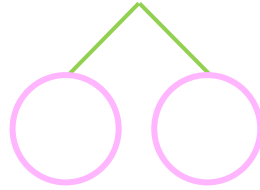
名まえ _____

・ けいさんをしましょう。

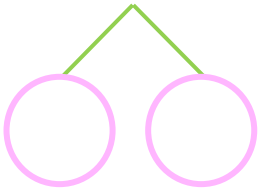
① $14 - 6 = \square$



⑤ $12 - 5 = \square$



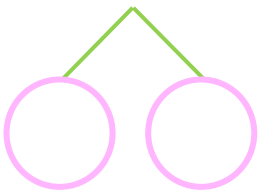
② $11 - 5 = \square$



⑥ $12 - 6 = \square$



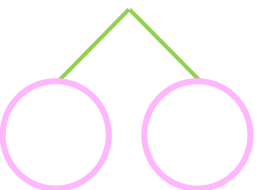
③ $13 - 5 = \square$



⑦ $15 - 6 = \square$



④ $11 - 6 = \square$



⑧ $14 - 5 = \square$





くりさがりのある
ひきざん 5

● くりさがりのけいさん
(6や5をひく)



日にち： 月 日

名まえ _____

・ けいさんをしましょう。

① $14 - 6 = \square$

⑤ $12 - 7 = \square$

② $11 - 5 = \square$

⑥ $13 - 5 = \square$

③ $15 - 7 = \square$

⑦ $12 - 6 = \square$

④ $13 - 6 = \square$

⑧ $14 - 5 = \square$



くりさがりのある
ひきざん 5

● くりさがりのけいさん
(6や5をひく)



日にち： 月 日

名まえ _____

・ けいさんをしましょう。

① $13 - 5 = \square$

⑤ $15 - 6 = \square$

② $14 - 7 = \square$

⑥ $13 - 7 = \square$

③ $12 - 6 = \square$

⑦ $11 - 5 = \square$

④ $12 - 5 = \square$

⑧ $11 - 6 = \square$



くりさがりのある
ひきざん 5

● くりさがりのけいさん
(6や5をひく)

12

日にち： 月 日

名まえ _____

・ けいさんをしましょう。

① $14 - 7 = \square$

⑤ $11 - 7 = \square$

② $15 - 6 = \square$

⑥ $13 - 6 = \square$

③ $12 - 5 = \square$

⑦ $16 - 7 = \square$

④ $14 - 6 = \square$

⑧ $11 - 5 = \square$



くりさがりのある
ひきざん 5

● くりさがりのけいさん
(6や5をひく)

13

日にち： 月 日

名まえ _____

・ けいさんをしましょう。

① $15 - 6 = \square$

⑤ $14 - 6 = \square$

② $15 - 7 = \square$

⑥ $14 - 5 = \square$

③ $11 - 7 = \square$

⑦ $11 - 6 = \square$

④ $12 - 5 = \square$

⑧ $12 - 7 = \square$



くりさがりのある
ひきざん 5

● くりさがりのけいさん
(6や5をひく)

14

日にち： 月 日

名まえ _____

・ けいさんをしましょう。

① $14 - 7 = \square$

⑤ $16 - 7 = \square$

② $12 - 6 = \square$

⑥ $13 - 6 = \square$

③ $11 - 5 = \square$

⑦ $13 - 7 = \square$

④ $11 - 6 = \square$

⑧ $13 - 5 = \square$



くりさがりのある
ひきざん 5

● くりさがりのけいさん
(6や5をひく)

15

めざせ80点!



名まえ _____

・ けいさんをしましょう。(各20点)

① $12 - 5 =$

② $11 - 6 =$

③ $16 - 7 =$

④ $13 - 6 =$

⑤ $11 - 5 =$



くりさがりのある
ひきざん 5

● くりさがりのけいさん
(6や5をひく)

16

めざせ80点!



名まえ _____

・ けいさんをしましょう。(各20点)

① $15 - 6 =$

② $13 - 7 =$

③ $14 - 5 =$

④ $13 - 5 =$

⑤ $12 - 6 =$



くりさがりのある
ひきざん 5

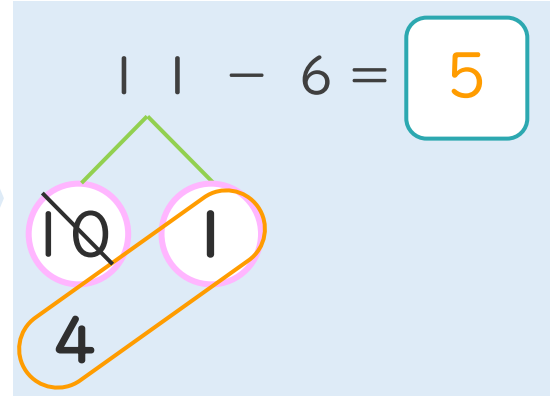
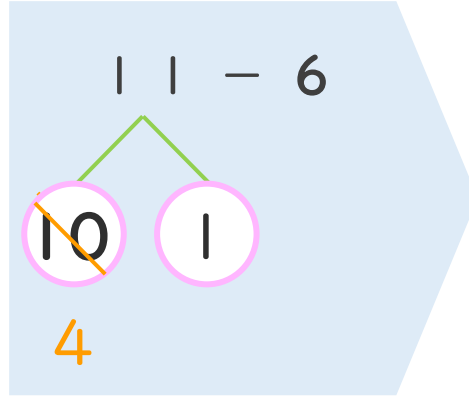
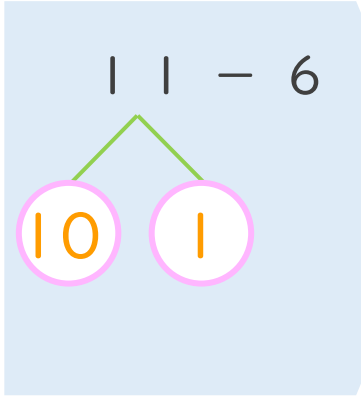
● くりさがりのけいさん
(6や5をひく)



日にち： 月 日

名まえ _____

< 11 - 6 の けいさんの しかた > (うすいじはなぞりましょう。)

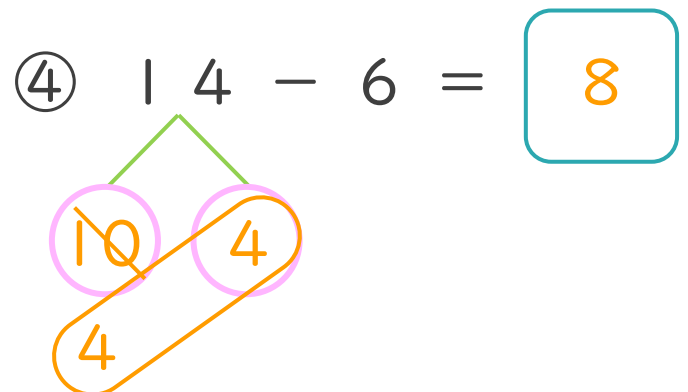
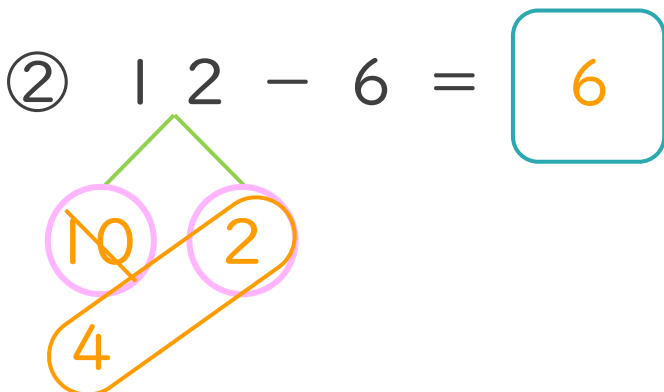
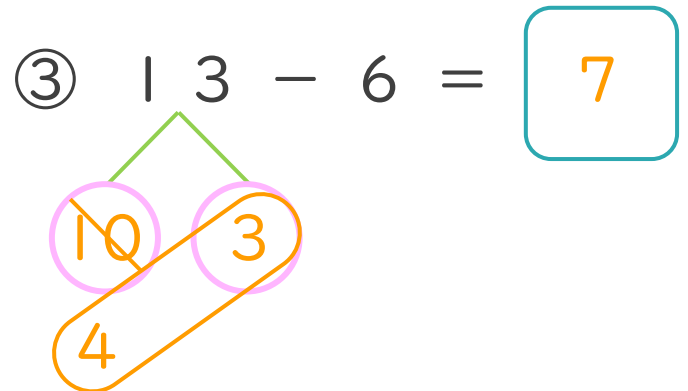
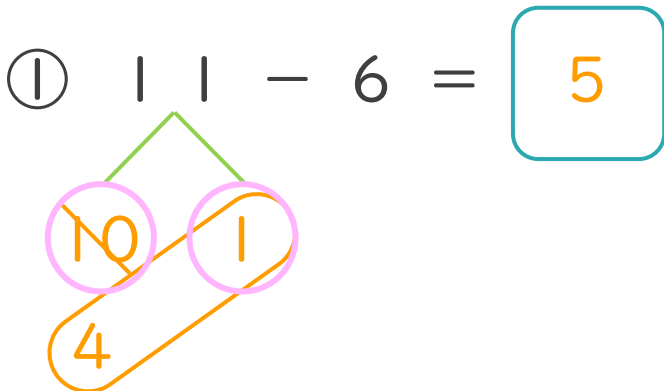


① 11を
10と1に
わけます。

② 10から6を
ひいて4。

③ 4と1で5。

・ けいさんを しましょう。(うすいじはなぞりましょう。)





くりさがりのある
ひきざん 5

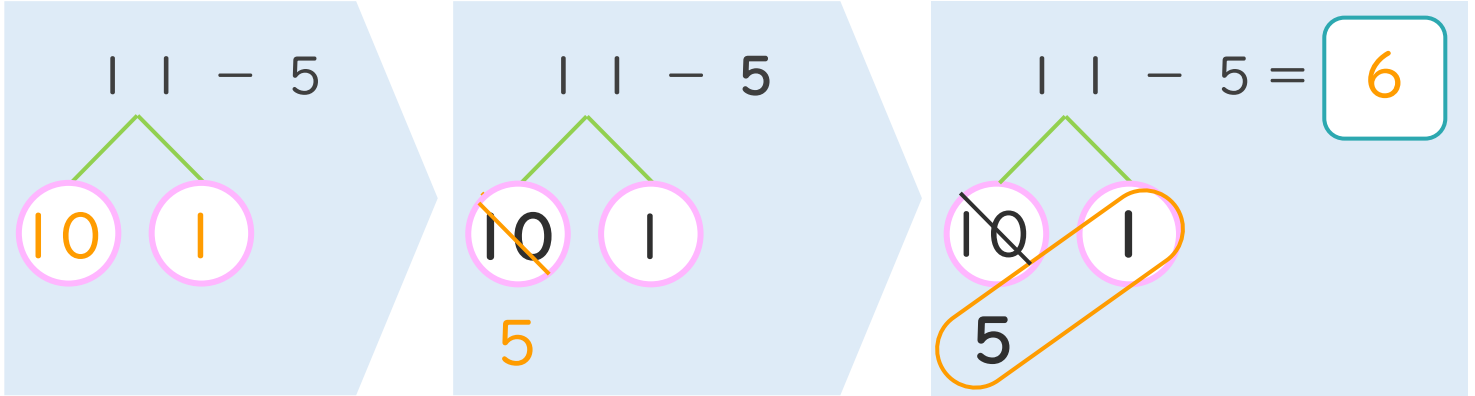
● くりさがりのけいさん
(6や5をひく)



日にち： 月 日

名まえ _____

< 11 - 5 の けいさんの しかた > (うすいじはなぞりましょう。)



- ① 11を
10と1に
わけます。
- ② 10から5を
ひいて5。
- ③ 5と1で6。

・ けいさんを しましょう。(うすいじはなぞりましょう。)

<p>① 11 - 5 = 6</p>	<p>③ 13 - 5 = 8</p>
<p>② 12 - 5 = 7</p>	<p>④ 14 - 5 = 9</p>





くりさがりのある
ひきざん 5

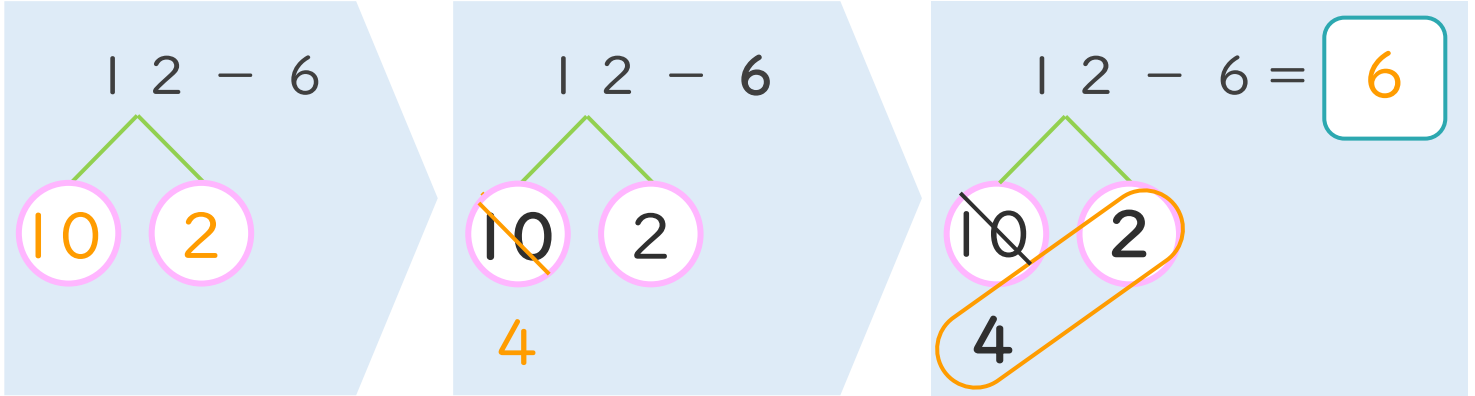
● くりさがりのけいさん
(6や5をひく)



日にち： 月 日

名まえ _____

< 12 - 6 の けいさんの しかた > (うすいじはなぞりましょう。)



- ① 12を
10と2に
わけます。
- ② 10から6を
ひいて4。
- ③ 4と2で6。

・ けいさんを しましょう。(うすいじはなぞりましょう。)

<p>① 1 2 - 6 = 6</p>	<p>③ 1 4 - 6 = 8</p>
<p>② 1 3 - 6 = 7</p>	<p>④ 1 5 - 6 = 9</p>





くりさがりのある
ひきざん 5

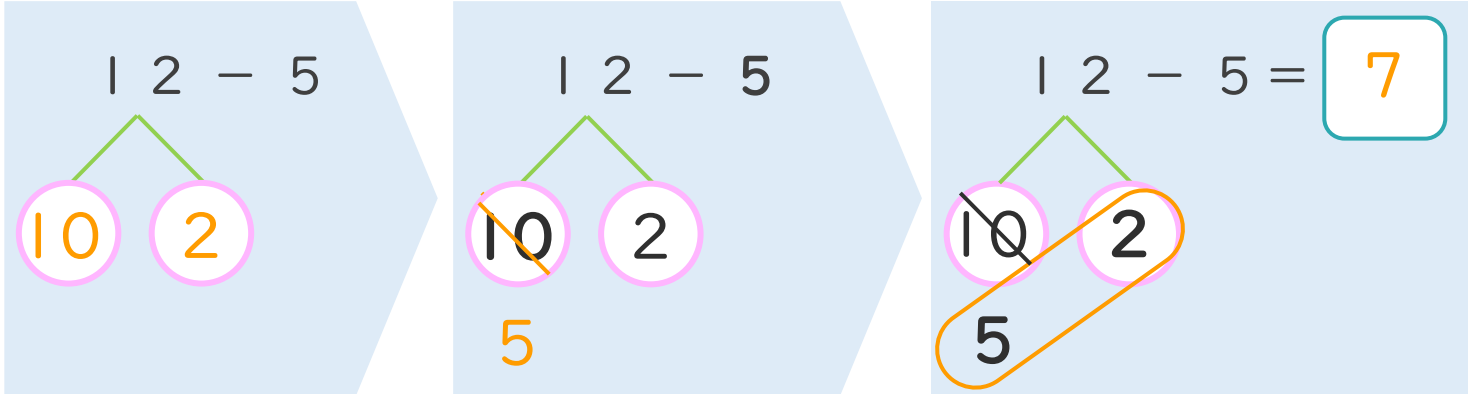
● くりさがりのけいさん
(6や5をひく)



日にち： 月 日

名まえ _____

< 12 - 5 の けいさんの しかた > (うすいじはなぞりましょう。)



- ① 12を
10と2に
わけます。
- ② 10から5を
ひいて5。
- ③ 5と2で7。

・ けいさんを しましょう。(うすいじはなぞりましょう。)

① 1 2 - 5 = 7

③ 1 1 - 6 = 5

② 1 3 - 5 = 8

④ 1 1 - 5 = 6





くりさがりのある
ひきざん 5

● くりさがりのけいさん
(6や5をひく)

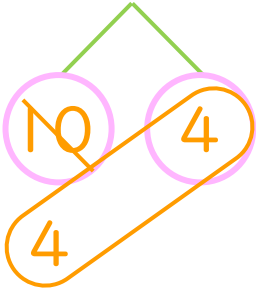


日にち： 月 日

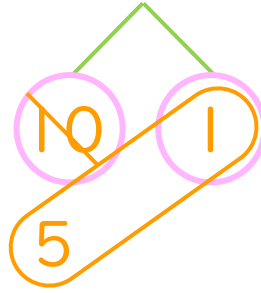
名まえ _____

・ けいさんをしましょう。(うすいじはなぞりましょう。)

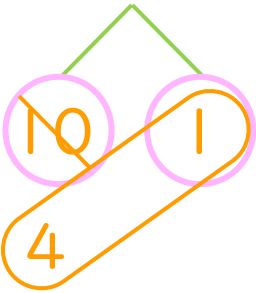
① $14 - 6 = 8$



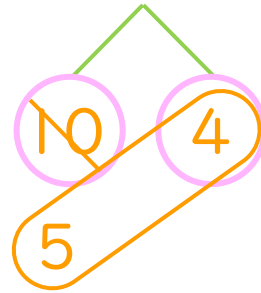
⑤ $11 - 5 = 6$



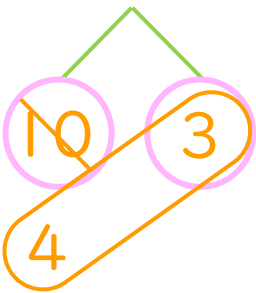
② $11 - 6 = 5$



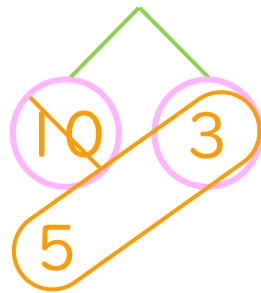
⑥ $14 - 5 = 9$



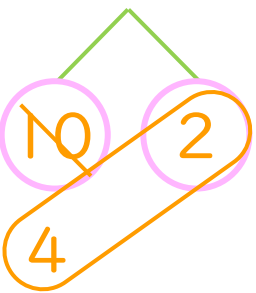
③ $13 - 6 = 7$



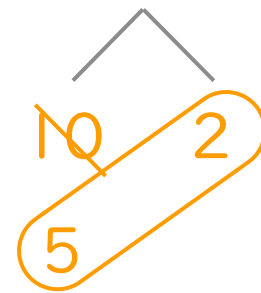
⑦ $13 - 5 = 8$



④ $12 - 6 = 6$



⑧ $12 - 5 = 7$





くりさがりのある
ひきざん 5

● くりさがりのけいさん
(6や5をひく)

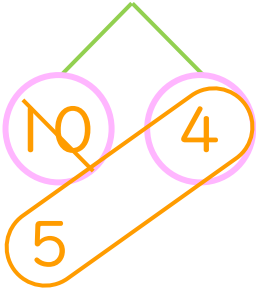


日にち： 月 日

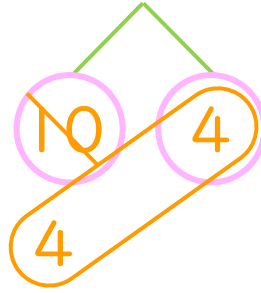
名まえ _____

・ けいさんをしましょう。(うすいじはなぞりましょう。)

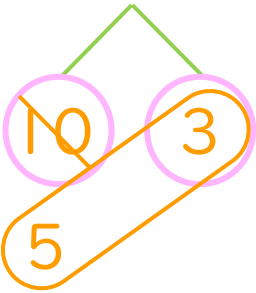
① $14 - 5 = 9$



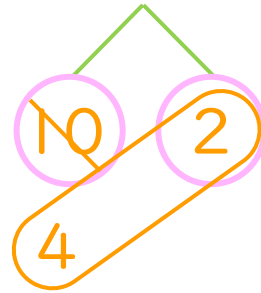
⑤ $14 - 6 = 8$



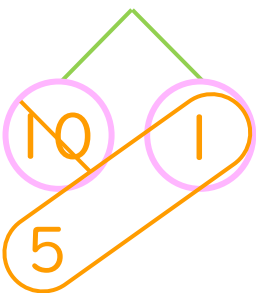
② $13 - 5 = 8$



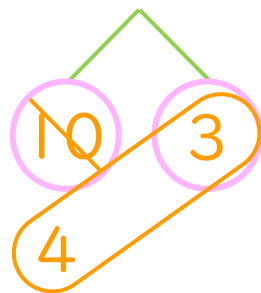
⑥ $12 - 6 = 6$



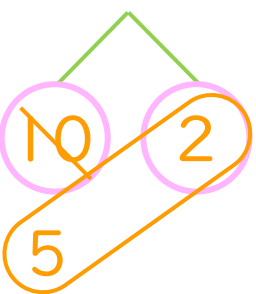
③ $11 - 5 = 6$



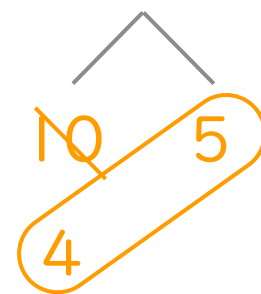
⑦ $13 - 6 = 7$



④ $12 - 5 = 7$



⑧ $15 - 6 = 9$





くりさがりのある
ひきざん 5

● くりさがりのけいさん
(6や5をひく)

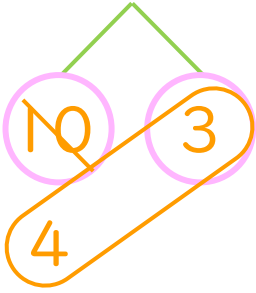


日にち： 月 日

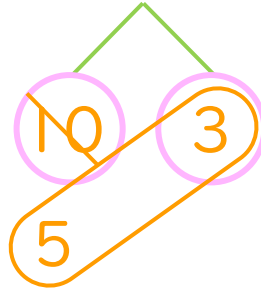
名まえ _____

・ けいさんをしましょう。(うすいじはなぞりましょう。)

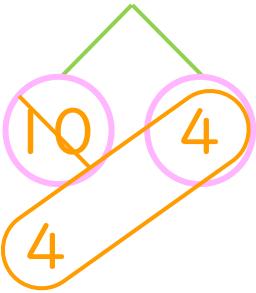
$$\textcircled{1} \quad 13 - 6 = \boxed{7}$$



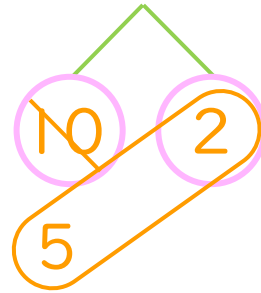
$$\textcircled{5} \quad 13 - 5 = \boxed{8}$$



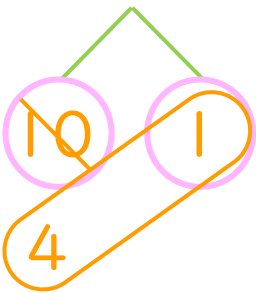
$$\textcircled{2} \quad 14 - 6 = \boxed{8}$$



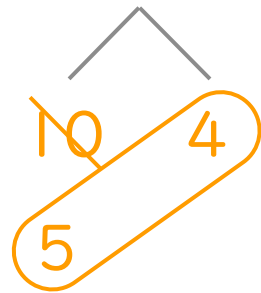
$$\textcircled{6} \quad 12 - 5 = \boxed{7}$$



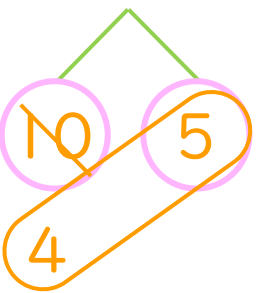
$$\textcircled{3} \quad 11 - 6 = \boxed{5}$$



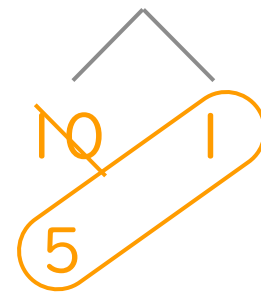
$$\textcircled{7} \quad 14 - 5 = \boxed{9}$$



$$\textcircled{4} \quad 15 - 6 = \boxed{9}$$



$$\textcircled{8} \quad 11 - 5 = \boxed{6}$$





くりさがりのある
ひきざん 5

● くりさがりのけいさん
(6や5をひく)

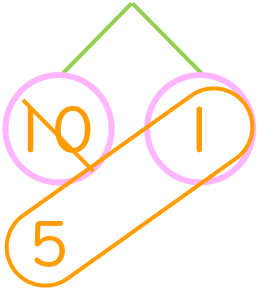


日にち： 月 日

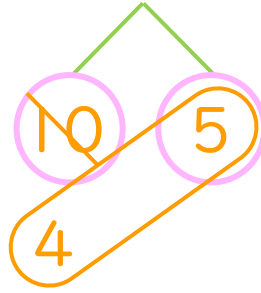
名まえ _____

・ けいさんをしましょう。

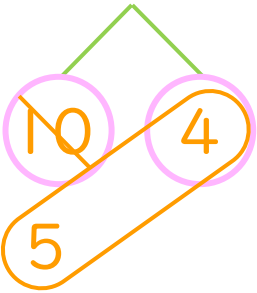
① $11 - 5 = 6$



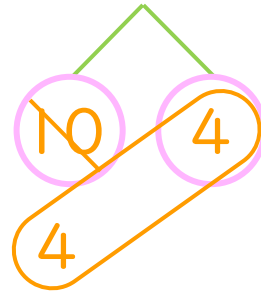
⑤ $15 - 6 = 9$



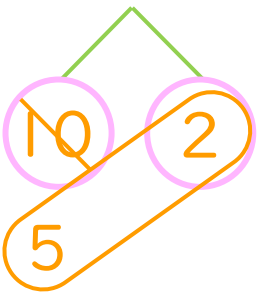
② $14 - 5 = 9$



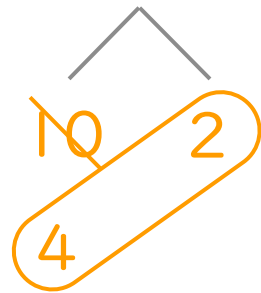
⑥ $14 - 6 = 8$



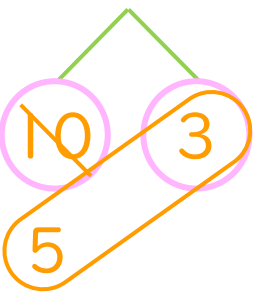
③ $12 - 5 = 7$



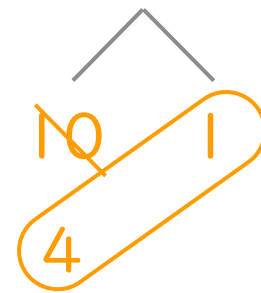
⑦ $12 - 6 = 6$



④ $13 - 5 = 8$



⑧ $11 - 6 = 5$





くりさがりのある
ひきざん 5

● くりさがりのけいさん
(6や5をひく)

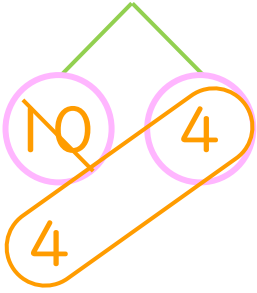


日にち： 月 日

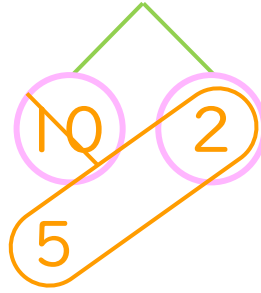
名まえ _____

・ けいさんをしましょう。

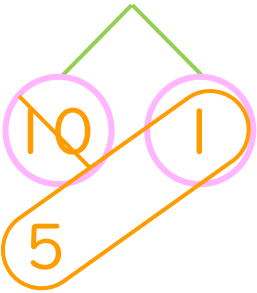
① $14 - 6 = 8$



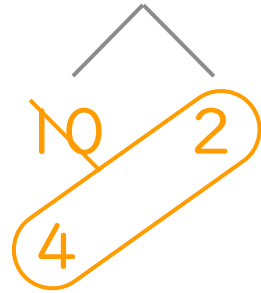
⑤ $12 - 5 = 7$



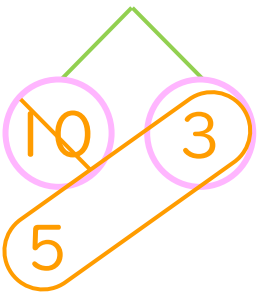
② $11 - 5 = 6$



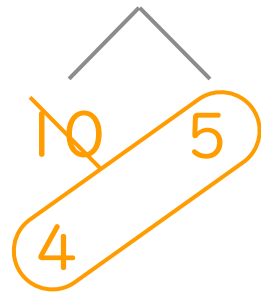
⑥ $12 - 6 = 6$



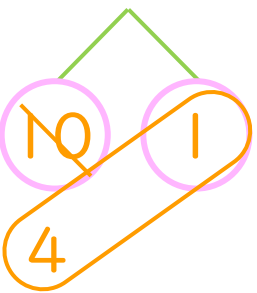
③ $13 - 5 = 8$



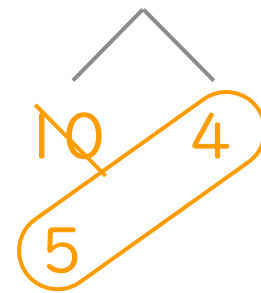
⑦ $15 - 6 = 9$



④ $11 - 6 = 5$



⑧ $14 - 5 = 9$





くりさがりのある
ひきざん 5

● くりさがりのけいさん
(6や5をひく)

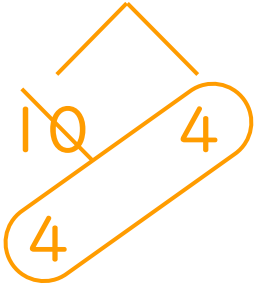


日にち： 月 日

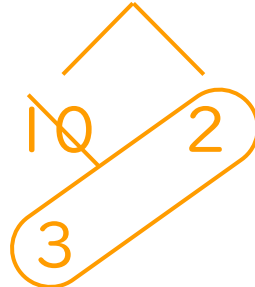
名まえ _____

・ けいさんをしましょう。

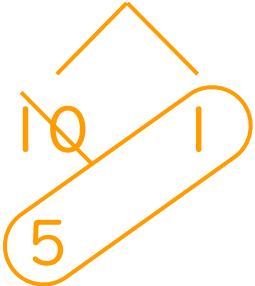
① $14 - 6 = 8$



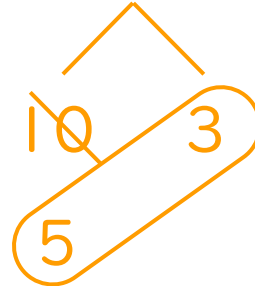
⑤ $12 - 7 = 5$



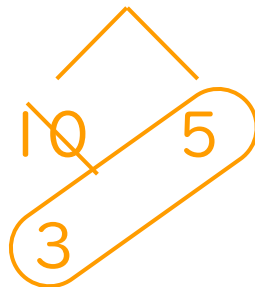
② $11 - 5 = 6$



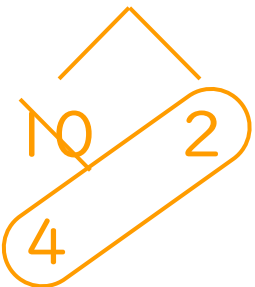
⑥ $13 - 5 = 8$



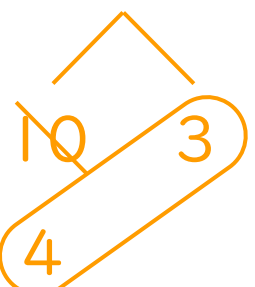
③ $15 - 7 = 8$



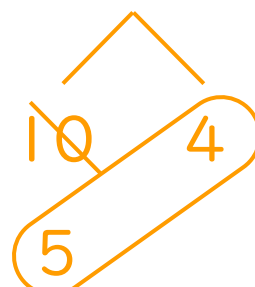
⑦ $12 - 6 = 6$



④ $13 - 6 = 7$



⑧ $14 - 5 = 9$





くりさがりのある
ひきざん 5

● くりさがりのけいさん
(6や5をひく)

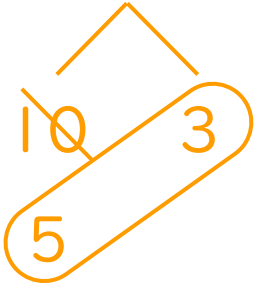


日にち： 月 日

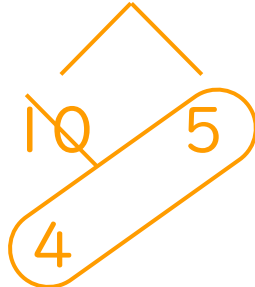
名まえ _____

・ けいさんをしましょう。

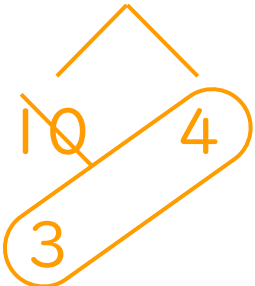
① $13 - 5 = 8$



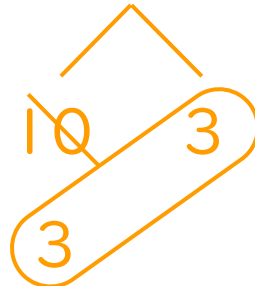
⑤ $15 - 6 = 9$



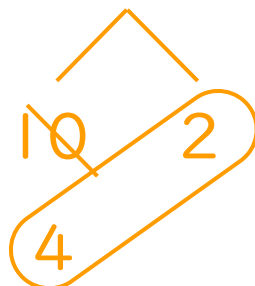
② $14 - 7 = 7$



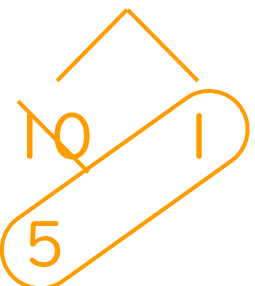
⑥ $13 - 7 = 6$



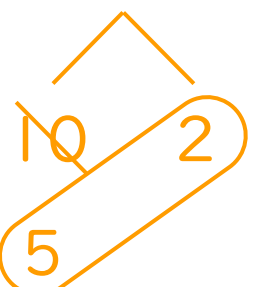
③ $12 - 6 = 6$



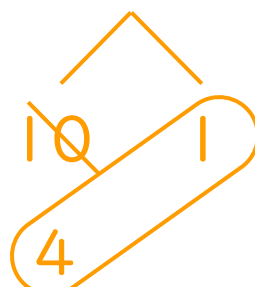
⑦ $11 - 5 = 6$



④ $12 - 5 = 7$



⑧ $11 - 6 = 5$





くりさがりのある
ひきざん 5

● くりさがりのけいさん
(6や5をひく)

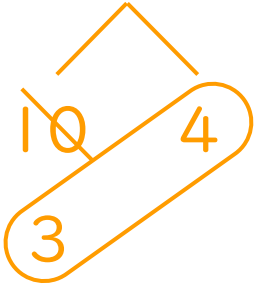
12

日にち： 月 日

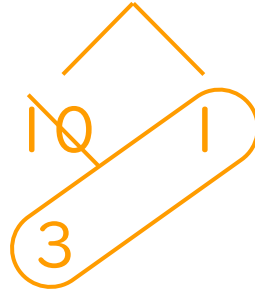
名まえ _____

・ けいさんをしましょう。

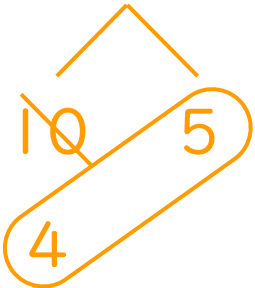
① $14 - 7 = 7$



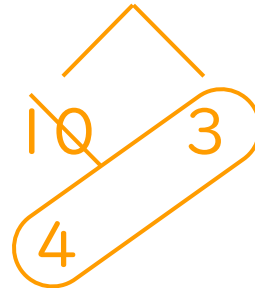
⑤ $11 - 7 = 4$



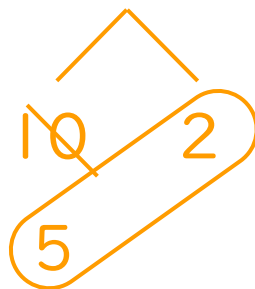
② $15 - 6 = 9$



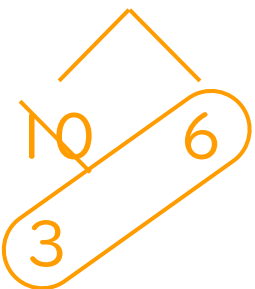
⑥ $13 - 6 = 7$



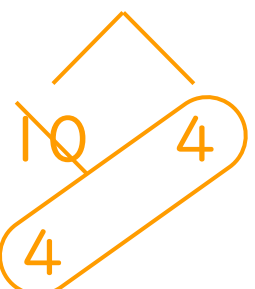
③ $12 - 5 = 7$




⑦ $16 - 7 = 9$



④ $14 - 6 = 8$



⑧ $11 - 5 = 6$





くりさがりのある
ひきざん 5

● くりさがりのけいさん
(6や5をひく)

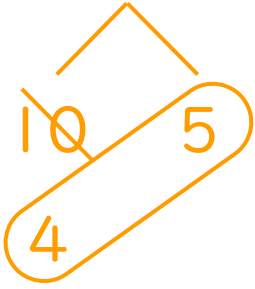
13

日にち： 月 日

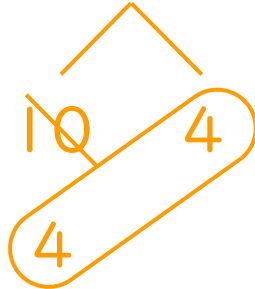
名まえ _____

・ けいさんをしましょう。

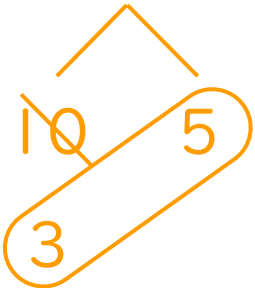
① $15 - 6 = 9$



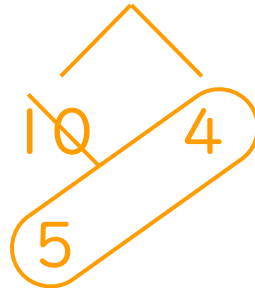
⑤ $14 - 6 = 8$



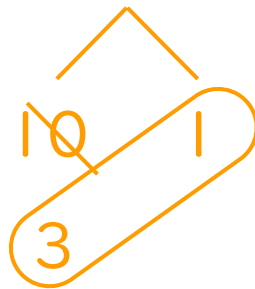
② $15 - 7 = 8$



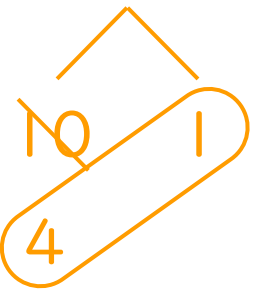
⑥ $14 - 5 = 9$



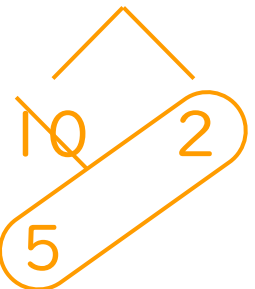
③ $11 - 7 = 4$



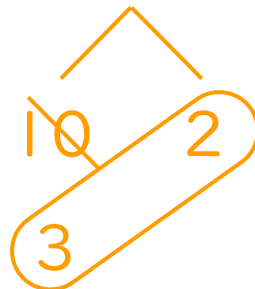
⑦ $11 - 6 = 5$



④ $12 - 5 = 7$



⑧ $12 - 7 = 5$





くりさがりのある
ひきざん 5

● くりさがりのけいさん
(6や5をひく)

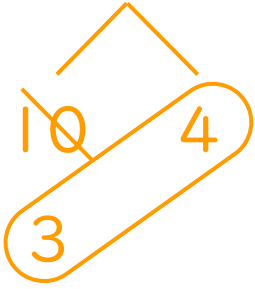
14

日にち： 月 日

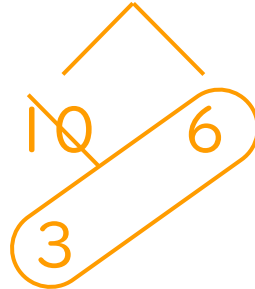
名まえ _____

・ けいさんをしましょう。

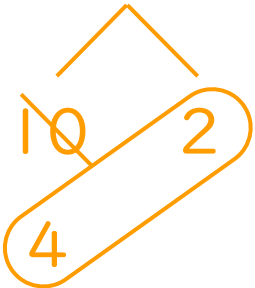
① $14 - 7 = 7$



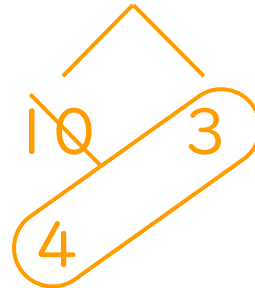
⑤ $16 - 7 = 9$



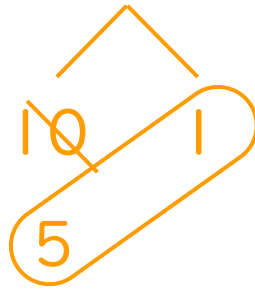
② $12 - 6 = 6$



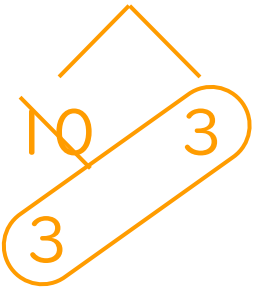
⑥ $13 - 6 = 7$



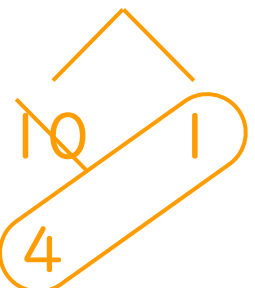
③ $11 - 5 = 6$



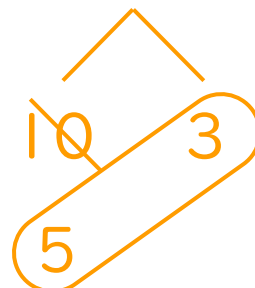
⑦ $13 - 7 = 6$



④ $11 - 6 = 5$



⑧ $13 - 5 = 8$





くりさがりのある
ひきざん 5

● くりさがりのけいさん
(6や5をひく)

15

めざせ80点!

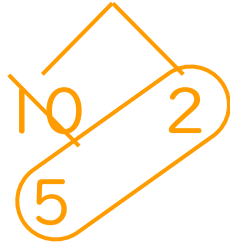


名まえ _____

・ けいさんをしましょう。(各20点)

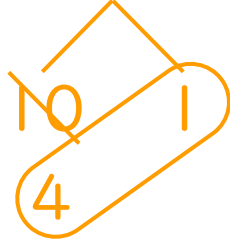
① $12 - 5 =$

7



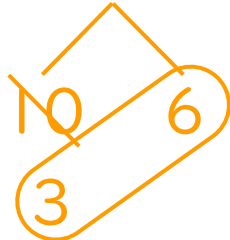
② $11 - 6 =$

5



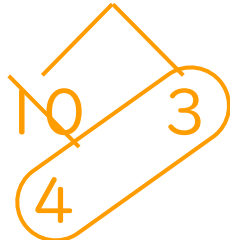
③ $16 - 7 =$

9



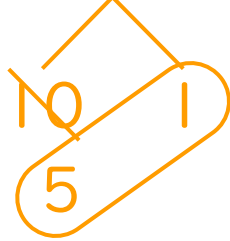
④ $13 - 6 =$

7



⑤ $11 - 5 =$

6





くりさがりのある
ひきざん 5

● くりさがりのけいさん
(6や5をひく)

16

めざせ80点!

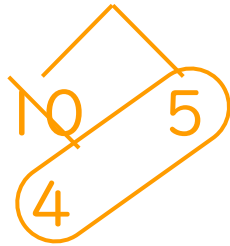


名まえ _____

・ けいさんをしましょう。(各20点)

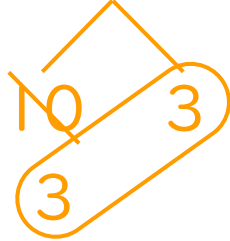
① $15 - 6 =$

9



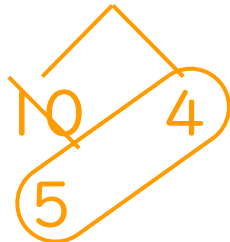
② $13 - 7 =$

6



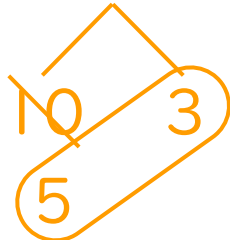
③ $14 - 5 =$

9



④ $13 - 5 =$

8



⑤ $12 - 6 =$

6

