



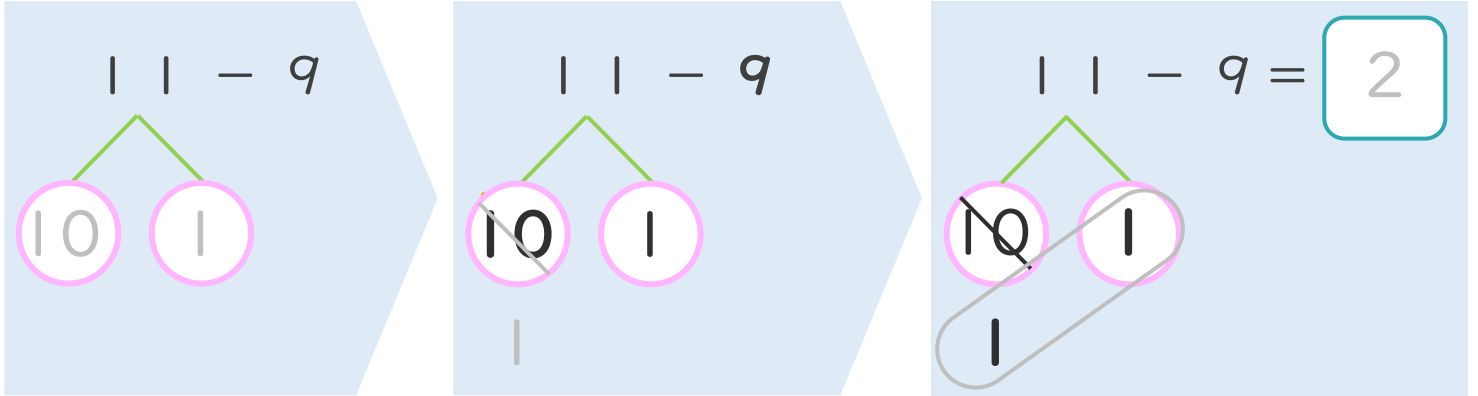
くりさがりのある  
ひきざん 2  
● くりさがりのけいさん  
(9をひく)



日にち：      月      日

名まえ \_\_\_\_\_

< 11 - 9 のけいさんのしかた > (うすいじはなぞりましょう。)



- ① 11を  
10と1に  
わけます。
- ② 10から9を  
ひいて1。
- ③ 1と1で2。

・ けいさんをしましょう。(うすいじはなぞりましょう。)

① 11 - 9 =

③ 13 - 9 =

② 12 - 9 =

④ 14 - 9 =



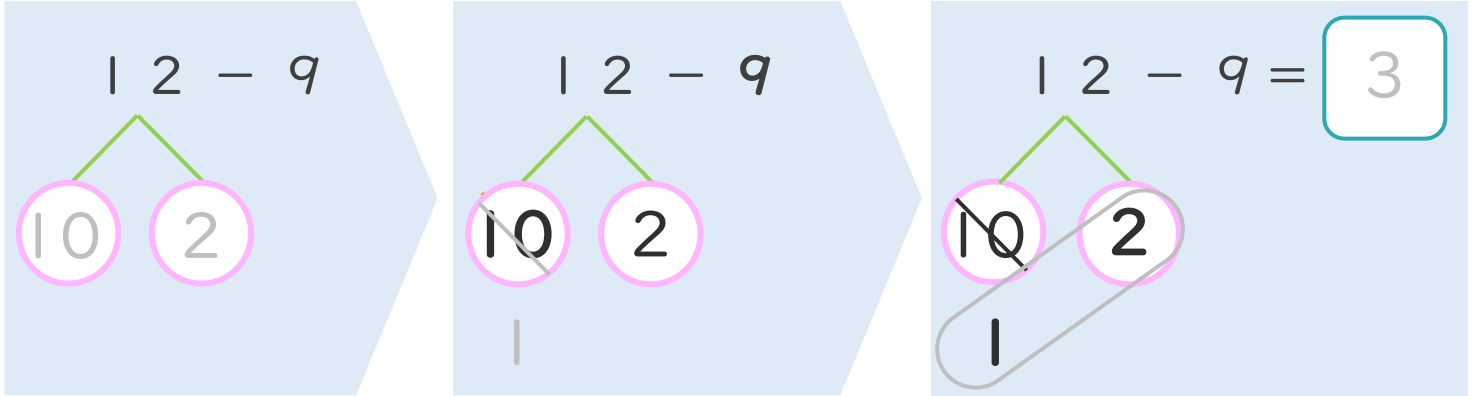
くりさがりのある  
ひきざん 2  
● くりさがりのけいさん  
(9をひく)



日にち：            月            日

名まえ \_\_\_\_\_

< 12 - 9 の けいさんの しかた > (うすいじはなぞりましょう。)



- ① 12を  
10と2に  
わけます。
- ② 10から9を  
ひいて1。
- ③ 1と2で3。

・ けいさんをしましょう。(うすいじはなぞりましょう。)

①  $12 - 9 = \boxed{3}$

③  $14 - 9 = \boxed{\quad}$

②  $13 - 9 = \boxed{\quad}$

④  $15 - 9 = \boxed{\quad}$



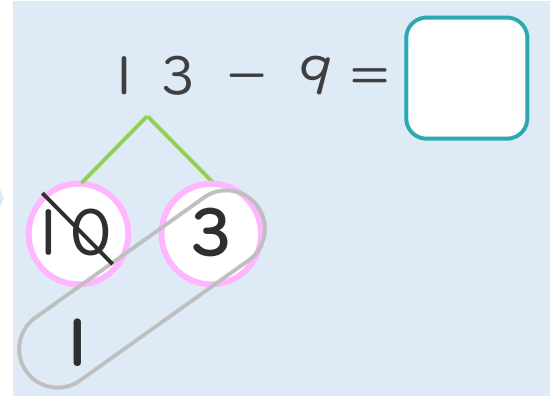
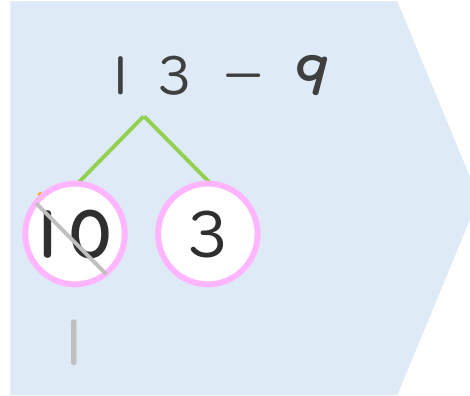
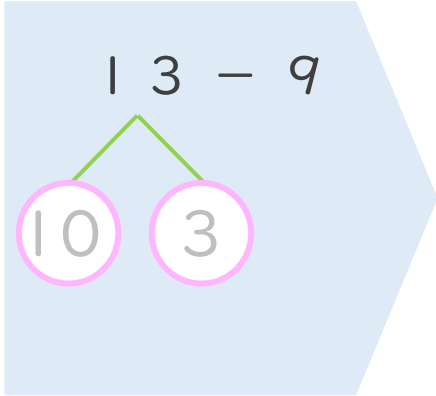
くりさがりのある  
ひきざん 2  
● くりさがりのけいさん  
(9をひく)



日にち： 月 日

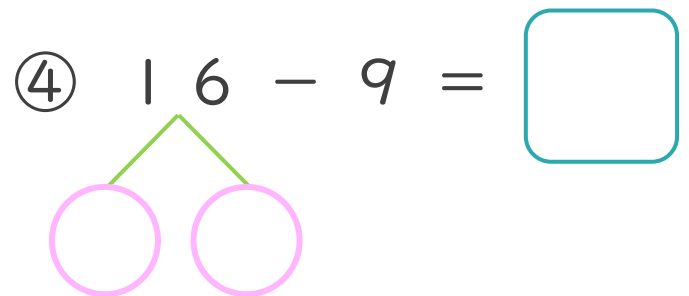
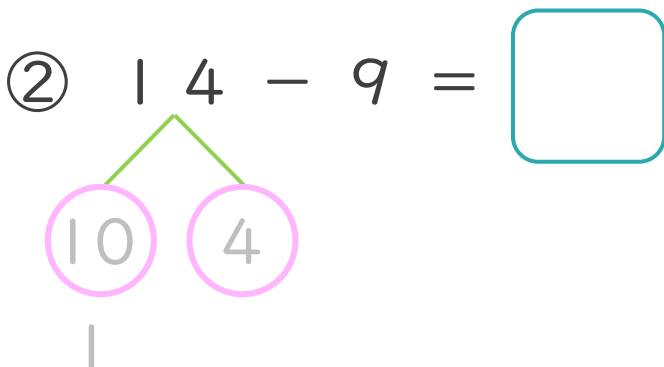
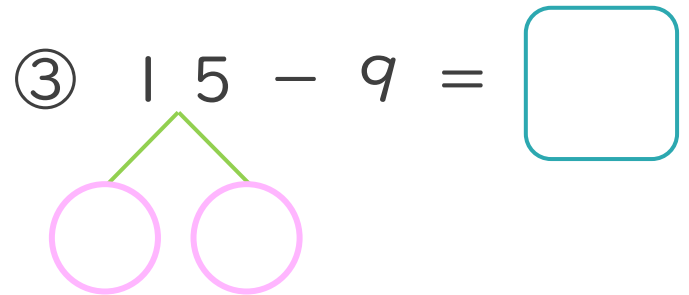
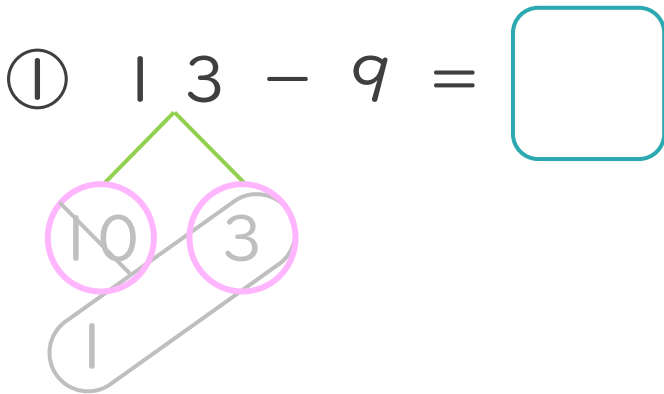
名まえ \_\_\_\_\_

< 13 - 9 のけいさんのしかた > (うすいじはなぞりましょう。)



- ① 13を  
10と3に  
わけます。
- ② 10から9を  
ひいて1。
- ③ 1と3で4。

・ けいさんをしましょう。(うすいじはなぞりましょう。)





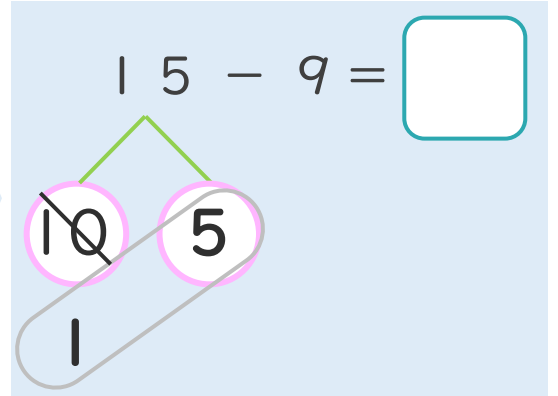
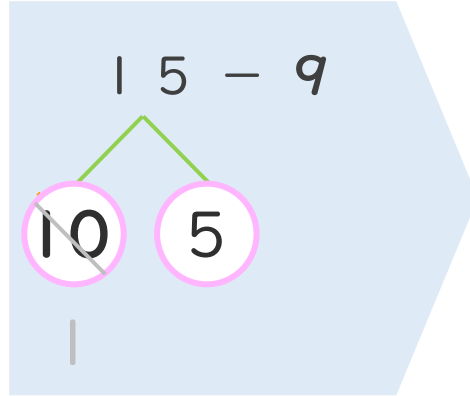
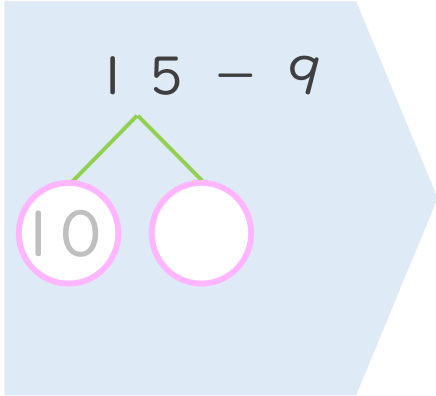
くりさがりのある  
ひきざん 2  
● くりさがりのけいさん  
(9をひく)

4

日にち： 月 日

名まえ \_\_\_\_\_

< 15 - 9 のけいさんのしかた > (うすいじはなぞりましょう。)

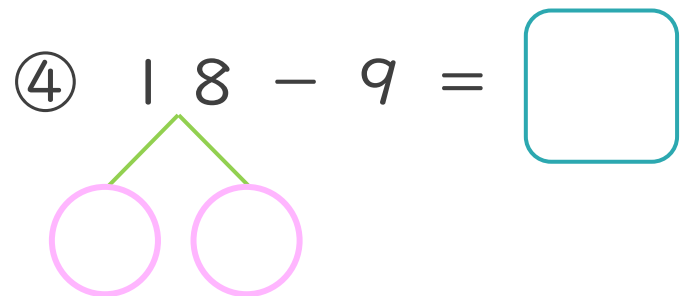
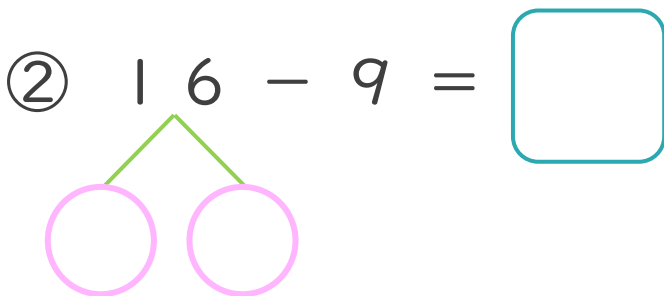
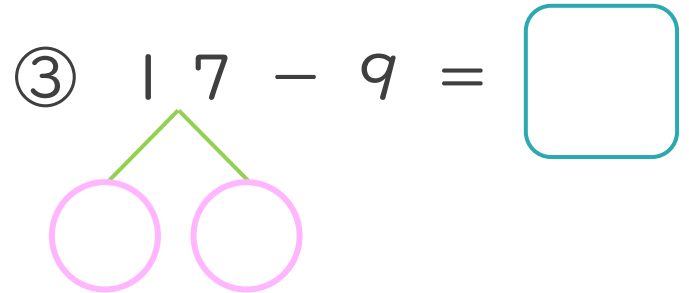
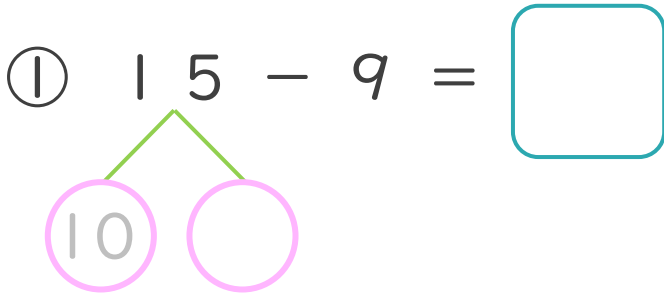


① 15を  
10と5に  
わけます。

② 10から9を  
ひいて1。

③ 1と5で6。

・ けいさんをしましょう。(うすいじはなぞりましょう。)





くりさがりのある  
ひきざん 2  
● くりさがりのけいさん  
(9をひく)

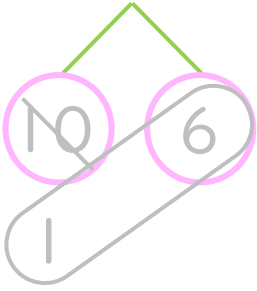


日にち：      月      日

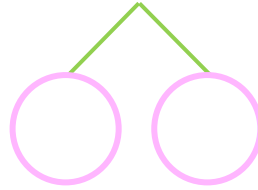
名まえ \_\_\_\_\_

・ けいさんをしましょう。(うすいじはなぞりましょう。)

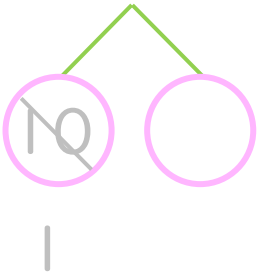
①  $16 - 9 = \square$



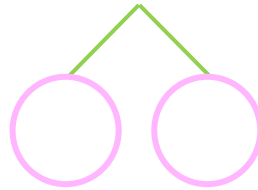
⑤  $11 - 9 = \square$



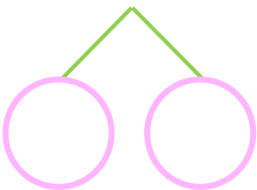
②  $18 - 9 = \square$



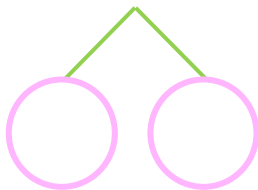
⑥  $14 - 9 = \square$



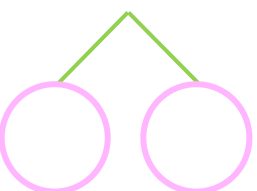
③  $13 - 9 = \square$



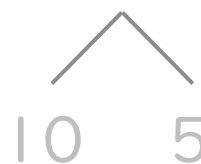
⑦  $17 - 9 = \square$



④  $12 - 9 = \square$



⑧  $15 - 9 = \square$





くりさがりのある  
ひきざん 2

● くりさがりのけいさん  
(9をひく)



日にち：            月            日

名まえ \_\_\_\_\_

・ けいさんをしましょう。(うすいじはなぞりましょう。)

①  $11 - 9 = \square$

10 1

⑤  $18 - 9 = \square$

②  $15 - 9 = \square$

⑥  $12 - 9 = \square$

③  $14 - 9 = \square$

⑦  $13 - 9 = \square$

④  $17 - 9 = \square$

⑧  $16 - 9 = \square$



くりさがりのある  
ひきざん 2

● くりさがりのけいさん  
(9をひく)

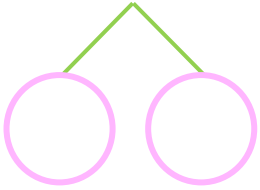


日にち：            月            日

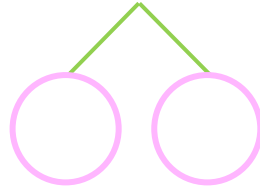
名まえ \_\_\_\_\_

・ けいさんをしましょう。

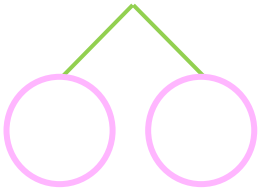
①  $14 - 9 = \square$



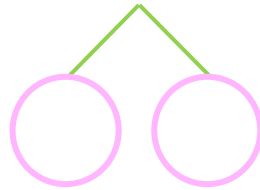
⑤  $12 - 9 = \square$



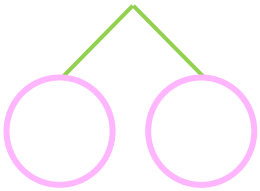
②  $13 - 9 = \square$



⑥  $16 - 9 = \square$



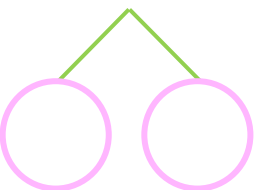
③  $15 - 9 = \square$



⑦  $17 - 9 = \square$



④  $11 - 9 = \square$



⑧  $12 - 9 = \square$





くりさがりのある  
ひきざん 2

● くりさがりのけいさん  
(9をひく)

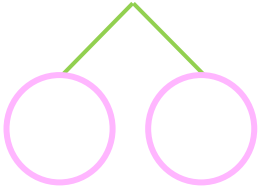


日にち：            月            日

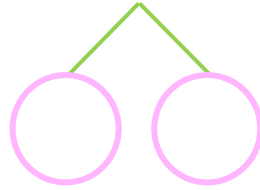
名まえ \_\_\_\_\_

・ けいさんをしましょう。

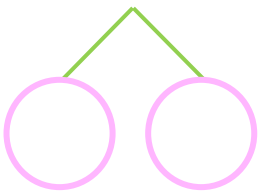
①  $16 - 9 = \square$



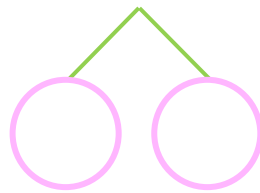
⑤  $13 - 9 = \square$



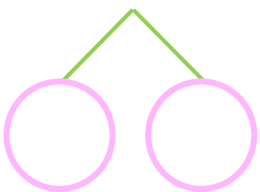
②  $11 - 9 = \square$



⑥  $12 - 9 = \square$



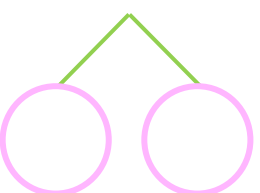
③  $13 - 9 = \square$



⑦  $18 - 9 = \square$



④  $15 - 9 = \square$



⑧  $14 - 9 = \square$







くりさがりのある  
ひきざん 2

くりさがりのけいさん  
(9をひく)



日にち： 月 日

名まえ \_\_\_\_\_

・ けいさんをしましょう。

①  $11 - 9 = \square$

⑤  $14 - 9 = \square$

②  $16 - 9 = \square$

⑥  $17 - 9 = \square$

③  $12 - 9 = \square$

⑦  $15 - 9 = \square$

④  $18 - 9 = \square$

⑧  $13 - 9 = \square$



くりさがりのある  
ひきざん 2

● くりさがりのけいさん  
(9をひく)

10

日にち：            月            日

名まえ \_\_\_\_\_

・ けいさんをしましょう。

①  $17 - 9 = \square$

⑤  $12 - 9 = \square$

②  $11 - 9 = \square$

⑥  $15 - 9 = \square$

③  $14 - 9 = \square$

⑦  $18 - 9 = \square$

④  $13 - 9 = \square$

⑧  $16 - 9 = \square$



くりさがりのある  
ひきざん 2

● くりさがりのけいさん  
(9をひく)



日にち： 月 日

名まえ \_\_\_\_\_

・ けいさんをしましょう。

①  $11 - 9 = \square$

⑤  $18 - 9 = \square$

②  $17 - 9 = \square$

⑥  $12 - 9 = \square$

③  $16 - 9 = \square$

⑦  $15 - 9 = \square$

④  $14 - 9 = \square$

⑧  $13 - 9 = \square$



くりさがりのある  
ひきざん 2

● くりさがりのけいさん  
(9をひく)

12

日にち：            月            日

名まえ \_\_\_\_\_

・ けいさんをしましょう。

①  $18 - 9 =$

⑤  $11 - 9 =$

②  $15 - 9 =$

⑥  $17 - 9 =$

③  $12 - 9 =$

⑦  $16 - 9 =$

④  $13 - 9 =$

⑧  $14 - 9 =$



くりさがりのある  
ひきざん 2

● くりさがりの けいさん  
(9 をひく)

13

日にち：            月            日

名まえ \_\_\_\_\_

・ けいさんをしましょう。

①  $13 - 9 = \square$

⑤  $16 - 9 = \square$

②  $11 - 9 = \square$

⑥  $12 - 9 = \square$

③  $17 - 9 = \square$

⑦  $14 - 9 = \square$

④  $15 - 9 = \square$

⑧  $18 - 9 = \square$



くりさがりのある  
ひきざん 2

● くりさがりの けいさん  
(9 をひく)

14

日にち：            月            日

名まえ \_\_\_\_\_

・ けいさんをしましょう。

①  $17 - 9 = \square$

⑤  $14 - 9 = \square$

②  $13 - 9 = \square$

⑥  $18 - 9 = \square$

③  $16 - 9 = \square$

⑦  $12 - 9 = \square$

④  $11 - 9 = \square$

⑧  $15 - 9 = \square$



くりさがりのある  
ひきざん 2

● くりさがりの けいさん  
(9 をひく)

15

めざせ80点!



名まえ \_\_\_\_\_

・ けいさんをしましょう。(各20点)

①  $15 - 9 =$

②  $12 - 9 =$

③  $18 - 9 =$

④  $11 - 9 =$

⑤  $14 - 9 =$




くりさがりのある  
ひきざん 2

● くりさがりの けいさん  
(9 をひく)

16

めざせ80点!



名まえ \_\_\_\_\_

・ けいさんをしましょう。(各20点)

①  $18 - 9 =$

②  $16 - 9 =$

③  $13 - 9 =$

④  $17 - 9 =$

⑤  $11 - 9 =$





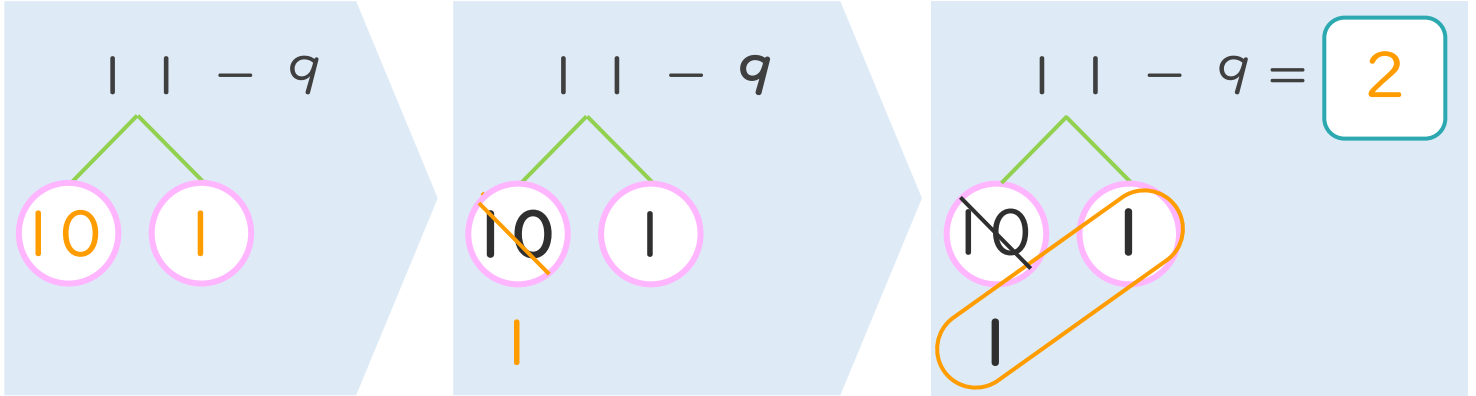
くりさがりのある  
ひきざん 2  
● くりさがりのけいさん  
(9をひく)



日にち：            月            日

名まえ \_\_\_\_\_

< 11 - 9 の けいさんの しかた > (うすいじはなぞりましょう。)



- ① 11を  
10と1に  
わけます。
- ② 10から9を  
ひいて1。
- ③ 1と1で2。

・ けいさんをしましょう。(うすいじはなぞりましょう。)

①  $11 - 9 = 2$

②  $12 - 9 = 3$

③  $13 - 9 = 4$

④  $14 - 9 = 5$





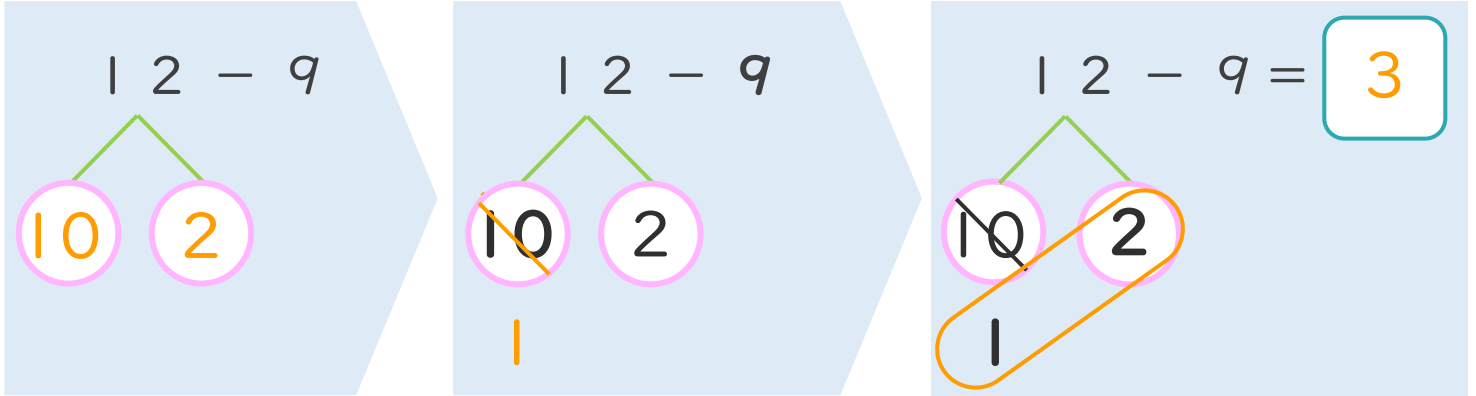
くりさがりのある  
ひきざん 2  
くりさがりのけいさん  
(9をひく)



日にち： 月 日

名まえ \_\_\_\_\_

< 12 - 9 のけいさんのしかた > (うすいじはなぞりましょう。)



- ① 12を  
10と2に  
わけます。
- ② 10から9を  
ひいて1。
- ③ 1と2で3。

・ けいさんをしましょう。(うすいじはなぞりましょう。)

<p>① <math>12 - 9 = 3</math></p>	<p>③ <math>14 - 9 = 5</math></p>
<p>② <math>13 - 9 = 4</math></p>	<p>④ <math>15 - 9 = 6</math></p>



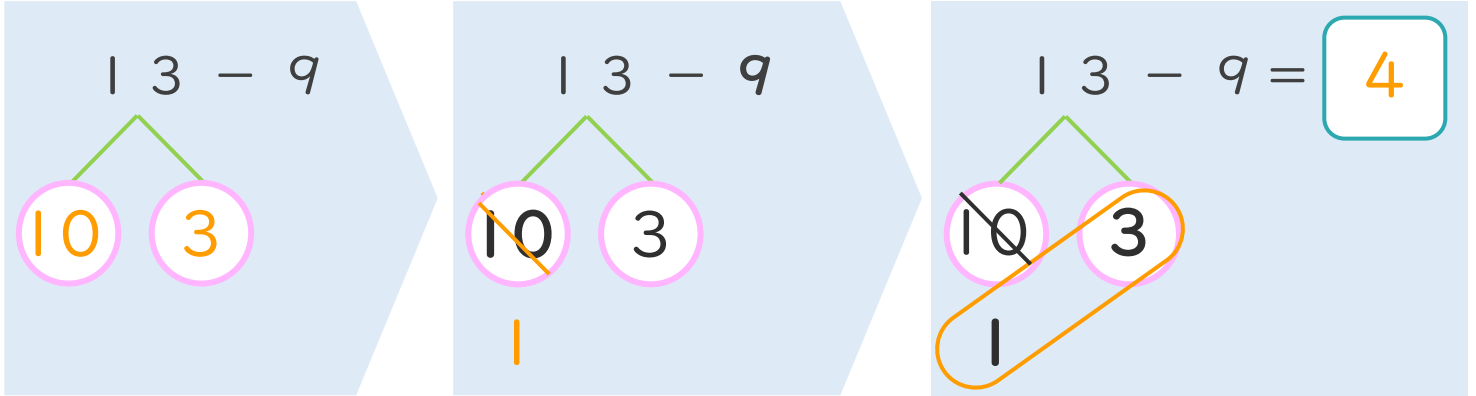
くりさがりのある  
ひきざん 2  
くりさがりのけいさん  
(9をひく)



日にち： 月 日

名まえ \_\_\_\_\_

< 13 - 9 のけいさんのしかた > (うすいじはなぞりましょう。)



- ① 13を  
10と3に  
わけます。
- ② 10から9を  
ひいて1。
- ③ 1と3で4。

・ けいさんをしましょう。(うすいじはなぞりましょう。)

<p>① 13 - 9 = 4</p>	<p>③ 15 - 9 = 6</p>
<p>② 14 - 9 = 5</p>	<p>④ 16 - 9 = 7</p>



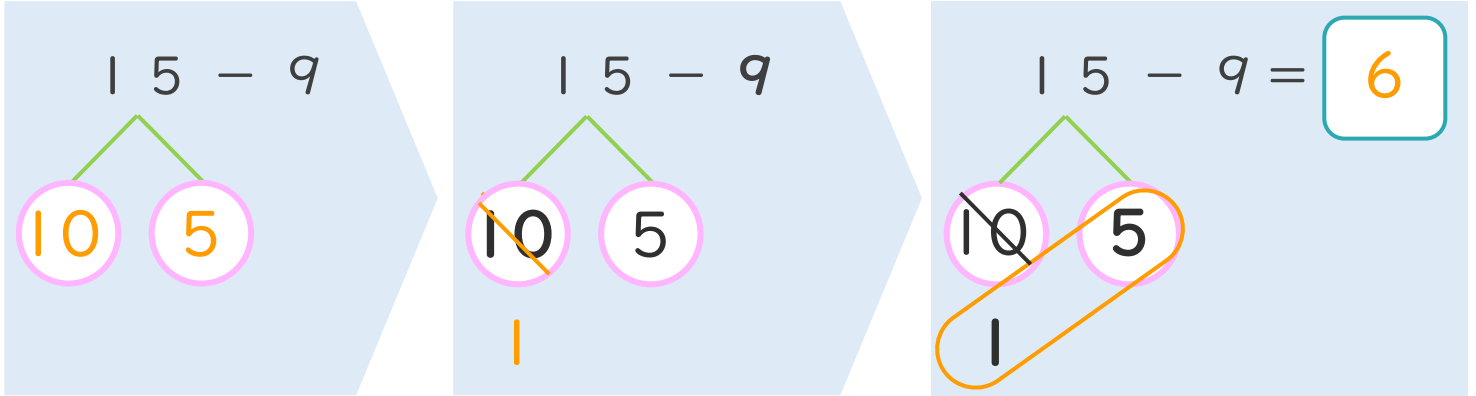
くりさがりのある  
ひきざん 2  
くりさがりのけいさん  
(9をひく)

4

日にち： 月 日

名まえ \_\_\_\_\_

< 15 - 9 のけいさんのしかた > (うすいじはなぞりましょう。)



- ① 15を  
10と5に  
わけます。
- ② 10から9を  
ひいて1。
- ③ 1と5で6。

・ けいさんをしましょう。(うすいじはなぞりましょう。)

<p>① 15 - 9 = 6</p>	<p>③ 17 - 9 = 8</p>
<p>② 16 - 9 = 7</p>	<p>④ 18 - 9 = 9</p>



くりさがりのある  
ひきざん 2

● くりさがりのけいさん  
(9をひく)

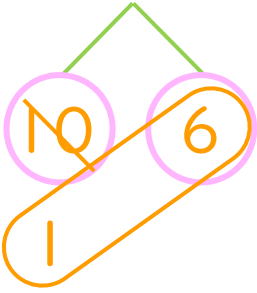


日にち： 月 日

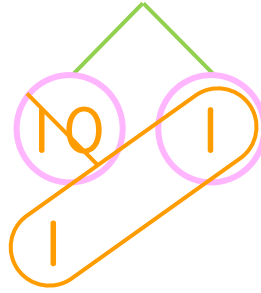
名まえ \_\_\_\_\_

・ けいさんをしましょう。(うすいじはなぞりましょう。)

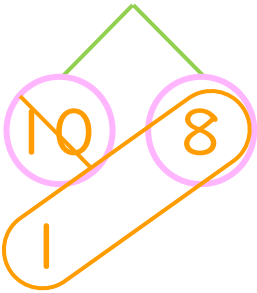
①  $16 - 9 = 7$



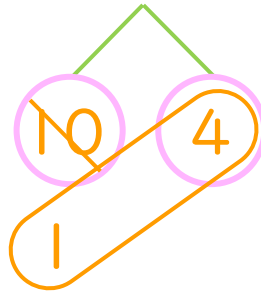
⑤  $11 - 9 = 2$



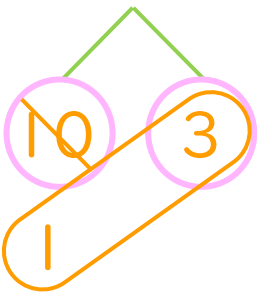
②  $18 - 9 = 9$



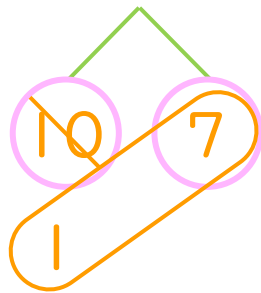
⑥  $14 - 9 = 5$



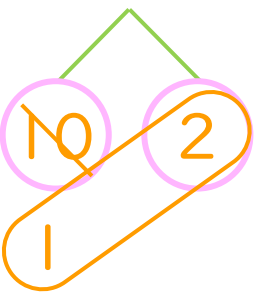
③  $13 - 9 = 4$



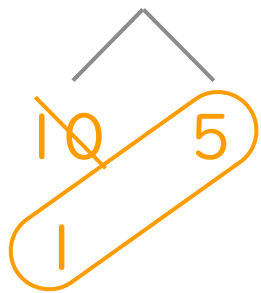
⑦  $17 - 9 = 8$



④  $12 - 9 = 3$



⑧  $15 - 9 = 6$





くりさがりのある  
ひきざん 2

● くりさがりのけいさん  
(9をひく)

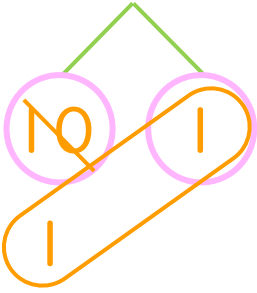


日にち：            月            日

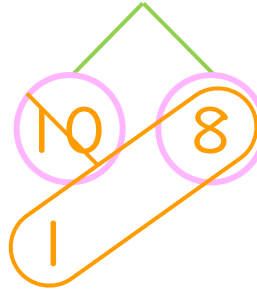
名まえ \_\_\_\_\_

・ けいさんをしましょう。(うすいじはなぞりましょう。)

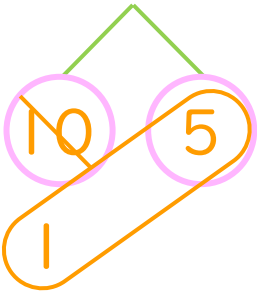
①  $11 - 9 = 2$



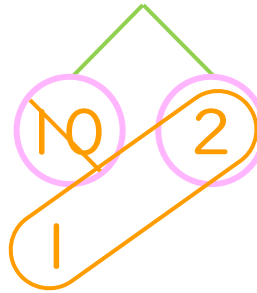
⑤  $18 - 9 = 9$



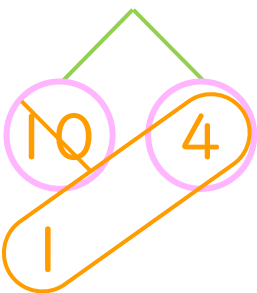
②  $15 - 9 = 6$



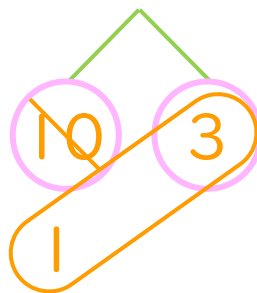
⑥  $12 - 9 = 3$



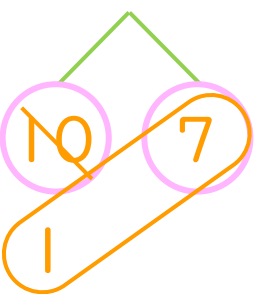
③  $14 - 9 = 5$



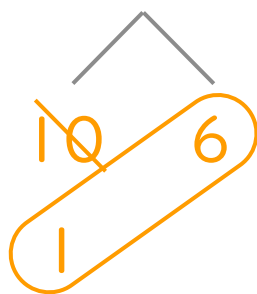
⑦  $13 - 9 = 4$



④  $17 - 9 = 8$



⑧  $16 - 9 = 7$





くりさがりのある  
ひきざん 2

● くりさがりのけいさん  
(9をひく)

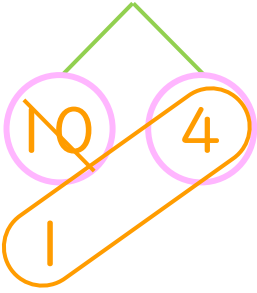


日にち：            月            日

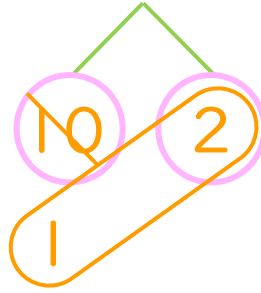
名まえ \_\_\_\_\_

・ けいさんをしましょう。

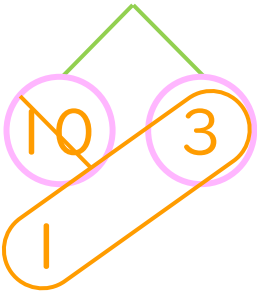
①  $14 - 9 = 5$



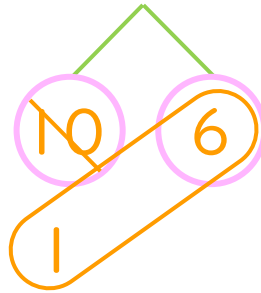
⑤  $12 - 9 = 3$



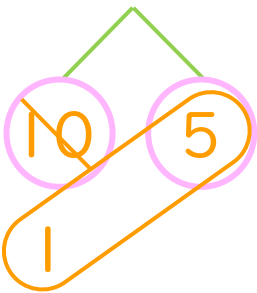
②  $13 - 9 = 4$



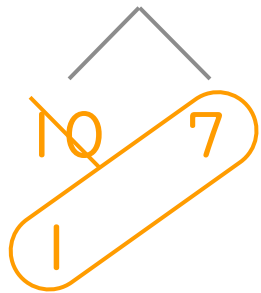
⑥  $16 - 9 = 7$



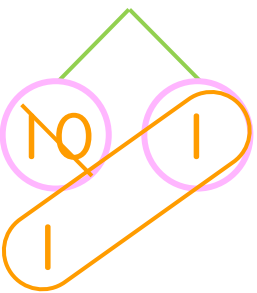
③  $15 - 9 = 6$



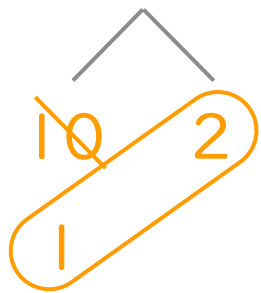
⑦  $17 - 9 = 8$



④  $11 - 9 = 2$



⑧  $12 - 9 = 3$





くりさがりのある  
ひきざん 2

● くりさがりのけいさん  
(9をひく)

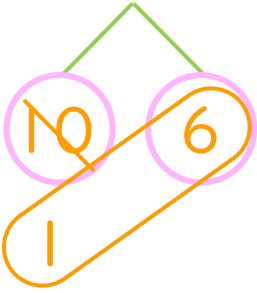


日にち：            月            日

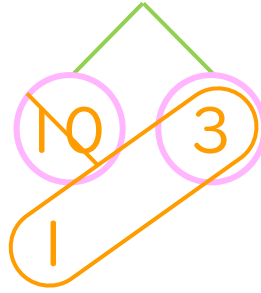
名まえ \_\_\_\_\_

・ けいさんをしましょう。

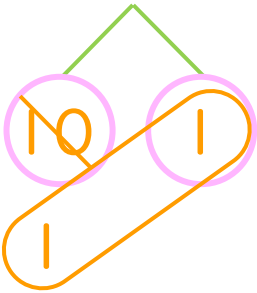
①  $16 - 9 = 7$



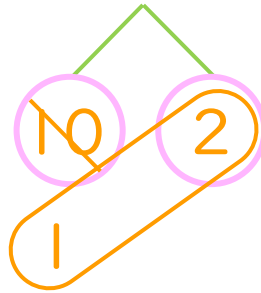
⑤  $13 - 9 = 4$



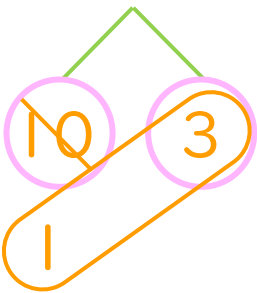
②  $11 - 9 = 2$



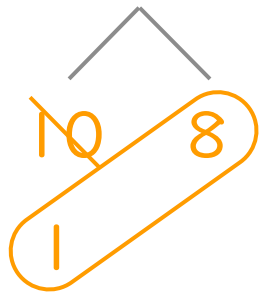
⑥  $12 - 9 = 3$



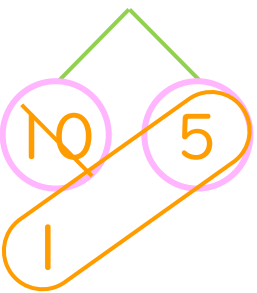
③  $13 - 9 = 4$



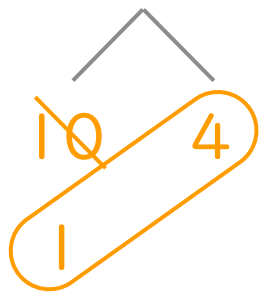
⑦  $18 - 9 = 9$



④  $15 - 9 = 6$



⑧  $14 - 9 = 5$







くりさがりのある  
ひきざん 2

● くりさがりのけいさん  
(9をひく)

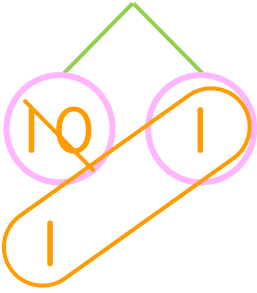


日にち：      月      日

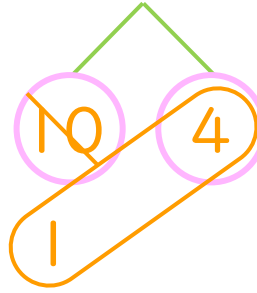
名まえ \_\_\_\_\_

・ けいさんをしましょう。

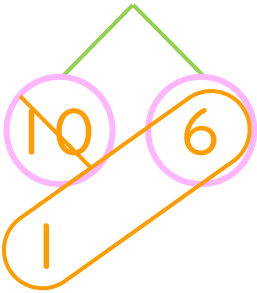
①  $11 - 9 = 2$



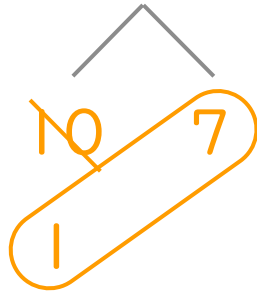
⑤  $14 - 9 = 5$



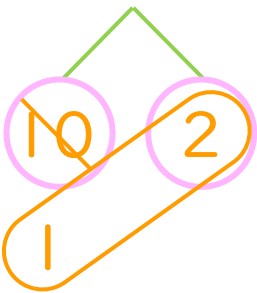
②  $16 - 9 = 7$



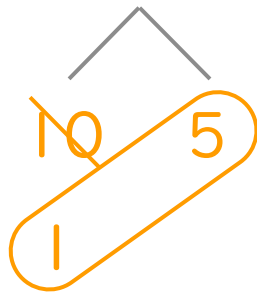
⑥  $17 - 9 = 8$



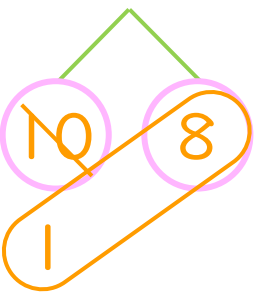
③  $12 - 9 = 3$



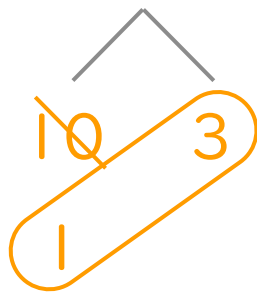
⑦  $15 - 9 = 6$



④  $18 - 9 = 9$



⑧  $13 - 9 = 4$





くりさがりのある  
ひきざん 2

● くりさがりのけいさん  
(9をひく)

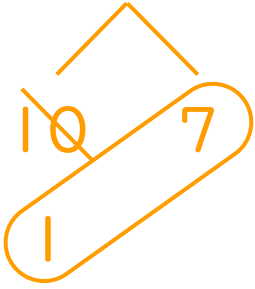


日にち：            月            日

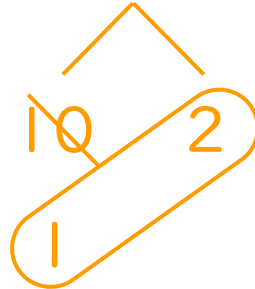
名まえ \_\_\_\_\_

・ けいさんをしましょう。

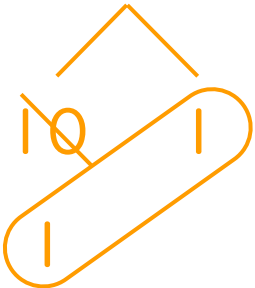
①  $17 - 9 = 8$



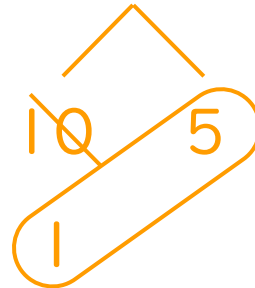
⑤  $12 - 9 = 3$



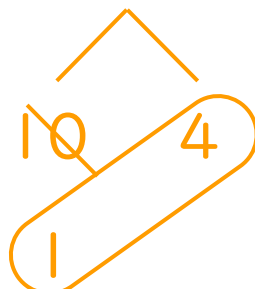
②  $11 - 9 = 2$




⑥  $15 - 9 = 6$



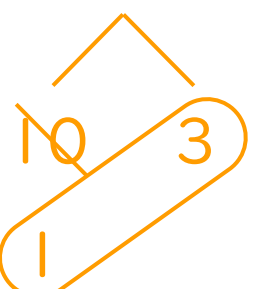
③  $14 - 9 = 5$



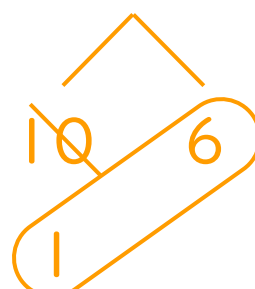
⑦  $18 - 9 = 9$



④  $13 - 9 = 4$



⑧  $16 - 9 = 7$





くりさがりのある  
ひきざん 2

● くりさがりのけいさん  
(9をひく)

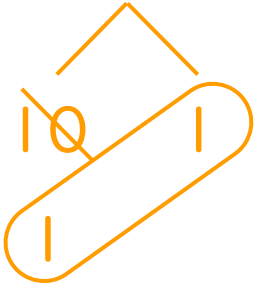


日にち： 月 日

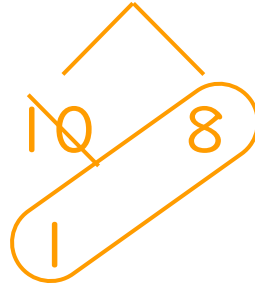
名まえ \_\_\_\_\_

・ けいさんをしましょう。

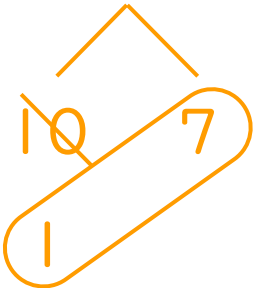
①  $11 - 9 = 2$



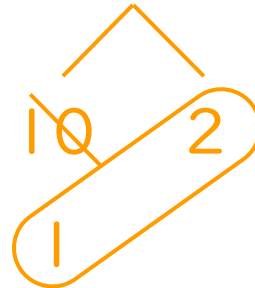
⑤  $18 - 9 = 9$



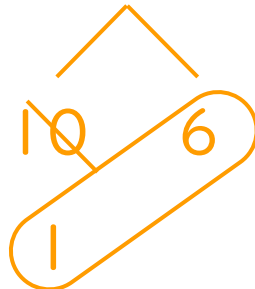
②  $17 - 9 = 8$



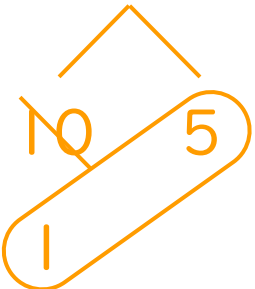
⑥  $12 - 9 = 3$




③  $16 - 9 = 7$



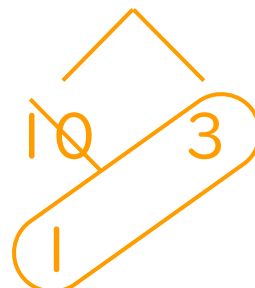
⑦  $15 - 9 = 6$



④  $14 - 9 = 5$



⑧  $13 - 9 = 4$





くりさがりのある  
ひきざん 2

● くりさがりのけいさん  
(9をひく)

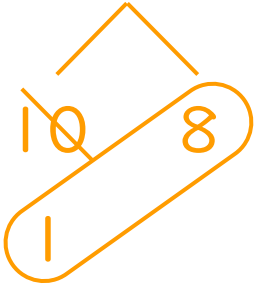
12

日にち： 月 日

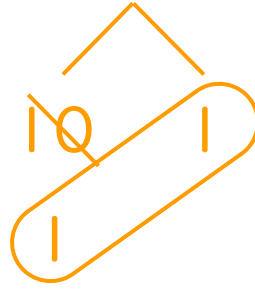
名まえ \_\_\_\_\_

・ けいさんをしましょう。

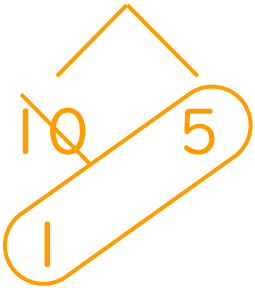
①  $18 - 9 = 9$




⑤  $11 - 9 = 2$



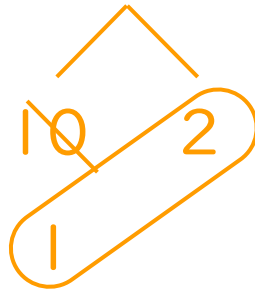
②  $15 - 9 = 6$



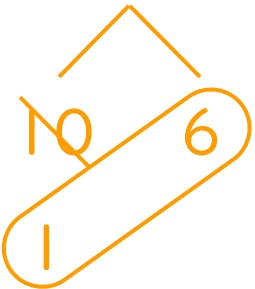
⑥  $17 - 9 = 8$



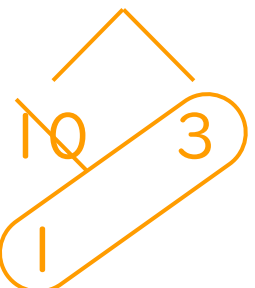
③  $12 - 9 = 3$



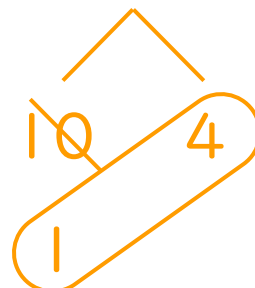
⑦  $16 - 9 = 7$



④  $13 - 9 = 4$



⑧  $14 - 9 = 5$





くりさがりのある  
ひきざん 2

● くりさがりのけいさん  
(9をひく)

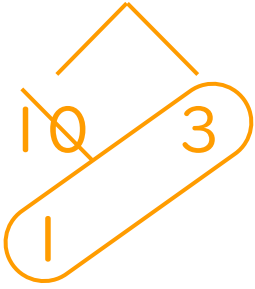
13

日にち： 月 日

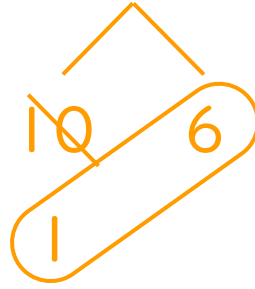
名まえ \_\_\_\_\_

・ けいさんをしましょう。

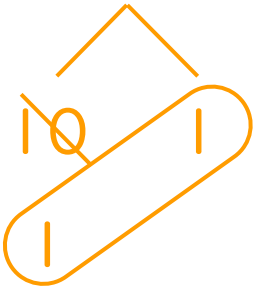
①  $13 - 9 = 4$



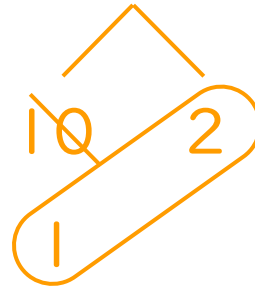
⑤  $16 - 9 = 7$




②  $11 - 9 = 2$




⑥  $12 - 9 = 3$




③  $17 - 9 = 8$



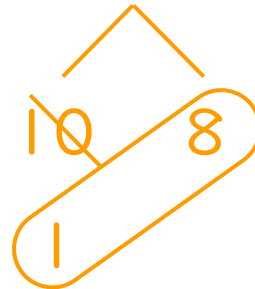
⑦  $14 - 9 = 5$



④  $15 - 9 = 6$



⑧  $18 - 9 = 9$





くりさがりのある  
ひきざん 2

● くりさがりのけいさん  
(9をひく)

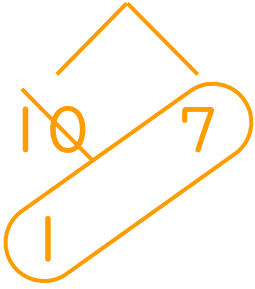
14

日にち：      月      日

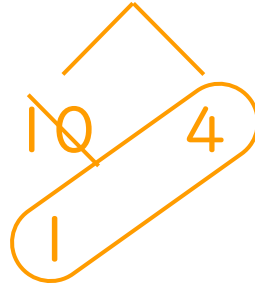
名まえ \_\_\_\_\_

・ けいさんをしましょう。

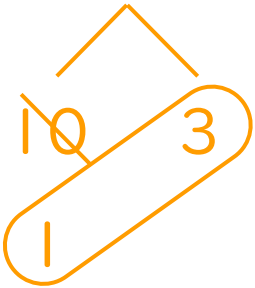
①  $17 - 9 = 8$



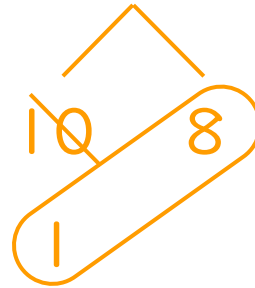
⑤  $14 - 9 = 5$



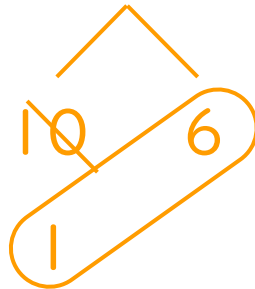
②  $13 - 9 = 4$



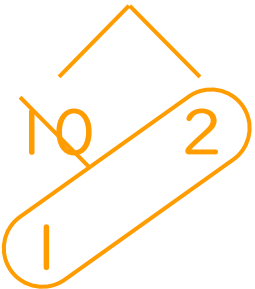
⑥  $18 - 9 = 9$



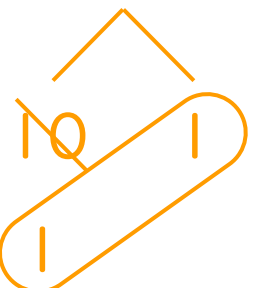
③  $16 - 9 = 7$




⑦  $12 - 9 = 3$



④  $11 - 9 = 2$



⑧  $15 - 9 = 6$






くりさがりのある  
ひきざん 2

● くりさがりのけいさん  
(9をひく)

15

めざせ80点!

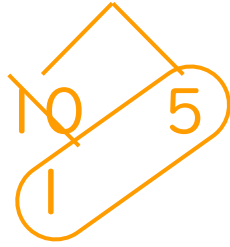


名まえ \_\_\_\_\_

・ けいさんをしましょう。(各20点)

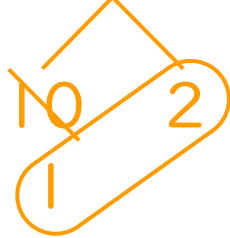
①  $15 - 9 =$

6



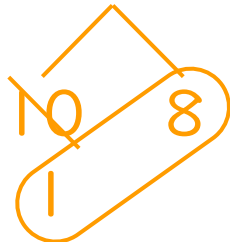
②  $12 - 9 =$

3



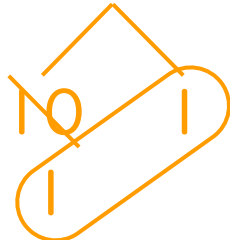
③  $18 - 9 =$

9



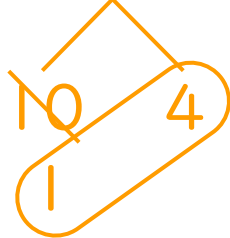
④  $11 - 9 =$

2



⑤  $14 - 9 =$

5





くりさがりのある  
ひきざん 2

● くりさがりの けいさん  
(9 をひく)

16

めざせ80点!

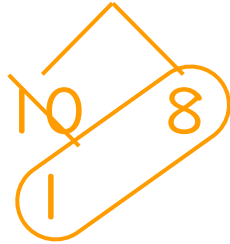


名まえ \_\_\_\_\_

・ けいさんをしましょう。(各20点)

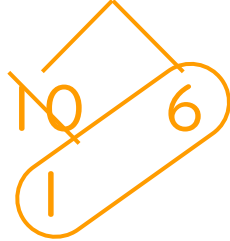
①  $18 - 9 =$

9



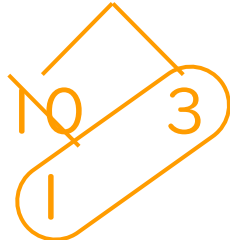
②  $16 - 9 =$

7



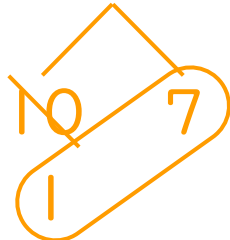
③  $13 - 9 =$

4



④  $17 - 9 =$

8



⑤  $11 - 9 =$

2

