



くりさがりのある
ひきざん 6

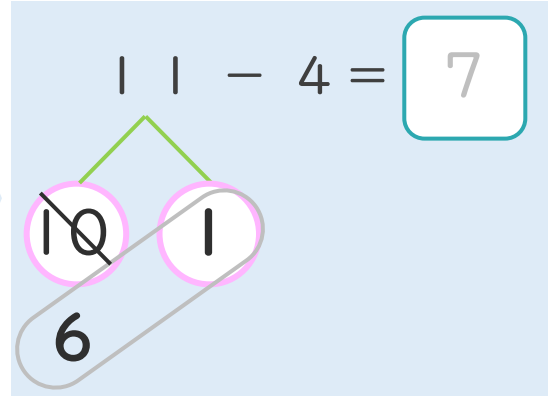
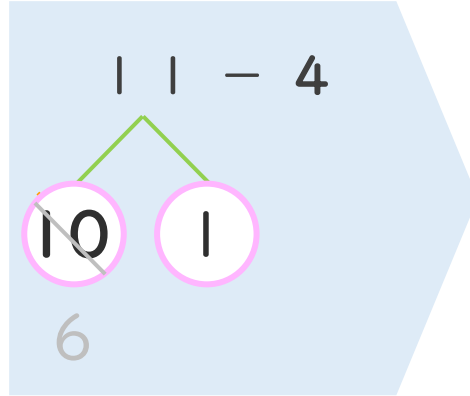
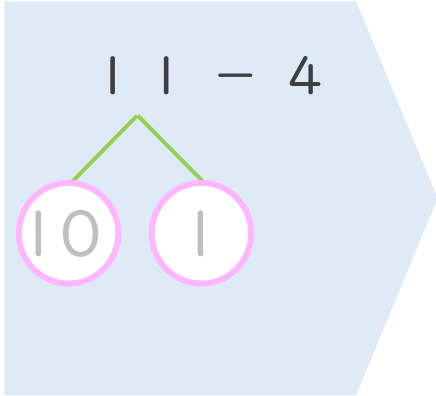
くりさがりのけいさん
(4や3をひく)



日にち： 月 日

名まえ _____

< 11 - 4 の けいさんの しかた > (うすいじはなぞりましょう。)

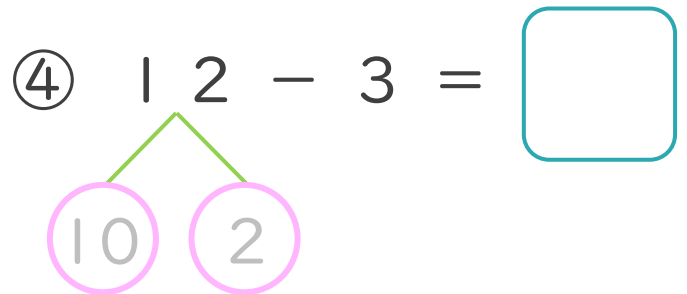
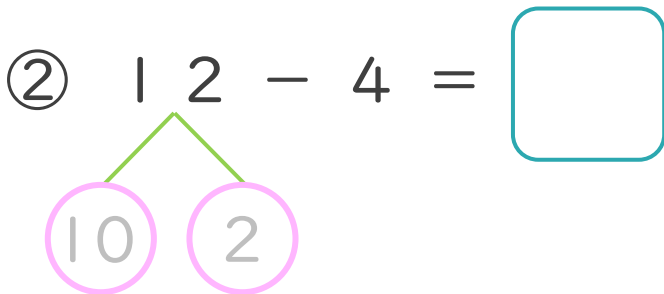
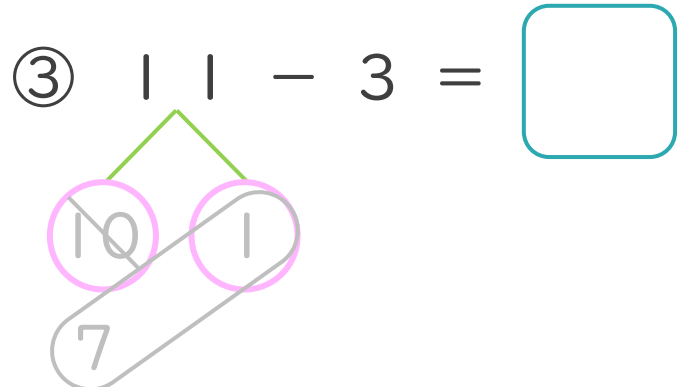
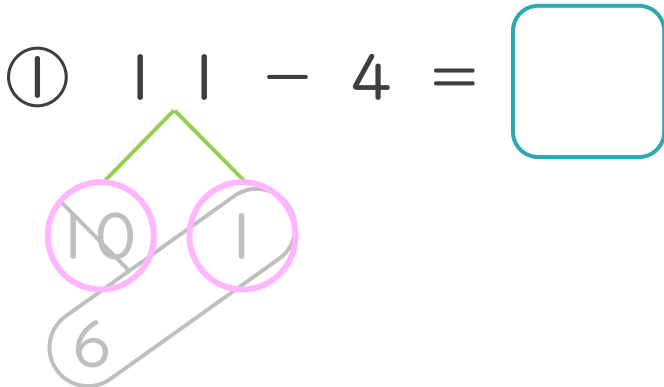


① 11を
10と1に
わけます。

② 10から4を
ひいて6。

③ 6と1で7。

・ けいさんを しましょう。 (うすいじはなぞりましょう。)





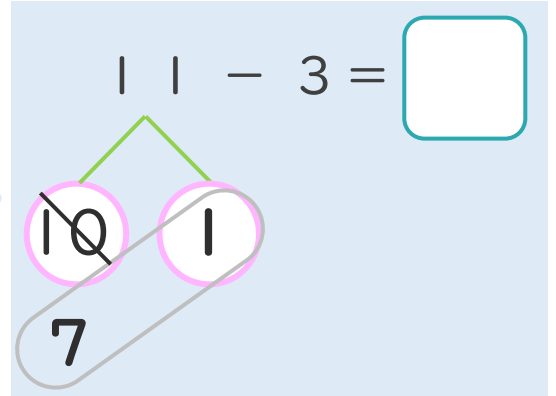
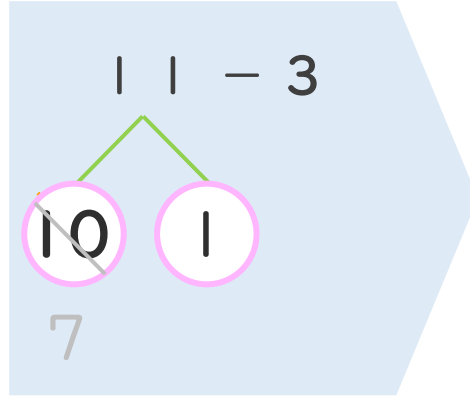
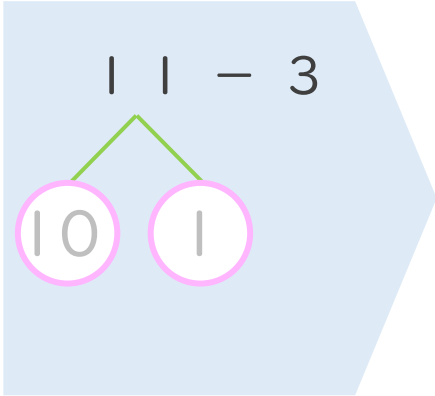
くりさがりのある
ひきざん 6
● くりさがりのけいさん
(4や3をひく)



日にち： 月 日

名まえ _____

< 11 - 3 の けいさんの しかた > (うすいじはなぞりましょう。)

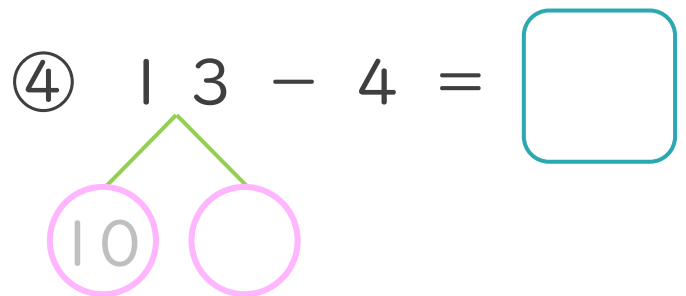
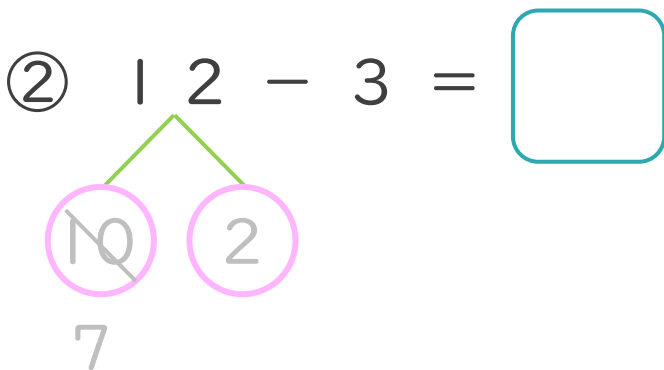
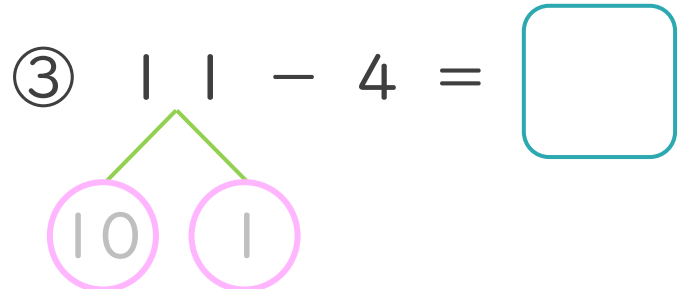
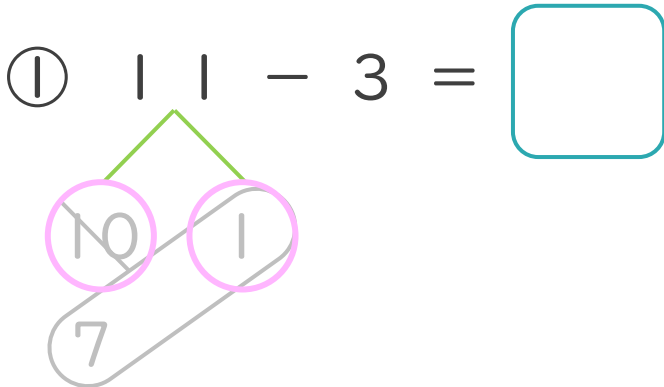


① 11を
10と1に
わけます。

② 10から3を
ひいて7。

③ 7と1で8。

・ けいさんを しましょう。(うすいじはなぞりましょう。)





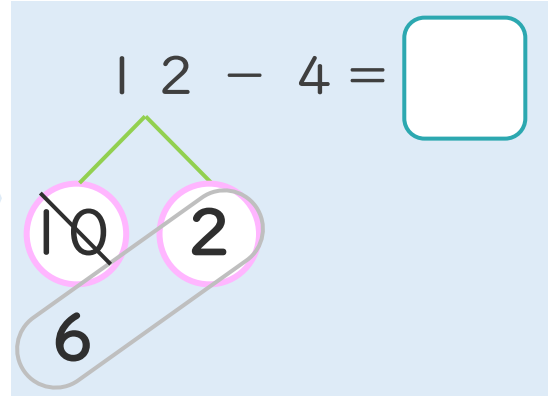
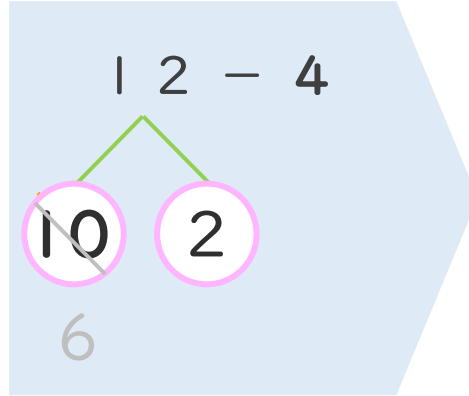
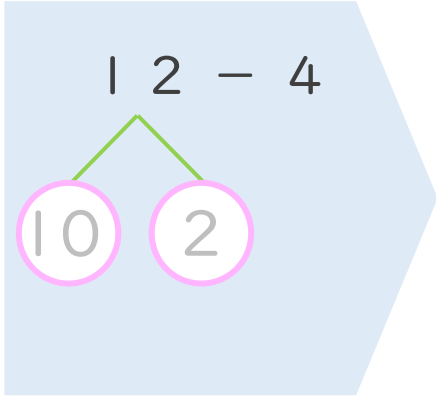
くりさがりのある
ひきざん 6
● くりさがりのけいさん
(4や3をひく)



日にち： 月 日

名まえ _____

< 12 - 4 の けいさんの しかた > (うすいじはなぞりましょう。)



① 12を

10と2に

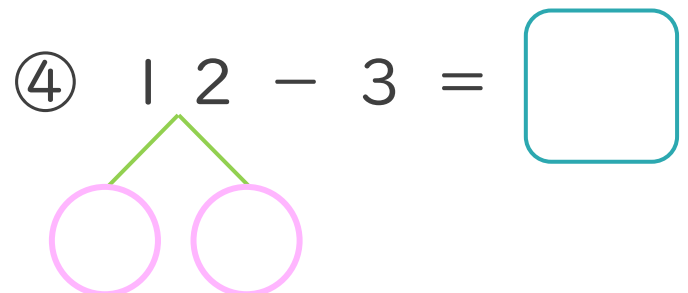
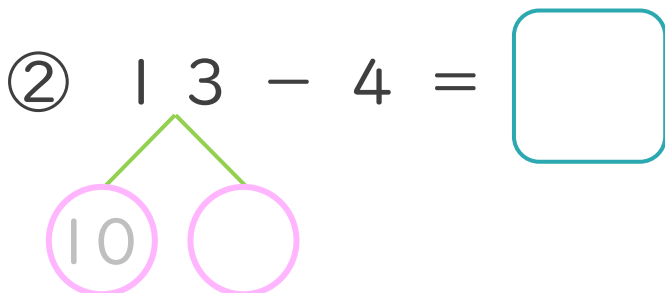
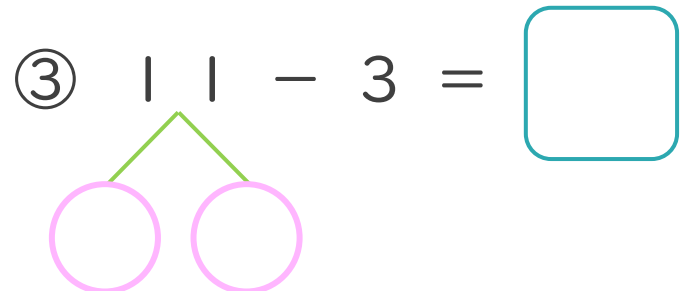
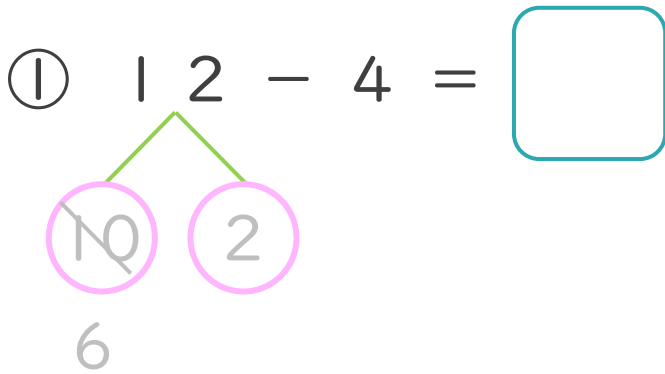
わけます。

② 10から4を

ひいて6。

③ 6と2で8。

・ けいさんを しましょう。 (うすいじはなぞりましょう。)





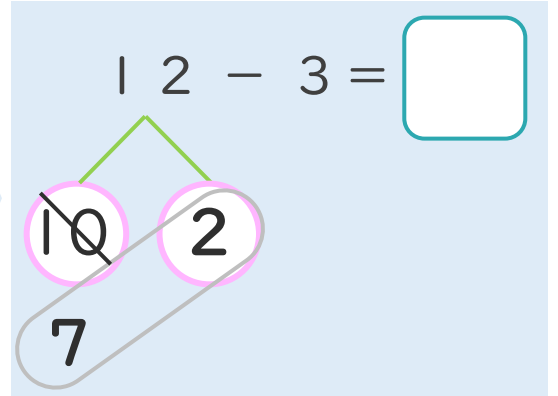
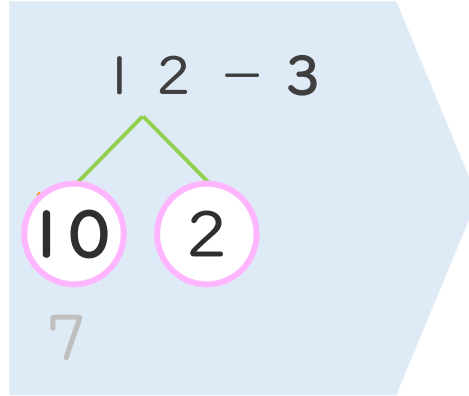
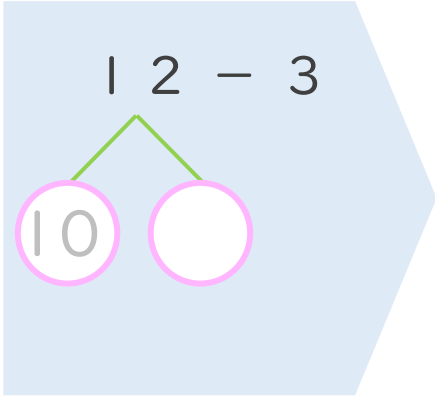
くりさがりのある
ひきざん 6
くりさがりのけいさん
(4や3をひく)



日にち： 月 日

名まえ _____

< 12 - 3 のけいさんのしかた > (うすいじはなぞりましょう。)

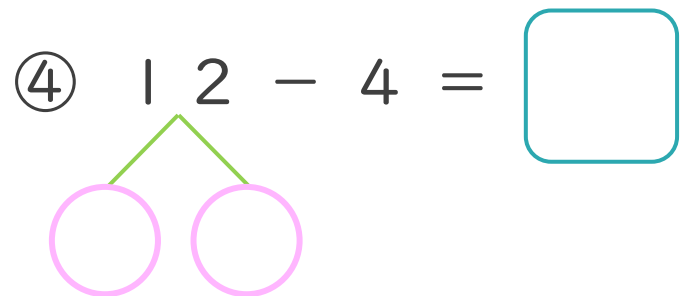
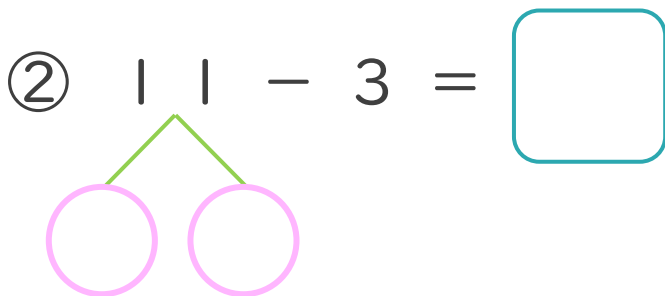
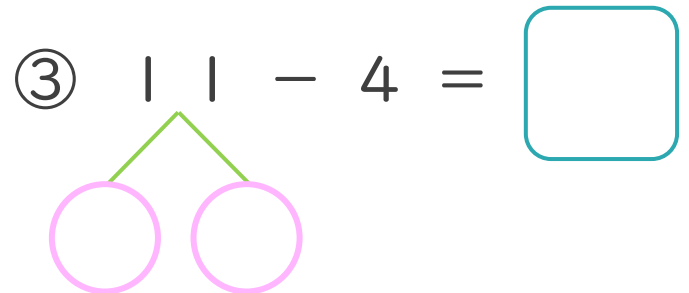
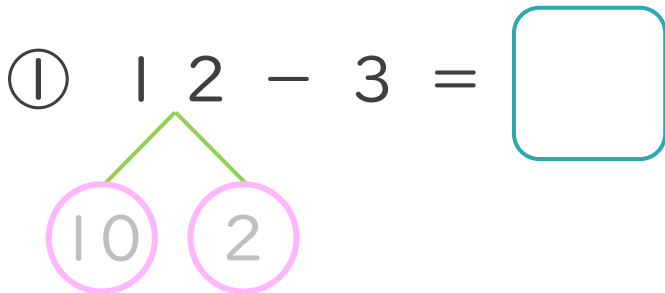


① 12を
10と2に
わけます。

② 10から3を
ひいて7。

③ 7と2で9。

・ けいさんをしましょう。(うすいじはなぞりましょう。)





くりさがりのある
ひきざん 6

● くりさがりのけいさん
(4や3をひく)

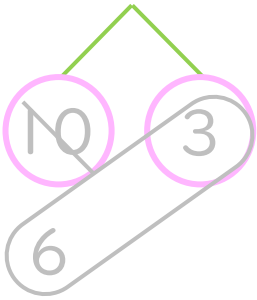


日にち： 月 日

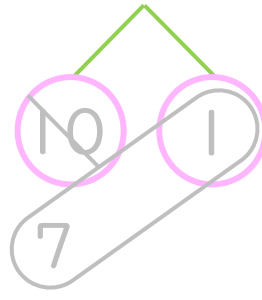
名まえ _____

・ けいさんをしましょう。(うすいじはなぞりましょう。)

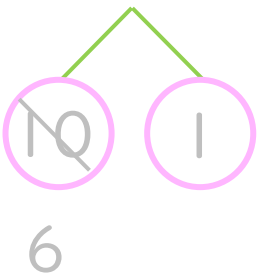
① $13 - 4 = \square$



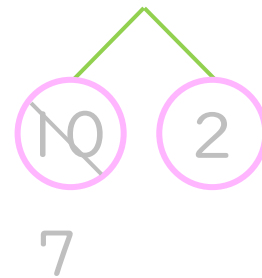
⑤ $11 - 3 = \square$



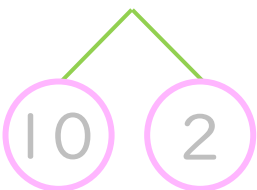
② $11 - 4 = \square$



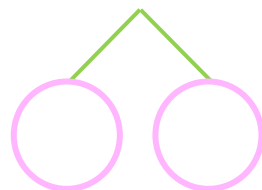
⑥ $12 - 3 = \square$



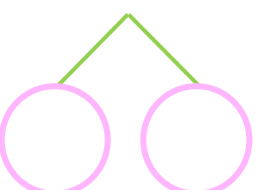
③ $12 - 4 = \square$




⑦ $11 - 3 = \square$



④ $13 - 4 = \square$



⑧ $12 - 3 = \square$





くりさがりのある
ひきざん 6

● くりさがりのけいさん
(4や3をひく)

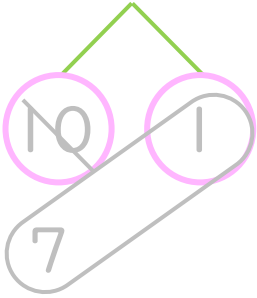


日にち： 月 日

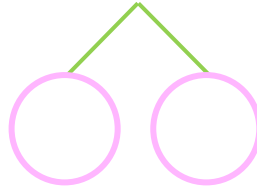
名まえ _____

・ けいさんをしましょう。(うすいじはなぞりましょう。)

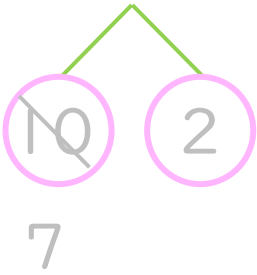
① $11 - 3 = \square$



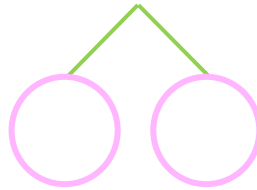
⑤ $11 - 4 = \square$



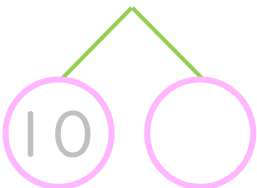
② $12 - 3 = \square$



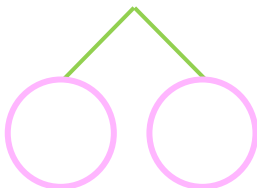
⑥ $12 - 4 = \square$



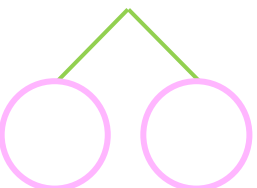
③ $11 - 3 = \square$



⑦ $13 - 4 = \square$



④ $12 - 3 = \square$



⑧ $11 - 4 = \square$





くりさがりのある
ひきざん 6

● くりさがりのけいさん
(4や3をひく)



日にち： 月 日

名まえ _____

・ けいさんをしましょう。(うすいじはなぞりましょう。)

① $12 - 4 = \square$

⑤ $12 - 3 = \square$

② $13 - 4 = \square$

⑥ $11 - 3 = \square$

③ $12 - 4 = \square$

⑦ $12 - 3 = \square$

④ $11 - 4 = \square$

⑧ $11 - 3 = \square$



くりさがりのある
ひきざん 6

● くりさがりのけいさん
(4や3をひく)

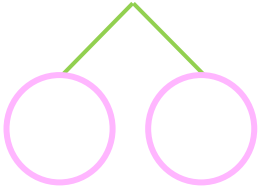


日にち： 月 日

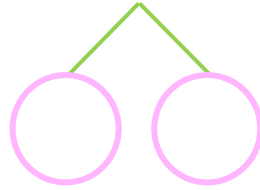
名まえ _____

・ けいさんをしましょう。

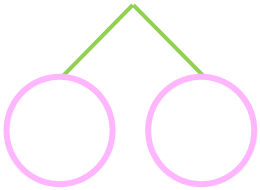
① 1 2 - 3 =



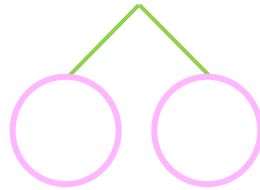
⑤ 1 3 - 4 =



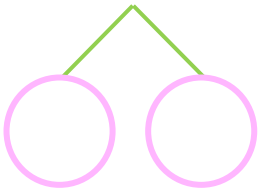
② 1 1 - 3 =



⑥ 1 1 - 4 =



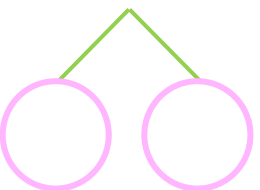
③ 1 2 - 3 =



⑦ 1 2 - 4 =



④ 1 1 - 3 =



⑧ 1 3 - 4 =





くりさがりのある
ひきざん 6

● くりさがりのけいさん
(4や3をひく)



日にち： 月 日

名まえ _____

・ けいさんをしましょう。

① $11 - 4 = \square$

⑤ $12 - 4 = \square$

② $12 - 4 = \square$

⑥ $13 - 4 = \square$

③ $11 - 3 = \square$

⑦ $12 - 3 = \square$

④ $13 - 4 = \square$

⑧ $11 - 4 = \square$



くりさがりのある
ひきざん 6

● くりさがりのけいさん
(4や3をひく)

10

日にち： 月 日

名まえ _____

・ けいさんをしましょう。

① $11 - 4 = \square$

⑤ $11 - 3 = \square$

② $14 - 5 = \square$

⑥ $12 - 4 = \square$

③ $12 - 3 = \square$

⑦ $15 - 6 = \square$

④ $13 - 6 = \square$

⑧ $13 - 4 = \square$



くりさがりのある
ひきざん 6

● くりさがりのけいさん
(4や3をひく)



日にち： 月 日

名まえ _____

・ けいさんをしましょう。

① $12 - 3 =$

⑤ $11 - 4 =$

② $13 - 4 =$

⑥ $12 - 5 =$

③ $14 - 6 =$

⑦ $11 - 3 =$

④ $12 - 4 =$

⑧ $12 - 6 =$



くりさがりのある
ひきざん 6

● くりさがりのけいさん
(4や3をひく)

12

日にち： 月 日

名まえ _____

・ けいさんをしましょう。

① $13 - 4 = \square$

⑤ $13 - 5 = \square$

② $11 - 5 = \square$

⑥ $12 - 4 = \square$

③ $12 - 3 = \square$

⑦ $11 - 6 = \square$

④ $11 - 4 = \square$

⑧ $11 - 3 = \square$



くりさがりのある
ひきざん 6

● くりさがりのけいさん
(4や3をひく)

13

日にち： 月 日

名まえ _____

・ けいさんをしましょう。

① $12 - 6 = \square$

⑤ $11 - 3 = \square$

② $13 - 4 = \square$

⑥ $13 - 6 = \square$

③ $11 - 4 = \square$

⑦ $12 - 4 = \square$

④ $12 - 3 = \square$

⑧ $14 - 5 = \square$



くりさがりのある
ひきざん 6

● くりさがりのけいさん
(4や3をひく)

14

日にち： 月 日

名まえ _____

・ けいさんをしましょう。

① $11 - 3 = \square$

⑤ $12 - 3 = \square$

② $12 - 5 = \square$

⑥ $12 - 4 = \square$

③ $13 - 4 = \square$

⑦ $14 - 6 = \square$

④ $15 - 6 = \square$

⑧ $11 - 4 = \square$



くりさがりのある
ひきざん 6

● くりさがりのけいさん
(4や3をひく)

15

めざせ80点!



名まえ _____

・ けいさんをしましょう。(各20点)

① $12 - 4 =$

② $11 - 5 =$

③ $12 - 3 =$

④ $13 - 4 =$

⑤ $11 - 6 =$



くりさがりのある
ひきざん 6

● くりさがりのけいさん
(4や3をひく)

16

めざせ80点!



名まえ _____

・ けいさんをしましょう。(各20点)

① $13 - 5 =$

② $11 - 4 =$

③ $15 - 6 =$

④ $11 - 3 =$

⑤ $12 - 4 =$



くりさがりのある
ひきざん 6

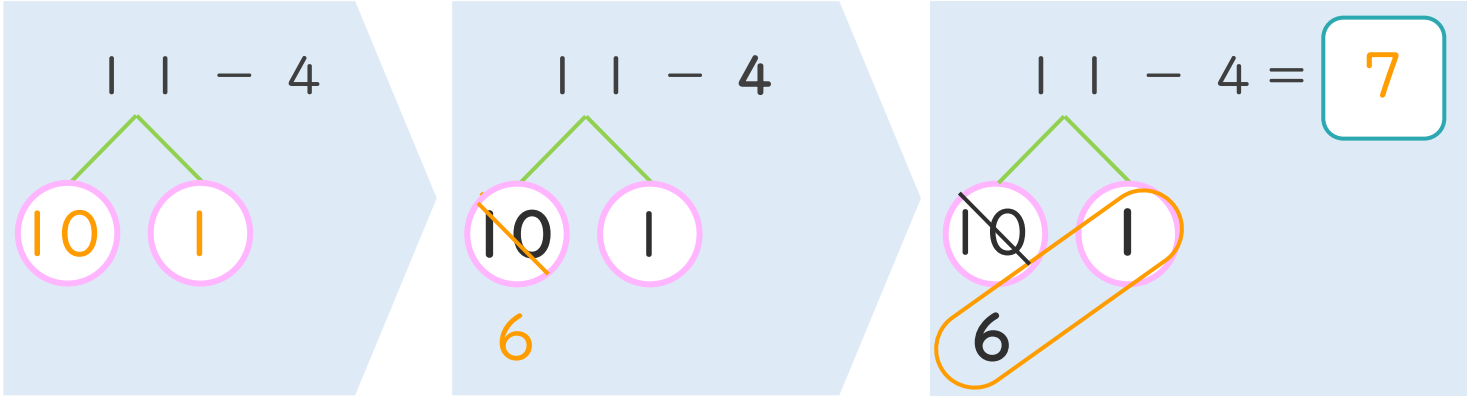
● くりさがりのけいさん
(4や3をひく)



日にち： 月 日

名まえ _____

< 11 - 4 の けいさんの しかた > (うすいじはなぞりましょう。)



- ① 11を
10と1に
わけます。
- ② 10から4を
ひいて6。
- ③ 6と1で7。

・ けいさんを しましょう。(うすいじはなぞりましょう。)

① 11 - 4 = 7

③ 11 - 3 = 8

② 12 - 4 = 8

④ 12 - 3 = 9



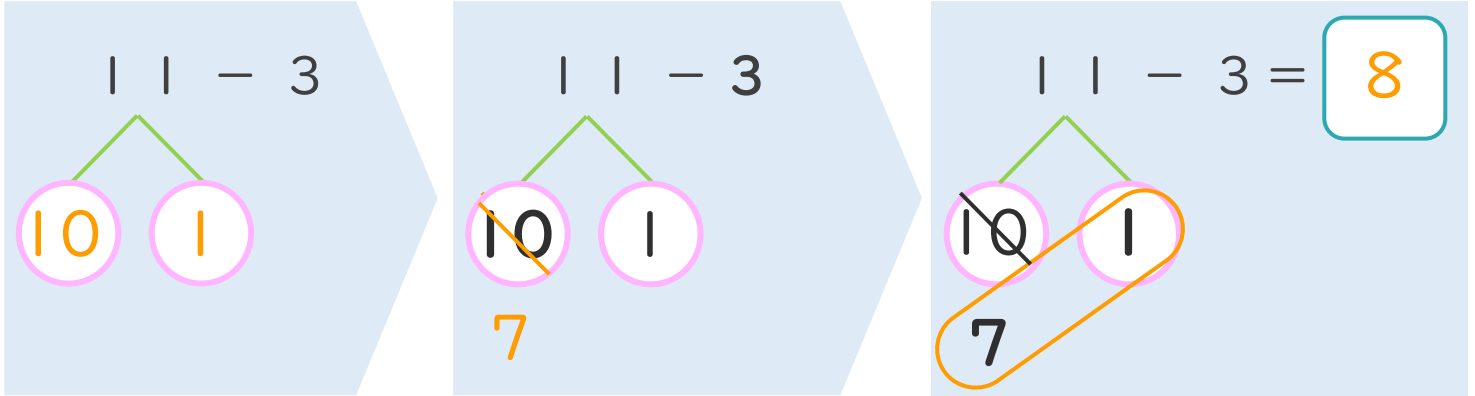
くりさがりのある
ひきざん 6
● くりさがりのけいさん
(4や3をひく)



日にち： 月 日

名まえ _____

< 11 - 3 の けいさんの しかた > (うすいじはなぞりましょう。)



- ① 11を
10と1に
わけます。
- ② 10から3を
ひいて7。
- ③ 7と1で8。

・ けいさんを しましょう。 (うすいじはなぞりましょう。)

<p>① 11 - 3 = 8</p>	<p>③ 11 - 4 = 7</p>
<p>② 12 - 3 = 9</p>	<p>④ 13 - 4 = 9</p>



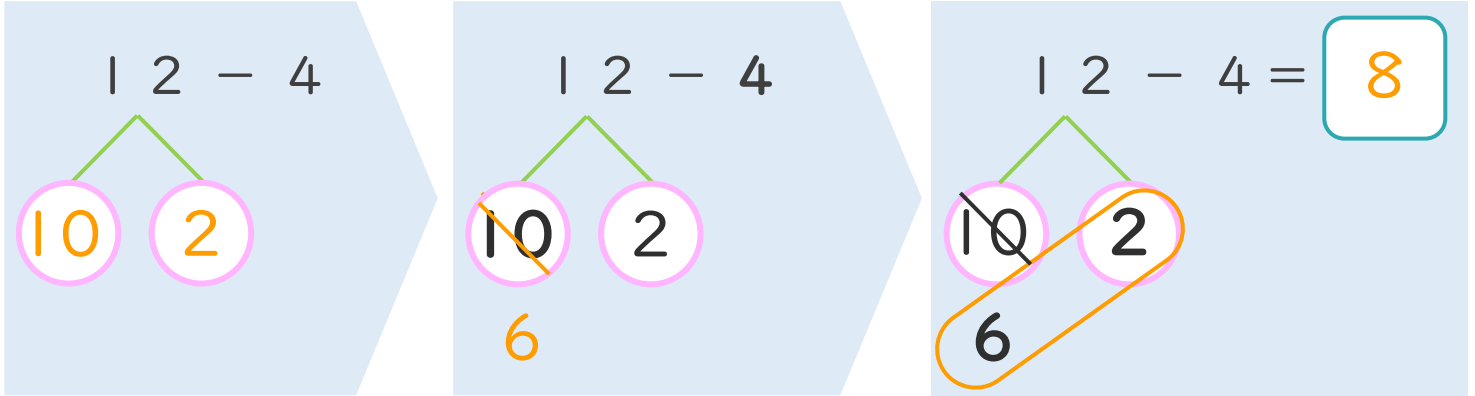
くりさがりのある
ひきざん 6
くりさがりのけいさん
(4や3をひく)



日にち： 月 日

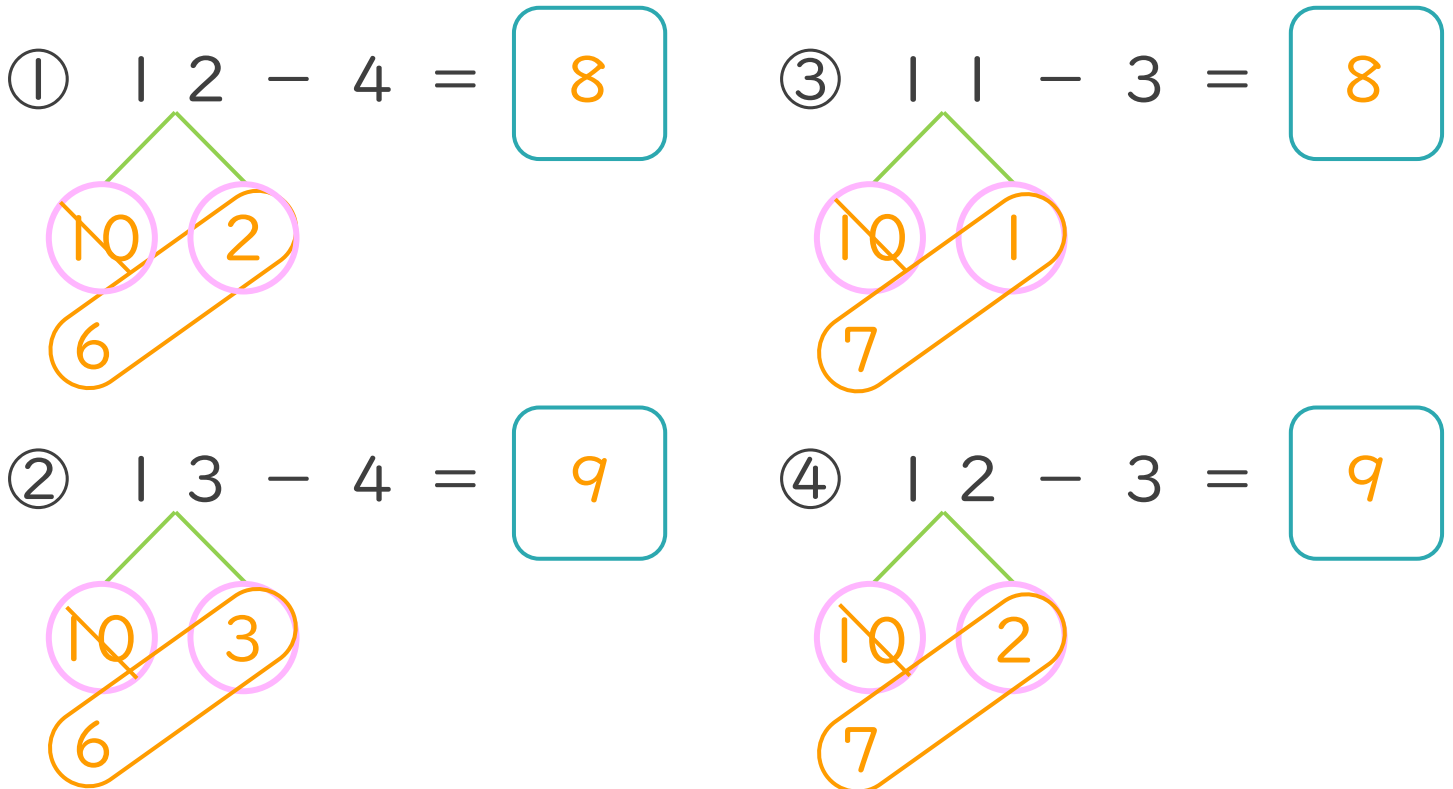
名まえ _____

< 12 - 4 の けいさんの しかた > (うすいじはなぞりましょう。)



- ① 12を
10と2に
わけます。
- ② 10から4を
ひいて6。
- ③ 6と2で8。

・ けいさんを しましょう。(うすいじはなぞりましょう。)





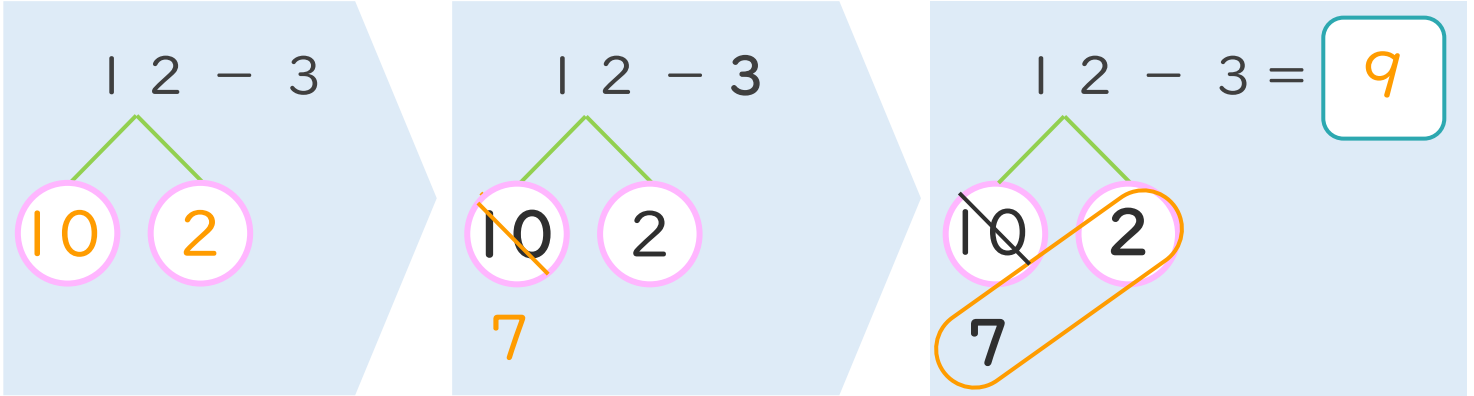
くりさがりのある
ひきざん 6
くりさがりのけいさん
(4や3をひく)



日にち： 月 日

名まえ _____

< 12 - 3 のけいさんのしかた > (うすいじはなぞりましょう。)



- ① 12を
10と2に
わけます。
- ② 10から3を
ひいて7。
- ③ 7と2で9。

・ けいさんをしましょう。(うすいじはなぞりましょう。)

<p>① 1 2 - 3 = 9</p>	<p>③ 1 1 - 4 = 7</p>
<p>② 1 1 - 3 = 8</p>	<p>④ 1 2 - 4 = 8</p>





くりさがりのある
ひきざん 6

● くりさがりのけいさん
(4や3をひく)

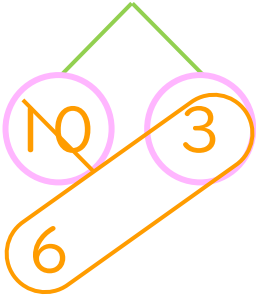


日にち： 月 日

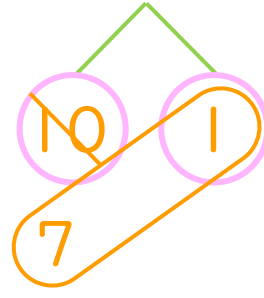
名まえ _____

・ けいさんをしましょう。(うすいじはなぞりましょう。)

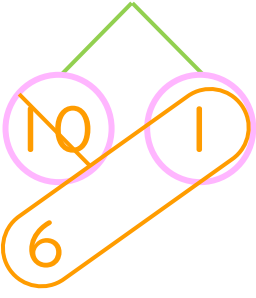
① $13 - 4 = 9$



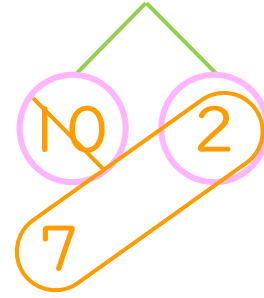
⑤ $11 - 3 = 8$



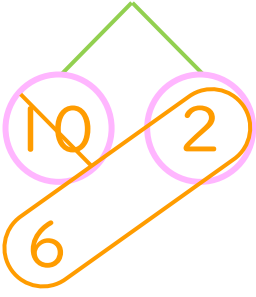
② $11 - 4 = 7$



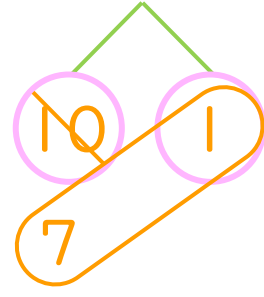
⑥ $12 - 3 = 9$



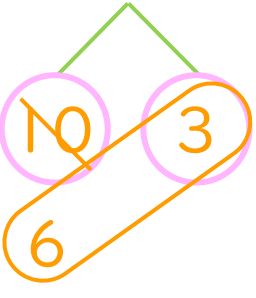
③ $12 - 4 = 8$



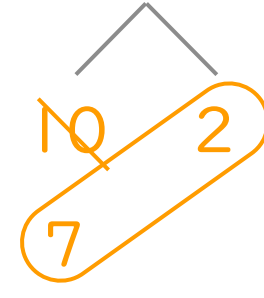
⑦ $11 - 3 = 8$



④ $13 - 4 = 9$



⑧ $12 - 3 = 9$





くりさがりのある
ひきざん 6

● くりさがりのけいさん
(4や3をひく)

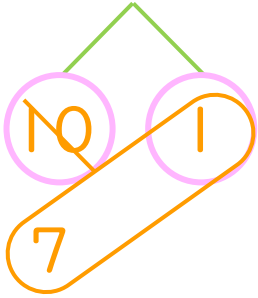


日にち： 月 日

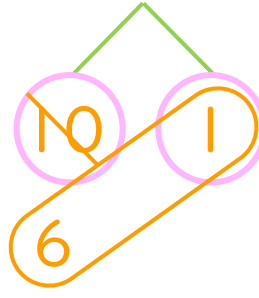
名まえ _____

・ けいさんをしましょう。(うすいじはなぞりましょう。)

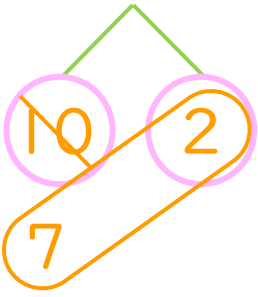
① $11 - 3 = 8$



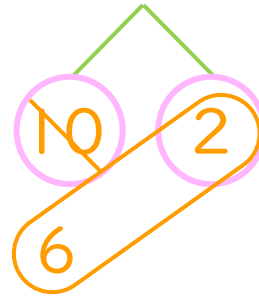
⑤ $11 - 4 = 7$



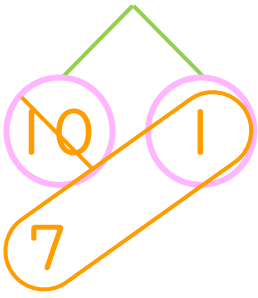
② $12 - 3 = 9$



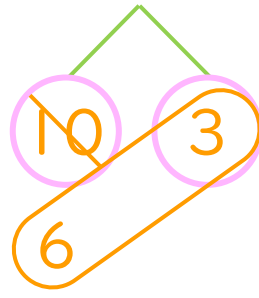
⑥ $12 - 4 = 8$



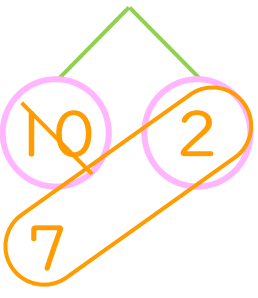
③ $11 - 3 = 8$



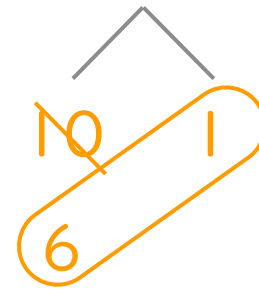
⑦ $13 - 4 = 9$



④ $12 - 3 = 9$



⑧ $11 - 4 = 7$





くりさがりのある
ひきざん 6

● くりさがりのけいさん
(4や3をひく)

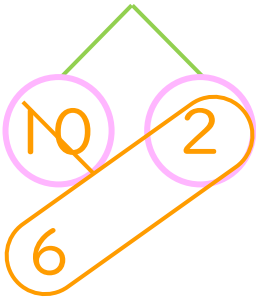


日にち： 月 日

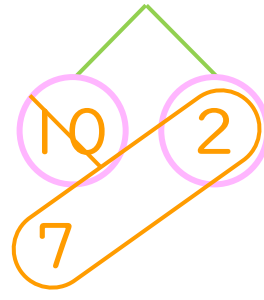
名まえ _____

・ けいさんをしましょう。(うすいじはなぞりましょう。)

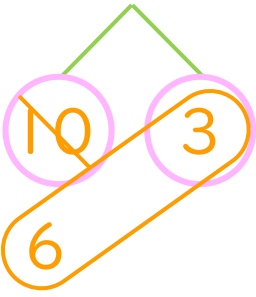
① $12 - 4 = 8$



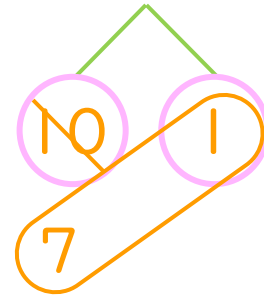
⑤ $12 - 3 = 9$



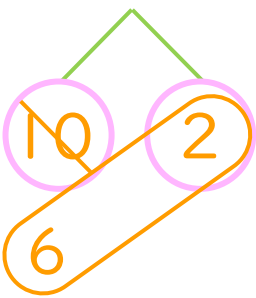
② $13 - 4 = 9$



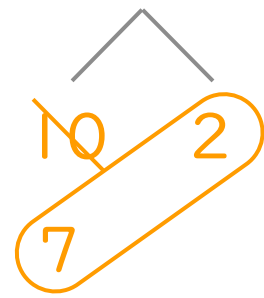
⑥ $11 - 3 = 8$



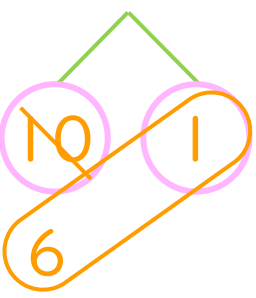
③ $12 - 4 = 8$



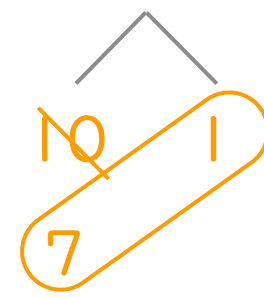
⑦ $12 - 3 = 9$



④ $11 - 4 = 7$



⑧ $11 - 3 = 8$





くりさがりのある
ひきざん 6

● くりさがりのけいさん
(4や3をひく)

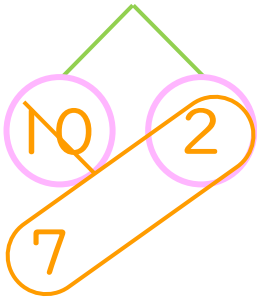


日にち： 月 日

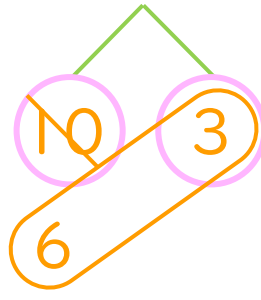
名まえ _____

・ けいさんをしましょう。

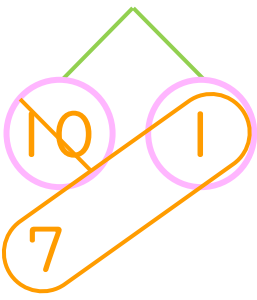
① $12 - 3 = 9$



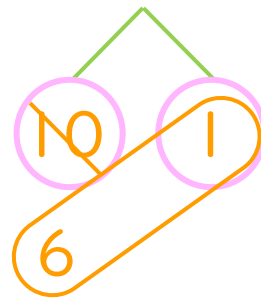
⑤ $13 - 4 = 9$



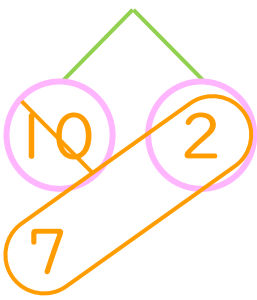
② $11 - 3 = 8$



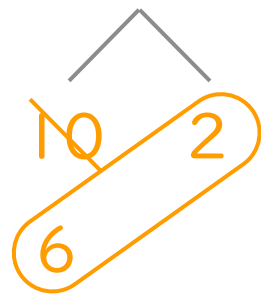
⑥ $11 - 4 = 7$



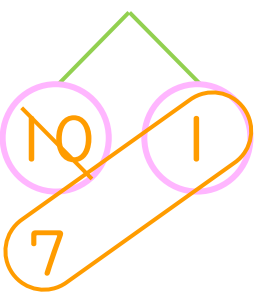
③ $12 - 3 = 9$



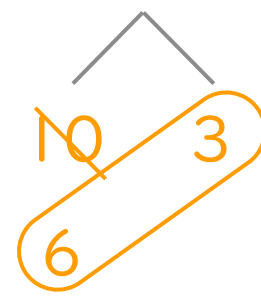
⑦ $12 - 4 = 8$



④ $11 - 3 = 8$



⑧ $13 - 4 = 9$





くりさがりのある
ひきざん 6

● くりさがりのけいさん
(4や3をひく)

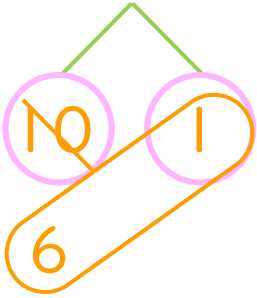


日にち： 月 日

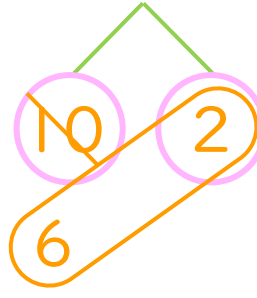
名まえ _____

・ けいさんをしましょう。

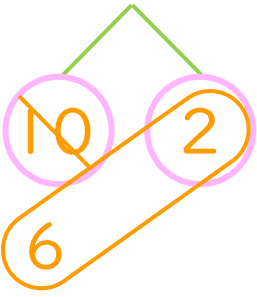
① $11 - 4 = 7$



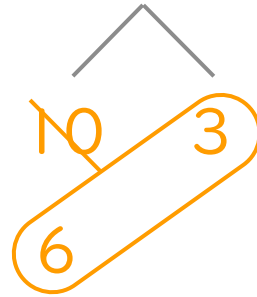
⑤ $12 - 4 = 8$



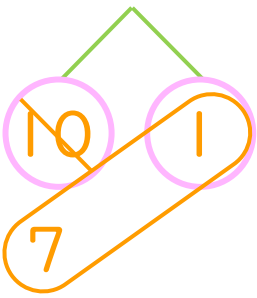
② $12 - 4 = 8$



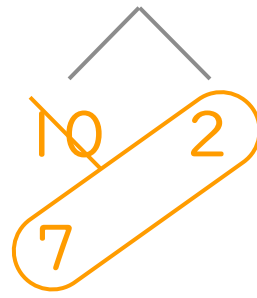
⑥ $13 - 4 = 9$



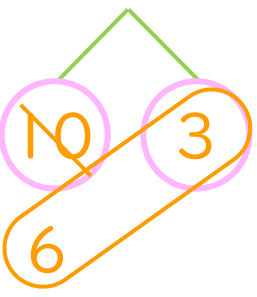
③ $11 - 3 = 8$



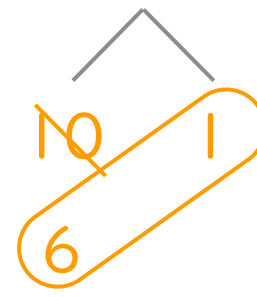
⑦ $12 - 3 = 9$



④ $13 - 4 = 9$



⑧ $11 - 4 = 7$





くりさがりのある
ひきざん 6

● くりさがりのけいさん
(4や3をひく)

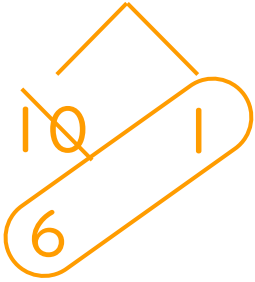


日にち： 月 日

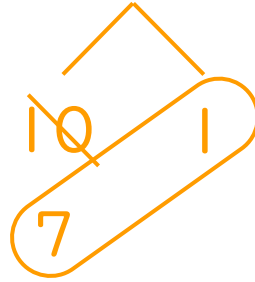
名まえ _____

・ けいさんをしましょう。

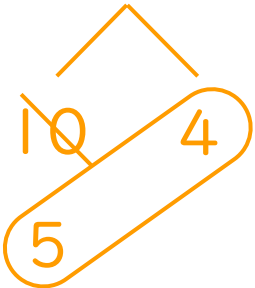
① $11 - 4 = 7$



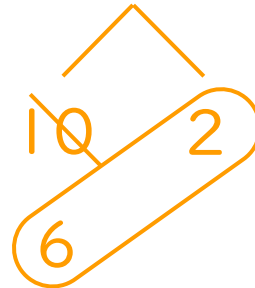
⑤ $11 - 3 = 8$



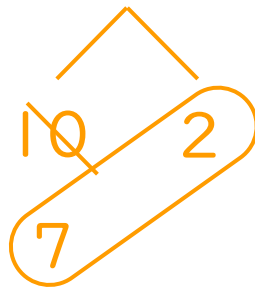
② $14 - 5 = 9$



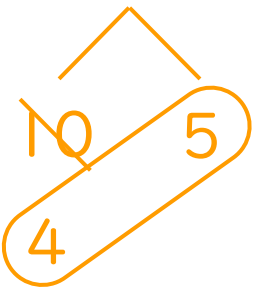
⑥ $12 - 4 = 8$



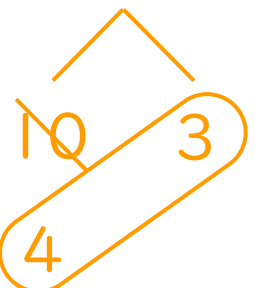
③ $12 - 3 = 9$



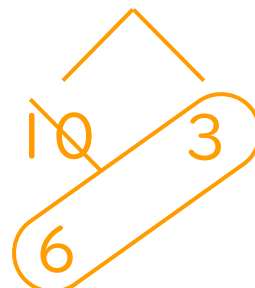
⑦ $15 - 6 = 9$



④ $13 - 6 = 7$



⑧ $13 - 4 = 9$





くりさがりのある
ひきざん 6

● くりさがりのけいさん
(4や3をひく)

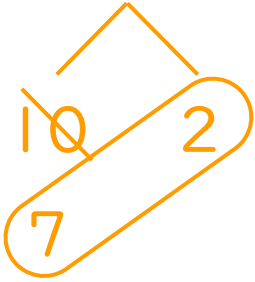


日にち： 月 日

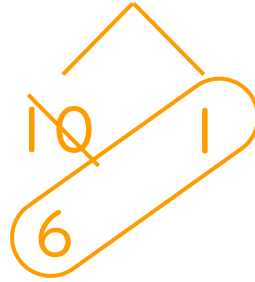
名まえ _____

・ けいさんをしましょう。

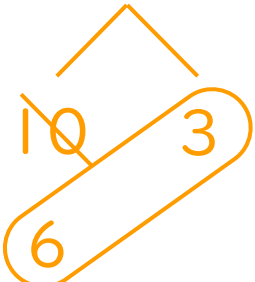
① $12 - 3 = 9$



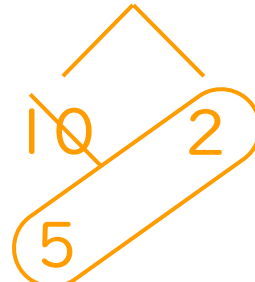
⑤ $11 - 4 = 7$



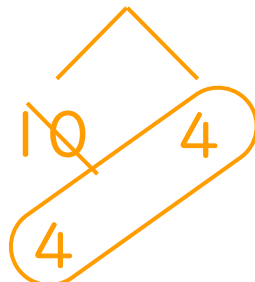
② $13 - 4 = 9$



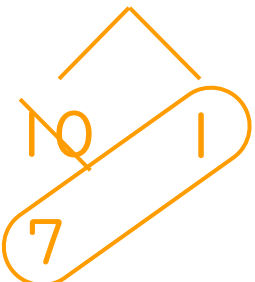
⑥ $12 - 5 = 7$



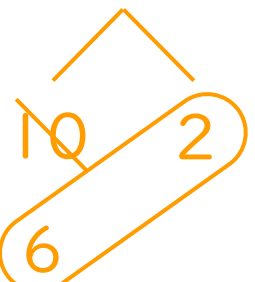
③ $14 - 6 = 8$



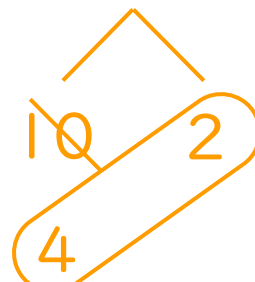
⑦ $11 - 3 = 8$



④ $12 - 4 = 8$



⑧ $12 - 6 = 6$





くりさがりのある
ひきざん 6

● くりさがりのけいさん
(4や3をひく)

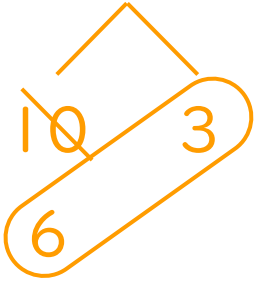
12

日にち： 月 日

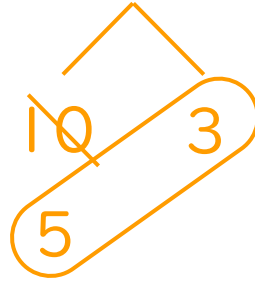
名まえ _____

・ けいさんをしましょう。

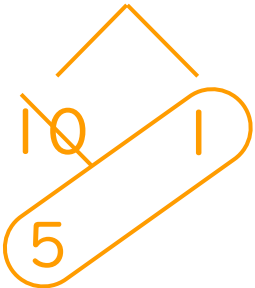
① $13 - 4 = 9$



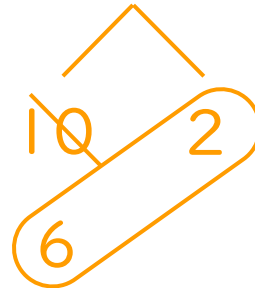
⑤ $13 - 5 = 8$



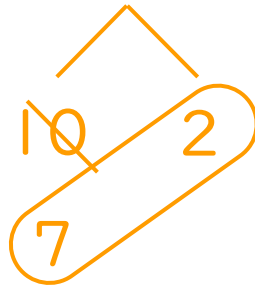
② $11 - 5 = 6$



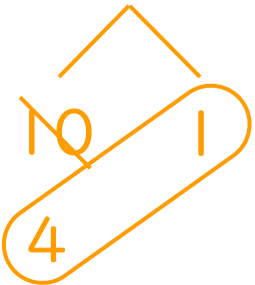
⑥ $12 - 4 = 8$



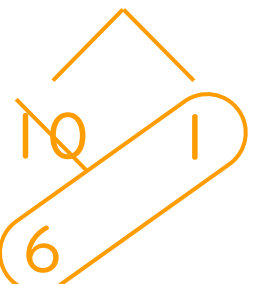
③ $12 - 3 = 9$



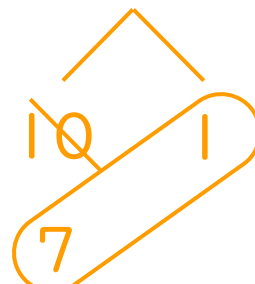
⑦ $11 - 6 = 5$



④ $11 - 4 = 7$



⑧ $11 - 3 = 8$





くりさがりのある
ひきざん 6

● くりさがりのけいさん
(4や3をひく)

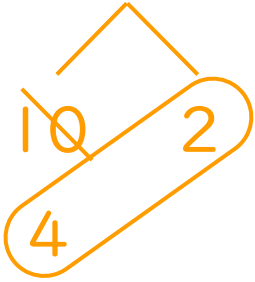
13

日にち： 月 日

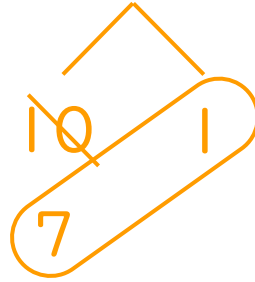
名まえ _____

・ けいさんをしましょう。

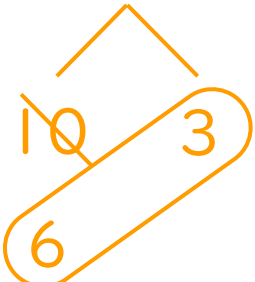
① $12 - 6 = 6$



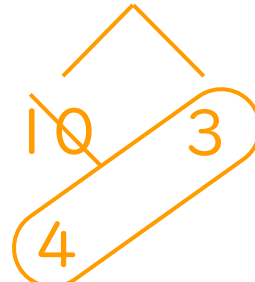
⑤ $11 - 3 = 8$



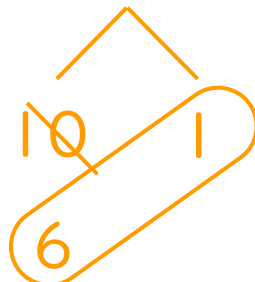
② $13 - 4 = 9$



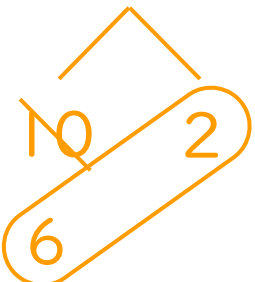
⑥ $13 - 6 = 7$



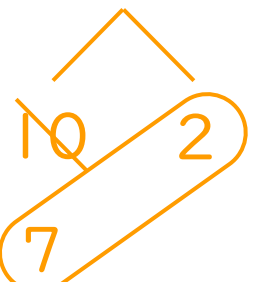
③ $11 - 4 = 7$



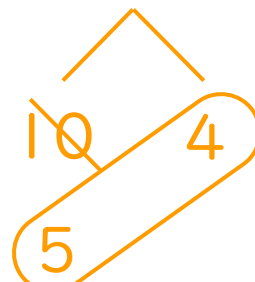
⑦ $12 - 4 = 8$



④ $12 - 3 = 9$



⑧ $14 - 5 = 9$





くりさがりのある
ひきざん 6

くりさがりのけいさん
(4や3をひく)

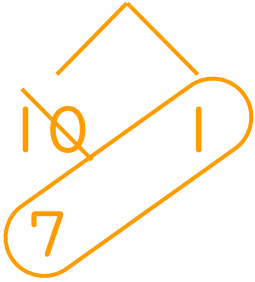
14

日にち： 月 日

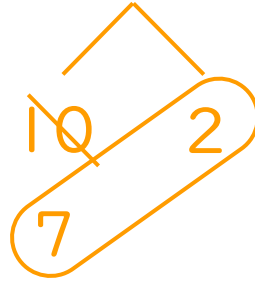
名まえ _____

・ けいさんをしましょう。

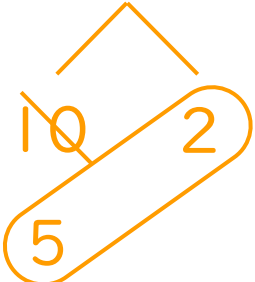
① $11 - 3 = 8$



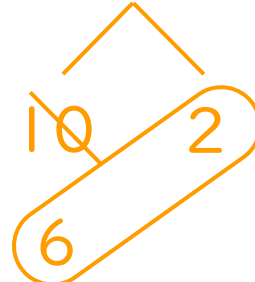
⑤ $12 - 3 = 9$



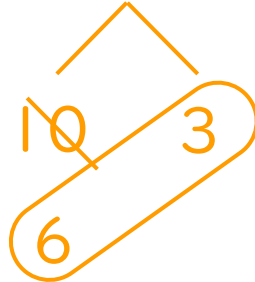
② $12 - 5 = 7$



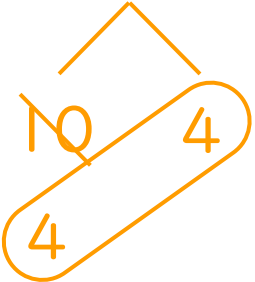
⑥ $12 - 4 = 8$



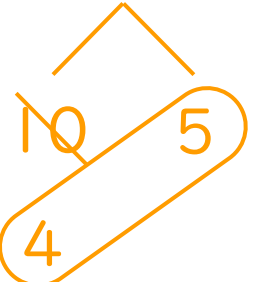
③ $13 - 4 = 9$



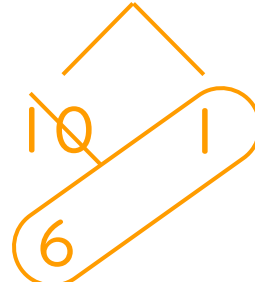
⑦ $14 - 6 = 8$



④ $15 - 6 = 9$



⑧ $11 - 4 = 7$





くりさがりのある
ひきざん 6

● くりさがりのけいさん
(4や3をひく)

15

めざせ80点!

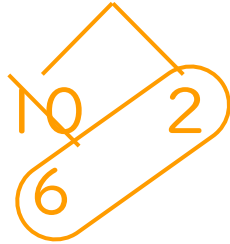


名まえ _____

・ けいさんをしましょう。(各20点)

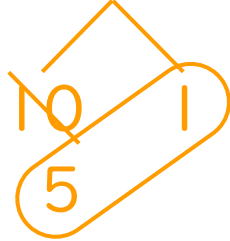
① $12 - 4 =$

8



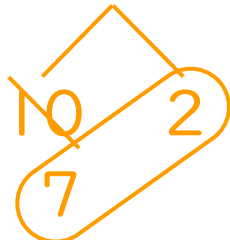
② $11 - 5 =$

6



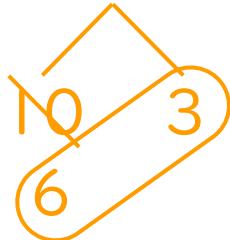
③ $12 - 3 =$

9



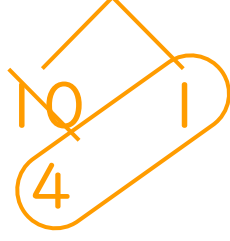
④ $13 - 4 =$

9



⑤ $11 - 6 =$

5





くりさがりのある
ひきざん 6

● くりさがりのけいさん
(4や3をひく)

16

めざせ80点!

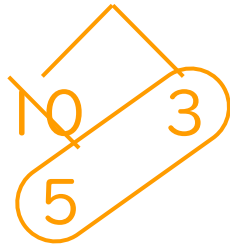


名まえ _____

・ けいさんをしましょう。(各20点)

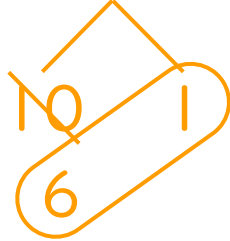
① $13 - 5 =$

8



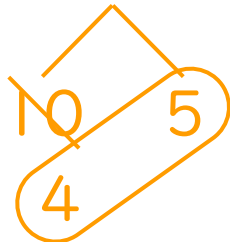
② $11 - 4 =$

7



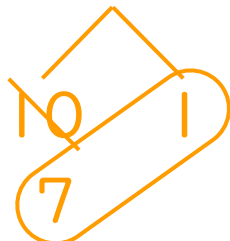
③ $15 - 6 =$

9



④ $11 - 3 =$

8



⑤ $12 - 4 =$

8

