

すざろくたしざん 2

● 1 か 2 に たす



日にち： 月 日

名まえ _____

・ けいさんをしましょう。うすい○はなぞりましょう。

1 2 3 4 5 6 7 8 9 10 11 12

① 1 + 2 = 3

② 1 + 4 =


③ 1 + 3 =

④ 2 + 1 = 3

⑤ 2 + 5 =

⑥ 2 + 6 =





すざろくたしざん 2

1 か 2 に たす



日にち： 月 日

名まえ _____

・ けいさんをしましょう。うすい○はなぞりましょう。

1 2 3 4 5 6 7 8 9 10 11 12

① 1 + 3 = 4

② 1 + 4 =

③ 1 + 6 =

④ 2 + 1 = 3

⑤ 2 + 5 =

⑥ 2 + 2 =





すぞろくたしざん 2

● 1 か 2 に たす



日にち： 月 日

名まえ _____

・ けいさんをしましょう。うすい○はなぞりましょう。

1 2 3 4 5 6 7 8 9 10 11 12

① 2 + ^{○○○}3 = 5

② 2 + 4 =


③ 2 + 1 =

④ 1 + ^{○○}2 = 3

⑤ 1 + 5 =

⑥ 1 + 6 =





すどろくたしざん 2

● 1 か 2 に たす



日にち： 月 日

名まえ _____

・ けいさんをしましょう。うすい○はなぞりましょう。

1 2 3 4 5 6 7 8 9 10 11 12

① 2 + 1 =

② 2 + 6 =


③ 2 + 3 =

④ 1 + 2 =

⑤ 1 + 5 =

⑥ 1 + 4 =





すざろくたしざん 2

● 1 か 2 に たす



日にち： 月 日

名まえ _____

・ けいさんをしましょう。うすい○はなぞりましょう。

1 2 3 4 5 6 7 8 9 10 11 12

① 2 + 2 = 4

② 1 + 6 = 7

③ 1 + 1 =

④ 2 + 5 =

⑤ 2 + 3 =

⑥ 1 + 4 =





すざろくたしざん 2

● 1 か 2 に たす



日にち： 月 日

名まえ _____

・ けいさんをしましょう。

1 2 3 4 5 6 7 8 9 10 11 12

① 1 + 5 =

② 2 + 6 =


③ 2 + 2 =

④ 1 + 3 =

⑤ 1 + 1 =

⑥ 2 + 4 =





すざろくたしざん 2

● 1 か 2 にたす



日にち： 月 日

名まえ _____

・ けいさんをしましょう。

1 2 3 4 5 6 7 8 9 10 11 12

① 2 + 4 =

② 1 + 6 =


③ 2 + 2 =

④ 1 + 1 =

⑤ 2 + 3 =

⑥ 2 + 5 =





すざろくたしざん 2

● 1 か 2 にたす



日にち： 月 日

名まえ _____

・ けいさんをしましょう。

1 2 3 4 5 6 7 8 9 10 11 12

① 2 + 6 =


② 2 + 2 =

③ 1 + 4 =

④ 2 + 1 =

⑤ 1 + 3 =

⑥ 1 + 5 =



すざろくたしざん 2

● 1 か 2 に たす



日にち： 月 日

名まえ _____

・ けいさんをしましょう。

1 2 3 4 5 6 7 8 9 10 11 12

① 1 + 2 =

② 2 + 6 =


③ 1 + 4 =

④ 2 + 3 =

⑤ 2 + 1 =

⑥ 1 + 5 =





すぞろくたしざん 2

① か 2 に たす



日にち： 月 日

名まえ

・ けいさんをしましょう。

$$\textcircled{1} \quad 1 + 6 = 7$$

$$\textcircled{2} \quad 1 + 2 =$$

$$\textcircled{3} \quad 1 + 4 =$$

$$\textcircled{4} \quad 2 + 1 = 3$$

$$\textcircled{5} \quad 2 + 3 =$$

$$\textcircled{6} \quad 2 + 5 =$$





すどろくたしざん 2

① か 2 に たす



日にち： 月 日

名まえ

・ けいさんをしましょう。

$$\textcircled{1} \quad 2 + 1 =$$

$$\textcircled{2} \quad 2 + 2 =$$


$$\textcircled{3} \quad 2 + 4 =$$

$$\textcircled{4} \quad 1 + 5 =$$

$$\textcircled{5} \quad 1 + 3 =$$

$$\textcircled{6} \quad 1 + 6 =$$





すぞろくたしざん 2

● 1 か 2 に たす



日にち： 月 日

名まえ _____

・ けいさんをしましょう。

$$\textcircled{1} \quad 2 + 2 =$$

$$\textcircled{2} \quad 2 + 5 =$$


$$\textcircled{3} \quad 1 + 4 =$$

$$\textcircled{4} \quad 1 + 1 =$$

$$\textcircled{5} \quad 2 + 3 =$$

$$\textcircled{6} \quad 1 + 6 =$$





すぞろくたしざん 2

① か 2 に たす



日にち： 月 日

名まえ _____

・ けいさんをしましょう。

$$\textcircled{1} \quad 1 + 4 =$$

$$\textcircled{2} \quad 1 + 5 =$$

$$\textcircled{3} \quad 2 + 2 =$$

$$\textcircled{4} \quad 1 + 1 =$$

$$\textcircled{5} \quad 2 + 3 =$$

$$\textcircled{6} \quad 2 + 6 =$$





すどろくたしざん 2

① か 2 に たす

14

日にち： 月 日

名まえ _____

・ けいさんをしましょう。

$$\textcircled{1} \quad 2 + 4 =$$

$$\textcircled{2} \quad 1 + 6 =$$


$$\textcircled{3} \quad 1 + 2 =$$

$$\textcircled{4} \quad 2 + 5 =$$

$$\textcircled{5} \quad 1 + 3 =$$

$$\textcircled{6} \quad 2 + 1 =$$





すどろくたしざん 2

● 1か2にたす



日にち： 月 日

名まえ _____

・ けいさんをしましょう。(1もん 20てん)


① 1 + 2 =


② 2 + 6 =

③ 1 + 5 =

④ 2 + 4 =

⑤ 2 + 3 =





すぞろくたしざん 2

● 1 か 2 に たす



日にち： 月 日

名まえ _____

・ けいさんをしましょう。(1もん 20てん)


① 2 + 3 =


② 1 + 4 =

③ 2 + 5 =

④ 1 + 6 =

⑤ 1 + 2 =





すぞろくたしざん 2

① 1か2にたす



日にち： 月 日

名まえ _____

・ けいさんをしましょう。うすい○はなぞりましょう。

1 2 3 4 5 6 7 8 9 10 11 12

① 1 + 2 = 3

② 1 + 4 = 5


③ 1 + 3 = 4

④ 2 + 1 = 3

⑤ 2 + 5 = 7

⑥ 2 + 6 = 8





すざろくたしざん 2

● 1 か 2 にたす



日にち： 月 日


名まえ _____

・ けいさんをしましょう。うすい○はなぞりましょう。

1 2 3 4 5 6 7 8 9 10 11 12

① 1 +  3 = 4

② 1 +  4 = 5

③ 1 +  6 = 7

④ 2 +  1 = 3

⑤ 2 +  5 = 7

⑥ 2 +  2 = 4





すぞろくたしざん 2

● 1 か 2 に たす



日にち： 月 日

名まえ _____

・ けいさんをしましょう。うすい○はなぞりましょう。

1 2 3 4 5 6 7 8 9 10 11 12

① 2 + $\overset{\circ\circ\circ}{3}$ = 5

② 2 + $\overset{\circ}{\circ\circ\circ}$ = 6


③ 2 + $\overset{\circ}{1}$ = 3

④ 1 + $\overset{\circ\circ}{2}$ = 3

⑤ 1 + $\overset{\circ\circ}{\circ\circ\circ}$ = 6

⑥ 1 + $\overset{\circ\circ\circ}{\circ\circ\circ}$ = 7





すぞろくたしざん 2

● 1 か 2 に たす



日にち： 月 日

名まえ _____

・ けいさんをしましょう。うすい○はなぞりましょう。

1 2 3 4 5 6 7 8 9 10 11 12

① 2 + 1 = 3

② 2 + 6 = 8


③ 2 + 3 = 5

④ 1 + 2 = 3

⑤ 1 + 5 = 6

⑥ 1 + 4 = 5





すぞろくたしざん 2

● 1か2にたす



日にち： 月 日

名まえ _____

・ けいさんをしましょう。うすい○はなぞりましょう。

1 2 3 4 5 6 7 8 9 10 11 12

① 2 + $\overset{\circ\circ}{2}$ = 4

② 1 + $\overset{\circ\circ\circ}{6}$ = 7


③ 1 + $\overset{\circ}{1}$ = 2

④ 2 + $\overset{\circ\circ}{\circ\circ\circ}{5}$ = 7

⑤ 2 + $\overset{\circ\circ\circ}{3}$ = 5

⑥ 1 + $\overset{\circ}{\circ\circ\circ}{4}$ = 5





すざろくたしざん 2

● 1 か 2 にたす




日にち： 月 日

名まえ _____

・ けいさんをしましょう。

1 2 3 4 5 6 7 8 9 10 11 12

① 1 +  5 = 6

② 2 +  6 = 8


③ 2 +  2 = 4

④ 1 +  3 = 4

⑤ 1 +  1 = 2

⑥ 2 +  4 = 6





すざろくたしざん 2

● 1 か 2 にたす



日にち： 月 日

名まえ _____

・ けいさんをしましょう。

1 2 3 4 5 6 7 8 9 10 11 12

① 2 + 4 = 6



② 1 + 6 = 7



③ 2 + 2 = 4



④ 1 + 1 = 2




⑤ 2 + 3 = 5



⑥ 2 + 5 = 7





すざろくたしざん 2

● 1 か 2 にたす



日にち： 月 日

名まえ _____

・ けいさんをしましょう。

1 2 3 4 5 6 7 8 9 10 11 12

$$\textcircled{1} \quad 2 + \begin{array}{c} \textcircled{\circ} \textcircled{\circ} \textcircled{\circ} \\ \textcircled{\circ} \textcircled{\circ} \textcircled{\circ} \end{array} 6 = 8$$

$$\textcircled{2} \quad 2 + \begin{array}{c} \textcircled{\circ} \textcircled{\circ} \end{array} 2 = 4$$


$$\textcircled{3} \quad 1 + \begin{array}{c} \textcircled{\circ} \textcircled{\circ} \textcircled{\circ} \\ \textcircled{\circ} \end{array} 4 = 5$$

$$\textcircled{4} \quad 2 + \begin{array}{c} \textcircled{\circ} \\ | \end{array} 1 = 3$$

$$\textcircled{5} \quad 1 + \begin{array}{c} \textcircled{\circ} \textcircled{\circ} \textcircled{\circ} \\ 3 \end{array} = 4$$

$$\textcircled{6} \quad 1 + \begin{array}{c} \textcircled{\circ} \textcircled{\circ} \textcircled{\circ} \\ \textcircled{\circ} \textcircled{\circ} \textcircled{\circ} \end{array} 5 = 6$$





すざろくたしざん 2

● 1 か 2 に たす



日にち： 月 日

名まえ _____

・ けいさんをしましょう。

1 2 3 4 5 6 7 8 9 10 11 12

① 1 + $\overset{\circ\circ}{2}$ = 3

② 2 + $\overset{\circ\circ\circ}{6}$ = 8


③ 1 + $\overset{\circ\circ\circ}{4}$ = 5

④ 2 + $\overset{\circ\circ\circ}{3}$ = 5

⑤ 2 + $\overset{\circ}{1}$ = 3

⑥ 1 + $\overset{\circ\circ\circ}{5}$ = 6





すぞろくたしざん 2

① か 2 に たす



日にち： 月 日

名まえ

・ けいさんをしましょう。

$$\textcircled{1} \quad 1 + \begin{array}{c} \textcircled{\circ} \textcircled{\circ} \textcircled{\circ} \\ \textcircled{\circ} \textcircled{\circ} \textcircled{\circ} \end{array} 6 = 7$$

$$\textcircled{2} \quad 1 + \begin{array}{c} \textcircled{\circ} \textcircled{\circ} \end{array} 2 = 3$$


$$\textcircled{3} \quad 1 + \begin{array}{c} \textcircled{\circ} \textcircled{\circ} \textcircled{\circ} \\ \textcircled{\circ} \textcircled{\circ} \end{array} 4 = 5$$

$$\textcircled{4} \quad 2 + \begin{array}{c} \textcircled{\circ} \\ | \end{array} 1 = 3$$

$$\textcircled{5} \quad 2 + \begin{array}{c} \textcircled{\circ} \textcircled{\circ} \textcircled{\circ} \end{array} 3 = 5$$

$$\textcircled{6} \quad 2 + \begin{array}{c} \textcircled{\circ} \textcircled{\circ} \textcircled{\circ} \\ \textcircled{\circ} \textcircled{\circ} \textcircled{\circ} \end{array} 5 = 7$$





すぞろくたしざん 2

① か 2 に たす



日にち： 月 日

名まえ _____

・ けいさんをしましょう。

$$\textcircled{1} \quad 2 + \overset{\circ}{1} = 3$$

$$\textcircled{2} \quad 2 + \overset{\circ\circ}{2} = 4$$


$$\textcircled{3} \quad 2 + \overset{\circ\circ\circ}{4} = 6$$

$$\textcircled{4} \quad 1 + \overset{\circ\circ\circ}{5} = 6$$

$$\textcircled{5} \quad 1 + \overset{\circ\circ\circ}{3} = 4$$

$$\textcircled{6} \quad 1 + \overset{\circ\circ\circ}{6} = 7$$





すぞろくたしざん 2

● 1か2にたす



日にち： 月 日

名まえ _____

・ けいさんをしましょう。

$$\textcircled{1} \quad 2 + \overset{\circ\circ}{2} = 4$$

$$\textcircled{2} \quad 2 + \overset{\circ\circ}{\circ\circ\circ} 5 = 7$$


$$\textcircled{3} \quad 1 + \overset{\circ}{\circ\circ\circ} 4 = 5$$

$$\textcircled{4} \quad 1 + \overset{\circ}{1} = 2$$

$$\textcircled{5} \quad 2 + \overset{\circ\circ\circ}{3} = 5$$

$$\textcircled{6} \quad 1 + \overset{\circ\circ\circ}{\circ\circ\circ} 6 = 7$$





すぞろくたしざん 2

① か 2 に たす

13

日にち： 月 日

名まえ _____

・ けいさんをしましょう。

$$\textcircled{1} \quad 1 + 4 = 5$$

$$\textcircled{2} \quad 1 + 5 = 6$$

$$\textcircled{3} \quad 2 + 2 = 4$$

$$\textcircled{4} \quad 1 + 1 = 2$$

$$\textcircled{5} \quad 2 + 3 = 5$$

$$\textcircled{6} \quad 2 + 6 = 8$$



すぞろくたしざん 2

● 1 か 2 にたす

14

日にち： 月 日

名まえ _____

・ けいさんをしましょう。

$$\textcircled{1} \quad 2 + \begin{array}{c} \textcircled{\circ} \\ \textcircled{\circ} \textcircled{\circ} \end{array} 4 = 6$$

$$\textcircled{2} \quad 1 + \begin{array}{c} \textcircled{\circ} \textcircled{\circ} \textcircled{\circ} \\ \textcircled{\circ} \textcircled{\circ} \end{array} 6 = 7$$


$$\textcircled{3} \quad 1 + \begin{array}{c} \textcircled{\circ} \textcircled{\circ} \\ \textcircled{\circ} \end{array} 2 = 3$$

$$\textcircled{4} \quad 2 + \begin{array}{c} \textcircled{\circ} \textcircled{\circ} \\ \textcircled{\circ} \textcircled{\circ} \textcircled{\circ} \end{array} 5 = 7$$

$$\textcircled{5} \quad 1 + \begin{array}{c} \textcircled{\circ} \textcircled{\circ} \textcircled{\circ} \\ \textcircled{\circ} \end{array} 3 = 4$$

$$\textcircled{6} \quad 2 + \begin{array}{c} \textcircled{\circ} \\ | \end{array} 1 = 3$$





すぞろくたしざん 2

① か 2 に たす

15

日にち： 月 日

名まえ _____

・ けいさんをしましょう。(1もん 20てん)


① 1 + 2 = 3


② 2 + 6 = 8

③ 1 + 5 = 6

④ 2 + 4 = 6

⑤ 2 + 3 = 5





すぞろくたしざん 2

1 か 2 に たす



日にち： 月 日

名まえ

・ けいさんをしましょう。(1もん 20てん)

① $2 + 3 = 5$

② $1 + 4 = 5$

③ $2 + 5 = 7$

④ $1 + 6 = 7$

⑤ $1 + 2 = 3$

