

すごろくたしざん 4

5 か 6 に たす



日にち： 月 日

名まえ _____

・ けいさんをしましょう。うすい・はなぞりましょう。

1 2 3 4 5 6 7 8 9 10 11 12

$$\textcircled{1} \quad 5 + 2 = 7$$

$$\textcircled{2} \quad 5 + 4 =$$


$$\textcircled{3} \quad 5 + 1 =$$

$$\textcircled{4} \quad 6 + 5 = 11$$

$$\textcircled{5} \quad 6 + 3 =$$

$$\textcircled{6} \quad 6 + 6 =$$





すごろくたしざん 4

5 か 6 に たす



日にち： 月 日

名まえ _____

・ けいさんをしましょう。うすい・はなぞりましょう。

1 2 3 4 5 6 7 8 9 10 11 12

$$\textcircled{1} \quad 5 + \overset{\dots}{3} = 8$$

$$\textcircled{2} \quad 5 + 1 =$$


$$\textcircled{3} \quad 5 + 6 =$$

$$\textcircled{4} \quad 6 + \overset{\dots}{4} = 10$$

$$\textcircled{5} \quad 6 + 5 =$$

$$\textcircled{6} \quad 6 + 2 =$$





すざろくたしざん 4

5 か 6 に たす



日にち： 月 日

名まえ _____

・ けいさんをしましょう。うすい・はなぞりましょう。

1 2 3 4 5 6 7 8 9 10 11 12

① 6 + 3 = 9

② 6 + 4 =


③ 6 + 2 =

④ 5 + 1 = 6

⑤ 5 + 5 =

⑥ 5 + 6 =





すざろくたしざん 4

5 か 6 に たす



日にち： 月 日

名まえ _____

・ けいさんをしましょう。うすい・はなぞりましょう。

1 2 3 4 5 6 7 8 9 10 11 12

$$\textcircled{1} \quad 6 + \overset{\dots}{3} =$$

$$\textcircled{2} \quad 6 + 6 =$$


$$\textcircled{3} \quad 6 + 4 =$$

$$\textcircled{4} \quad 5 + \overset{\dots}{2} =$$

$$\textcircled{5} \quad 5 + 5 =$$

$$\textcircled{6} \quad 5 + 1 =$$





すざろくたしざん 4

5 か 6 に たす



日にち： 月 日

名まえ _____

・ けいさんをしましょう。うすい・はなぞりましょう。

1 2 3 4 5 6 7 8 9 10 11 12

① 5 + 2 = 7

② 6 + 6 = 12


③ 6 + 3 =

④ 5 + 5 =

⑤ 5 + 1 =

⑥ 6 + 4 =





すごろくたしざん 4

5 か 6 に たす



日にち： 月 日

名まえ _____

・ けいさんをしましょう。

1 2 3 4 5 6 7 8 9 10 11 12

① 6 + 4 =

② 5 + 6 =


③ 5 + 2 =

④ 6 + 3 =

⑤ 6 + 1 =

⑥ 5 + 5 =





すざろくたしざん 4

5 か 6 に たす



日にち： 月 日

名まえ _____

・ けいさんをしましょう。

1 2 3 4 5 6 7 8 9 10 11 12

① 6 + 1 =

② 5 + 6 =


③ 6 + 2 =

④ 5 + 4 =

⑤ 6 + 3 =

⑥ 6 + 5 =





すごろくたしざん 4

5 か 6 に たす



日にち： 月 日

名まえ _____

・ けいさんをしましょう。

1 2 3 4 5 6 7 8 9 10 11 12

① 6 + 6 =

② 6 + 3 =


③ 5 + 5 =

④ 6 + 1 =

⑤ 5 + 2 =

⑥ 6 + 4 =





すざろくたしざん 4

5 か 6 に たす



日にち： 月 日

名まえ _____

・ けいさんをしましょう。

1 2 3 4 5 6 7 8 9 10 11 12

① 5 + 3 =

② 6 + 6 =


③ 5 + 4 =

④ 6 + 2 =

⑤ 5 + 1 =

⑥ 6 + 5 =





すごろくたしざん 4

5 か 6 に たす



日にち： 月 日

名まえ _____

・ けいさんをしましょう。

$$\textcircled{1} \quad 5 + 4 = 9$$


$$\textcircled{2} \quad 5 + 1 =$$

$$\textcircled{3} \quad 5 + 6 =$$

$$\textcircled{4} \quad 6 + 2 = 8$$

$$\textcircled{5} \quad 6 + 3 =$$

$$\textcircled{6} \quad 6 + 5 =$$



すざろくたしざん 4

5 か 6 に たす



日にち： 月 日

名まえ _____

・ けいさんをしましょう。

$$\textcircled{1} \quad 6 + 2 =$$

$$\textcircled{2} \quad 6 + 1 =$$


$$\textcircled{3} \quad 6 + 4 =$$

$$\textcircled{4} \quad 5 + 5 =$$

$$\textcircled{5} \quad 5 + 3 =$$

$$\textcircled{6} \quad 5 + 6 =$$





すざろくたしざん 4

5 か 6 に たす



日にち： 月 日

名まえ _____

・ けいさんをしましょう。

$$\textcircled{1} \quad 5 + 2 =$$


$$\textcircled{2} \quad 5 + 6 =$$

$$\textcircled{3} \quad 6 + 4 =$$

$$\textcircled{4} \quad 6 + 1 =$$

$$\textcircled{5} \quad 5 + 3 =$$

$$\textcircled{6} \quad 6 + 5 =$$



すざろくたしざん 4

5 か 6 に たす

13

日にち： 月 日

名まえ _____

・ けいさんをしましょう。

① 6 + 5 =

② 6 + 4 =


③ 5 + 2 =

④ 6 + 3 =

⑤ 5 + 1 =

⑥ 5 + 6 =





すざろくたしざん 4

5 か 6 に たす

14

日にち： 月 日

名まえ _____

・ けいさんをしましょう。

① 6 + 6 =

② 5 + 4 =


③ 5 + 5 =

④ 6 + 2 =

⑤ 5 + 3 =

⑥ 6 + 1 =





すざろくたしざん 4

5 か 6 に たす

15

日にち： 月 日

名まえ _____

・ けいさんをしましょう。(1もん 20てん)


① 5 + 6 =


② 6 + 3 =

③ 5 + 5 =

④ 6 + 4 =

⑤ 6 + 2 =





すざろくたしざん 4

5 か 6 に たす

16

日にち： 月 日

名まえ _____

・ けいさんをしましょう。(1もん 20てん)

① $6 + 4 =$


② $5 + 5 =$

③ $6 + 2 =$

④ $5 + 6 =$

⑤ $5 + 3 =$





すごろくたしざん 4

5 か 6 に たす



日にち： 月 日

名まえ _____

・ けいさんをしましょう。うすい・はなぞりましょう。

1 2 3 4 5 6 7 8 9 10 11 12

$$\textcircled{1} \quad 5 + \overset{\cdot\cdot}{2} = 7$$

$$\textcircled{2} \quad 5 + \overset{\cdot\cdot\cdot}{4} = 9$$


$$\textcircled{3} \quad 5 + \overset{\cdot}{1} = 6$$

$$\textcircled{4} \quad 6 + \overset{\cdot\cdot\cdot}{5} = 11$$

$$\textcircled{5} \quad 6 + \overset{\cdot\cdot\cdot}{3} = 9$$

$$\textcircled{6} \quad 6 + \overset{\cdot\cdot\cdot}{6} = 12$$





すごろくたしざん 4

5 か 6 に たす



日にち： 月 日

名まえ _____

・ けいさんをしましょう。うすい・はなぞりましょう。

1 2 3 4 5 6 7 8 9 10 11 12

$$\textcircled{1} \quad 5 + \overset{\cdot\cdot\cdot}{3} = 8$$

$$\textcircled{2} \quad 5 + \overset{\cdot}{1} = 6$$


$$\textcircled{3} \quad 5 + \overset{\cdot\cdot\cdot}{6} = 11$$

$$\textcircled{4} \quad 6 + \overset{\cdot\cdot\cdot}{4} = 10$$

$$\textcircled{5} \quad 6 + \overset{\cdot\cdot\cdot}{5} = 11$$

$$\textcircled{6} \quad 6 + \overset{\cdot\cdot}{2} = 8$$





すごろくたしざん 4

5 か 6 に たす



日にち： 月 日

名まえ _____

・ けいさんをしましょう。うすい・はなぞりましょう。

1 2 3 4 5 6 7 8 9 10 11 12

$$\textcircled{1} \quad 6 + \overset{\cdot\cdot\cdot}{3} = 9$$

$$\textcircled{2} \quad 6 + \overset{\cdot\cdot\cdot}{4} = 10$$


$$\textcircled{3} \quad 6 + \overset{\cdot\cdot}{2} = 8$$

$$\textcircled{4} \quad 5 + \overset{\cdot}{1} = 6$$

$$\textcircled{5} \quad 5 + \overset{\cdot\cdot\cdot}{5} = 10$$

$$\textcircled{6} \quad 5 + \overset{\cdot\cdot\cdot}{6} = 11$$





すごろくたしざん 4

5 か 6 にたす



日にち： 月 日

名まえ _____

・ けいさんをしましょう。うすい・はなぞりましょう。

1 2 3 4 5 6 7 8 9 10 11 12

$$\textcircled{1} \quad 6 + \overset{\cdot\cdot\cdot}{3} = 9$$

$$\textcircled{2} \quad 6 + \overset{\cdot\cdot\cdot}{6} = 12$$


$$\textcircled{3} \quad 6 + \overset{\cdot\cdot\cdot}{4} = 10$$

$$\textcircled{4} \quad 5 + \overset{\cdot\cdot}{2} = 7$$

$$\textcircled{5} \quad 5 + \overset{\cdot\cdot\cdot}{5} = 10$$

$$\textcircled{6} \quad 5 + \overset{\cdot}{1} = 6$$





すごろくたしざん 4

5 か 6 に たす



日にち： 月 日

名まえ _____

・ けいさんをしましょう。うすい・はなぞりましょう。

1 2 3 4 5 6 7 8 9 10 11 12

$$\textcircled{1} \quad 5 + \overset{\cdot\cdot}{2} = 7$$

$$\textcircled{2} \quad 6 + \overset{\cdot\cdot\cdot}{6} = 12$$


$$\textcircled{3} \quad 6 + \overset{\cdot\cdot\cdot}{3} = 9$$

$$\textcircled{4} \quad 5 + \overset{\cdot\cdot\cdot}{5} = 10$$

$$\textcircled{5} \quad 5 + \overset{\cdot}{1} = 6$$

$$\textcircled{6} \quad 6 + \overset{\cdot\cdot\cdot}{4} = 10$$





すごろくたしざん 4

5 か 6 に たす



日にち： 月 日

名まえ _____

・ けいさんをしましょう。

1 2 3 4 5 6 7 8 9 10 11 12

$$\textcircled{1} \quad 6 + \overset{\cdot\cdot\cdot}{4} = 10$$

$$\textcircled{2} \quad 5 + \overset{\cdot\cdot\cdot}{6} = 11$$


$$\textcircled{3} \quad 5 + \overset{\cdot\cdot}{2} = 7$$

$$\textcircled{4} \quad 6 + \overset{\cdot\cdot\cdot}{3} = 9$$

$$\textcircled{5} \quad 6 + \overset{\cdot}{1} = 7$$

$$\textcircled{6} \quad 5 + \overset{\cdot\cdot\cdot}{5} = 10$$





すごろくたしざん 4

5 か 6 に たす



日にち： 月 日

名まえ _____

・ けいさんをしましょう。

1 2 3 4 5 6 7 8 9 10 11 12

$$\textcircled{1} \quad 6 + \overset{\cdot}{1} = 7$$

$$\textcircled{2} \quad 5 + \begin{matrix} \cdot \cdot \cdot \\ \cdot \cdot \cdot \end{matrix} 6 = 11$$


$$\textcircled{3} \quad 6 + \overset{\cdot \cdot}{2} = 8$$

$$\textcircled{4} \quad 5 + \begin{matrix} \cdot \cdot \cdot \\ \cdot \cdot \cdot \end{matrix} 4 = 9$$

$$\textcircled{5} \quad 6 + \begin{matrix} \cdot \cdot \cdot \\ \cdot \cdot \cdot \end{matrix} 3 = 9$$

$$\textcircled{6} \quad 6 + \begin{matrix} \cdot \cdot \cdot \\ \cdot \cdot \cdot \end{matrix} 5 = 11$$





すごろくたしざん 4

5 か 6 に たす



日にち： 月 日

名まえ _____

・ けいさんをしましょう。

1 2 3 4 5 6 7 8 9 10 11 12

$$\textcircled{1} \quad 6 + \begin{array}{c} \bullet \\ \bullet \\ \bullet \\ \bullet \end{array} 6 = 12$$

$$\textcircled{2} \quad 6 + \begin{array}{c} \bullet \\ \bullet \\ \bullet \end{array} 3 = 9$$


$$\textcircled{3} \quad 5 + \begin{array}{c} \bullet \\ \bullet \\ \bullet \\ \bullet \end{array} 5 = 10$$

$$\textcircled{4} \quad 6 + \begin{array}{c} \bullet \\ | \end{array} 1 = 7$$

$$\textcircled{5} \quad 5 + \begin{array}{c} \bullet \\ \bullet \end{array} 2 = 7$$

$$\textcircled{6} \quad 6 + \begin{array}{c} \bullet \\ \bullet \\ \bullet \\ \bullet \end{array} 4 = 10$$





すごろくたしざん 4

5 か 6 に たす



日にち： 月 日

名まえ _____

・ けいさんをしましょう。

1 2 3 4 5 6 7 8 9 10 11 12

$$\textcircled{1} \quad 5 + \overset{\cdot\cdot\cdot}{3} = 8$$

$$\textcircled{2} \quad 6 + \overset{\cdot\cdot\cdot}{6} = 12$$


$$\textcircled{3} \quad 5 + \overset{\cdot\cdot\cdot}{4} = 9$$

$$\textcircled{4} \quad 6 + \overset{\cdot\cdot}{2} = 8$$

$$\textcircled{5} \quad 5 + \overset{\cdot}{1} = 6$$

$$\textcircled{6} \quad 6 + \overset{\cdot\cdot\cdot}{5} = 11$$





すざろくたしざん 4

5 か 6 に たす



日にち： 月 日

名まえ _____

・ けいさんをしましょう。

$$\textcircled{1} \quad 5 + \begin{array}{c} \cdot \\ \cdot \\ \cdot \end{array} 4 = 9$$

$$\textcircled{2} \quad 5 + \begin{array}{c} \cdot \\ | \end{array} = 6$$


$$\textcircled{3} \quad 5 + \begin{array}{c} \cdot \\ \cdot \\ \cdot \end{array} 6 = 11$$

$$\textcircled{4} \quad 6 + \begin{array}{c} \cdot \\ \cdot \end{array} 2 = 8$$

$$\textcircled{5} \quad 6 + \begin{array}{c} \cdot \\ \cdot \\ \cdot \end{array} 3 = 9$$

$$\textcircled{6} \quad 6 + \begin{array}{c} \cdot \\ \cdot \\ \cdot \end{array} 5 = 11$$





すごろくたしざん 4

5 か 6 に たす



日にち： 月 日

名まえ _____

・ けいさんをしましょう。

$$\textcircled{1} \quad 6 + \overset{\cdot\cdot}{2} = 8$$

$$\textcircled{2} \quad 6 + \overset{\cdot}{1} = 7$$


$$\textcircled{3} \quad 6 + \overset{\cdot\cdot\cdot}{4} = 10$$

$$\textcircled{4} \quad 5 + \overset{\cdot\cdot\cdot}{5} = 10$$

$$\textcircled{5} \quad 5 + \overset{\cdot\cdot\cdot}{3} = 8$$

$$\textcircled{6} \quad 5 + \overset{\cdot\cdot\cdot}{6} = 11$$





すざろくたしざん 4

5 か 6 に たす

12

日にち： 月 日

名まえ _____

・ けいさんをしましょう。

$$\textcircled{1} \quad 5 + \overset{\cdot\cdot}{2} = 7$$

$$\textcircled{2} \quad 5 + \overset{\cdot\cdot\cdot}{6} = 11$$


$$\textcircled{3} \quad 6 + \overset{\cdot\cdot\cdot}{4} = 10$$

$$\textcircled{4} \quad 6 + \overset{\cdot}{1} = 7$$

$$\textcircled{5} \quad 5 + \overset{\cdot\cdot\cdot}{3} = 8$$

$$\textcircled{6} \quad 6 + \overset{\cdot\cdot\cdot}{5} = 11$$





すざろくたしざん 4

5 か 6 に たす

13

日にち： 月 日

名まえ _____

・ けいさんをしましょう。

$$\textcircled{1} \quad 6 + \overset{\cdot\cdot\cdot}{5} = 11$$

$$\textcircled{2} \quad 6 + \overset{\cdot\cdot\cdot}{4} = 10$$


$$\textcircled{3} \quad 5 + \overset{\cdot\cdot}{2} = 7$$

$$\textcircled{4} \quad 6 + \overset{\cdot\cdot\cdot}{3} = 9$$

$$\textcircled{5} \quad 5 + \overset{\cdot}{1} = 6$$

$$\textcircled{6} \quad 5 + \overset{\cdot\cdot\cdot}{6} = 11$$





すざろくたしざん 4

5 か 6 に たす

14

日にち： 月 日

名まえ _____

・ けいさんをしましょう。

$$\textcircled{1} \quad 6 + \overset{\cdot\cdot\cdot}{6} = 12$$

$$\textcircled{2} \quad 5 + \overset{\cdot\cdot\cdot}{4} = 9$$


$$\textcircled{3} \quad 5 + \overset{\cdot\cdot\cdot}{5} = 10$$

$$\textcircled{4} \quad 6 + \overset{\cdot\cdot}{2} = 8$$

$$\textcircled{5} \quad 5 + \overset{\cdot\cdot\cdot}{3} = 8$$

$$\textcircled{6} \quad 6 + \overset{\cdot}{1} = 7$$





すざろくたしざん 4

5 か 6 に たす

15

日にち： 月 日

名まえ _____

・ けいさんをしましょう。(1もん 20てん)


① 5 + 6 = 11


② 6 + 3 = 9

③ 5 + 5 = 10

④ 6 + 4 = 10

⑤ 6 + 2 = 8





すざろくたしざん 4

5 か 6 に たす

16

日にち： 月 日

名まえ _____

・ けいさんをしましょう。(1もん 20てん)

① 6 + 4 = 10

② 5 + 5 = 10

③ 6 + 2 = 8

④ 5 + 6 = 11

⑤ 5 + 3 = 8

