

すごろくたしざん 5

● 1 か 3 か 5 にたす



日にち： 月 日

名まえ _____

・ けいさんをしましょう。うすい・はなぞりましょう。

1 2 3 4 5 6 7 8 9 10 11 12

$$\textcircled{1} \quad 1 + 2 = 3$$

$$\textcircled{2} \quad 1 + 4 =$$


$$\textcircled{3} \quad 3 + 5 = 8$$

$$\textcircled{4} \quad 3 + 3 =$$

$$\textcircled{5} \quad 5 + 1 = 6$$

$$\textcircled{6} \quad 5 + 6 =$$





すごろくたしざん 5

● 1 か 3 か 5 にたす



日にち： 月 日

名まえ _____

・ けいさんをしましょう。うすい・はなぞりましょう。

1 2 3 4 5 6 7 8 9 10 11 12

① 1 + 1 = 2

② 1 + 4 =


③ 3 + 6 = 9

④ 3 + 3 =

⑤ 5 + 2 =

⑥ 5 + 5 =





すざろくたしざん 5

● 1 か 3 か 5 にたす



日にち： 月 日

名まえ _____

・ けいさんをしましょう。うすい・はなぞりましょう。

1 2 3 4 5 6 7 8 9 10 11 12

① 5 + 2 = 7

② 5 + 1 =


③ 1 + 4 =

④ 1 + 5 =

⑤ 3 + 6 =

⑥ 3 + 3 =





すごろくたしざん 5

● 1 か 3 か 5 にたす



日にち： 月 日

名まえ _____

・ けいさんをしましょう。うすい・はなぞりましょう。

1 2 3 4 5 6 7 8 9 10 11 12

① 1 + 4 =

② 1 + 6 =


③ 5 + 3 =

④ 5 + 1 =

⑤ 3 + 5 =

⑥ 3 + 2 =





すごろくたしざん 5

● 1 か 3 か 5 にたす



日にち： 月 日

名まえ _____

・ けいさんをしましょう。うすい・はなぞりましょう。

1 2 3 4 5 6 7 8 9 10 11 12

① 1 + 2 =

② 5 + 1 =


③ 3 + 5 =

④ 1 + 4 =

⑤ 5 + 3 =

⑥ 3 + 6 =





すざろくたしざん 5

● 1 か 3 か 5 にたす



日にち： 月 日

名まえ _____

・ けいさんをしましょう。うすい・はなぞりましょう。

1 2 3 4 5 6 7 8 9 10 11 12

① 1 + 5 =

② 3 + 1 =

③ 1 + 2 =


④ 5 + 4 =

⑤ 5 + 6 =

⑥ 3 + 3 =



すらすらぷりんと



すざろくたしざん 5

● 1 か 3 か 5 にたす



日にち： 月 日

名まえ _____

・ けいさんをしましょう。うすい・はなぞりましょう。

1 2 3 4 5 6 7 8 9 10 11 12

① 1 + 5 =

② 3 + 4 =

③ 3 + 2 =


④ 5 + 6 =

⑤ 5 + 1 =

⑥ 1 + 3 =



すらすらぷりんと



すざろくたしざん 5

● 1 か 3 か 5 にたす



日にち： 月 日

名まえ _____

・ けいさんをしましょう。うすい・はなぞりましょう。

1 2 3 4 5 6 7 8 9 10 11 12

① 5 + 4 =

② 1 + 2 =

③ 3 + 1 =


④ 1 + 6 =

⑤ 5 + 5 =

⑥ 3 + 3 =



すらすらぷりんと



すざろくたしざん 5

● 1 か 3 か 5 にたす



日にち： 月 日

名まえ _____

・ けいさんをしましょう。うすい・はなぞりましょう。

1 2 3 4 5 6 7 8 9 10 11 12

① 3 + 2 =

② 5 + 4 =


③ 3 + 6 =

④ 5 + 3 =

⑤ 1 + 5 =

⑥ 1 + 1 =





すごろくたしざん 5

● 1か3か5にたす



日にち： 月 日

名まえ _____

・ けいさんをしましょう。

$$\textcircled{1} \quad 1 + 4 =$$

$$\textcircled{2} \quad 1 + 1 =$$


$$\textcircled{3} \quad 3 + 6 =$$

$$\textcircled{4} \quad 3 + 2 =$$

$$\textcircled{5} \quad 5 + 3 =$$

$$\textcircled{6} \quad 5 + 5 =$$





すぐらくたしざん 5

● 1か3か5にたす



日にち： 月 日

名まえ _____

・ けいさんをしましょう。

$$\textcircled{1} \quad 5 + 6 =$$

$$\textcircled{2} \quad 5 + 2 =$$


$$\textcircled{3} \quad 1 + 4 =$$

$$\textcircled{4} \quad 1 + 3 =$$

$$\textcircled{5} \quad 3 + 1 =$$

$$\textcircled{6} \quad 3 + 5 =$$





すごろくたしざん 5

● 1か3か5にたす



日にち： 月 日

名まえ _____

・ けいさんをしましょう。

$$\textcircled{1} \quad 5 + 5 =$$

$$\textcircled{2} \quad 1 + 6 =$$


$$\textcircled{3} \quad 3 + 4 =$$

$$\textcircled{4} \quad 5 + 1 =$$

$$\textcircled{5} \quad 3 + 3 =$$

$$\textcircled{6} \quad 1 + 2 =$$





すごろくたしざん 5

● 1か3か5にたす



日にち： 月 日

名まえ _____

・ けいさんをしましょう。

$$\textcircled{1} \quad 3 + 5 =$$

$$\textcircled{2} \quad 5 + 3 =$$


$$\textcircled{3} \quad 1 + 2 =$$

$$\textcircled{4} \quad 1 + 1 =$$

$$\textcircled{5} \quad 3 + 4 =$$

$$\textcircled{6} \quad 5 + 6 =$$





すごろくたしざん 5

● 1か3か5にたす



日にち： 月 日

名まえ

・ けいさんをしましょう。

$$\textcircled{1} \quad 3 + 2 =$$

$$\textcircled{2} \quad 3 + 4 =$$


$$\textcircled{3} \quad 1 + 5 =$$

$$\textcircled{4} \quad 5 + 6 =$$

$$\textcircled{5} \quad 1 + 3 =$$

$$\textcircled{6} \quad 5 + 1 =$$





すごろくたしざん 5

● 1か3か5にたす



日にち： 月 日

名まえ _____

・ けいさんをしましょう。(1もん 20てん)


① $5 + 6 =$


② $3 + 5 =$

③ $1 + 3 =$

④ $3 + 4 =$

⑤ $5 + 2 =$





すごろくたしざん 5

● 1か3か5にたす



日にち： 月 日

名まえ _____

・ けいさんをしましょう。(1もん 20てん)

① 3 + 4 =


② 5 + 5 =

③ 1 + 2 =

④ 5 + 6 =

⑤ 3 + 3 =





すごろくたしざん 5

① か 3 か 5 に たす



日にち： 月 日

名まえ _____

・ けいさんをしましょう。うすい・はなぞりましょう。

1 2 3 4 5 6 7 8 9 10 11 12

$$\textcircled{1} \quad 1 + \overset{\cdot\cdot}{2} = 3$$

$$\textcircled{2} \quad 1 + \overset{\cdot\cdot\cdot}{4} = 5$$


$$\textcircled{3} \quad 3 + \overset{\cdot\cdot\cdot}{5} = 8$$

$$\textcircled{4} \quad 3 + \overset{\cdot\cdot\cdot}{3} = 6$$

$$\textcircled{5} \quad 5 + \overset{\cdot}{1} = 6$$

$$\textcircled{6} \quad 5 + \overset{\cdot\cdot\cdot}{6} = 11$$





すごろくたしざん 5

● 1か3か5にたす



日にち： 月 日

名まえ _____

・ けいさんをしましょう。うすい・はなぞりましょう。

1 2 3 4 5 6 7 8 9 10 11 12

$$\textcircled{1} \quad 1 + 1 = 2$$

$$\textcircled{2} \quad 1 + 4 = 5$$


$$\textcircled{3} \quad 3 + 6 = 9$$

$$\textcircled{4} \quad 3 + 3 = 6$$

$$\textcircled{5} \quad 5 + 2 = 7$$

$$\textcircled{6} \quad 5 + 5 = 10$$





すざろくたしざん 5

● 1か3か5にたす



日にち： 月 日

名まえ _____

・ けいさんをしましょう。うすい・はなぞりましょう。

1 2 3 4 5 6 7 8 9 10 11 12

$$\textcircled{1} \quad 5 + \overset{\cdot\cdot}{2} = 7$$

$$\textcircled{2} \quad 5 + \overset{\cdot}{1} = 3$$


$$\textcircled{3} \quad 1 + \overset{\cdot\cdot\cdot}{4} = 5$$

$$\textcircled{4} \quad 1 + \overset{\cdot\cdot\cdot}{5} = 6$$

$$\textcircled{5} \quad 3 + \overset{\cdot\cdot\cdot}{6} = 9$$

$$\textcircled{6} \quad 3 + \overset{\cdot\cdot\cdot}{3} = 6$$





すごろくたしざん 5

● 1か3か5にたす



日にち： 月 日

名まえ _____

・ けいさんをしましょう。うすい・はなぞりましょう。

1 2 3 4 5 6 7 8 9 10 11 12

$$\textcircled{1} \quad 1 + \overset{\cdot\cdot\cdot}{4} = 5$$

$$\textcircled{2} \quad 1 + \overset{\cdot\cdot\cdot}{6} = 7$$


$$\textcircled{3} \quad 5 + \overset{\cdot\cdot\cdot}{3} = 8$$

$$\textcircled{4} \quad 5 + \overset{\cdot}{1} = 6$$

$$\textcircled{5} \quad 3 + \overset{\cdot\cdot\cdot}{5} = 8$$

$$\textcircled{6} \quad 3 + \overset{\cdot\cdot}{2} = 5$$





すごろくたしざん 5

● 1か3か5にたす



日にち： 月 日

名まえ _____

・ けいさんをしましょう。うすい・はなぞりましょう。

1 2 3 4 5 6 7 8 9 10 11 12

$$\textcircled{1} \quad 1 + \overset{\cdot\cdot}{2} = 3$$

$$\textcircled{2} \quad 5 + \overset{\cdot}{1} = 6$$


$$\textcircled{3} \quad 3 + \overset{\cdot\cdot\cdot}{5} = 8$$

$$\textcircled{4} \quad 1 + \overset{\cdot\cdot\cdot}{4} = 5$$

$$\textcircled{5} \quad 5 + \overset{\cdot\cdot\cdot}{3} = 8$$

$$\textcircled{6} \quad 3 + \overset{\cdot\cdot\cdot}{6} = 9$$





すごろくたしざん 5

● 1 か 3 か 5 にたす



日にち： 月 日

名まえ _____

・ けいさんをしましょう。うすい・はなぞりましょう。

1 2 3 4 5 6 7 8 9 10 11 12

$$\textcircled{1} \quad 1 + 5 = 6$$

$$\textcircled{2} \quad 3 + 1 = 4$$


$$\textcircled{3} \quad 1 + 2 = 3$$

$$\textcircled{4} \quad 5 + 4 = 9$$

$$\textcircled{5} \quad 5 + 6 = 11$$

$$\textcircled{6} \quad 3 + 3 = 6$$





すごろくたしざん 5

● 1か3か5にたす



日にち： 月 日

名まえ _____

・ けいさんをしましょう。うすい・はなぞりましょう。

1 2 3 4 5 6 7 8 9 10 11 12

$$\textcircled{1} \quad 1 + \overset{\cdot\cdot\cdot}{5} = 6$$

$$\textcircled{2} \quad 3 + \overset{\cdot\cdot\cdot}{4} = 7$$


$$\textcircled{3} \quad 3 + \overset{\cdot\cdot}{2} = 5$$

$$\textcircled{4} \quad 5 + \overset{\cdot\cdot\cdot}{6} = 11$$

$$\textcircled{5} \quad 5 + \overset{\cdot}{1} = 6$$

$$\textcircled{6} \quad 1 + \overset{\cdot\cdot\cdot}{3} = 4$$





すざろくたしざん 5

● 1か3か5にたす



日にち： 月 日

名まえ _____

・ けいさんをしましょう。うすい・はなぞりましょう。

1 2 3 4 5 6 7 8 9 10 11 12

$$\textcircled{1} \quad 5 + \overset{\cdot\cdot\cdot}{4} = 9$$

$$\textcircled{2} \quad 1 + \overset{\cdot\cdot}{2} = 3$$


$$\textcircled{3} \quad 3 + \overset{\cdot}{1} = 4$$

$$\textcircled{4} \quad 1 + \overset{\cdot\cdot\cdot}{6} = 7$$

$$\textcircled{5} \quad 5 + \overset{\cdot\cdot\cdot}{5} = 10$$

$$\textcircled{6} \quad 3 + \overset{\cdot\cdot\cdot}{3} = 6$$





すごろくたしざん 5

● 1か3か5にたす



日にち： 月 日

名まえ _____

・ けいさんをしましょう。うすい・はなぞりましょう。

1 2 3 4 5 6 7 8 9 10 11 12

$$\textcircled{1} \quad 3 + \overset{\cdot\cdot}{2} = 5$$

$$\textcircled{2} \quad 5 + \overset{\cdot\cdot\cdot}{4} = 9$$


$$\textcircled{3} \quad 3 + \overset{\cdot\cdot\cdot}{6} = 9$$

$$\textcircled{4} \quad 5 + \overset{\cdot\cdot\cdot}{3} = 8$$

$$\textcircled{5} \quad 1 + \overset{\cdot\cdot\cdot}{5} = 6$$

$$\textcircled{6} \quad 1 + \overset{\cdot}{1} = 2$$





すごろくたしざん 5

● 1か3か5にたす



日にち： 月 日

名まえ _____

・ けいさんをしましょう。

$$\textcircled{1} \quad 1 + \overset{\cdot\cdot\cdot}{4} = 5$$

$$\textcircled{2} \quad 1 + \overset{\cdot}{1} = 2$$


$$\textcircled{3} \quad 3 + \overset{\cdot\cdot\cdot}{6} = 9$$

$$\textcircled{4} \quad 3 + \overset{\cdot\cdot}{2} = 5$$

$$\textcircled{5} \quad 5 + \overset{\cdot\cdot\cdot}{3} = 8$$

$$\textcircled{6} \quad 5 + \overset{\cdot\cdot\cdot}{5} = 10$$





すごろくたしざん 5

● 1か3か5にたす



日にち： 月 日

名まえ _____

・ けいさんをしましょう。

$$\textcircled{1} \quad 5 + \overset{\cdot\cdot\cdot}{6} = 11$$

$$\textcircled{2} \quad 5 + \overset{\cdot\cdot}{2} = 7$$


$$\textcircled{3} \quad 1 + \overset{\cdot\cdot\cdot}{4} = 5$$

$$\textcircled{4} \quad 1 + \overset{\cdot\cdot\cdot}{3} = 4$$

$$\textcircled{5} \quad 3 + \overset{\cdot}{1} = 4$$

$$\textcircled{6} \quad 3 + \overset{\cdot\cdot\cdot}{5} = 8$$





すごろくたしざん 5

● 1か3か5にたす

12

日にち： 月 日

名まえ _____

・ けいさんをしましょう。

$$\textcircled{1} \quad 5 + \overset{\cdot\cdot\cdot}{5} = 10$$

$$\textcircled{2} \quad 1 + \overset{\cdot\cdot\cdot}{6} = 7$$


$$\textcircled{3} \quad 3 + \overset{\cdot\cdot\cdot}{4} = 7$$

$$\textcircled{4} \quad 5 + \overset{\cdot}{1} = 6$$

$$\textcircled{5} \quad 3 + \overset{\cdot\cdot\cdot}{3} = 6$$

$$\textcircled{6} \quad 1 + \overset{\cdot\cdot}{2} = 3$$





すごろくたしざん 5

● 1か3か5にたす

13

日にち： 月 日

名まえ _____

・ けいさんをしましょう。

$$\textcircled{1} \quad 3 + \overset{\cdot\cdot\cdot}{5} = 8$$

$$\textcircled{2} \quad 5 + \overset{\cdot\cdot\cdot}{3} = 8$$


$$\textcircled{3} \quad 1 + \overset{\cdot\cdot}{2} = 3$$

$$\textcircled{4} \quad 1 + \overset{\cdot}{1} = 2$$

$$\textcircled{5} \quad 3 + \overset{\cdot\cdot\cdot}{4} = 7$$

$$\textcircled{6} \quad 5 + \overset{\cdot\cdot\cdot}{6} = 11$$





すぐらくたしざん 5

● 1か3か5にたす

14

日にち： 月 日

名まえ _____

・ けいさんをしましょう。

$$\textcircled{1} \quad 3 + \overset{\cdot\cdot}{2} = 5$$

$$\textcircled{2} \quad 3 + \overset{\cdot\cdot\cdot}{4} = 7$$


$$\textcircled{3} \quad 1 + \overset{\cdot\cdot\cdot}{5} = 6$$

$$\textcircled{4} \quad 5 + \overset{\cdot\cdot\cdot}{6} = 11$$

$$\textcircled{5} \quad 1 + \overset{\cdot\cdot\cdot}{3} = 4$$

$$\textcircled{6} \quad 5 + \overset{\cdot}{1} = 6$$





すごろくたしざん 5

● 1か3か5にたす

15

日にち： 月 日

名まえ _____

・ けいさんをしましょう。(1もん 20てん)


$$\textcircled{1} \quad 5 + 6 = 11$$


$$\textcircled{2} \quad 3 + 5 = 8$$

$$\textcircled{3} \quad 1 + 3 = 4$$

$$\textcircled{4} \quad 3 + 4 = 7$$

$$\textcircled{5} \quad 5 + 2 = 7$$





すごろくたしざん 5

● 1か3か5にたす

16

日にち： 月 日

名まえ _____

・ けいさんをしましょう。(1もん 20てん)

$$\textcircled{1} \quad 3 + 4 = 7$$

$$\textcircled{2} \quad 5 + 5 = 10$$

$$\textcircled{3} \quad 1 + 2 = 3$$

$$\textcircled{4} \quad 5 + 6 = 11$$

$$\textcircled{5} \quad 3 + 3 = 6$$

