



たしざんと ひきざん！

◎ みんなでなんにん？
(ならびじゆん・がっぺい)



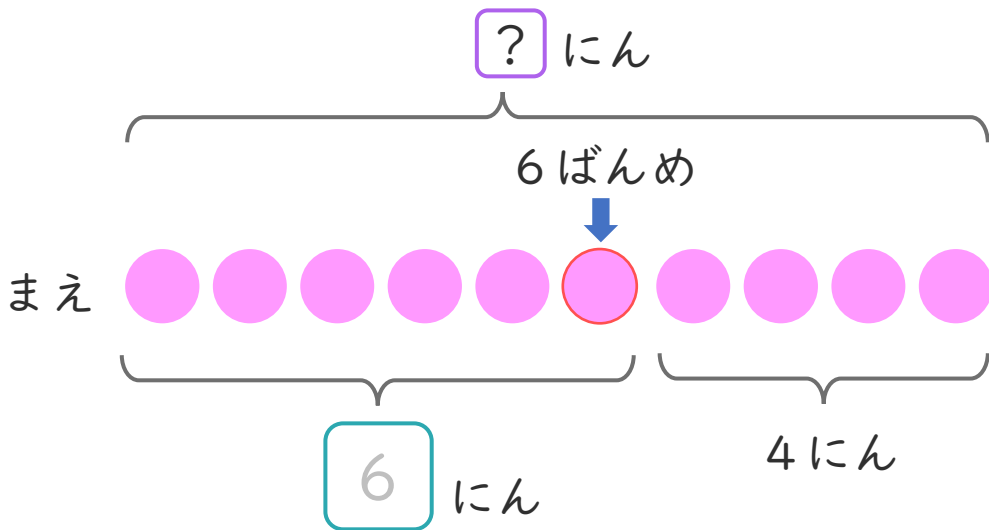
日にち： 月 日

名まえ _____

- ・ ゆらさんは、まえから 6ばんめにいます。
ゆらさんの うしろに 4にん います。
(うすいじはなぞりましょう。)



① に あう かず を かき まし ょう。



② みんなでなんにん いますか。
しきとこたえをかきましょう。

しき： 6 + 4 =

こたえ にん





たしざんと ひきざん！


◎ みんなでなんにん？
(ならびじゆん・がっぺい)



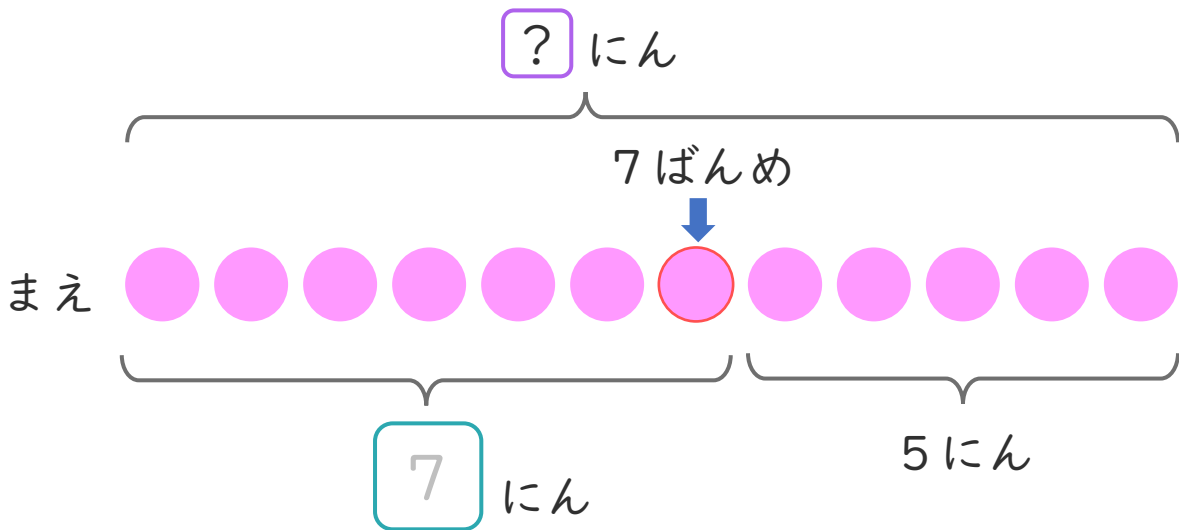
日にち： 月 日

名まえ _____

- ゆいさんは、まえから 7ばんめにいます。
ゆいさんのうしろに 5にんいます。
(うすいじはなぞりましょう。)



① にあうかずをかきましょう。



② みんなでなんにんいますか。
しきとこたえをかきましょう。

しき： + =

こたえ にん





たしざんと ひきざん！

◎ みんなでなんにん？
(ならびじゅん・がっぺい)



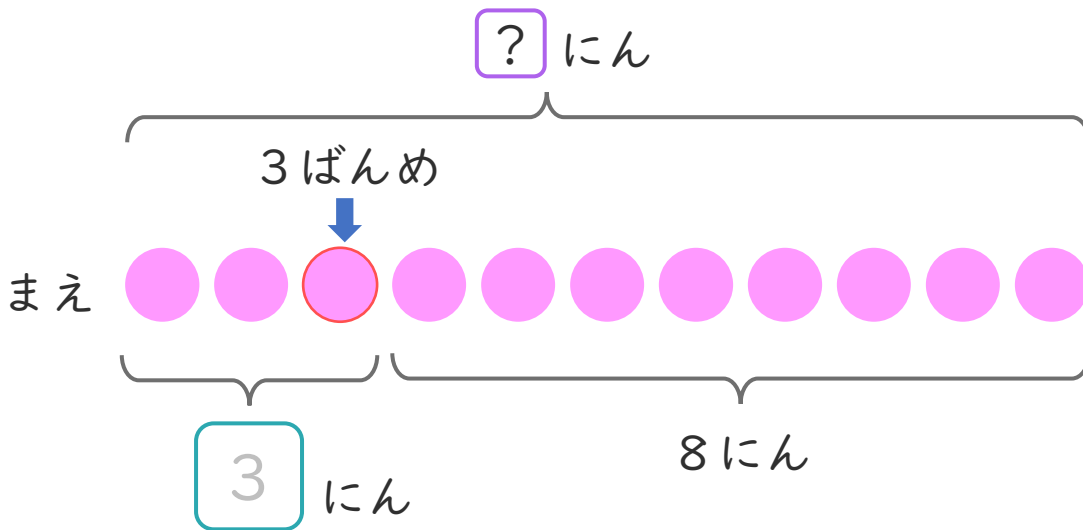
日にち： 月 日

名まえ _____

- けんじさんは、まえから 3ばんめにいます。
けんじさんの うしろに 8にんいます。
(うすいじはなぞりましょう。)



① にあうかずをかきましょう。



② みんなでなんにんいますか。
しきとこたえをかきましょう。

しき： + =

こたえ にん





たしざんと
ひきざん！


◎ みんなでなんにん？
(ならびじゆん・がっぺい)



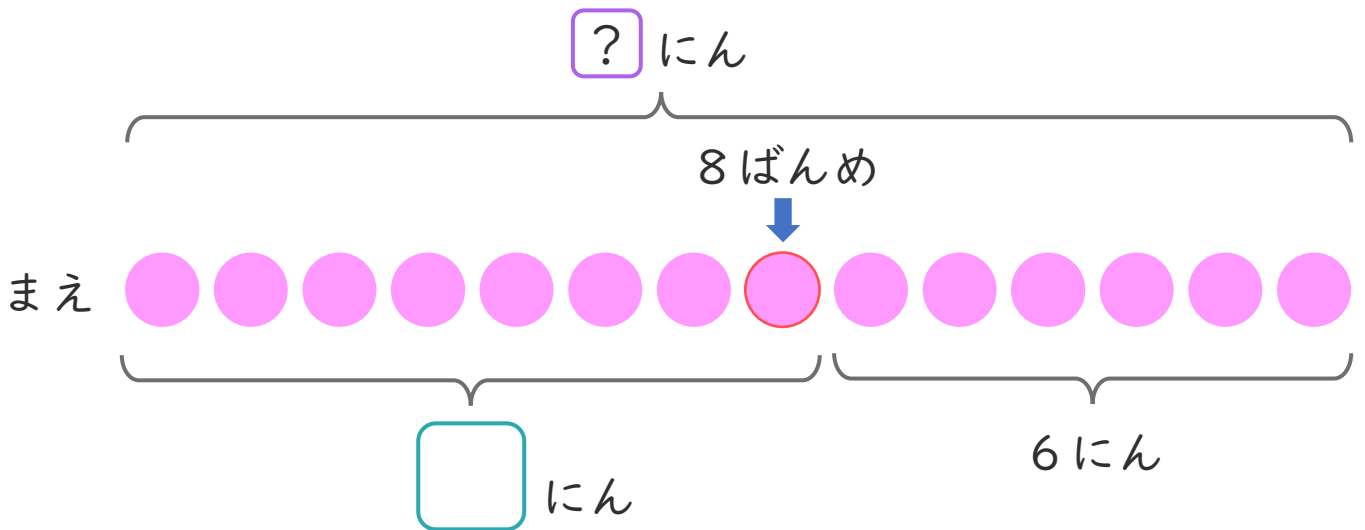
日にち： 月 日

名まえ _____

- ・ みなみさんは、まえから 8ばんめにいます。
みなみさんの うしろに 6にん います。



① に あう かず を かき まし ょう。



② みんなで なんにん いますか。
しきと こたえ を かき まし ょう。

しき： + =

こたえ にん



たしざんと
ひきざん！

◎ みんなでなんにん？
(ならびじゅん・がっぺい)



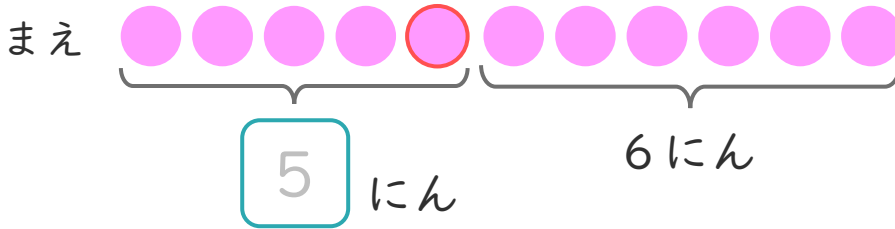
日にち： 月 日

名まえ _____

1 しほさんは、まえから 5ばんめにいます。

しほさんの うしろに 6にんいます。(うすいじはなぞりましょう。)

① にあうかずをかきましょう。



② みんなでなんにんいますか。

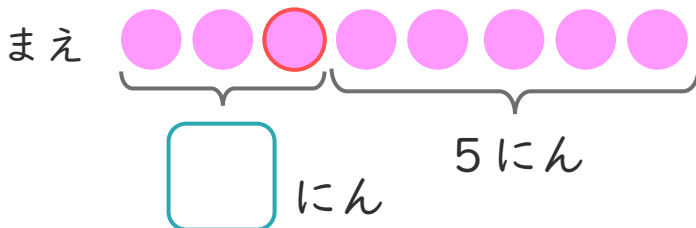
しき：

こたえ

2 そうたさんは、まえから 3ばんめにいます。

そうたさんの うしろに 5にんいます。

① にあうかずをかきましょう。



② みんなでなんにんいますか。

しき：

こたえ





たしざんと
ひきざん！

◎ みんなでなんにん？
(ならびじゆん・がっぺい)



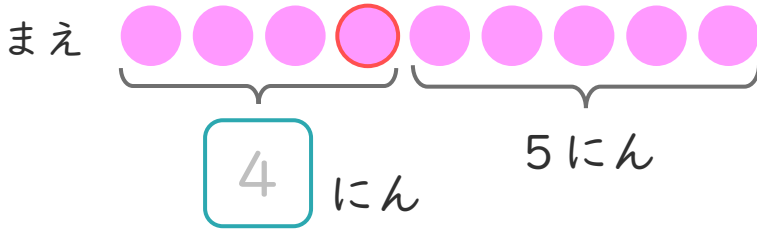
日にち： 月 日

名まえ _____

1 ゆみさんは、まえから 4ばんめにいます。

ゆみさんの うしろに 5にん います。(うすいじはなぞりましょう。)

① にあう かずをかきましょう。



② みんなで なんにん いますか。

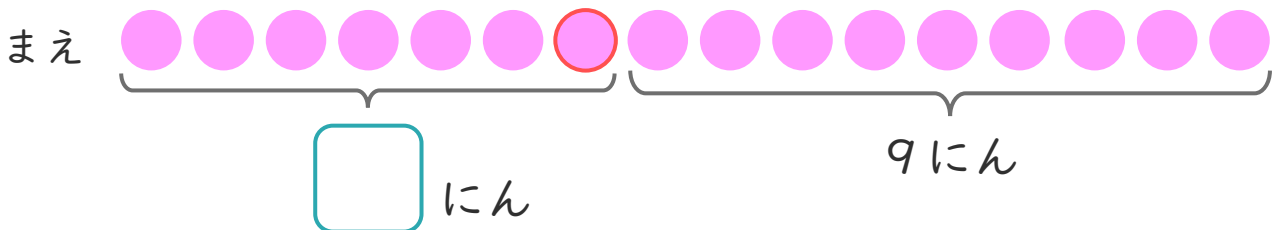
しき：

こたえ {

2 れんたさんは、まえから 7ばんめにいます。

れんたさんの うしろに 9にん います。

① にあう かずをかきましょう。



② みんなで なんにん いますか。

しき：

こたえ {





たしざんと
ひきざん！

◎ みんなでなんにん？
(ならびじゅん・がっぺい)

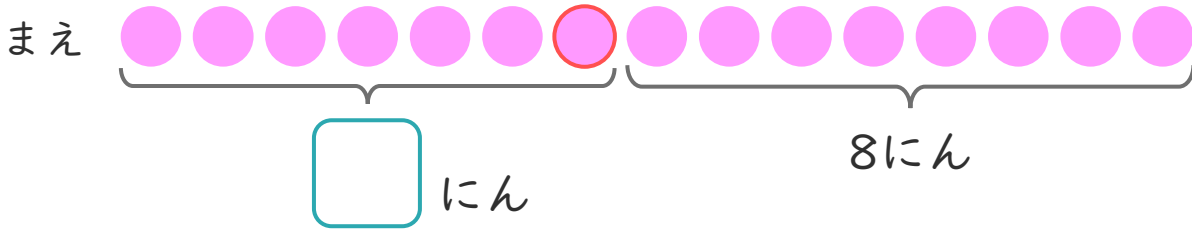


日にち： 月 日

名まえ _____

1 かなさんは、まえから 7ばんめにいます。
かなさんの うしろに 8にんいます。

① にあうかずをかきましょう。



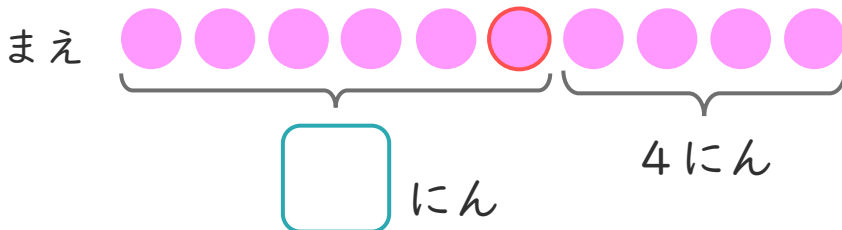
② みんなでなんにんいますか。

しき：

こたえ {

2 けんとさんは、まえから 6ばんめにいます。
けんとさんの うしろに 4にんいます。

① にあうかずをかきましょう。



② みんなでなんにんいますか。

しき：

こたえ {





たしざんと
ひきざん！

◎ みんなでなんにん？
(ならびじゆん・がっぺい)

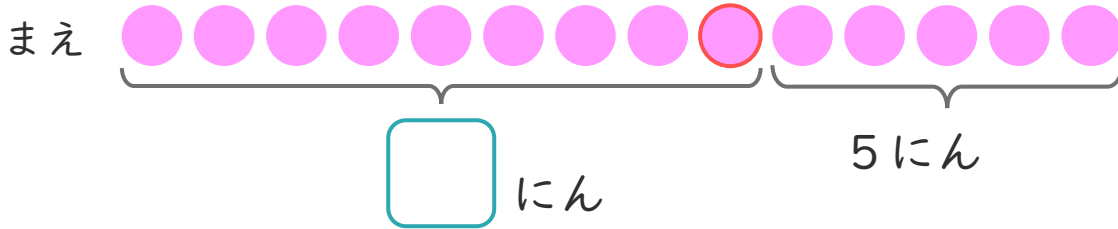


日にち： 月 日

名まえ _____

1 ゆうさんは、まえから 9ばんめにいます。
ゆうさんのうしろに 5にんいます。

① にあうかずをかきましょう。



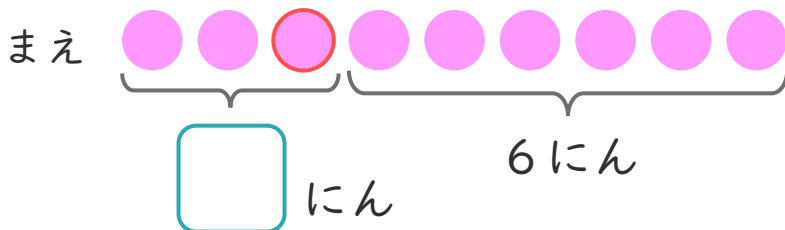
② みんなでなんにんいますか。

しき：

こたえ

2 るみさんは、まえから 3ばんめにいます。
るみとさんのうしろに 6にんいます。

① にあうかずをかきましょう。



② みんなでなんにんいますか。

しき：

こたえ





たしざんと
ひきざん！

◎ みんなでなんにん？
(ならびじゆん・がっぺい)

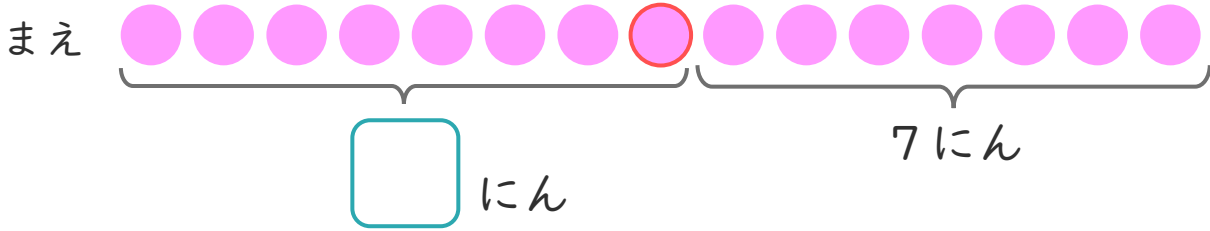


日にち： 月 日

名まえ _____

1 るいさんは、まえから 8ばんめにいます。
るいさんの うしろに 7にんいます。

① にあうかずをかきましょう。



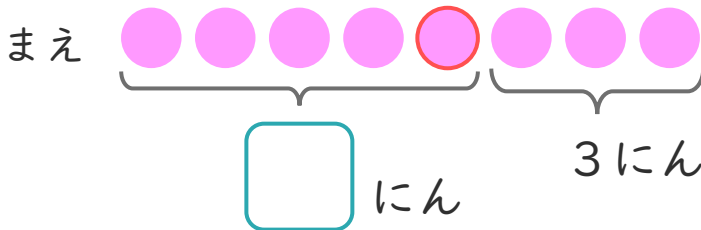
② みんなで なんにん いますか。

しき：

こたえ {

2 ゆきとさんは、まえから 5ばんめにいます。
ゆきとさんの うしろに 3にんいます。

① にあうかずをかきましょう。



② みんなで なんにん いますか。

しき：

こたえ {





たしざんと
ひきざん！

◎ みんなでなんにん？
(ならびじゆん・がっぺい)

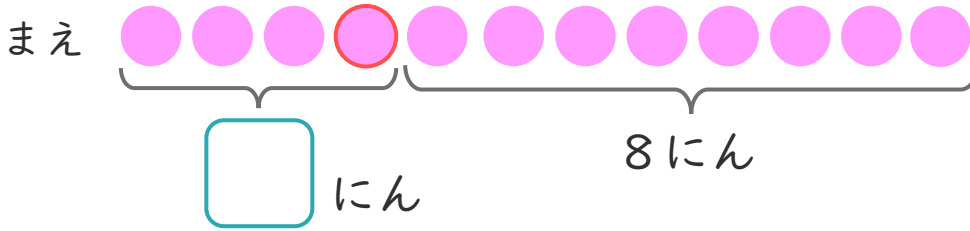


日にち： 月 日

名まえ _____

1 しほさんは、まえから 4ばんめにいます。
しほさんの うしろに 8にんいます。

① にあうかずをかきましょう。



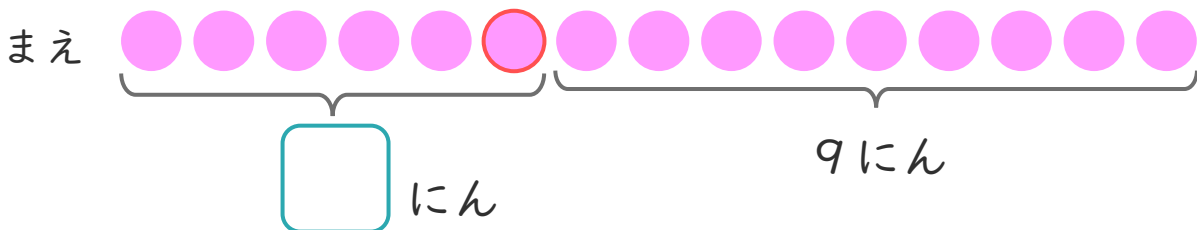
② みんなでなんにんいますか。

しき：

こたえ {

2 そうたさんは、まえから 6ばんめにいます。
そうたさんの うしろに 9にんいます。

① にあうかずをかきましょう。



② みんなでなんにんいますか。

しき：

こたえ {





たしざんと ひきざん！

◎ みんなでなんにん？
(ならびじゆん・がっぺい)

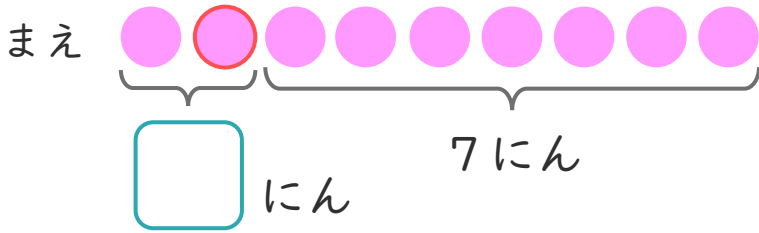


日にち： 月 日

名まえ _____

1 みさきさんは、まえから 2ばんめにいます。
みさきさんの うしろに 7にんいます。

① にあうかずをかきましょう。



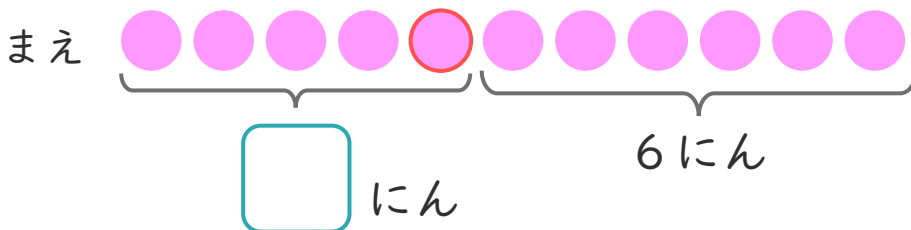
② みんなでなんにんいますか。

しき：

こたえ

2 ゆみさんは、まえから 5ばんめにいます。
ゆみさんの うしろに 6にんいます。

① にあうかずをかきましょう。



② みんなでなんにんいますか。

しき：

こたえ





たしざんと
ひきざん！

◎ みんなでなんにん？
(ならびじゆん・がっぺい)

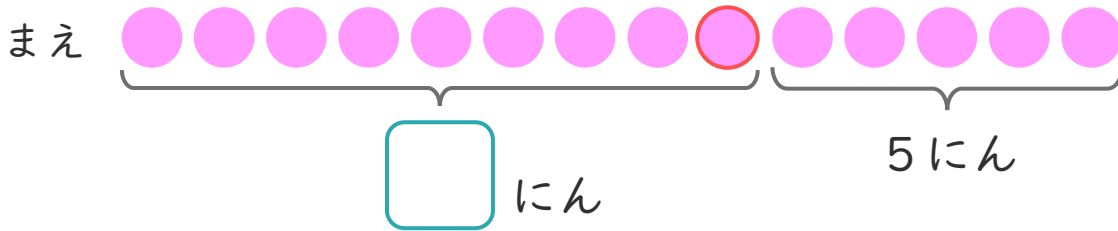
12

日にち： 月 日

名まえ _____

1 さゆりさんは、まえから 9ばんめにいます。
さゆりさんの うしろに 5にんいます。

① にあうかずをかきましょう。



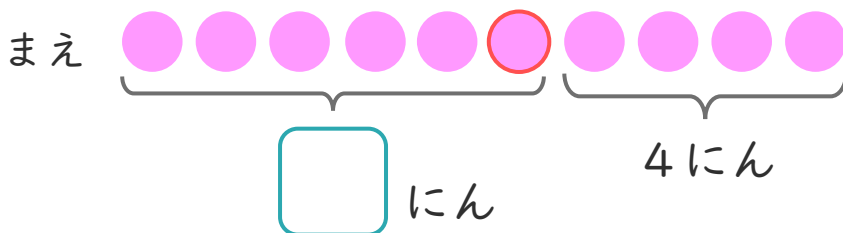
② みんなでなんにんいますか。

しき：

こたえ

2 はやとさんは、まえから 6ばんめにいます。
はやとさんの うしろに 4にんいます。

① にあうかずをかきましょう。



② みんなでなんにんいますか。

しき：

こたえ





たしざんと
ひきざん！

◎ みんなでなんにん？
(ならびじゅん・がっぺい)

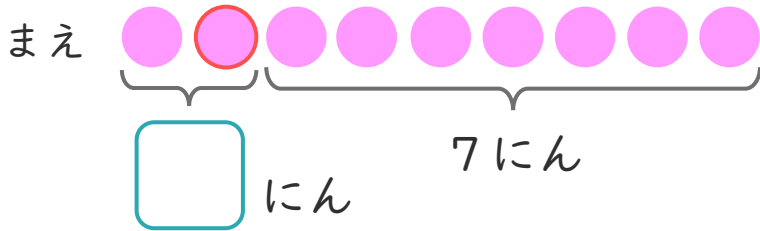
13

日にち： 月 日

名まえ _____

1 かなたさんは、まえから 2ばんめにいます。
かなたさんの うしろに 7にんいます。

① にあうかずをかきましょう。



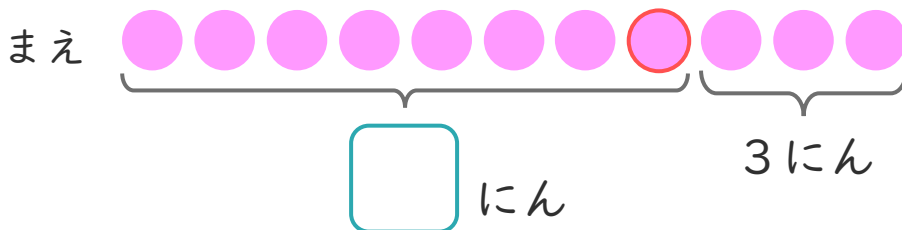
② みんなでなんにんいますか。

しき：

こたえ {

2 さくらさんは、まえから 8ばんめにいます。
さくらさんの うしろに 3にんいます。

① にあうかずをかきましょう。



② みんなでなんにんいますか。

しき：

こたえ {





たしざんと
ひきざん！

◎ みんなでなんにん？
(ならびじゅん・がっぺい)

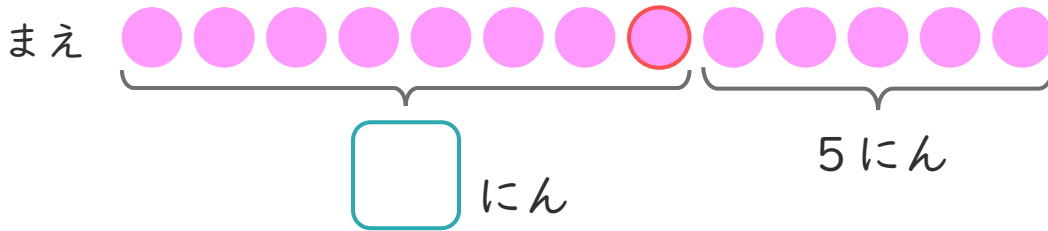
14

日にち： 月 日

名まえ _____

1 みなみさんは、まえから 8ばんめにいます。
みなみさんの うしろに 5にんいます。

① にあうかずをかきましょう。




② みんなでなんにんいますか。

しき：

こたえ

2 しおりさんは、まえから 3ばんめにいます。
しおりさんの うしろに 9にんいます。

① にあうかずをかきましょう。



② みんなでなんにんいますか。

しき：

こたえ





たしざんと
ひきざん！

◎ みんなでなんにん？
(ならびじゆん・がっぺい)

15

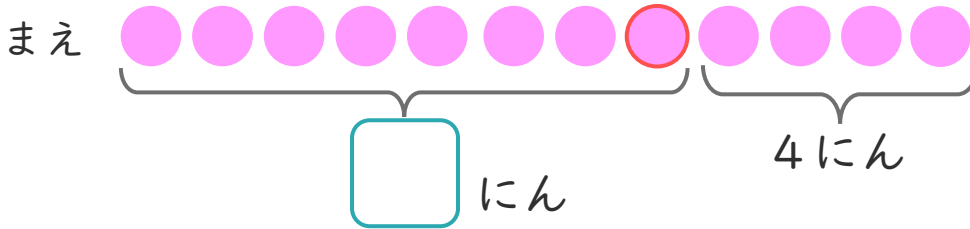
めざせ80点！



名まえ

1 しほさんは、まえから 8ばんめにいます。
しほさんの うしろに 4にんいます。

① にあうかずをかきましょう。(20点)



② みんなでなんにんいますか。

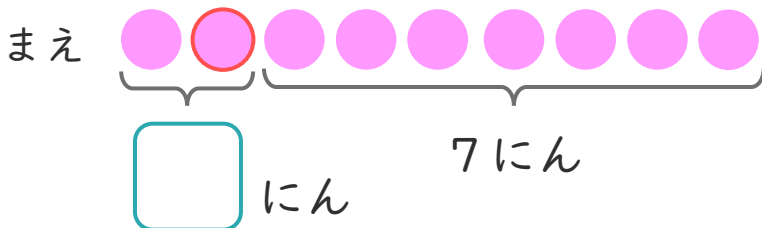
(30点)

しき：

こたえ

2 そうたさんは、まえから 2ばんめにいます。
そうたさんの うしろに 7にんいます。

① にあうかずをかきましょう。(20点)



② みんなでなんにんいますか。

(30点)

しき：

こたえ





たしざんと
ひきざん！

◎ みんなでなんにん？
(ならびじゆん・がっぺい)

16

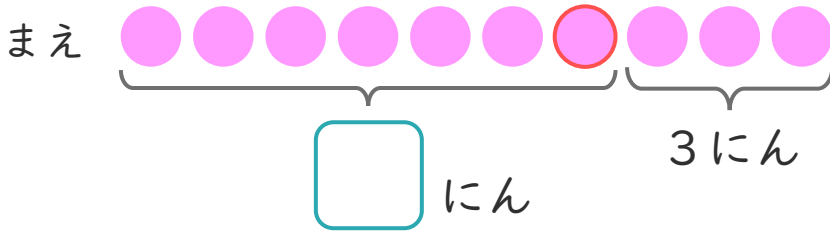
めざせ80点！



名まえ

1 | りほさんは、まえから 7ばんめにいます。
りほさんの うしろに 3にんいます。

① にあうかずをかきましょう。(20点)



② みんなでなんにんいますか。

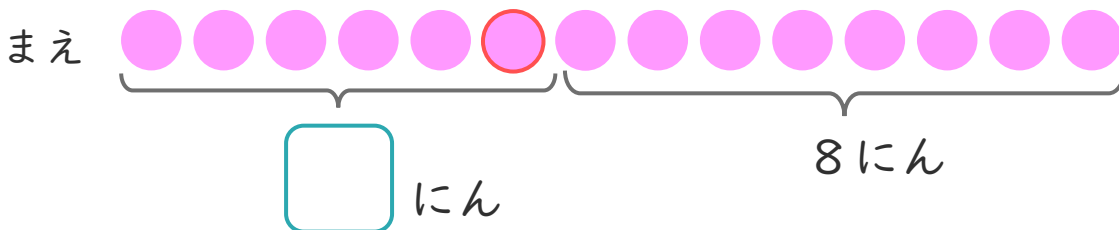
(30点)

しき：

こたえ

2 | ゆうとさんは、まえから 6ばんめにいます。
ゆうとたさんの うしろに 8にんいます。

① にあうかずをかきましょう。(20点)



② みんなでなんにんいますか。

(30点)

しき：

こたえ





たしざんと ひきざん！


◎ みんなでなんにん？
(ならびじゆん・がっぺい)



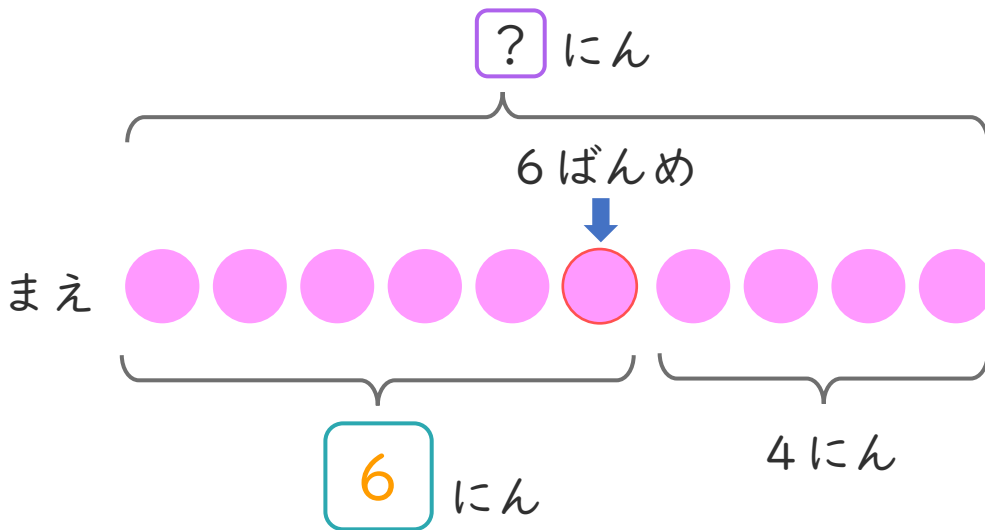
日にち： 月 日

名まえ _____

- ・ ゆらさんは、まえから 6ばんめにいます。
ゆらさんのうしろに 4にんいます。
(うすいじはなぞりましょう。)



① にあうかずをかきましょう。



② みんなでなんにんいますか。
しきとこたえをかきましょう。

しき： + =

こたえ にん





たしざんと ひきざん！


◎ みんなでなんにん？
(ならびじゅん・がっぺい)



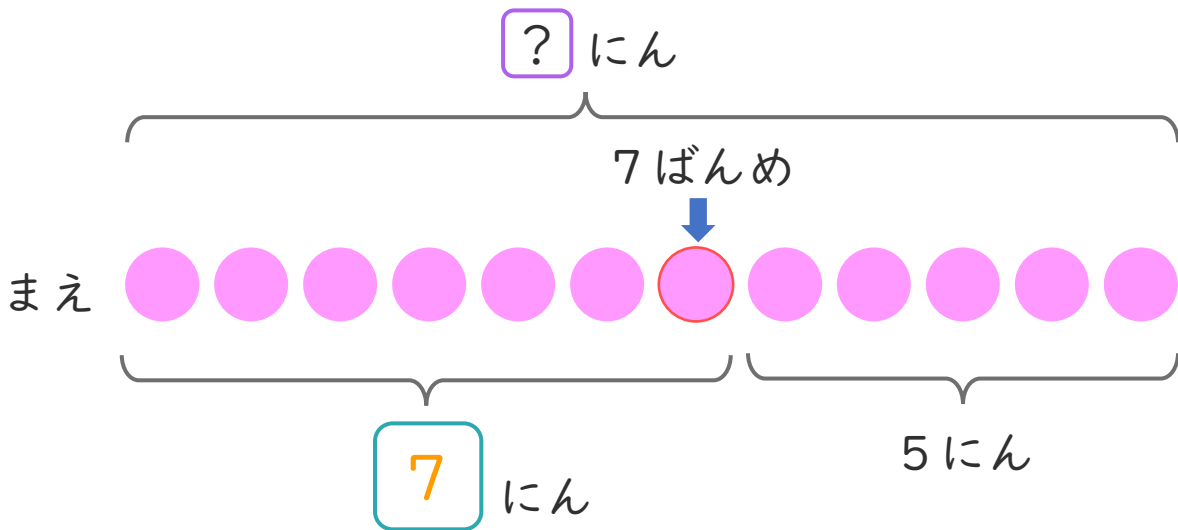
日にち： 月 日

名まえ _____

- ゆいさんは、まえから 7ばんめにいます。
ゆいさんのうしろに 5にんいます。
(うすいじはなぞりましょう。)



① にあうかずをかきましょう。



② みんなでなんにんいますか。
しきとこたえをかきましょう。

しき： + =

こたえ にん





たしざんと ひきざん！

◎ みんなでなんにん？
(ならびじゅん・がっぺい)



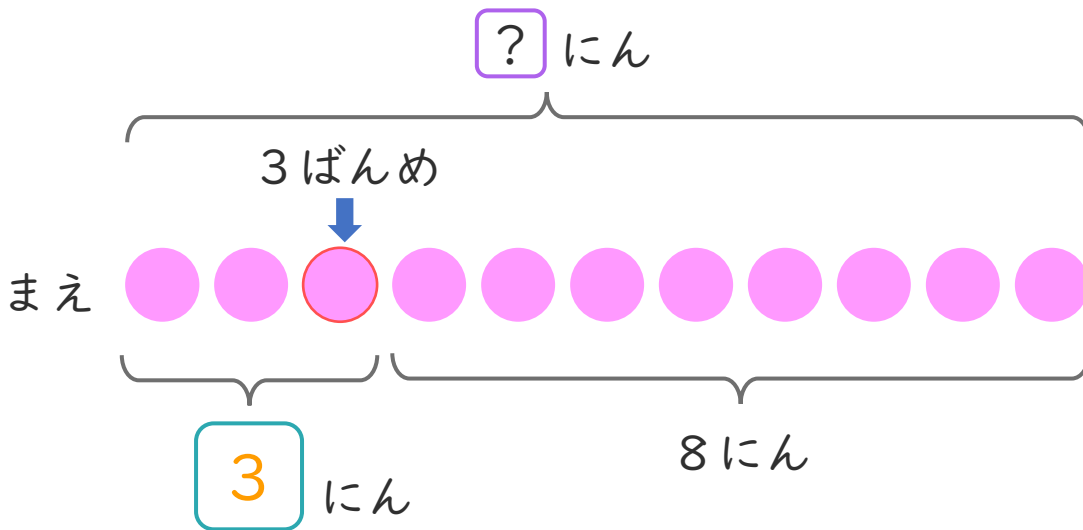
日にち： 月 日

名まえ _____

- けんじさんは、まえから 3ばんめにいます。
けんじさんの うしろに 8にんいます。
(うすいじはなぞりましょう。)



① にあうかずをかきましょう。



- ② みんなでなんにんいますか。
しきとこたえをかきましょう。

しき： + =

こたえ にん





たしざんと ひきざん！


◎ みんなでなんにん？
(ならびじゆん・がっぺい)



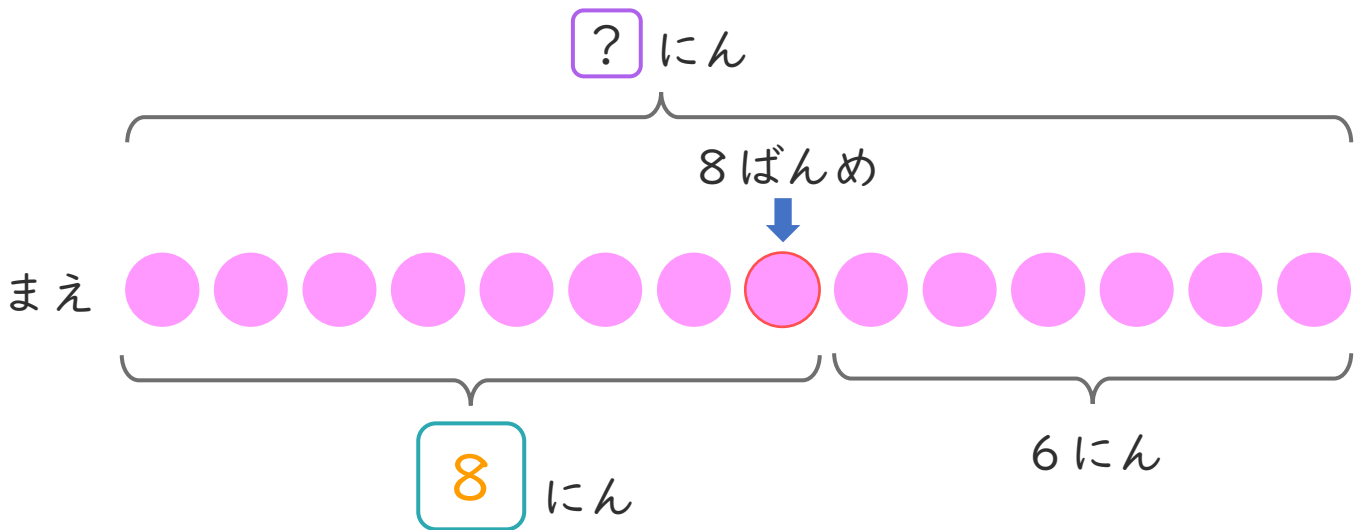
日にち： 月 日

名まえ _____

- ・ みなみさんは、まえから 8ばんめにいます。
みなみさんの うしろに 6にん います。



① に あう かず を かき まし ょう。



② みんなでなんにん いますか。
しきとこたえをかきましょう。

しき： + =

こたえ にん





たしざんと
ひきざん！

◎ みんなでなんにん？
(ならびじゆん・がっぺい)



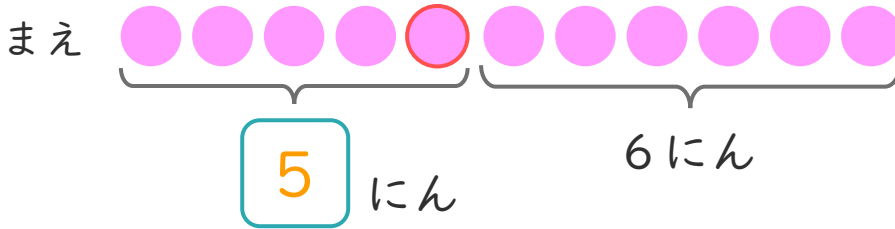
日にち： 月 日

名まえ _____

1 しほさんは、まえから 5ばんめにいます。

しほさんの うしろに 6にんいます。(うすいじはなぞりましょう。)

① □ にあうかずをかきましょう。



② みんなでなんにんいますか。

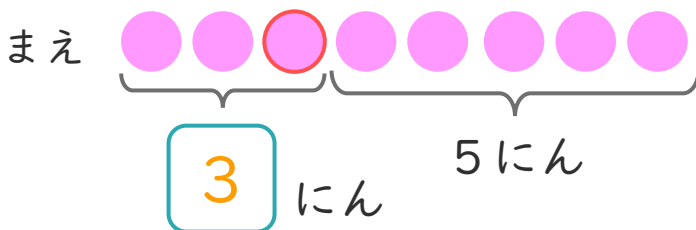
しき： $5 + 6 = 11$

こたえ 11 にん

2 そうたさんは、まえから 3ばんめにいます。

そうたさんの うしろに 5にんいます。

① □ にあうかずをかきましょう。



② みんなでなんにんいますか。

しき： $3 + 5 = 8$

こたえ 8 にん





たしざんと ひきざん！

◎ みんなでなんにん？
(ならびじゆん・がっぺい)



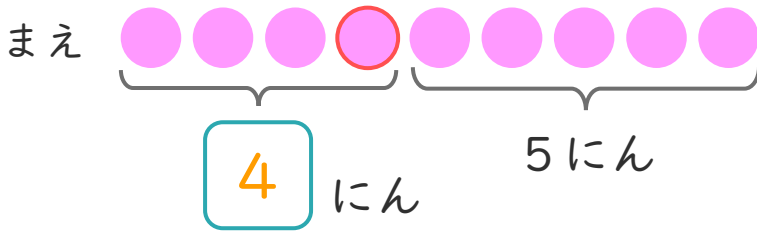
日にち： 月 日

名まえ _____

1 ゆみさんは、まえから 4ばんめにいます。

ゆみさんの うしろに 5にん います。(うすいじはなぞりましょう。)

① にあうかずをかきましょう。



② みんなでなんにん いますか。

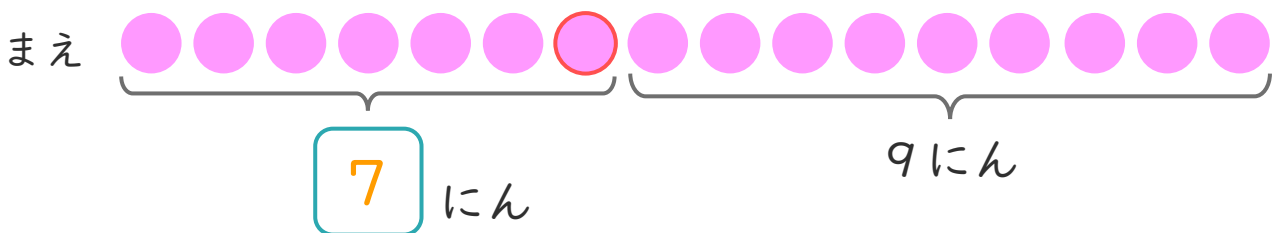
しき： $4 + 5 = 9$

こたえ $\left(9 \text{ にん} \right)$

2 れんたさんは、まえから 7ばんめにいます。

れんたさんの うしろに 9にん います。

① にあうかずをかきましょう。



② みんなでなんにん いますか。

しき： $7 + 9 = 16$

こたえ $\left(16 \text{ にん} \right)$





たしざんと
ひきざん！

◎ みんなでなんにん？
(ならびじゅん・がっぺい)

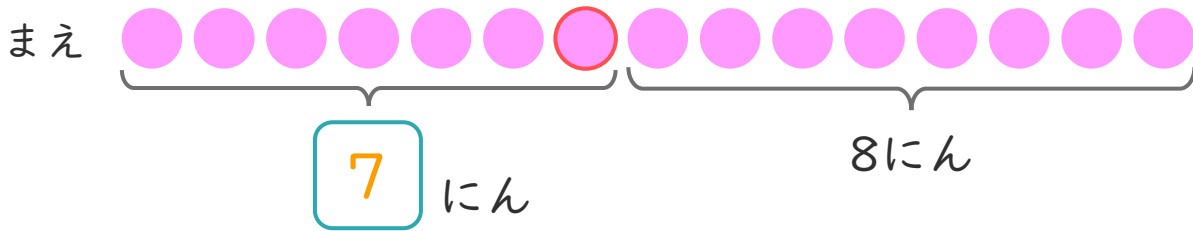


日にち： 月 日

名まえ _____

1 かなさんは、まえから 7ばんめにいます。
かなさんの うしろに 8にんいます。

① にあうかずをかきましょう。



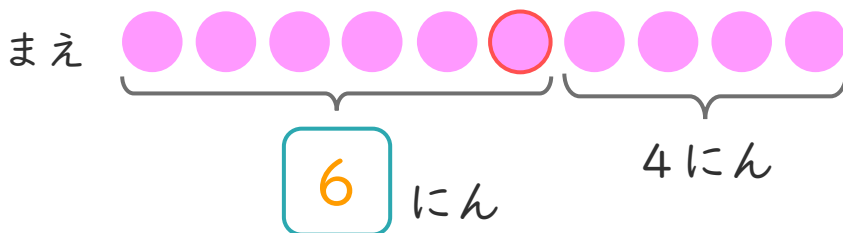
② みんなでなんにんいますか。

しき： $7 + 8 = 15$

こたえ 15 にん

2 けんとさんは、まえから 6ばんめにいます。
けんとさんの うしろに 4にんいます。

① にあうかずをかきましょう。



② みんなでなんにんいますか。

しき： $6 + 4 = 10$

こたえ 10 にん





たしざんと ひきざん！

◎ みんなでなんにん？
(ならびじゆん・がっぺい)

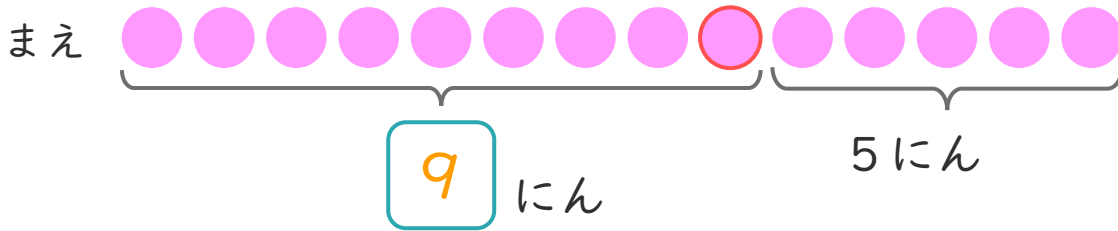


日にち： 月 日

名まえ _____

1 ゆうさんは、まえから 9ばんめにいます。
ゆうさんのうしろに 5にんいます。

① にあうかずをかきましょう。



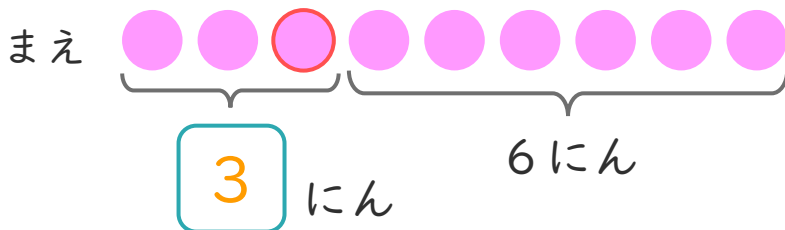
② みんなでなんにんいますか。

しき： $9 + 5 = 14$

こたえ 14 にん

2 るみさんは、まえから 3ばんめにいます。
るみとさんのうしろに 6にんいます。

① にあうかずをかきましょう。



② みんなでなんにんいますか。

しき： $3 + 6 = 9$

こたえ 9 にん





たしざんと
ひきざん！

◎ みんなでなんにん？
(ならびじゆん・がっぺい)

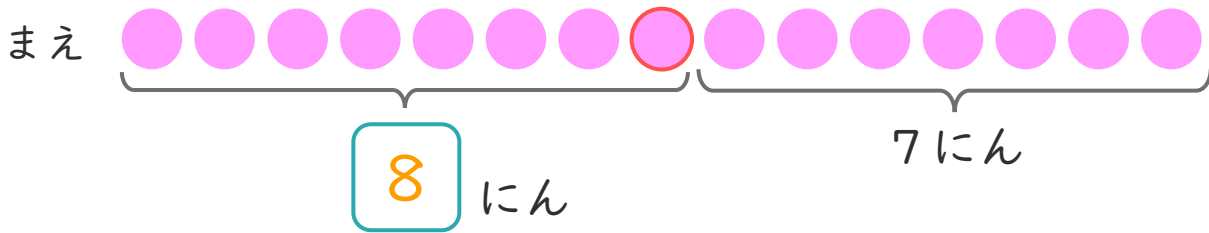


日にち： 月 日

名まえ _____

1 るいさんは、まえから 8ばんめにいます。
るいさんの うしろに 7にんいます。

① にあうかずをかきましょう。



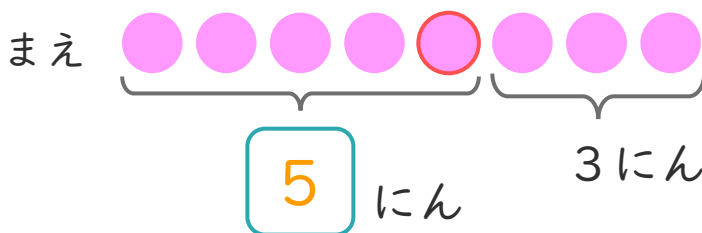
② みんなでなんにんいますか。

しき： $8 + 7 = 15$

こたえ 15 にん

2 ゆきとさんは、まえから 5ばんめにいます。
ゆきとさんの うしろに 3にんいます。

① にあうかずをかきましょう。



② みんなでなんにんいますか。

しき： $5 + 3 = 8$

こたえ 8 にん





たしざんと
ひきざん！

◎ みんなでなんにん？
(ならびじゅん・がっぺい)

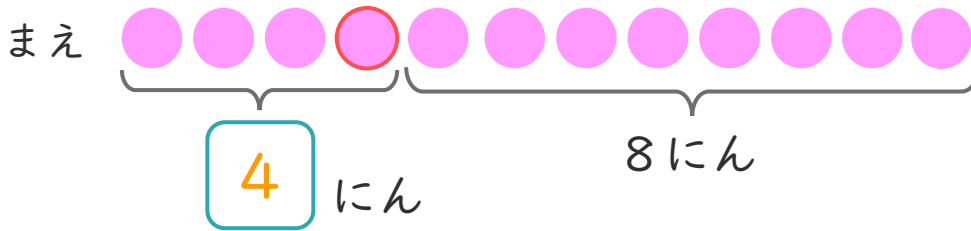


日にち： 月 日

名まえ _____

1 しほさんは、まえから 4ばんめにいます。
しほさんの うしろに 8にんいます。

① にあうかずをかきましょう。



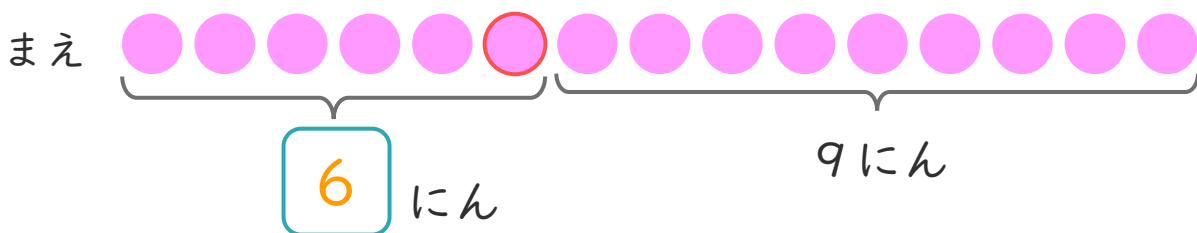
② みんなでなんにんいますか。

しき： $4 + 8 = 12$

こたえ 12 にん

2 そうたさんは、まえから 6ばんめにいます。
そうたさんの うしろに 9にんいます。

① にあうかずをかきましょう。



② みんなでなんにんいますか。

しき： $6 + 9 = 15$

こたえ 15 にん





たしざんと ひきざん！

◎ みんなでなんにん？
(ならびじゆん・がっぺい)

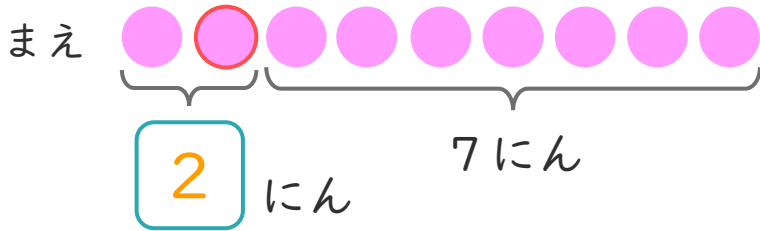


日にち： 月 日

名まえ _____

1 みさきさんは、まえから 2ばんめにいます。
みさきさんの うしろに 7にんいます。

① にあうかずをかきましょう。



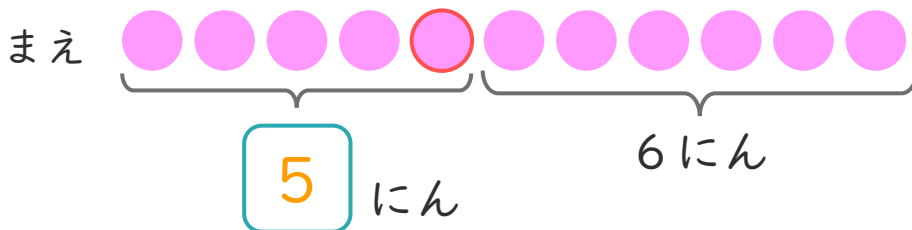
② みんなでなんにんいますか。

しき： $2 + 7 = 9$

こたえ 9 にん

2 ゆみさんは、まえから 5ばんめにいます。
ゆみさんの うしろに 6にんいます。

① にあうかずをかきましょう。



② みんなでなんにんいますか。

しき： $5 + 6 = 11$

こたえ 11 にん





たしざんと
ひきざん！

◎ みんなでなんにん？
(ならびじゅん・がっぺい)

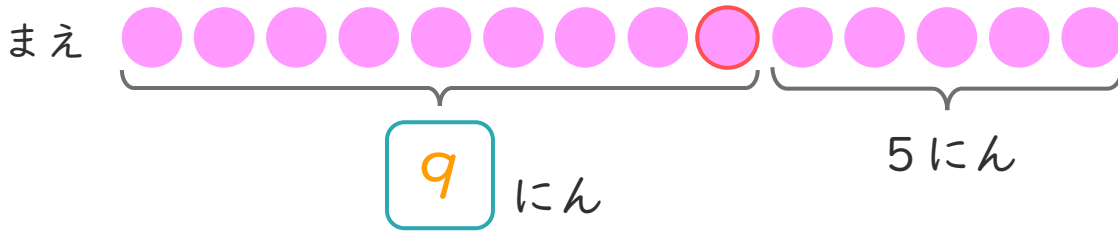
12

日にち： 月 日

名まえ _____

1 さゆりさんは、まえから 9ばんめにいます。
さゆりさんの うしろに 5にんいます。

① にあうかずをかきましょう。



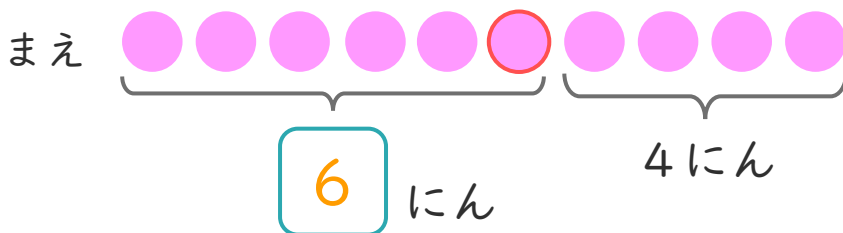
② みんなでなんにんいますか。

しき： $9 + 5 = 14$

こたえ 14 にん

2 はやとさんは、まえから 6ばんめにいます。
はやとさんの うしろに 4にんいます。

① にあうかずをかきましょう。



② みんなでなんにんいますか。

しき： $6 + 4 = 10$

こたえ 10 にん





たしざんと
ひきざん！

◎ みんなでなんにん？
(ならびじゅん・がっぺい)

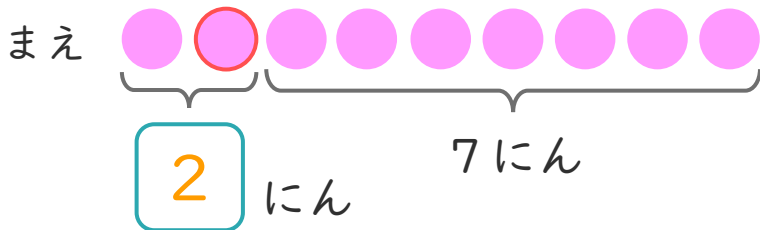
13

日にち： 月 日

名まえ _____

1 かなたさんは、まえから 2ばんめにいます。
かなたさんの うしろに 7にんいます。

① にあうかずをかきましょう。



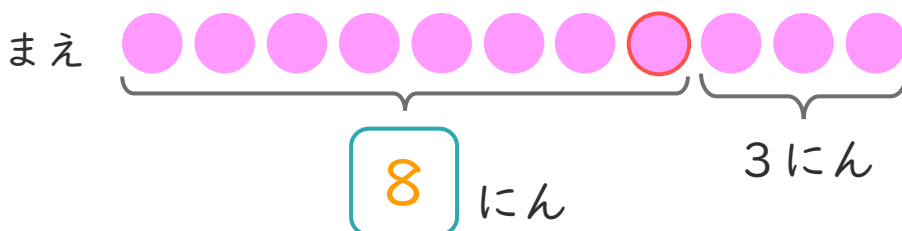
② みんなでなんにんいますか。

しき： $2 + 7 = 9$

こたえ 9 にん

2 さくらさんは、まえから 8ばんめにいます。
さくらさんの うしろに 3にんいます。

① にあうかずをかきましょう。



② みんなでなんにんいますか。

しき： $8 + 3 = 11$

こたえ 11 にん





たしざんと
ひきざん！

◎ みんなでなんにん？
(ならびじゅん・がっぺい)

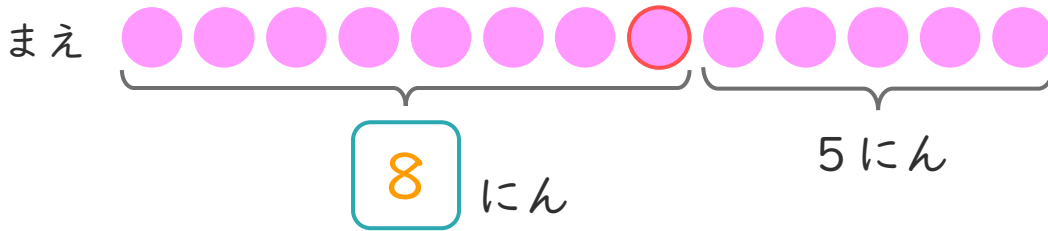
14

日にち： 月 日

名まえ _____

1 みなみさんは、まえから 8ばんめにいます。
みなみさんの うしろに 5にんいます。

① にあうかずをかきましょう。




② みんなでなんにんいますか。

しき： $8 + 5 = 13$

こたえ $\left(13 \text{ にん} \right)$

2 しおりさんは、まえから 3ばんめにいます。
しおりさんの うしろに 9にんいます。

① にあうかずをかきましょう。



② みんなでなんにんいますか。

しき： $3 + 9 = 12$

こたえ $\left(12 \text{ にん} \right)$





たしざんと
ひきざん！

◎ みんなでなんにん？
(ならびじゅん・がっぺい)

15

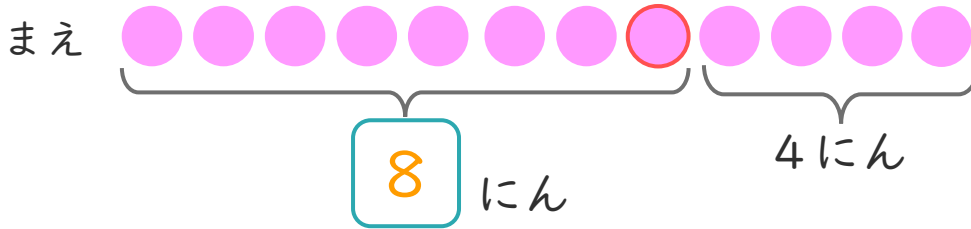
めざせ80点！



名まえ _____

1 しほさんは、まえから 8ばんめにいます。
しほさんの うしろに 4にんいます。

① にあう かずをかきましょう。(20点)



② みんなで なんにん いますか。

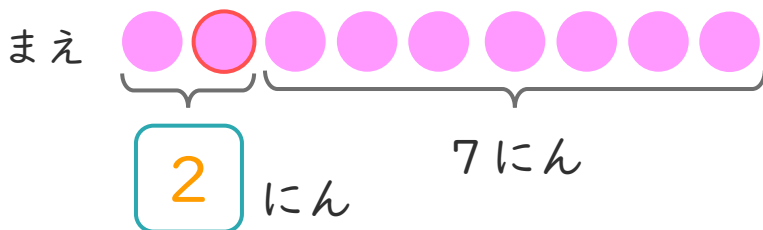
(30点)

しき： $8 + 4 = 12$

こたえ $\left(\begin{array}{l} 12 \\ \text{にん} \end{array} \right)$

2 そうたさんは、まえから 2ばんめにいます。
そうたさんの うしろに 7にんいます。

① にあう かずをかきましょう。(20点)



② みんなで なんにん いますか。

(30点)

しき： $2 + 7 = 9$

こたえ $\left(\begin{array}{l} 9 \\ \text{にん} \end{array} \right)$





たしざんと ひきざん！

◎ みんなでなんにん？
(ならびじゅん・がっぺい)

16

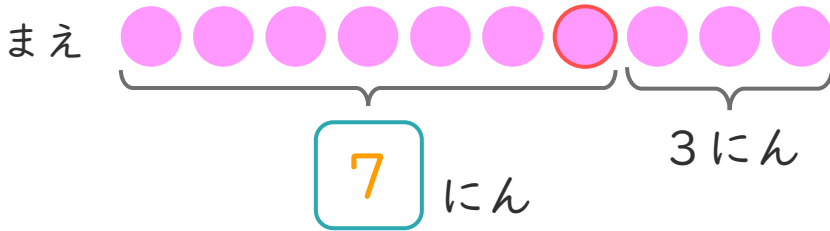
めざせ80点！



名まえ _____

1 | りほさんは、まえから 7ばんめにいます。
りほさんの うしろに 3にんいます。

① にあうかずをかきましょう。(20点)



② みんなでなんにんいますか。

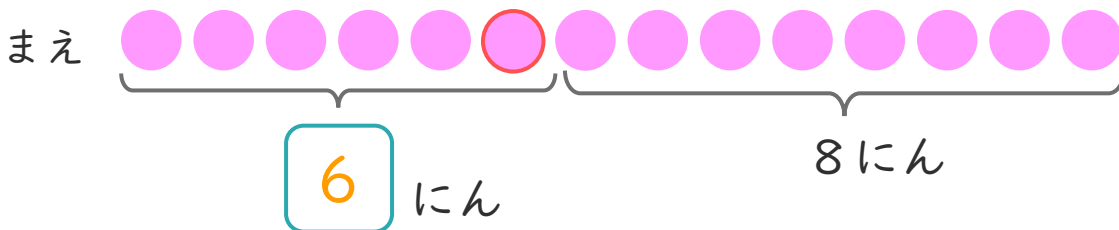
(30点)

しき： $7 + 3 = 10$

こたえ $\left\{ \begin{array}{l} 10 \\ \text{にん} \end{array} \right\}$

2 | ゆうとさんは、まえから 6ばんめにいます。
ゆうとたさんの うしろに 8にんいます。

① にあうかずをかきましょう。(20点)



② みんなでなんにんいますか。

(30点)

しき： $6 + 8 = 14$

こたえ $\left\{ \begin{array}{l} 14 \\ \text{にん} \end{array} \right\}$

