



たしざんと
ひきざん 5

● みかんのあめはなんこ?
(きゅうだい)



日にち： 月 日

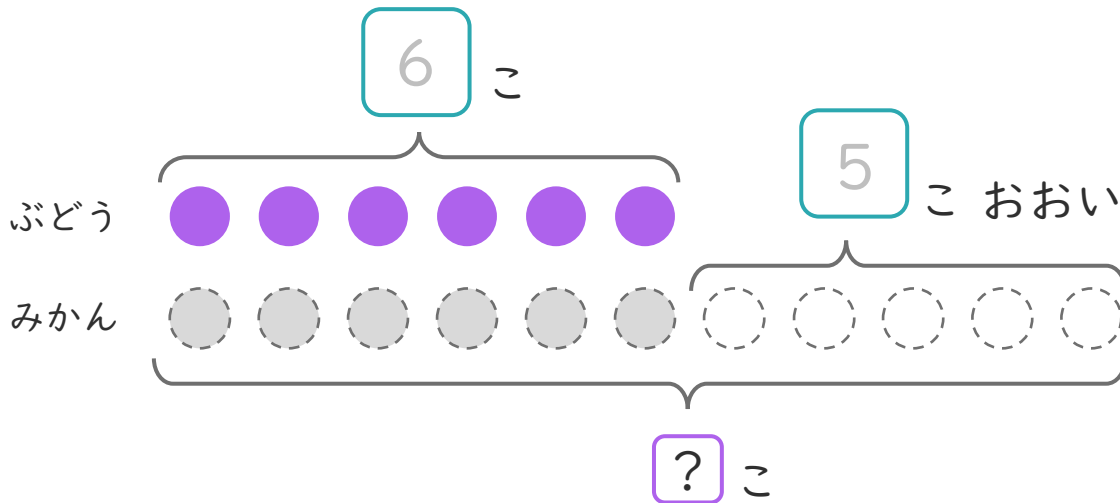
名まえ _____

- ぶどうのあめが 6 こ あります。
みかんのあめは、ぶどうのあめより 5 こ おおいそうです。
(うすいじはなぞりましょう。)



① にあうかずをかきましょう。

また、みかんのあめのかずだけ にいろをぬりましょう。



- ② みかんのあめはなんこ ありますか。
しきとこたえをかきましょう。

しき： + =

こたえ こ





たしざんと
ひきざん 5

● みかんのあめはなんこ？
(きゅうだい)



日にち： 月 日

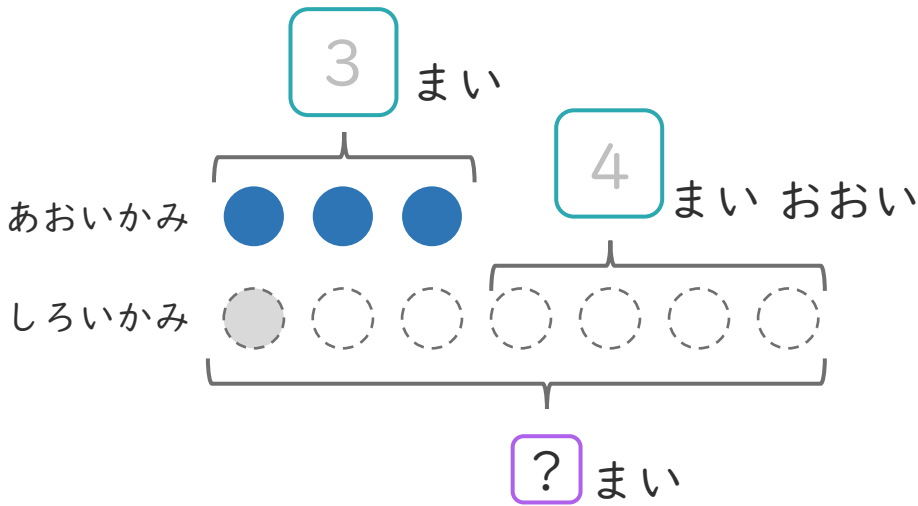
名まえ _____

- ・ あおい かみを 3まい かいました。
しろい かみは、あおい かみより 4まい おおく かいました。
(うすいじはなぞりましょう。)



① に あう かず を かき ましょう。

また、しろい かみの かず だけ に いろ を ぬり ましょう。



- ② しろい かみは なんまい かいましたか。
しきと こたえを かき ましょう。

しき： + =

こたえ まい



たしざんと
ひきざん 5


● みかんのあめはなんこ？
(きゅうだい)



日にち： 月 日

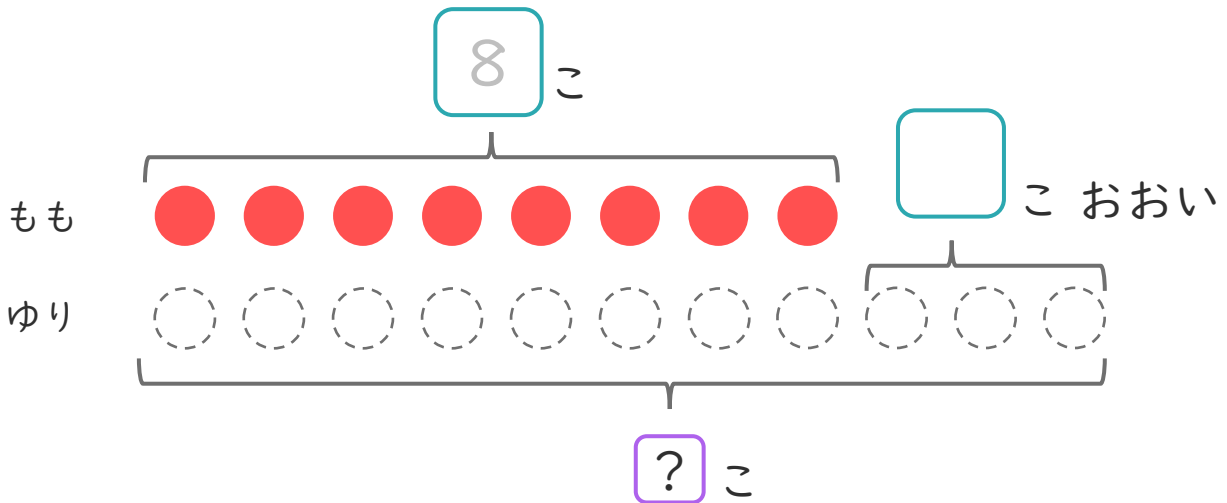
名まえ _____

- ・ たまいれをしました。ももぐみは、8こはいりました。
ゆりぐみは、ももぐみより3こおいそうです。
(うすいじはなぞりましょう。)



① にあうかずをかきましょう。

また、ゆりぐみのかずだけ()にいろをぬりましょう。



② ゆりぐみは、なんこはいりましたか。

しきとこたえをかきましょう。

しき： + =

こたえ こ





たしざんと
ひきざん 5

● みかんのあめはなんこ？
(きゅうだい)



日にち： 月 日

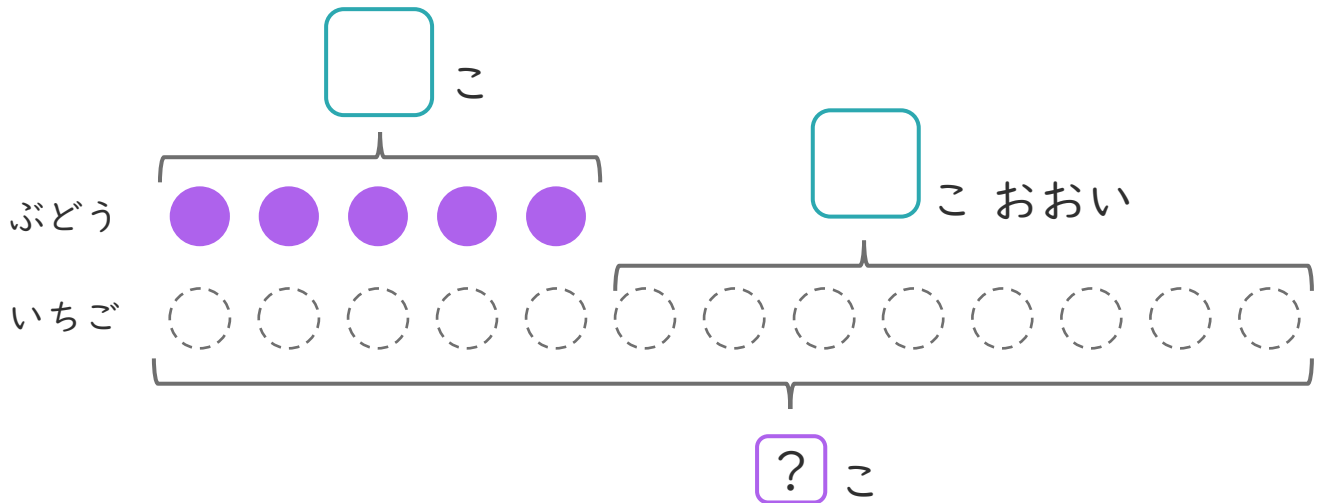
名まえ _____

- ぶどうのあめが 5 こ あります。
いちごのあめは、ぶどうのあめより 8 こ おおいそうです。



① に あう かず を かき まし ょう。

また、みかんのあめのかずだけ に いろ を ぬ り まし ょう。



- ② いちごのあめはなんこ ありますか。
しきとこたえをかきましよう。

しき： + =

こたえ こ



たしざんと
ひきざん 5

● みかんのあめはなんこ？
(きゅうだい)



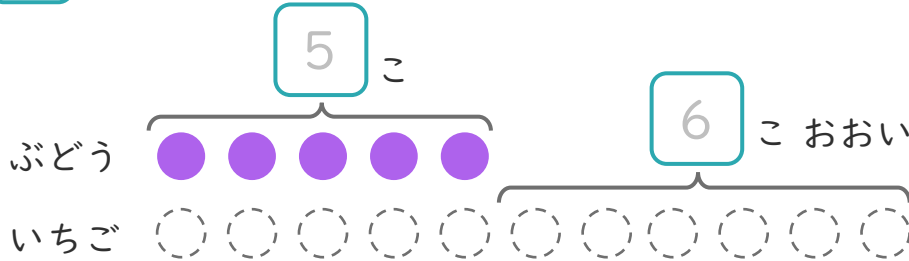
日にち： 月 日

名まえ _____

1 ぶどうのあめが 5 こあります。

いちごのあめは、りんごのあめより 6 こおいそうです。

① にあうかずをかきましょう。(うすいじはなぞりましょう。)



○にいろをぬりましょう。

② いちごのあめはなんこありますか。

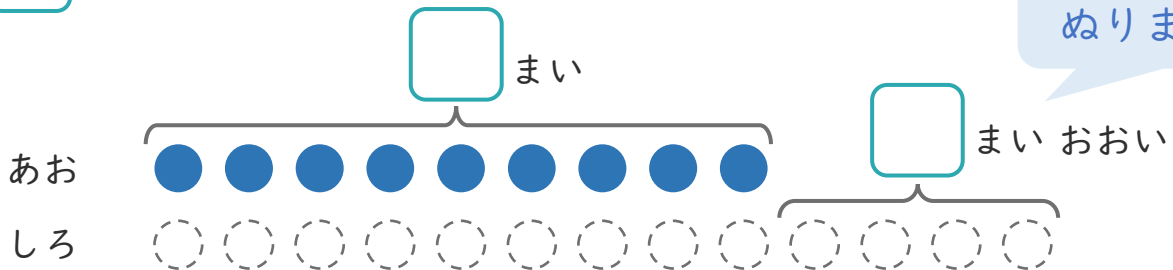
しき：

こたえ {

2 あおいかみを 9 まいかいました。

しろいかみは、あおいかみより 4 まいおおくかいました。

① にあうかずをかきましょう。



○にいろをぬりましょう。

② しろいかみはなんまいかいましたか。

しき：

こたえ {





たしざんと
ひきざん 5

● みかんのあめはなんこ?
(きゅうだい)



日にち： 月 日

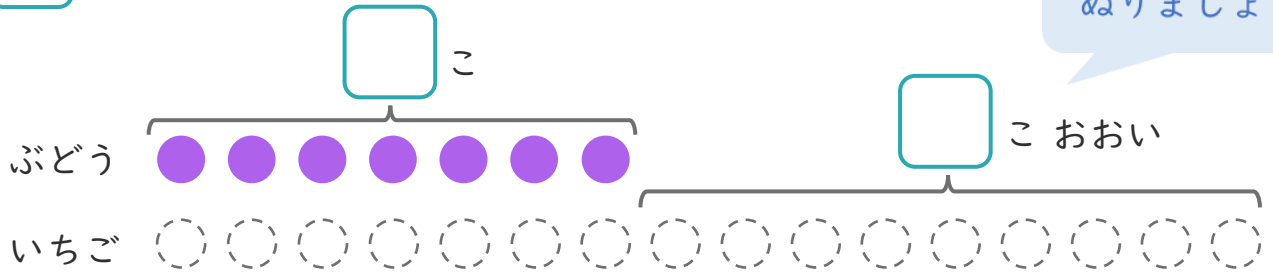
名まえ _____

1 ぶどうのあめが7こあります。

いちごのあめは、ぶどうのあめより9こおいそうです。

① にあうかずをかきましょう。

○にいろをぬりましょう。



② いちごのあめはなんこありますか。

しき：

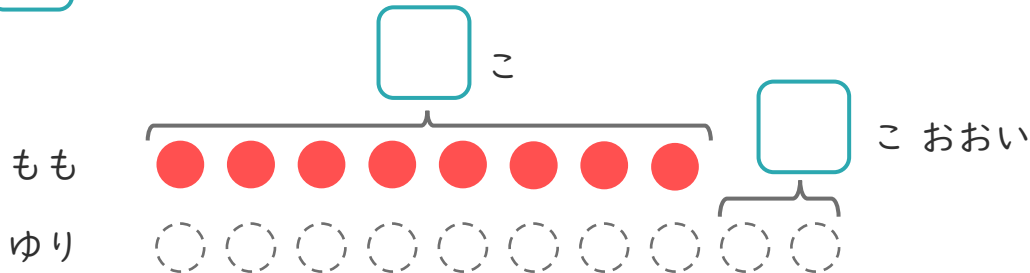
こたえ {

2 たまいれをしました。ももぐみは、8こはいました。

ゆりぐみは、ももぐみより2こおいそうです。

① にあうかずをかきましょう。

○にいろをぬりましょう。



② ゆりぐみは、なんこはいましたか。

しき：

こたえ {





たしざんと
ひきざん 5

● みかんのあめはなんこ?
(きゅうだい)



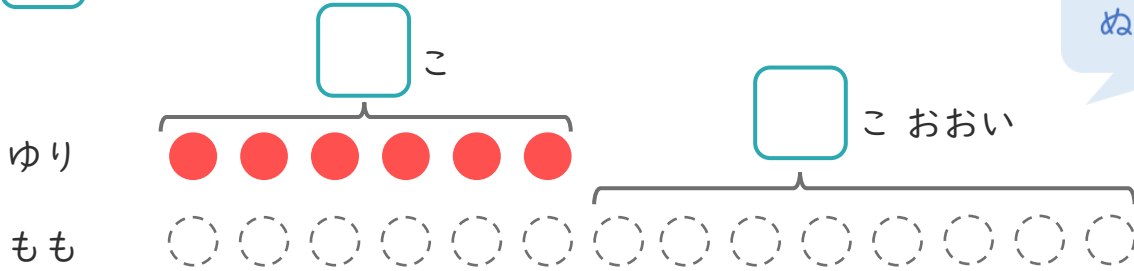
日にち： 月 日

名まえ _____

1 たまいれをしました。ゆりぐみは、6こはいりました。
ももぐみは、ゆりぐみより8こおいそです。

① □にあうかずをかきましょう。

○にいろをぬりましょう。



② ももぐみは、なんこはいりましたか。

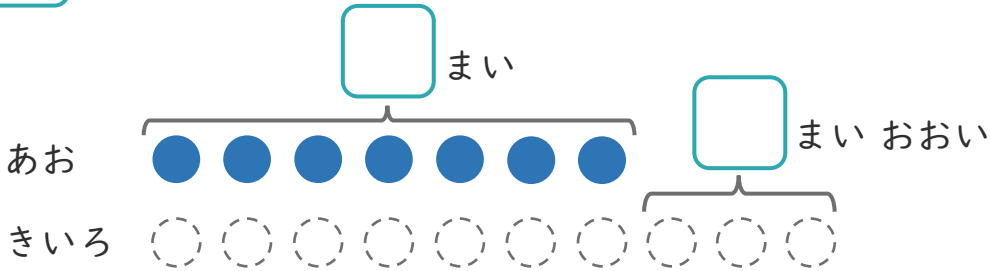
しき：

こたえ {

2 あおいかみを7まいかいました。きいろいかみは、
あおいかみより3まいおおくかいました。

① □にあうかずをかきましょう。

○にいろをぬりましょう。



② きいろいかみはなんまいかいましたか。

しき：

こたえ {





たしざんと
ひきざん 5

● みかんのあめはなんこ?
(きゅうだい)



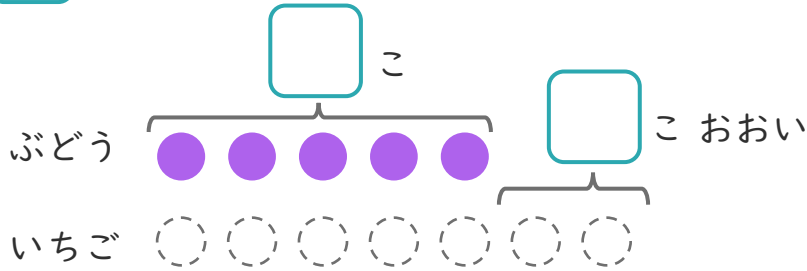
日にち： 月 日

名まえ _____

1 ぶどうのあめが 5 こ あります。

いちごのあめは、ぶどうのあめより 2 こ おおいそうです。

① にあうかずをかきましょう。



○ にいろをぬりましょう。

② いちごのあめはなんこ ありますか。

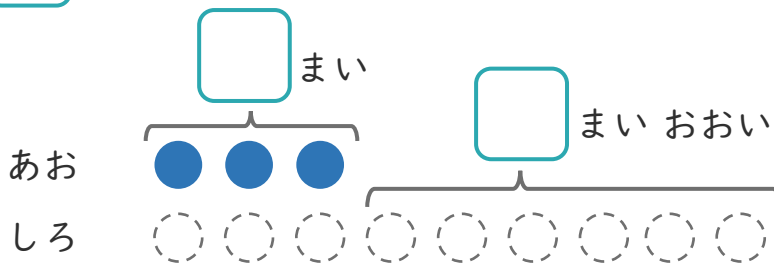
しき：

こたえ { }

2 あおい かみを 3 まい かいしました。

しろい かみは、あおい かみより 6 まい おおく かいしました。

① にあうかずをかきましょう。



○ にいろをぬりましょう。

② しろい かみはなんまい かいしましたか。

しき：

こたえ { }





たしざんと
ひきざん 5

● みかんのあめはなんこ?
(きゅうだい)



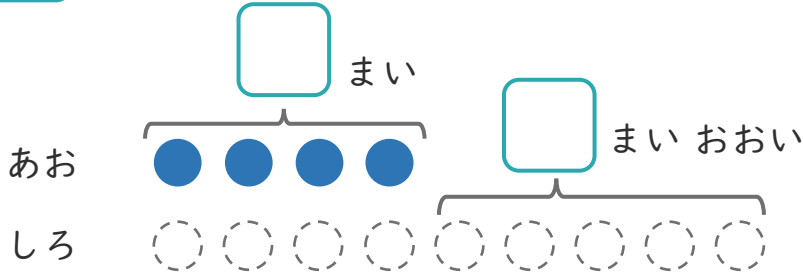
日にち： 月 日

名まえ _____

1 あおいかみを 4まい かいました。

しろいかみは、あおいかみより 5まい おおく かいました。

① □ にあうかずをかきましょう。



○ にいろを
ぬりましょう。

② しろいかみは なんまい かいましたか。

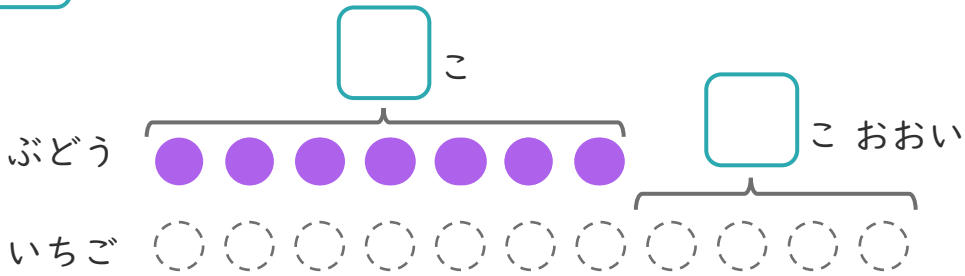
しき：

こたえ {

2 ぶどうのあめが 7こ あります。

いちごのあめは、ぶどうのあめより 4こ おおい そうです。

① □ にあうかずをかきましょう。



○ にいろを
ぬりましょう。

② いちごのあめは なんこ ありますか。

しき：

こたえ {





たしざんと
ひきざん 5

● みかんのあめはなんこ?
(きゅうだい)

10

日にち： 月 日

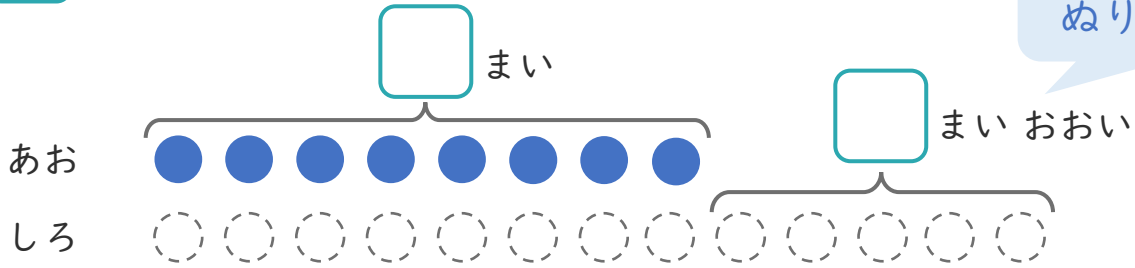
名まえ _____

1 あおい かみを 8まい かいました。

しろい かみは、あおい かみより 5まい おおく かいました。

① □ にあう かずをかきましょう。

○ にいろを
ぬりましょう。



② しろい かみは、なんまい かいましたか。

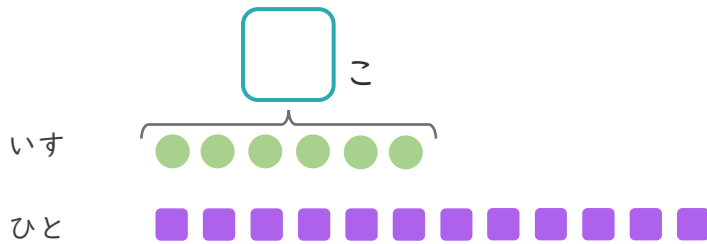
しき：

こたえ {

2 いすが 6こ あります。

12にんでいすとりゲームをします。

① □ にあう かずをかきましょう。



● と ■ をせんで
おすびましょう。

② いすにすわれないひとはなんにんですか。

しき：

こたえ {





たしざんと
ひきざん 5

● みかんのあめはなんこ?
(きゅうだい)



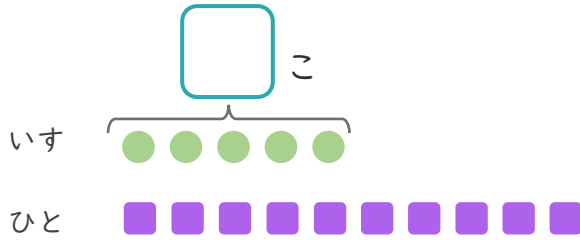
日にち： 月 日

名まえ _____

1 いすが 5 こ あります。

10 にんで いすと りゲーム を しました。

① □ に あう かず を かき ましょう。



● と ■ を せんで
むすびましよう。

② いす に すわれ ない ひとは なん にん ですか。

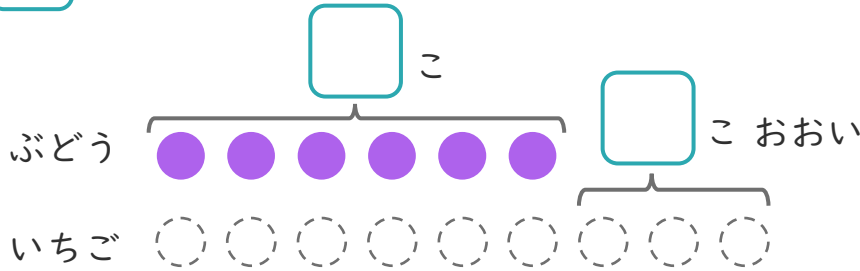
しき：

こたえ

2 ぶどうの あめ が 6 こ あります。

いちごの あめ は、ぶどうの あめ より 3 こ おおい そうです。

① □ に あう かず を かき ましょう。



○ に いろ を
ぬり ましよう。

② いちごの あめ は なん こ あります か。

しき：

こたえ





たしざんと
ひきざん 5

● みかんのあめはなんこ?
(きゅうだい)

12

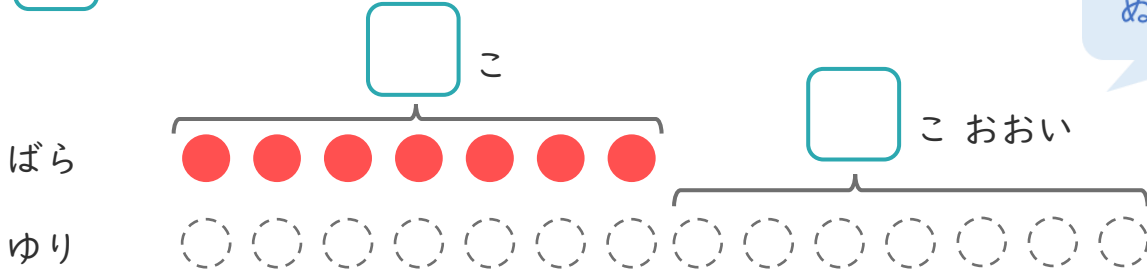
日にち： 月 日

名まえ _____

1 たまいれをしました。ばらぐみは、7こはいりました。
ゆりぐみは、ばらぐみより7こおいそうです。

① □にあうかずをかきましょう。

○にいるをぬりましょう。



② ゆりぐみは、なんこはいりましたか。

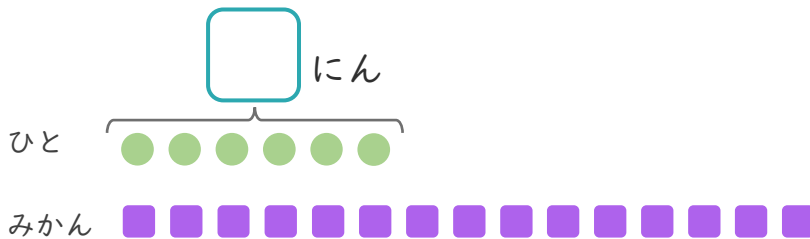
しき：

こたえ {

2 みかんが15こあります。
6にんに1つずつわけました。

① □にあうかずをかきましょう。

●と■をせんで
むすびましょう。



② みかんは、なんこのこりますか。

しき：

こたえ {





たしざんと
ひきざん 5

● みかんのあめはなんこ?
(きゅうだい)

13

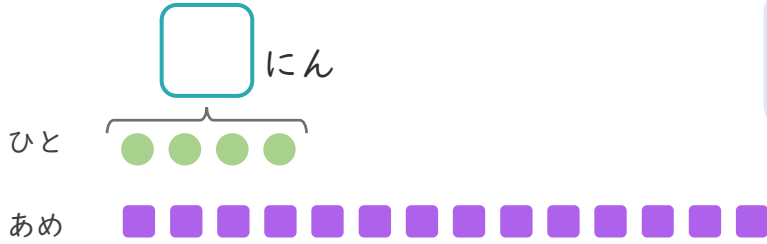
日にち： 月 日

名まえ _____

1 あめが 14こ あります。

4にんに 1つずつ わけました。

① にあう かずを かきましょう。



● と ■ を せんで
むすびましょう。

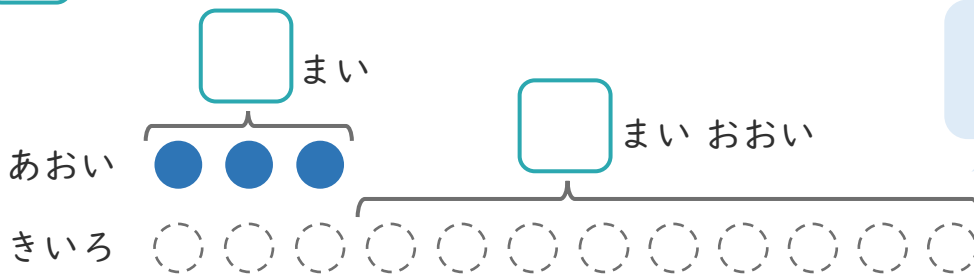
② あめは、なんこのこりますか。

しき：

こたえ {

2 あおい かみを 3まい かいました。きいろい かみは、
あおい かみより 9まい おおく かいました。

① にあう かずを かきましょう。



○ にいろを
ぬりましょう。

② きいろい かみは なんまい かいましたか。

しき：

こたえ {





たしざんと
ひきざん 5

● みかんのあめはなんこ?
(きゅうだい)

14

日にち： 月 日

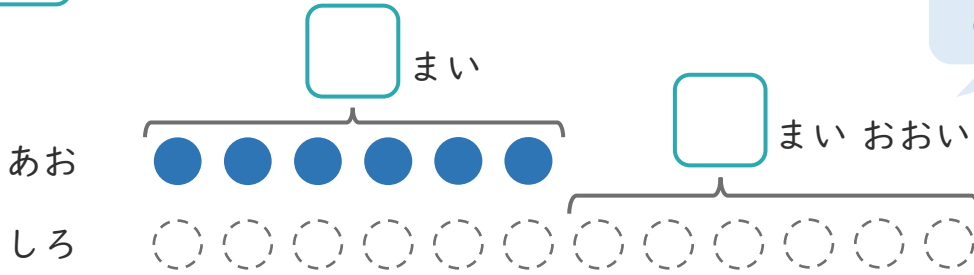
名まえ _____

1 あおい かみを 6まい かいしました。

しろい かみは、あおい かみより 6まい おおく かいしました。

① □ に あう かずを かきましよう。

○ に いろを
ぬりましよう。



② しろい かみは なんまい かいしましたか。

しき：

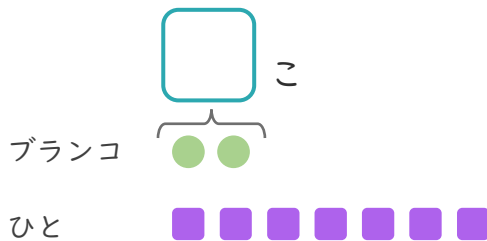
こたえ {

2 ブランコが 2こ あります。

7にんが きました。

① □ に あう かずを かきましよう。

● と ■ を せんで
おすびましよう。



② ブランコにのれない ひとは なんにん ですか。

しき：

こたえ {





たしざんと
ひきざん 5

● みかんのあめはなんこ?
(きゅうだい)

15

めざせ80点!



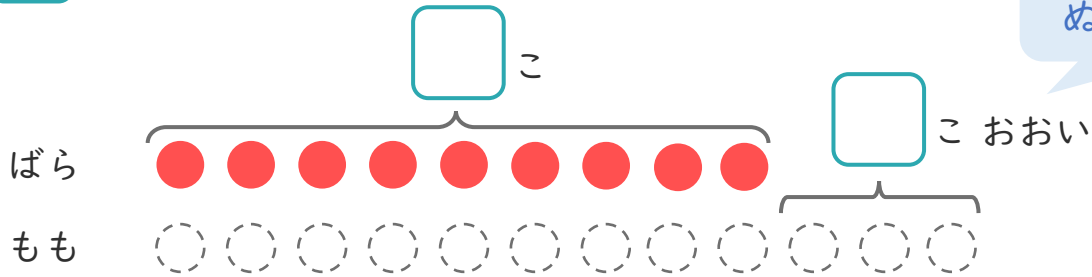
名まえ _____

1

たまいれをしました。ばらぐみは、9こはいりました。
ももぐみは、ばらぐみより3こおいそうです。

① にあうかずをかきましょう。(20点)

○にいろをぬりましょう。



② ももぐみは、なんこはいりましたか。(30点)

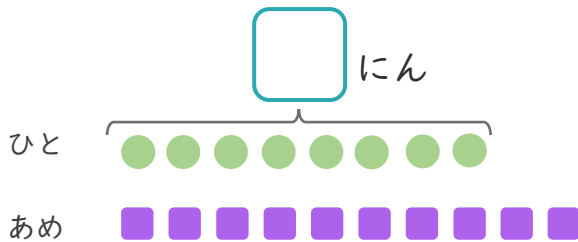
しき:

こたえ {

2

あめが10こあります。
8にんに1こずつわけました。

① にあうかずをかきましょう。(20点)



●と■をせんで
むすびましょう。

② あめは、なんこのこりますか。(30点)

しき:

こたえ {





たしざんと
ひきざん 5

● みかんのあめはなんこ?
(きゅうだい)

16

めざせ80点!

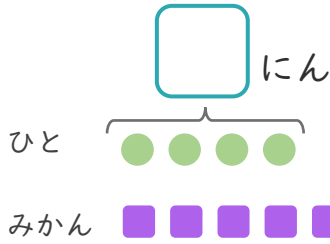


名まえ _____

1 みかんが11こあります。

4にんに1つずつわけました。

① にあうかずをかきましょう。(20点)



●と■をせんで
むすびましょう。

② みかんは、なんこのこりますか。(30点)

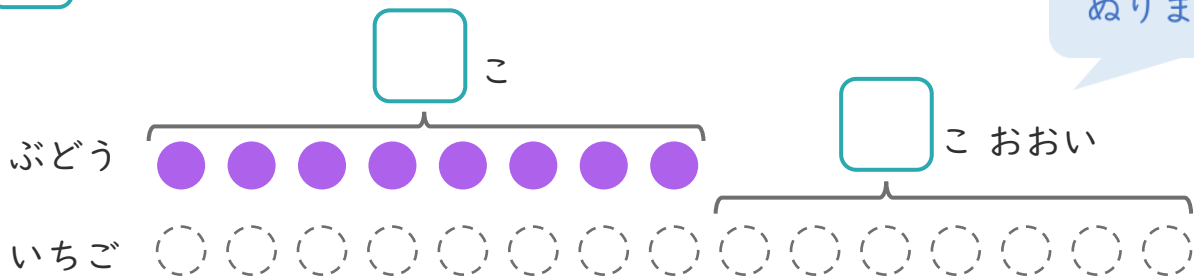
しき:

こたえ {

2 ぶどうのあめが8こあります。

いちごのあめは、ぶどうのあめより7こおいそです。

① にあうかずをかきましょう。(20点)



○にいろを
ぬりましょう。

② いちごのあめはなんこありますか。(30点)

しき:

こたえ {





たしざんと
ひきざん 5

● みかんのあめはなんこ?
(きゅうだい)



日にち： 月 日

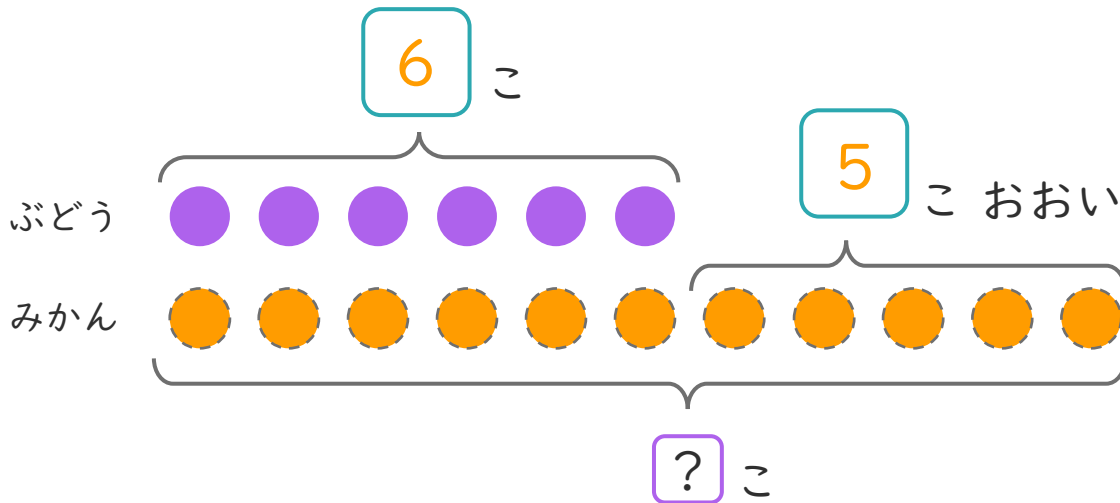
名まえ _____

- ぶどうのあめが6こあります。
みかんのあめは、ぶどうのあめより5こおいそです。
(うすいじはなぞりましょう。)



① にあうかずをかきましょう。

また、みかんのあめのかずだけ にいろをぬりましょう。



- ② みかんのあめはなんこありますか。
しきとこたえをかきましょう。

しき： 6 + 5 = 11

こたえ 11 こ





たしざんと
ひきざん 5

● みかんのあめはなんこ?
(きゅうだい)



日にち： 月 日

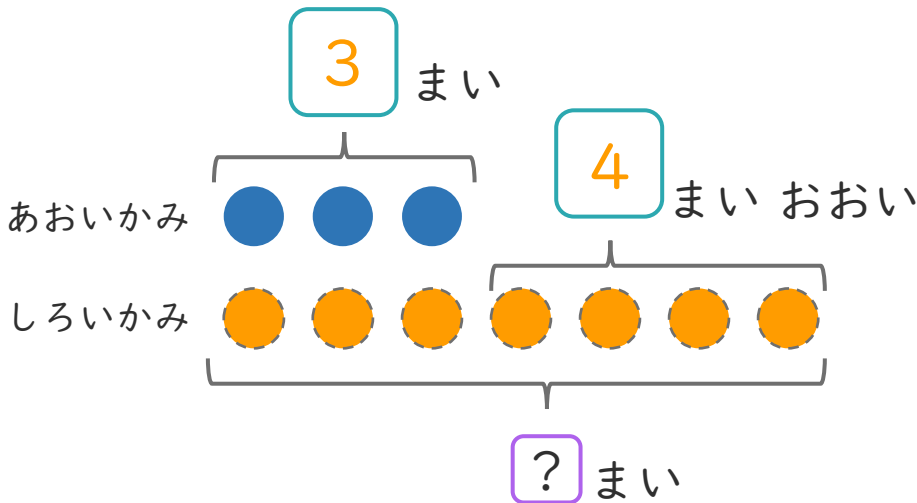
名まえ _____

- ・ あおい かみを 3まい かいました。
しろい かみは、あおい かみより 4まい おおく かいました。
(うすいじはなぞりましょう。)



① に あう かず を かき ましょう。

また、しろい かみの かず だけ に いろ を ぬり ましょう。



- ② しろい かみは なんまい かいましたか。
しきと こたえを かき ましょう。

しき： + =

こたえ まい





たしざんと
ひきざん 5


● みかんのあめはなんこ?
(きゅうだい)



日にち： 月 日

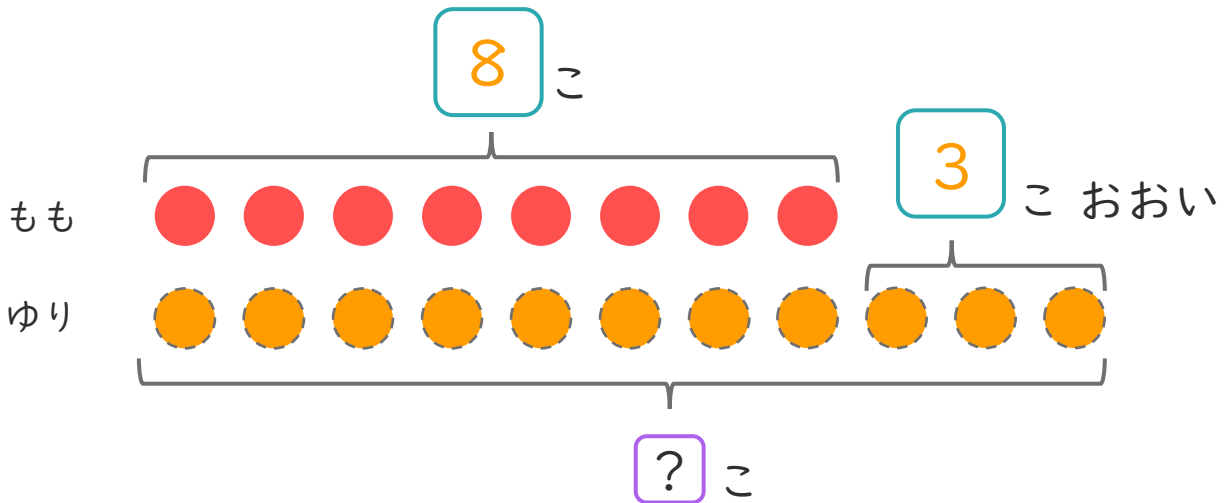
名まえ _____

- ・ たまいれをしました。ももぐみは、8こはいりました。
ゆりぐみは、ももぐみより3こおいそうです。
(うすいじはなぞりましょう。)



① にあうかずをかきましょう。

また、ゆりぐみのかずだけ()にいろをぬりましょう。



- ② ゆりぐみは、なんこはいりましたか。
しきとこたえをかきましょう。

しき： + =

こたえ こ





たしざんと
ひきざん 5

● みかんのあめはなんこ？
(きゅうだい)



日にち： 月 日

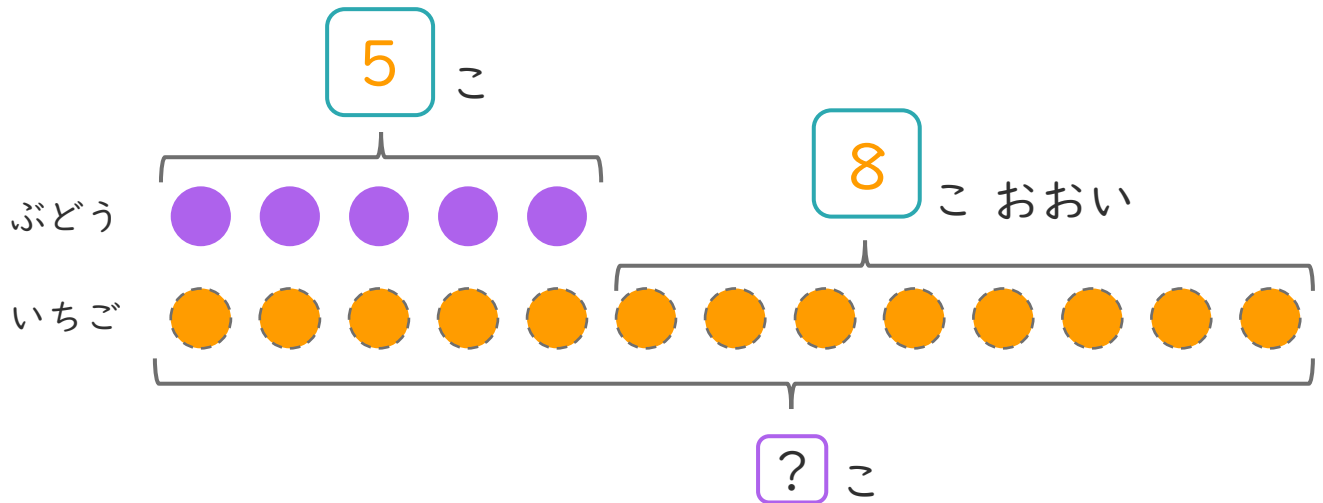
名まえ _____

- ぶどうのあめが 5 こ あります。
いちごのあめは、ぶどうのあめより 8 こ おおいそうです。



① に あう かず を かき まし ょう。

また、みかんのあめのかずだけ に いろ を め り まし ょう。



- ② いちごのあめはなんこ ありますか。
しきとこたえをかきましよう。

しき： 5 + 8 = 13

こたえ 13 こ





たしざんと
ひきざん 5

● みかんのあめはなんこ？
(きゅうだい)



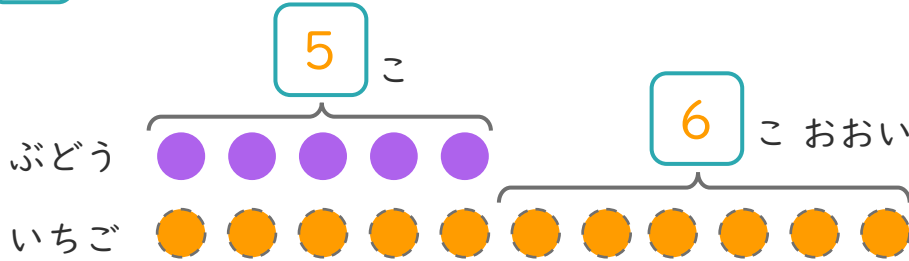
日にち： 月 日

名まえ _____

1 ぶどうのあめが 5 こあります。

いちごのあめは、りんごのあめより 6 こおいそうです。

① にあうかずをかきましょう。(うすいじはなぞりましょう。)



○にいろをぬりましょう。

② いちごのあめはなんこありますか。

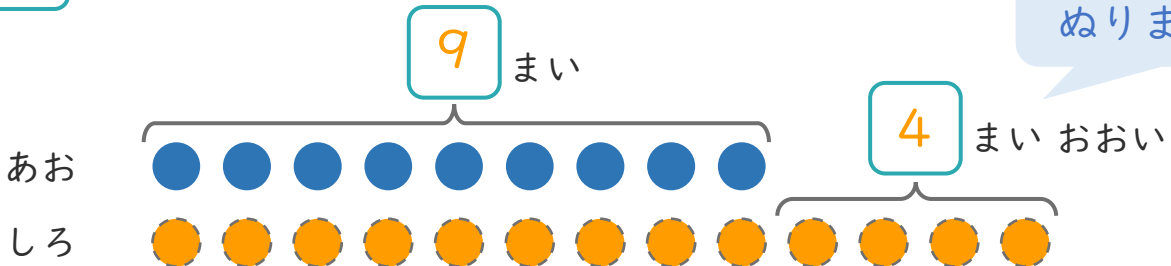
しき： $5 + 6 = 11$

こたえ { 11 こ }

2 あおいかみを 9 まいかいました。

しろいかみは、あおいかみより 4 まいおおくかいました。

① にあうかずをかきましょう。



○にいろをぬりましょう。

② しろいかみはなんまいかいましたか。

しき： $9 + 4 = 13$

こたえ { 13 まい }





たしざんと
ひきざん 5

● みかんのあめはなんこ？
(きゅうだい)



日にち： 月 日

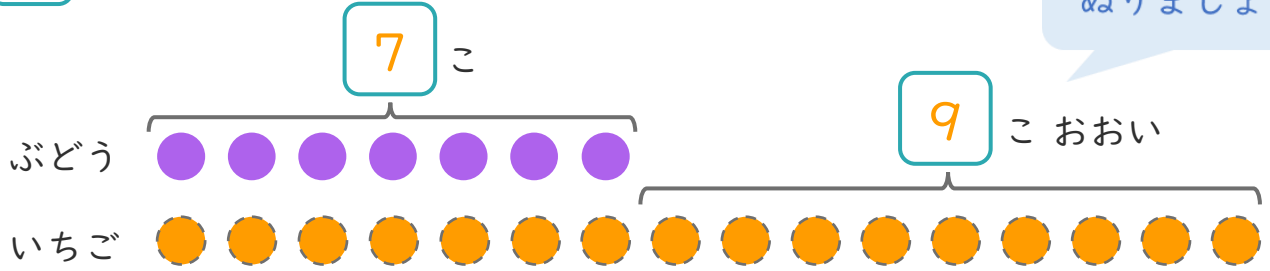
名まえ _____

1 ぶどうのあめが7こあります。

いちごのあめは、ぶどうのあめより9こおいそうです。

① □ にあうかずをかきましょう。

○ にいろをぬりましょう。



② いちごのあめはなんこありますか。

しき： $7 + 9 = 16$

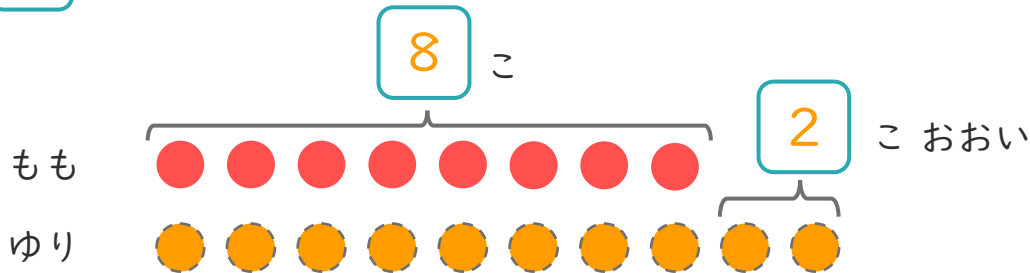
こたえ $\left(16 \text{ こ} \right)$

2 たまいれをしました。ももぐみは、8こはいりました。

ゆりぐみは、ももぐみより2こおいそうです。

① □ にあうかずをかきましょう。

○ にいろをぬりましょう。



② ゆりぐみは、なんこはいりましたか。

しき： $8 + 2 = 10$

こたえ $\left(10 \text{ こ} \right)$





たしざんと
ひきざん 5

● みかんのあめはなんこ?
(きゅうだい)



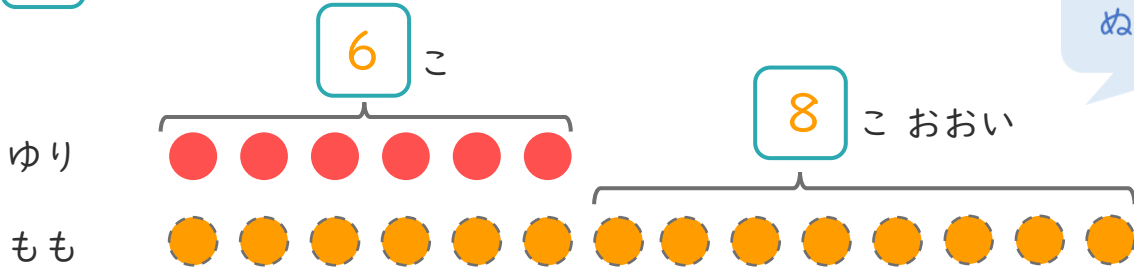
日にち： 月 日

名まえ _____

1 たまいれをしました。ゆりぐみは、6こはいりました。
ももぐみは、ゆりぐみより8こおいそです。

① □ にあうかずをかきましょう。

○ にいろをぬりましょう。



② ももぐみは、なんこはいりましたか。

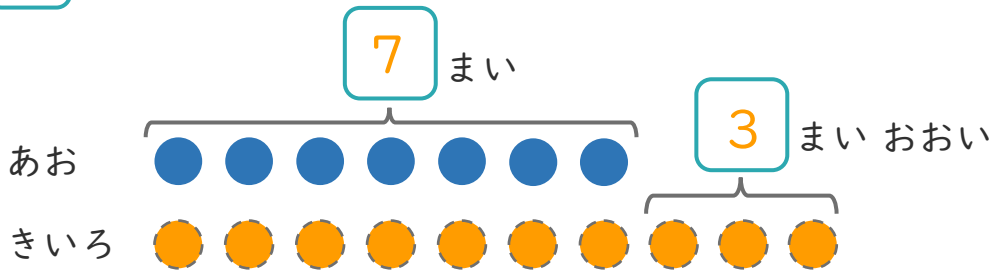
しき： $6 + 8 = 14$

こたえ { 14 こ }

2 あおいかみを7まいかいました。きいろいかみは、
あおいかみより3まいおおくかいました。

① □ にあうかずをかきましょう。

○ にいろをぬりましょう。



② きいろいかみはなんまいかいましたか。

しき： $7 + 3 = 10$

こたえ { 10 まい }





たしざんと
ひきざん 5

● みかんのあめはなんこ?
(きゅうだい)



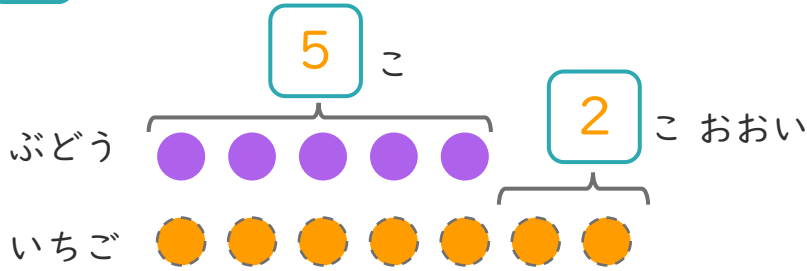
日にち： 月 日

名まえ _____

1 ぶどうのあめが 5 こあります。

いちごのあめは、ぶどうのあめより 2 こおいそうです。

① □ にあうかずをかきましょう。



○ にいろを
ぬりましょう。

② いちごのあめはなんこありますか。

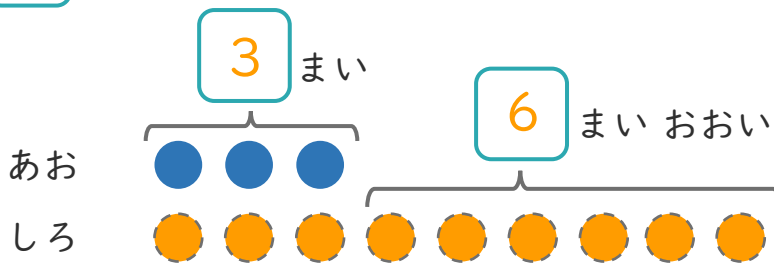
しき： $5 + 2 = 7$

こたえ { 7 こ }

2 あおいかみを 3 まいかいました。

しろいかみは、あおいかみより 6 まいおおくかいました。

① □ にあうかずをかきましょう。



○ にいろを
ぬりましょう。

② しろいかみはなんまいかいましたか。

しき： $3 + 6 = 9$

こたえ { 9 まい }





たしざんと
ひきざん 5

● みかんのあめはなんこ？
(きゅうだい)

9

日にち： 月 日

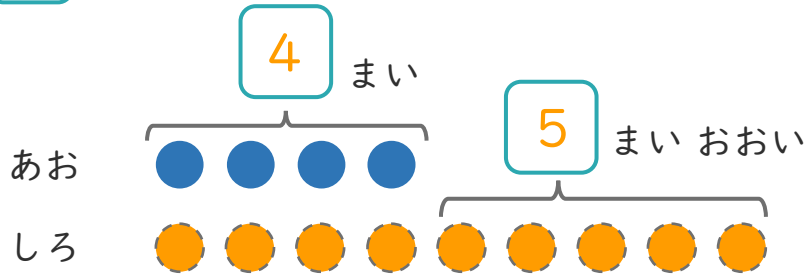
名まえ _____

1 あおい かみを 4まい かいました。

しろい かみは、あおい かみより 5まい おおく かいました。

① □ にあう かずをかきましょう。

○ にいろを
ぬりましょう。



② しろい かみは なんまい かいましたか。

しき： $4 + 5 = 9$

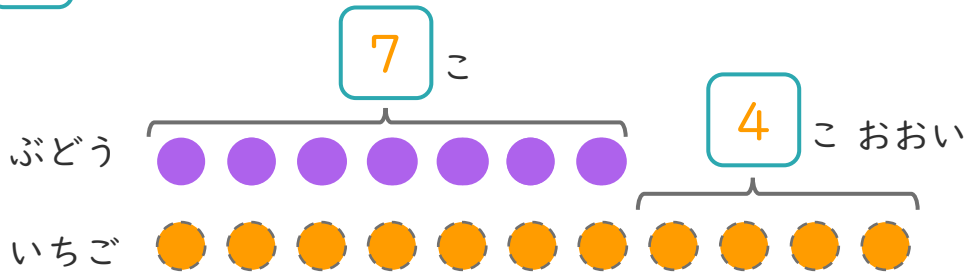
こたえ { 9 まい }

2 ぶどうの あめが 7こ あります。

いちごの あめは、ぶどうの あめより 4こ おおい そうです。

① □ にあう かずをかきましょう。

○ にいろを
ぬりましょう。



② いちごの あめは なんこ ありますか。

しき： $7 + 4 = 11$

こたえ { 11 こ }





たしざんと
ひきざん 5

● みかんのあめはなんこ？
(きゅうだい)



日にち： 月 日

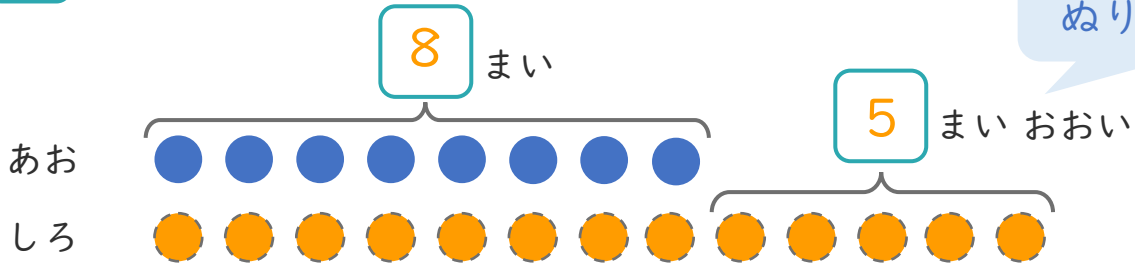
名まえ _____

1 あおい かみを 8まい かいしました。

しろい かみは、あおい かみより 5まい おおく かいしました。

① に あう かずを かきましょう。

○ に いろを
ぬりましょう。



② しろい かみは、なんまい かいしましたか。

しき： $8 + 5 = 13$

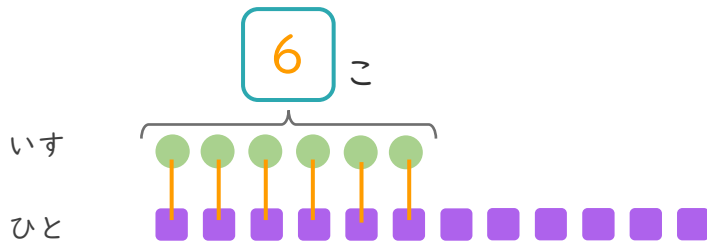
こたえ { 13 まい }

2 いすが 6こ あります。

12にんで いすと どりゲームを します。

① に あう かずを かきましょう。

● と ■ を せんで
むすびましょう。



② いすに すわれない ひとは なんにん ですか。

しき： $12 - 6 = 6$

こたえ { 6 にん }





たしざんと
ひきざん 5

● みかんのあめはなんこ？
(きゅうだい)



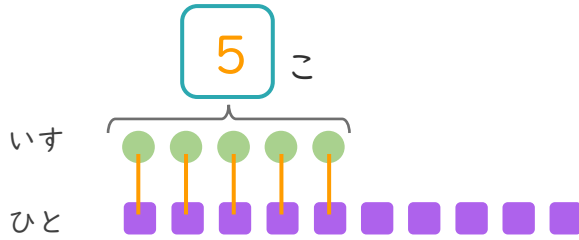
日にち： 月 日

名まえ _____

1 いすが 5 こ あります。

10 にんで いすと りゲーム を しました。

① □ に あう かず を かき ましょう。



● と ■ を せんで
むすび ましょう。

② いす に すわれない ひとは なん にん ですか。

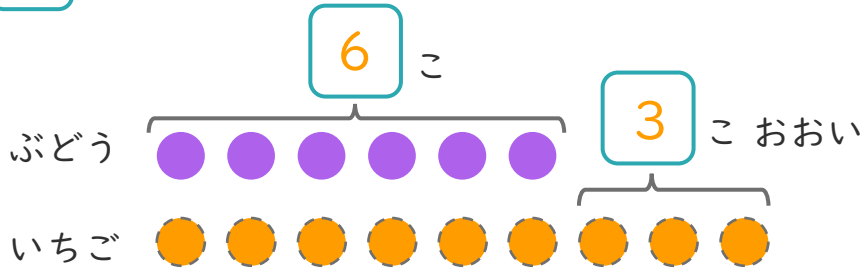
しき： $10 - 5 = 5$

こたえ { 5 にん }

2 ぶどうの あめ が 6 こ あります。

いちごの あめ は、ぶどうの あめ より 3 こ おおい そうです。

① □ に あう かず を かき ましょう。



○ に いろ を
ぬり ましょう。

② いちごの あめ は なん こ ありますか。

しき： $6 + 3 = 9$

こたえ { 9 こ }





たしざんと
ひきざん 5

● みかんのあめはなんこ？
(きゅうだい)

12

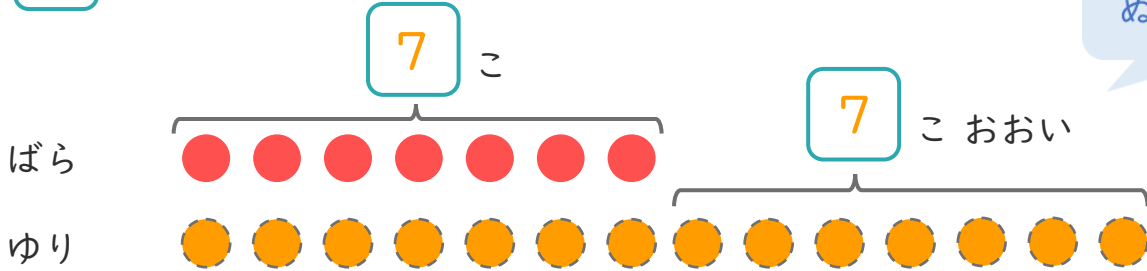
日にち： 月 日

名まえ _____

1 たまいれをしました。ばらぐみは、7こはいりました。
ゆりぐみは、ばらぐみより7こおいそうです。

① □にあうかずをかきましょう。

○にいろをぬりましょう。



② ゆりぐみは、なんこはいりましたか。

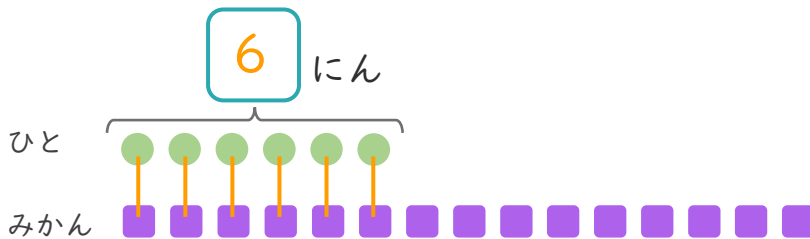
しき： $7 + 7 = 14$

こたえ { 14 こ }

2 みかんが15こあります。
6にんに1つずつわけました。

① □にあうかずをかきましょう。

●と■をせんでおすびましょう。



② みかんは、なんこのこりますか。

しき： $15 - 6 = 9$

こたえ { 9 こ }





たしざんと
ひきざん 5

● みかんのあめはなんこ?
(きゅうだい)

13

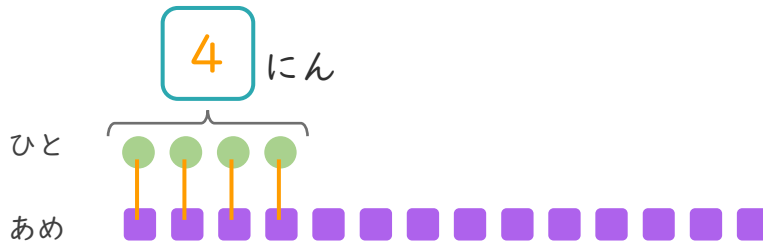
日にち： 月 日

名まえ _____

1 あめが 14こ あります。

4にんに 1つずつ わけました。

① にあう かずを かきましょう。



● と ■ を せんで
むすびましょう。

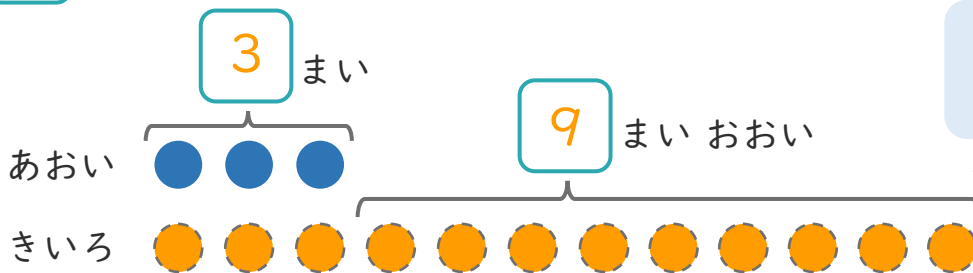
② あめは、なんこのこりますか。

しき： $14 - 4 = 10$

こたえ $\left(10 \text{ こ} \right)$

2 あおい かみを 3まい かいました。きいろい かみは、
あおい かみより 9まい おおく かいました。

① にあう かずを かきましょう。



○ にいろを
ぬりましょう。

② きいろい かみは なんまい かいましたか。

しき： $3 + 9 = 12$

こたえ $\left(12 \text{ まい} \right)$





たしざんと
ひきざん 5

● みかんのあめはなんこ？
(きゅうだい)

14

日にち： 月 日

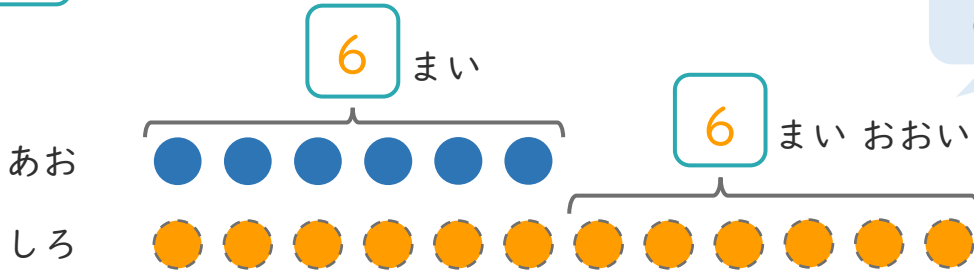
名まえ _____

1 あおい かみを 6まい かいしました。

しろい かみは、あおい かみより 6まい おおく かいしました。

① □ にあう かずを かきましょう。

○ にいろを
ぬりましょう。



② しろい かみは なんまい かいしましたか。

しき： $6 + 6 = 12$

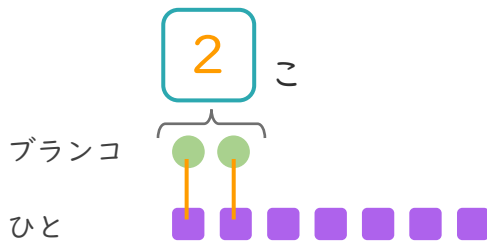
こたえ { 12 まい }

2 ブランコが 2こ あります。

7にんが きました。

① □ にあう かずを かきましょう。

● と ■ を せんで
おすびましょう。



② ブランコにのれない ひとは なんにん ですか。

しき： $7 - 2 = 5$

こたえ { 5 にん }





たしざんと
ひきざん 5

● みかんのあめはなんこ?
(きゅうだい)

15

めざせ80点!



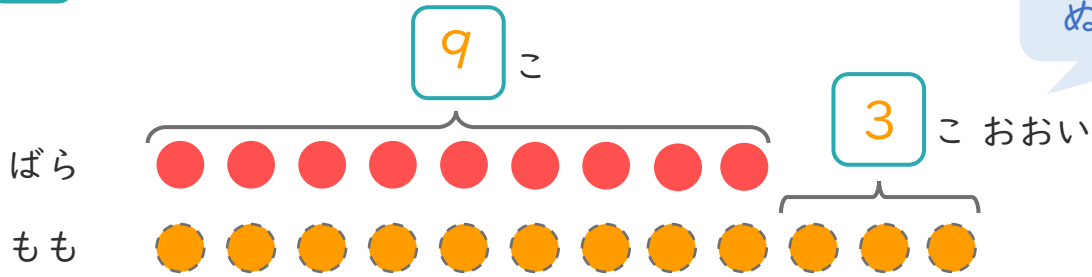
名まえ _____

1

たまいれをしました。ばらぐみは、9こはいりました。
ももぐみは、ばらぐみより3こおいそうです。

① にあうかずをかきましょう。(20点)

○にいろをぬりましょう。



② ももぐみは、なんこはいりましたか。(30点)

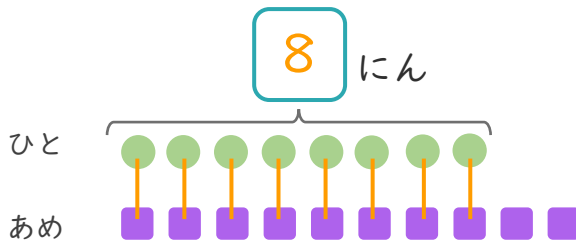
しき： $9 + 3 = 12$

こたえ $\left(\begin{array}{cc} 12 & こ \end{array} \right)$

2

あめが10こあります。
8にんに1こずつわけました。

① にあうかずをかきましょう。(20点)



●と■をせんで
むすびましょう。

② あめは、なんこのこりますか。(30点)

しき： $10 - 8 = 2$

こたえ $\left(\begin{array}{cc} 2 & こ \end{array} \right)$





たしざんと
ひきざん 5

● みかんのあめはなんこ?
(きゅうだい)

16

めざせ80点!

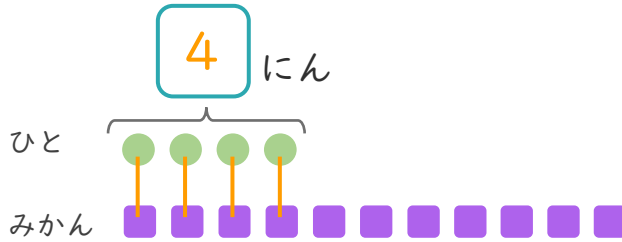


名まえ _____

1 みかんが 11こ あります。

4にんに 1つずつ わけました。

① にあう かずを かきましょう。(20点)



● と ■ を せんで
おすびましょう。

② みかんは、なんこ のこりますか。(30点)

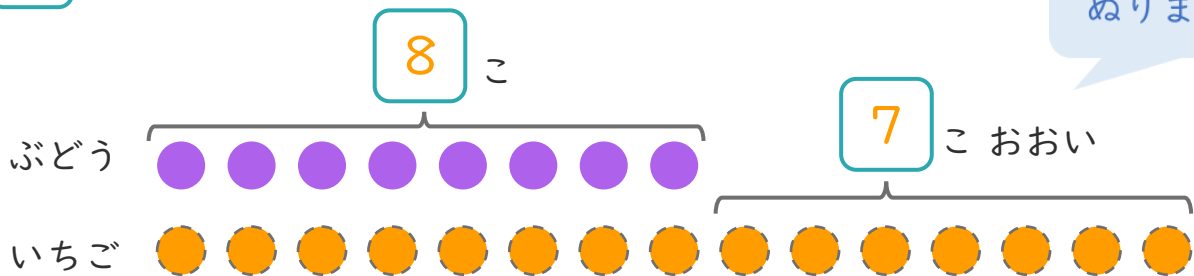
しき： $11 - 4 = 7$

こたえ { 7 こ }

2 ぶどうの あめが 8こ あります。

いちごの あめは、ぶどうの あめより 7こ おおいそうです。

① にあう かずを かきましょう。(20点)



○ にいろを
ぬりましょう。

② いちごの あめは なんこ ありますか。(30点)

しき： $8 + 7 = 15$

こたえ { 15 こ }

