



たしざんと
ひきざん 6

● どんぐりはなんこ？
(きゅうしょう)



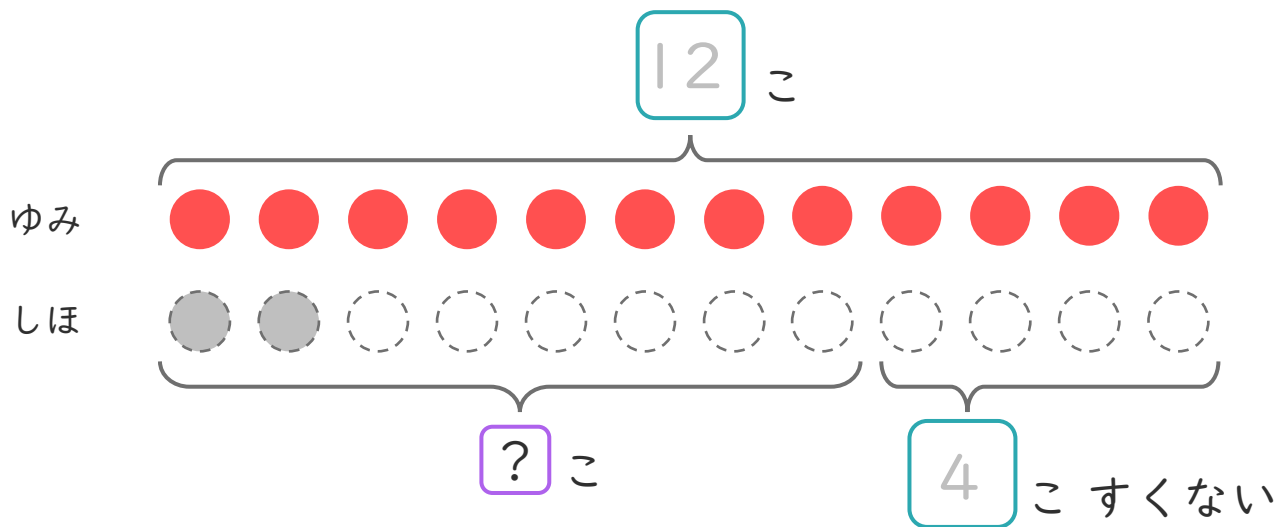
日にち： 月 日

名まえ _____

- ゆみさんとしほさんは、どんぐりをひろいました。
 ゆみさんは 12こ ひろいました。
 しほさんは、ゆみさんより 4こ すくなかったそうです。
 (うすいじはなぞりましょう。)

① にあうかずをかきましょう。

また、しほさんのひろったかずだけ○にいろをぬりましょう。



② しほさんはなんこひろいましたか。
しきとこたえをかきましょう。

しき： - =

こたえ こ





たしざんと
ひきざん 6

● どんぐりはなんこ？
(きゅうしょう)



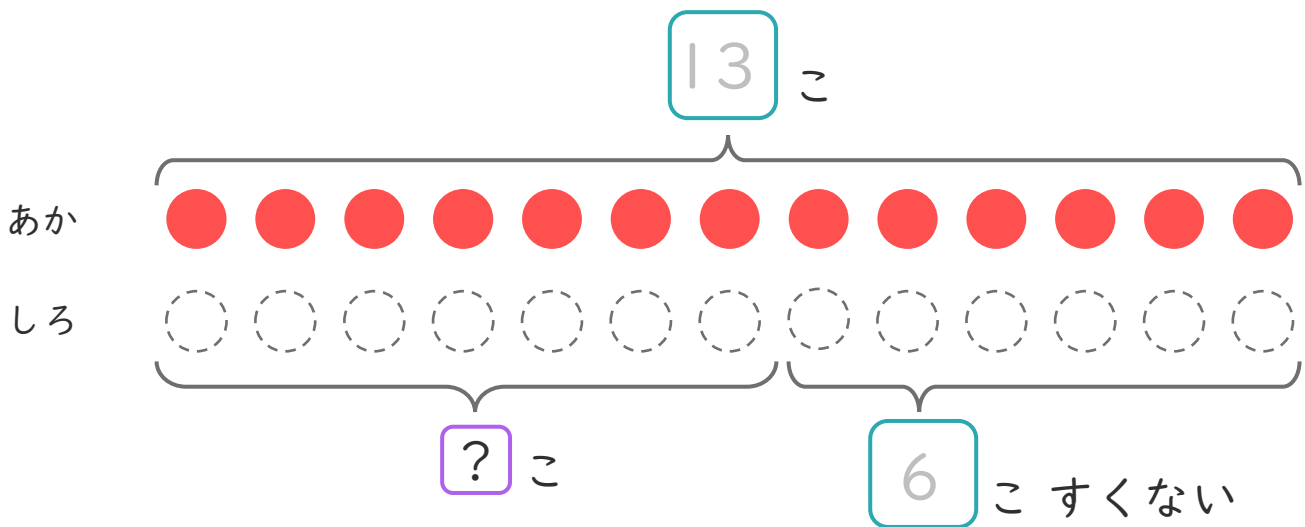
日にち： 月 日

名まえ _____

- あかいたまが 13こ あります。
しろいたまは、あかいたまより 6こ すくないそうです。
(うすいじはなぞりましょう。)

① にあう かずをかきましょう。

また、しろいたまのかずだけ にいろをぬりましょう。



② しろいたまはなんこ ありますか。

しき： 13 - =

こたえ こ



たしざんと
ひきざん 6

● どんぐりはなんこ？
(きゅうしょう)



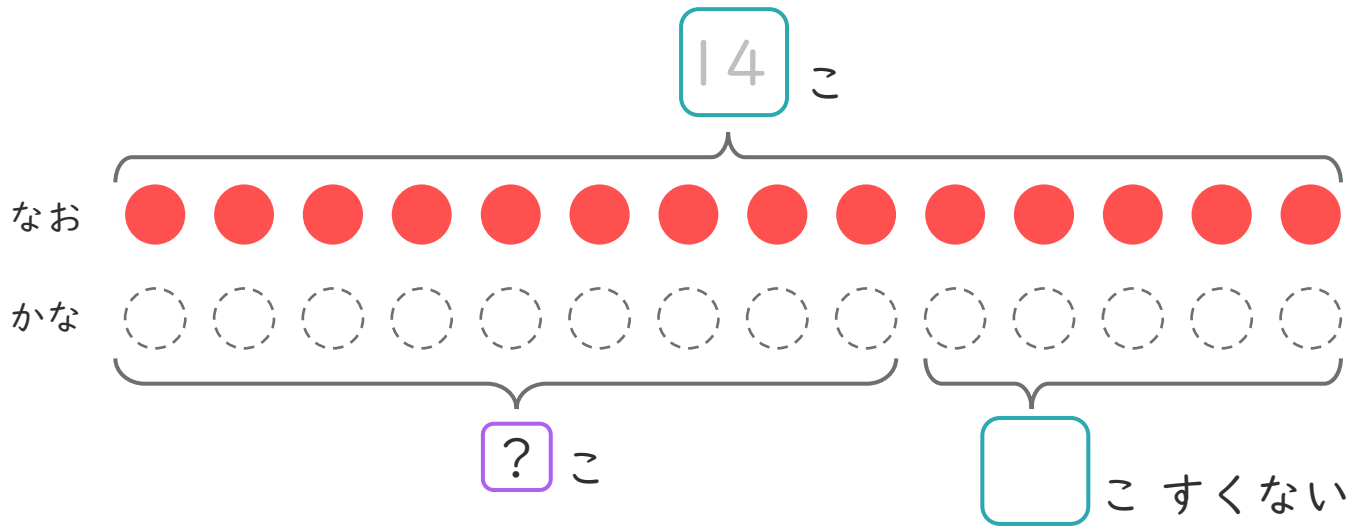
日にち： 月 日

名まえ _____

- なおさんとかなさんは、どんぐりをひろいました。
なおさんは 14こ ひろいました。
かなさんは、なおさんより 5こ すくなかったそうです。
(うすいじはなぞりましょう。)

① にあうかずをかきましょう。

また、かなさんのひろったかずだけ (○) にいろをぬりましょう。



② かなさんはなんこひろいましたか。
しきとこたえをかきましょう。

しき： - =

こたえ こ





たしざんと
ひきざん 6

● どんぐりはなんこ？
(きゅうしょう)



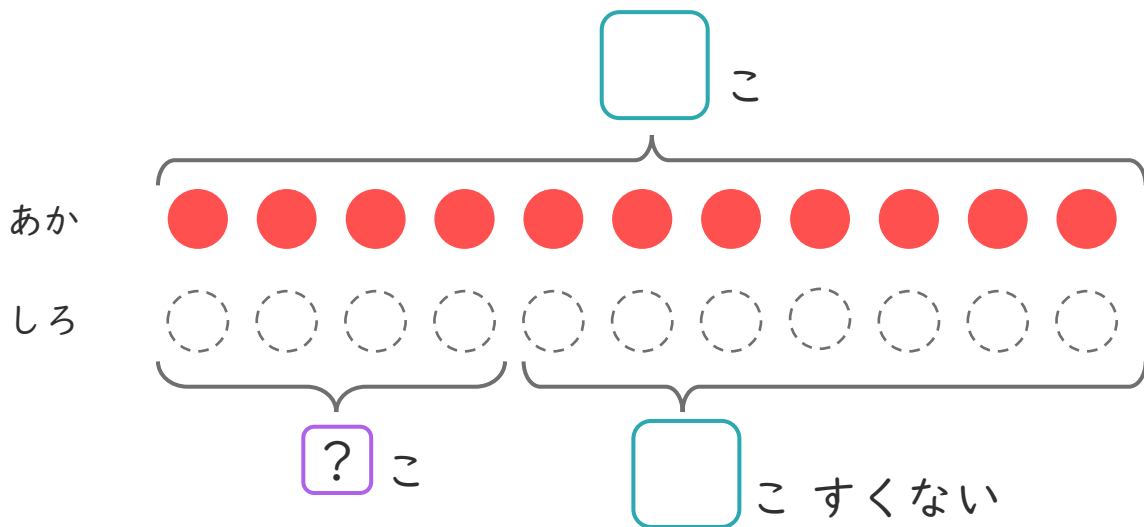
日にち： 月 日

名まえ _____

- あかいたまが 11 こ あります。
しろいたまは、あかいたまより 7 こ すくないそうです。

① に あう かず を かき まし ょう。

また、しろいたまのかずだけ に いろ を ぬり まし ょう。



② しろいたまは なんこ ありますか。

しき： - =

こたえ こ





たしざんと
ひきざん 6

● どんぐりはなんこ？
(きゅうしょう)



日にち： 月 日

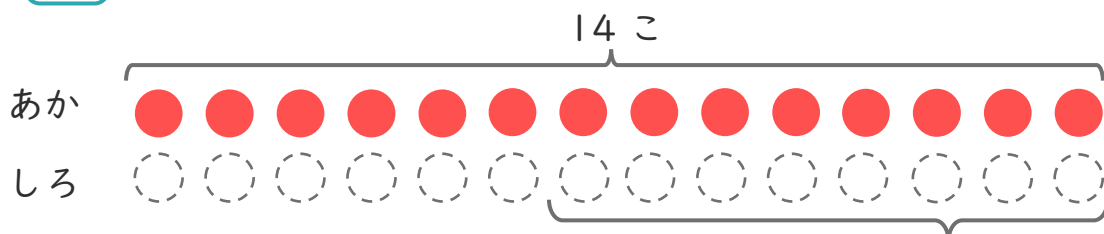
名まえ _____

1 あかいたまが 14こ あります。

しろいたまは、あかいたまより 8こ すくないそうです。

(うすいじはなぞりましょう。)

① にあうかずをかきましょう。



にいろをぬりましょう。

8こ すくない

② しろいたまはなんこ ありますか。

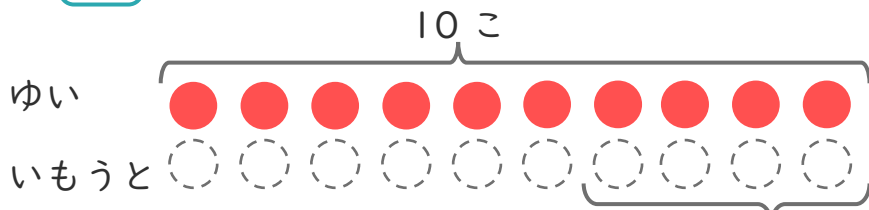
しき：

こたえ

2 ゆいさんはくりを 10こ ひろいました。

いもうとは、ゆいさんより 4こ すくなかった そうです。

① にあうかずをかきましょう。



にいろをぬりましょう。

こ すくない

② いもうとは、なんこ ひろいましたか。

しき：

こたえ





たしざんと
ひきざん 6

● どんぐりはなんこ？
(きゅうしょう)



日にち： 月 日

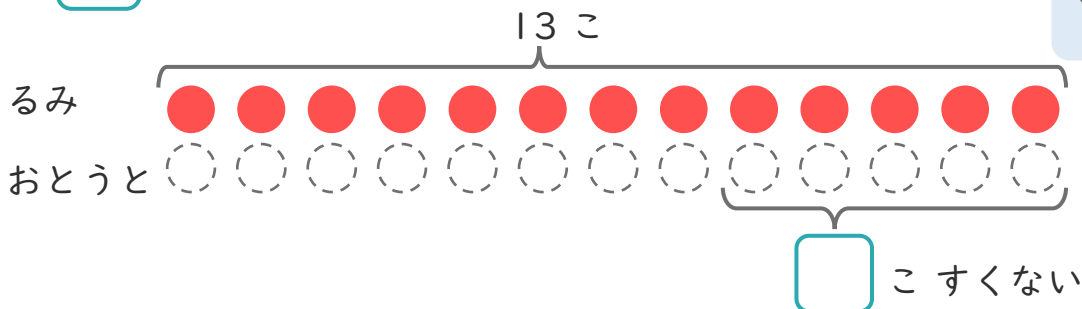
名まえ _____

1

るみさんはくりを 13こ ひろいました。
おとうとは、るみさんより 5こ すくなくった そうです。

① にあう かずをかきましょう。

○にいろを
ぬりましょう。



② おとうとは、なんこ ひろいましたか。

しき：

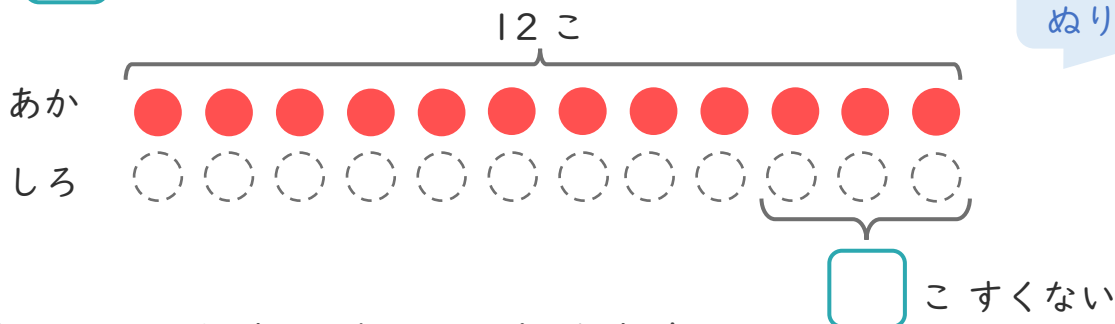
こたえ {

2

あかいたまが 12こ あります。
しろいたまは、あかいたまより 3こ すくない そうです。

① にあう かずをかきましょう。

○にいろを
ぬりましょう。



② しろいたまは なんこ ありますか。

しき：

こたえ {





たしざんと
ひきざん 6

● どんぐりはなんこ?
(きゅうしょう)



日にち： 月 日

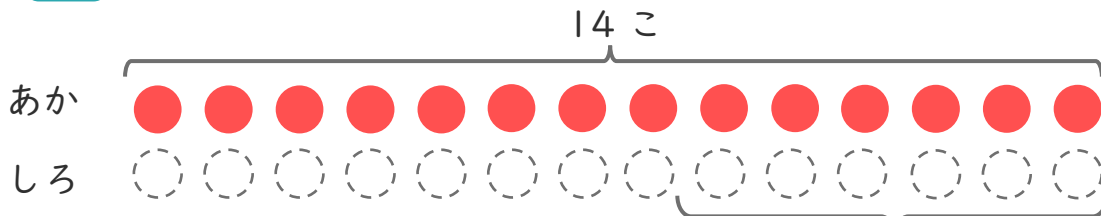
名まえ _____

1 あかいたまが 14こ あります。

しろいたまは、あかいたまより 6こ すくないそうです。

① にあうかずをかきましょう。

にいろをぬりましょう。



こすくない

② しろいたまはなんこ ありますか。

しき：

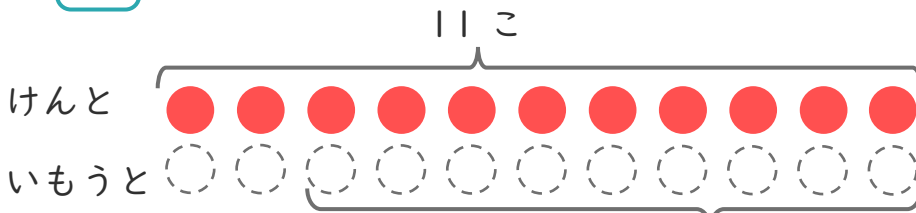
こたえ {

2 けんさんはどんぐりを 11こ ひろいました。

いもうとは、けんさんより 9こ すくなかったそうです。

① にあうかずをかきましょう。

にいろをぬりましょう。



こすくない

② いもうとは、なんこ ひろいましたか。

しき：

こたえ {





たしざんと
ひきざん 6

● どんぐりはなんこ?
(きゅうしょう)



日にち： 月 日

名まえ _____

1

はやとさんはくりを 9こ ひろいました。
おとうとは、はやとさんより 2こ すくなくった そうです。

① にあうかずをかきましょう。

9こ

はやと



おとうと



○にいろを
ぬりましょう。

こすくない

② おとうとは、なんこ ひろいましたか。

しき：

こたえ {

2

あかいたまが 13こ あります。
しろいたまは、あかいたまより 8こ すくなくい そうです。

① にあうかずをかきましょう。

13こ

あか



しろ



○にいろを
ぬりましょう。

こすくない

② しろいたまはなんこ ありますか。

しき：

こたえ {





たしざんと
ひきざん 6

● どんぐりはなんこ?
(きゅうしょう)



日にち： 月 日

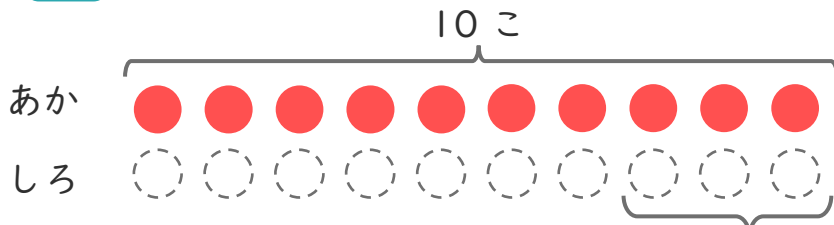
名まえ _____

1 あかいたまが 10こ あります。

しろいたまは、あかいたまより 3こ すくないそうです。

① □ にあうかずをかきましょう。

○ にいろをぬりましょう。



□ こすくない

② しろいたまはなんこ ありますか。

しき：

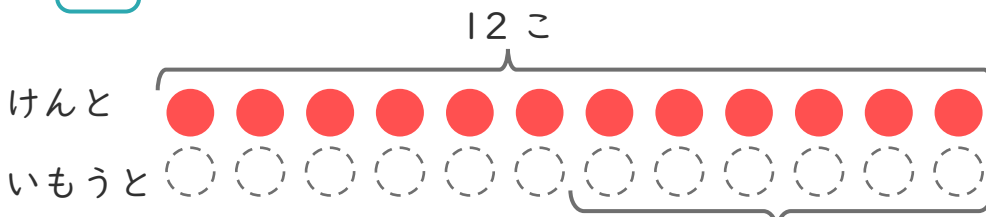
こたえ {

2 けんさんはどんぐりを 12こ ひろいました。

いもうとは、けんさんより 6こ すくなかったそうです。

① □ にあうかずをかきましょう。

○ にいろをぬりましょう。



□ こすくない

② いもうとは、なんこ ひろいましたか。

しき：

こたえ {





たしざんと
ひきざん 6

● どんぐりはなんこ?
(きゅうしょう)



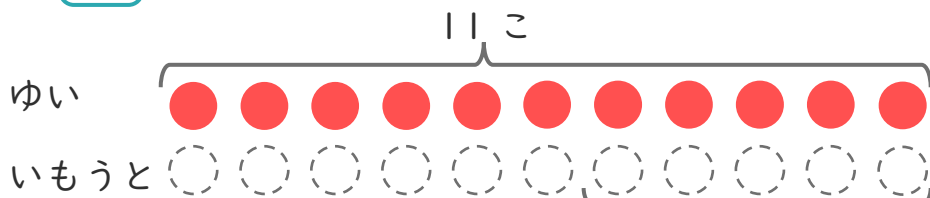
日にち： 月 日


名まえ _____

1

ゆいさんはくりを 11こ ひろいました。
いもうとは、ゆいさんより 5こ すくなくった そうです。

① にあうかずをかきましょう。



 にいろを
ぬりましょう。

こすくない

② いもうとは、なんこ ひろいましたか。

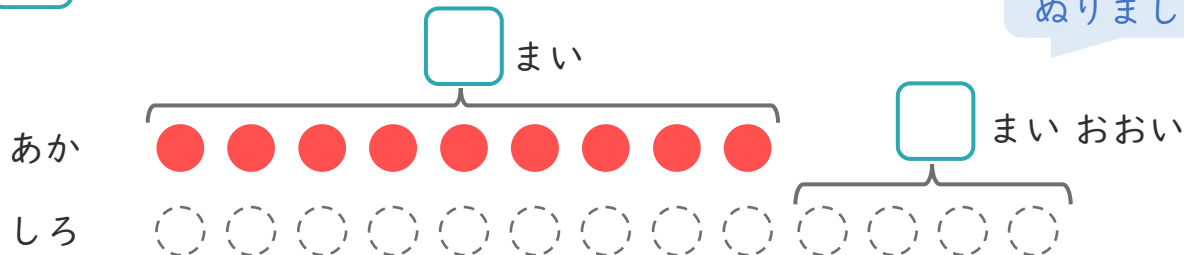
しき：


こたえ {

2 あかい かみを 9まい かいました。

しろい かみは、あかい かみより 4まい おおく かいました。

① にあうかずをかきましょう。



 にいろを
ぬりましょう。

② しろい かみは、なんまい かいましたか。

しき：

こたえ {





たしざんと
ひきざん 6

● どんぐりはなんこ?
(きゅうしょう)



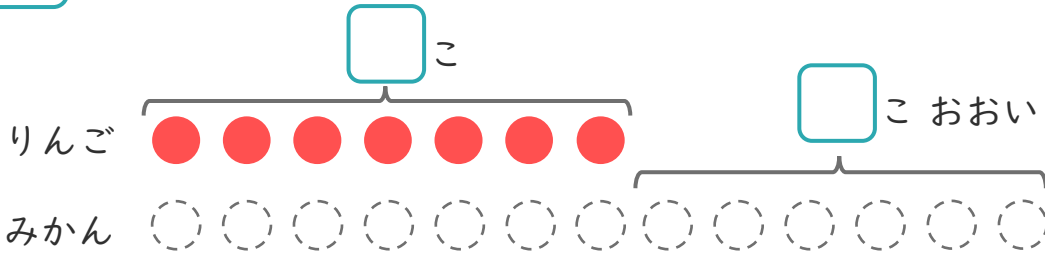
日にち： 月 日

名まえ _____

1 りんごの あめが 7 こ あります。

みかんの あめは、りんごの あめより 6 こ おおいそうです。

① に あう かず を かき まし ょう。



○ に いろ を
ぬ り まし ょう。

② みかんの あめは なん こ あり ます か。

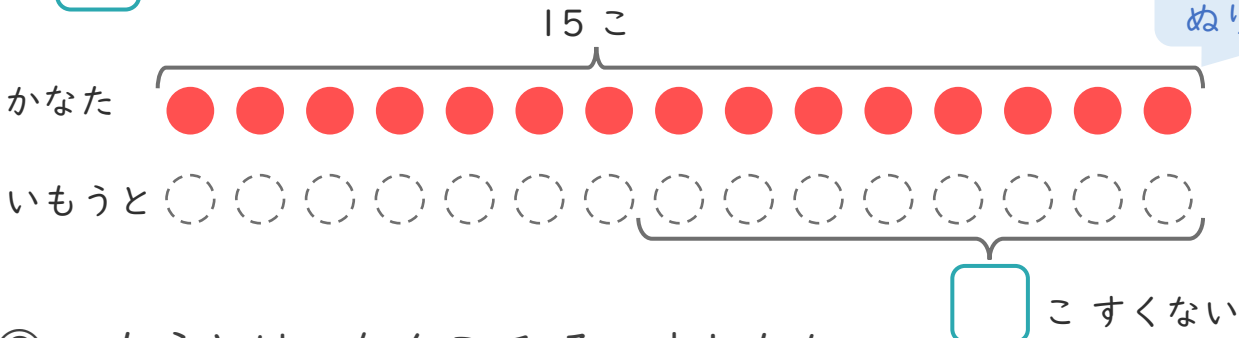
しき：

こたえ {

2 かなたさんは どんぐりを 15 こ ひろい ました。

いもうとは、かなたさんより 8 こ すく なか った そ う で す。

① に あう かず を かき まし ょう。



○ に いろ を
ぬ り まし ょう。

② いもうとは、なん こ ひろい ました か。

しき：

こたえ {





たしざんと
ひきざん 6

● どんぐりはなんこ?
(きゅうしょう)

12

日にち： 月 日

名まえ _____

1

あかい かみが 14まい あります。

しろい かみは、あかい かみより 9まい すくない そうです。

① に あう かず を かき まし ょう。

14 まい

○ に いろ を
ぬ り まし ょう。

あか



しろ



まい すくない

② しろい かみは なんまい あります か。

しき：

こたえ {

2

たま いれ を し まし た。あか ぐみ は、8こ は い り まし た。

しろ ぐみ は、あか ぐみ より 2こ おお い そうです。

① に あう かず を かき まし ょう。

こ

○ に いろ を
ぬ り まし ょう。

あか



こ おお い

しろ



② しろ ぐみ は、なんこ は い り まし た か。

しき：

こたえ {





たしざんと
ひきざん 6

● どんぐりはなんこ?
(きゅうしょう)

13

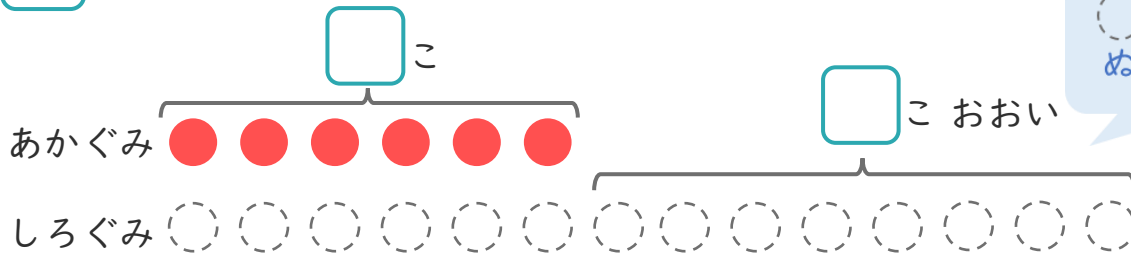
日にち： 月 日

名まえ _____

1

たまいをしました。あかぐみは、6こはいりました。
しろぐみは、あかぐみより8こおいそうです。

① にあうかずをかきましょう。



○にいろを
ぬりましょう。

② しろぐみは、なんこはいりましたか。

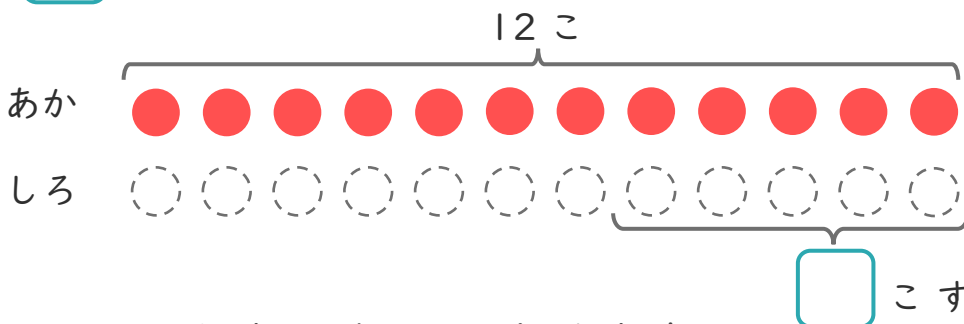
しき：

こたえ {

2

あかいたまが12こあります。
しろいたまは、あかいたまより5こすくないそうです。

① にあうかずをかきましょう。



○にいろを
ぬりましょう。

② しろいたまはなんこありますか。

しき：

こたえ {





たしざんと
ひきざん 6
● どんぐりはなんこ？
(きゅうしょう)

14

日にち： 月 日

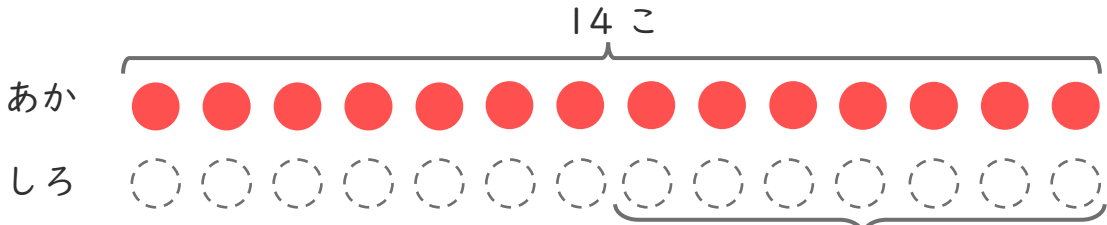
名まえ _____

1 あかいたまが 14こ あります。

しろいたまは、あかいたまより 7こ すくないそうです。

① にあうかずをかきましょう。

○にいろをぬりましょう。



こすくない

② しろいたまはなんこ ありますか。

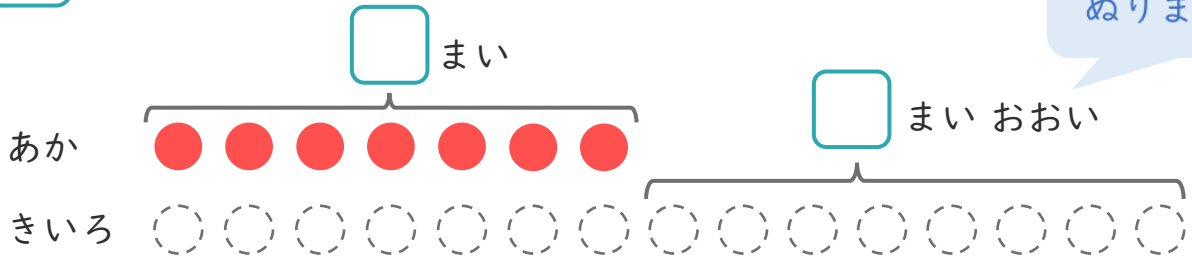
しき：

こたえ {

2 あかいかみを 7まい かいました。きいろいかみは、あかいかみより 8まい おおく かいました。

① にあうかずをかきましょう。

○にいろをぬりましょう。



② きいろ かみは なんまい かいましたか。

しき：

こたえ {



たしざんと
ひきざん 6

● どんぐりはなんこ?
(きゅうしょう)

15

めざせ80点!



てん

名まえ

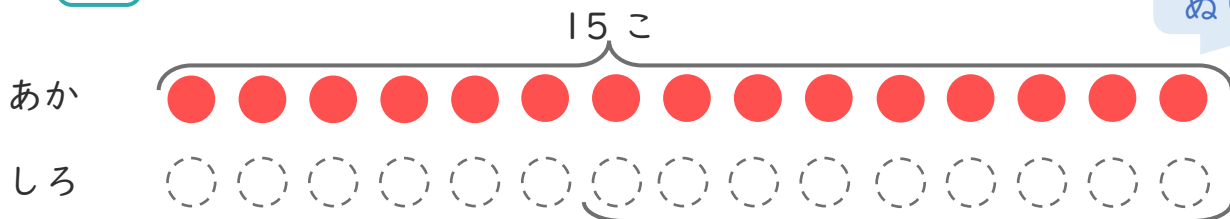
1

あかいたまが15こあります。

しろいたまは、あかいたまより9こすくないそうです。

① にあうかずをかきましょう。(20点)

○にいろをぬりましょう。



こすくない

② しろいたまはなんこありますか。(30点)

しき:

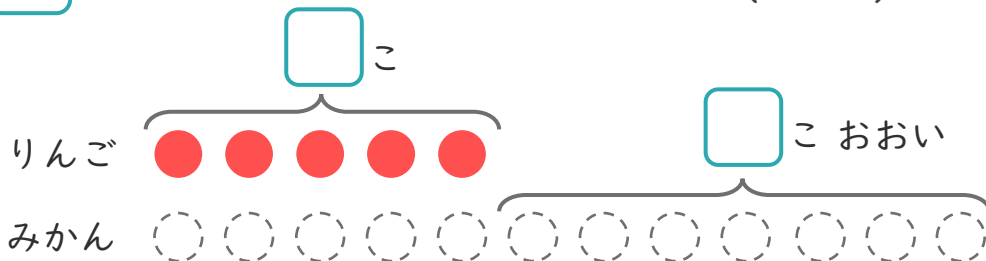
こたえ

2 りんごのあめが5こあります。

みかんのあめはりんごのあめより7こおいそうです。

① にあうかずをかきましょう。(20点)

○にいろをぬりましょう。



② みかんのあめは、なんこありますか。(30点)

しき:

こたえ





たしざんと
ひきざん 6

● どんぐりはなんこ?
(きゅうしょう)

16

めざせ80点!

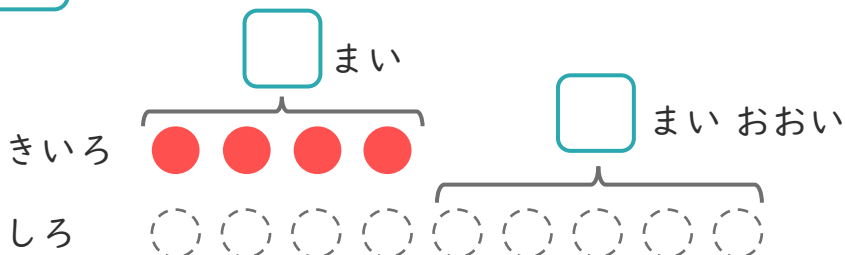


名まえ _____

1

きいろいかみを4まいかいました。
しろいかみは、あかいかみより5まいおおくかいました。

① にあうかずをかきましょう。(20点)



○にいろをぬりましょう。

② しろいかみはなんまいかいましたか。(30点)

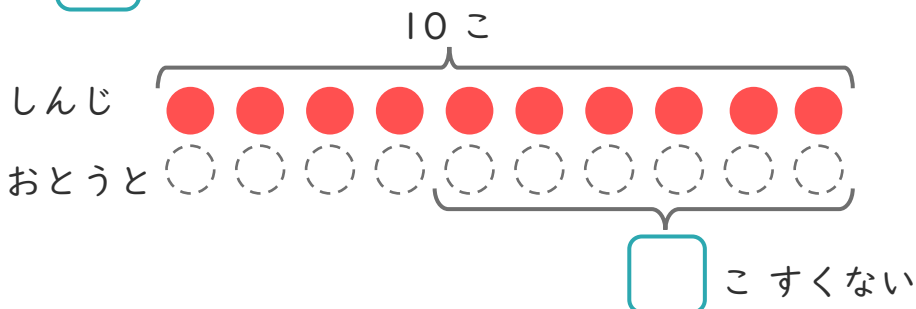
しき:

こたえ { }

2

しんじさんはどんぐりを10こひろいました。
おとうとは、しんじさんより6こすくなくったそうです。

① にあうかずをかきましょう。(20点)



○にいろをぬりましょう。

② おとうとは、なんこひろいましたか。(30点)

しき:

こたえ { }





たしざんと
ひきざん 6

● どんぐりはなんこ？
(きゅうしょう)



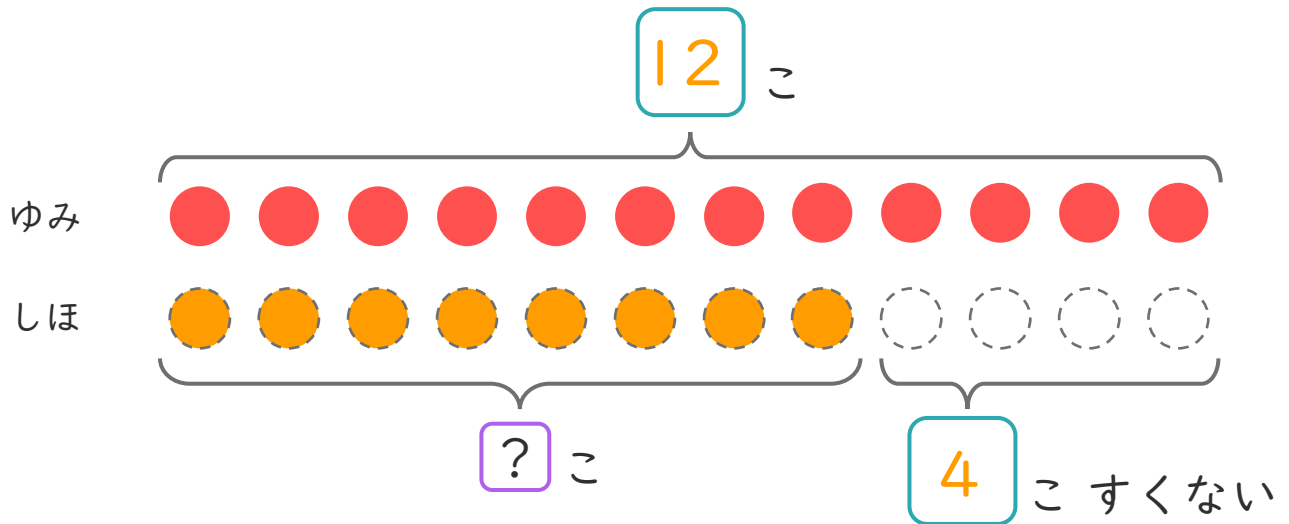
日にち： 月 日

名まえ _____

- ゆみさんとしほさんは、どんぐりをひろいました。
ゆみさんは 12こ ひろいました。
しほさんは、ゆみさんより 4こ すくなかったそうです。
(うすいじはなぞりましょう。)

① にあうかずをかきましょう。

また、しほさんのひろったかずだけ○にいろをぬりましょう。



② しほさんはなんこひろいましたか。
しきとこたえをかきましょう。

しき： - =

こたえ こ





たしざんと
ひきざん 6

● どんぐりはなんこ?
(きゅうしょう)



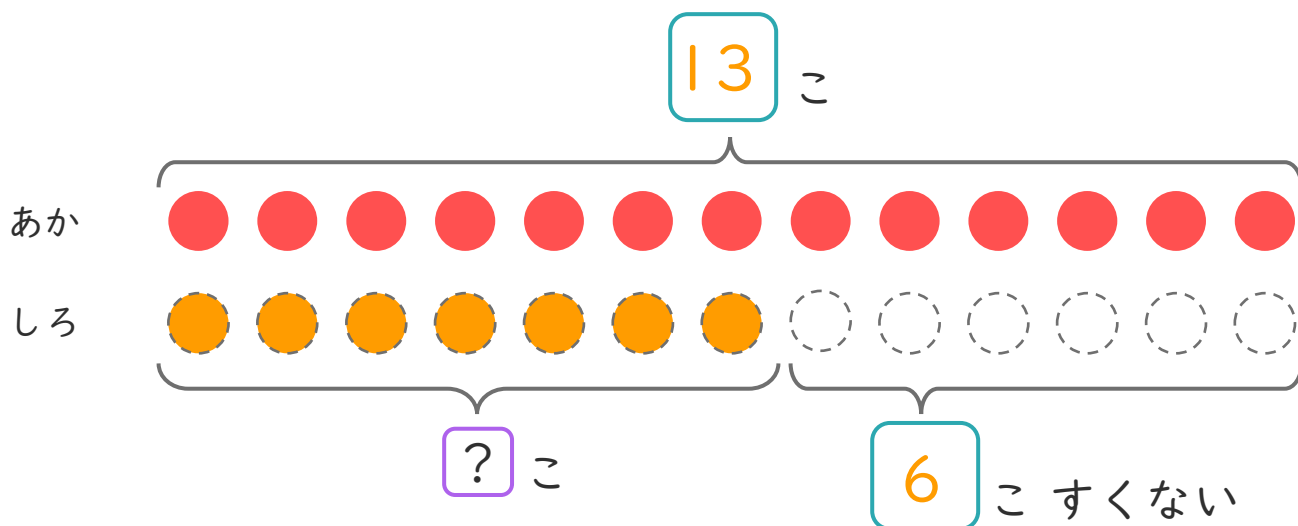
日にち： 月 日

名まえ _____

- あかいたまが 13こ あります。
しろいたまは、あかいたまより 6こ すくないそうです。
(うすいじはなぞりましょう。)

① にあうかずをかきましょう。

また、しろいたまのかずだけ にいろをぬりましょう。



② しろいたまはなんこ ありますか。

しき： $13 - 6 = 7$

こたえ $\left(7 \text{ こ} \right)$





たしざんと
ひきざん 6

● どんぐりはなんこ？
(きゅうしょう)



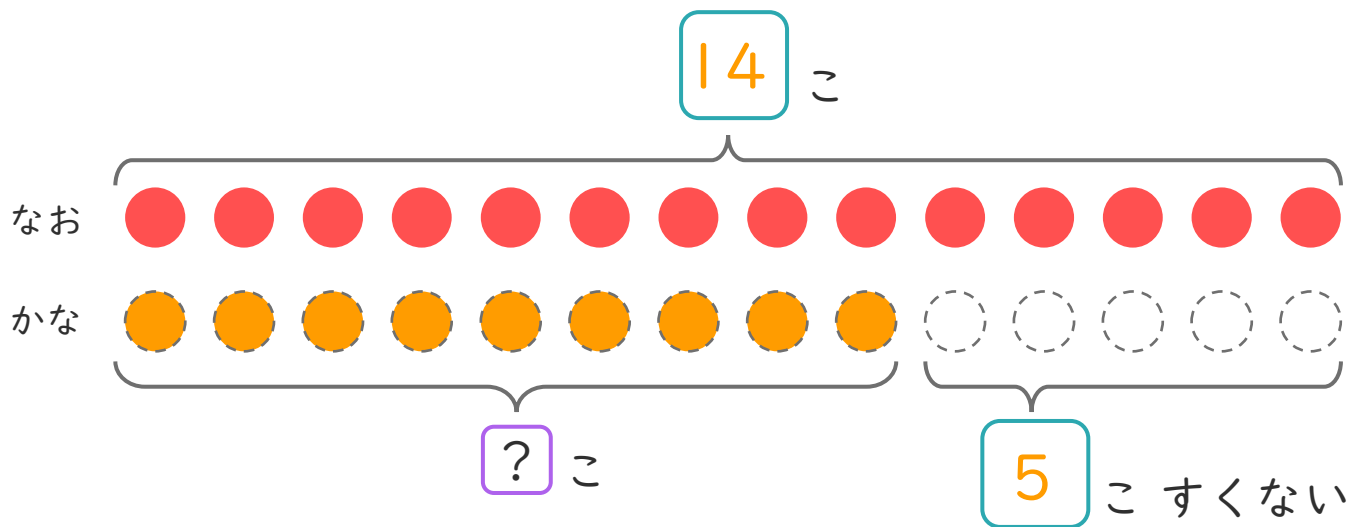
日にち： 月 日

名まえ _____

- なおさんとかなさんは、どんぐりをひろいました。
なおさんは 14こ ひろいました。
かなさんは、なおさんより 5こ すくなくったそうです。
(うすいじはなぞりましょう。)

① にあうかずをかきましょう。

また、かなさんのひろったかずだけ(○)にいろをぬりましょう。



② かなさんはなんこひろいましたか。
しきとこたえをかきましょう。

しき： $14 - 5 = 9$

こたえ $\left(9 \text{ こ} \right)$





たしざんと
ひきざん 6

● どんぐりはなんこ？
(きゅうしょう)



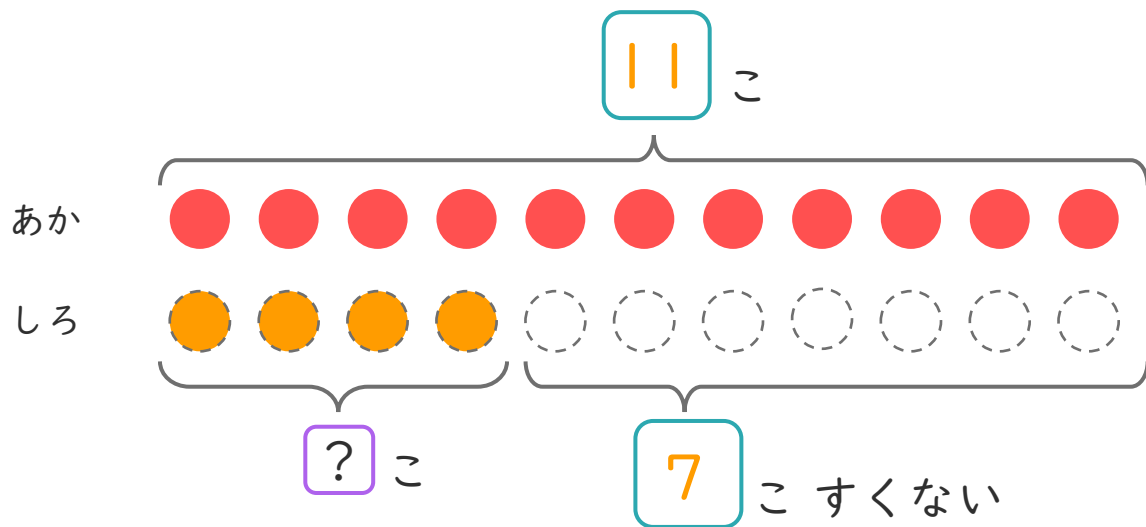
日にち： 月 日

名まえ _____

- あかいたまが 11 こ あります。
しろいたまは、あかいたまより 7 こ すくないそうです。

① □ にあうかずをかきましょう。

また、しろいたまのかずだけ ○ にいろをぬりましょう。



② しろいたまはなんこありますか。

しき： $11 - 7 = 4$

こたえ $\left(4 \text{ こ} \right)$





たしざんと
ひきざん 6

● どんぐりはなんこ？
(きゅうしょう)



日にち： 月 日

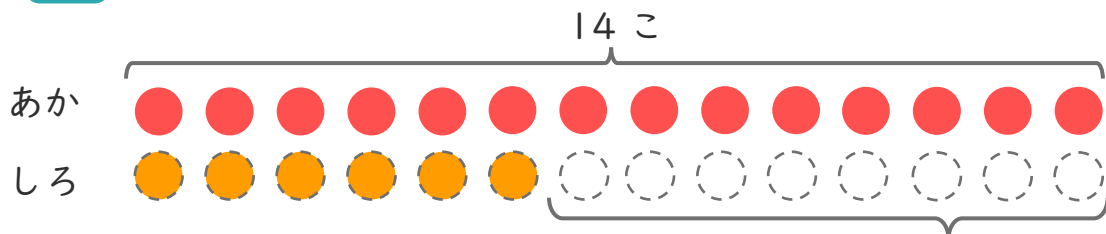
名まえ _____

1 あかいたまが 14こ あります。

しろいたまは、あかいたまより 8こ すくないそうです。

(うすいじはなぞりましょう。)

① にあうかずをかきましょう。



8こすくない

② しろいたまはなんこ ありますか。

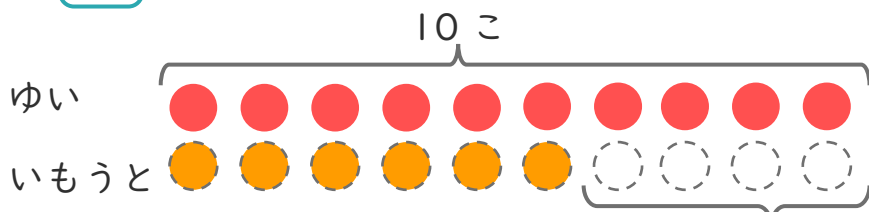
しき： $14 - 8 = 6$

こたえ { 6 こ }

2 ゆいさんはくりを 10こ ひろいました。

いもうとは、ゆいさんより 4こ すくなかった そうです。

① にあうかずをかきましょう。



4こすくない

② いもうとは、なんこ ひろいましたか。

しき： $10 - 4 = 6$

こたえ { 6 こ }





たしざんと
ひきざん 6

● どんぐりはなんこ？
(きゅうしょう)



日にち： 月 日

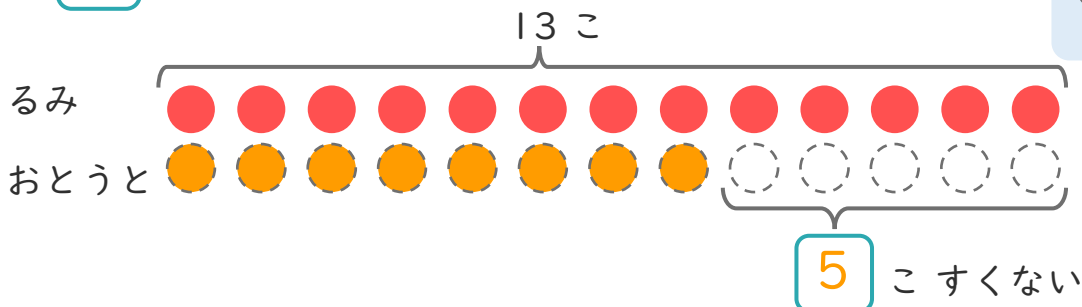
名まえ _____

1

るみさんはくりを 13こ ひろいました。
おとうとは、るみさんより 5こ すくなくった そうです。

① にあう かずをかきましょう。

○にいろを
ぬりましょう。



② おとうとは、なんこ ひろいましたか。

しき： $13 - 5 = 8$

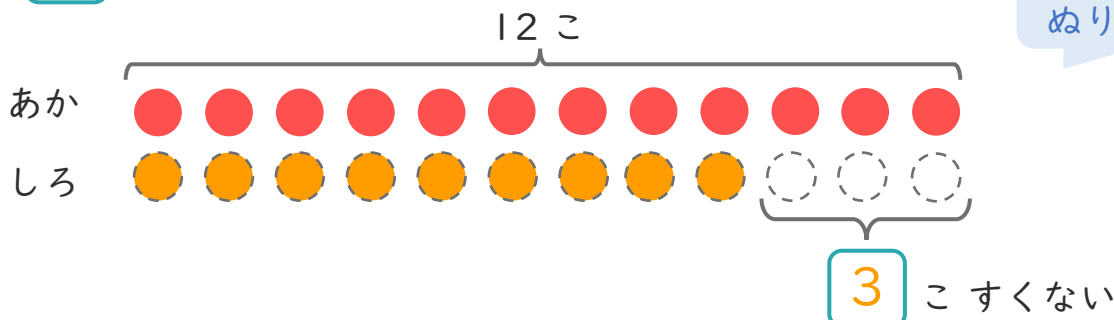
こたえ $\left(\begin{array}{c} 8 \\ \text{こ} \end{array} \right)$

2

あかいたまが 12こ あります。
しろいたまは、あかいたまより 3こ すくない そうです。

① にあう かずをかきましょう。

○にいろを
ぬりましょう。



② しろいたまは なんこ ありますか。

しき： $12 - 3 = 9$

こたえ $\left(\begin{array}{c} 9 \\ \text{こ} \end{array} \right)$





たしざんと
ひきざん 6

● どんぐりはなんこ?
(きゅうしょう)



日にち： 月 日

名まえ _____

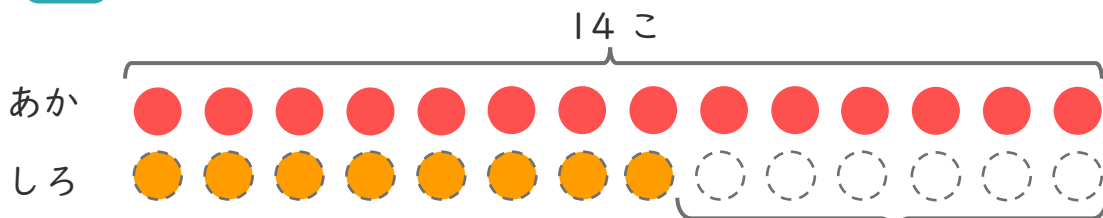
1

あかいたまが 14こ あります。

しろいたまは、あかいたまより 6こ すくない そうです。

① にあう かずを かきましょう。

○ にいろを
ぬりましょう。



6こ すくない

② しろいたまは なんこ ありますか。

しき： $14 - 6 = 8$

こたえ $\left(\begin{array}{c} 8 \\ \text{こ} \end{array} \right)$

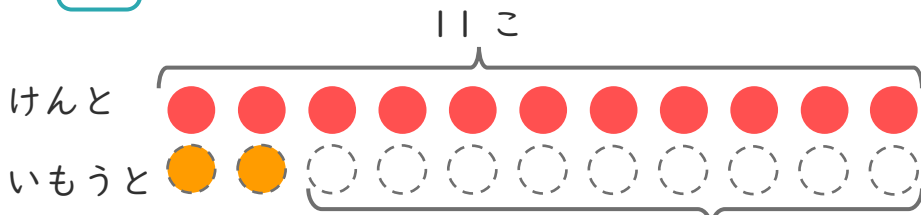
2

けんとさんは どんぐりを 11こ ひろいました。

いもうとは、けんとさんより 9こ すくなく かった そうです。

① にあう かずを かきましょう。

○ にいろを
ぬりましょう。



9こ すくない

② いもうとは、なんこ ひろいましたか。

しき： $11 - 9 = 2$

こたえ $\left(\begin{array}{c} 2 \\ \text{こ} \end{array} \right)$





たしざんと
ひきざん 6

● どんぐりはなんこ?
(きゅうしょう)



日にち： 月 日

名まえ _____


1

はやとさんはくりを 9 こ ひろいました。
おとうとは、はやとさんより 2 こ すくなくった そうです。

① にあうかずをかきましょう。

9 こ

○にいろを
ぬりましょう。



2 こ すくない

② おとうとは、なんこ ひろいましたか。

しき： $9 - 2 = 7$

こたえ $\left(\begin{array}{c} 7 \\ \text{こ} \end{array} \right)$

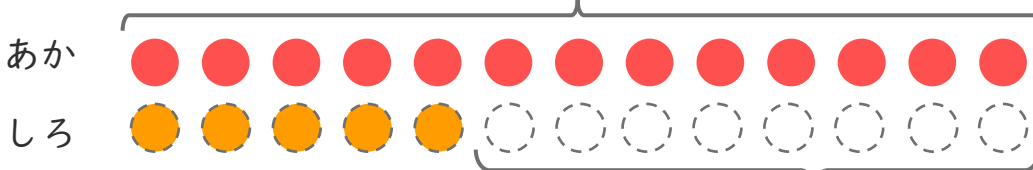
2

あかいたまが 13 こ あります。
しろいたまは、あかいたまより 8 こ すくない そうです。

① にあうかずをかきましょう。

13 こ

○にいろを
ぬりましょう。



8 こ すくない

② しろいたまはなんこ ありますか。

しき： $13 - 8 = 5$

こたえ $\left(\begin{array}{c} 5 \\ \text{こ} \end{array} \right)$





たしざんと
ひきざん 6

● どんぐりはなんこ?
(きゅうしょう)



日にち： 月 日

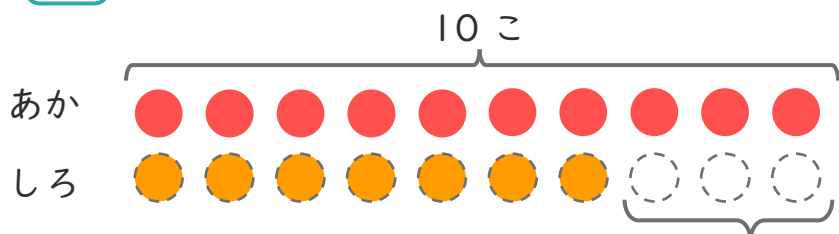
名まえ _____

1 あかいたまが 10こ あります。

しろいたまは、あかいたまより 3こ すくないそうです。

① □ にあうかずをかきましょう。

○ にいろをぬりましょう。



3こ すくない

② しろいたまはなんこ ありますか。

しき： $10 - 3 = 7$

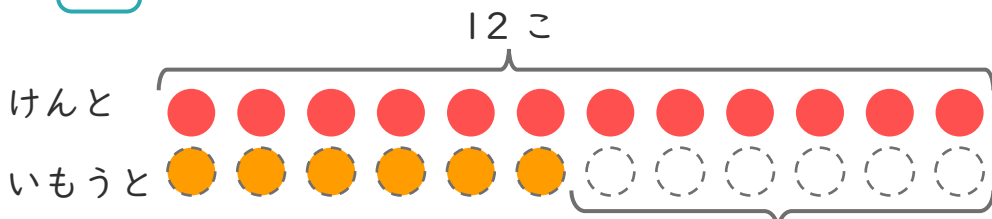
こたえ { 7 こ }

2 けんとさんはどんぐりを 12こ ひろいました。

いもうとは、けんとさんより 6こ すくなかったそうです。

① □ にあうかずをかきましょう。

○ にいろをぬりましょう。



6こ すくない

② いもうとは、なんこ ひろいましたか。

しき： $12 - 6 = 6$

こたえ { 6 こ }





たしざんと
ひきざん 6

● どんぐりはなんこ?
(きゅうしょう)



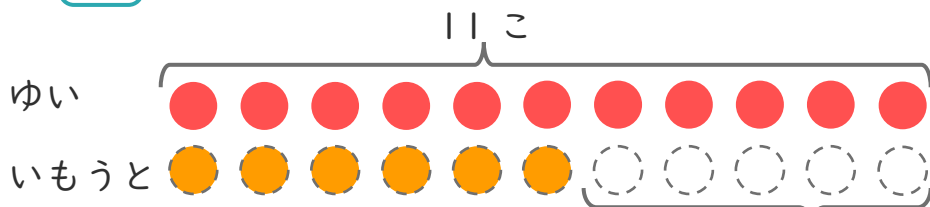
日にち： 月 日


名まえ _____

1

ゆいさんはくりを 11こ ひろいました。
いもうとは、ゆいさんより 5こ すくなくった そうです。

① にあうかずをかきましょう。



 にいろを
ぬりましょう。

5こ すくない

② いもうとは、なんこ ひろいましたか。

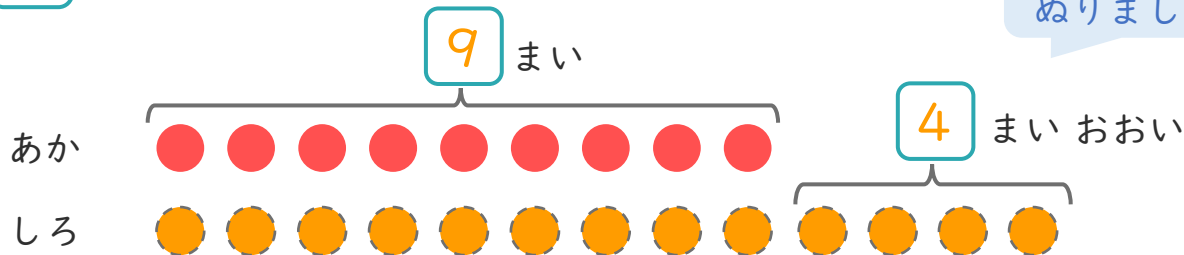
しき： $11 - 5 = 6$


こたえ $\left(\begin{array}{cc} 6 & こ \end{array} \right)$

2

あかい かみを 9まい かいました。
しろい かみは、あかい かみより 4まい おおく かいました。

① にあうかずをかきましょう。



 にいろを
ぬりましょう。

② しろい かみは、なんまい かいましたか。

しき： $9 + 4 = 13$

こたえ $\left(\begin{array}{cc} 13 & まい \end{array} \right)$





たしざんと
ひきざん 6

● どんぐりはなんこ?
(きゅうしょう)



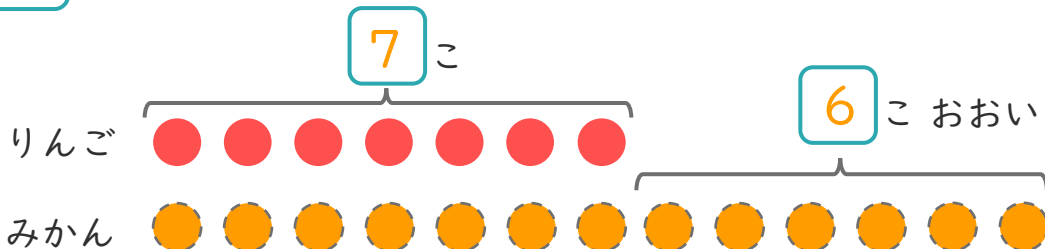
日にち： 月 日

名まえ _____

1

りんごのあめが7こあります。
みかんのあめは、りんごのあめより6こおいそです。

① にあうかずをかきましょう。



○にいろをぬりましょう。

② みかんのあめはなんこありますか。

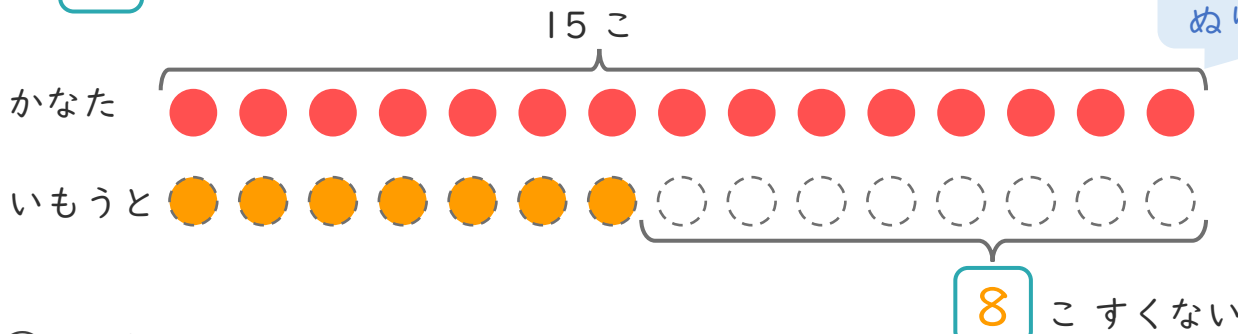
しき： $7 + 6 = 13$

こたえ 13 こ

2

かなたさんはどんぐりを15こひろいました。
いもうとは、かなたさんより8こすくなかったそうです。

① にあうかずをかきましょう。




○にいろをぬりましょう。

② いもうとは、なんこひろいましたか。

しき： $15 - 8 = 7$

こたえ 7 こ





たしざんと
ひきざん 6
● どんぐりはなんこ？
(きゅうしょう)

12

日にち： 月 日

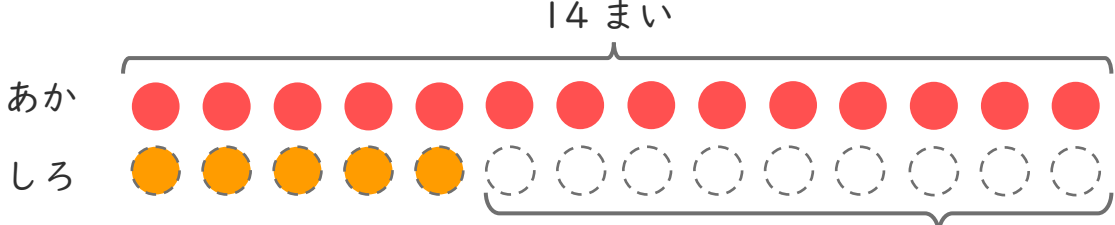
名まえ _____

1 あかい かみが 14まい あります。

しろい かみは、あかい かみより 9まい すくない そうです。

① □ に あう かず を かき まし ょう。

○ に いろ を ぬ り まし ょう。



9 まい すくない

② しろい かみは なんまい あります か。

しき： $14 - 9 = 5$

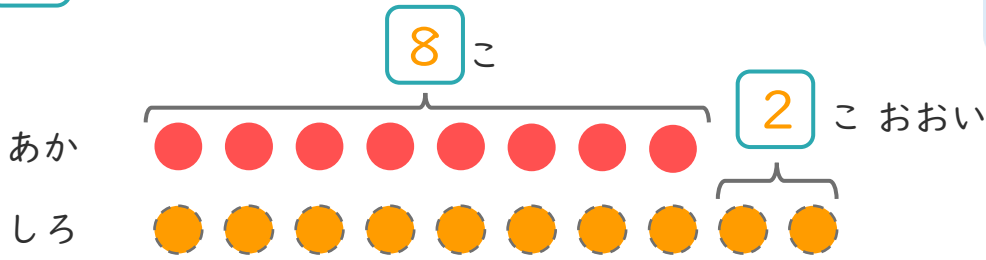
こたえ { 5 まい }

2 たま いれ を し まし た。あか ぐみ は、8こ は いり まし た。

しろ ぐみ は、あか ぐみ より 2こ おお い そうです。

① □ に あう かず を かき まし ょう。

○ に いろ を ぬ り まし ょう。



② しろ ぐみ は、なんこ は いり まし た か。

しき： $8 + 2 = 10$

こたえ { 10 こ }



たしざんと
ひきざん 6

● どんぐりはなんこ?
(きゅうしょう)

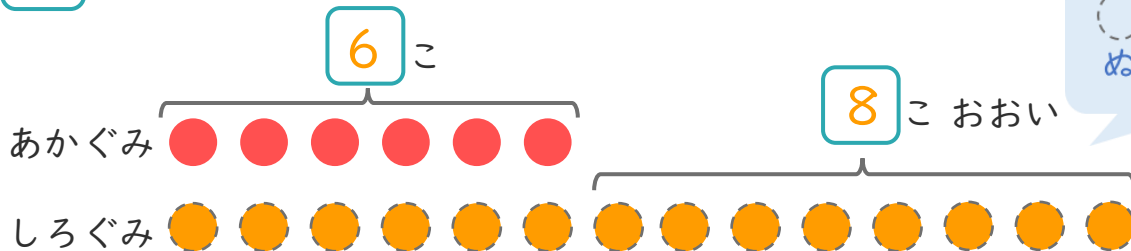
13

日にち： 月 日

名まえ _____

1 たまいれをしました。あかぐみは、6こはいりました。
しろぐみは、あかぐみより 8こ おおいそうです。

① □ にあうかずをかきましょう。



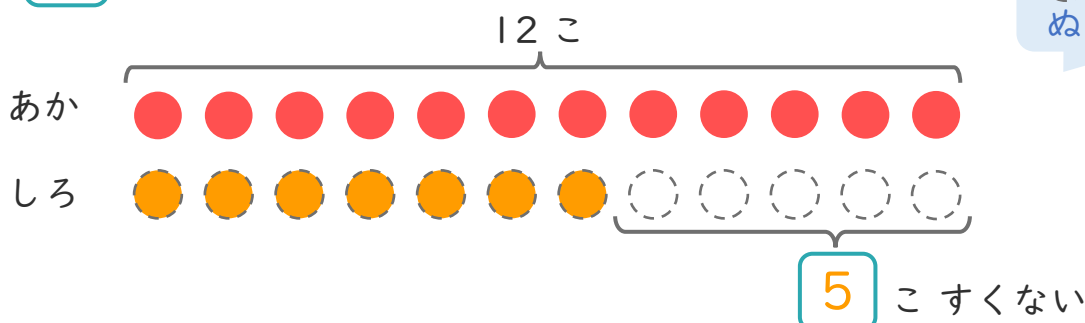
② しろぐみは、なんこはいりましたか。

しき： $6 + 8 = 14$

こたえ { 14 こ }

2 あかいたまが 12こ あります。
しろいたまは、あかいたまより 5こ すくないそうです。

① □ にあうかずをかきましょう。



② しろいたまはなんこ ありますか。

しき： $12 - 5 = 7$

こたえ { 7 こ }





たしざんと
ひきざん 6
● どんぐりはなんこ？
(きゅうしょう)

14

日にち： 月 日

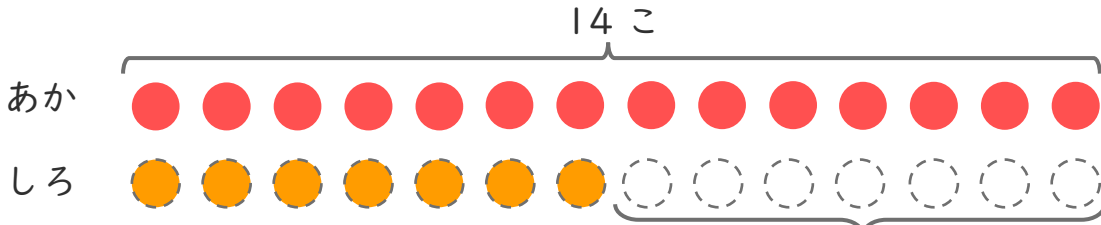
名まえ _____

1 あかいたまが 14こ あります。

しろいたまは、あかいたまより 7こ すくないそうです。

① □ にあうかずをかきましょう。

○ にいろをぬりましょう。



7 こ すくない

② しろいたまは なんこ ありますか。

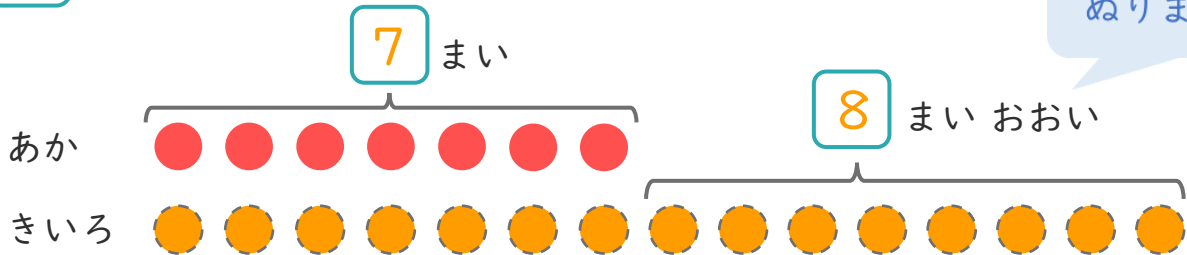
しき： $14 - 7 = 7$

こたえ { 7 こ }

2 あかいかみを 7まい かいました。きいろいかみは、あかいかみより 8まい おおく かいました。

① □ にあうかずをかきましょう。

○ にいろをぬりましょう。



② きいろかみは なんまい かいましたか。

しき： $7 + 8 = 15$

こたえ { 15 まい }





たしざんと
ひきざん 6

● どんぐりはなんこ？
(きゅうしょう)

15

めざせ80点!



名まえ _____

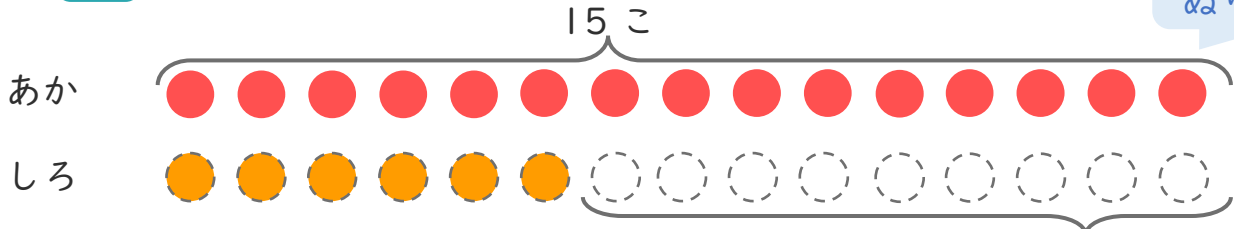
1

あかいたまが15こあります。

しろいたまは、あかいたまより9こすくないそうです。

① にあうかずをかきましょう。(20点)

○にいろをぬりましょう。



9こすくない

② しろいたまはなんこありますか。(30点)

しき： $15 - 9 = 6$

こたえ

6こ

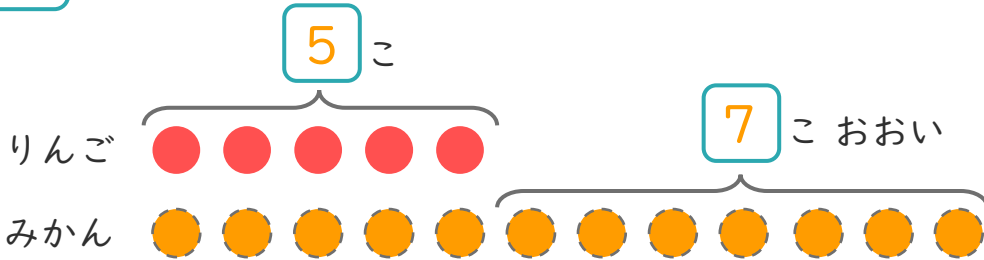
2

りんごのあめが5こあります。

みかんのあめはりんごのあめより7こおいそうです。

① にあうかずをかきましょう。(20点)

○にいろをぬりましょう。



② みかんのあめは、なんこありますか。(30点)

しき： $5 + 7 = 12$

こたえ

12こ





たしざんと
ひきざん 6

● どんぐりはなんこ?
(きゅうしょう)

16

めざせ80点!



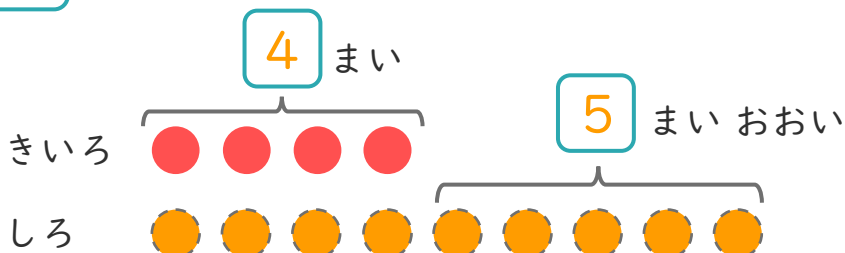
名まえ _____

1

きいろいかみを4まいかいました。
しろいかみは、あかいかみより5まいおおくかいました。

① □にあうかずをかきましょう。(20点)

○にいろをぬりましょう。



② しろいかみはなんまいかいましたか。(30点)

しき： $4 + 5 = 9$

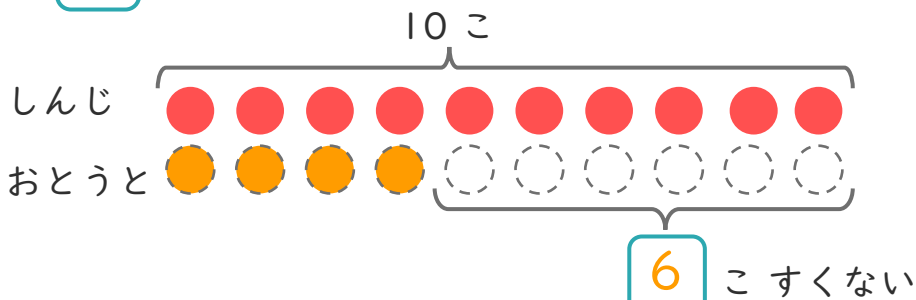
こたえ { 9 まい }

2

しんじさんはどんぐりを10こひろいました。
おとうとは、しんじさんより6こすくなくったそうです。

① □にあうかずをかきましょう。(20点)

○にいろをぬりましょう。



② おとうとは、なんこひろいましたか。(30点)

しき： $10 - 6 = 4$

こたえ { 4 こ }

