



たしざんと  
ひきざん 4

● すわれないひとはなんにん?  
(こすうとにんずう)



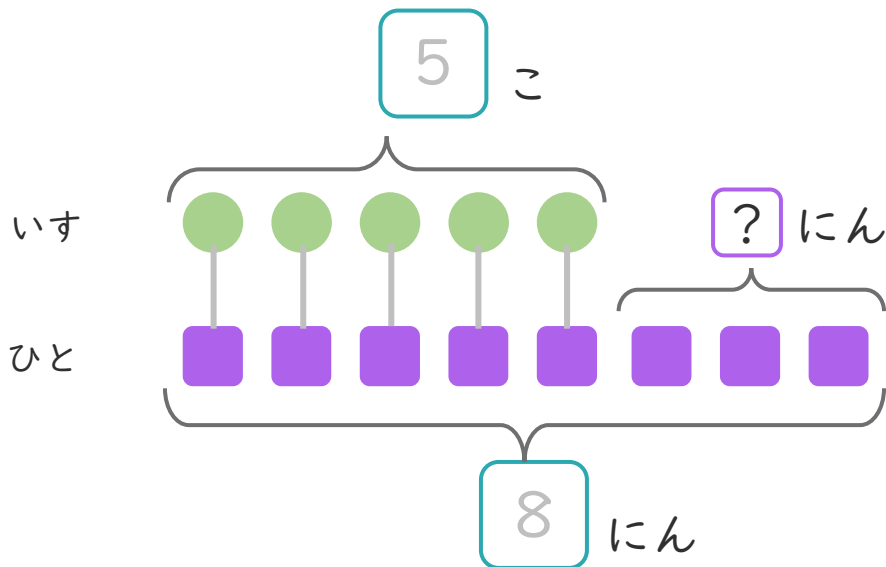
日にち：            月            日

名まえ \_\_\_\_\_

- いすが 5 こ あります。  
8 にんで いすとリゲームを しました。  
(うすいじは なぞりましよう。)



- ①  に あう かずを かきましよう。  
また、● と ■ を せんで むすびましよう。



- ② いすに すわれない ひとは なんにん ですか。  
しきと こたえを かきましよう。

しき：  8 -  5 =

こたえ  にん





たしざんと  
ひきざん 4



● すわれないひとはなんにん?  
(こすうとにんずう)

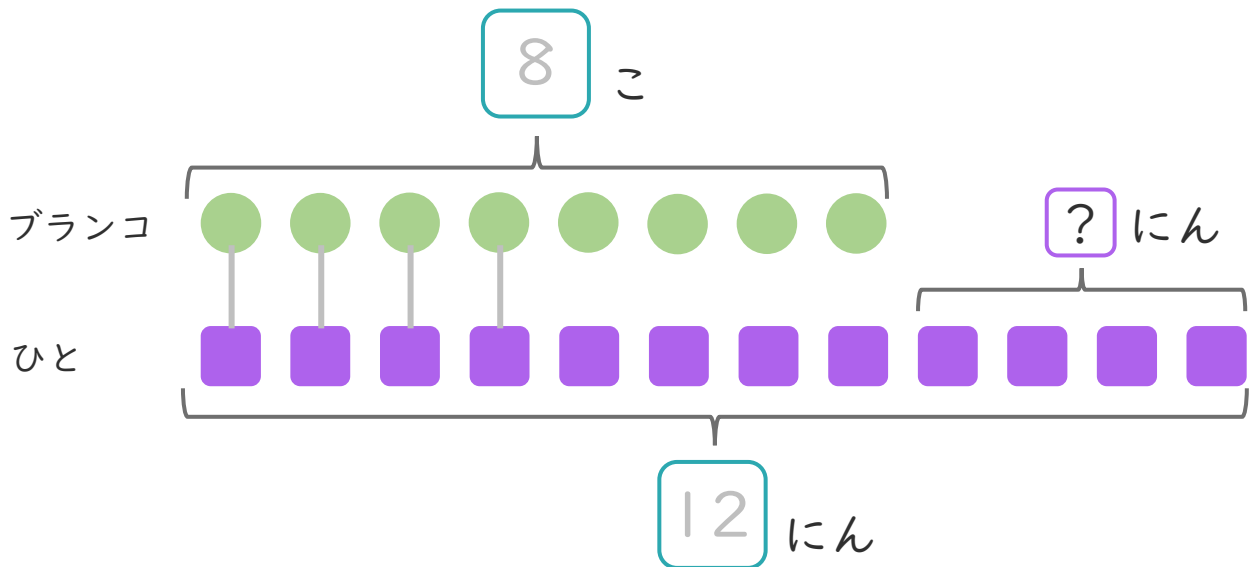
日にち：            月            日

名まえ \_\_\_\_\_

- ・ブランコが 8 こ あります。  
12 にん が きました。  
(うすいじは なぞり ましょう。)



- ①  に あう かず を かき ましょう。  
また、● と ■ を せんで むすび ましょう。



- ② ブランコに のれない ひとは なんにん ですか。  
しきと ことえを かき ましょう。

しき： -  =

ことえ  にん





たしざんと  
ひきざん 4

● すわれないひとはなんにん?  
(こすうとにんずう)



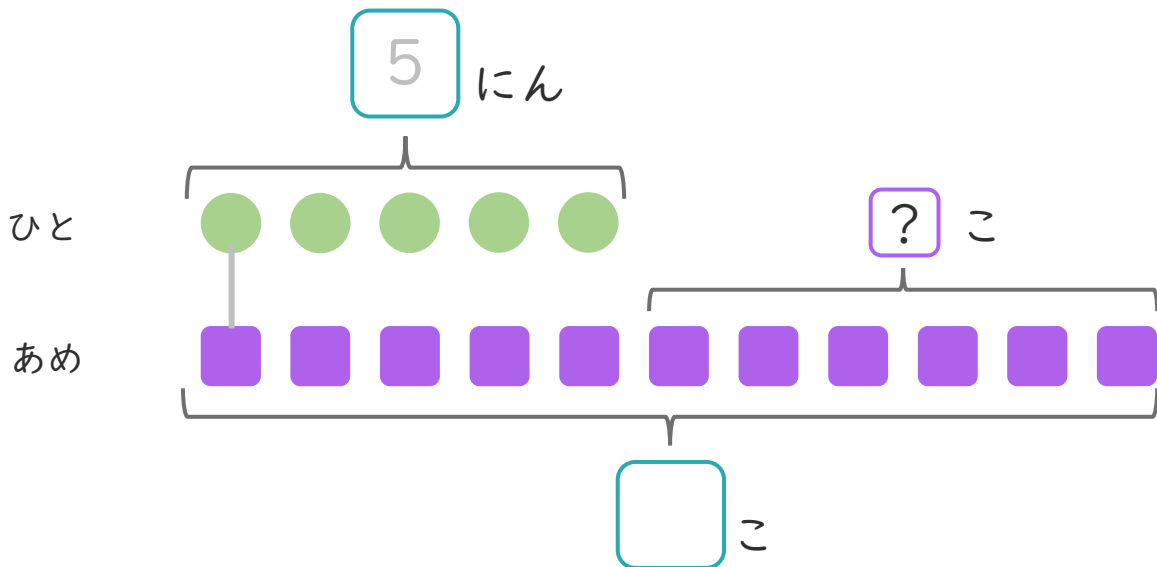
日にち：            月            日

名まえ \_\_\_\_\_

- あめが 11こ あります。  
5にんに 1こずつ わけました。  
(うすいじはなぞりましょう。)



- ①  にあう かずをかきましょう。  
また、●と■をせんでむすびましょう。



- ② あめは、なんこのこりますか。  
しきとこたえをかきましょう。

しき： -  =

こたえ  こ





たしざんと  
ひきざん 4

● すわれないひとはなんにん?  
(こすうとにんずう)



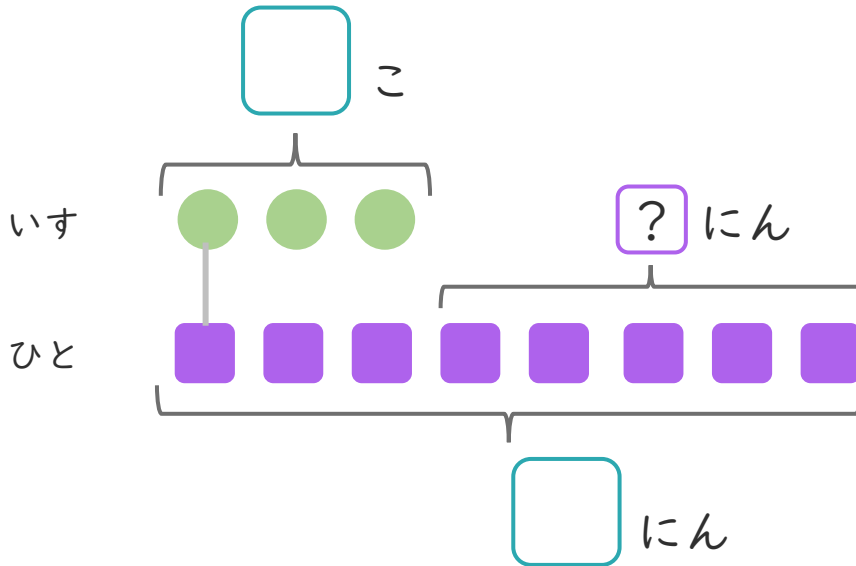
日にち： 月 日

名まえ \_\_\_\_\_

- いすが 3 こ あります。  
8 にんで いすと りゲームを しました。  
(うすいせんは なぞり ましょう。)



- ①  に あう かずを かき ましょう。  
また、● と ■ を せんで むすび ましょう。



- ② いすに すわれない ひとは なんにん ですか。  
しきと こたえを かき ましょう。

しき： -  =

こたえ  にん





たしざんと  
ひきざん 4



● すわれないひとはなんにん?  
(こすうとにんずう)

日にち：            月            日

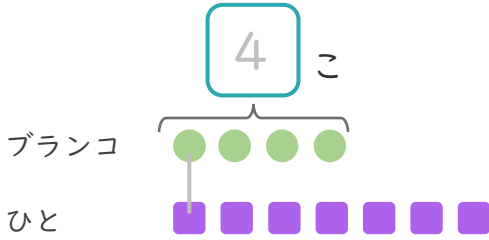
名まえ \_\_\_\_\_

1

ブランコが 4 こ あります。

7 にんが きました。(うすいじは なぞり ましょう。)

①  に あう かず を かき ましょう。



● と ■ を せんで  
むすび ましょう。

② ブランコにのれないひとはなんにんですか。

しき：

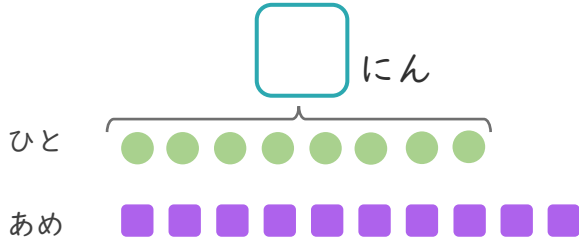
こたえ  にん

2

あめが 10 こ あります。

8 にんに 1 こずつ わけました。

①  に あう かず を かき ましょう。



● と ■ を せんで  
むすび ましょう。

② あめは、なんこのこりますか。

しき：

こたえ



たしざんと  
ひきざん 4

● すわれないひとはなんにん?  
(こすうとにんずう)



日にち： 月 日

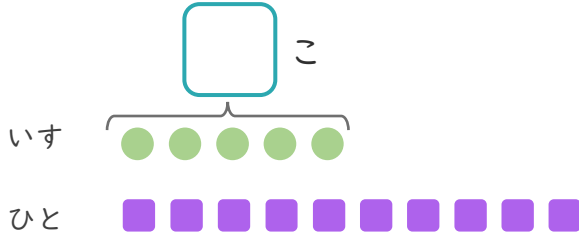
名まえ \_\_\_\_\_

1

いすが 5 こ あります。

10 にんでいすととりゲームを しました。

①  にあうかずをかきましょう。



● と ■ を せんで  
むすびましょう。

② いすにすわれないひとはなんにんですか。

しき：

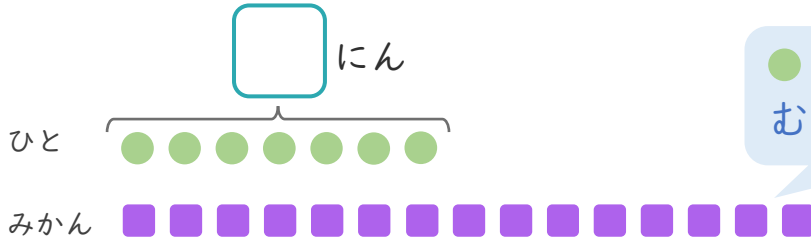
こたえ {

2

みかんが 15 こ あります。

7 にんに 1 こずつわけました。

①  にあうかずをかきましょう。



● と ■ を せんで  
むすびましょう。

② みかんは、なんこのこりますか。

しき：

こたえ {





たしざんと  
ひきざん 4

● すわれないひとはなんにん?  
(こすうとにんずう)



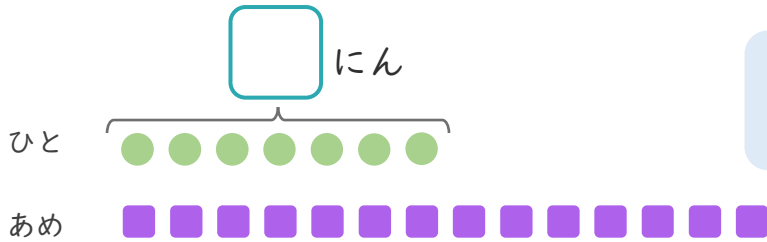
日にち：            月            日

名まえ \_\_\_\_\_

1

あめが 14こ あります。  
7にんに 1こずつ わけました。

①  にあう かずをかきましょう。



● と ■ を せんで  
むすびましょう。

② あめは、なんこのこりますか。

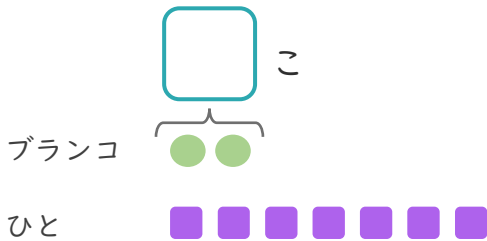
しき：

こたえ { }

2

ブランコが 2こ あります。  
7にんが きました。

①  にあう かずをかきましょう。



● と ■ を せんで  
むすびましょう。

② ブランコにのれないひとはなんにんですか。

しき：

こたえ { }





たしざんと  
ひきざん 4

● すわれないひとはなんにん?  
(こすうとにんずう)



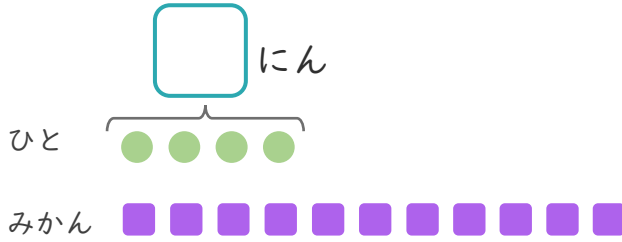
日にち：            月            日

名まえ \_\_\_\_\_

1

みかんが 11こ あります。  
4にんに 1こずつ わけました。

①  に あう かず を かき まし ょう。



● と ■ を せんで  
お す び ま し ょ う。

② みかんは、なんこ の こ り ま す か。

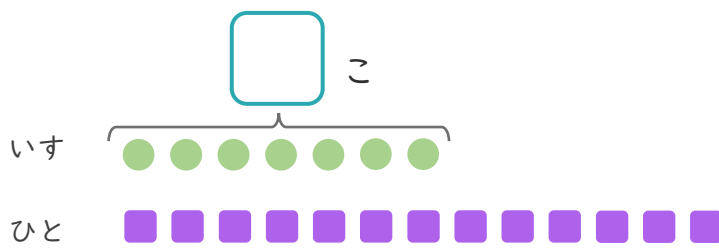
しき：

こたえ { \_\_\_\_\_ }

2

いすが 7こ あります。  
13にんで いす と り ゲ ー ム を し ま し た。

①  に あう かず を かき まし ょう。



● と ■ を せんで  
お す び ま し ょ う。

② いす に す わ れ な い ひ と は なん に ん で す か。

しき：

こたえ { \_\_\_\_\_ }





たしざんと  
ひきざん 4



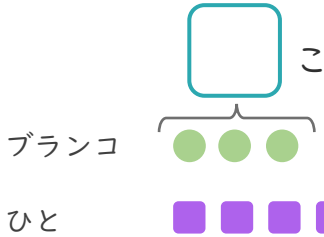
● すわれないひとはなんにん?  
(こすうとにんずう)

日にち：            月            日

名まえ \_\_\_\_\_

1 ブランコが 3 こ あります。  
9 にんが きました。

①  に あう かず を かき まし ょう。



● と ■ を せんで  
むすびましょう。

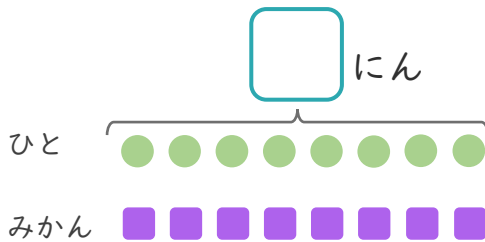
② ブランコにのれないひとはなんにんですか。

しき：

こたえ {

2 みかんが 16 こ あります。  
8 にんに 1 こ ずつ わけま した。

①  に あう かず を かき まし ょう。



● と ■ を せんで  
むすびましょう。

② みかんは、なんこのこりますか。

しき：

こたえ {





たしざんと  
ひきざん 4

● すわれないひとはなんにん?  
(こすうとにんずう)



日にち：            月            日

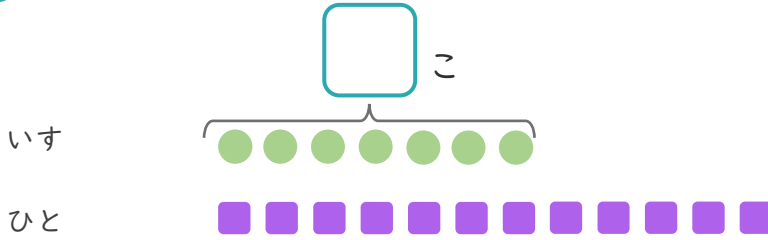
名まえ \_\_\_\_\_

1

いすが 7 こ あります。

12 にんでいすととりゲームを しました。

①  にあうかずをかきましょう。



● と ■ を せんで  
おすすめしよう。

② いすにすわれないひとはなんにんですか。

しき：

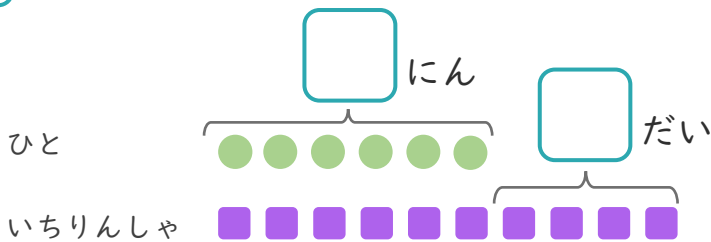
こたえ

2

6 にんがいちりんしゃであそんでいます。

いちりんしゃはあと 4 だい あります。

①  にあうかずをかきましょう。



● と ■ を せんで  
おすすめしよう。

② いちりんしゃは、ぜんぶでなんだい ありますか。

しき：

こたえ





たしざんと  
ひきざん 4

● すわれないひとはなんにん?  
(こすうとにんずう)

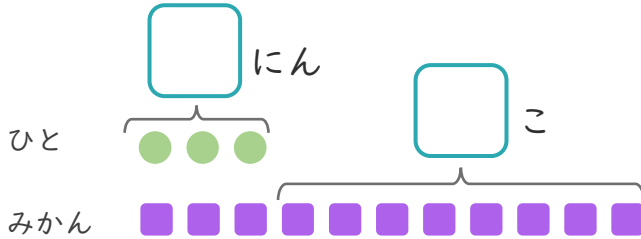


日にち： 月 日

名まえ \_\_\_\_\_

1 3にんにみかんを1こずつわけました。  
みかんはあと8こあります。

① □にあうかずをかきましょう。



● と ■ をせんで  
むすびましょう。

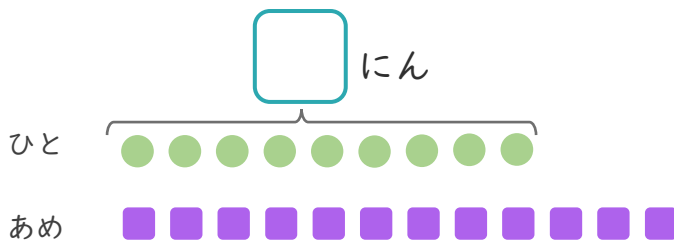
② みかんは、ぜんぶでなんこありますか。

しき：

こたえ {

2 あめが12こあります。  
9にんに1こずつわけました。

① □にあうかずをかきましょう。



● と ■ をせんで  
むすびましょう。

② あめは、なんこのこりますか。

しき：

こたえ {





たしざんと  
ひきざん 4

● すわれないひとはなんにん?  
(こすうとにんずう)

12

日にち： 月 日

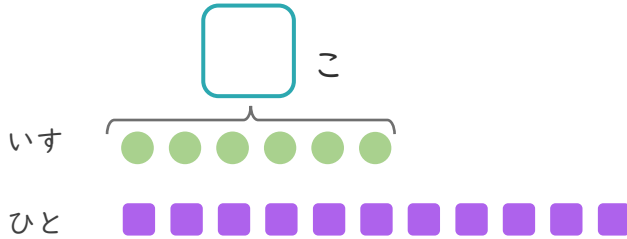
名まえ \_\_\_\_\_

1

いすが 6 こ あります。

11 にんでいすととりゲームを しました。

①  にあうかずをかきましょう。



● と ■ を せんで  
むすびましょう。

② いすにすわれないひとはなんにん ですか。

しき：

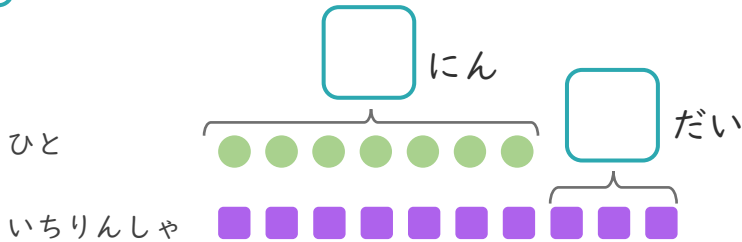
こたえ {

2

7 にんが いちりんしゃに のっています。

いちりんしゃは あと 3 だい あります。

①  にあうかずをかきましょう。



● と ■ を せんで  
むすびましょう。

② いちりんしゃは、ぜんぶで なんだい ありますか。

しき：

こたえ {





たしざんと  
ひきざん 4

● すわれないひとはなんにん?  
(こすうとにんずう)

13

日にち： 月 日

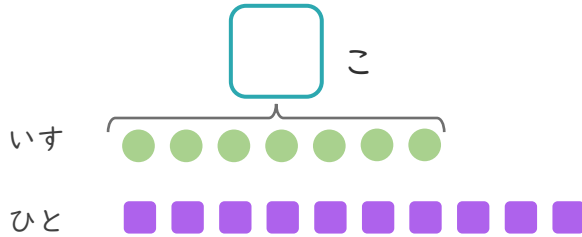
名まえ \_\_\_\_\_

1

いすが 7 こ あります。

10 にんでいすととりゲームを しました。

①  にあうかずをかきましょう。



● と ■ を せんで  
むすびましょう。

② いすにすわれないひとはなんにんですか。

しき：

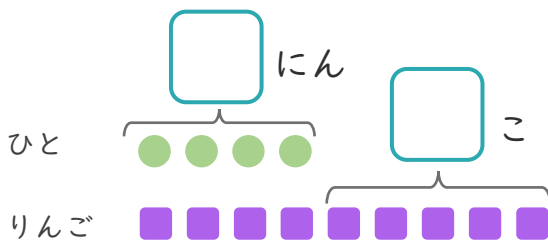
こたえ {

2

4 にんにりんごを 1 こずつ わけました。

りんごはあと 5 こ あります。

①  にあうかずをかきましょう。



● と ■ を せんで  
むすびましょう。

② りんごは、ぜんぶでなんこ ありますか。

しき：

こたえ {





たしざんと  
ひきざん 4

● すわれないひとはなんにん?  
(こすうとにんずう)

14

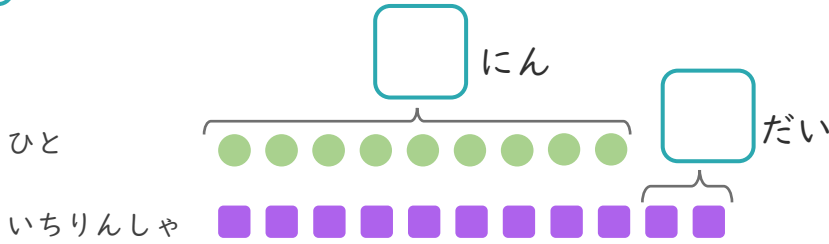
日にち： 月 日

名まえ \_\_\_\_\_

1

9にんがいちりんしゃにのっています。  
いちりんしゃはあと2だいあります。

①  にあうかずをかきましょう。



● と ■ をせんで  
むすびましょう。

② いちりんしゃは、ぜんぶでなんだいありますか。

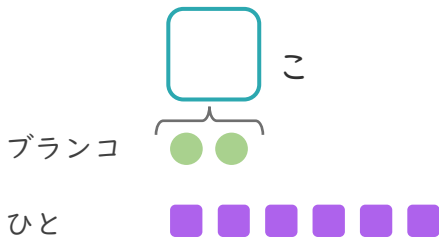
しき：

こたえ

2

ブランコが2こあります。  
6にんがきました。

①  にあうかずをかきましょう。



● と ■ をせんで  
むすびましょう。

② ブランコにのれないひとはなんにんですか。

しき：

こたえ





たしざんと  
ひきざん 4

● すわれないひとはなんにん?  
(こすうとにんずう)

15

めざせ80点!



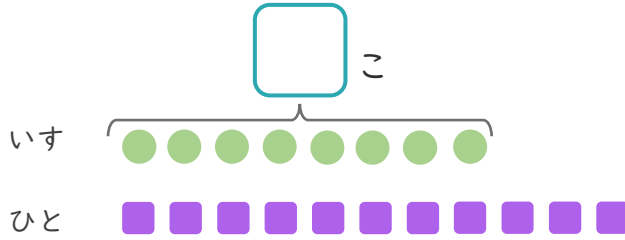
名まえ \_\_\_\_\_

1

いすが 8 こ あります。

11 にんで いすと どりゲームを しました。

①  に あう かずを かき まし しょう。(20点)



● と ■ を せんで  
お す び ま し ょう。

② いすに すわれない ひとは なんにん ですか。(30点)

しき :

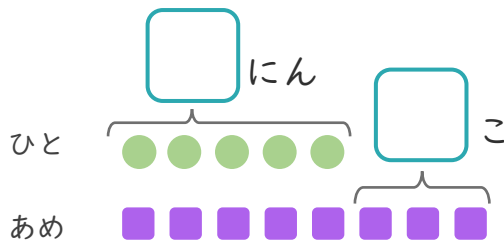
こたえ {

2

5 にんに あめを 1 こ ずつ わけ ました。

あめは あと 3 こ あります。

①  に あう かずを かき まし しょう。(20点)



● と ■ を せんで  
お す び ま し ょう。

② あめは、ぜんぶで なんこ ありますか。(30点)

しき :

こたえ {





たしざんと  
ひきざん 4

● すわれないひとはなんにん?  
(こすうとにんずう)

16

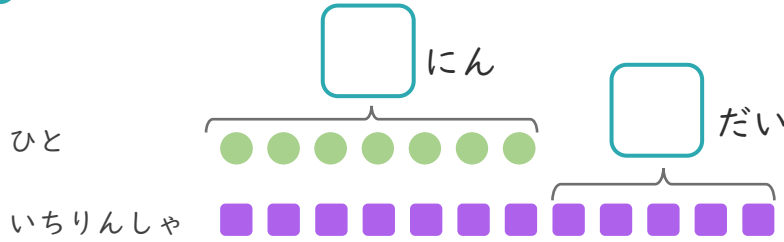
めざせ80点!



名まえ

1 7にんがいちりんしゃにのっています。  
いちりんしゃはあと5だいあります。

①  にあうかずをかきましょう。(20点)



● と ■ を せんで  
むすびましょう。

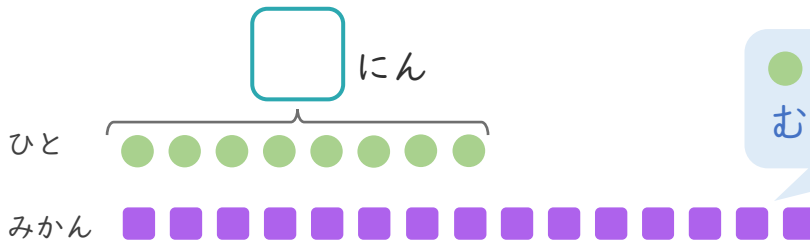
② いちりんしゃは、ぜんぶでなんだいありますか。(30点)

しき：

こたえ

2 みかんが15こあります。  
8にんに1こずつわけました。

①  にあうかずをかきましょう。(20点)



● と ■ を せんで  
むすびましょう。

② みかんは、なんこのこりますか。(30点)

しき：

こたえ







たしざんと  
ひきざん 4

● すわれないひとはなんにん?  
(こすうとにんずう)



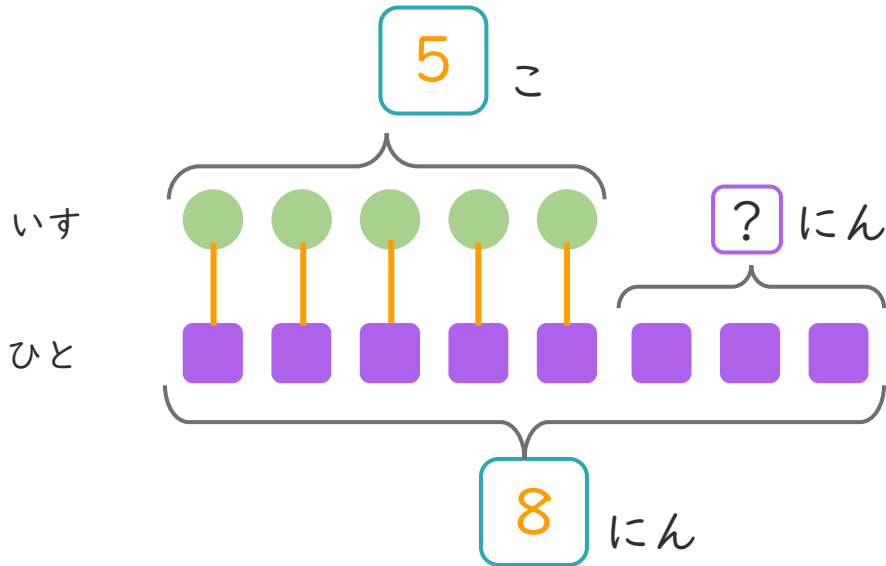
日にち：            月            日

名まえ \_\_\_\_\_

- いすが 5 こ あります。  
8 にんで いすとりにゲームを しました。  
(うすいじは なぞりましよう。)



- ①  に あう かずを かきましよう。  
また、● と ■ を せんで むすびましよう。



- ② いすに すわれない ひとは なんにん ですか。  
しきと こたえを かきましよう。

しき： 8  -  5 =  3

こたえ  3  にん





たしざんと  
ひきざん 4

2

● すわれないひとはなんにん?  
(こすうとにんずう)

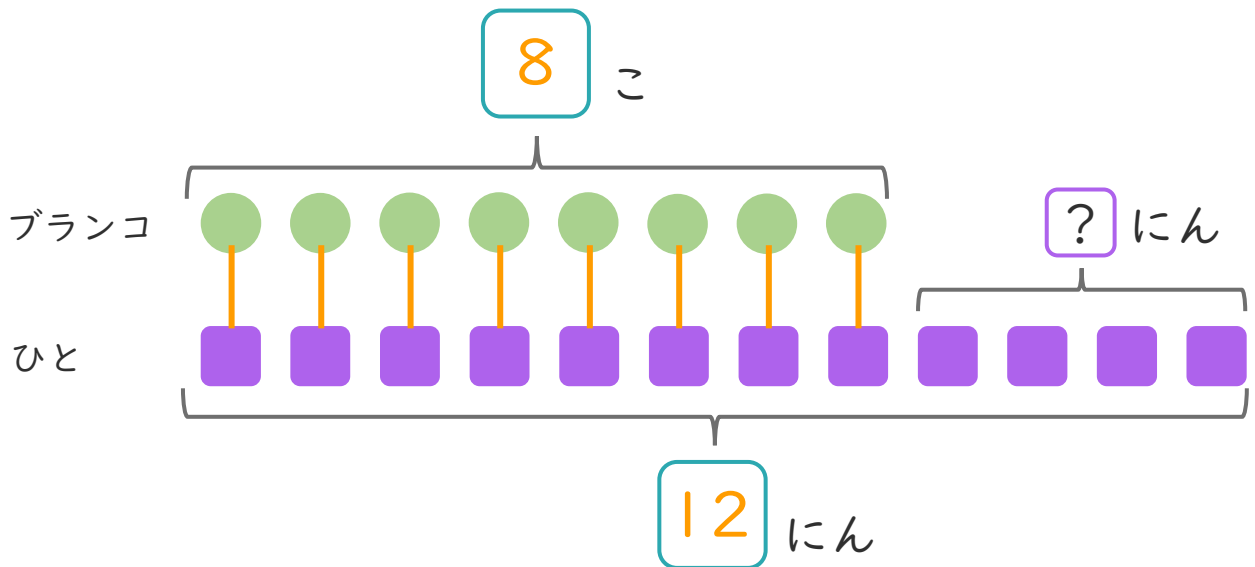
日にち：            月            日

名まえ \_\_\_\_\_

- ・ブランコが 8 こ あります。  
12 にん が きました。  
(うすいじは なぞり ましょう。)



- ①  に あう かず を かき ましょう。  
また、● と ■ を せんで おすび ましょう。



- ② ブランコに のれない ひとは なんにん ですか。  
しきと ことえを かき ましょう。

しき：  12 -  8 =  4

ことえ  4  にん





たしざんと  
ひきざん 4

● すわれないひとはなんにん?  
(こすうとにんずう)



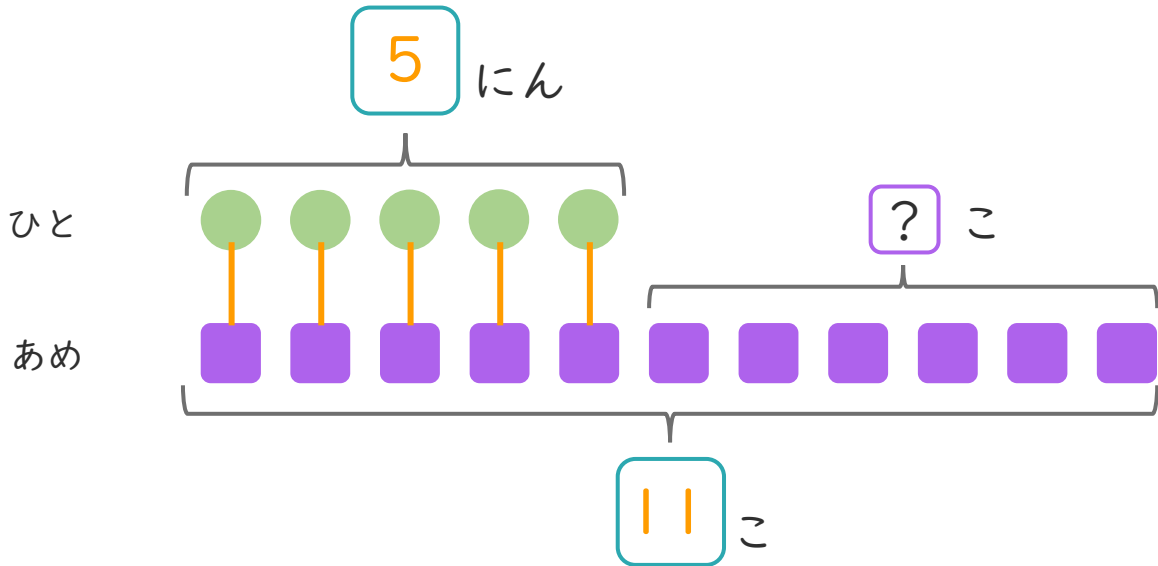
日にち：            月            日

名まえ \_\_\_\_\_

- あめが 11こ あります。  
5にんに 1こずつ わけました。  
(うすいじはなぞりましょう。)



- ①  に あう かず を かき まし ょう。  
また、● と ■ を せんで むすび まし ょう。



- ② あめは、なんこ のこり ます か。  
しき と こたえ を かき まし ょう。

しき：  11 -  5 =  6

こたえ  6  こ





たしざんと  
ひきざん 4

● すわれないひとはなんにん?  
(こすうとにんずう)

4

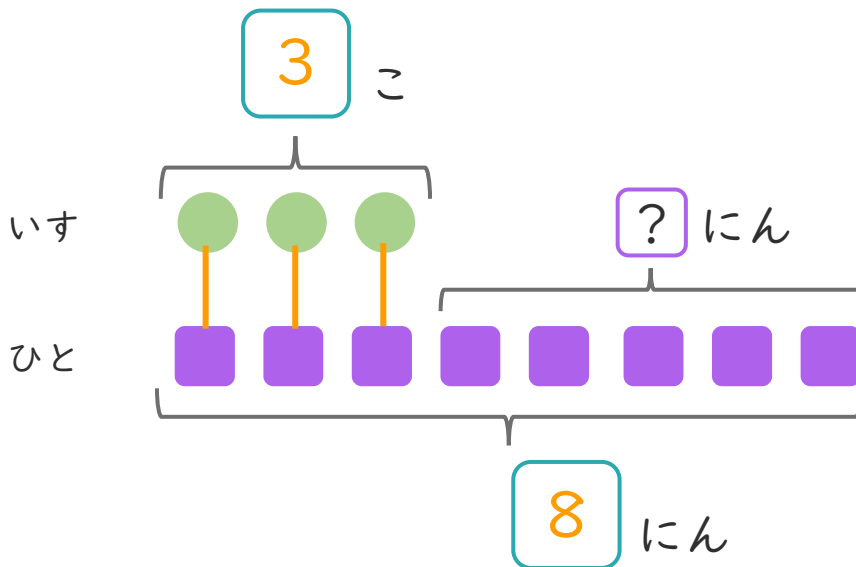
日にち：            月            日

名まえ \_\_\_\_\_

- いすが 3 こ あります。  
8 にんで いすと くりゲームを しました。  
(うすいせんは なぞりましよう。)



- ①  に あう かずを かきましよう。  
また、● と ■ を せんで むすびましよう。



- ② いすに すわれない ひとは なんにん ですか。  
しきと こたえを かきましよう。

しき： 8  -  3 =  5

こたえ  5  にん





たしざんと  
ひきざん 4



● すわれないひとはなんにん?  
(こすうとにんずう)

日にち： 月 日

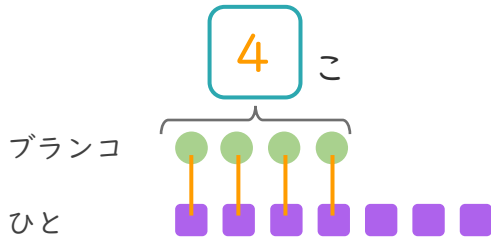
名まえ \_\_\_\_\_

1

ブランコが 4 こ あります。

7 にんが きました。 (うすいじはなぞりましょう。)

①  に あう かず を かき まし ょう。



● と ■ を せんで  
むすびましょう。

② ブランコにのれないひとはなんにんですか。

しき： $7 - 4 = 3$

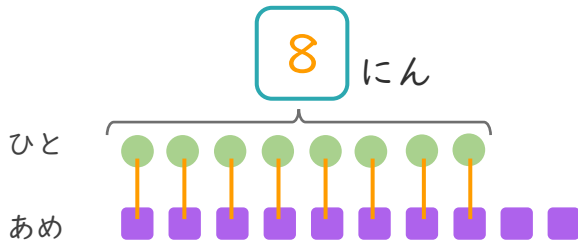
こたえ { 3 にん }

2

あめが 10 こ あります。

8 にんに 1 こずつ わけま した。

①  に あう かず を かき まし ょう。



● と ■ を せんで  
むすびましょう。

② あめは、なんこのこりますか。

しき： $10 - 8 = 2$

こたえ { 2 こ }





たしざんと  
ひきざん 4

● すわれないひとはなんにん?  
(こすうとにんずう)



日にち： 月 日

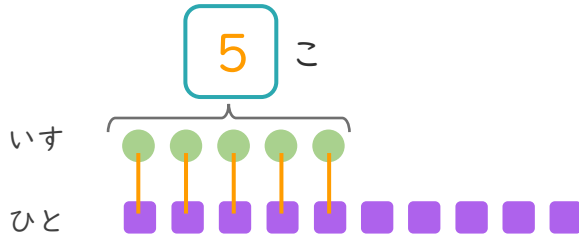
名まえ \_\_\_\_\_

1

いすが 5 こ あります。

10 にんでいすととりゲームを しました。

① □ にあうかずをかきましょう。



● と ■ を せんで  
むすびましょう。

② いすにすわれないひとはなんにん ですか。

しき： $10 - 5 = 5$

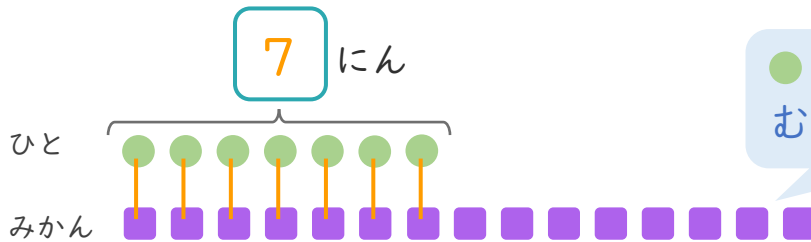
こたえ { 5 にん }

2

みかんが 15 こ あります。

7 にんに 1 こずつ わけました。

① □ にあうかずをかきましょう。



● と ■ を せんで  
むすびましょう。

② みかんは、なんこ のこりますか。

しき： $15 - 7 = 8$

こたえ { 8 こ }





たしざんと  
ひきざん 4

● すわれないひとはなんにん？  
(こすうとにんずう)

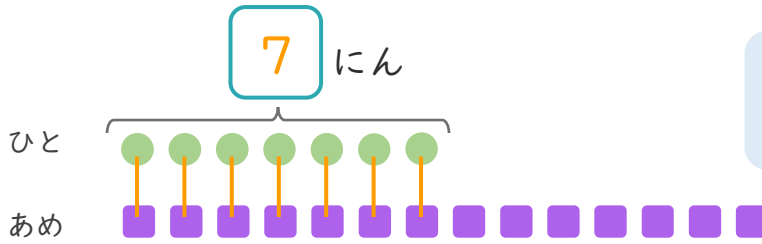
7

日にち： 月 日

名まえ \_\_\_\_\_

1 あめが 14こ あります。  
7にんに 1こずつ わけました。

① □ にあう かずを かきましょう。



● と ■ を せんで  
むすびましょう。

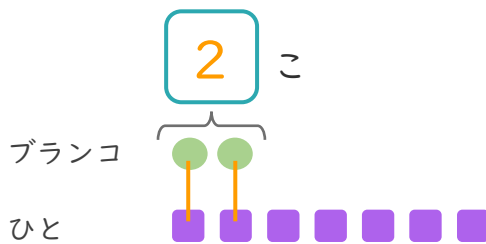
② あめは、なんこのこりますか。

しき： $14 - 7 = 7$

こたえ { 7 こ }

2 ブランコが 2こ あります。  
7にんが きました。

① □ にあう かずを かきましょう。



● と ■ を せんで  
むすびましょう。

② ブランコにのれないひとはなんにんですか。

しき： $7 - 2 = 5$

こたえ { 5 にん }





たしざんと  
ひきざん 4

● すわれないひとはなんにん?  
(こすうとにんずう)

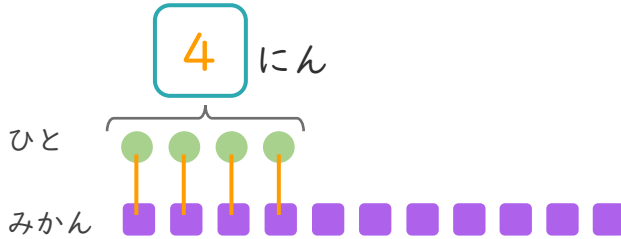


日にち： 月 日

名まえ \_\_\_\_\_

1 みかんが 11こ あります。  
4にんに 1こずつ わけました。

① □ にあう かずを かきましょう。



● と ■ を せんで  
おすびましょう。

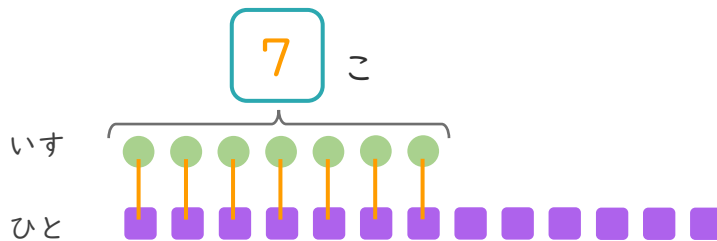
② みかんは、なんこ のこりますか。

しき： $11 - 4 = 7$

こたえ { 7 こ }

2 いすが 7こ あります。  
13にんで いすと どりゲームを しました。

① □ にあう かずを かきましょう。



● と ■ を せんで  
おすびましょう。

② いすにすわれない ひとは なんにん ですか。

しき： $13 - 7 = 6$

こたえ { 6 にん }







たしざんと  
ひきざん 4



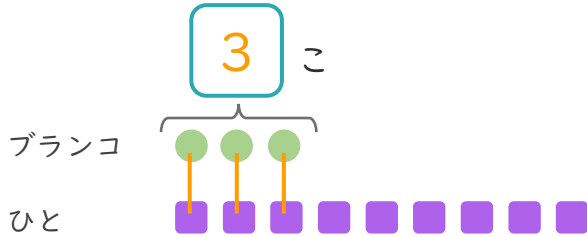
● すわれないひとはなんにん?  
(こすうとにんずう)

日にち： 月 日

名まえ \_\_\_\_\_

1 ブランコが 3 こ あります。  
9 にんが きました。

① □ に あう かず を かき まし ょう。



● と ■ を せんで  
むすびましょう。

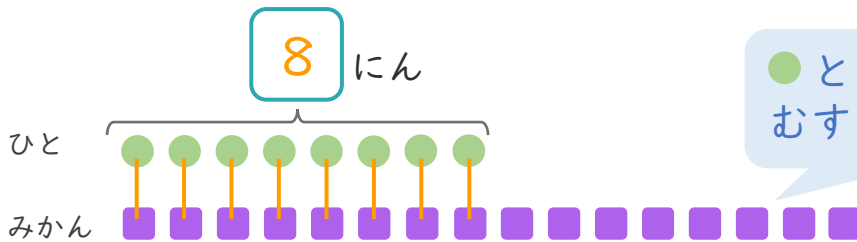
② ブランコにのれないひとはなんにんですか。

しき： $9 - 3 = 6$

こたえ { 6 にん }

2 みかんが 16 こ あります。  
8 にんに 1 こずつ わけました。

① □ に あう かず を かき まし ょう。



● と ■ を せんで  
むすびましょう。

② みかんは、なんこのこりますか。

しき： $16 - 8 = 8$

こたえ { 8 こ }





たしざんと  
ひきざん 4

● すわれないひとはなんにん?  
(こすうとにんずう)



日にち： 月 日

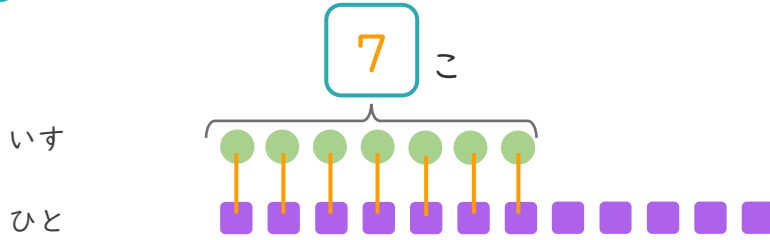
名まえ \_\_\_\_\_

1

いすが 7 こ あります。

12 にんでいすととりゲームを しました。

① □ にあうかずをかきましょう。



● と ■ を せんで  
おすびましょう。

② いすに すわれない ひとは なんにん ですか。

しき： $12 - 7 = 5$

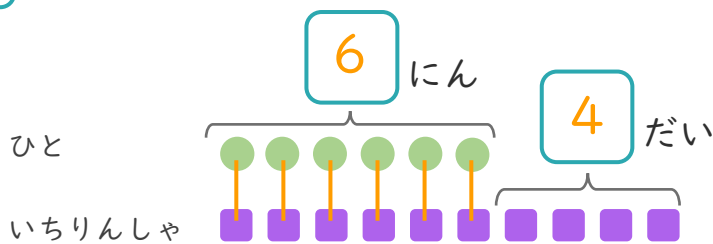
こたえ { 5 にん }

2

6 にんが いちりんしゃで あそんでいます。

いちりんしゃは あと 4 だい あります。

① □ にあうかずをかきましょう。



● と ■ を せんで  
おすびましょう。

② いちりんしゃは、ぜんぶで なんだい ありますか。

しき： $6 + 4 = 10$

こたえ { 10 だい }





たしざんと  
ひきざん 4

● すわれないひとはなんにん?  
(こすうとにんずう)

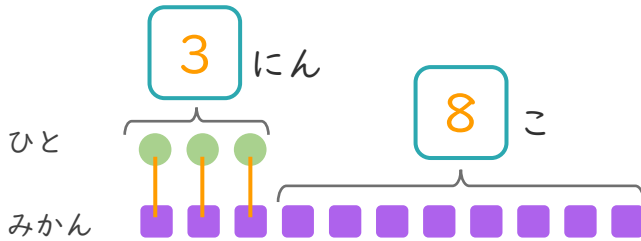


日にち： 月 日

名まえ \_\_\_\_\_

1 3にんにみかんを1こずつわけました。  
みかんはあと8こあります。

① □にあうかずをかきましょう。



● と ■ を せんで  
むすびましょう。

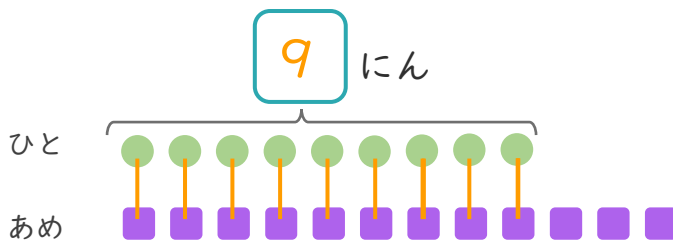
② みかんは、ぜんぶでなんこありますか。

しき： $3 + 8 = 11$

こたえ { 11 こ }

2 あめが12こあります。  
9にんに1こずつわけました。

① □にあうかずをかきましょう。



● と ■ を せんで  
むすびましょう。

② あめは、なんこのこりますか。

しき： $12 - 9 = 3$

こたえ { 3 こ }





たしざんと  
ひきざん 4

● すわれないひとはなんにん?  
(こすうとにんずう)

12

日にち： 月 日

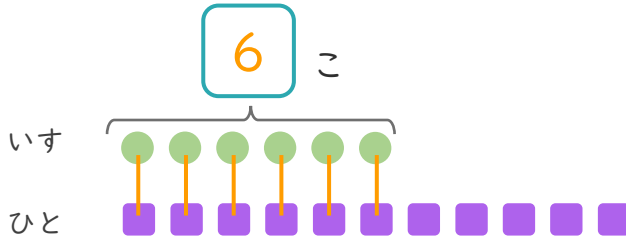
名まえ \_\_\_\_\_

1

いすが 6 こ あります。

11 にんでいすととりゲームを しました。

① □ にあうかずをかきましょう。



● と ■ を せんで  
おすびましょう。

② いすにすわれないひとはなんにんですか。

しき： $11 - 6 = 5$

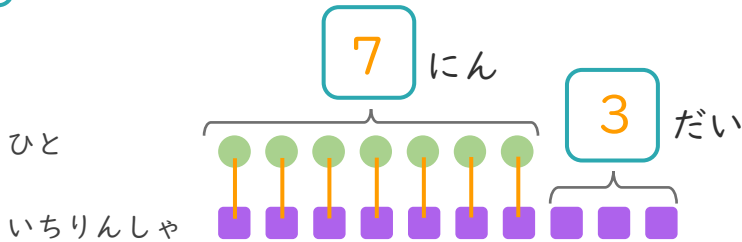
こたえ { 5 にん }

2

7 にんがいちりんしゃにのっています。

いちりんしゃはあと 3 だい あります。

① □ にあうかずをかきましょう。



● と ■ を せんで  
おすびましょう。

② いちりんしゃは、ぜんぶでなんだい ありますか。

しき： $7 + 3 = 10$

こたえ { 10 だい }





たしざんと  
ひきざん 4

● すわれないひとはなんにん?  
(こすうとにんずう)

13

日にち： 月 日

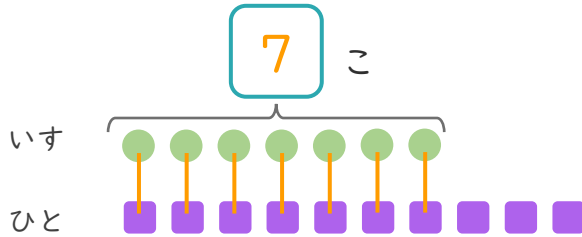
名まえ \_\_\_\_\_

1

いすが 7 こ あります。

10 にんでいすととりゲームを しました。

① □ にあうかずをかきましょう。



● と ■ を せんで  
おすびましょう。

② いすにすわれないひとはなんにんですか。

しき： $10 - 7 = 3$

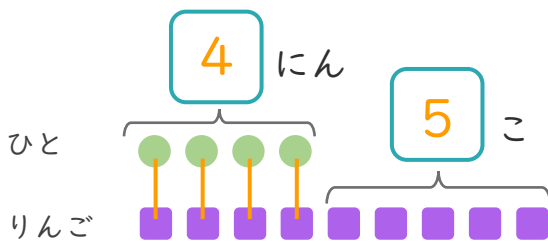
こたえ { 3 にん }

2

4 にんにりんごを 1 こずつわけました。

りんごはあと 5 こ あります。

① □ にあうかずをかきましょう。



● と ■ を せんで  
おすびましょう。

② りんごは、ぜんぶでなんこ ありますか。

しき： $4 + 5 = 9$

こたえ { 9 こ }





たしざんと  
ひきざん 4

● すわれないひとはなんにん?  
(こすうとにんずう)

14

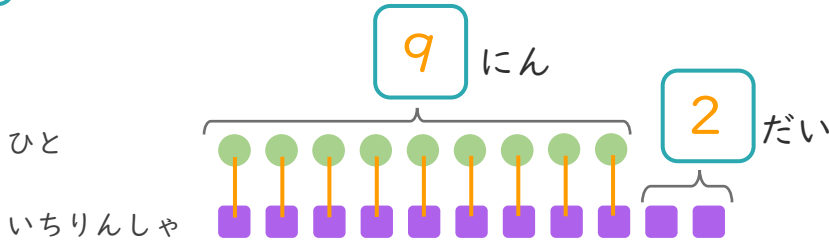
日にち： 月 日

名まえ \_\_\_\_\_

1

9にんがいちりんしゃにのっています。  
いちりんしゃはあと2だいあります。

① □ にあうかずをかきましょう。



● と ■ を せんで  
むすびましょう。

② いちりんしゃは、ぜんぶでなんだいありますか。

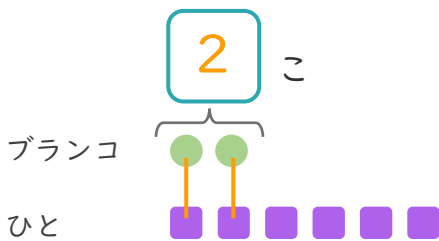
しき： $9 + 2 = 11$

こたえ { 11 だい }

2

ブランコが2こあります。  
6にんがきました。

① □ にあうかずをかきましょう。



● と ■ を せんで  
むすびましょう。

② ブランコにのれないひとはなんにんですか。

しき： $6 - 2 = 4$

こたえ { 4 にん }





たしざんと  
ひきざん 4

● すわれないひとはなんにん?  
(こすうとにんずう)

15

めざせ80点!



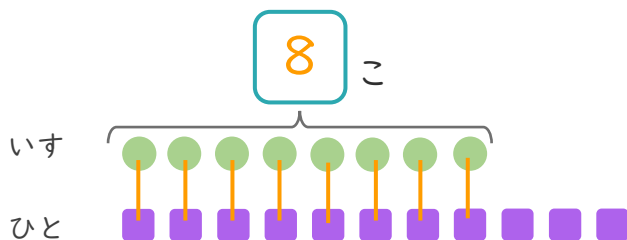
名まえ \_\_\_\_\_

1

いすが 8 こ あります。

11 にんでいすととりゲームをしました。

① □ にあうかずをかきましょう。(20点)



● と ■ を せんで  
むすびましょう。

② いすにすわれないひとはなんにんですか。(30点)

しき： $11 - 8 = 3$

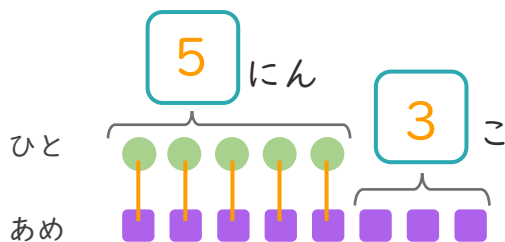
こたえ { 3 にん }

2

5 にんにあめを1こずつわけました。

あめはあと3こあります。

① □ にあうかずをかきましょう。(20点)



● と ■ を せんで  
むすびましょう。

② あめは、ぜんぶでなんこありますか。(30点)

しき： $5 + 3 = 8$

こたえ { 8 こ }





たしざんと  
ひきざん 4

● すわれないひとはなんにん?  
(こすうとにんずう)

16

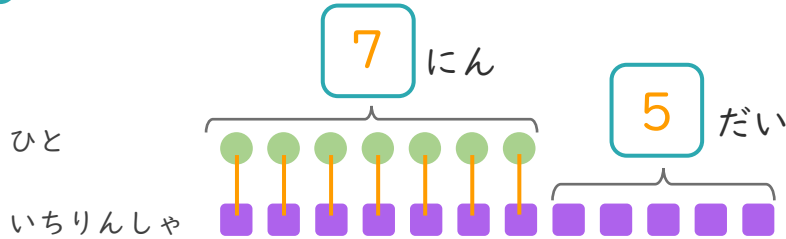
めざせ80点!



名まえ

1 7にんがいちりんしゃにのっています。  
いちりんしゃはあと5だいあります。

① □にあうかずをかきましょう。(20点)



● と ■ を せんで  
むすびましょう。

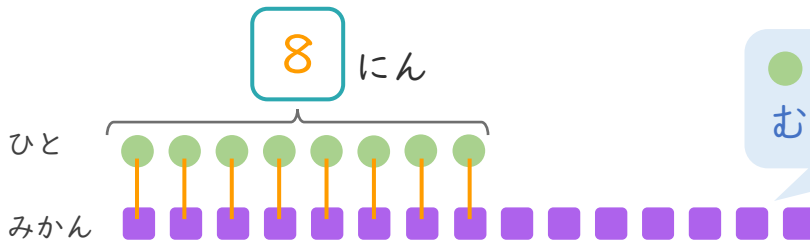
② いちりんしゃは、ぜんぶでなんだいありますか。(30点)

しき： $7 + 5 = 12$

こたえ { 12 だい }

2 みかんが15こあります。  
8にんに1こずつわけました。

① □にあうかずをかきましょう。(20点)



● と ■ を せんで  
むすびましょう。

② みかんは、なんこのこりますか。(30点)

しき： $15 - 8 = 7$

こたえ { 7 こ }

