



たしざんと  
ひきざん 7

● まえとうしろのにんずう  
ぜんぶでなんにん？

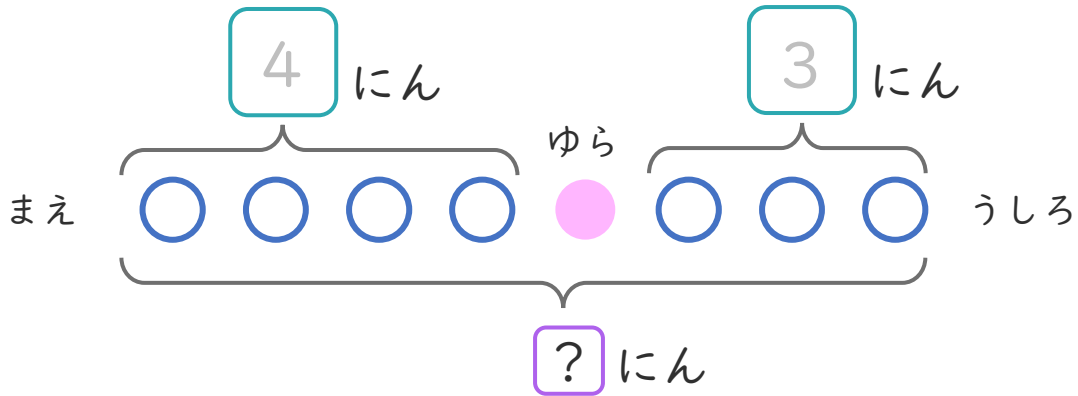


日にち：            月            日

名まえ \_\_\_\_\_

- ・ おかしやさんにひとがならんでいます。  
ゆらさんのまえに 4 にん、うしろに 3 にん います。  
(うすいじはなぞりましょう。)

①  にあうかずをかきましょう。



② ぜんぶでなんにんならんでいますか。  
しきとこたえをかきましょう。

ゆらさんも  
わすれずにたそう！



しき： $\overset{\text{まえ}}{\boxed{4}} + \overset{\text{ゆら}}{\boxed{1}} + \overset{\text{うしろ}}{\boxed{3}} = \boxed{\phantom{00}}$

こたえ  $\left[ \phantom{00} \right]$  にん





たしざんと  
ひきざん 7

● まえとうしろのにんずう  
ぜんぶでなんにん？

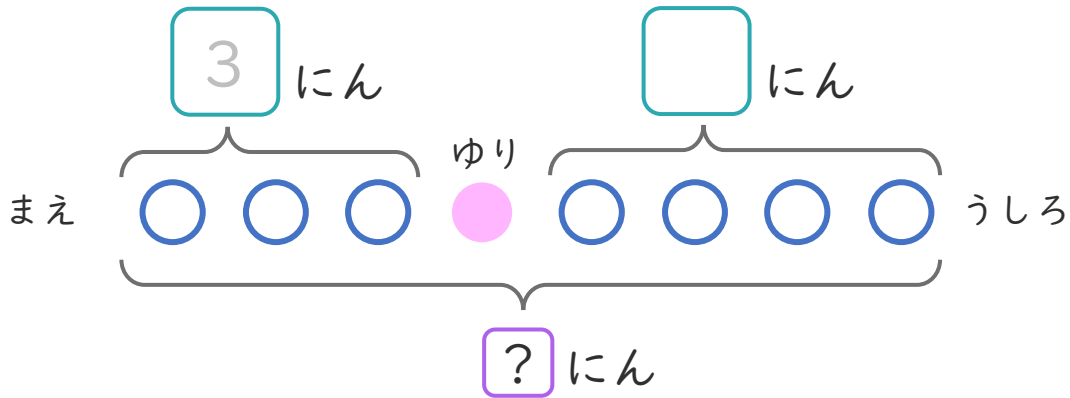


日にち：            月            日

名まえ \_\_\_\_\_

- ・ こどもがならんでいます。  
ゆりさんのまえに 3 にん、うしろに 4 にん います。  
(うすいじはなぞりましょう。)

①  に あう かず を かき まし ょう。



② ぜんぶで なんにん なら ンで います か。  
しきと こたえ を かき まし ょう。

ゆりさんも  
わすれずに たそう！



しき： $\overset{\text{まえ}}{\boxed{3}} + \overset{\text{ゆり}}{\boxed{1}} + \overset{\text{うしろ}}{\boxed{\quad}} = \boxed{\quad}$

こたえ  $\left[ \quad \quad \right]$  にん



たしざんと  
ひきざん 7

● まえとうしろのにんずう  
ぜんぶでなんにん？

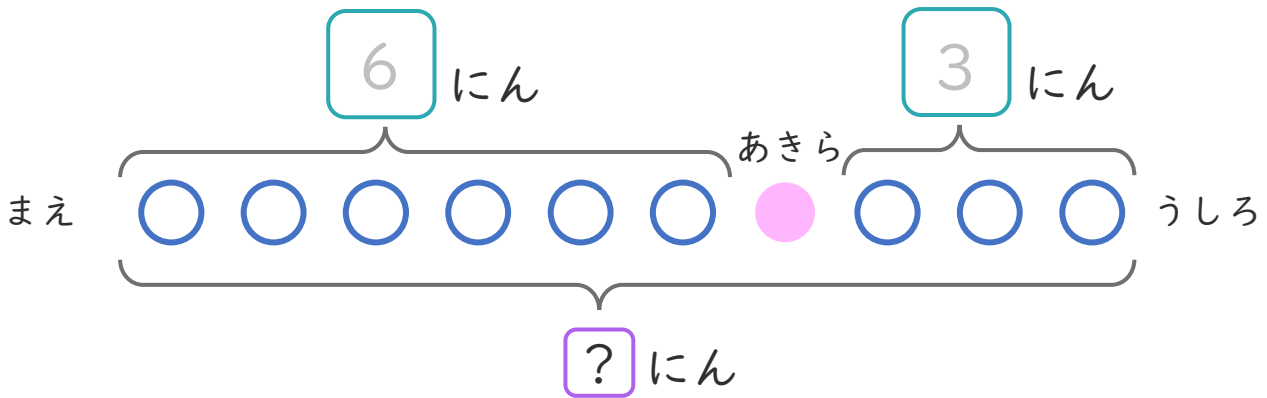


日にち：            月            日

名まえ \_\_\_\_\_

- バスでいにひとがならんでいます。  
あきらさんのまえに 6 にん、うしろに 3 にん います。  
(うすいじはなぞりましょう。)

① □ にあうかずをかきましょう。



② ぜんぶでなんにんならんでいますか。  
しきとこたえをかきましょう。

あきらさんも  
わすれずにたそう！



しき：  $\overset{\text{まえ}}{\square} + \overset{\text{あきら}}{\square} + \overset{\text{うしろ}}{\square} = \square$

こたえ  $\left[ \quad \quad \right]$  にん





たしざんと  
ひきざん 7

● まえとうしろのにんずう  
ぜんぶでなんにん？



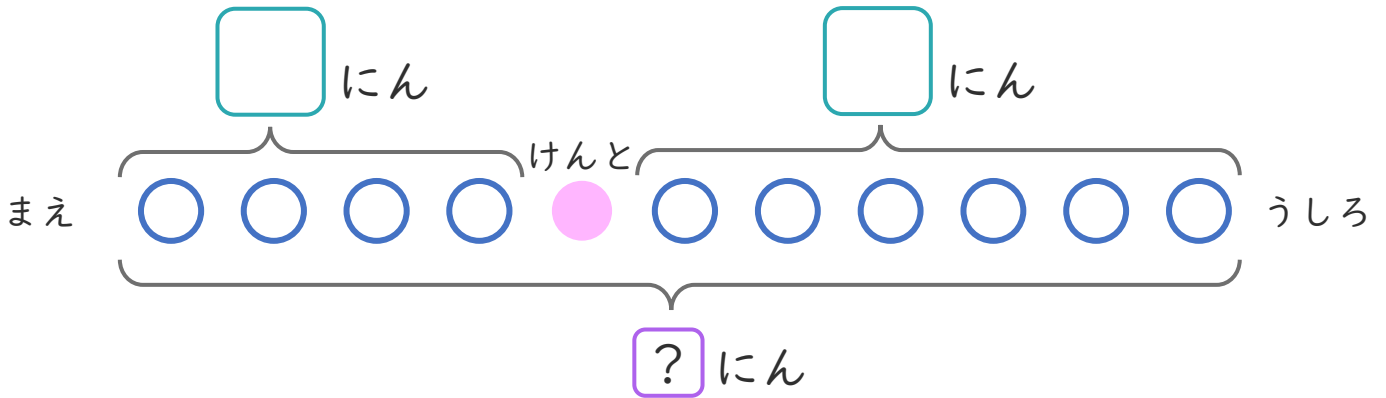
日にち：            月            日

名まえ \_\_\_\_\_

・ こどもがならんでいます。

けんとうさんのまえに 4 にん、うしろに 6 にんいます。

①  にあうかずをかきましょう。



② ぜんぶでなんにんならんでいますか。  
しきとこたえをかきましょう。

けんとうさんも  
わすれずにたそう！



しき： $\overset{\text{まえ}}{\square} + \overset{\text{けんとう}}{\square} + \overset{\text{うしろ}}{\square} = \square$

こたえ  $\left( \quad \quad \right)$  にん





たしざんと  
ひきざん 7

● まえとうしろのにんずう  
ぜんぶでなんにん？



日にち： 月 日

名まえ \_\_\_\_\_

1

パンやさんにひとがならんでいます。りささんのまえに5にん、うしろに4にんいます。

①  にあうかずをかきましょう。(うすいじはなぞりましょう。)



② ぜんぶでなんにんならんでいますか。

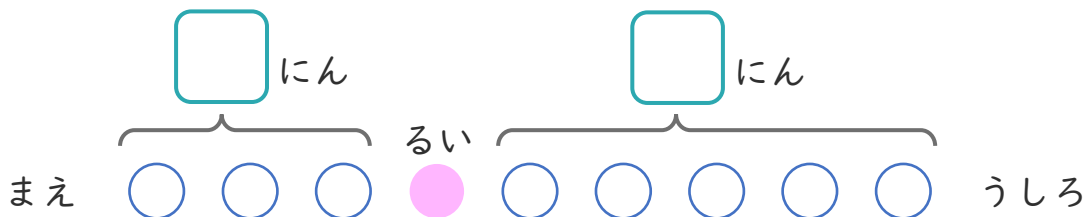
しき：

こたえ

2

こどもがならんでいます。るいさんのまえに3にん、うしろに5にんいます。

①  にあうかずをかきましょう。




② ぜんぶでなんにんならんでいますか。

しき：

こたえ





たしざんと  
ひきざん 7

● まえとうしろのにんずう  
ぜんぶでなんにん？



日にち： 月 日

名まえ \_\_\_\_\_

1 こどもがならんでいます。かなさんのまえに 4 にん、  
うしろに 4 にんいます。

①  にあうかずをかきましょう。



② ぜんぶでなんにんならんでいますか。

しき：

こたえ

2 バスでいにひとがならんでいます。ゆきさんのまえに  
7 にん、うしろに 3 にんいます。

①  にあうかずをかきましょう。




② ぜんぶでなんにんならんでいますか。

しき：

こたえ





たしざんと  
ひきざん 7

● まえとうしろのにんずう  
ぜんぶでなんにん？



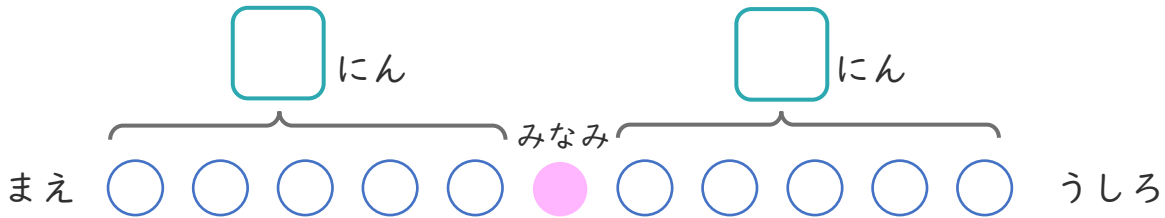
日にち： 月 日

名まえ \_\_\_\_\_

1

バスでいにひとがならんでいます。みなみさんのまえに  
5にん、うしろに5にんいます。

①  にあうかずをかきましょう。



② ぜんぶでなんにんならんでいますか。

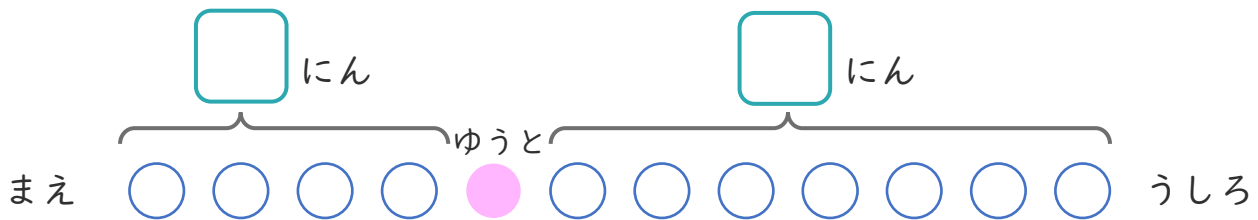
しき：

こたえ

2

こどもがならんでいます。ゆうとさんのまえに4にん、  
うしろに7にんいます。

①  にあうかずをかきましょう。



② ぜんぶでなんにんならんでいますか。

しき：

こたえ





たしざんと  
ひきざん 7

● まえとうしろのにんずう  
ぜんぶでなんにん？

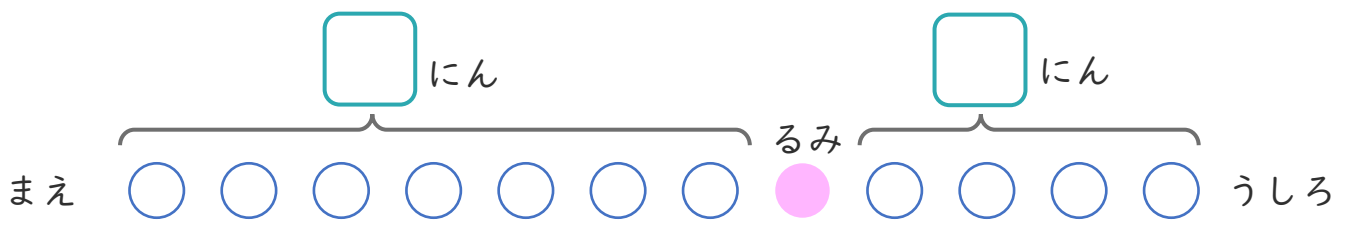


日にち：            月            日

名まえ \_\_\_\_\_

1 こどもがならんでいます。るみさんのまえに 7 にん、  
うしろに 4 にん います。

①  にあうかずをかきましょう。



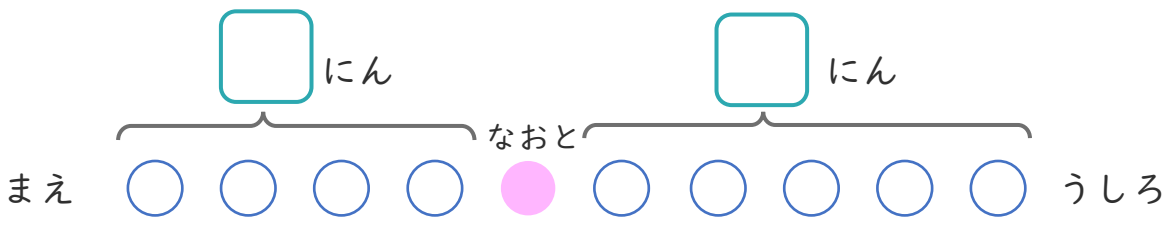
② ぜんぶでなんにん ならんでいますか。

しき：

こたえ

2 バスでいにひとがならんでいます。なおとさんのまえに  
4 にん、うしろに 5 にん います。

①  にあうかずをかきましょう。



② ぜんぶでなんにん ならんでいますか。

しき：

こたえ







たしざんと  
ひきざん 7

● まえとうしろのにんずう  
ぜんぶでなんにん？

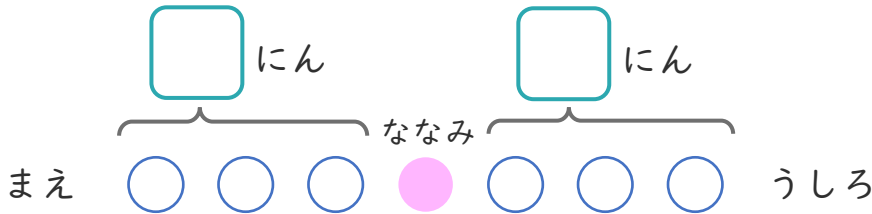


日にち： 月 日

名まえ \_\_\_\_\_

1 バスでいにひとがならんでいます。ななみさんのまえに  
3にん、うしろに3にんいます。

① □ にあうかずをかきましょう。



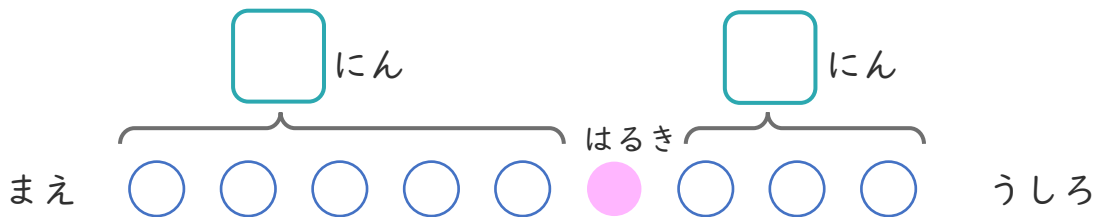
② ぜんぶでなんにんならんでいますか。

しき：

こたえ

2 こどもがならんでいます。はるきさんのまえに5にん、  
うしろに3にんいます。

① □ にあうかずをかきましょう。



② ぜんぶでなんにんならんでいますか。

しき：

こたえ





たしざんと  
ひきざん 7

● まえとうしろのにんずう  
ぜんぶでなんにん？



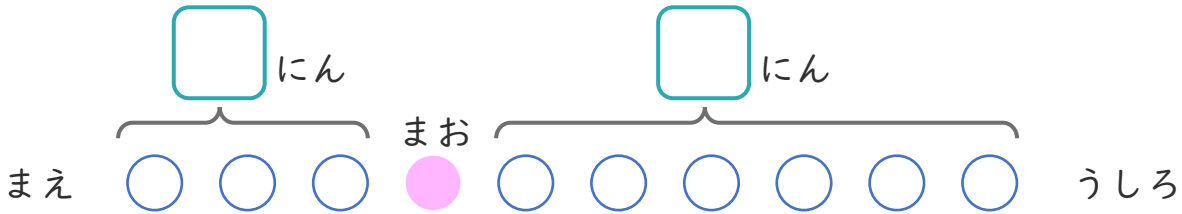
日にち： 月 日

名まえ \_\_\_\_\_

1

こどもがならんでいます。まおさんのまえに3にん、うしろに6にんいます。

①  にあうかずをかきましょう。



② ぜんぶでなんにんならんでいますか。

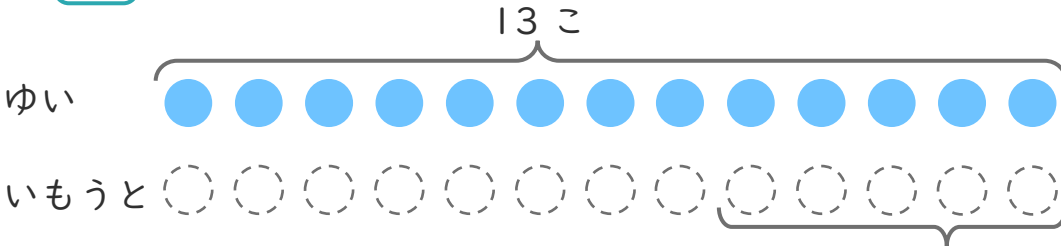
しき：

こたえ

2

ゆいさんはくりを13こひろいました。いもうとは、ゆいさんより5こすくなくったそうです。

①  にあうかずをかきましょう。



○にいろをぬりましょう。

② いもうとは、なんこひろいましたか。

しき：

こたえ





たしざんと  
ひきざん 7

● まえとうしろのにんずう  
ぜんぶでなんにん？



日にち： 月 日

名まえ \_\_\_\_\_

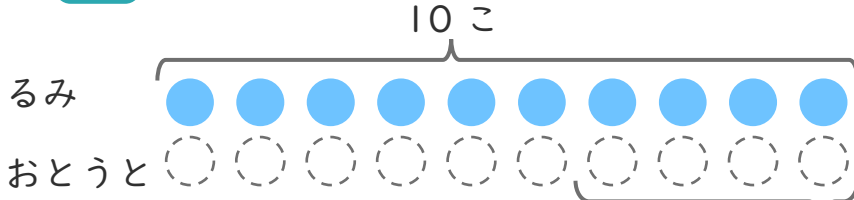
1

るみさんはくりを 10こ ひろいました。

おとうとは、るみさんより 4こ すくなかった そうです。

①  にあうかずをかきましょう。

○にいろをぬりましょう。



こすくない

② おとうとは、なんこ ひろいましたか。

しき：

こたえ {

2

こどもがならんでいます。なつさんのまえに 6にん、うしろに 5にん います。

①  にあうかずをかきましょう。



② ぜんぶでなんにん ならんでいますか。

しき：

こたえ {





たしざんと  
ひきざん 7

● まえとうしろのにんずう  
ぜんぶでなんにん？

12

日にち： 月 日

名まえ \_\_\_\_\_

1 バスでいにひとがならんでいます。あいさんのまえに  
3にん、うしろに7にんいます。

①  にあうかずをかきましょう。



② ぜんぶでなんにんならんでいますか。

しき：

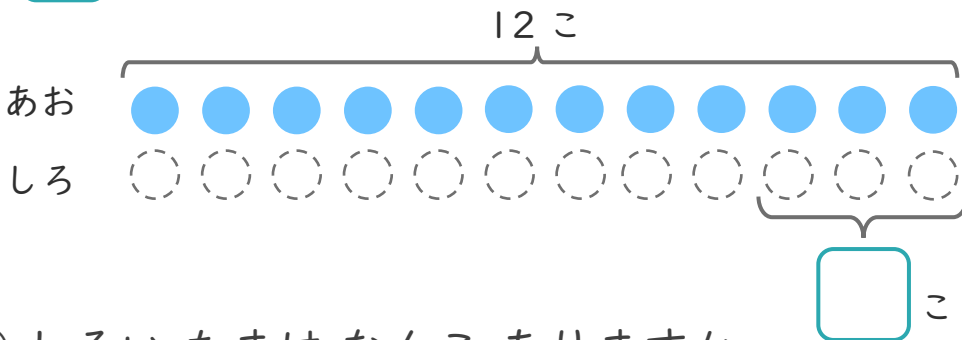
こたえ

2 あおいたまが12こあります。

しろいたまは、あおいたまより3こすくないそうです。

①  にあうかずをかきましょう。

○にいろをぬりましょう。



② しろいたまはなんこありますか。

しき：

こたえ





たしざんと  
ひきざん 7

● まえとうしろのにんずう  
ぜんぶでなんにん？

13

日にち： 月 日

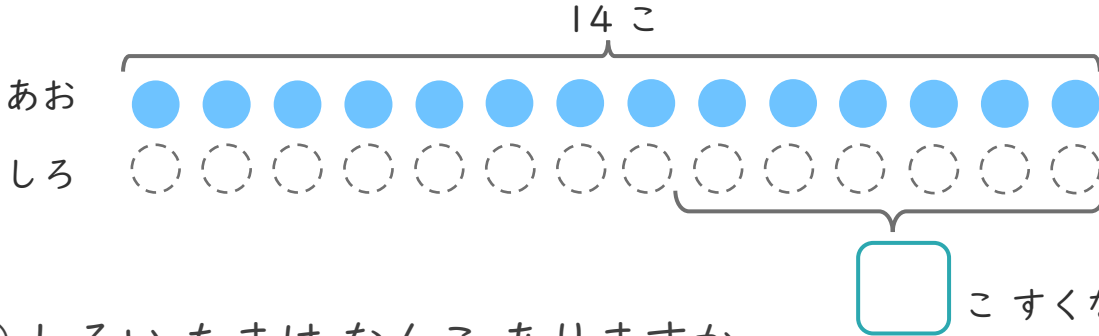
名まえ \_\_\_\_\_

1 あおいたまが 14こ あります。

しろいたまは、あおいたまより 6こ すくないそうです。

①  にあうかずをかきましょう。

にいろをぬりましょう。



② しろいたまはなんこ ありますか。

しき：

こたえ {

2 こどもがならんでいます。なぎささんのまえに 8にん、うしろに 3にん います。

①  にあうかずをかきましょう。



② ぜんぶでなんにん ならんでいますか。

しき：

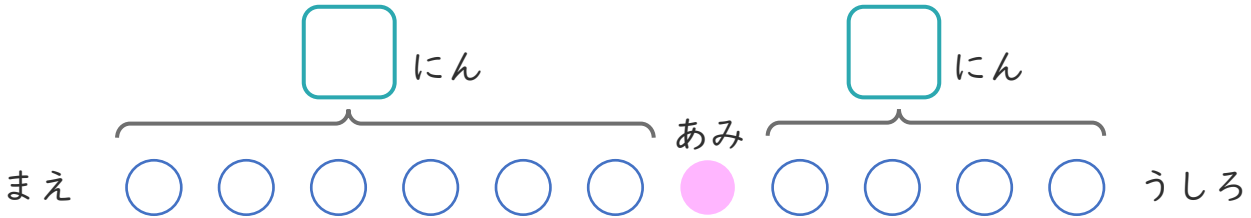
こたえ {





1 バスでいにひとがならんでいます。あみさんのまえに  
6にん、うしろに4にんいます。

①  にあうかずをかきましょう。



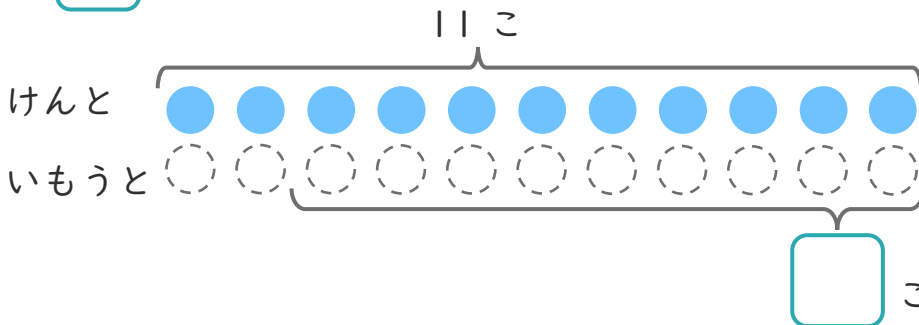
② ぜんぶでなんにんならんでいますか。

しき：

こたえ

2 けんさんはくりを11こひろいました。  
いもうとは、けんさんより9こすくなかったそうです。

①  にあうかずをかきましょう。



○にいろを  
ぬりましょう。

② いもうとは、なんこひろいましたか。

しき：

こたえ





たしざんと  
ひきざん 7

● まえとうしろのにんずう  
ぜんぶでなんにん？

15

めざせ80点!

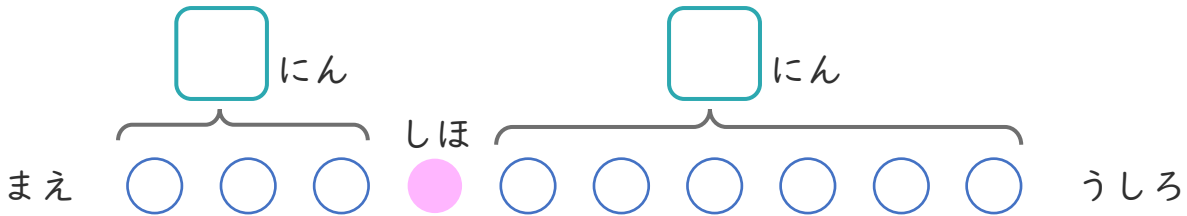


名まえ

1

パンやさんにひとがならんでいます。しほさんのまえに3にん、うしろに6にんいます。

①  にあうかずをかきましょう。(20点)



② ぜんぶでなんにんならんでいますか。(30点)

しき：

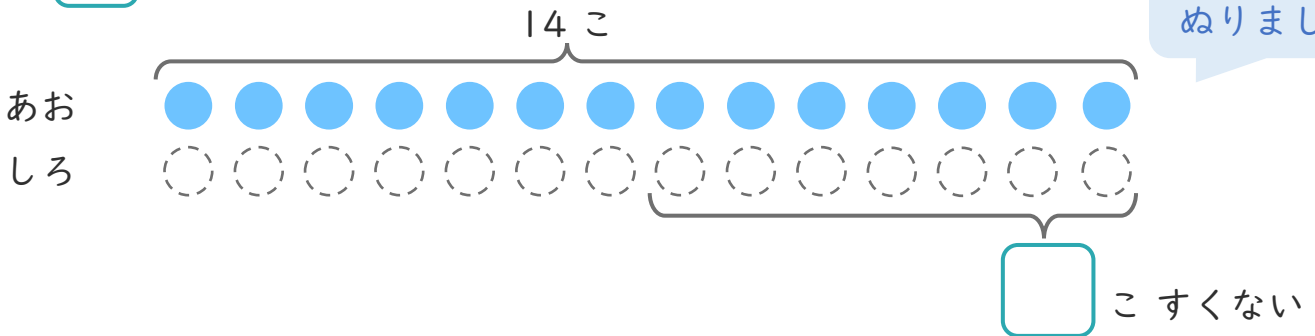
こたえ

2

あおいたまが14こあります。

しろいたまは、あおいたまより7こすくないそうです。

①  にあうかずをかきましょう。(20点)



② しろいたまは、なんこありますか。(30点)

しき：

こたえ





たしざんと  
ひきざん 7

● まえとうしろのにんずう  
ぜんぶでなんにん？

16

めざせ80点!

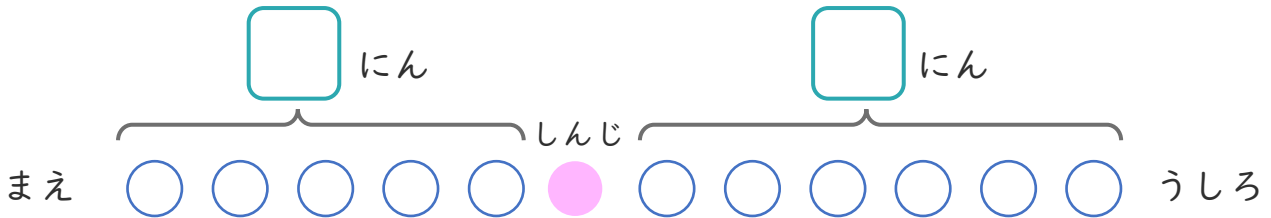


名まえ

1

こどもがならんでいます。しんじさんのまえに 5 にん、  
うしろに 6 にん います。

①  にあうかずをかきましょう。(20点)



② ぜんぶでなんにんならんでいますか。(30点)

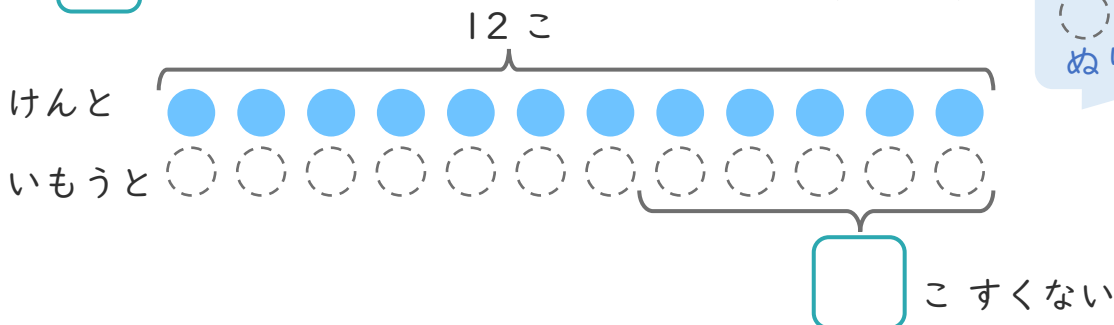
しき：

こたえ

2

けんさんはくりを 12 こ ひろいました。  
いもうとは、けんさんより 5 こ すくなかった そうです。

①  にあうかずをかきましょう。(20点)



○にいろを  
ぬりましょう。

② いもうとは、なんこ ひろいましたか。(30点)

しき：

こたえ







たしざんと  
ひきざん 7

● まえとうしろのにんずう  
ぜんぶでなんにん？

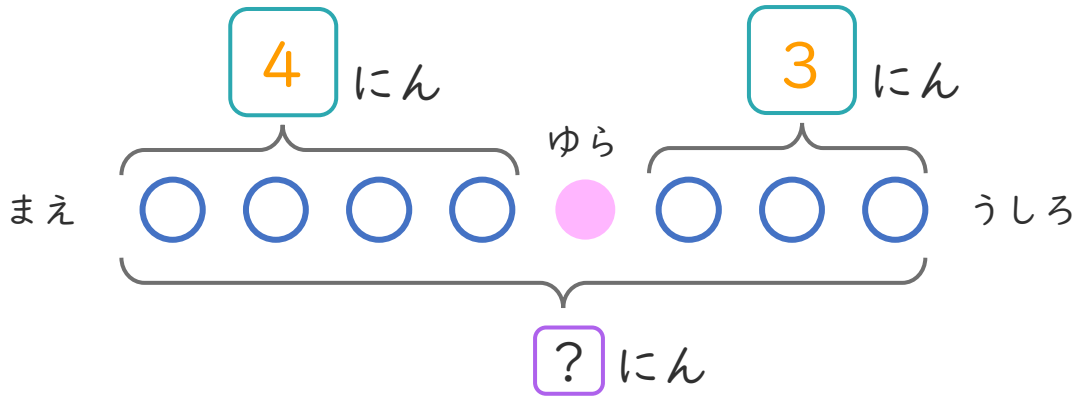


日にち：            月            日

名まえ \_\_\_\_\_

- ・ おかしやさんにひとがならんでいます。  
ゆらさんのまえに 4 にん、うしろに 3 にん います。  
(うすいじはなぞりましょう。)

①  にあうかずをかきましょう。



② ぜんぶでなんにんならんでいますか。  
しきとこたえをかきましょう。

ゆらさんも  
わすれずにたそう！



しき：  $\overset{\text{まえ}}{4} + \overset{\text{ゆら}}{1} + \overset{\text{うしろ}}{3} = 8$

こたえ  $\left( 8 \text{ にん} \right)$





たしざんと  
ひきざん 7

● まえとうしろのにんずう  
ぜんぶでなんにん？

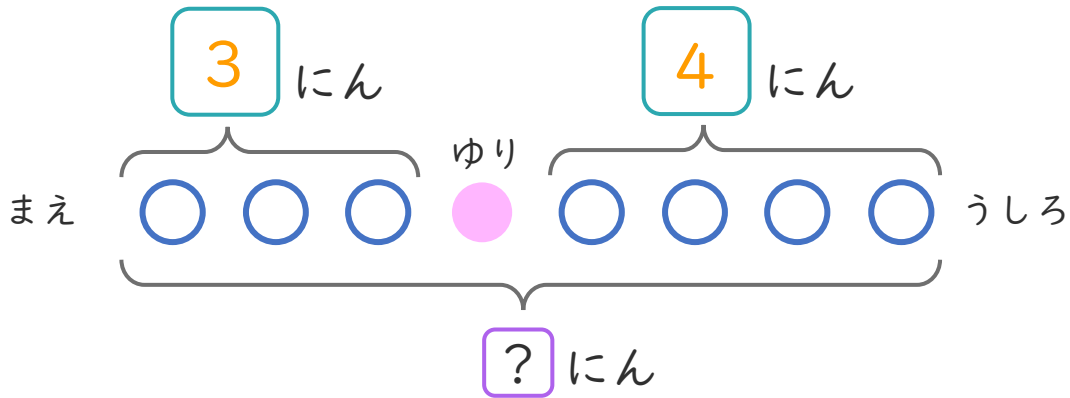


日にち：            月            日

名まえ \_\_\_\_\_

- ・ こどもがならんでいます。  
ゆりさんのまえに 3 にん、うしろに 4 にん います。  
(うすいじはなぞりましょう。)

① □ にあうかずをかきましょう。



② ぜんぶでなんにんならんでいますか。  
しきとこたえをかきましょう。

ゆりさんも  
わすれずにたそう！



しき：  $\overset{\text{まえ}}{\boxed{3}} + \overset{\text{ゆり}}{\boxed{1}} + \overset{\text{うしろ}}{\boxed{4}} = \boxed{8}$

こたえ  $\left[ \boxed{8} \text{ にん} \right]$





たしざんと  
ひきざん 7

● まえとうしろのにんずう  
ぜんぶでなんにん？

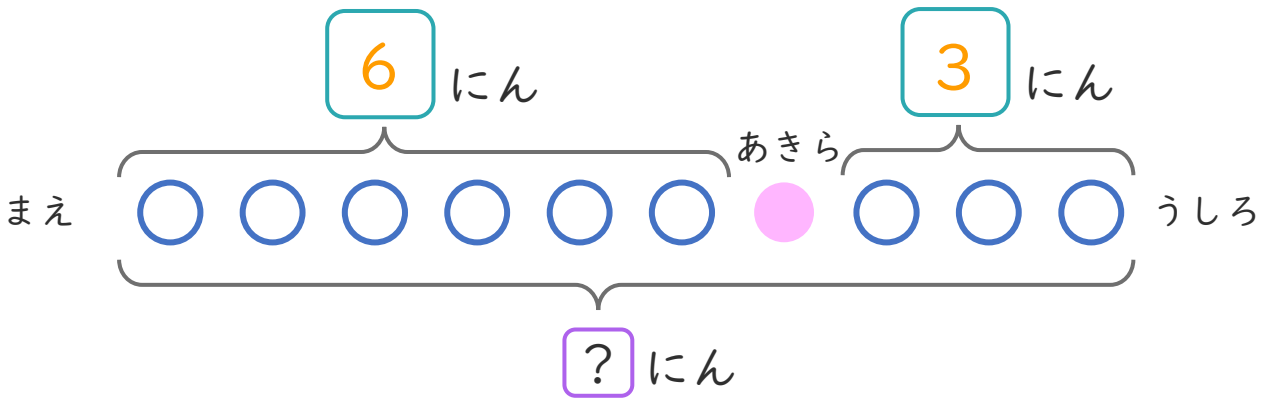


日にち：            月            日

名まえ \_\_\_\_\_

- バスでいにひとがならんでいます。  
あきらさんのまえに6にん、うしろに3にんいます。  
(うすいじはなぞりましょう。)

①  にあうかずをかきましょう。



② ぜんぶでなんにんならんでいますか。  
しきとこたえをかきましょう。

あきらさんも  
わすれずにたそう！



しき： $\overset{\text{まえ}}{\boxed{6}} + \overset{\text{あきら}}{\boxed{1}} + \overset{\text{うしろ}}{\boxed{3}} = \boxed{10}$

こたえ  $\left( \boxed{10} \text{ にん} \right)$

③ 確認 答え



すらすらぷりんと



たしざんと  
ひきざん 7

● まえとうしろのにんずう  
ぜんぶでなんにん？



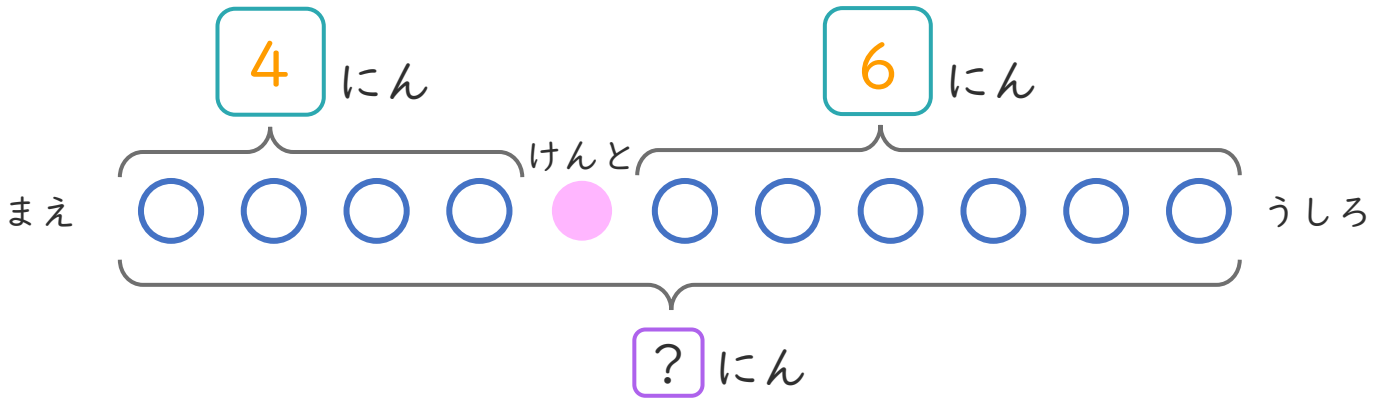
日にち：            月            日

名まえ \_\_\_\_\_

・ こどもがならんでいます。

けんとうさんのまえに 4 にん、うしろに 6 にんいます。

①  にあうかずをかきましょう。



② ぜんぶでなんにんならんでいますか。  
しきとこたえをかきましょう。

けんとうさんも  
わすれずにたそう！



しき： $\overset{\text{まえ}}{\boxed{4}} + \overset{\text{けんとう}}{\boxed{1}} + \overset{\text{うしろ}}{\boxed{6}} = \boxed{11}$

こたえ  $\left( \boxed{11} \text{ にん} \right)$





たしざんと  
ひきざん 7

● まえとうしろのにんずう  
ぜんぶでなんにん？

5

日にち：            月            日

名まえ \_\_\_\_\_

1

パンやさんにひとがならんでいます。りささんのまえに5にん、うしろに4にんいます。

① □ にあうかずをかきましょう。(うすいじはなぞりましょう。)



② ぜんぶでなんにんならんでいますか。

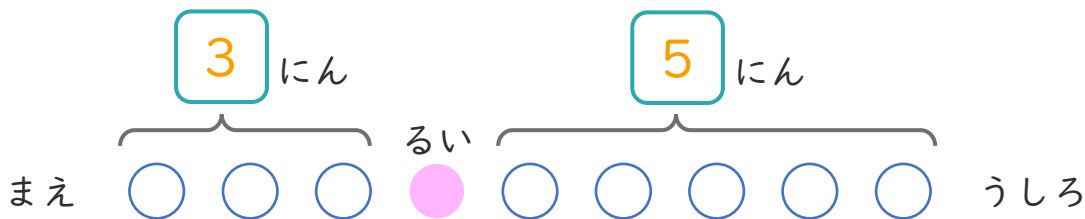
しき： $5 + 1 + 4 = 10$

こたえ  $\left( 10 \text{ にん} \right)$

2

こどもがならんでいます。るいさんのまえに3にん、うしろに5にんいます。

① □ にあうかずをかきましょう。



② ぜんぶでなんにんならんでいますか。

しき： $3 + 1 + 5 = 9$

こたえ  $\left( 9 \text{ にん} \right)$





たしざんと  
ひきざん 7

● まえとうしろのにんずう  
ぜんぶでなんにん？



日にち： 月 日

名まえ \_\_\_\_\_

1 こどもがならんでいます。かなさんのまえに 4 にん、うしろに 4 にんいます。

①  にあうかずをかきましょう。



② ぜんぶでなんにんならんでいますか。

しき： $4 + 1 + 4 = 9$

こたえ  $9$  にん

2 バスでいにひとがならんでいます。ゆきさんのまえに 7 にん、うしろに 3 にんいます。

①  にあうかずをかきましょう。



② ぜんぶでなんにんならんでいますか。

しき： $7 + 1 + 3 = 11$

こたえ  $11$  にん





たしざんと  
ひきざん 7

● まえとうしろのにんずう  
ぜんぶでなんにん？

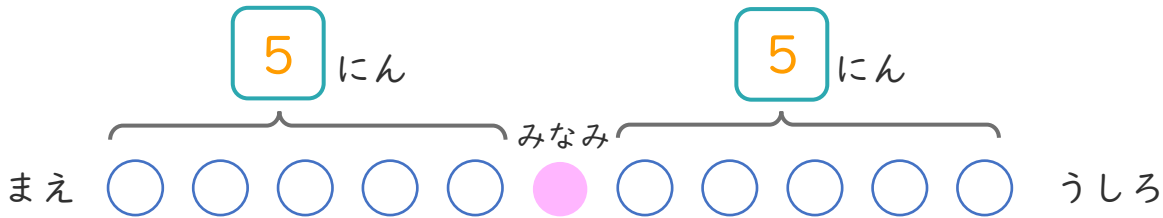


日にち： 月 日

名まえ \_\_\_\_\_

1 バスでいにひとがならんでいます。みなみさんのまえに  
5にん、うしろに5にんいます。

① □ にあうかずをかきましょう。



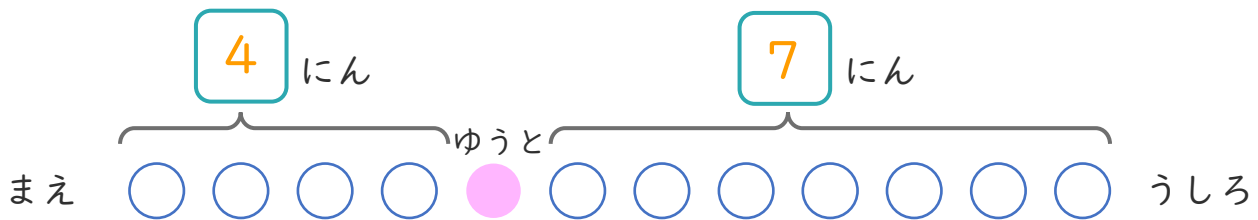
② ぜんぶでなんにんならんでいますか。

しき： $5 + 1 + 5 = 11$

こたえ { 11 にん }

2 こどもがならんでいます。ゆうとさんのまえに4にん、  
うしろに7にんいます。

① □ にあうかずをかきましょう。



② ぜんぶでなんにんならんでいますか。

しき： $4 + 1 + 7 = 12$

こたえ { 12 にん }





たしざんと  
ひきざん 7

● まえとうしろのにんずう  
ぜんぶでなんにん？

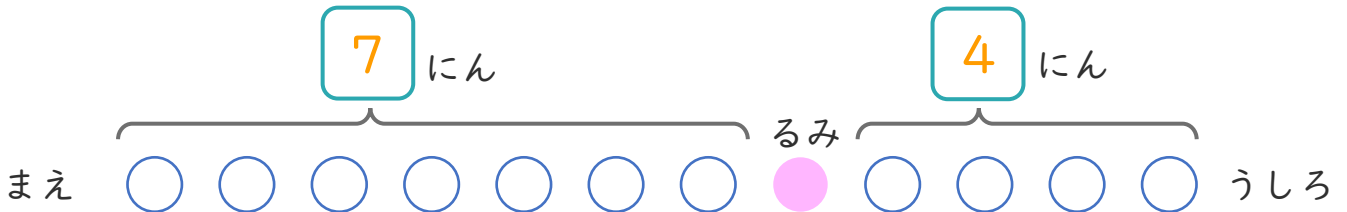


日にち：            月            日

名まえ \_\_\_\_\_

1 こどもがならんでいます。るみさんのまえに 7 にん、  
うしろに 4 にん います。

①  にあうかずをかきましょう。



② ぜんぶでなんにん ならんでいますか。

しき： $7 + 1 + 4 = 12$

こたえ  $\left( 12 \text{ にん} \right)$

2 バスでいにひとがならんでいます。なおとさんのまえに  
4 にん、うしろに 5 にん います。

①  にあうかずをかきましょう。



② ぜんぶでなんにん ならんでいますか。

しき： $4 + 1 + 5 = 10$

こたえ  $\left( 10 \text{ にん} \right)$







たしざんと  
ひきざん 7

● まえとうしろのにんずう  
ぜんぶでなんにん？

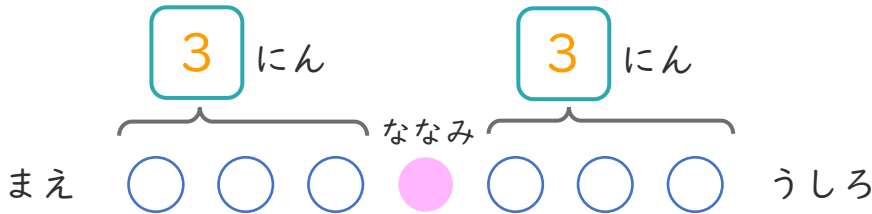


日にち：            月            日

名まえ \_\_\_\_\_

1 バスでいにひとがならんでいます。ななみさんのまえに  
3にん、うしろに3にんいます。

① □ にあうかずをかきましょう。



② ぜんぶでなんにんならんでいますか。

しき： $3 + 1 + 3 = 7$

こたえ  $\left( 7 \text{ にん} \right)$

2 こどもがならんでいます。はるきさんのまえに5にん、  
うしろに3にんいます。

① □ にあうかずをかきましょう。



② ぜんぶでなんにんならんでいますか。

しき： $5 + 1 + 3 = 9$

こたえ  $\left( 9 \text{ にん} \right)$





たしざんと  
ひきざん 7

● まえとうしろのにんずう  
ぜんぶでなんにん？

10

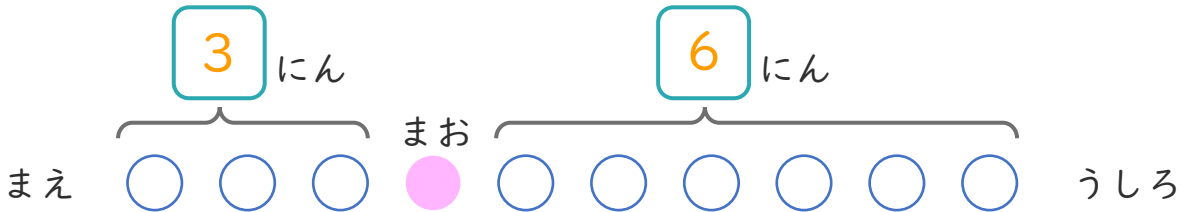
日にち： 月 日

名まえ \_\_\_\_\_

1

こどもがならんでいます。まおさんのまえに3にん、うしろに6にんいます。

①  にあうかずをかきましょう。



② ぜんぶでなんにんならんでいますか。

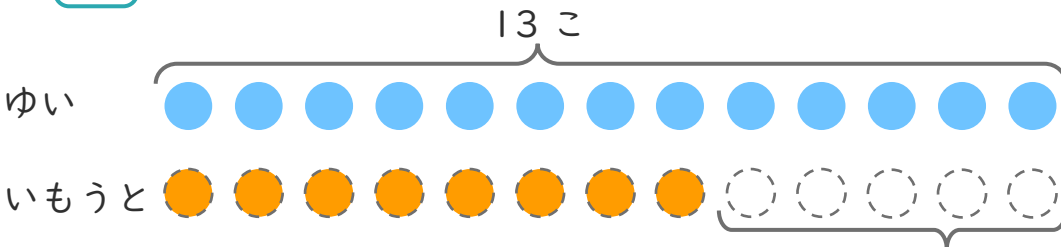
しき： $3 + 1 + 6 = 10$

こたえ  $10$  にん

2

ゆいさんはくりを13こひろいました。いもうとは、ゆいさんより5こすくなくったそうです。

①  にあうかずをかきましょう。



○ にいろをぬりましょう。

5 こすくない

② いもうとは、なんこひろいましたか。

しき： $13 - 5 = 8$

こたえ  $8$  こ





たしざんと  
ひきざん 7

● まえとうしろのにんずう  
ぜんぶでなんにん？



日にち：            月            日

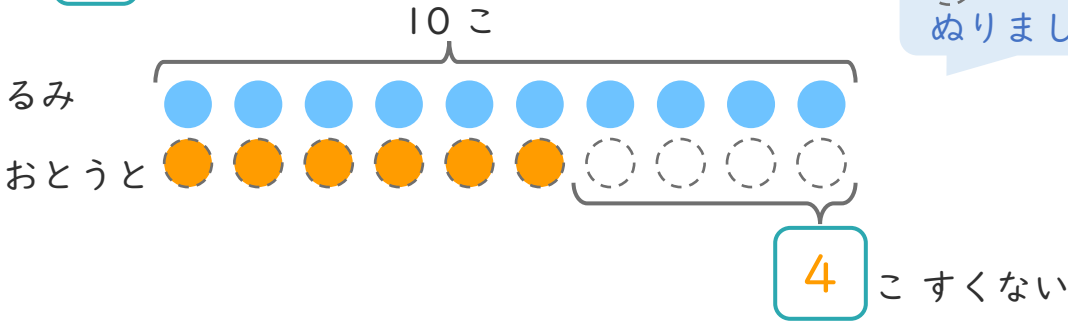
名まえ \_\_\_\_\_

1

るみさんはくりを 10こ ひろいました。  
おとうとは、るみさんより 4こ すくなかった そうです。

①  にあうかずをかきましょう。

○にいろをぬりましょう。



② おとうとは、なんこ ひろいましたか。

しき： $10 - 4 = 6$

こたえ  $\left( \begin{array}{cc} 6 & こ \end{array} \right)$

2

こどもがならんでいます。なつさんのまえに 6にん、  
うしろに 5にん います。

①  にあうかずをかきましょう。



② ぜんぶでなんにん ならんでいますか。

しき： $6 + 1 + 5 = 12$

こたえ  $\left( \begin{array}{cc} 12 & にん \end{array} \right)$





たしざんと  
ひきざん 7

● まえとうしろのにんずう  
ぜんぶでなんにん？


12

日にち： 月 日

名まえ \_\_\_\_\_

1 バスでいにひとがならんでいます。あいさんのまえに3にん、うしろに7にんいます。

① □ にあうかずをかきましょう。



② ぜんぶでなんにんならんでいますか。

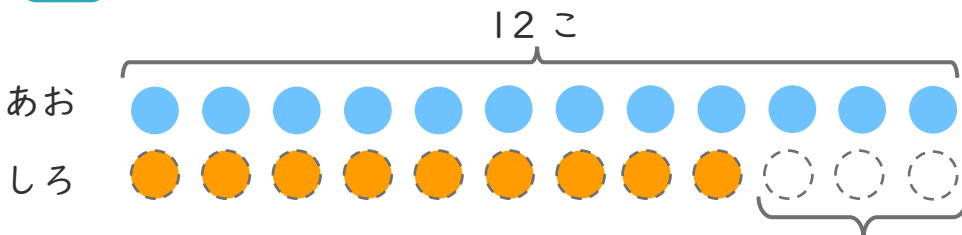
しき： $3 + 1 + 7 = 11$

こたえ { 11 にん }

2 あおいたまが12こあります。  
しろいたまは、あおいたまより3こすくないそうです。

① □ にあうかずをかきましょう。

○ にいろをぬりましょう。



3 こすくない

② しろいたまはなんこありますか。

しき： $12 - 3 = 9$

こたえ { 9 こ }





たしざんと  
ひきざん 7

● まえとうしろのにんずう  
ぜんぶでなんにん？

13

日にち： 月 日

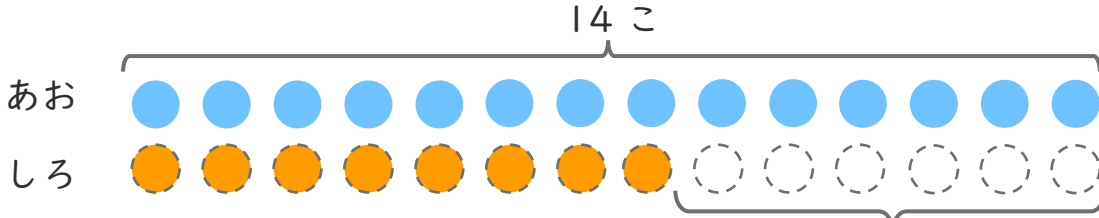
名まえ \_\_\_\_\_

1 あおいたまが 14こ あります。

しろいたまは、あおいたまより 6こ すくないそうです。

①  にあうかずをかきましょう。

○にいろをぬりましょう。



6 こすくない

② しろいたまはなんこ ありますか。

しき： $14 - 6 = 8$

こたえ { 8 こ }

2 こどもがならんでいます。なぎささんのまえに 8にん、うしろに 3にん います。

①  にあうかずをかきましょう。



② ぜんぶでなんにん ならんでいますか。

しき： $8 + 1 + 3 = 12$

こたえ { 12 にん }





たしざんと  
ひきざん 7

● まえとうしろのにんずう  
ぜんぶでなんにん？

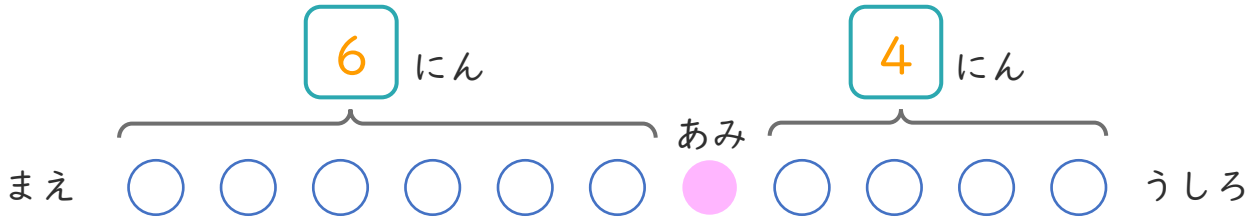
14

日にち： 月 日

名まえ \_\_\_\_\_

1 バスでいにひとがならんでいます。あみさんのまえに  
6にん、うしろに4にんいます。

①  にあうかずをかきましょう。



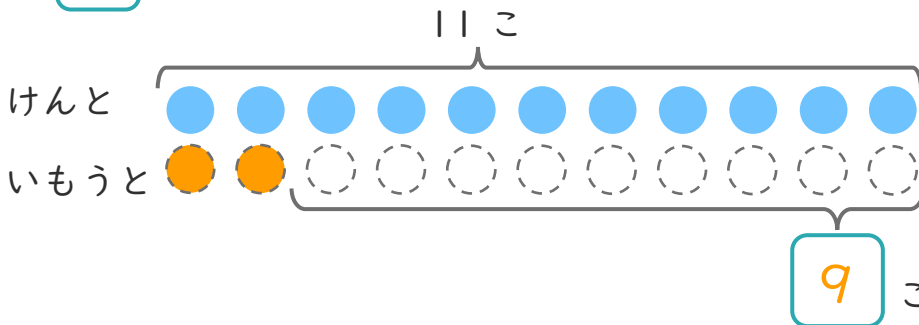
② ぜんぶでなんにんならんでいますか。

しき： $6 + 1 + 4 = 11$

こたえ  $\left( 11 \text{ にん} \right)$

2 けんさんはくりを11こひろいました。  
いもうとは、けんさんより9こすくなかったそうです。

①  にあうかずをかきましょう。



○にいろを  
ぬりましょう。

② いもうとは、なんこひろいましたか。

しき： $11 - 9 = 2$

こたえ  $\left( 2 \text{ こ} \right)$





たしざんと  
ひきざん 7

● まえとうしろのにんずう  
ぜんぶでなんにん?

15

めざせ80点!

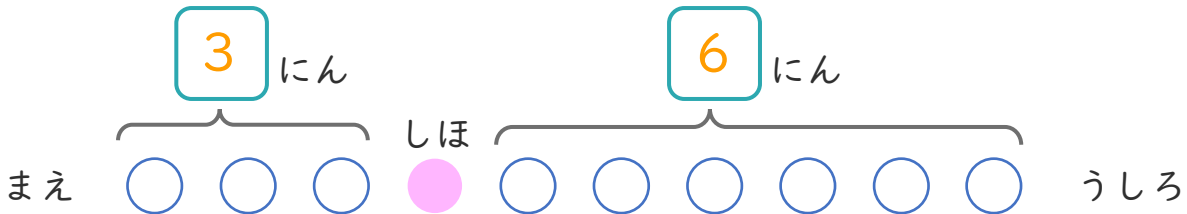


名まえ

1

パンやさんにひとがならんでいます。しほさんのまえに3にん、うしろに6にんいます。

①  にあうかずをかきましょう。(20点)



② ぜんぶでなんにんならんでいますか。(30点)

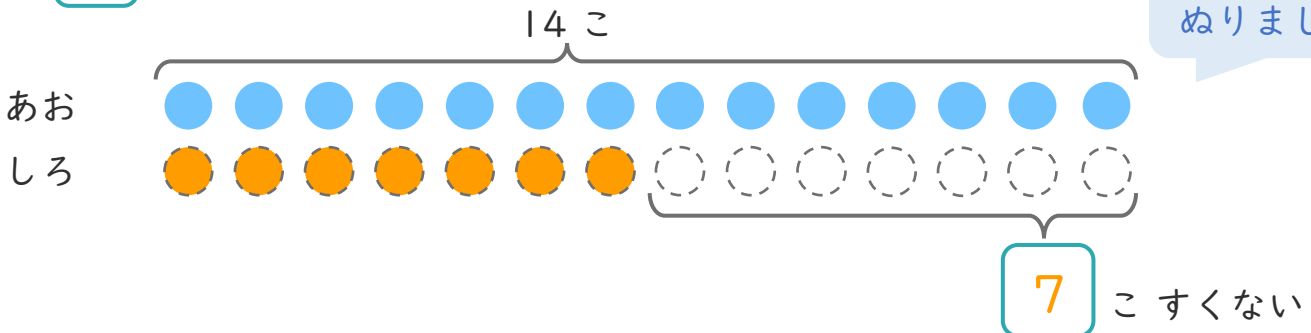
しき： $3 + 1 + 6 = 10$

こたえ { 10 にん }

2 あおいたまが14こあります。

しろいたまは、あおいたまより7こすくないそうです。

①  にあうかずをかきましょう。(20点)



○にいろをぬりましょう。

② しろいたまは、なんこありますか。(30点)

しき： $14 - 7 = 7$

こたえ { 7 こ }






たしざんと  
ひきざん 7

● まえとうしろのにんずう  
ぜんぶでなんにん？

16

めざせ80点!

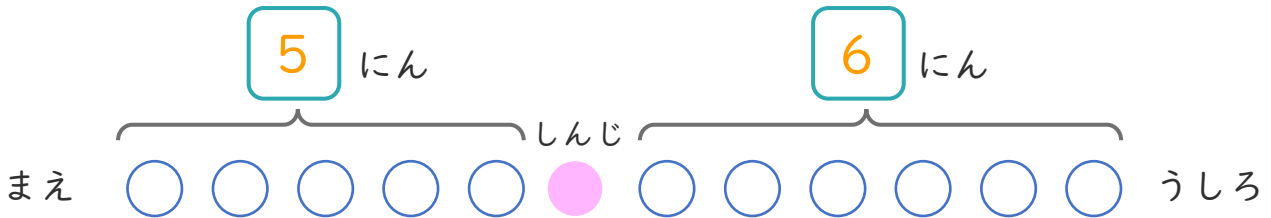


名まえ

1

こどもがならんでいます。しんじさんのまえに 5 にん、  
うしろに 6 にんいます。

①  にあうかずをかきましょう。(20点)



② ぜんぶでなんにんならんでいますか。(30点)

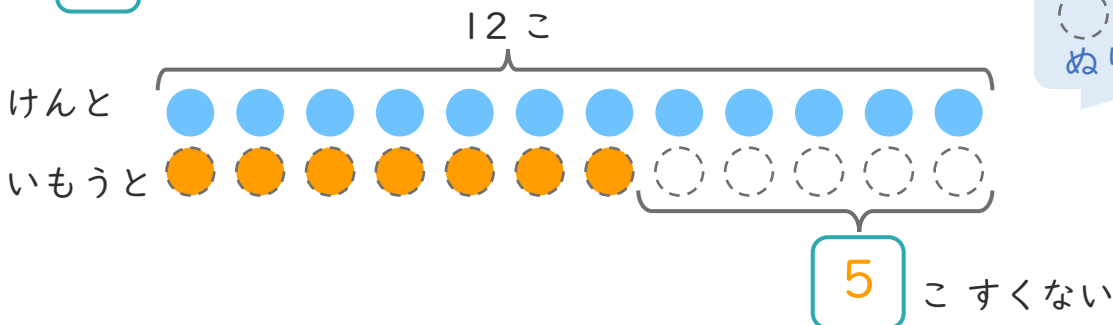
しき： $5 + 1 + 6 = 12$

こたえ  $12$  にん

2

けんさんはくりを 12 こひろいました。  
いもうとは、けんさんより 5 こすくなくったそうです。

①  にあうかずをかきましょう。(20点)



② いもうとは、なんこひろいましたか。(30点)

しき： $12 - 5 = 7$

こたえ  $7$  こ

