




どちらがおおい③

● コップでなんばい
はいりますか？




日にち： 月 日


名まえ _____

・ みずが  のかずだけはいります。(うすいじはなぞりましょう。)


あ




い



う



①  でなんばいはいりますか。

あ... はい い... はい う... はい

② あといでは、どちらがどれだけおおくはいりますか。

のほうが、 で はいぶんおおくはいる。

③ いとうでは、どちらがどれだけおおくはいりますか。

のほうが、 で はいぶんおおくはいる。






どちらがおおい③

● コップで なんばい
はいりますか？




日にち： 月 日


名まえ _____

・ みずが  のかずだけ はいります。 (うすいじはなぞりましょう。)


① あ




② い




③ う



①  で なんばい はいりますか。

① あ... はい ② い... はい ③ う... はい

② ①と②では、どちらがどれだけ おおく はいりますか。

のほうが、 で はいぶん おおく はいる。

③ ②と③では、どちらがどれだけ おおく はいりますか。

のほうが、 で はいぶん おおく はいる。






どちらがおおい③

● コップでなんばいはいりますか？




日にち： 月 日

名まえ _____

・ みずが  のかずだけはいります。(うすいじはなぞりましょう。)


① あ




② い




③ う



①  でなんばいはいりますか。

① あ... はい ② い... はい ③ う... はい

② ①と②では、どちらがどれだけおおくはいりますか。

のほうが、 で はいぶん おおく はいる。

③ ①と③では、どちらがどれだけおおくはいりますか。

のほうが、 で はいぶん おおく はいる。






どちらがおおい③

● コップで なんばい
はいりますか？


4

日にち： 月 日


名まえ _____

・ みずが  のかずだけはいります。


① あ




② い




③ う



①  で なんばい はいりますか。

① あ... はい ② い... はい ③ う... はい

② ①と②では、どちらがどれだけおおくはいりますか。

のほうが、 で はいぶん おおく はいる。

③ ①と③では、どちらがどれだけおおくはいりますか。

のほうが、 で はいぶん おおく はいる。






どちらがおおい③

● コップでなんばい
はいりますか？




日にち： 月 日


名まえ _____

・ みずが  のかずだけはいります。


① あ




② い




③ う



①  でなんばいはいりますか。

① あ... はい ② い... はい ③ う... はい

② ①と②では、どちらがどれだけおおくはいりますか。

のほうが、 で はいぶんおおくはいる。

③ ②と③では、どちらがどれだけおおくはいりますか。

のほうが、 で はいぶんおおくはいる。






どちらがおおい③

● コップで なんばい
はいりますか？




日にち： 月 日

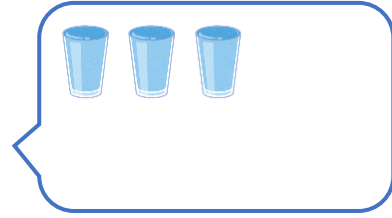
名まえ _____

・ みずが  のかずだけはいります。


① あ




② い




③ う




①  で なんばいはいりますか。

① あ... はい ② い... はい ③ う... はい

② ①と②では、どちらがどれだけおおくはいりますか。

のほうが、 で はいぶん おおくはいる。

③ ②と③では、どちらがどれだけおおくはいりますか。

のほうが、 で はいぶん おおくはいる。






どちらがおおい③

● コップで なんばい
はいりますか？



日にち： 月 日


名まえ _____

・ みずが  のかずだけはいります。


① あ




② い




③ う



①  で なんばいはいりますか。

① あ... はい ② い... はい ③ う... はい

② ①と②では、どちらがどれだけおおくはいりますか。

のほうが、 で はいぶん おおくはいる。

③ ①と③では、どちらがどれだけおおくはいりますか。

のほうが、 で はいぶん おおくはいる。






どちらがおおい③

● コップで なんばい
はいりますか？




日にち： 月 日


名まえ _____

・ みずが  のかずだけはいります。

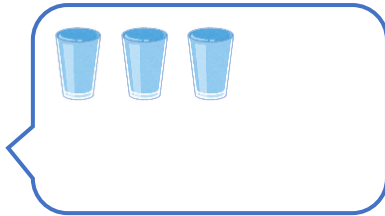
① あ




② い



③ う



①  で なんばいはいりますか。

① あ... はい ② い... はい ③ う... はい

② ①と②では、どちらがどれだけおおくはいりますか。

のほうが、 で はいぶん おおくはいる。

③ ①と③では、どちらがどれだけおおくはいりますか。

のほうが、 で はいぶん おおくはいる。






どちらがおおい③

● コップでなんばい
はいりますか？




日にち： 月 日

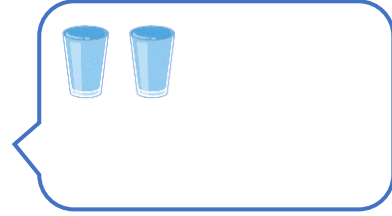
名まえ _____

・ みずが  のかずだけはいります。

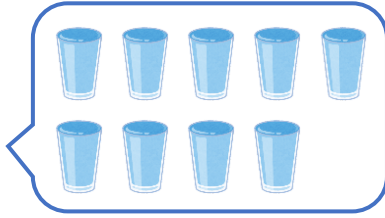
① あ




② い




③ う



①  でなんばいはいりますか。

① あ... はい ② い... はい ③ う... はい

② ①と②では、どちらがどれだけおおくはいりますか。

のほうが、 で はいぶんおおくはいる。

③ ②と③では、どちらがどれだけおおくはいりますか。

のほうが、 で はいぶんおおくはいる。






どちらがおおい③

● コップでなんばい
はいりますか？




日にち： 月 日


名まえ _____

・ みずが  のかずだけはいります。(うすいじはなぞりましょう。)


あ




い



う



①  でなんばいはいりますか。

あ... **5** はい い... **3** はい う... **8** はい

② あといででは、どちらがどれだけおおくはいりますか。

あのほうが、 で **2** はいぶんおおくはいる。

③ いとうでは、どちらがどれだけおおくはいりますか。

うのほうが、 で **5** はいぶんおおくはいる。






どちらがおおい③

● コップで なんばい
はいりますか？




日にち： 月 日


名まえ _____

・ みずが  のかずだけはいります。(うすいじはなぞりましょう。)


① あ




② い



③ う



①  で なんばいはいりますか。

① あ... **8** はい ② い... **4** はい ③ う... **9** はい

② ①と②では、どちらがどれだけおおくはいりますか。

①のほうが、 で **4** はいぶん おおくはいる。

③ ②と③では、どちらがどれだけおおくはいりますか。

③のほうが、 で **5** はいぶん おおくはいる。






どちらがおおい③

● コップでなんばいはいりますか？




日にち： 月 日


名まえ _____

・ みずが  のかずだけはいります。(うすいじはなぞりましょう。)


① あ




① い



① う



①  でなんばいはいりますか。

① あ... **2** はい ① い... **9** はい ① う... **4** はい

② ① あと① いでは、どちらがどれだけおおくはいりますか。

① いのほうが、 で **7** はいぶん おおくはいる。

③ ① あと① うでは、どちらがどれだけおおくはいりますか。

① うのほうが、 で **2** はいぶん おおくはいる。






どちらがおおい③

● コップで なんばい
はいりますか？


4

日にち： 月 日

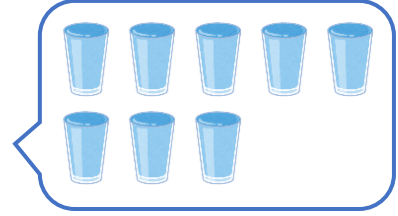
名まえ _____

・ みずが  のかずだけはいります。


あ




い



う



①  で なんばい はいりますか。

あ... **6** はい い... **8** はい う... **9** はい

② あと い では、どちらが どれだけ おおく はいりますか。

い のほうが、 で **2** はいぶん おおく はいる。

③ あと う では、どちらが どれだけ おおく はいりますか。

う のほうが、 で **3** はいぶん おおく はいる。






どちらがおおい③

● コップで なんばい
はいりますか？


5

日にち： 月 日


名まえ _____

・ みずが  のかずだけはいります。


① あ




② い



③ う



①  で なんばい はいりますか。

① あ... **4** はい い... **2** はい う... **8** はい

② ①と②では、どちらがどれだけおおくはいりますか。

①のほうか、 で **2** はいぶん おおく はいる。

③ ②と③では、どちらがどれだけおおくはいりますか。

③のほうか、 で **6** はいぶん おおく はいる。






どちらがおおい③

● コップで なんばい
はいりますか？




日にち： 月 日

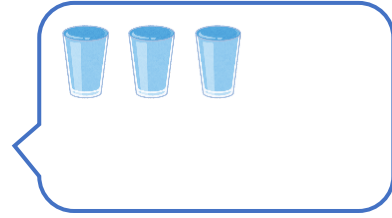
名まえ _____

・ みずが  のかずだけはいります。


① あ




② い



③ う



①  で なんばいはいりますか。

① あ... $\left[6 \right]$ はい ② い... $\left[3 \right]$ はい ③ う... $\left[9 \right]$ はい

② ①と②では、どちらがどれだけおおくはいりますか。

$\left[① \right]$ のほうが、 で $\left[3 \right]$ はいぶんおおくはいる。

③ ②と③では、どちらがどれだけおおくはいりますか。

$\left[③ \right]$ のほうが、 で $\left[6 \right]$ はいぶんおおくはいる。






どちらがおおい③

● コップで なんばい
はいりますか？



日にち： 月 日


名まえ _____

・ みずが  のかずだけはいります。


① あ




② い



③ う



①  で なんばいはいりますか。

① あ... $\left[1 \right]$ はい ② い... $\left[8 \right]$ はい ③ う... $\left[4 \right]$ はい

② ①と②では、どちらがどれだけおおくはいりますか。

$\left[\text{い} \right]$ のほうが、 で $\left[7 \right]$ はいぶんおおくはいる。

③ ①と③では、どちらがどれだけおおくはいりますか。

$\left[\text{う} \right]$ のほうが、 で $\left[3 \right]$ はいぶんおおくはいる。






どちらがおおい③

● コップで なんばい
はいりますか？




日にち： 月 日


名まえ _____

・ みずが  のかずだけはいります。


① あ




② い



③ う



①  で なんばいはいりますか。

① あ... **5** はい い... **7** はい う... **3** はい

② ①と②では、どちらがどれだけおおくはいりますか。

② **い** のほうが、 で **2** はいぶん おおくはいる。

③ ①と③では、どちらがどれだけおおくはいりますか。

③ **あ** のほうが、 で **2** はいぶん おおくはいる。






どちらがおおい③

● コップで なんばい
はいりますか？




日にち： 月 日

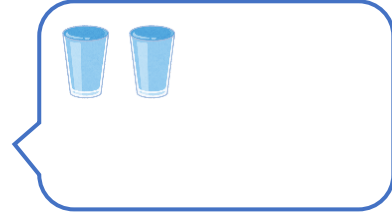

名まえ _____

・ みずが  のかずだけはいります。


① あ



② い



③ う



①  で なんばいはいりますか。

① あ... **5** はい い... **2** はい う... **9** はい

② ①と②では、どちらがどれだけおおくはいりますか。

①のほうか、 で **3** はいぶん おおくはいる。

③ ②と③では、どちらがどれだけおおくはいりますか。

③のほうか、 で **7** はいぶん おおくはいる。

