





# ながさくらべ 4

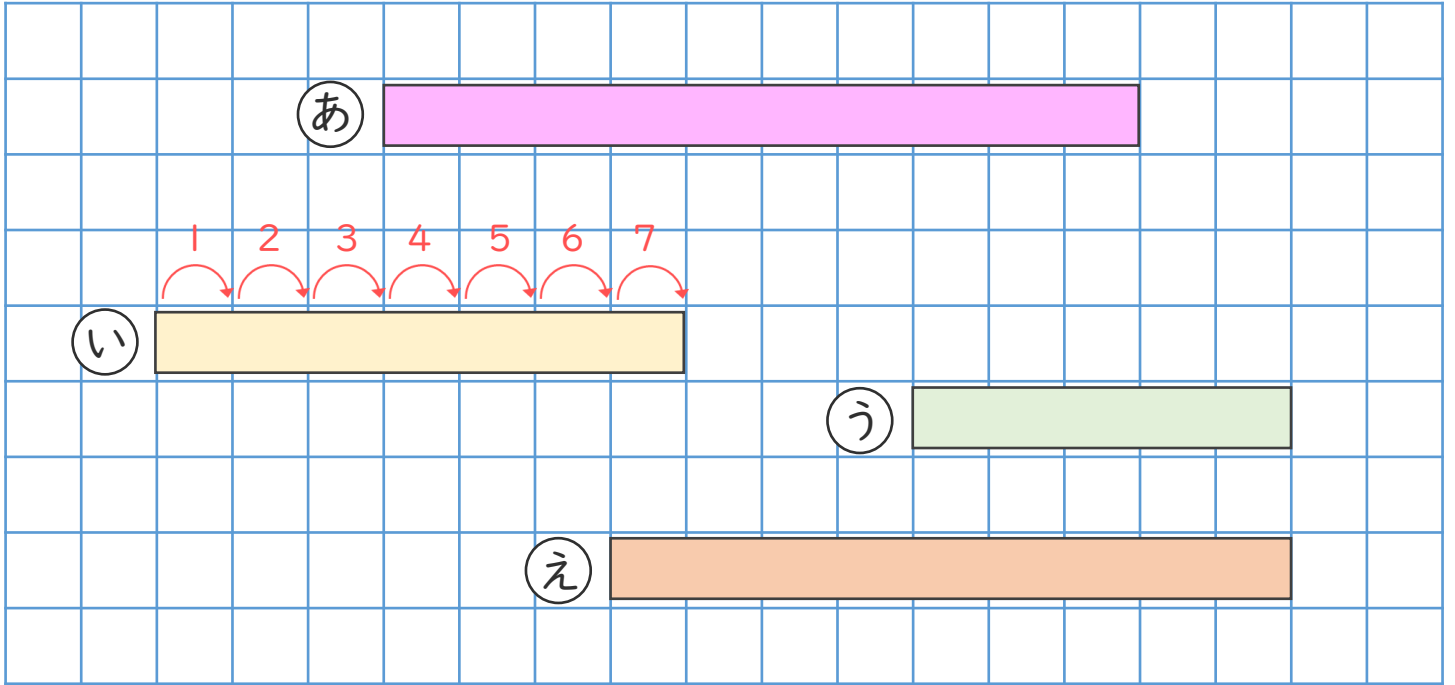
● ますめをつかって  
ながさをくらべよう



日にち：            月            日

名まえ \_\_\_\_\_

・ ながさをくらべます。(うすいじはなぞりましょう。)



① ① ①と①は、それぞれますのいくつぶんですか。

①... [            ] つぶん , ①... [            ] つぶん

② ①と①では、どちらがますのいくつぶんながいですか。

[            ] がますの [ 2 ] つぶんながい。

③ いちばんながいのは ①, ①, ①, ①のどれですか。

[            ]





# ながさくらべ 4

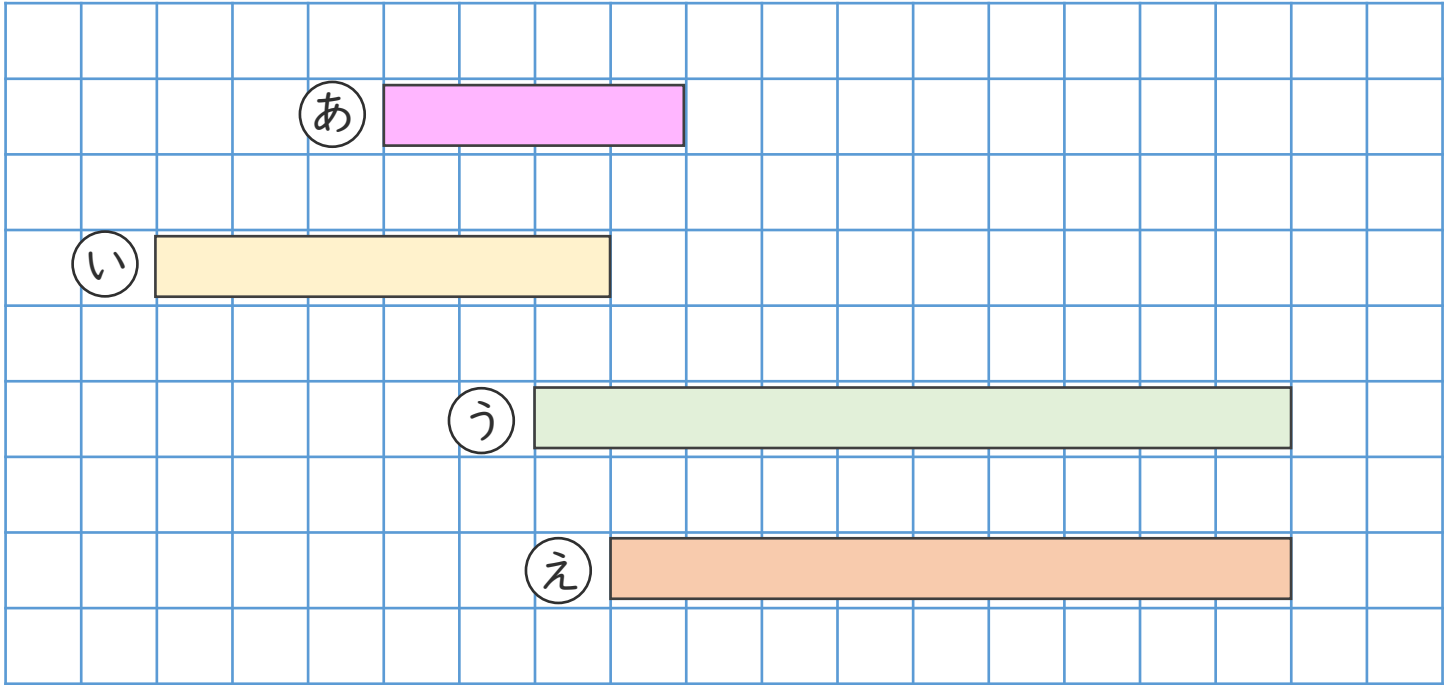
● ますめをつかって  
ながさをくらべよう



日にち：            月            日

名まえ \_\_\_\_\_

・ ながさをくらべます。



① ① ①と②は、それぞれますのいくつぶんですか。

① … [            ] つぶん , ② … [            ] つぶん

② ①と②では、どちらがますのいくつぶんながいですか。

[            ] がますの [            ] つぶんながい。

③ いちばんながいのは ①, ②, ③, ④のどれですか。

[            ]







# ながさくらべ 4

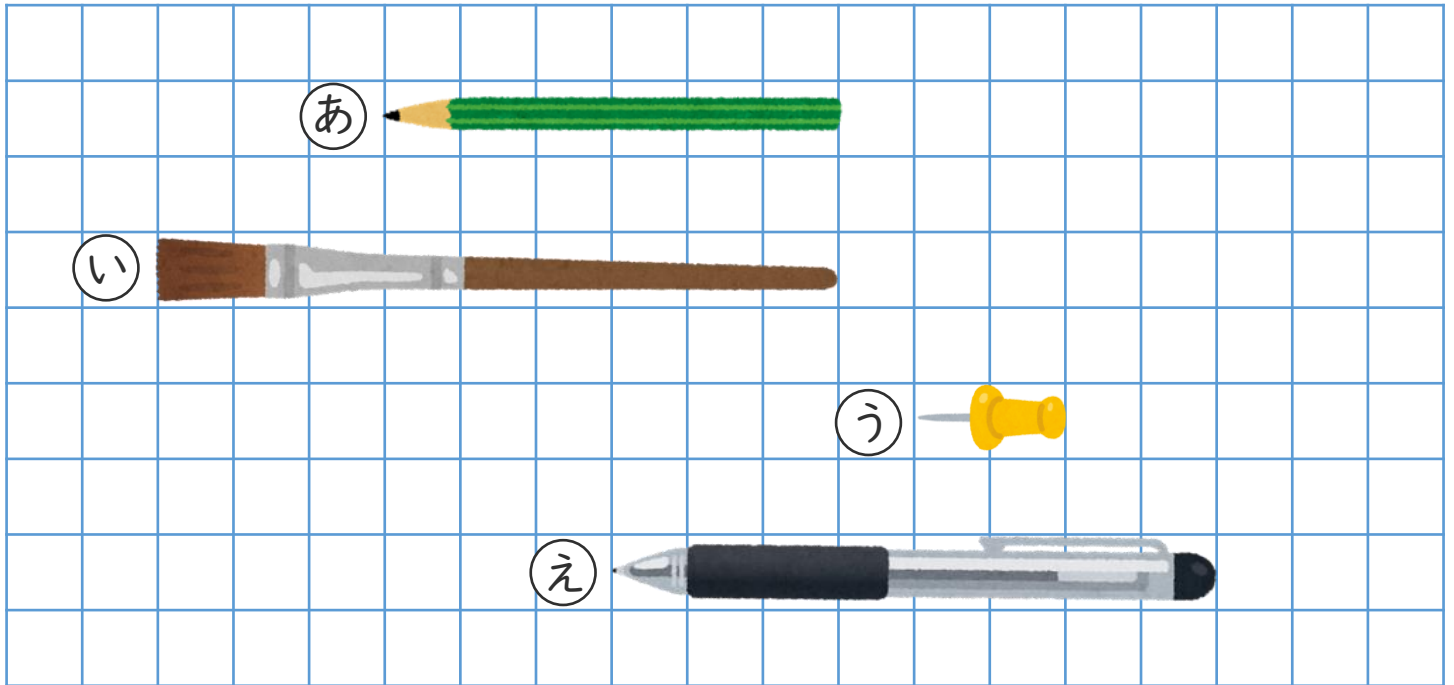
● ますめをつかって  
ながさをくらべよう



日にち：            月            日

名まえ \_\_\_\_\_

・ ながさをくらべます。



① ① ①と②は、それぞれますのいくつぶんですか。

① ... [            ] ぶん , ② ... [            ] ぶん

② ①と②では、どちらがますのいくつぶんながいですか。

[            ] がますの [            ] ぶんながい。

③ いちばんながいのは ①, ②, ③, ④のどれですか。

[            ]



# ながさくらべ 4

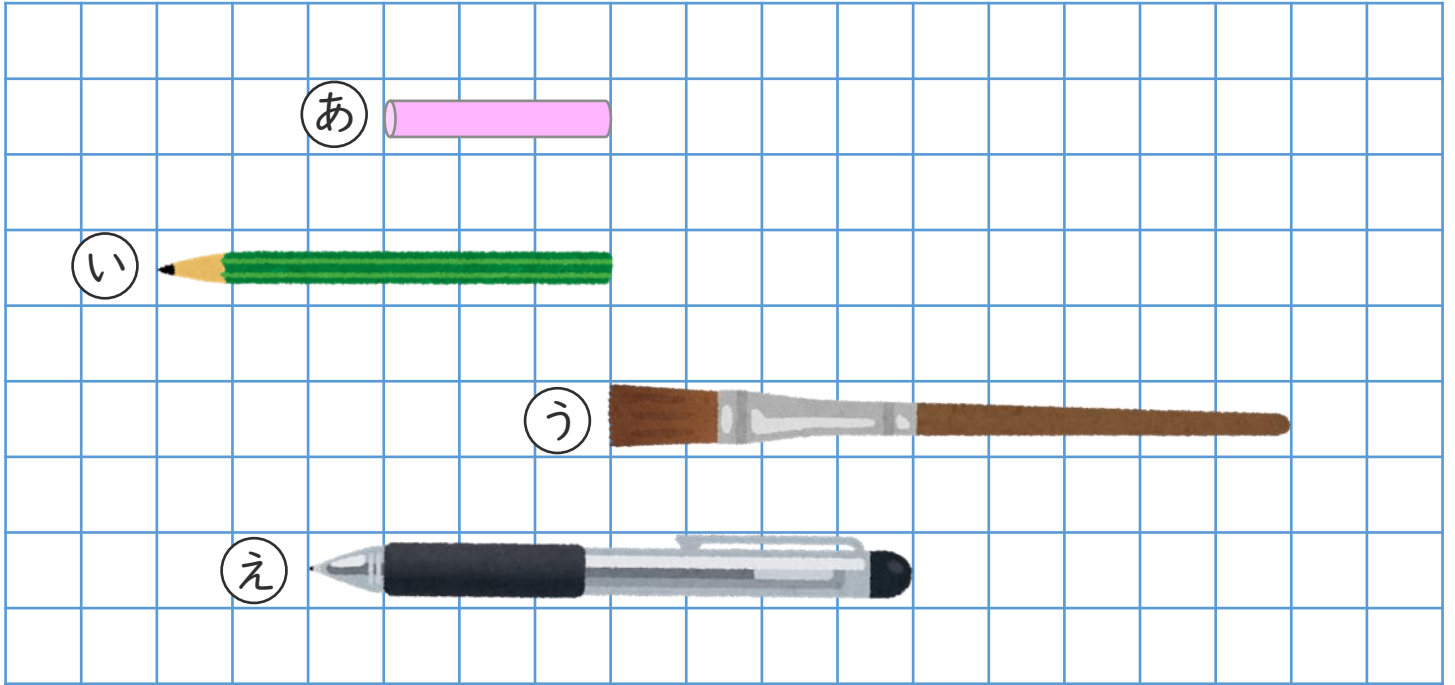
● ますめをつかって  
ながさをくらべよう



日にち：      月      日

名まえ \_\_\_\_\_

・ ながさをくらべます。



① あとえは、それぞれますのいくつぶんですか。

あ…〔 〕つぶん , え…〔 〕つぶん

② あとえでは、どちらがますのいくつぶんながいですか。

〔 〕がますの〔 〕つぶんながい。

③ いちばんながいのは あ, い, う, えのどれですか。

〔 〕







# ながさくらべ 4

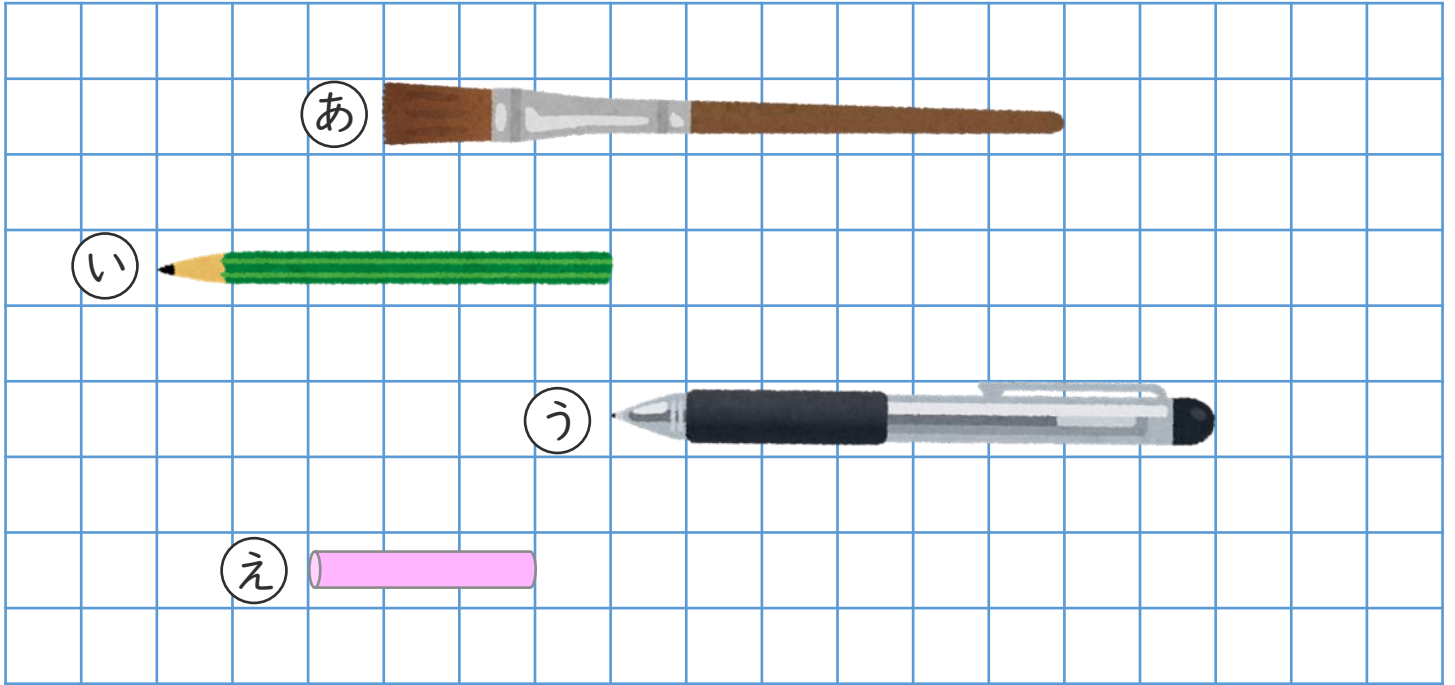
● ますめをつかって  
ながさをくらべよう



日にち：            月            日

名まえ \_\_\_\_\_

・ ながさをくらべます。



① ① ①と①は、それぞれますのいくつぶんですか。

① … [            ] つぶん , ① … [            ] つぶん

② ①と①では、どちらがますのいくつぶんながいですか。

[            ] がますの [            ] つぶんながい。

③ いちばんながいのは ①, ①, ①, ①のどれですか。

[            ]





# ながさくらべ 4

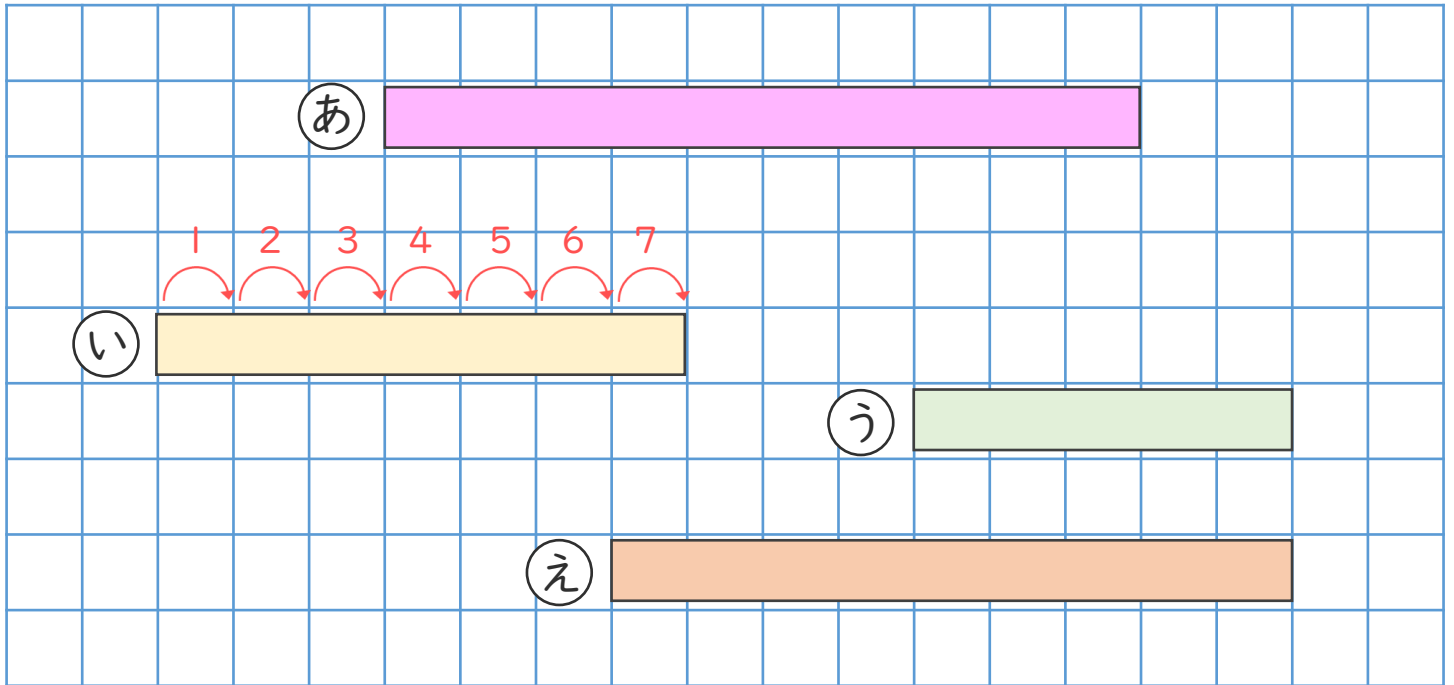
● ますめをつかって  
ながさをくらべよう



日にち：            月            日

名まえ \_\_\_\_\_

- ・ ながさをくらべます。（うすいじはなぞりましょう。）



- ① (い) と (う) は、それぞれ ますの いくつぶん ですか。

(い) ... [ 7 ] つぶん , (う) ... [ 5 ] つぶん

- ② (い) と (う) では、どちらが ますの いくつぶん ながい ですか。

[ (い) ] が ますの [ 2 ] つぶん ながい。

- ③ いちばん ながいのは (あ), (い), (う), (え) の どれ ですか。

[ (あ) ]







## ながさくらべ 4

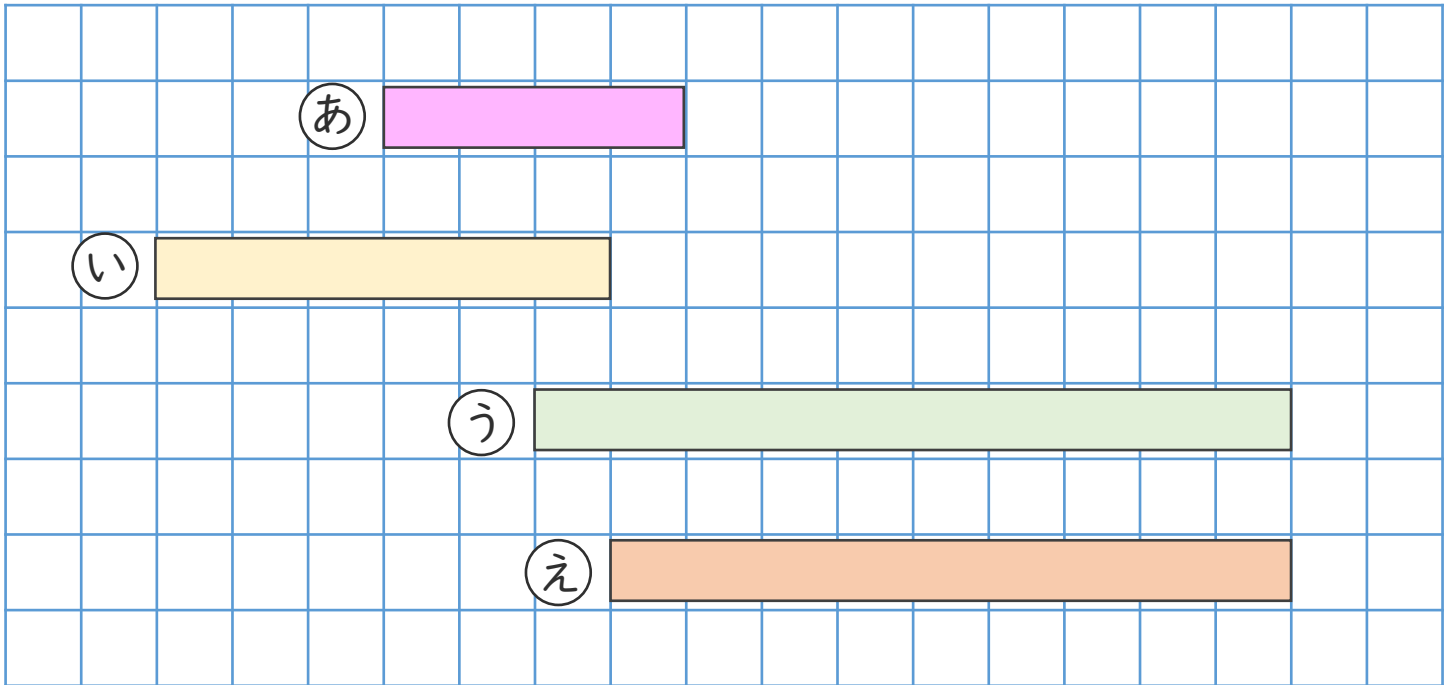
● ますめをつかって  
ながさをくらべよう



日にち：            月            日

名まえ \_\_\_\_\_

- ・ ながさをくらべます。



① ① ①と①えは、それぞれますのいくつぶんですか。

①い …〔 6 〕つぶん , ①え …〔 9 〕つぶん

② ①いと①えでは、どちらがますのいくつぶんながいですか。

〔 ①え 〕がますの〔 3 〕つぶんながい。

③ いちばんながいのは ①あ, ①い, ①う, ①えのどれですか。

〔 ①う 〕









## ながさくらべ 4

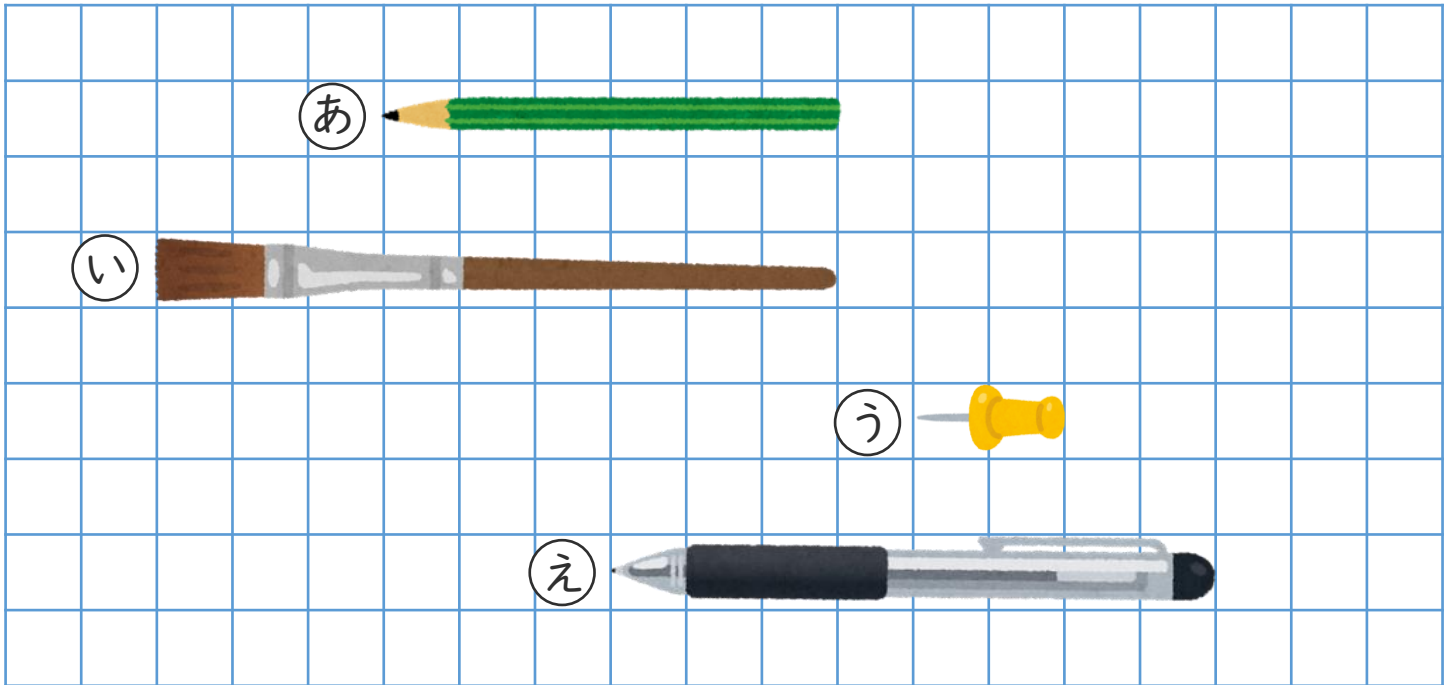
● ますめをつかって  
ながさをくらべよう



日にち：      月      日

名まえ \_\_\_\_\_

・ ながさをくらべます。



① ① ①と①は、それぞれますのいくつぶんですか。

① ... [ 9 ] つぶん , ① ... [ 8 ] つぶん

② ①と①では、どちらがますのいくつぶんながいですか。

[ ① ] がますの [ 1 ] つぶんながい。

③ いちばんながいのは ①, ①, ①, ①のどれですか。

[ ① ]







