



のこりはいくつ！

● えをみてかんがえよう




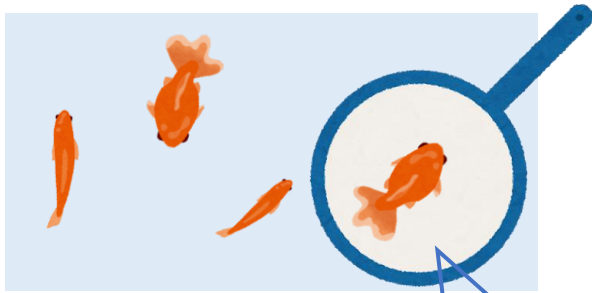
日にち： 月 日

名まえ \_\_\_\_\_

・ きんぎょがいます。すくうとのこりはなんびきでしょう。

(うすいじはなぞりましょう。)

①




4 ひき  
いる

1 ひき  
すくう

3 ひき  
のこり

②



ひき  
いる

ひき  
すくう

ひき  
のこり





のこりはいくつ！

● えをみてかんがえよう

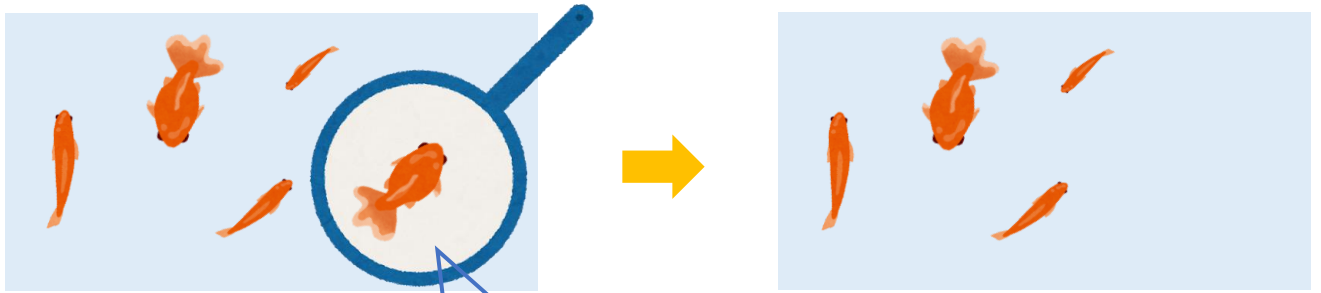
2

日にち： 月 日

名まえ \_\_\_\_\_

- きんぎょがいます。すくうとのこりはなんびきでしょう。  
(うすいじはなぞりましょう。)

①

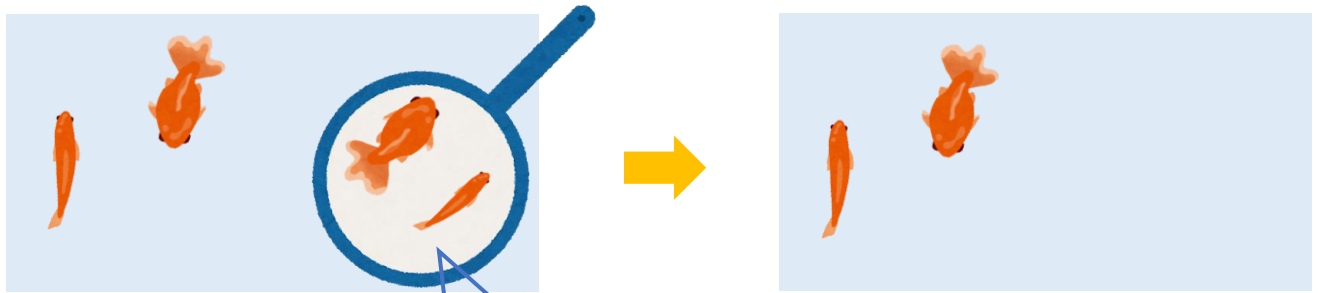


5 ひき  
いる

1 ひき  
すくう

ひき  
のこり

②



4 ひき  
いる

ひき  
すくう

ひき  
のこり





のこりはいくつ！

● えをみてかんがえよう


3

日にち：            月            日

名まえ \_\_\_\_\_

- きんぎょがいます。すくうとのこりはなんびきでしょう。  
(うすいじはなぞりましょう。)

①




6    びき  
いる

びき  
すくう

びき  
のこり

②



4    びき  
いる

びき  
すくう

びき  
のこり





のこりはいくつ！

● えをみてかんがえよう

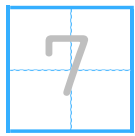


4

日にち： 月 日

名まえ \_\_\_\_\_


- ・ きんぎょがいます。すくうとのこりはなんびきでしょう。  
(うすいじはなぞりましょう。)

①



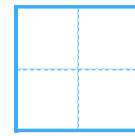
ひき

いる



びき

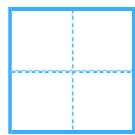


すくう



ひき

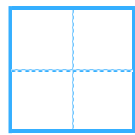
のこり

②



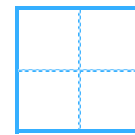
ひき

いる



ひき

すくう



びき

のこり





のこりはいくつ！

● えをみてかんがえよう

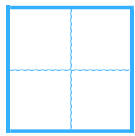


5

日にち： 月 日

名まえ \_\_\_\_\_


・ きんぎょがいます。すくうとのこりはなんびきでしょう。

①



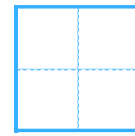
ひき

いる



ひき

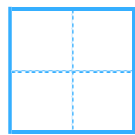


すくう



びき

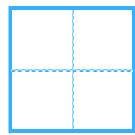
のこり

②



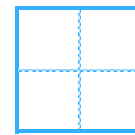
ひき

いる



びき

すくう



ひき

のこり





のこりはいくつ！

● えをみてかんがえよう

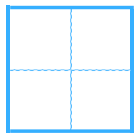


6

日にち： 月 日

名まえ \_\_\_\_\_


・ きんぎょがいます。すくうとのこりはなんびきでしょう。

①



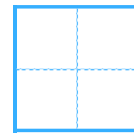
ぴき

いる



ぴき

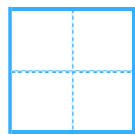
すくう



ぴき

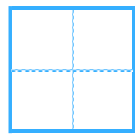
のこり

②



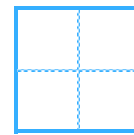
ぴき

いる



ひき

すくう



ぴき

のこり





のこりはいくつ！

● えをみてかんがえよう

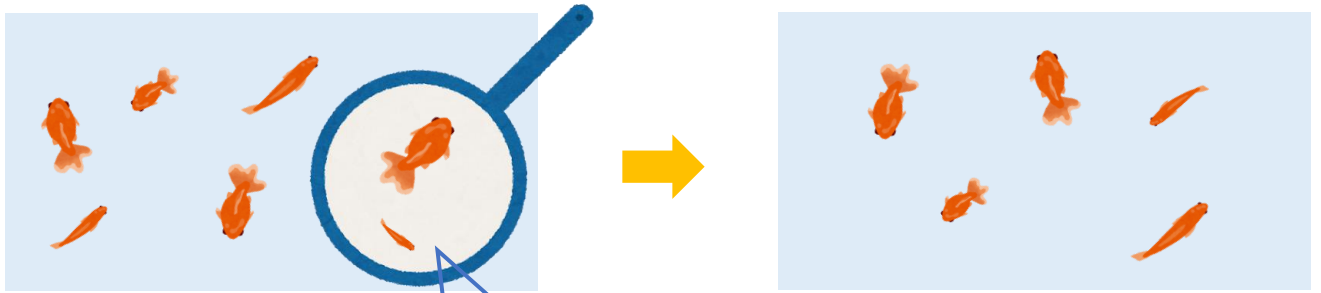


日にち： 月 日

名まえ \_\_\_\_\_

・ きんぎょがいます。すくうとのこりはなんびきでしょう。

①




ひき

いる

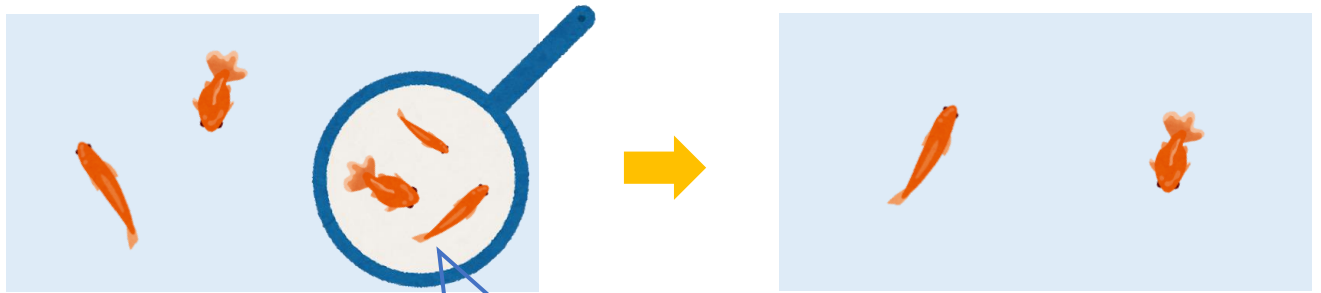

ひき

すくう


ひき

のこり

②




ひき

いる


びき

すくう


ひき

のこり



のこりはいくつ！

えをみてかんがえよう

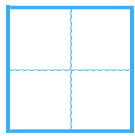
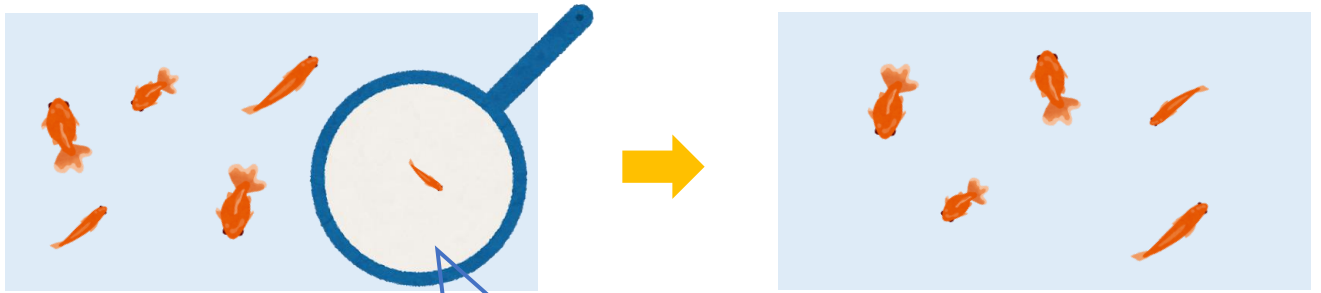


日にち： 月 日

名まえ \_\_\_\_\_


・ きんぎょがいます。すくうとのこりはなんびきでしょう。

①



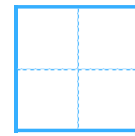
ぴき

いる



ぴき

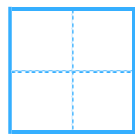
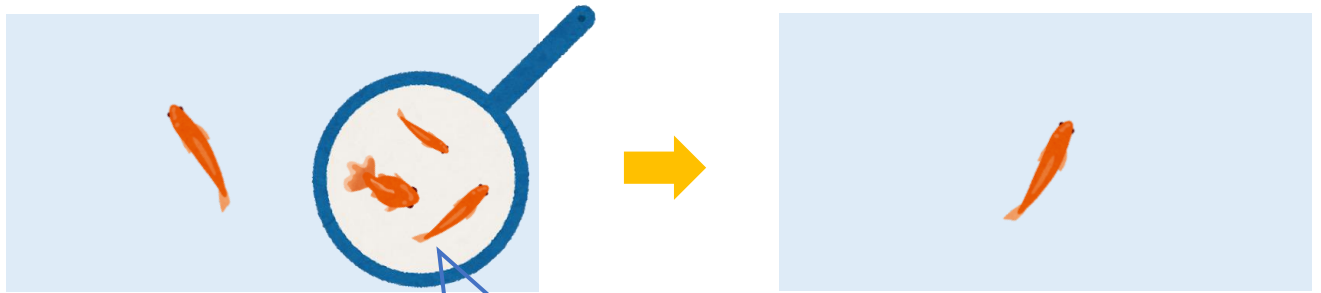
すくう



ひき

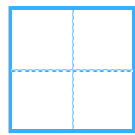
のこり

②



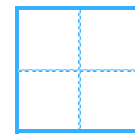
ひき

いる



びき

すくう



ぴき

のこり







のこりはいくつ！

● えをみてかんがえよう

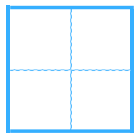


9

日にち： 月 日

名まえ \_\_\_\_\_


・ きんぎょがいます。すくうとのこりはなんびきでしょう。

①



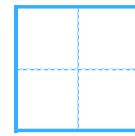
ひき

いる



ひき

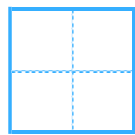
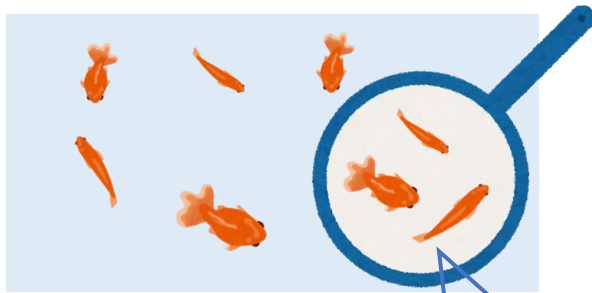
すくう



びき

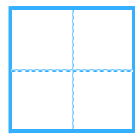
のこり

②



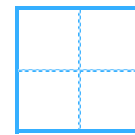
びき

いる



びき

すくう



ひき

のこり





のこりはいくつ！

● えをみてかんがえよう




日にち： 月 日

名まえ \_\_\_\_\_

- きんぎょがいます。すくうとのこりはなんびきでしょう。  
(うすいじはなぞりましょう。)

①




4 ひき  
いる

1 ひき  
すくう

3 ひき  
のこり

②



6 ひき  
いる

2 ひき  
すくう

4 ひき  
のこり





のこりはいくつ！

● えをみてかんがえよう

2



日にち： 月 日

名まえ \_\_\_\_\_

・ きんぎょがいます。すくうとのこりはなんびきでしょう。

(うすいじはなぞりましょう。)

①



5 ひき

いる



1 ひき

すくう

4 ひき

のこり

②



4 ひき

いる

2 ひき

すくう

2 ひき

のこり





のこりはいくつ！

● えをみてかんがえよう



3

日にち： 月 日

名まえ \_\_\_\_\_

- きんぎょがいます。すくうとのこりはなんびきでしょう。  
(うすいじはなぞりましょう。)

①





6 びき  
いる

3 びき  
すくう

3 びき  
のこり

②



4 びき  
いる

1 びき  
すくう

3 びき  
のこり

③ 確認 答え



すらすらぷりんと



のこりはいくつ！

● えをみてかんがえよう

4



日にち： 月 日

名まえ \_\_\_\_\_

・ きんぎょがいます。すくうとのこりはなんびきでしょう。

(うすいじはなぞりましょう。)

①



7 ひき

いる



3 びき

すくう

4 ひき

のこり

②



5 ひき

いる

2 ひき

すくう

3 びき

のこり





のこりはいくつ！

● えをみてかんがえよう


5

日にち： 月 日

名まえ \_\_\_\_\_

・ きんぎょがいます。すくうとのこりはなんびきでしょう。

①




5 ひき  
いる

2 ひき  
すくう

3 びき  
のこり

②



7 ひき  
いる

3 びき  
すくう

4 ひき  
のこり





のこりはいくつ！

● えをみてかんがえよう


6

日にち： 月 日

名まえ \_\_\_\_\_

・ きんぎょがいます。すくうとのこりはなんびきでしょう。

①



6 ぴき  
いる

3 ぴき  
すくう

3 ぴき  
のこり

②



8 ぴき  
いる

2 ぴき  
すくう

6 ぴき  
のこり





のこりはいくつ！

● えをみてかんがえよう





日にち：            月            日

名まえ \_\_\_\_\_

・ きんぎょがいます。すくうとのこりはなんびきでしょう。

①

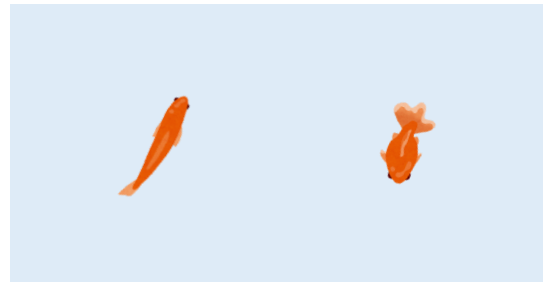



7 ひき  
いる

2 ひき  
すくう

5 ひき  
のこり

②



5 ひき  
いる

3 ひき  
すくう

2 ひき  
のこり







のこりはいくつ！

● えをみてかんがえよう




日にち： 月 日

名まえ \_\_\_\_\_

・ きんぎょがいます。すくうとのこりはなんびきでしょう。

①

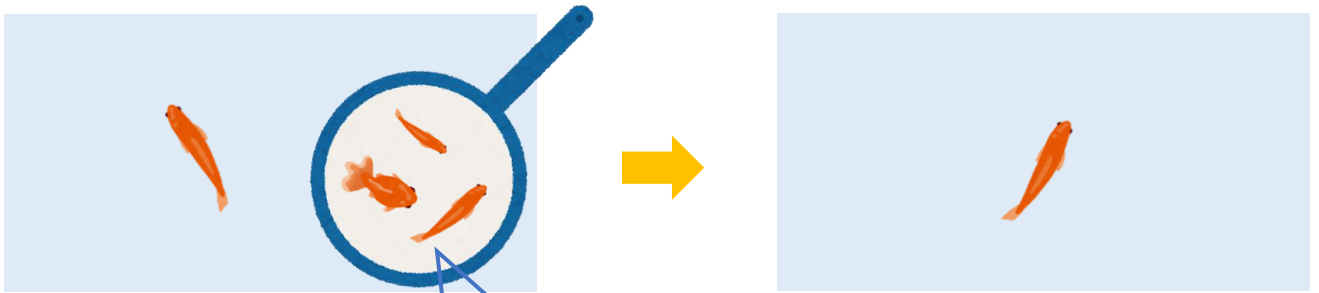


6 びき  
いる

1 びき  
すくう

5 ひき  
のこり

②



4 ひき  
いる

3 びき  
すくう

1 びき  
のこり





のこりはいくつ！

● えをみてかんがえよう



9

日にち： 月 日

名まえ \_\_\_\_\_

・ きんぎょがいます。すくうとのこりはなんびきでしょう。

①

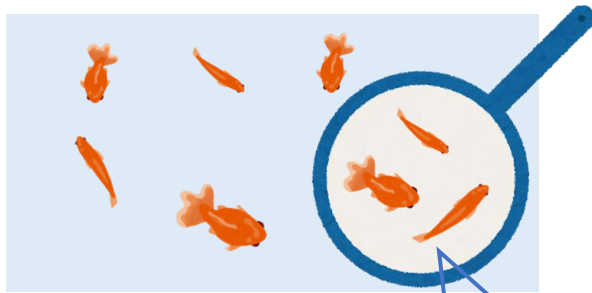


5 ひき  
いる

2 ひき  
すくう

3 びき  
のこり

②



8 びき  
いる

3 びき  
すくう

5 ひき  
のこり

