



のこりはいくつ 10

◎ 0のひきざん



日にち： 月 日

名まえ \_\_\_\_\_

・ かあどを 3まいもっています。

のこりの かあどは なんまいですか。(うすいじはなぞりましょう。)

① 1まいだと



$$3 - 1 = \boxed{2}$$

② 2まいだと



$$3 - 2 = \boxed{\quad}$$

③ 3まいだと



$$3 - 3 = \boxed{0}$$

④ 1まいも ださないと



$$3 - 0 = \boxed{3}$$



のこりはいくつ 10

◎ 0のひきざん

2

日にち：            月            日

名まえ \_\_\_\_\_

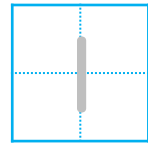
・ かあどを 3まい もっています。

のこりの かあどは なんまいですか。(うすいじはなぞりましょう。)

① 2まい だすと



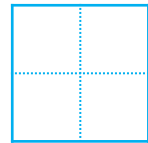
$$3 - 2 =$$



② 3まい だすと



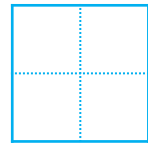
$$3 - 3 =$$




③ 1まいも ださないと



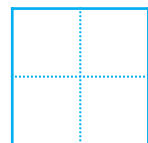
$$3 - 0 =$$



④ 1まい だすと



$$3 - 1 =$$





のこりはいくつ 10

◎ 0のひきざん


3

日にち： 月 日

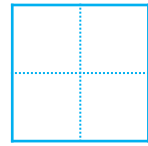
名まえ \_\_\_\_\_

- ・ かあどを 4まいもっています。  
のこりの かあどは なんまいですか。

① 3まいだと



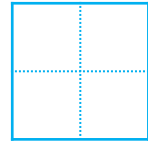
$$4 - 3 =$$



② 4まいだと



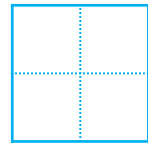
$$4 - 4 =$$



③ 1まいも ださないと



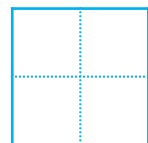
$$4 - 0 =$$



④ 2まいだと



$$4 - 2 =$$





のこりはいくつ 10

◎ 0のひきざん

4

日にち： 月 日

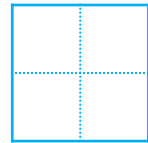
名まえ \_\_\_\_\_

- ・ かあどを 4まい もっています。  
のこりの かあどは なんまいですか。

① 1まいも ださないと



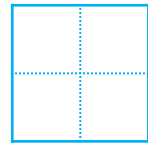
$$4 - 0 =$$



② 1まい だすと



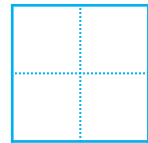
$$4 - 1 =$$



③ 4まい だすと



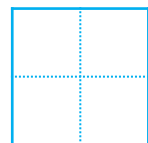
$$4 - 4 =$$



④ 3まい だすと



$$4 - 3 =$$





のこりはいくつ 10



● 0のひきざん

日にち：            月            日

名まえ \_\_\_\_\_

- ・ ひきざんをしましょう。(うすいじはなぞりましょう。)

①  $5 - 0 =$

②  $0 - 0 =$

③  $4 - 4 =$

④  $3 - 0 =$

⑤  $6 - 6 =$



のこりはいくつ 10



● 0のひきざん

日にち：            月            日

名まえ \_\_\_\_\_

・ ひきざんをしましょう。(うすいじはなぞりましょう。)

①  $4 - 0 =$

②  $1 - 0 =$

③  $3 - 3 =$

④  $2 - 0 =$

⑤  $5 - 5 =$



のこりはいくつ 10

7

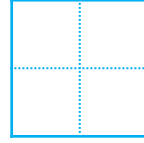
● 0のひきざん

日にち：      月      日

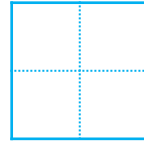
名まえ \_\_\_\_\_

・ ひきざんをしましょう。

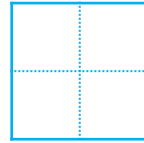
①  $3 - 0 =$



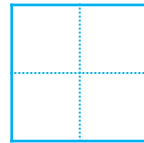
②  $0 - 0 =$



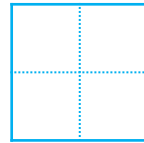
③  $2 - 2 =$



④  $1 - 0 =$



⑤  $4 - 4 =$





のこりはいくつ 10



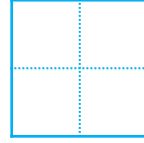
● 0のひきざん

日にち：            月            日

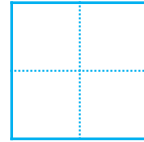
名まえ \_\_\_\_\_

・ ひきざんをしましょう。

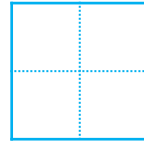
①  $2 - 0 =$



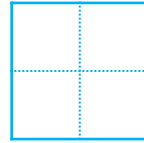
②  $5 - 5 =$



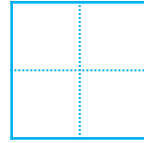
③  $1 - 0 =$



④  $4 - 4 =$



⑤  $3 - 0 =$







のこりはいくつ 10



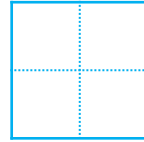
● 0のひきざん

日にち：            月            日

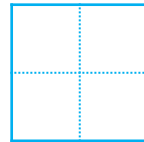
名まえ \_\_\_\_\_

・ ひきざんをしましょう。

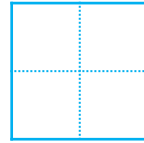
①  $1 - 0 =$



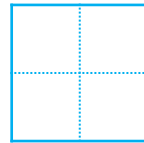
②  $6 - 6 =$



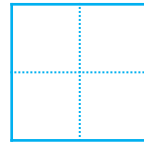
③  $2 - 0 =$



④  $3 - 3 =$



⑤  $5 - 0 =$





のこりはいくつ 10

● 0のひきざん

10

日にち：            月            日

名まえ \_\_\_\_\_

・ ひきざんをしましょう。

①  $10 - 6 =$

②  $8 - 0 =$

③  $6 - 1 =$

④  $4 - 4 =$

⑤  $5 - 2 =$

⑥  $0 - 0 =$



のこりはいくつ 10

● 0のひきざん

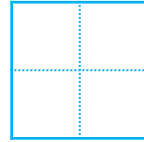


日にち：          月          日

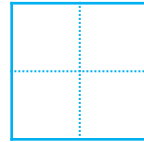
名まえ \_\_\_\_\_

・ ひきざんをしましょう。

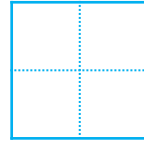
①  $9 - 3 =$



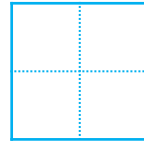
②  $7 - 0 =$



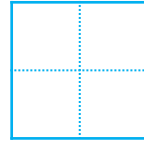
③  $5 - 2 =$



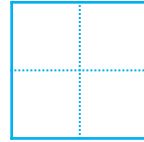
④  $3 - 3 =$



⑤  $4 - 1 =$



⑥  $6 - 6 =$





のこりはいくつ 10

12

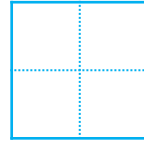
● 0のひきざん

日にち：            月            日

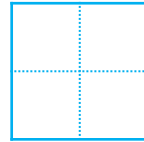
名まえ \_\_\_\_\_

・ ひきざんをしましょう。

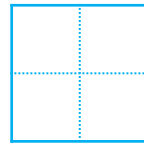
①  $8 - 4 =$



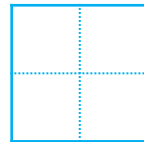
②  $6 - 0 =$



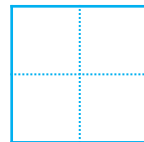
③  $10 - 3 =$



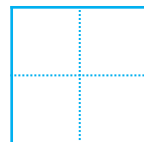
④  $2 - 2 =$



⑤  $7 - 2 =$



⑥  $5 - 5 =$





のこりはいくつ 10

13

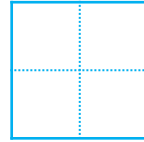
● 0のひきざん

日にち： 月 日

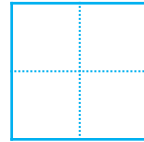
名まえ \_\_\_\_\_

・ ひきざんをしましょう。

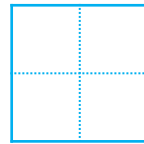
①  $7 - 5 =$



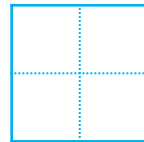
②  $5 - 0 =$



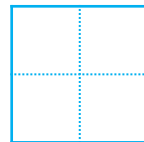
③  $8 - 2 =$



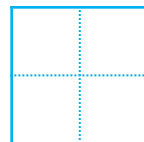
④  $3 - 3 =$



⑤  $6 - 5 =$



⑥  $4 - 4 =$





のこりはいくつ 10

● 0のひきざん

14

日にち：            月            日

名まえ \_\_\_\_\_

・ ひきざんをしましょう。

①  $8 - 4 =$

②  $4 - 0 =$

③  $10 - 7 =$

④  $2 - 2 =$

⑤  $5 - 1 =$

⑥  $3 - 3 =$




のこりはいくつ 10

15

◎ 0のひきざん

めざせ80てん!



名まえ \_\_\_\_\_

・ ひきざんをしましょう。(各20点)

①  $10 - 8 =$

②  $7 - 3 =$

③  $3 - 0 =$

④  $0 - 0 =$

⑤  $4 - 4 =$




のこりはいくつ 10

16

◎ 0のひきざん


めざせ80てん!



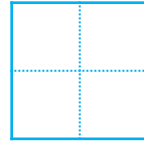
名まえ \_\_\_\_\_

・ ひきざんをしましょう。(各20点)

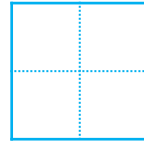
①  $10 - 4 =$



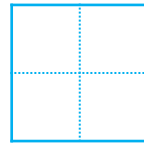
②  $5 - 5 =$



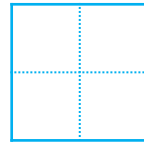
③  $4 - 0 =$



④  $8 - 6 =$



⑤  $3 - 3 =$







のこりはいくつ 10

◎ 0のひきざん



日にち：            月            日

名まえ \_\_\_\_\_

・ かあどを 3まい もっています。

のこりの かあどは なんまいですか。(うすいじはなぞりましょう。)

① 1まい だすと



$$3 - 1 = \boxed{2}$$

② 2まい だすと



$$3 - 2 = \boxed{1}$$

③ 3まい だすと



$$3 - 3 = \boxed{0}$$

④ 1まいも ださないと



$$3 - 0 = \boxed{3}$$





のこりはいくつ 10

◎ 0のひきざん

2

日にち：            月            日

名まえ \_\_\_\_\_

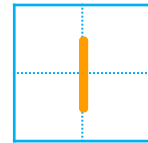
・ かあどを 3まい もっています。

のこりの かあどは なんまいですか。(うすいじはなぞりましょう。)

① 2まい だすと



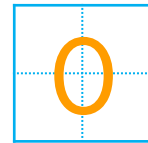
$$3 - 2 =$$



② 3まい だすと



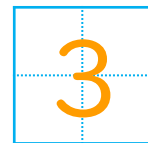
$$3 - 3 =$$




③ 1まいも ださないと



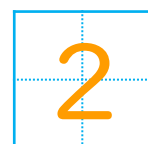
$$3 - 0 =$$



④ 1まい だすと



$$3 - 1 =$$





のこりはいくつ 10

◎ 0のひきざん


3

日にち：            月            日

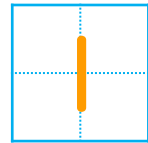
名まえ \_\_\_\_\_

- ・ かあどを 4まい もっています。  
のこりの かあどは なんまいですか。

① 3まい だと



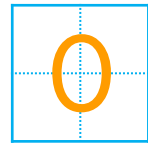
$$4 - 3 =$$



② 4まい だと



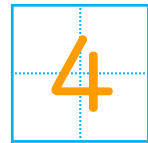
$$4 - 4 =$$




③ 1まいも ださないと



$$4 - 0 =$$



④ 2まい だと



$$4 - 2 =$$





のこりはいくつ 10

◎ 0のひきざん

4

日にち： 月 日

名まえ \_\_\_\_\_

- ・ かあどを 4まいもっています。  
のこりの かあどは なんまいですか。

① 1まいも ださないと



$$4 - 0 = 4$$

② 1まい だすと



$$4 - 1 = 3$$

③ 4まい だすと



$$4 - 4 = 0$$

④ 3まい だすと



$$4 - 3 = 1$$



のこりはいくつ 10

5

● 0のひきざん

日にち：            月            日

名まえ \_\_\_\_\_

・ ひきざんをしましょう。(うすいじはなぞりましょう。)

①  $5 - 0 =$  5

②  $0 - 0 =$  0

③  $4 - 4 =$  0

④  $3 - 0 =$  3

⑤  $6 - 6 =$  0



のこりはいくつ 10

6

● 0のひきざん

日にち：            月            日

名まえ \_\_\_\_\_

・ ひきざんをしましょう。(うすいじはなぞりましょう。)

①  $4 - 0 =$

②  $1 - 0 =$

③  $3 - 3 =$

④  $2 - 0 =$

⑤  $5 - 5 =$





のこりはいくつ 10

7

● 0のひきざん

日にち：      月      日

名まえ \_\_\_\_\_

・ ひきざんをしましょう。

①  $3 - 0 =$  

②  $0 - 0 =$  

③  $2 - 2 =$  

④  $1 - 0 =$  

⑤  $4 - 4 =$  



のこりはいくつ 10



● 0のひきざん

日にち：            月            日

名まえ \_\_\_\_\_

・ ひきざんをしましょう。

①  $2 - 0 =$  2

②  $5 - 5 =$  0

③  $1 - 0 =$  1

④  $4 - 4 =$  0

⑤  $3 - 0 =$  3





のこりはいくつ 10



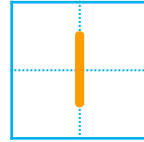
● 0のひきざん

日にち：            月            日

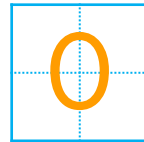
名まえ \_\_\_\_\_

・ ひきざんをしましょう。

①  $1 - 0 =$



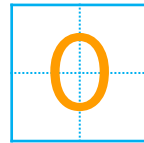
②  $6 - 6 =$



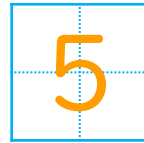
③  $2 - 0 =$



④  $3 - 3 =$



⑤  $5 - 0 =$





のこりはいくつ 10

● 0のひきざん

10

日にち：          月          日

名まえ \_\_\_\_\_

・ ひきざんをしましょう。

①  $10 - 6 =$

②  $8 - 0 =$

③  $6 - 1 =$

④  $4 - 4 =$

⑤  $5 - 2 =$

⑥  $0 - 0 =$





のこりはいくつ 10

● 0のひきざん



日にち：            月            日

名まえ \_\_\_\_\_

・ ひきざんをしましょう。

①  $9 - 3 =$

②  $7 - 0 =$

③  $5 - 2 =$

④  $3 - 3 =$

⑤  $4 - 1 =$

⑥  $6 - 6 =$





のこりはいくつ 10

● 0のひきざん

12

日にち：            月            日

名まえ \_\_\_\_\_

・ ひきざんをしましょう。

①  $8 - 4 =$

②  $6 - 0 =$

③  $10 - 3 =$

④  $2 - 2 =$

⑤  $7 - 2 =$

⑥  $5 - 5 =$



のこりはいくつ 10

13

● 0のひきざん

日にち： 月 日

名まえ \_\_\_\_\_

・ ひきざんをしましょう。

①  $7 - 5 =$

②  $5 - 0 =$

③  $8 - 2 =$

④  $3 - 3 =$

⑤  $6 - 5 =$

⑥  $4 - 4 =$





のこりはいくつ 10

● 0のひきざん

14

日にち：            月            日

名まえ \_\_\_\_\_

・ ひきざんをしましょう。

①  $8 - 4 =$

②  $4 - 0 =$

③  $10 - 7 =$

④  $2 - 2 =$

⑤  $5 - 1 =$

⑥  $3 - 3 =$




のこりはいくつ 10

15

● 0のひきざん

めざせ80てん!



名まえ \_\_\_\_\_

・ ひきざんをしましょう。(各20点)

①  $10 - 8 =$

②  $7 - 3 =$

③  $3 - 0 =$

④  $0 - 0 =$

⑤  $4 - 4 =$






のこりはいくつ 10

16

● 0のひきざん

めざせ80てん!



名まえ \_\_\_\_\_

・ ひきざんをしましょう。(各20点)

①  $10 - 4 =$

②  $5 - 5 =$

③  $4 - 0 =$

④  $8 - 6 =$

⑤  $3 - 3 =$