



のこりはいくつ 2



しきをつくろう



日にち： 月 日

名まえ _____

- とりが 5 羽とまっていた。3 羽とんでいきました。
のこりはなん羽でしょう。(うすいじはなぞりましょう。)



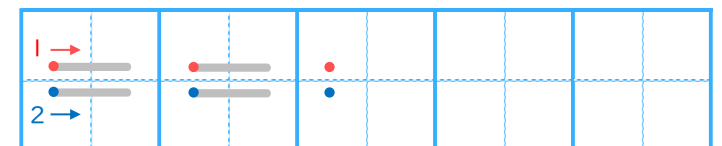
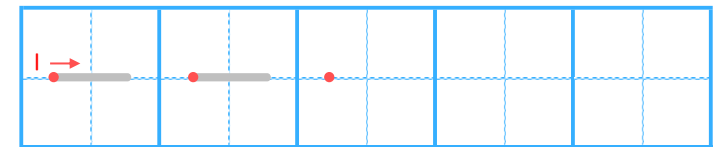
しき

	ひく		は	
5	—	3	=	2

こたえ

 わ

▼ れんしゅうしよう!




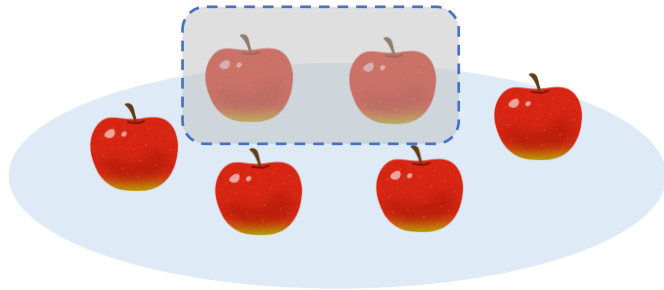


のこりはいくつ？ 2
 ● しきをつくろう

日にち： 月 日

名まえ _____

- りんごが 6 こ あります。2 こ たべました。
 のこりは なんこ でしょう。(うすいじは なぞり ましょう。)



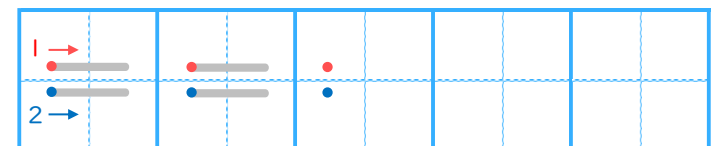
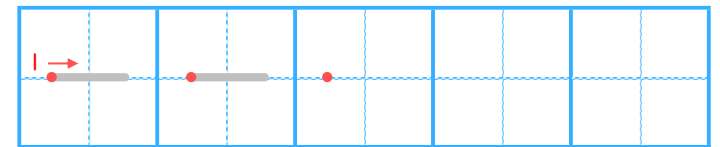
しき

	ひく		は			
6	—	2	=			

こたえ

 こ

▼ れんしゅう しよう！





のこりはいくつ 2

しきをつくろう




日にち： 月 日

名まえ _____

- はなが 7ほん あります。2ほん あげました。

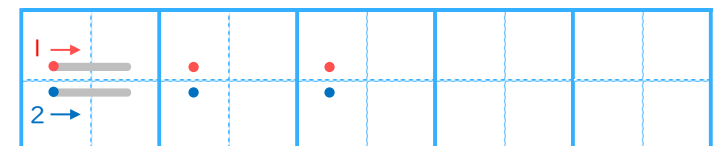
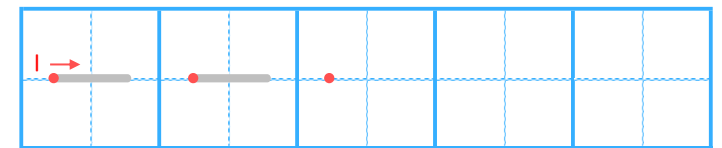
のこりは なんほん になりましたか。(うすいじはなぞりましょう。)



しき

		ひく		は			
7	—		=				

れんしゅうしよう!



こたえ

 ほん



のこりはいくつ？


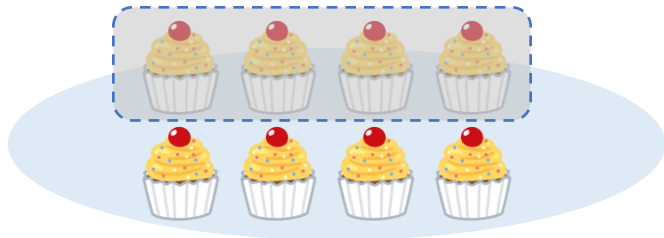
しきをつくろう

4

日にち： 月 日

名まえ _____

- けえきが 8 こ あります。4 こ たべました。
のこりは なんこ でしょう。(うすいじは なぞり ましょう。)



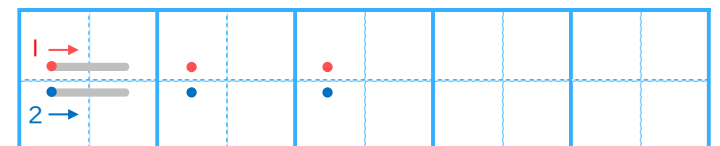
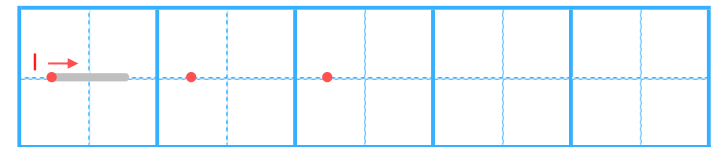
しき

	ひく		は				
8	—		=				

こたえ

 こ

▼ れんしゅう しよう！





のこりはいくつ 2

しきをつくろう

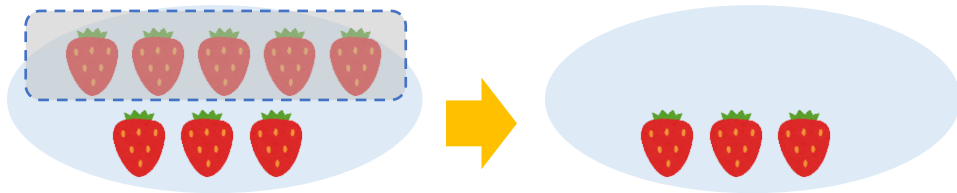


いちごが 8 こ あります。

5 こ たべました。

のこりは なんこ でしょう。

(うすいじは なぞり ましょう。)



しき

こたえ

こ

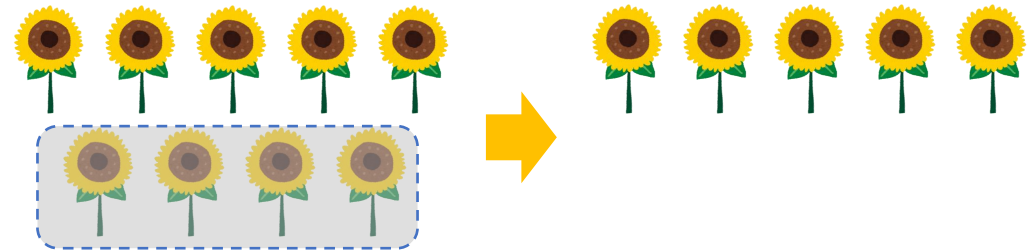
日にち： 月 日

名まえ

はなが 9 ほん あります。

4 ほん あげました。

のこりは なんほん になりましたか。



しき

こたえ

ほん





のこりはいくつ 2

しきをつくろう

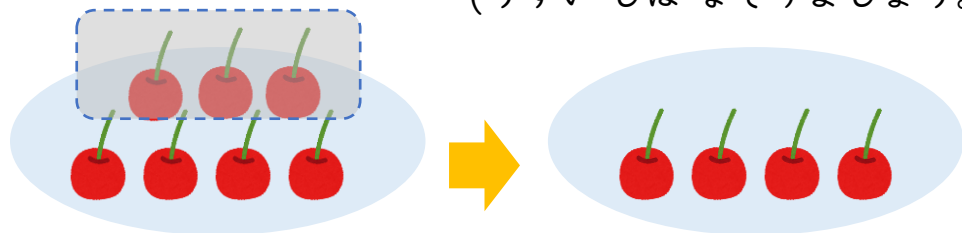


・ さくらんぼが 7 こ あります。

3 こ たべました。

のこりは なんこ でしょう。

(うすいじは なぞりましよう。)



しき

こたえ

こ

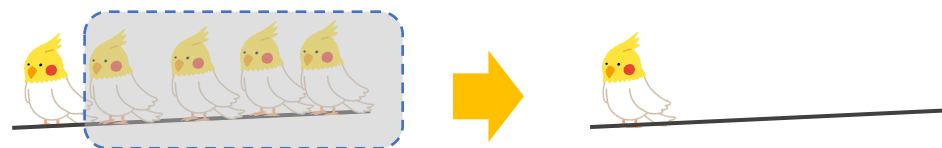
日にち： 月 日

名まえ

・ とりが 5 わ とまっていたいました。

4 わ とんでいきました。

のこりは なんわ でしょう。



しき

こたえ

わ






のこりはいくつ 2

しきをつくろう

7

- はなが 6 ぽん あります。
5 ぽん あげました。
のこりは なんぽん になりましたか。



しき

こたえ ぽん

日にち： 月 日

名まえ

- とりが 4 わ とまっていたいました。
2 わ とんでいきました。
のこりは なんわ でしょう。



しき

こたえ わ



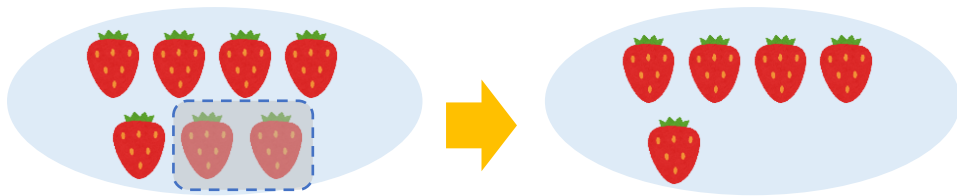


のこりはいくつ 2

しきをつくろう



- いちごが 7 こ あります。
2 こ たべました。
のこりは なんこ でしょう。



しき


こたえ

こ

日にち： 月 日

名まえ

- はなが 8 ぽん あります。
6 ぽん あげました。
のこりは なんぽん になりましたか。



しき

こたえ

ほん






のこりはいくつ 2

しきをつくろう



- はなが 5ほん あります。
1ほん あげました。
のこりは なんほん になりましたか。



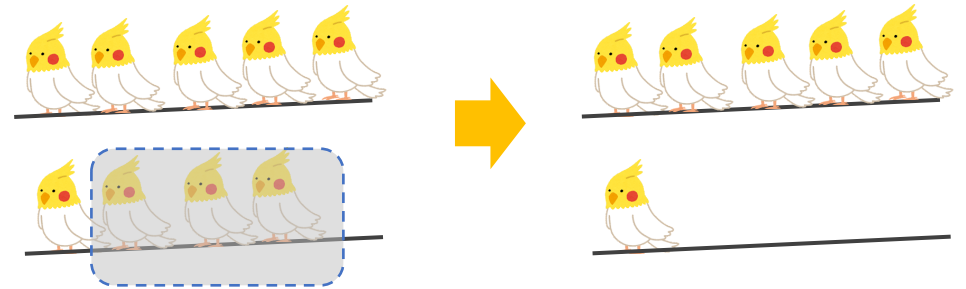
しき

こたえ ほん

日にち： 月 日

名まえ _____

- とりが 9わ とまっていたいました。
3わ とんでいきました。
のこりは なんわ でしょう。



しき

こたえ わ





のこりはいくつ？ 2

しきをつくろう





日にち： 月 日

名まえ _____

・ とりが 5 羽 とまっていたいました。 3 羽 とんでいきました。

のこりは なん羽 でしょう。(うすいじは なぞりましょう。)

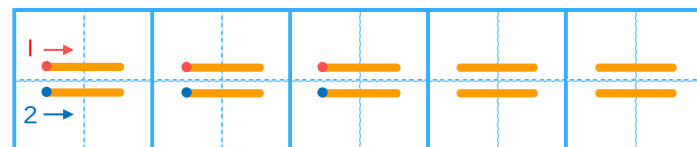
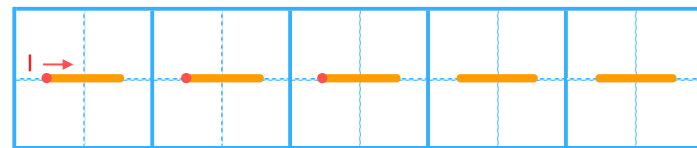


しき

	ひく		は	
5	—	3	=	2

こたえ 2 羽

▼ れんしゅうしよう！





のこりはいくつ？


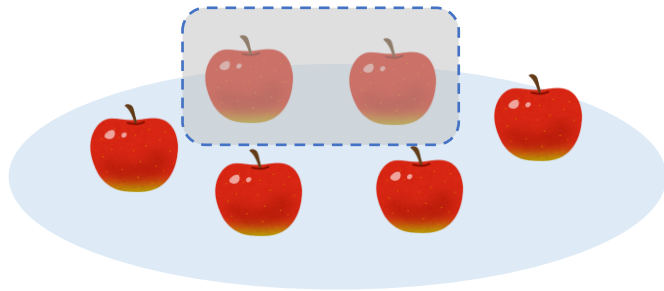
しきをつくろう



日にち： 月 日

名まえ _____

- りんごが6こあります。2こたべました。
のこりはなんこでしょう。(うすいじはなぞりましょう。)

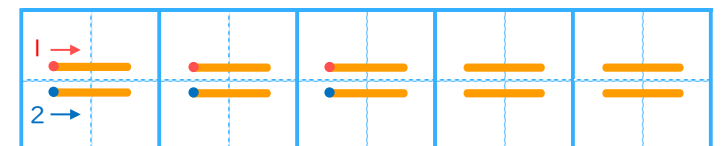
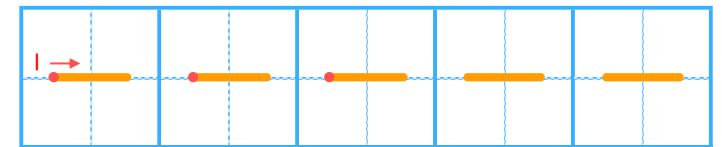


しき

	ひく		は	
6	-	2	=	4

こたえ 4 こ

▼ れんしゅうしよう！





のこりはいくつ 2

しきをつくろう




日にち： 月 日

名まえ _____

- はなが 7ほん あります。2ほん あげました。

のこりは なんぼん になりましたか。(うすいじはなぞりましょう。)



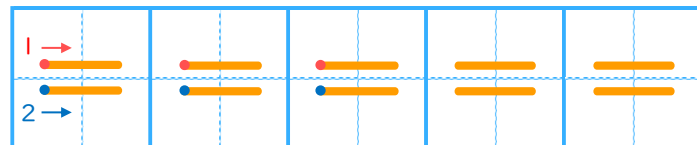
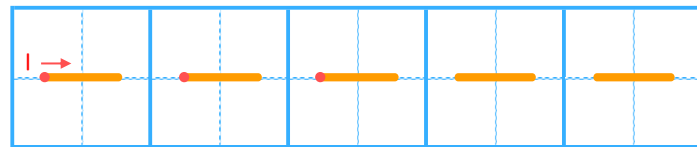
ひく

は

しき

7	-	2	=	5
---	---	---	---	---

れんしゅうしよう!



こたえ



ほん





のこりはいくつ？


しきをつくろう

4

日にち： 月 日

名まえ _____

- けえきが 8 こ あります。4 こ たべました。
のこりは なんこ でしょう。(うすいじは なぞり ましょう。)

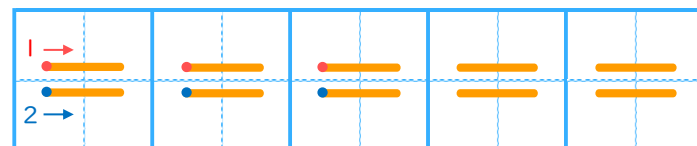
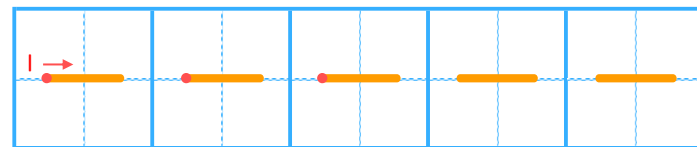


しき

	ひく		は	
8	-	4	=	4

こたえ 4 こ

▼ れんしゅう しよう！





のこりはいくつ 2

しきをつくろう

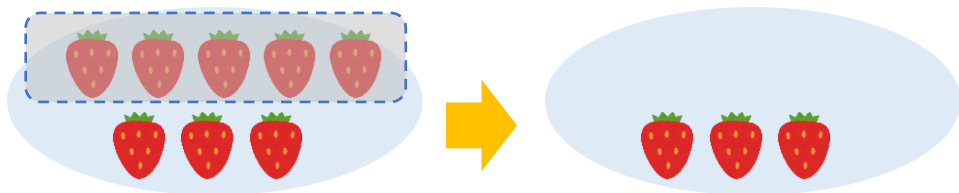


いちごが 8 こ あります。

5 こ たべました。

のこりは なんこ でしょう。

(うすいじは なぞり ましょう。)



しき

$$8 - 5 = 3$$

こたえ

3 こ


日にち： 月 日

名まえ

はなが 9 ほん あります。

4 ほん あげました。

のこりは なんほん になりましたか。



しき

$$9 - 4 = 5$$

こたえ

5 ほん





のこりはいくつ 2

しきをつくろう

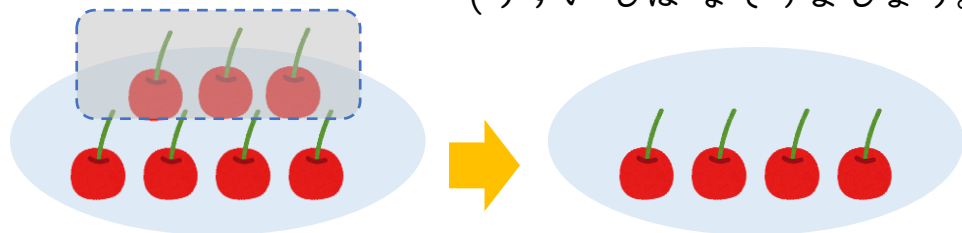


・ さくらんぼが 7 こ あります。

3 こ たべました。

のこりは なんこ でしょう。

(うすいじは なぞり ましょう。)



しき

$$7 - 3 = 4$$

こたえ



こ

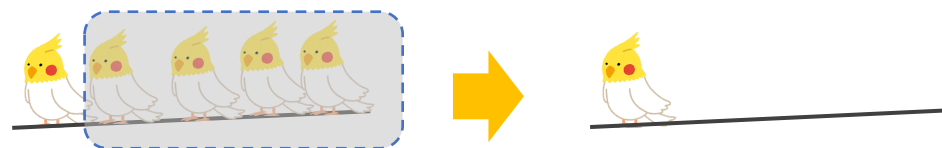
日にち： 月 日

名まえ

・ とりが 5 わ とまっていたいました。

4 わ とんでいきました。

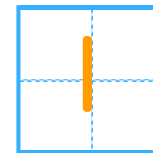
のこりは なんわ でしょう。



しき

$$5 - 4 = 1$$

こたえ



わ






のこりはいくつ 2

しきをつくろう

7

- はなが 6 ぽん あります。
5 ぽん あげました。
のこりは なんぽん になりましたか。



しき $6 - 5 = 1$

こたえ 1 ぽん

日にち： 月 日

名まえ

- とりが 4 わ とまっていたいました。
2 わ とんでいきました。
のこりは なんわ でしょう。



しき $4 - 2 = 2$

こたえ 2 わ



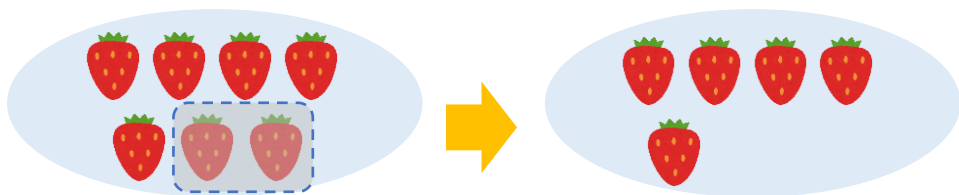


のこりはいくつ 2

しきをつくろう



- いちごが 7 こ あります。
2 こ たべました。
のこりは なんこ でしょう。




しき $7 - 2 = 5$

こたえ 5 こ

日にち： 月 日

名まえ

- はなが 8 ぽん あります。
6 ぽん あげました。
のこりは なんぽん になりましたか。



しき $8 - 6 = 2$

こたえ 2 ぽん




のこりはいくつ 2

しきをつくろう



- はなが 5ほん あります。
1ほん あげました。
のこりは なんほん になりましたか。



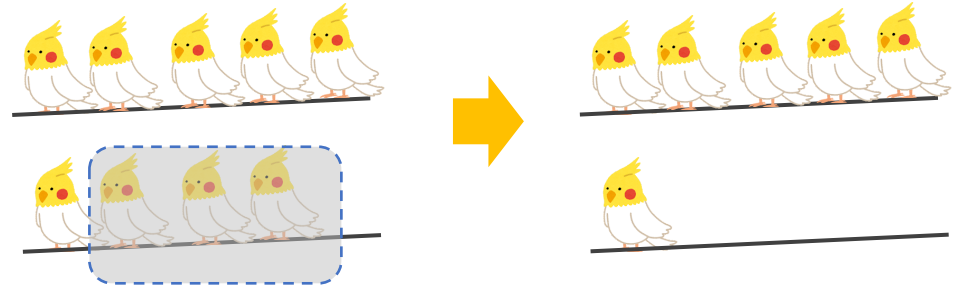
しき $5 - 1 = 4$

こたえ 4 ほん

日にち： 月 日

名まえ _____

- とりが 9わ とまっていたいました。
3わ とんでいきました。
のこりは なんわ でしょう。



しき $9 - 3 = 6$

こたえ 6 わ

