



のこりはいくつ？ 2

しきをつくろう





日にち： 月 日

名まえ _____

・ とりが 5 羽とまっていた。3 羽とんでいきました。

のこりはなん羽でしょう。(うすいじはなぞりましょう。)



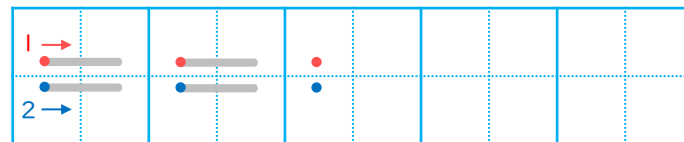
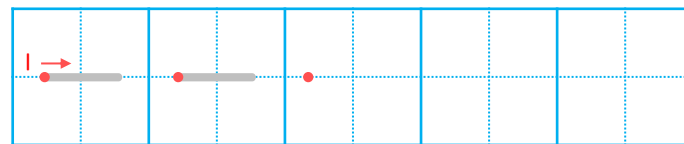
しき

	ひく		は	
5	—	3	=	2

こたえ

 わ

▼ れんしゅうしよう！



すらすらぷりんと


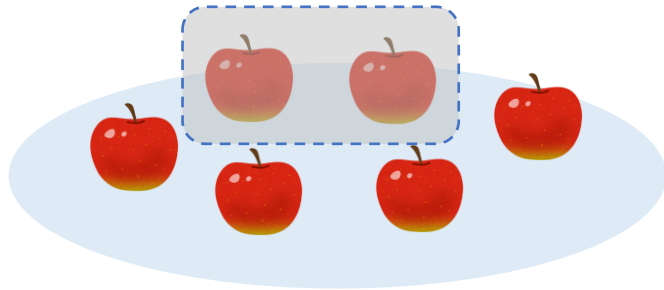


のこりはいくつ？ 2
 ● しきをつくろう

日にち： 月 日

名まえ _____

- りんごが 6 こ あります。2 こ たべました。
 のこりは なんこ でしょう。(うすいじは なぞり ましょう。)



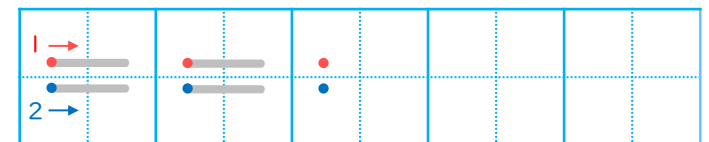
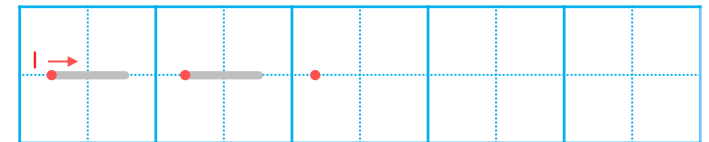
しき

	ひく		は			
6	—	2	=			

こたえ

 こ

▼ れんしゅうしよう！





のこりはいくつ 2

しきをつくろう




日にち： 月 日

名まえ _____

- はなが 7ほん あります。2ほん あげました。

のこりは なんほん になりましたか。(うすいじはなぞりましょう。)



しき

	ひく			は		
7	—			=		

れんしゅうしよう!

1 →						
—	.	.				

こたえ

 ほん

1 →						
2 →	—	.	.			
	—	.	.			



のこりはいくつ？

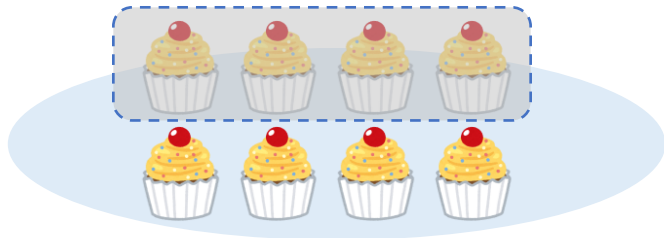
しきをつくろう

4

日にち： 月 日

名まえ _____

- けえきが 8 こ あります。4 こ たべました。
のこりは なんこ でしょう。(うすいじは なぞり ましょう。)



しき

		ひく			は		
		—			==		

こたえ

 こ

▼ れんしゅうしよう！

1 →							
—	•	•					

1 →							
—	•	•					
2 →	•	•					





のこりはいくつ 2

しきをつくろう

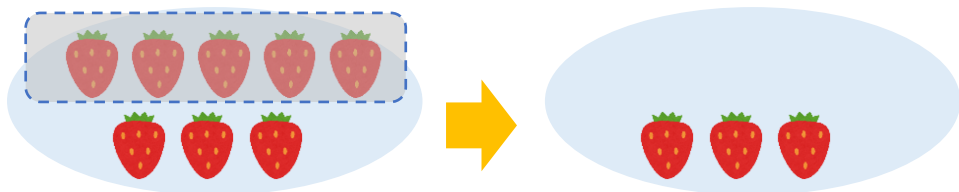


いちごが 8 こ あります。

5 こ たべました。

のこりは なんこ でしょう。

(うすいじは なぞり ましょう。)



しき

こたえ

こ


日にち： 月 日

名まえ

はなが 9ほん あります。

4ほん あげました。

のこりは なんほん になりましたか。



しき

こたえ

ほん

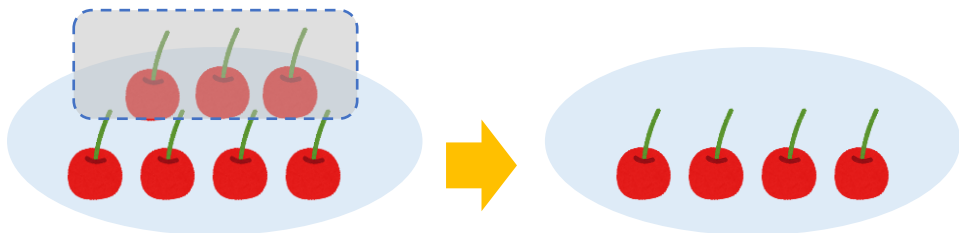


のこりはいくつ 2

しきをつくろう



- さくらんぼが 7 こ あります。
3 こ たべました。
のこりは なんこ でしょう。



しき

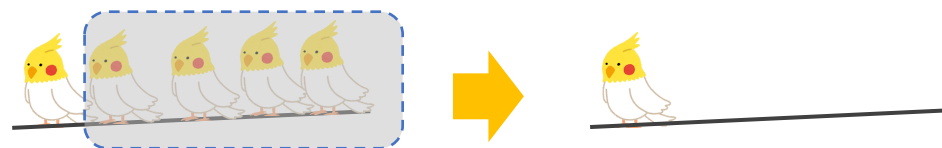
こたえ

こ

日にち： 月 日

名まえ

- とりが 5 わ とまっていたました。
4 わ とんでいきました。
のこりは なんわ でしょう。



しき

こたえ

わ




のこりはいくつ 2

しきをつくろう



- はなが 6ぽん あります。
5ぽん あげました。
のこりは なんぽん になりましたか。



しき

こたえ ぽん

日にち： 月 日

名まえ _____

- とりが 4わ とまっていたました。
2わ とんでいきました。
のこりは なんわ でしょう。



しき

こたえ わ

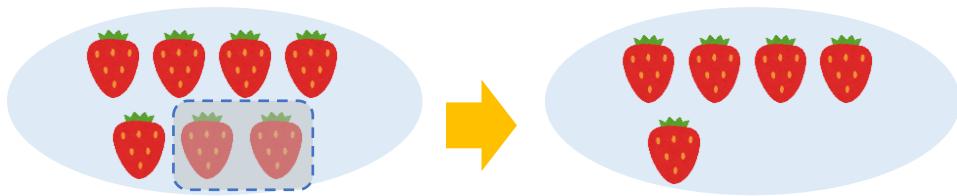


のこりはいくつ 2

しきをつくろう



- いちごが 7 こ あります。
2 こ たべました。
のこりは なんこ でしょう。



しき


こたえ

こ

日にち： 月 日

名まえ

- はなが 8 ぽん あります。
6 ぽん あげました。
のこりは なんぽん になりましたか。



しき

こたえ

ほん




のこりはいくつ？

しきをつくろう



- はなが 5ほん あります。
- 1ほん あげました。
- のこりは なんほん になりましたか。



しき

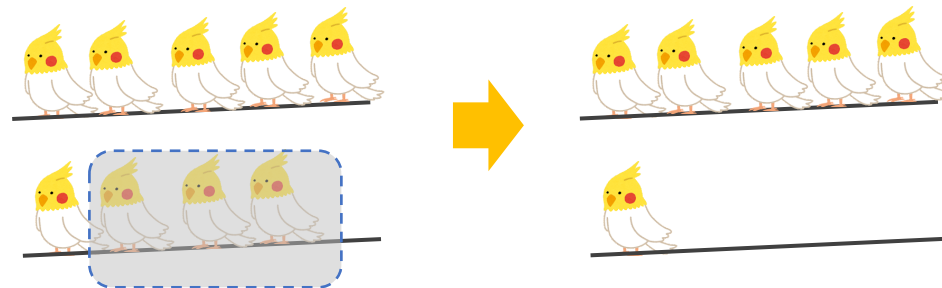
こたえ

ほん

日にち： 月 日

名まえ

- とりが 9わ とまっていたいました。
- 3わ とんでいきました。
- のこりは なんわ でしょう。



しき

こたえ

わ



のこりはいくつ？ 2

しきをつくろう





日にち： 月 日

名まえ _____

- とりが 5 羽とまっていた。3 羽とんでいきました。

のこりはなん羽でしょう。(うすいじはなぞりましょう。)

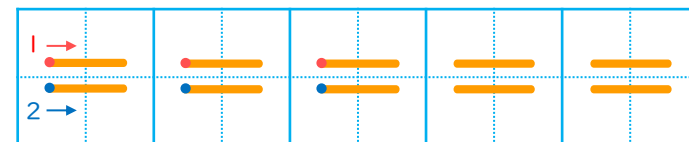
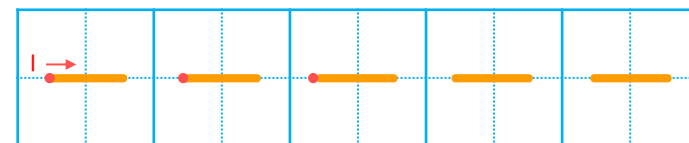


しき

	ひく		は	
5	-	3	=	2

こたえ 2 羽

▼ れんしゅうしよう！



 **すらすらぷりんと**



のこりはいくつ？


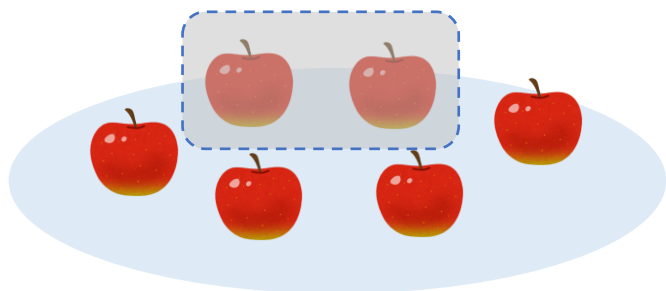
しきをつくろう



日にち： 月 日

名まえ

- りんごが6こあります。2こたべました。
のこりはなんこでしょう。(うすいじはなぞりましょう。)

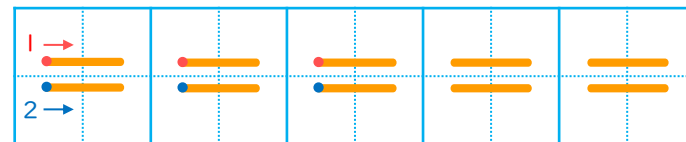
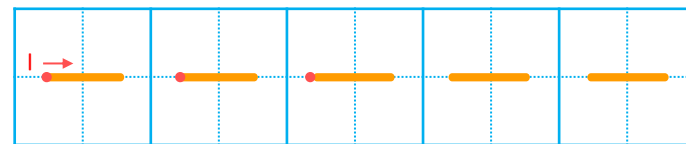


しき

	ひく		は	
6	-	2	=	4

こたえ 4 こ

れんしゅうしよう！





のこりはいくつ 2

しきをつくろう




日にち： 月 日

名まえ _____

- はなが 7ほん あります。2ほん あげました。

のこりは なんぼん になりましたか。(うすいじはなぞりましょう。)

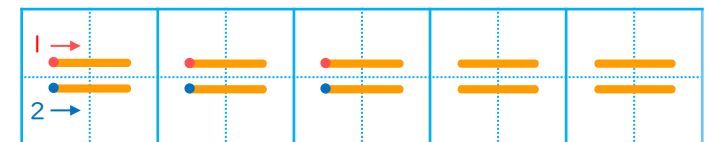
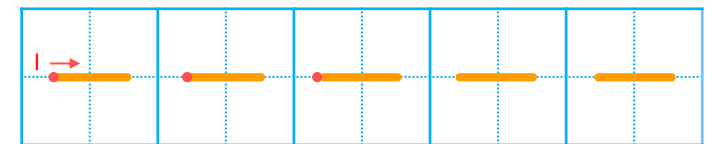


しき

	ひく		は	
7	—	2	=	5

こたえ 5 ほん

▼ れんしゅう しよう!





のこりはいくつ？

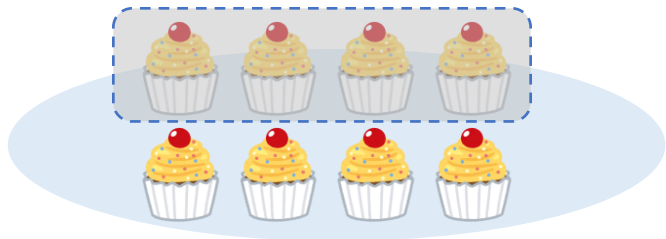
しきをつくろう

4

日にち： 月 日

名まえ _____

- けえきが 8 こ あります。4 こ たべました。
のこりは なんこ でしょう。(うすいじは なぞり ましょう。)

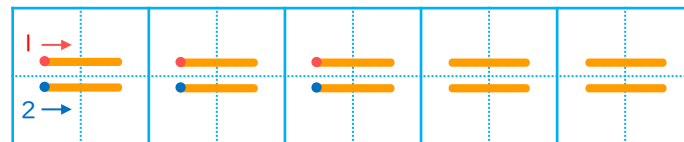
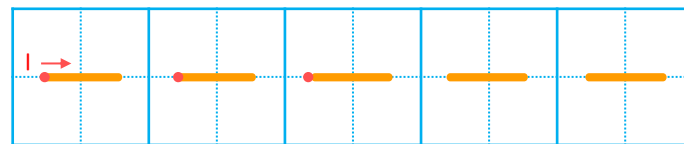


しき

	ひく		は	
8	—	4	=	4

こたえ 4 こ

▼ れんしゅう しよう！





のこりはいくつ 2

しきをつくろう

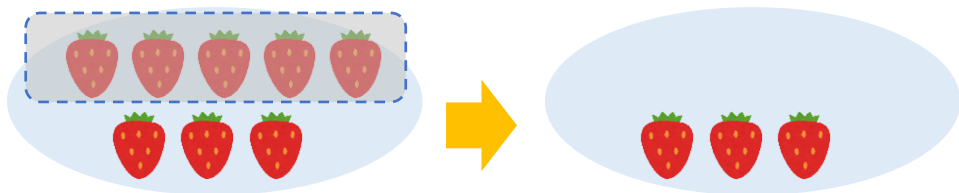


いちごが 8 こ あります。

5 こ たべました。

のこりは なんこ でしょう。

(うすいじは なぞり ましょう。)



しき

$$8 - 5 = 3$$

こたえ

3 こ

⑤ 定着 答え


日にち： 月 日

名まえ

はなが 9ほん あります。

4ほん あげました。

のこりは なんほん になりましたか。



しき

$$9 - 4 = 5$$

こたえ

5ほん



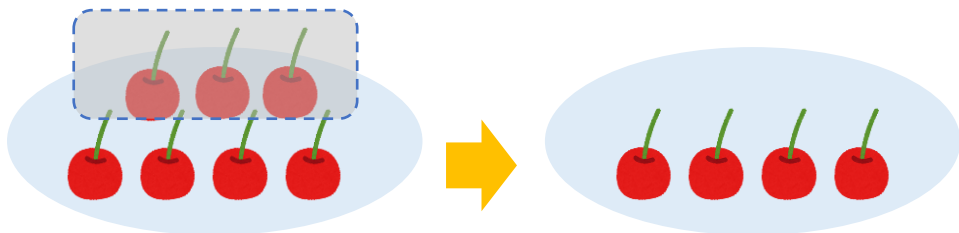


のこりはいくつ？

しきをつくろう

6

- さくらんぼが7こあります。
3こたべました。
のこりはなんこでしょう。



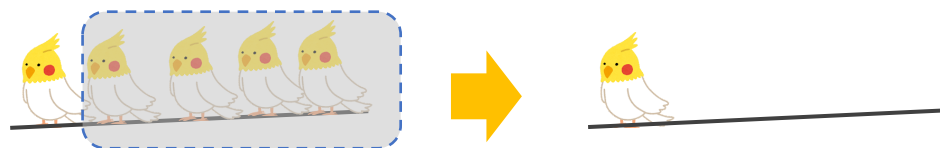
しき $7 - 3 = 4$

こたえ 4 こ

日にち： 月 日

名まえ

- とりが5わとまっていたました。
4わとんでいきました。
のこりはなんわでしょう。



しき $5 - 4 = 1$

こたえ 1 わ




のこりはいくつ 2

しきをつくろう

7

- はなが 6 ぽん あります。
5 ぽん あげました。
のこりは なんぽん になりましたか。



しき $6 - 5 = 1$

こたえ 4 ぽん

日にち： 月 日

名まえ

- とりが 4 わ とまっていたいました。
2 わ とんでいきました。
のこりは なんわ でしょう。



しき $4 - 2 = 2$

こたえ 2 わ

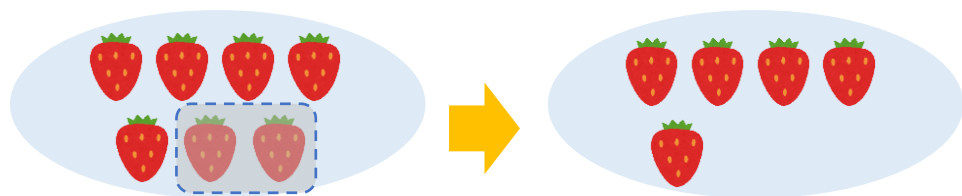


のこりはいくつ？

しきをつくろう



- いちごが 7 こ あります。
2 こ たべました。
のこりは なんこ でしょう。




しき $7 - 2 = 5$

こたえ 5 こ

日にち： 月 日

名まえ

- はなが 8 ぽん あります。
6 ぽん あげました。
のこりは なんぽん になりましたか。



しき $8 - 6 = 2$

こたえ 2 ぽん



のこりはいくつ 2


しきをつくろう



日にち： 月 日

名まえ _____

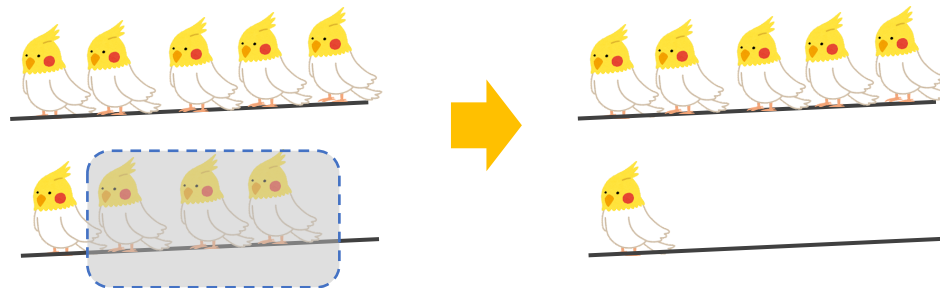
- はなが 5ほん あります。
1ほん あげました。
のこりは なんほん になりましたか。



しき $5 - 1 = 4$

こたえ 4 ほん

- とりが 9わ とまっていたました。
3わ とんでいきました。
のこりは なんわ でしょう。



しき $9 - 3 = 6$

こたえ 6 わ