

のこりはいくつ 3

◎ のこりはいくつ?
(きゅうざん)




日にち： 月 日

名まえ _____

・ しきにかいて こたえましょう。(うすいじはなぞりましょう。)

- ① はなが 4ほん あります。1ほん あげました。
のこりは なんほん になりましたか。




しき

4	—		=		
---	---	--	---	--	--

こたえ

 ほん

- ② ふうせんが 6こ あります。2こ とんでいきました。
のこりは なんこ になりましたか。



しき

	—		=		
--	---	--	---	--	--

こたえ

 こ





のこりはいくつ 3

◎ のこりはいくつ?
(きゅうざん)




日にち： 月 日

名まえ _____

・ しきにかいて こたえましょう。(うすいじはなぞりましょう。)

- ① いちごが 10こ あります。 5こ たべました。
のこりは なんこ になりましたか。




しき

1	0	-	5	=			
---	---	---	---	---	--	--	--

こたえ

 こ

- ② とりかが 7わ とまっています。 4わ とんでいきました。
のこりは なんわ になりましたか。



しき

		-		=			
--	--	---	--	---	--	--	--

こたえ

 わ





のこりはいくつ 3

◎ のこりはいくつ?
(きゅうざん)




日にち： 月 日

名まえ _____

・ しきにかいて こたえましょう。(うすいじはなぞりましょう。)

① えんぴつが 8 ぽん あります。 2 ほん あげました。
のこりは なんぽん になりましたか。




しき

		—			==		

こたえ

ぽん

② ふうせんが 6 こ あります。 1 こ とんでいきました。
のこりは なんこ になりましたか。



しき

		—			==		

こたえ

こ





のこりはいくつ③

● のこりはいくつ?
(きゅうざん)




日にち： 月 日

名まえ _____

・ しきにかいて きたえましょう。(うすいじはなぞりましょう。)

- ① はなが 9ほん あります。 5ほん あげました。
のこりは なんほん になりましたか。




しき

		—			=		

きたえ

ほん

- ② りんごが 4こ あります。 2こ たべました。
のこりは なんこ になりましたか。



しき

		—			=		

きたえ

こ





のこりはいくつ 3

● のこりはいくつ?
(きゅうざん)



日にち： 月 日

名まえ _____

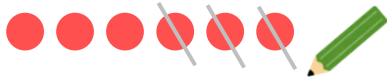
・ しきにかいて こたえましょう。(うすいじはなぞりましょう。)

① いちごが 6 こ あります。 3 こ たべました。

のこりは なんこ になりましたか。

しき

6	—	3	=		
---	---	---	---	--	--



こたえ

 こ

② とりが 7 わ とまっていたいました。 2 わ とんでいきました。

のこりは なんわ になりましたか。

しき

		—				=	



こたえ

 わ

③ はなが 8 ぽん あります。 4 ぽん あげました。

のこりは なんぽん になりましたか。

しき



こたえ

 ぽん





のこりはいくつ 3

◎ のこりはいくつ?
(きゅうざん)



日にち： 月 日

名まえ _____

・ しきにかいて こたえましょう。(うすいじはなぞりましょう。)

① ばななが 9ほん あります。2ほん たべました。

のこりは なんほん になりましたか。

しき

9	—		=	
---	---	--	---	--



こたえ

 ほん

② とりが 5わ とまっていたいました。4わ とんでいきました。

のこりは なんわ になりましたか。

しき

	—		=	
--	---	--	---	--



こたえ

 わ

③ ふうせんが 10こ あります。3こ とんでいきました。

のこりは なんこ になりましたか。

しき

--	--	--	--	--	--	--	--



こたえ

 こ





のこりはいくつ 3

● のこりはいくつ?
(きゅうざん)



日にち： 月 日

名まえ _____

・ しきにかいて こたえましょう。

① はなが 4ほん あります。1ほん あげました。

のこりは なんほん になりましたか。

しき



こたえ

ほん

② いちごが 10こ あります。5こ たべました。

のこりは なんこ になりましたか。

しき



こたえ

こ

③ とりが 7わ とまっています。5わ とんでいきました。

のこりは なんわ になりましたか。

しき



こたえ

わ





のこりはいくつ 3

● のこりはいくつ?
(きゅうざん)



日にち： 月 日

名まえ _____

・ しきにかいて こたえましょう。

① はなが 9ほん あります。6ほん あげました。

のこりは なんほん になりましたか。

しき



こたえ

ほん

② あめが 8こ あります。2こ たべました。

のこりは なんこ になりましたか。

しき



こたえ

こ

③ とりが 6わ とまっています。1わ とんでいきました。

のこりは なんわ になりましたか。


しき



こたえ

わ





のこりはいくつ 3

◎ のこりはいくつ?
(きゅうざん)



日にち： 月 日

名まえ _____

・ しきにかいて こたえましょう。

① とりが 5わ とまっています。 3わ とんでいきました。

のこりは なんわ になりましたか。

しき



こたえ

 わ

② はなが 10ぽん あります。 7ぽん あげました。

のこりは なんぽん になりましたか。

しき



こたえ

 ぽん

③ いちごが 7こ あります。 6こ たべました。

のこりは なんこ になりましたか。

しき



こたえ

 こ



のこりはいくつ③

◎ のこりはいくつ?
(きゅうざん)

10

日にち： 月 日

名まえ _____

・ しきにかいて こたえましょう。

① いろがみが10まいあります。4まいつかいました。

のこりはなんまいですか。

しき

こたえ

まい

② ふうせんが9こあります。2ことんでいきました。

のこりはなんこでしょう。

しき

こたえ

こ

③ いちごが8こあります。6こたべました。

のこりはなんこになりましたか。

しき

こたえ

こ





のこりはいくつ 3

◎ のこりはいくつ?
(きゅうざん)



日にち： 月 日

名まえ _____

・ しきにかいて こたえましょう。

① いろがみが 9まい あります。 3まい つかいました。

のこりは なんまい ですか。

しき

こたえ

まい

② ふうせんが 6こ あります。 4こ とんでいきました。

のこりは なんこ でしょう。

しき

こたえ

こ

③ いちごが 5こ あります。 2こ たべました。

のこりは なんこ になりましたか。

しき

こたえ

こ





のこりはいくつ 3

◎ のこりはいくつ?
(きゅうざん)



日にち： 月 日

名まえ _____

・ しきにかいて きたえましょう。

① いちごが 10こ あります。 8こ たべました。

のこりは なんこ になりましたか。

しき

きたえ

こ

② いろがみが 7まい あります。 4まい つかいました。

のこりは なんまい ですか。

しき

きたえ

まい

③ とりが 8わ とまっています。 1わ とんでいきました。

のこりは なんわ になりましたか。

しき

きたえ

わ





のこりはいくつ③

◎ のこりはいくつ?
(きゅうざん)

13

日にち： 月 日

名まえ _____

・ しきにかいて こたえましょう。

① はなが 6ほん あります。2ほん あげました。

のこりは なんほん になりましたか。

しき

こたえ

ほん

② いろがみが 9まい あります。7まい つかいました。

のこりは なんまい ですか。

しき

こたえ

まい

③ ふうせんが 10こ あります。1こ とんでいきました。

のこりは なんこ になりましたか。

しき

こたえ

こ





のこりはいくつ③

◎ のこりはいくつ?
(きゅうざん)

14

日にち： 月 日

名まえ _____

・ しきにかいて きたえましょう。

① えんぴつが 8ぽん あります。5ほん あげました。

のこりは なんぽん になりましたか。

しき

きたえ

ほん

② いちごが 7こ あります。3こ たべました。

のこりは なんこ ですか。

しき

きたえ

こ

③ とりが 4わ とまっています。3わ とんでいきました。

のこりは なんわ になりましたか。

しき

きたえ

わ






のこりはいくつ 3

◎ のこりはいくつ?
(きゅうざん)

15

めざせ100てん!



名まえ _____

・ しきにかいて こたえましょう。(式・答え 各25点)

① いろがみが10まいあります。3まいつかいました。

のこりはなんまいですか。

しき

こたえ

まい

② とりが4わとまっていたいました。2わとんでいきました。

のこりはなんわになりましたか。

しき

こたえ

わ



のこりはいくつ 3

◎ のこりはいくつ?
(きゅうざん)

16

めざせ100てん!



名まえ _____

・ しきにかいて こたえましょう。(式・答え 各25点)

① あめが 8 こ あります。4 こ たべました。

のこりは なんこ ですか

しき

こたえ

こ

② はなが 10 ぽん あります。5 ぽん あげました。

のこりは なんぽん になりましたか。

しき

こたえ

ほん



のこりはいくつ 3

◎ のこりはいくつ?
(きゅうざん)




日にち： 月 日

名まえ _____

・ しきにかいて きたえましょう。(うすいじはなぞりましょう。)

① はなが 4ほん あります。1ほん あげました。
のこりは なんほん になりましたか。



しき


4	-	1	=	3
---	---	---	---	---

きたえ

3

 ほん

② ふうせんが 6こ あります。2こ とんでいきました。
のこりは なんこ になりましたか。



しき

6	-	2	=	4
---	---	---	---	---

きたえ

4

 こ





のこりはいくつ 3

◎ のこりはいくつ?
(きゅうざん)




日にち： 月 日

名まえ _____

・ しきにかいて こたえましょう。(うすいじはなぞりましょう。)

① いちごが 10こ あります。 5こ たべました。

のこりは なんこ になりましたか。




しき $10 - 5 = 5$

こたえ 5 こ

② とりかが 7わ とまっています。 4わ とんでいきました。

のこりは なんわ になりましたか。



しき $7 - 4 = 3$

こたえ 3 わ





のこりはいくつ 3

◎ のこりはいくつ?
(きゅうざん)




日にち： 月 日

名まえ _____

・ しきにかいて こたえましょう。(うすいじはなぞりましょう。)


- ① えんぴつが 8 ぽん あります。 2 ほん あげました。
のこりは なんぽん になりましたか。



しき $8 - 2 = 6$

こたえ 6 ぽん

- ② ふうせんが 6 こ あります。 1 ことんでいきました。
のこりは なんこ になりましたか。



しき $6 - 1 = 5$

こたえ 5 こ





のこりはいくつ 3

◎ のこりはいくつ?
(きゅうざん)

4


日にち： 月 日

名まえ _____

・ しきにかいて こたえましょう。(うすいじはなぞりましょう。)

① はなが 9ほん あります。 5ほん あげました。

のこりは なんぼん になりましたか。




しき $9 - 5 = 4$

こたえ 4 ほん

② りんごが 4こ あります。 2こ たべました。

のこりは なんこ になりましたか。



しき $4 - 2 = 2$

こたえ 2 こ





のこりはいくつ 3

● のこりはいくつ?
(きゅうざん)



日にち： 月 日

名まえ _____

・ しきにかいて こたえましょう。(うすいじはなぞりましょう。)

① いちごが 6 こ あります。 3 こ たべました。

のこりは なんこ になりましたか。

しき $6 - 3 = 3$



こたえ 3 こ

② とりが 7 わ とまっていたいました。 2 わ とんでいきました。

のこりは なんわ になりましたか。

しき $7 - 2 = 5$



こたえ 5 わ

③ はなが 8 ぽん あります。 4 ぽん あげました。

のこりは なんぽん になりましたか。

しき $8 - 4 = 4$



こたえ 4 ぽん





のこりはいくつ 3

● のこりはいくつ?
(きゅうざん)



日にち： 月 日

名まえ _____

・ しきにかいて こたえましょう。(うすいじはなぞりましょう。)

① ばななが 9ほん あります。2ほん たべました。

のこりは なんほん になりましたか。

しき $9 - 2 = 7$



こたえ 7 ほん

② とりが 5わ とまっていたいました。4わ とんでいきました。

のこりは なんわ になりましたか。

しき $5 - 4 = 1$



こたえ 1 わ

③ ふうせんが 10こ あります。3こ とんでいきました。

のこりは なんこ になりましたか。

しき $10 - 3 = 7$



こたえ 7 こ





のこりはいくつ 3

● のこりはいくつ?
(きゅうざん)



日にち： 月 日

名まえ _____

・ しきにかいて こたえましょう。

① はなが 4ほん あります。1ほん あげました。

のこりは なんほん になりましたか。

しき $4 - 1 = 3$




こたえ 3 ほん

② いちごが 10こ あります。5こ たべました。

のこりは なんこ になりましたか。

しき $10 - 5 = 5$



こたえ 5 こ

③ とりが 7わ とまっています。5わ とんでいきました。

のこりは なんわ になりましたか。

しき $7 - 5 = 2$



こたえ 2 わ





のこりはいくつ 3

● のこりはいくつ?
(きゅうざん)



日にち： 月 日

名まえ _____

・ しきにかいて こたえましょう。

① はなが 9ほん あります。6ほん あげました。

のこりは なんほん になりましたか。

しき $9 - 6 = 3$



こたえ 3 ほん

② あめが 8こ あります。2こ たべました。

のこりは なんこ になりましたか。

しき $8 - 2 = 6$



こたえ 6 こ

③ とりが 6わ とまっています。1わ とんでいきました。


のこりは なんわ になりましたか。

しき $6 - 1 = 5$



こたえ 5 わ





のこりはいくつ 3

● のこりはいくつ?
(きゅうざん)



日にち： 月 日

名まえ _____

・ しきにかいて こたえましょう。

- ① とりが 5わ とまっています。 3わ とんでいきました。
のこりは なんわ になりましたか。

しき $5 - 3 = 2$



こたえ 2 わ

- ② はなが 10ぼん あります。 7ぼん あげました。
のこりは なんぼん になりましたか。

しき $10 - 7 = 3$



こたえ 3 ぼん

- ③ いちごが 7こ あります。 6こ たべました。
のこりは なんこ になりましたか。

しき $7 - 6 = 1$



こたえ 1 こ





のこりはいくつ③

● のこりはいくつ?
(きゅうざん)

10

日にち： 月 日

名まえ _____

・ しきにかいて こたえましょう。

- ① いろがみが10まいあります。4まいつかいました。
のこりはなんまいですか。

しき $10 - 4 = 6$

こたえ 6 まい

- ② ふうせんが9こあります。2ことんでいきました。
のこりはなんこでしょう。

しき $9 - 2 = 7$

こたえ 7 こ

- ③ いちごが8こあります。6こたべました。
のこりはなんこになりましたか。

しき $8 - 6 = 2$

こたえ 2 こ





のこりはいくつ？

◎ のこりはいくつ？
(きゅうざん)



日にち： 月 日

名まえ _____

・ しきにかいて こたえましょう。

- ① いろがみが 9まい あります。 3まい つかいました。
のこりは なんまい ですか。

しき $9 - 3 = 6$

こたえ 6 まい

- ② ふうせんが 6こ あります。 4こ とんで きました。
のこりは なんこ でしょう。

しき $6 - 4 = 2$

こたえ 2 こ

- ③ いちごが 5こ あります。 2こ たべました。
のこりは なんこ になりましたか。

しき $5 - 2 = 3$

こたえ 3 こ





のこりはいくつ 3

◎ のこりはいくつ?
(きゅうざん)

12

日にち： 月 日

名まえ _____

・ しきにかいて こたえましょう。

① いちごが 10こ あります。 8こ たべました。

のこりは なんこ になりましたか。

しき $10 - 8 = 2$

こたえ 2 こ

② いろがみが 7まい あります。 4まい つかいました。

のこりは なんまい ですか。

しき $7 - 4 = 3$

こたえ 3 まい

③ とりが 8わ とまっています。 1わ とんでいきました。

のこりは なんわ になりましたか。

しき $8 - 1 = 7$

こたえ 7 わ





のこりはいくつ③

◎ のこりはいくつ?
(きゅうざん)

13

日にち： 月 日

名まえ _____

・ しきにかいて こたえましょう。

① はなが 6ほん あります。2ほん あげました。

のこりは なんほん になりましたか。

しき $6 - 2 = 4$

こたえ 4 ほん

② いろがみが 9まい あります。7まい つかいました。

のこりは なんまい ですか。

しき $9 - 7 = 2$

こたえ 2 まい

③ ふうせんが 10こ あります。1こ とんでいきました。

のこりは なんこ になりましたか。

しき $10 - 1 = 9$

こたえ 9 こ





のこりはいくつ③

◎ のこりはいくつ?
(きゅうざん)

14

日にち： 月 日

名まえ _____

・ しきにかいて こたえましょう。

① えんぴつが 8ぽん あります。5ほん あげました。

のこりは なんぽん になりましたか。

しき $8 - 5 = 3$

こたえ 3 ぽん

② いちごが 7こ あります。3こ たべました。

のこりは なんこ ですか。

しき $7 - 3 = 4$

こたえ 4 こ

③ とりが 4わ とまっています。3わ とんでいきました。

のこりは なんわ になりましたか。

しき $4 - 3 = 1$

こたえ 1 わ





のこりはいくつ 3

◎ のこりはいくつ?
(きゅうざん)

15

めざせ100てん!



名まえ _____

・ しきにかいて こたえましょう。(式・答え 各25点)

① いろがみが 10まい あります。3まい つかいました。
のこりは なんまい ですか。

しき $10 - 3 = 7$

こたえ 7 まい

② とりが 4わ とまっていたいました。2わ とんでいきました。
のこりは なんわ になりましたか。

しき $4 - 2 = 2$

こたえ 2 わ



のこりはいくつ ③

◎ のこりはいくつ?
(きゅうざん)

16

めざせ100てん!



名まえ _____

・ しきにかいて こたえましょう。(式・答え 各25点)

① あめが 8 こ あります。4 こ たべました。

のこりは なんこ ですか

しき

$$8 - 4 = 4$$

こたえ

4 こ

② はなが 10 ぽん あります。5 ほん あげました。

のこりは なんぽん になりましたか。

しき

$$10 - 5 = 5$$

こたえ

5 ほん