



のこりはいくつ 4

● のこりはいくつ?
(きゅうほ)



日にち： 月 日

名まえ _____

・ うさぎが 7 ひき います。




は 4 ひき です。



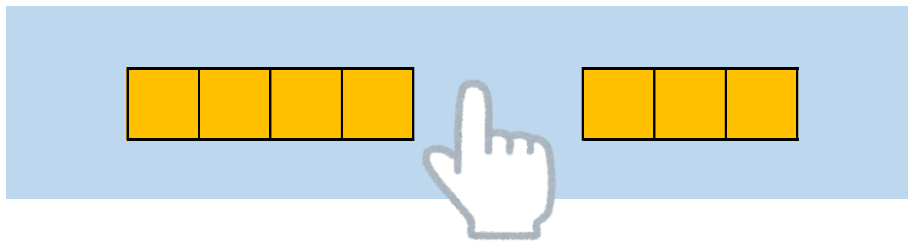
は なんびき いますか。

(うすいじはなぞりましょう。)

7 ひき



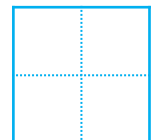
4 ひき



しき

$$\begin{array}{|c|c|c|c|c|c|} \hline 7 & - & 4 & = & & \\ \hline \end{array}$$

こたえ



びき





のこりはいくつ 4

● のこりはいくつ?
(きゅうほ)



日にち： 月 日

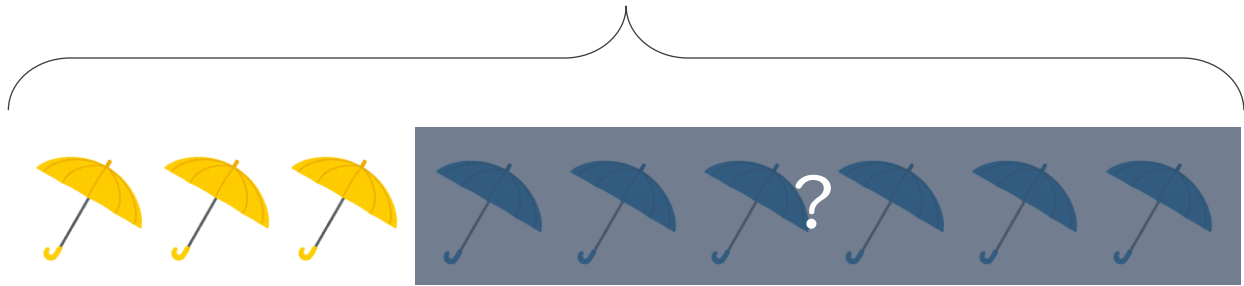
名まえ _____

・ かさが 9ほん あります。

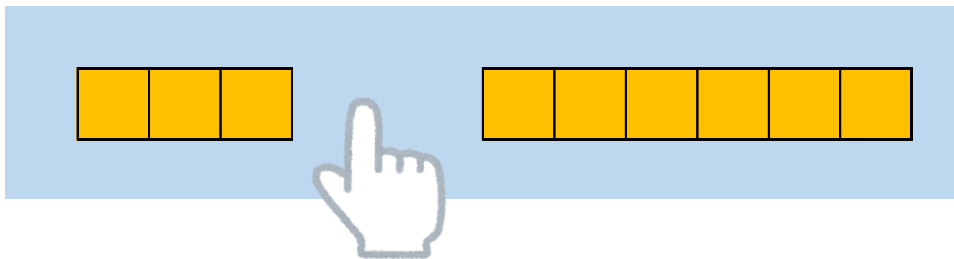
 は 3ほん です。  は なんほん ありますか。

(うすいじはなぞりましょう。)

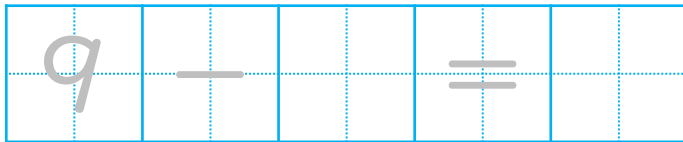
9ほん



3ほん



しき



こたえ ほん





のこりはいくつ 4

のこりはいくつ?
(きゅうほ)



日にち： 月 日

名まえ _____

うさぎが 10ぴき います。



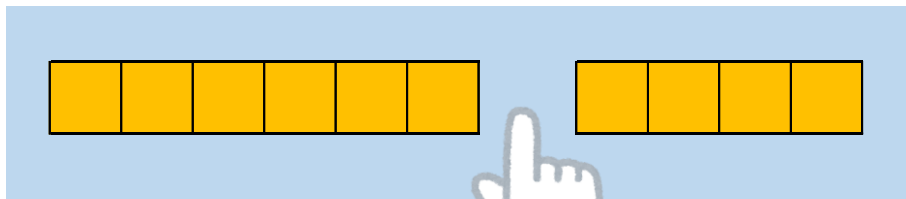

は 6ぴきです。



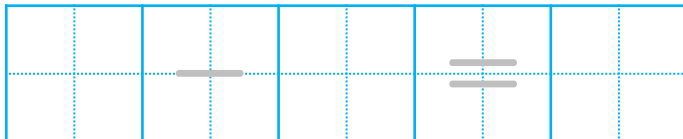
は なんぴき いますか。

(うすいじはなぞりましょう。)

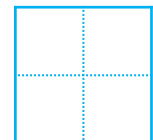
10ぴき



しき



こたえ



ひき





のこりはいくつ 4

のこりはいくつ?
(きゅうほ)



日にち： 月 日

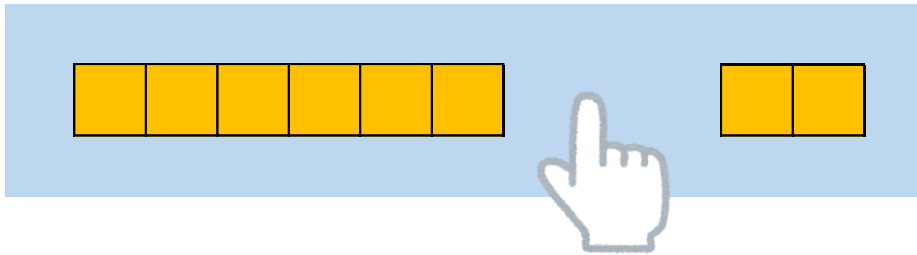
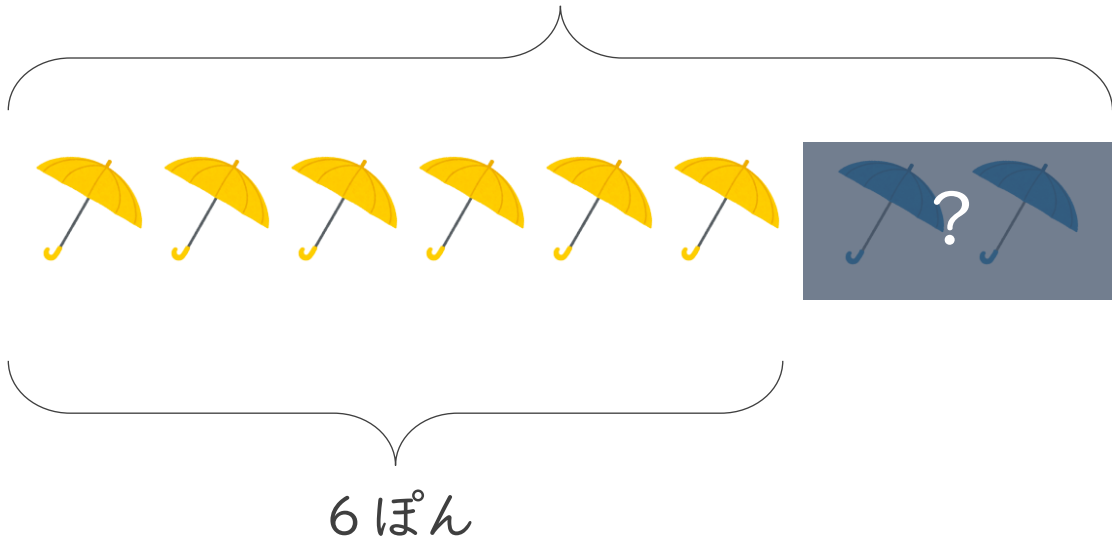
名まえ _____

・ かさが 8 ぽん あります。

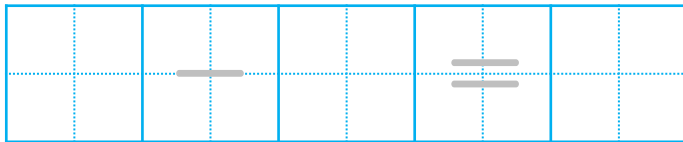
 は 6 ぽん です。  は なんぽん ありますか。

(うすいじはなぞりましょう。)

8 ぽん



しき



こたえ ぽん





のこりはいくつ 4

◎ のこりはいくつ?
(きゅうほ)



日にち： 月 日

名まえ _____

・ しきにかいて こたえましょう。(うすいじはなぞりましょう。)

① くろとしろの きんぎょが ぜんぶで 7 ひき います。

くろい きんぎょは 4 ひき います。

しろい きんぎょは なんびき いますか。



しき

7	—			=		
---	---	--	--	---	--	--

こたえ

びき

② いぬと ねこが ぜんぶで 9 ひき います。

いぬは 3 ひき います。

ねこは なんびき いますか。



しき

--	--	--	--	--	--	--	--	--

こたえ

ひき





のこりはいくつ 4

● のこりはいくつ?
(きゅうほ)



日にち： 月 日

名まえ _____

・ しきにかいて こたえましょう。(うすいじはなぞりましょう。)

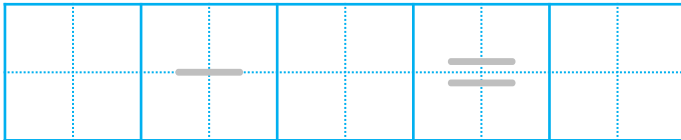
① あおときいろのかさがぜんぶで10ぽんあります。

あおのかさは5ぽんあります。

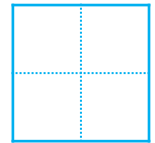
きいろのかさはなんぽんありますか。



しき



こたえ



ぽん

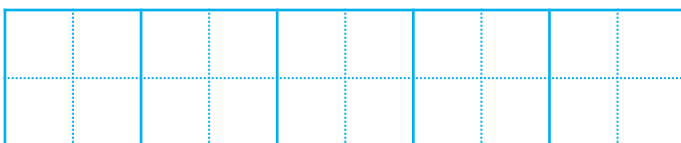
② くろとしろのうさぎがぜんぶで8ぴきいます。

くろいうさぎは1ぴきいます。

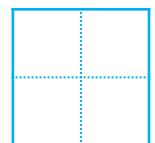
しろいうさぎはなんびきいますか。



しき



こたえ



ひき





のこりはいくつ 4

◎ のこりはいくつ?
(きゅうほ)



日にち： 月 日

名まえ _____

・ しきにかいて きたえましょう。

① くろと あかの きんぎょが ぜんぶで 6 ひき います。

くろい きんぎょは 2 ひき います。

あかい きんぎょは なんびき いますか。



しき

きたえ

ひき

② いぬと ねこが ぜんぶで 5 ひき います。

いぬは 4 ひき います。

ねこは なんびき いますか。



しき

きたえ

ひき





のこりはいくつ 4

● のこりはいくつ?
(きゅうほ)



日にち： 月 日

名まえ _____

・ しきにかいて きたえましょう。

① あおときいろのかさがぜんぶで 9ほん あります。

あおのかさは 3ほん あります。

きいろのかさは なんほん ありますか。



しき

きたえ

ほん

② くろとしろのうさぎがぜんぶで 7ひき います。

くろいうさぎは 2ひき います。

しろいうさぎは なんびき いますか。



しき

きたえ

ひき





のこりはいくつ 4

◎ のこりはいくつ?
(きゅうほ)



日にち： 月 日

名まえ _____

・ しきにかいて こたえましょう。

① いぬとねこがぜんぶで10ぴきいます。

いぬは3ぴきいます。

ねこはなんぴきいますか。



しき

こたえ

ひき

② くろとあかのきんぎょがぜんぶで8ぴきいます。

くろいきんぎょは5ひきいます。

あかいきんぎょはなんぴきいますか。



しき

こたえ

びき





のこりはいくつ 4

● のこりはいくつ?
(きゅうほ)



日にち： 月 日

名まえ _____

・ うさぎが 7 ひき います。




は 4 ひき です。



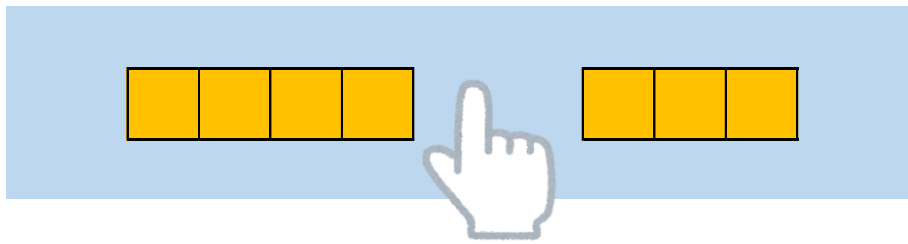
は なんびき いますか。

(うすいじはなぞりましょう。)

7 ひき



4 ひき



しき

$$7 - 4 = 3$$

こたえ

3

びき





のこりはいくつ 4

のこりはいくつ?
(きゅうほ)



日にち： 月 日

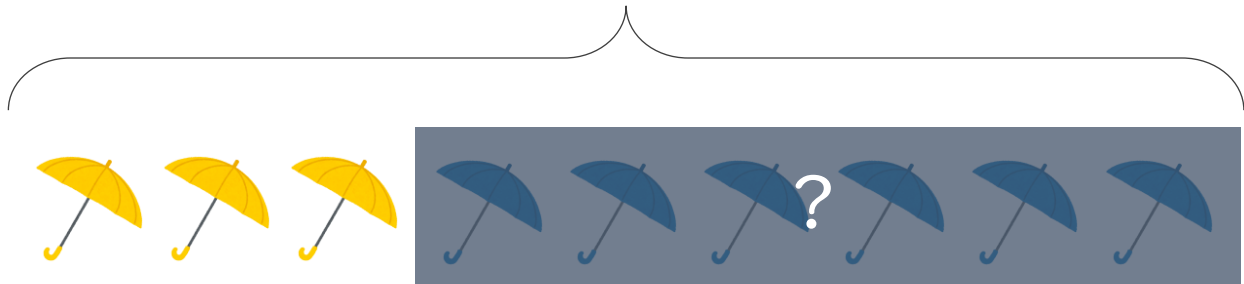
名まえ _____

・ かさが 9ほん あります。

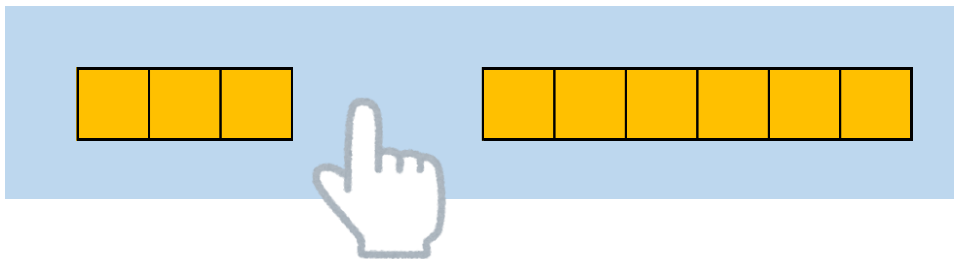
 は 3ほん です。  は なんほん ありますか。

(うすいじはなぞりましょう。)

9ほん



3ほん




しき

$$9 - 3 = 6$$

こたえ  ほん





のこりはいくつ 4

● のこりはいくつ?
(きゅうほ)



日にち： 月 日

名まえ _____

・ うさぎが 10ぴき います。



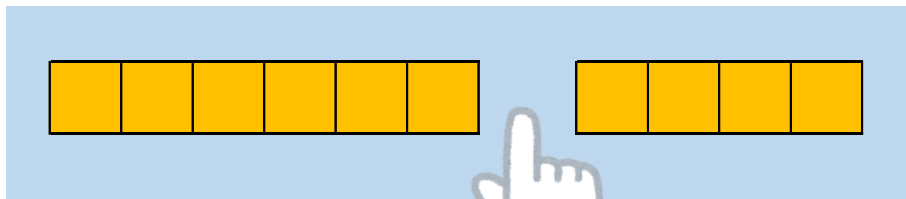

は 6ぴき です。



は なんぴき いますか。

(うすいじはなぞりましょう。)

10ぴき



しき

$$10 - 6 = 4$$

こたえ



ひき





のこりはいくつ 4

● のこりはいくつ?
(きゅうほ)



日にち： 月 日

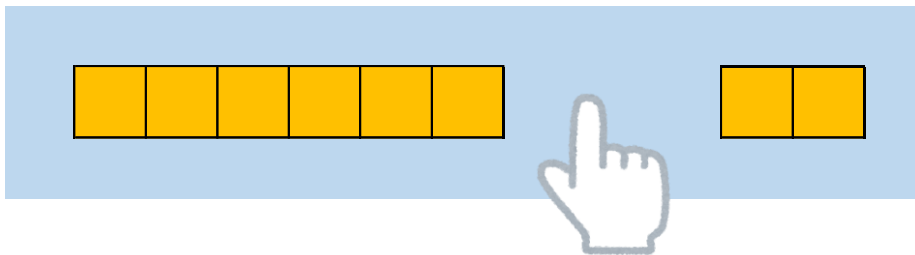
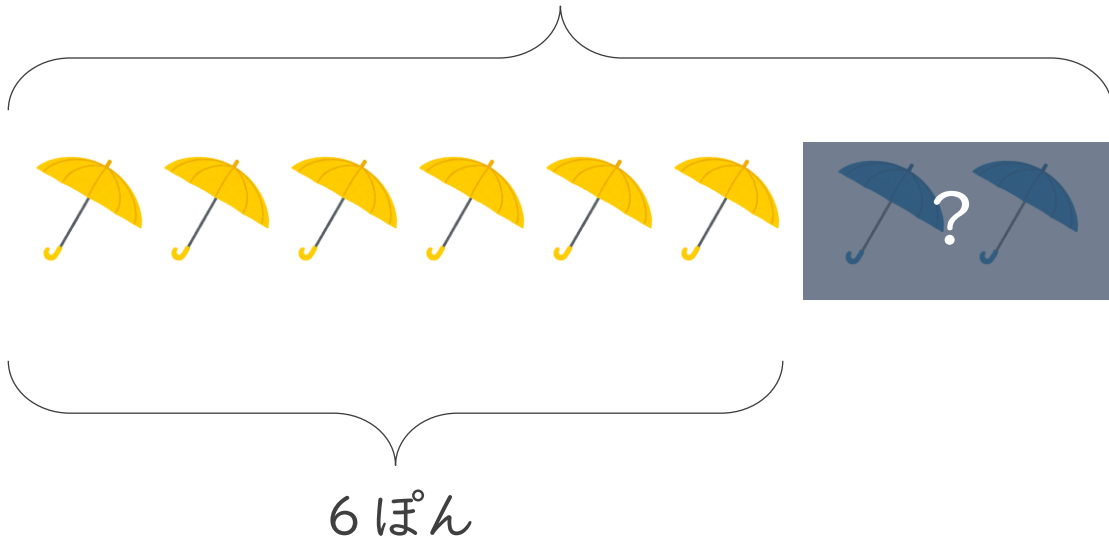
名まえ _____

・ かさが 8 ぽん あります。

 は 6 ぽん です。  は なんぽん ありますか。

(うすいじはなぞりましょう。)

8 ぽん



しき

$$8 - 6 = 2$$

こたえ 2 ぽん





のこりはいくつ 4

● のこりはいくつ?
(きゅうほ)



日にち： 月 日


名まえ _____

・ しきにかいて こたえましょう。(うすいじはなぞりましょう。)

① くろとしろの きんぎよが ぜんぶで 7 ひき います。

くろい きんぎよは 4 ひき います。

しろい きんぎよは なんびき いますか。



しき

$$7 - 4 = 3$$

こたえ

3

びき

② いぬと ねこが ぜんぶで 9 ひき います。

いぬは 3 ひき います。

ねこは なんびき いますか。



しき

$$9 - 3 = 6$$

こたえ

6

びき





のこりはいくつ 4

● のこりはいくつ?
(きゅうほ)



日にち： 月 日

名まえ _____

・ しきにかいて こたえましょう。(うすいじはなぞりましょう。)

① あおときいろのかさがぜんぶで10ぽんあります。

あおのかさは5ぽんあります。

きいろのかさはなんぽんありますか。



しき

$$10 - 5 = 5$$

こたえ

5

ぽん

② くろとしろのうさぎがぜんぶで8ぴきいます。

くろいうさぎは1ぴきいます。

しろいうさぎはなんびきいますか。



しき

$$8 - 1 = 7$$

こたえ

7

ひき





のこりはいくつ 4

● のこりはいくつ?
(きゅうほ)



日にち： 月 日


名まえ _____

・ しきにかいて こたえましょう。

① くろとあかのきんぎょがぜんぶで6ひきいます。

くろいきんぎょは2ひきいます。

あかいきんぎょはなんびきいますか。



しき

$$6 - 2 = 4$$

こたえ



ひき

② いぬとねこがぜんぶで5ひきいます。

いぬは4ひきいます。

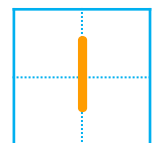
ねこはなんびきいますか。



しき

$$5 - 4 = 1$$

こたえ



ひき





のこりはいくつ 4

● のこりはいくつ?
(きゅうほ)



日にち： 月 日

名まえ _____

・ しきにかいて こたえましょう。

① あおときいろのかさがぜんぶで 9ほん あります。

あおのかさは 3ほん あります。

きいろのかさは なんほん ありますか。



しき

$$9 - 3 = 6$$

こたえ

6

ほん

② くろとしろのうさぎがぜんぶで 7ひき います。

くろいうさぎは 2ひき います。

しろいうさぎは なんびき いますか。



しき

$$7 - 2 = 5$$

こたえ

5

ひき





のこりはいくつ 4

● のこりはいくつ?
(きゅうほ)



日にち： 月 日

名まえ _____

・ しきにかいて こたえましょう。

① いぬとねこがぜんぶで10ぴきいます。

いぬは3ぴきいます。

ねこはなんぴきいますか。



しき

$$10 - 3 = 7$$

こたえ

7

ひき

② くろとあかのきんぎょがぜんぶで8ぴきいます。

くろいきんぎょは5ひきいます。

あかいきんぎょはなんぴきいますか。



しき

$$8 - 5 = 3$$

こたえ

3

ひき

