



のこりはいくつ？

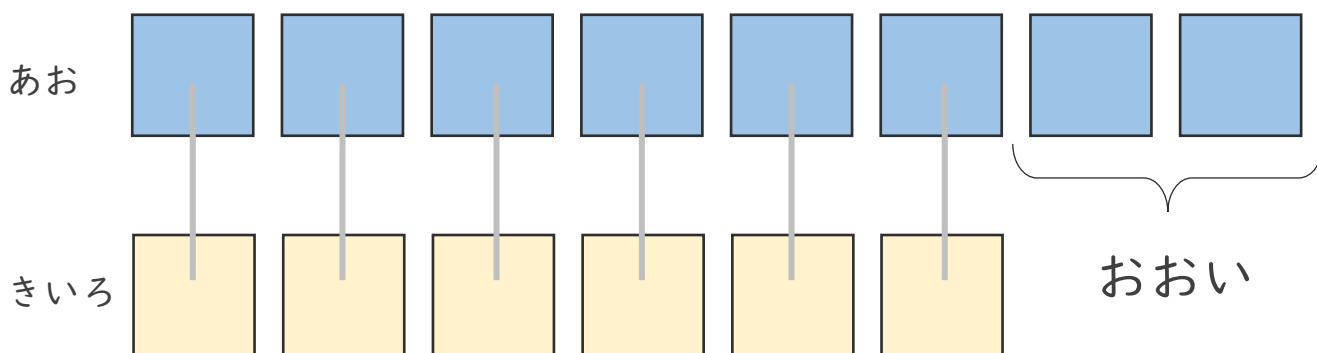
ちがいはいくつ？  
(きゅうさ)






日にち： 月 日

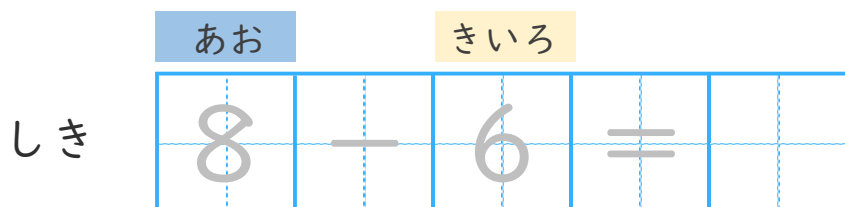
名まえ \_\_\_\_\_


- ・ あおのおりがみが 8まいあります。  
きいろのおりがみが 6まいあります。  
あおのおりがみは、きいろのおりがみよりなんまい  
おおいでしょうか。(うすいじはなぞりましょう。)



 うえの  としたの  を  
せんでおすんでみよう。

ちがいを もとめる ときも  
ひきざんをつかうよ！



こたえ  まい





のこりはいくつ？

ちがいはいくつ？  
(きゅうさ)



日にち： 月 日


名まえ \_\_\_\_\_

・ りんごが 7 こ あります。

みかんが 3 こ あります。

りんごは、みかんより なんこ おおいでしょうか。

(うすいじはなぞりましょう。)



うえの としたの を  
せんでおすんでみよう。

ちがいを もとめる ときも  
ひきざんをつかうよ！



	りんご		みかん					
しき	7	—	=					

こたえ 


 こ





のこりはいくつ 5

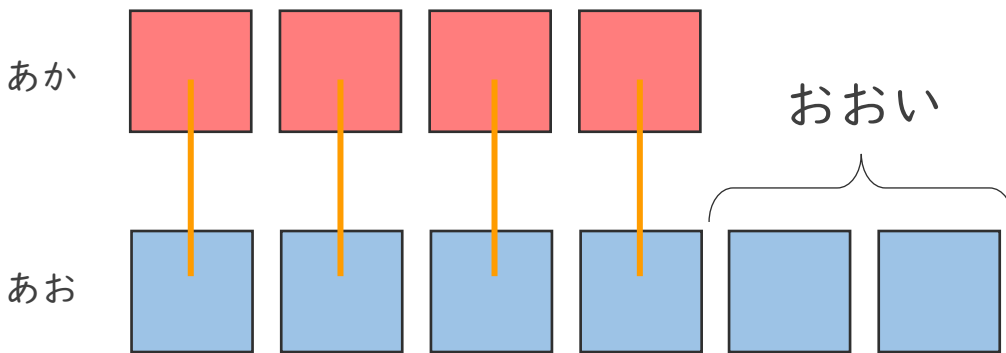
ちがいはいくつ?  
(きゅうさ)





日にち： 月 日

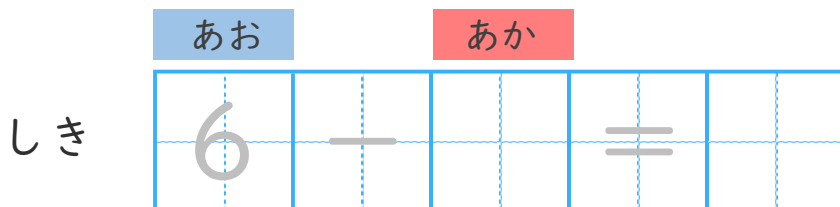
名まえ \_\_\_\_\_


- あかのおりがみが4まいあります。
- あおのおりがみが6まいあります。
- あおのおりがみは、あかのおりがみよりなんまい  
おおいでしょうか。(うすいじはなぞりましょう。)



うえの  としたの  を  
せんでおすんでみよう。

ちがいをもとめるときも  
ひきざんをつかうよ!



こたえ  まい



のこりはいくつ？

ちがいはいくつ？  
(きゅうさ)



日にち： 月 日


名まえ \_\_\_\_\_

・ りんごが 8 こ あります。

みかんが 10 こ あります。

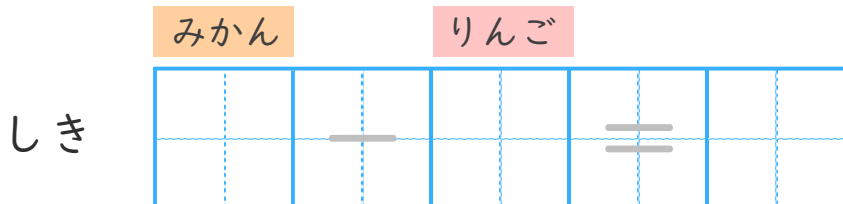
みかんは、りんごよりなんこ おおいでしょうか。

(うすいじはなぞりましょう。)



うえの としたの を  
せんでおすんでみよう。

ちがいを もとめる ときも  
ひきざんをつかうよ！



こたえ 


 こ





のこりはいくつ 5

ちがいはいくつ?  
(きゆうさ)



日にち： 月 日

名まえ \_\_\_\_\_

・ しきにかいて こたえましょう。(うすいじはなぞりましょう。)

① みどりの おりがみが 10まい あります。

きいろの おりがみが 6まい あります。

みどりの おりがみは、きいろの おりがみより なんまい  
おおいでしょうか。

しき


こたえ


まい

② くろい きんぎょが 9ひき います。

あかい きんぎょが 7ひき います。


くろい きんぎょは、あかい きんぎょより なんびき  
おおいでしょうか。

しき


こたえ


ひき





のこりはいくつ？

ちがいはいくつ？

(きゅうさ)



日にち： 月 日

名まえ \_\_\_\_\_

・ しきにかいて こたえましょう。(うすいじはなぞりましょう。)

① きいろのおりがみが6まいあります。

みどりのおりがみが9まいあります。

みどりのおりがみは、きいろのおりがみよりなんまい  
おおいでしょうか。

しき

9	—			=		
---	---	--	--	---	--	--

こたえ


まい

② くろいきんぎょが5ひきいます。

あかいきんぎょが10ひきいます。

あかいきんぎょは、くろいきんぎょよりなんびき  
おおいでしょうか。

しき

		—			=		
--	--	---	--	--	---	--	--

こたえ


ひき





のこりはいくつ？

ちがいはいくつ？

(きゅうさ)



日にち： 月 日

名まえ \_\_\_\_\_

・ しきにかいて こたえましょう。

① りんごが 4 こ あります。

みかんが 5 こ あります。

みかんは、りんごより なんこ おおいでしょうか。

しき


こたえ


こ

② しろいねこが 7 ひき います。

くろいねこが 2 ひき います。

しろいねこは、くろいねこより なんびき

おおいでしょうか。

しき


こたえ


ひき





のこりはいくつ？

ちがいはいくつ？

(きゅうさ)



日にち： 月 日

名まえ \_\_\_\_\_

・ しきにかいて きたえましょう。

① りんごが 8 こ あります。

みかんが 6 こ あります。

りんごは、みかんより なんこ おおいでしょうか。

しき


きたえ


こ

② しろい ねこが 6 ぴき います。

くろい ねこが 10 ぴき います。

くろい ねこは、しろい ねこより なんびき

おおいでしょうか。

しき


きたえ


ひき







のこりはいくつ？

ちがいはいくつ？  
(きゅうさ)



日にち： 月 日

名まえ \_\_\_\_\_

・ しきにかいて こたえましょう。

① きいろのおりがみが7まいあります。

みどりのおりがみが3まいあります。

きいろのおりがみは、みどりのおりがみよりなんまい  
おおいでしょうか。

しき


こたえ


まい

② くろい きんぎょが2ひき います。

あかい きんぎょが9ひき います。

あかい きんぎょは、くろい きんぎょよりなんびき  
おおいでしょうか。

しき


こたえ


ひき





のこりはいくつ？

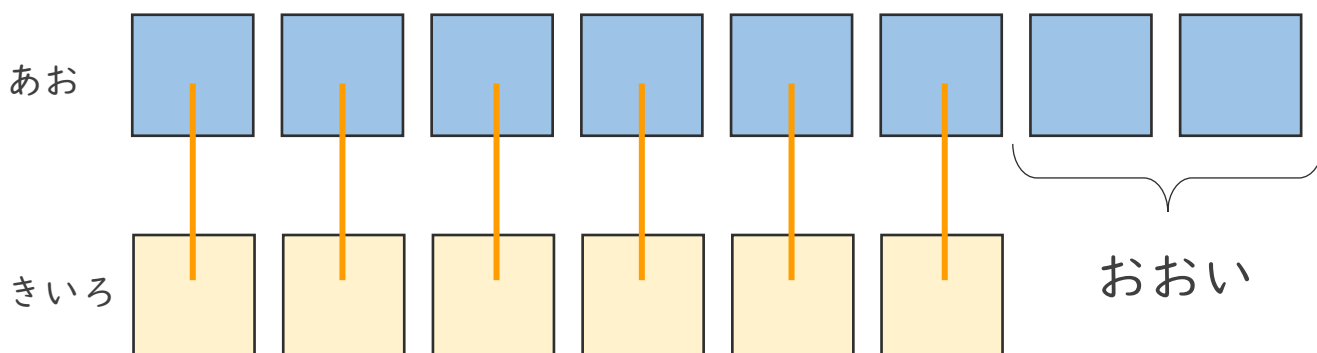
ちがいはいくつ？  
(きゅうさ)



日にち： 月 日

名まえ \_\_\_\_\_

- ・ あおのおりがみが 8まい あります。  
きいろのおりがみが 6まい あります。  
あおのおりがみは、きいろのおりがみより なんまい  
おおいでしょうか。 (うすいじはなぞりましょう。)



うえの としたの を  
せんでおすんでみよう。

ちがいを もとめる ときも  
ひきざんをつかうよ！



あお                      きいろ

しき

8	-	6	=	2
---	---	---	---	---

こたえ まい





のこりはいくつ？

ちがいはいくつ？  
(きゅうさ)



日にち： 月 日


名まえ \_\_\_\_\_

・ りんごが 7 こ あります。

みかんが 3 こ あります。

りんごは、みかんより なんこ おおいでしょうか。

(うすいじはなぞりましょう。)



うえの としたの を  
せんでおすんでみよう。

ちがいを もとめる ときも  
ひきざんをつかうよ！



	りんご		みかん				
しき	7	-	3	=	4		

こたえ 

4
---

 こ





のこりはいくつ 5

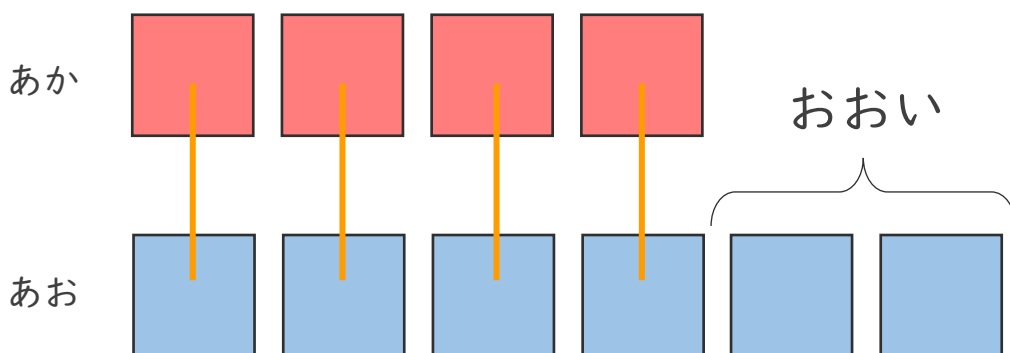
ちがいはいくつ?  
(きゅうさ)






日にち： 月 日

名まえ \_\_\_\_\_

- あかのおりがみが4まいあります。
- あおのおりがみが6まいあります。
- あおのおりがみは、あかのおりがみよりなんまい  
おおいでしょうか。(うすいじはなぞりましょう。)



 うえの  としたの  を  
せんでおすんでみよう。

ちがいをとめるときも  
ひきざんをつかうよ！



あお                      あか

しき

6	-	4	=	2
---	---	---	---	---

こたえ 

2
---

 まい





のこりはいくつ？

ちがいはいくつ？  
(きゅうざ)




日にち： 月 日

名まえ \_\_\_\_\_

- りんごが 8 こ あります。
- みかんが 10 こ あります。
- みかんは、りんごより なんこ おおいでしょうか。

(うすいじはなぞりましょう。)



うえの としたの を  
せんでおすんでみよう。

ちがいを もとめる ときも  
ひきざんをつかうよ！



	みかん		りんご		
しき	10	-	8	=	2

こたえ 

2
---

 こ





のこりはいくつ？

ちがいはいくつ？

(きゅうさ)



日にち： 月 日

名まえ \_\_\_\_\_

・ しきにかいて こたえましょう。(うすいじはなぞりましょう。)

① みどりの おりがみが 10まい あります。

きいろの おりがみが 6まい あります。

みどりの おりがみは、きいろの おりがみより なんまい  
おおいでしょうか。

しき

$$10 - 6 = 4$$

こたえ

4

まい

② くろい きんぎょが 9ひき います。

あかい きんぎょが 7ひき います。

くろい きんぎょは、あかい きんぎょより なんびき  
おおいでしょうか。

しき

$$9 - 7 = 2$$

こたえ

2

ひき





のこりはいくつ？

ちがいはいくつ？

(きゅうさ)



日にち： 月 日

名まえ \_\_\_\_\_

・ しきにかいて こたえましょう。(うすいじはなぞりましょう。)

① きいろのおりがみが6まいあります。

みどりのおりがみが9まいあります。

みどりのおりがみは、きいろのおりがみよりなんまい  
おおいでしょうか。

しき

$$9 - 6 = 3$$

こたえ

3

まい

② くろいきんぎょが5ひきいます。

あかいきんぎょが10ひきいます。

あかいきんぎょは、くろいきんぎょよりなんびき  
おおいでしょうか。

しき

$$10 - 5 = 5$$

こたえ

5

ひき





のこりはいくつ？

ちがいはいくつ？

(きゅうさ)



日にち： 月 日

名まえ \_\_\_\_\_

・ しきにかいて こたえましょう。

① りんごが 4 こ あります。

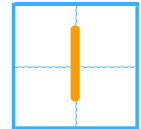
みかんが 5 こ あります。

みかんは、りんごより なんこ おおいでしょうか。

しき

$$5 - 4 = 1$$

こたえ



こ

② しろいねこが 7 ひき います。

くろいねこが 2 ひき います。

しろいねこは、くろいねこより なんびき

おおいでしょうか。

しき

$$7 - 2 = 5$$

こたえ



ひき







のこりはいくつ？

ちがいはいくつ？

(きゆうさ)



日にち： 月 日

名まえ \_\_\_\_\_

・ しきにかいて こたえましょう。

① りんごが 8 こ あります。

みかんが 6 こ あります。

りんごは、みかんより なんこ おおいでしょうか。

しき

$$8 - 6 = 2$$

こたえ

2

こ

② しろいねこが 6 ひき います。

くろいねこが 10 ひき います。

くろいねこは、しろいねこより なんひき

おおいでしょうか。

しき

$$10 - 6 = 4$$

こたえ

4

ひき





のこりはいくつ？

ちがいはいくつ？

(きゅうさ)



日にち： 月 日

名まえ \_\_\_\_\_

・ しきにかいて こたえましょう。

① きいろのおりがみが7まいあります。

みどりのおりがみが3まいあります。

きいろのおりがみは、みどりのおりがみよりなんまい  
おおいでしょうか。

しき

$$7 - 3 = 4$$

こたえ

4

まい

② くろい きんぎょが2ひきいます。

あかい きんぎょが9ひきいます。

あかい きんぎょは、くろい きんぎょよりなんびき  
おおいでしょうか。

しき

$$9 - 2 = 7$$

こたえ

7

ひき

