



のこりはいくつ？

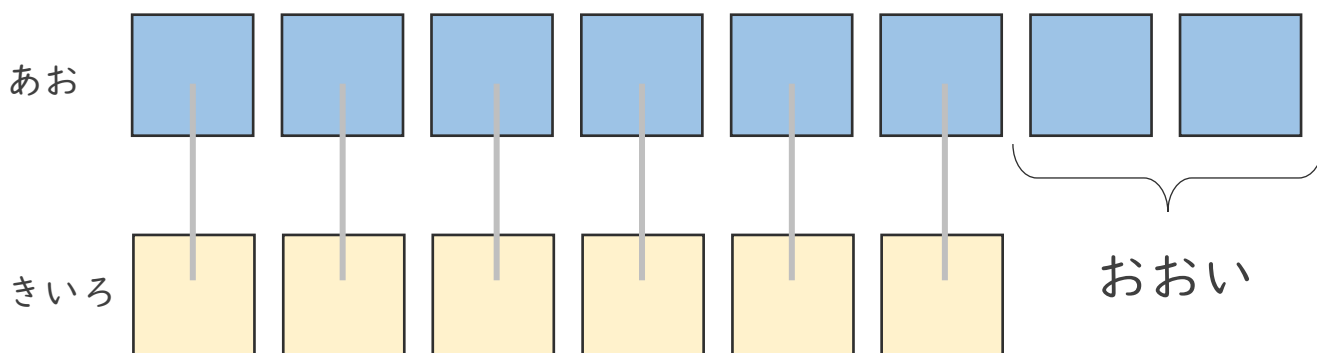
ちがいはいくつ？
(きゅうさ)






日にち： 月 日

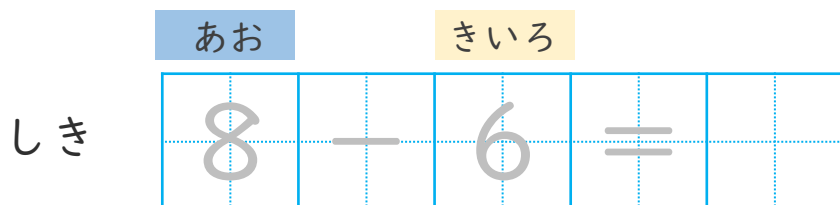
名まえ _____

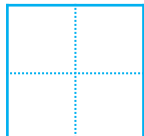
- ・ あおのおりがみが 8まいあります。
きいろのおりがみが 6まいあります。
あおのおりがみは、きいろのおりがみよりなんまい
おおいでしょうか。(うすいじはなぞりましょう。)



 うえの  としたの  を
せんでおすんでみよう。

ちがいを もとめる ときも
ひきざんをつかうよ！



こたえ  まい





のこりはいくつ 5

ちがいはいくつ?
(きゅうさ)



日にち： 月 日


名まえ _____

・ りんごが 7 こ あります。

みかんが 3 こ あります。

りんごは、みかんより なんこ おおいでしょうか。

(うすいじはなぞりましょう。)



うえの としたの を
せんでおすんでみよう。

ちがいを もとめる ときも
ひきざんをつかうよ!



	りんご		みかん				
しき	7	—	=				

こたえ

 こ



のこりはいくつ 5

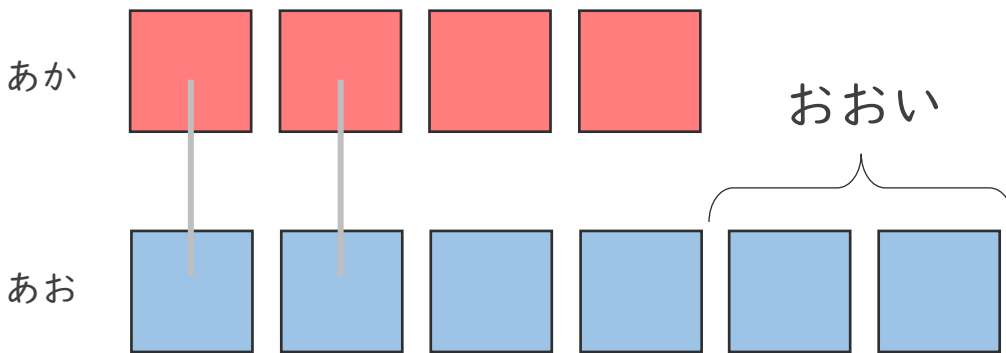
ちがいはいくつ?
(きゅうさ)






日にち： 月 日

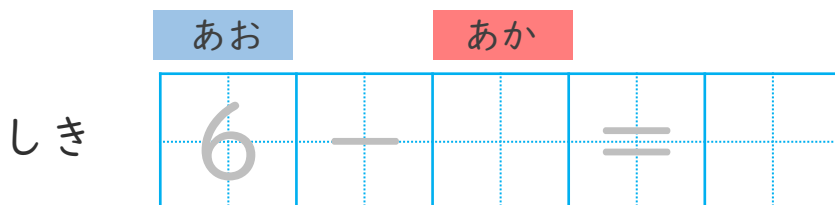
名まえ _____

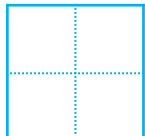
- あかのおりがみが4まいあります。
- あおのおりがみが6まいあります。
- あおのおりがみは、あかのおりがみよりなんまい
おおいでしょうか。(うすいじはなぞりましょう。)



 うえの  としたの  を
せんでおすんでみよう。

ちがいをとめるときも
ひきざんをつかうよ!



こたえ  まい



のこりはいくつ？

ちがいはいくつ？
(きゅうさ)



日にち： 月 日


名まえ _____

・ りんごが 8 こ あります。

みかんが 10 こ あります。

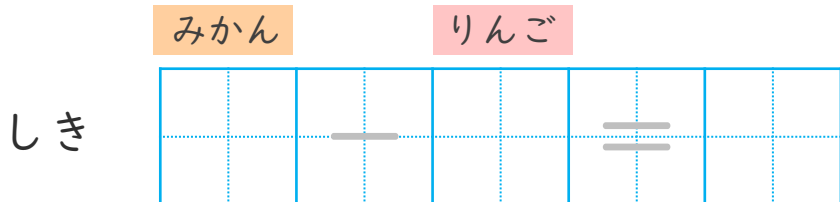
みかんは、りんごよりなんこ おおいでしょうか。

(うすいじはなぞりましょう。)



 うえの  としたの  を
せんで おすんでみよう。

ちがいを もとめる ときも
ひきざんをつかうよ！



こたえ

 こ





のこりはいくつ？

ちがいはいくつ？
(きゅうさ)



日にち： 月 日

名まえ _____

・ しきにかいて こたえましょう。(うすいじはなぞりましょう。)

① みどりの おりがみが 10まい あります。

きいろの おりがみが 6まい あります。

みどりの おりがみは、きいろの おりがみより なんまい
おおいでしょうか。

しき

こたえ

まい

② くろい きんぎょが 9ひき います。

あかい きんぎょが 7ひき います。

くろい きんぎょは、あかい きんぎょより なんびき
おおいでしょうか。

しき

こたえ

ひき





のこりはいくつ？

ちがいはいくつ？
(きゅうさ)



日にち： 月 日

名まえ _____

・ しきにかいて こたえましょう。(うすいじはなぞりましょう。)

① きいろのおりがみが6まいあります。

みどりのおりがみが9まいあります。

みどりのおりがみは、きいろのおりがみよりなんまい
おおいでしょうか。

しき

9	—			=		
---	---	--	--	---	--	--

こたえ

まい

② くろいきんぎょが5ひきいます。

あかいきんぎょが10ひきいます。

あかいきんぎょは、くろいきんぎょよりなんびき
おおいでしょうか。

しき

		—			=	

こたえ

ひき





のこりはいくつ？

ちがいはいくつ？

(きゅうさ)



日にち： 月 日

名まえ _____

・ しきにかいて きたえましょう。

① りんごが 4 こ あります。

みかんが 5 こ あります。

みかんは、りんごより なんこ おおいでしょうか。

しき

きたえ

こ

② しろい ねこが 7 ひき います。

くろい ねこが 2 ひき います。

しろい ねこは、くろい ねこより なんびき

おおいでしょうか。

しき

きたえ

ひき





のこりはいくつ？

ちがいはいくつ？

(きゅうさ)



日にち： 月 日

名まえ _____

・ しきにかいて こたえましょう。

① りんごが 8 こ あります。

みかんが 6 こ あります。

りんごは、みかんより なんこ おおいでしょうか。

しき

こたえ

こ

② しろいねこが 6 ぴき います。

くろいねこが 10 ぴき います。

くろいねこは、しろいねこより なんびき

おおいでしょうか。

しき

こたえ

ひき





のこりはいくつ？

ちがいはいくつ？

(きゅうさ)



日にち： 月 日

名まえ _____

・ しきにかいて こたえましょう。

① きいろの おりがみが 7まい あります。

みどりの おりがみが 3まい あります。

きいろの おりがみは、みどりの おりがみより なんまい
おおいでしょうか。

しき

こたえ

まい

② くろい きんぎょが 2ひき います。

あかい きんぎょが 9ひき います。

あかい きんぎょは、くろい きんぎょより なんびき
おおいでしょうか。

しき

こたえ

ひき





のこりはいくつ？

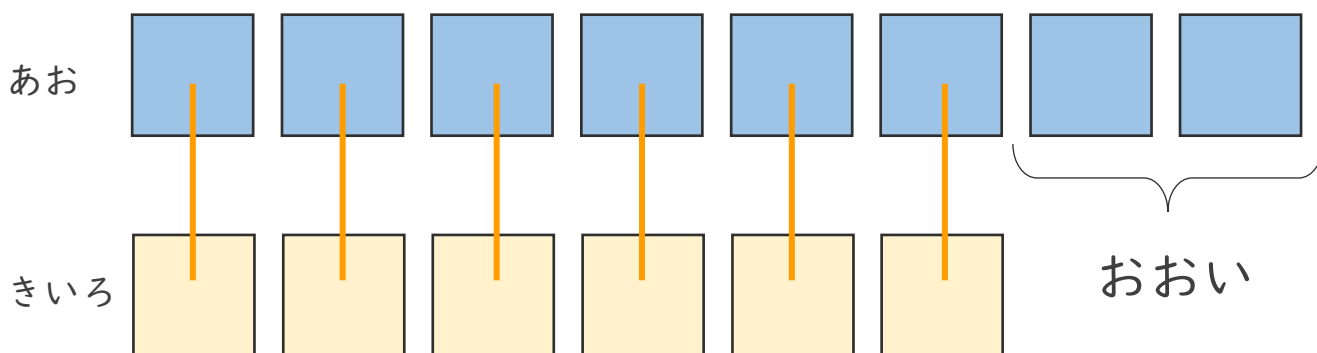
ちがいはいくつ？
(きゅうさ)






日にち： 月 日

名まえ _____

- ・ あおのおりがみが 8まい あります。
きいろのおりがみが 6まい あります。
あおのおりがみは、きいろのおりがみより なんまい
おおいでしょうか。 (うすいじはなぞりましょう。)



 うえの  としたの  を
せんでおすんでみよう。

ちがいを もとめる ときも
ひきざんをつかうよ！



あお きいろ

しき

8	-	6	=	2
---	---	---	---	---

こたえ  まい





のこりはいくつ？

ちがいはいくつ？
(きゅうさ)



日にち： 月 日


名まえ _____

・ りんごが 7 こ あります。

みかんが 3 こ あります。

りんごは、みかんより なんこ おおいでしょうか。

(うすいじはなぞりましょう。)



うえの としたの を
せんでおすんでみよう。

ちがいを もとめる ときも
ひきざんをつかうよ！



	りんご		みかん		
しき	7	-	3	=	4

こたえ

4

 こ



のこりはいくつ 5

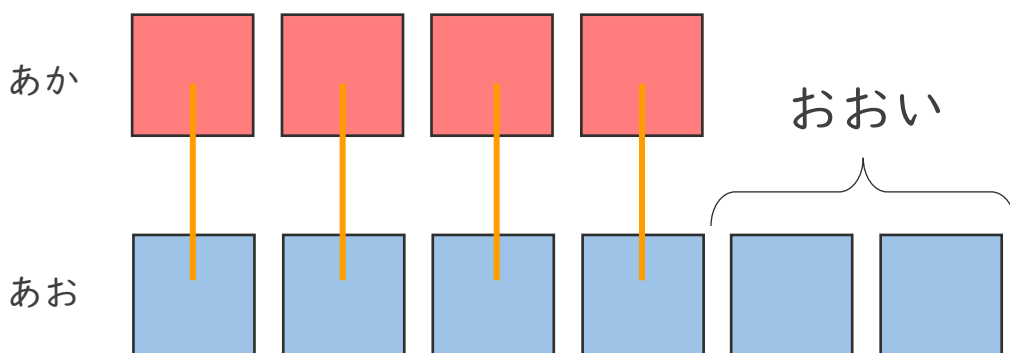
ちがいはいくつ?
(きゅうさ)



日にち： 月 日

名まえ _____

- あかのおりがみが4まいあります。
- あおのおりがみが6まいあります。
- あおのおりがみは、あかのおりがみよりなんまい
おおいでしょうか。(うすいじはなぞりましょう。)



うえの としたの を
せんでおすんでみよう。

ちがいをとめるときも
ひきざんをつかうよ！



あお あか

しき

6	-	4	=	2
---	---	---	---	---

こたえ まい





のこりはいくつ？

ちがいはいくつ？
(きゅうさ)




日にち： 月 日

名まえ _____

- りんごが 8 こ あります。
- みかんが 10 こ あります。
- みかんは、りんごより なんこ おおいでしょうか。

(うすいじはなぞりましょう。)



 うえの  としたの  を
せんでおすんでみよう。

ちがいを もとめる ときも
ひきざんをつかうよ！



	みかん		りんご		
しき	10	—	8	=	2

こたえ

2

 こ



のこりはいくつ？

ちがいはいくつ？
(きゅうさ)



日にち： 月 日

名まえ _____

・ しきにかいて こたえましょう。(うすいじはなぞりましょう。)

① みどりの おりがみが 10まい あります。

きいろの おりがみが 6まい あります。

みどりの おりがみは、きいろの おりがみより なんまい
おおいでしょうか。

しき

$$10 - 6 = 4$$

こたえ

4

まい

② くろい きんぎょが 9ひき います。

あかい きんぎょが 7ひき います。

くろい きんぎょは、あかい きんぎょより なんびき
おおいでしょうか。

しき

$$9 - 7 = 2$$

こたえ

2

ひき





のこりはいくつ？

ちがいはいくつ？

(きゅうさ)



日にち： 月 日

名まえ _____

・ しきにかいて こたえましょう。(うすいじはなぞりましょう。)

① きいろのおりがみが6まいあります。

みどりのおりがみが9まいあります。

みどりのおりがみは、きいろのおりがみよりなんまい
おおいでしょうか。

しき

$$9 - 6 = 3$$

こたえ

3

まい

② くろいきんぎょが5ひきいます。

あかいきんぎょが10ひきいます。

あかいきんぎょは、くろいきんぎょよりなんびき
おおいでしょうか。

しき

$$10 - 5 = 5$$

こたえ

5

ひき





のこりはいくつ？

ちがいはいくつ？

(きゅうさ)



日にち： 月 日

名まえ _____

・ しきにかいて こたえましょう。

① りんごが 4 こ あります。

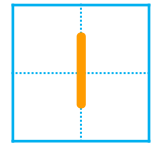
みかんが 5 こ あります。

みかんは、りんごより なんこ おおいでしょうか。

しき

$$5 - 4 = 1$$

こたえ



こ

② しろいねこが 7 ひき います。

くろいねこが 2 ひき います。

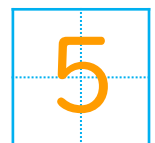
しろいねこは、くろいねこより なんびき

おおいでしょうか。

しき

$$7 - 2 = 5$$

こたえ



ひき





のこりはいくつ？

ちがいはいくつ？

(きゆうさ)



日にち： 月 日

名まえ _____

・ しきにかいて こたえましょう。

① りんごが 8 こ あります。

みかんが 6 こ あります。

りんごは、みかんより なんこ おおいでしょうか。

しき

$$8 - 6 = 2$$

こたえ

2

こ

② しろいねこが 6 ひき います。

くろいねこが 10 ひき います。

くろいねこは、しろいねこより なんひき

おおいでしょうか。

しき

$$10 - 6 = 4$$

こたえ

4

ひき





のこりはいくつ？

ちがいはいくつ？

(きゅうさ)



日にち： 月 日

名まえ _____

・ しきにかいて きたえましょう。

① きいろの おりがみが 7まい あります。

みどりの おりがみが 3まい あります。

きいろの おりがみは、みどりの おりがみより なんまい
おおいでしょうか。

しき

$$7 - 3 = 4$$

きたえ

4

まい

② くろい きんぎょが 2ひき います。

あかい きんぎょが 9ひき います。

あかい きんぎょは、くろい きんぎょより なんびき
おおいでしょうか。

しき

$$9 - 2 = 7$$

きたえ

7

ひき

