



のこりはいくつ 8

ひきざんのけいさん



日にち： 月 日

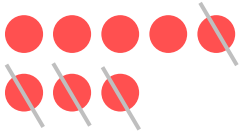
名まえ _____

- ひきざんをしましょう。(うすいじはなぞりましょう。)

① $5 - 2 =$



② $8 - 4 =$



③ $7 - 1 =$



④ $4 - 2 =$



⑤ $9 - 8 =$





のこりはいくつ 8

● ひきざんの けいさん

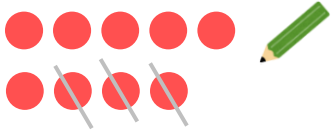
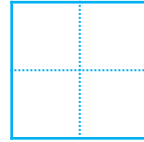


日にち： 月 日

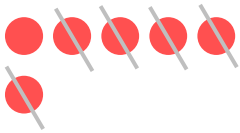
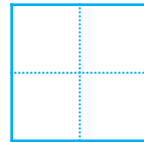
名まえ _____

- ・ ひきざんを しまししょう。(うすいところはなぞりましよう。)


① $9 - 3 =$



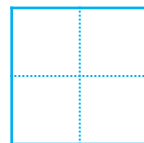
② $6 - 5 =$



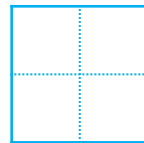
③ $3 - 1 =$



④ $8 - 2 =$



⑤ $7 - 4 =$





のこりはいくつ 8

ひきざんの けいさん

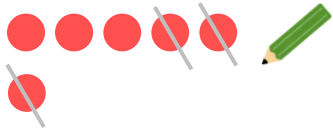
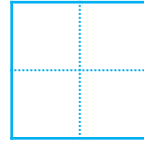


日にち： 月 日

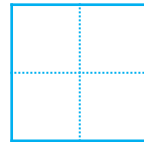
名まえ _____

- ひきざんを しましよう。(うすいところはなぞりましよう。)


① $6 - 3 =$




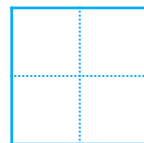
② $8 - 5 =$



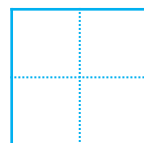
③ $5 - 4 =$



④ $9 - 7 =$



⑤ $7 - 2 =$





のこりはいくつ 8

ひきざんの けいさん

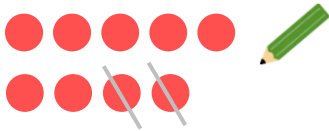
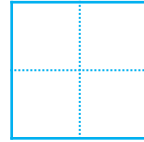


日にち： 月 日

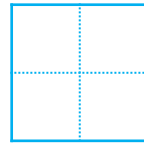
名まえ _____

- ひきざんを しましよう。(うすいところはなぞりましよう。)


① $9 - 2 =$



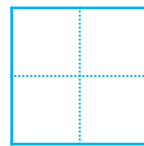
② $2 - 1 =$



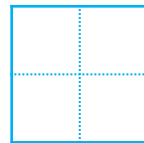
③ $8 - 6 =$



④ $7 - 3 =$



⑤ $6 - 4 =$





のこりはいくつ 8

● ひきざんの けいさん



日にち： 月 日

名まえ _____

- ・ ひきざんを しまししょう。(うすいじはなぞりまししょう。)

① $8 - 3 =$

② $4 - 1 =$

③ $9 - 5 =$

④ $7 - 6 =$

⑤ $6 - 1 =$



のこりはいくつ 8

● ひきざんの けいさん



日にち： 月 日

名まえ _____

- ・ ひきざんを しまししょう。(うすいじは なぞりまししょう。)

① $5 - 3 =$

② $9 - 6 =$

③ $8 - 1 =$

④ $7 - 5 =$

⑤ $4 - 3 =$



のこりはいくつ 8

● ひきざんの けいさん




日にち： 月 日

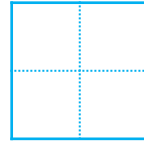
名まえ _____

・ ひきざんを しましょう。

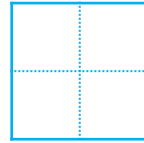
① $9 - 4 =$



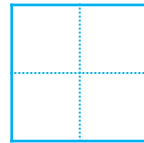
② $3 - 2 =$



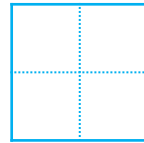
③ $8 - 7 =$



④ $6 - 2 =$



⑤ $5 - 1 =$





のこりはいくつ 8

ひきざんのけいさん

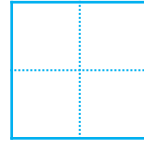


日にち： 月 日

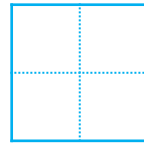
名まえ _____

・ ひきざんをしましょう。


① $9 - 1 =$



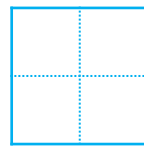
② $7 - 4 =$



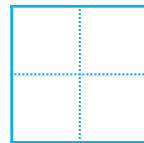
③ $5 - 3 =$



④ $6 - 2 =$



⑤ $8 - 3 =$





のこりはいくつ 8

● ひきざんの けいさん




日にち： 月 日

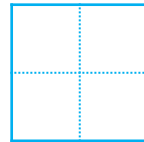
名まえ _____

・ ひきざんを しましょう。


① $3 - 2 =$



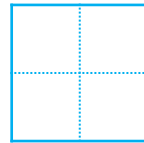
② $8 - 5 =$



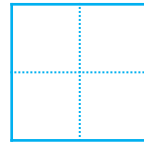
③ $9 - 4 =$



④ $5 - 3 =$



⑤ $8 - 6 =$





のこりはいくつ 8

ひきざんのけいさん

10

日にち： 月 日

名まえ _____

・ ひきざんをしましょう。

① $7 - 6 =$

② $9 - 7 =$

③ $8 - 3 =$

④ $6 - 2 =$

⑤ $3 - 1 =$

⑥ $5 - 4 =$



のこりはいくつ 8

ひきざんのけいさん




日にち： 月 日

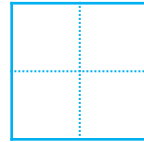
名まえ _____

・ ひきざんをしましょう。

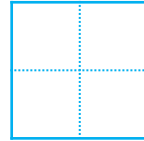
① $9 - 5 =$



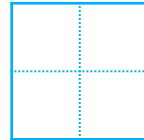
② $6 - 4 =$



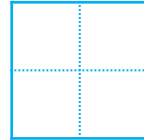
③ $4 - 2 =$



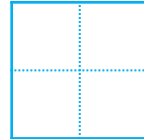
④ $7 - 1 =$



⑤ $8 - 7 =$



⑥ $5 - 3 =$





のこりはいくつ 8

ひきざんのけいさん

12

日にち： 月 日

名まえ _____

・ ひきざんをしましょう。

① $8 - 4 =$

② $9 - 3 =$

③ $2 - 1 =$

④ $7 - 5 =$

⑤ $8 - 6 =$

⑥ $5 - 2 =$





のこりはいくつ 8

● ひきざんの けいさん


13

日にち： 月 日

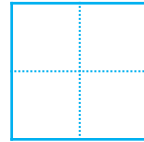
名まえ _____

・ ひきざんを しましょう。

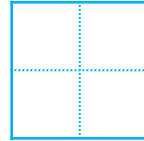
① $4 - 3 =$



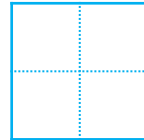
② $3 - 2 =$




③ $9 - 6 =$



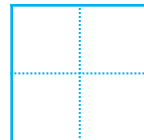
④ $7 - 4 =$



⑤ $6 - 5 =$



⑥ $8 - 1 =$





のこりはいくつ 8

● ひきざんのけいさん

14

日にち： 月 日

名まえ _____

・ ひきざんをしましょう。

① $9 - 2 =$

② $5 - 1 =$

③ $8 - 5 =$

④ $7 - 3 =$

⑤ $9 - 4 =$

⑥ $6 - 1 =$




のこりはいくつ 8

● ひきざんの けいさん

15

めざせ80てん!



名まえ _____

・ ひきざんを しましょう。(各20点)

① $9 - 7 =$ 

② $4 - 2 =$ 

③ $6 - 3 =$ 

④ $7 - 2 =$ 

⑤ $8 - 2 =$ 




のこりはいくつ 8

● ひきざんの けいさん

16

めざせ80てん!



てん

名まえ _____

・ ひきざんを しましょう。(各20点)

① $8 - 2 =$ 

② $9 - 1 =$ 

③ $6 - 4 =$ 

④ $7 - 6 =$ 

⑤ $6 - 3 =$ 



のこりはいくつ 8

ひきざんの けいさん

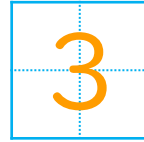


日にち： 月 日

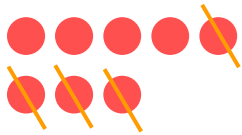
名まえ _____

- ひきざんを しまししょう。(うすいじはなぞりまししょう。)


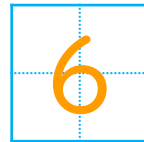
① $5 - 2 =$



② $8 - 4 =$




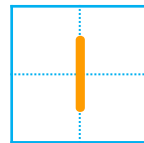
③ $7 - 1 =$



④ $4 - 2 =$



⑤ $9 - 8 =$





のこりはいくつ 8

ひきざんの けいさん

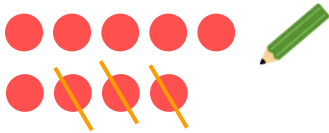
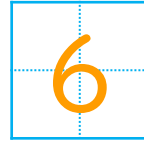


日にち： 月 日


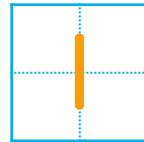
名まえ _____

- ひきざんを しましう。 (うすいところはなぞりましう。)


① $9 - 3 =$




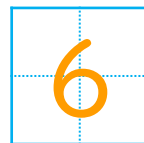
② $6 - 5 =$




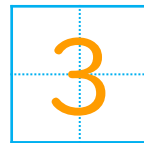
③ $3 - 1 =$



④ $8 - 2 =$



⑤ $7 - 4 =$





のこりはいくつ 8

ひきざんの けいさん

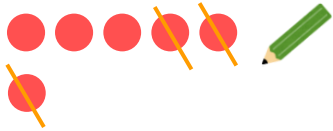
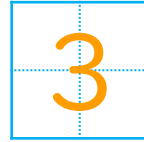


日にち： 月 日

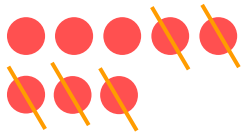
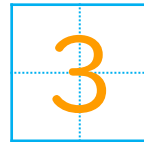
名まえ _____

- ひきざんを しましう。 (うすいところはなぞりましう。)

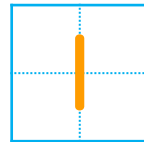
① $6 - 3 =$





② $8 - 5 =$




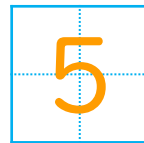
③ $5 - 4 =$



④ $9 - 7 =$



⑤ $7 - 2 =$





のこりはいくつ 8

ひきざんの けいさん




日にち： 月 日

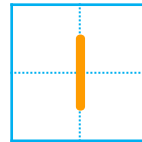
名まえ _____

- ひきざんを しましょう。(うすいところは なぞりましょう。)

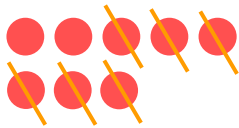
① $9 - 2 =$




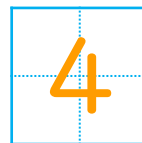
② $2 - 1 =$



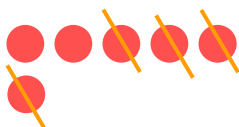
③ $8 - 6 =$



④ $7 - 3 =$



⑤ $6 - 4 =$





のこりはいくつ 8

● ひきざんの けいさん



日にち： 月 日

名まえ _____

- ・ ひきざんを しまししょう。(うすいじはなぞりまししょう。)

① $8 - 3 =$

② $4 - 1 =$

③ $9 - 5 =$

④ $7 - 6 =$

⑤ $6 - 1 =$





のこりはいくつ 8

ひきざんの けいさん



日にち： 月 日

名まえ _____

・ ひきざんを しまししょう。(うすいじはなぞりまししょう。)

① $5 - 3 =$

② $9 - 6 =$

③ $8 - 1 =$

④ $7 - 5 =$

⑤ $4 - 3 =$





のこりはいくつ 8

● ひきざんの けいさん



日にち： 月 日

名まえ _____

・ ひきざんを しましょう。

① $9 - 4 =$ 5

② $3 - 2 =$ 1

③ $8 - 7 =$ 1

④ $6 - 2 =$ 4

⑤ $5 - 1 =$ 4





のこりはいくつ 8

● ひきざんの けいさん

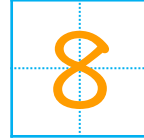


日にち： 月 日

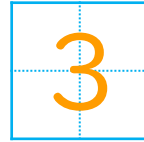
名まえ _____

・ ひきざんを しましょう。

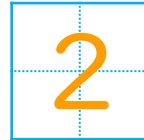
① $9 - 1 =$



② $7 - 4 =$



③ $5 - 3 =$



④ $6 - 2 =$



⑤ $8 - 3 =$





のこりはいくつ 8

● ひきざんの けいさん

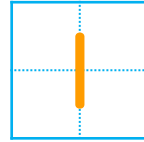


日にち： 月 日

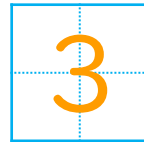
名まえ _____

・ ひきざんを しましょう。

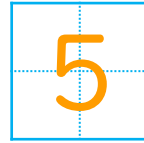
① $3 - 2 =$



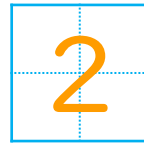
② $8 - 5 =$



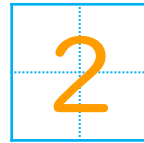
③ $9 - 4 =$



④ $5 - 3 =$



⑤ $8 - 6 =$





のこりはいくつ 8

● ひきざんの けいさん

10

日にち： 月 日

名まえ _____

・ ひきざんを しましょう。

① $7 - 6 =$

1

② $9 - 7 =$

2

③ $8 - 3 =$

5

④ $6 - 2 =$

4

⑤ $3 - 1 =$

2

⑥ $5 - 4 =$

1





のこりはいくつ 8

ひきざんのけいさん



日にち： 月 日

名まえ _____

・ ひきざんをしましょう。

① $9 - 5 =$

② $6 - 4 =$

③ $4 - 2 =$

④ $7 - 1 =$

⑤ $8 - 7 =$

⑥ $5 - 3 =$





のこりはいくつ 8

● ひきざんの けいさん

12

日にち： 月 日

名まえ _____

・ ひきざんを しましょう。

① $8 - 4 =$

② $9 - 3 =$

③ $2 - 1 =$

④ $7 - 5 =$

⑤ $8 - 6 =$

⑥ $5 - 2 =$





のこりはいくつ 8

● ひきざんの けいさん

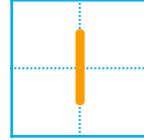
13

日にち： 月 日

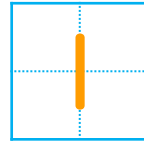
名まえ _____

・ ひきざんを しましょう。

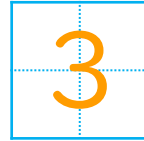
① $4 - 3 =$



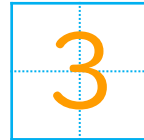
② $3 - 2 =$



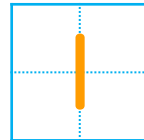
③ $9 - 6 =$



④ $7 - 4 =$



⑤ $6 - 5 =$



⑥ $8 - 1 =$





のこりはいくつ 8

● ひきざんの けいさん

14

日にち： 月 日

名まえ _____

・ ひきざんを しましょう。

① $9 - 2 =$

② $5 - 1 =$

③ $8 - 5 =$

④ $7 - 3 =$

⑤ $9 - 4 =$

⑥ $6 - 1 =$






のこりはいくつ 8

● ひきざんの けいさん

15

めざせ80てん!



名まえ _____

・ ひきざんを しましょう。(各20点)

① $9 - 7 =$

② $4 - 2 =$

③ $6 - 3 =$

④ $7 - 2 =$

⑤ $8 - 2 =$






のこりはいくつ 8

● ひきざんの けいさん

16

めざせ80てん!



名まえ _____

・ ひきざんを しましょう。(各20点)

① $8 - 2 =$

② $9 - 1 =$

③ $6 - 4 =$

④ $7 - 6 =$

⑤ $6 - 3 =$