



のこりはいくつ？

◎ 10からひくひきざん


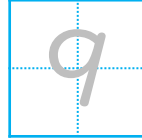


日にち： 月 日


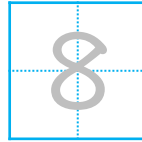
名まえ _____

・ ひきざんをしましょう。(うすいじはなぞりましょう。)

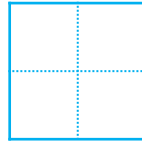
① $10 - 1 =$



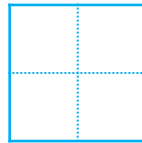
② $10 - 2 =$




③ $10 - 3 =$



④ $10 - 4 =$



⑤ $10 - 5 =$





のこりはいくつ？

◎ 10 から ひく ひきざん

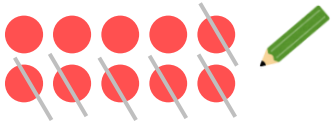
2

日にち： 月 日

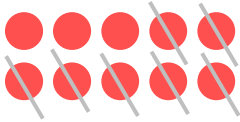
名まえ _____

・ ひきざんを しまししょう。(うすいじはなぞりまししょう。)

① $10 - 6 =$



② $10 - 7 =$



③ $10 - 8 =$



④ $10 - 9 =$



⑤ $10 - 1 =$





のこりはいくつ？

◎ 10 から ひく ひきざん

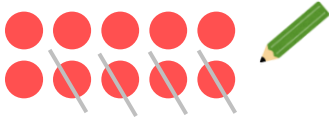
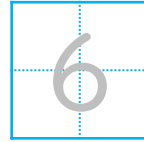


日にち： 月 日

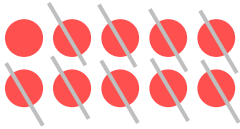
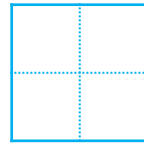
名まえ _____

- ひきざんを しましょう。(うすいところはなぞりましょう。)

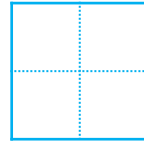
① $10 - 4 =$



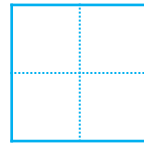
② $10 - 9 =$



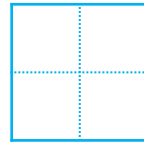
③ $10 - 3 =$



④ $10 - 6 =$



⑤ $10 - 5 =$





のこりはいくつ？

◎ 10 から ひく ひきざん

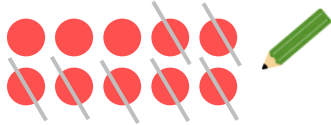
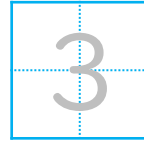


日にち： 月 日


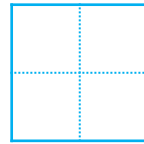
名まえ _____

- ひきざんを しまししょう。(うすいところは なぞりまししょう。)


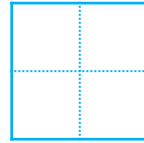
① $10 - 7 =$



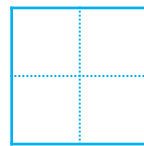
② $10 - 1 =$



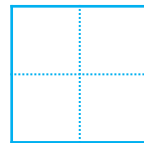
③ $10 - 8 =$



④ $10 - 2 =$



⑤ $10 - 4 =$





のこりはいくつ？

◎ 10からひくひきざん



日にち： 月 日

名まえ _____

・ ひきざんをしましょう。(うすいじはなぞりましょう。)

① $10 - 3 =$

② $10 - 1 =$

③ $10 - 5 =$

④ $10 - 6 =$

⑤ $10 - 8 =$





のこりはいくつ？

◎ 10 から ひく ひきざん



日にち： 月 日

名まえ _____

- ・ ひきざんを しましょう。(うすいじはなぞりましょう。)

① $10 - 9 =$

② $10 - 4 =$

③ $10 - 2 =$

④ $10 - 7 =$

⑤ $10 - 5 =$



のこりはいくつ？

◎ 10 から ひく ひきざん

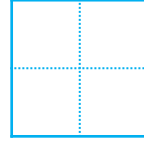


日にち： 月 日

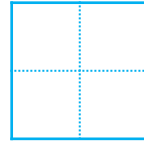
名まえ _____

・ ひきざんを しましょう。

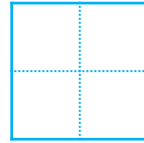
① $10 - 3 =$



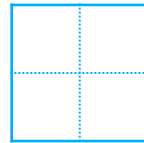
② $10 - 8 =$



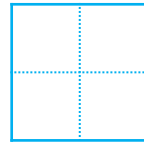
③ $10 - 5 =$



④ $10 - 1 =$



⑤ $10 - 7 =$





のこりはいくつ？

◎ 10からひくひきざん



日にち： 月 日

名まえ _____

・ ひきざんをしましょう。

① $10 - 9 =$

② $10 - 4 =$

③ $10 - 2 =$

④ $10 - 6 =$

⑤ $10 - 3 =$



のこりはいくつ 9

◎ 10 から ひく ひきざん




日にち： 月 日


名まえ _____

・ ひきざんを しましょう。

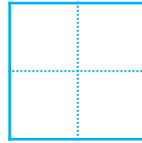
① $10 - 4 =$



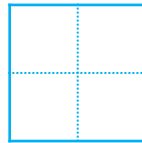
② $10 - 7 =$




③ $10 - 9 =$



④ $10 - 2 =$



⑤ $10 - 6 =$





のこりはいくつ？

◎ 10 から ひく ひきざん


10

日にち： 月 日

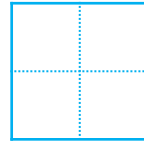
名まえ _____

・ ひきざんを しましょう。

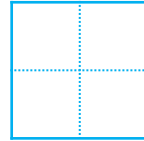
① $10 - 6 =$



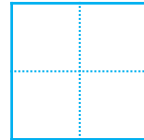
② $8 - 7 =$




③ $6 - 3 =$



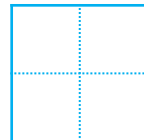
④ $4 - 2 =$



⑤ $5 - 1 =$



⑥ $10 - 4 =$





のこりはいくつ 9

◎ 10 から ひく ひきざん




日にち： 月 日

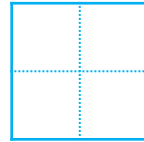
名まえ _____

・ ひきざんを しましょう。

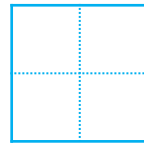
① $9 - 6 =$



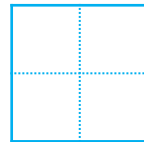
② $7 - 3 =$



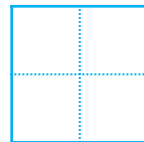
③ $2 - 1 =$



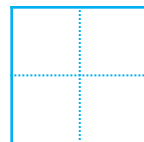
④ $5 - 3 =$



⑤ $10 - 2 =$



⑥ $6 - 5 =$





のこりはいくつ？

◎ 10からひくひきざん

12

日にち： 月 日

名まえ _____

・ ひきざんをしましょう。

① $8 - 3 =$

② $9 - 4 =$

③ $5 - 2 =$

④ $10 - 3 =$

⑤ $6 - 2 =$

⑥ $7 - 1 =$



のこりはいくつ？

● 10からひくひきざん


13

日にち： 月 日

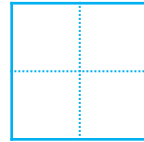
名まえ _____

・ ひきざんをしましょう。

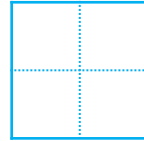
① $6 - 4 =$



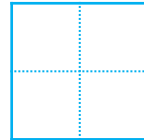
② $10 - 1 =$




③ $4 - 3 =$



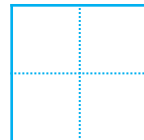
④ $7 - 5 =$



⑤ $10 - 9 =$



⑥ $8 - 5 =$





のこりはいくつ？

◎ 10からひくひきざん


14

日にち： 月 日

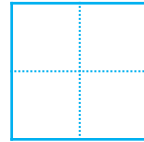
名まえ _____

・ ひきざんをしましょう。

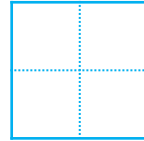
① $8 - 1 =$



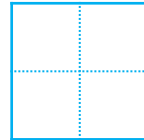
② $5 - 4 =$




③ $7 - 6 =$



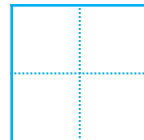
④ $10 - 8 =$



⑤ $9 - 2 =$



⑥ $10 - 5 =$






のこりはいくつ？

◎ 10 から ひく ひきざん

15

めざせ80てん!



名まえ _____

・ ひきざんを しましょう。(各20点)

① $10 - 7 =$

② $7 - 2 =$

③ $3 - 1 =$

④ $9 - 3 =$

⑤ $8 - 4 =$




のこりはいくつ？

◎ 10 から ひく ひきざん

16


めざせ80てん!



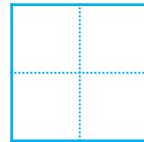
名まえ _____

・ ひきざんを しましょう。(各20点)


① $10 - 4 =$



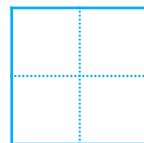
② $6 - 1 =$



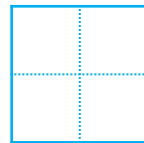
③ $8 - 5 =$



④ $9 - 7 =$



⑤ $3 - 2 =$





のこりはいくつ？

◎ 10 から ひく ひきざん


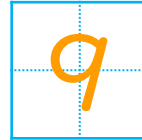


日にち： 月 日

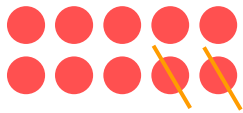
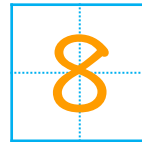
名まえ _____

・ ひきざんを しましょう。(うすいじはなぞりましょう。)

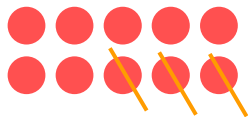
$$\textcircled{1} \quad 10 - 1 =$$




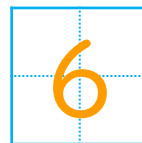
$$\textcircled{2} \quad 10 - 2 =$$




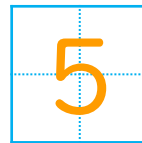
$$\textcircled{3} \quad 10 - 3 =$$



$$\textcircled{4} \quad 10 - 4 =$$



$$\textcircled{5} \quad 10 - 5 =$$





のこりはいくつ？

◎ 10 から ひく ひきざん

2


日にち： 月 日

名まえ _____

・ ひきざんを しましょう。(うすいじはなぞりましょう。)


$$\textcircled{1} \quad 10 - 6 =$$

4




$$\textcircled{2} \quad 10 - 7 =$$

3



$$\textcircled{3} \quad 10 - 8 =$$

2




$$\textcircled{4} \quad 10 - 9 =$$

1



$$\textcircled{5} \quad 10 - 1 =$$

9





のこりはいくつ？

◎ 10 から ひく ひきざん




日にち： 月 日


名まえ _____

- ひきざんをしましょう。(うすいところはなぞりましょう。)


① $10 - 4 =$




② $10 - 9 =$




③ $10 - 3 =$



④ $10 - 6 =$



⑤ $10 - 5 =$





のこりはいくつ？

◎ 10 から ひく ひきざん

4


日にち： 月 日

名まえ _____

- ひきざんを しましょう。(うすいところはなぞりましょう。)


① $10 - 7 =$

3



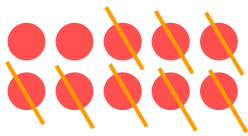
② $10 - 1 =$

9




③ $10 - 8 =$

2




④ $10 - 2 =$

8



⑤ $10 - 4 =$

6





のこりはいくつ？

◎ 10 から ひく ひきざん



日にち： 月 日

名まえ _____

・ ひきざんを しましょう。(うすいじはなぞりましょう。)

① $10 - 3 =$

② $10 - 1 =$

③ $10 - 5 =$

④ $10 - 6 =$

⑤ $10 - 8 =$





のこりはいくつ？

◎ 10 から ひく ひきざん

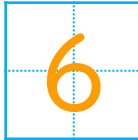


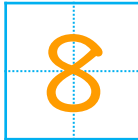
日にち： 月 日

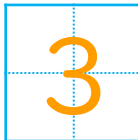
名まえ _____

- ・ ひきざんを しまししょう。(うすいじはなぞりまししょう。)

① $10 - 9 =$ 

② $10 - 4 =$ 

③ $10 - 2 =$ 

④ $10 - 7 =$ 

⑤ $10 - 5 =$ 





のこりはいくつ？

◎ 10 から ひく ひきざん



日にち： 月 日

名まえ _____

・ ひきざんを しましょう。

① $10 - 3 =$

② $10 - 8 =$

③ $10 - 5 =$

④ $10 - 1 =$

⑤ $10 - 7 =$



のこりはいくつ？

◎ 10 から ひく ひきざん

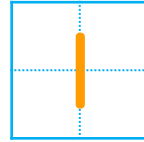


日にち： 月 日

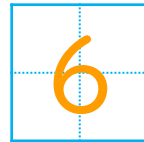
名まえ _____

・ ひきざんを しましょう。

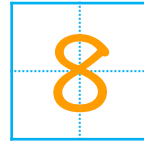
① $10 - 9 =$



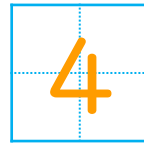
② $10 - 4 =$



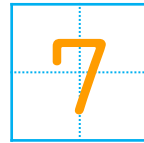
③ $10 - 2 =$



④ $10 - 6 =$



⑤ $10 - 3 =$





のこりはいくつ？

◎ 10 から ひく ひきざん



日にち： 月 日

名まえ _____

・ ひきざんを しましょう。

① $10 - 4 =$ 6

② $10 - 7 =$ 3

③ $10 - 9 =$ 1

④ $10 - 2 =$ 8

⑤ $10 - 6 =$ 4





のこりはいくつ？

◎ 10からひくひきざん

10

日にち： 月 日

名まえ _____

・ ひきざんをしましょう。

① $10 - 6 =$

② $8 - 7 =$

③ $6 - 3 =$

④ $4 - 2 =$

⑤ $5 - 1 =$

⑥ $10 - 4 =$





のこりはいくつ？

◎ 10からひくひきざん



日にち： 月 日

名まえ _____

・ ひきざんをしましょう。

① $9 - 6 =$

② $7 - 3 =$

③ $2 - 1 =$

④ $5 - 3 =$

⑤ $10 - 2 =$

⑥ $6 - 5 =$





のこりはいくつ？

● 10からひくひきざん

12

日にち： 月 日

名まえ _____

・ ひきざんをしましょう。

① $8 - 3 =$

② $9 - 4 =$

③ $5 - 2 =$

④ $10 - 3 =$

⑤ $6 - 2 =$

⑥ $7 - 1 =$





のこりはいくつ？

● 10からひくひきざん

13

日にち： 月 日

名まえ _____

・ ひきざんをしましょう。

① $6 - 4 =$

② $10 - 1 =$

③ $4 - 3 =$

④ $7 - 5 =$

⑤ $10 - 9 =$

⑥ $8 - 5 =$



のこりはいくつ？

● 10からひくひきざん

14

日にち： 月 日

名まえ _____

・ ひきざんをしましょう。

① $8 - 1 =$

② $5 - 4 =$

③ $7 - 6 =$

④ $10 - 8 =$

⑤ $9 - 2 =$

⑥ $10 - 5 =$






のこりはいくつ？

● 10からひくひきざん

15

めざせ80てん!



名まえ

・ ひきざんをしましょう。(各20点)

$$\textcircled{1} \quad 10 - 7 = \boxed{3}$$

$$\textcircled{2} \quad 7 - 2 = \boxed{5}$$

$$\textcircled{3} \quad 3 - 1 = \boxed{2}$$

$$\textcircled{4} \quad 9 - 3 = \boxed{6}$$

$$\textcircled{5} \quad 8 - 4 = \boxed{4}$$






のこりはいくつ？

◎ 10 から ひく ひきざん

16

めざせ80てん!



名まえ _____

・ ひきざんを しましょう。(各20点)

① $10 - 4 =$

② $6 - 1 =$

③ $8 - 5 =$

④ $9 - 7 =$

⑤ $3 - 2 =$