



10より
おおきいかず 13
● 10より おおきいかずの
ひきざん

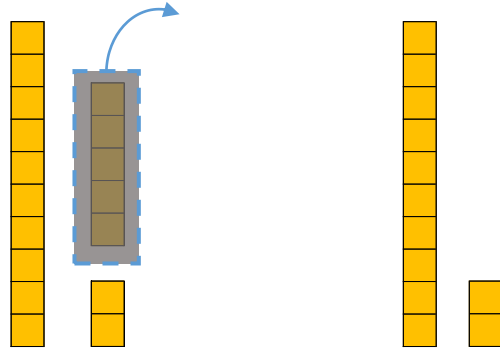


日にち： 月 日

名まえ _____

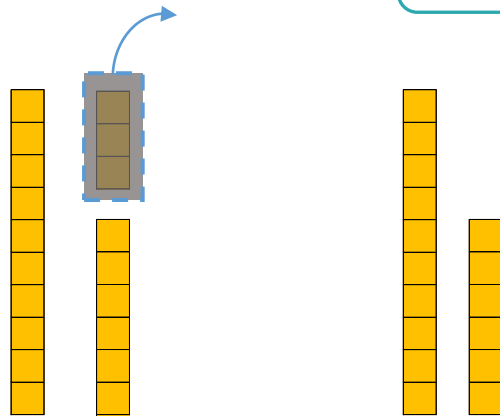
・ □ にかずをかきましょう。(うすいじはなぞりましょう。)

① 17から 5をひいたかずは です。



$$\text{しき} : 17 - 5 = 12$$

② 19から 3をひいたかずは です。



$$\text{しき} : 19 - 3 = \square$$



10より
おおきいかず 13
● 10より おおきいかずの
ひきざん

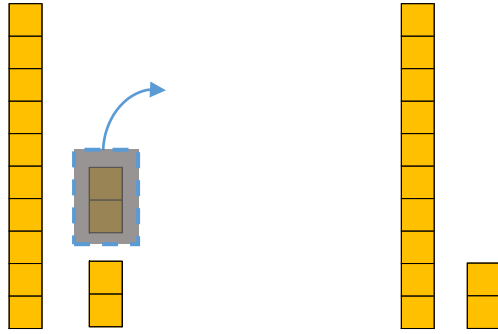


日にち： 月 日

名まえ _____

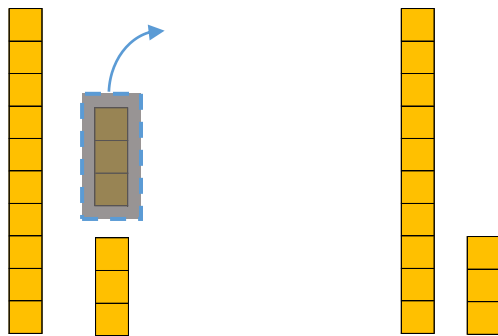
・ □ にかずをかきましょう。(うすいじはなぞりましょう。)

① 14から 2をひいたかずは □ です。



$$\text{しき} : 14 - 2 = 12$$

② 16から 3をひいたかずは □ です。



$$\text{しき} : 16 - 3 = \square$$





10より
おおきいかず 13
● 10より おおきいかずの
ひきざん

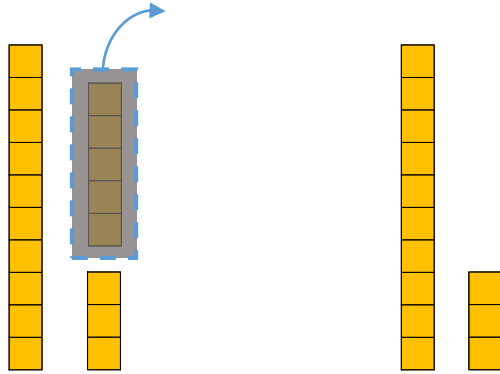


日にち： 月 日

名まえ _____

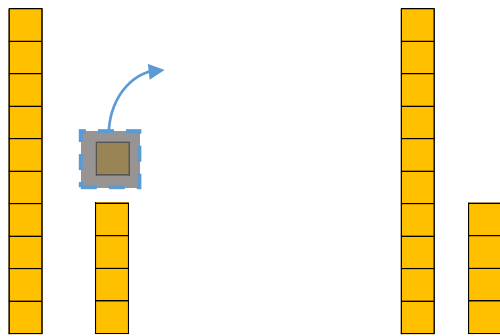
・ □ にかずをかきましょう。

① 18から 5をひいたかずは □ です。



$$\text{しき} : 18 - 5 = \square$$

② 15から 1をひいたかずは □ です。



$$\text{しき} : 15 - 1 = \square$$





10より
おおきいかず 13
● 10より おおきいかずの
ひきざん

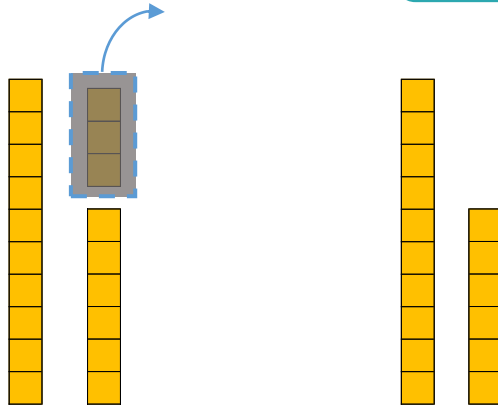
4

日にち： 月 日

名まえ _____

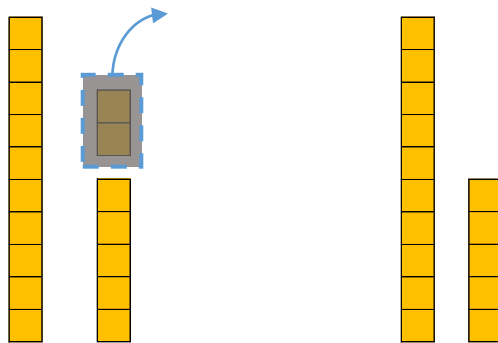
・ □ にかずをかきましょう。

① 19から 3をひいたかずは □ です。



$$\text{しき} : 19 - 3 = \square$$

② 17から 2をひいたかずは □ です。



$$\text{しき} : 17 - 2 = \square$$



10より
おおきいかず 13
●10より おおきいかずの
ひきざん



日にち： 月 日

名まえ _____

・たしざんをしましょう。(うすいじはなぞりましょう。)

① $15 - 2 = 13$

⑥ $16 - 4 = \square$

② $19 - 4 = 15$

⑦ $18 - 3 = \square$

③ $13 - 1 = \square$

⑧ $17 - 5 = \square$

④ $18 - 5 = \square$

⑨ $14 - 2 = \square$

⑤ $12 - 1 = \square$

⑩ $15 - 1 = \square$



10より
おおきいかず 13
●10より おおきいかずの
ひきざん



日にち： 月 日

名まえ _____

・たしざんをしましょう。(うすいじはなぞりましょう。)

① $19 - 4 = 15$

⑥ $19 - 1 = \square$

② $17 - 3 = \square$

⑦ $17 - 6 = \square$

③ $18 - 2 = \square$

⑧ $15 - 2 = \square$

④ $17 - 5 = \square$

⑨ $19 - 2 = \square$

⑤ $19 - 6 = \square$

⑩ $14 - 3 = \square$



10より
おおきいかず 13
●10より おおきいかずの
ひきざん



日にち： 月 日

名まえ _____

・たしざんをしましょう。

① $18 - 1 = \square$

⑥ $19 - 1 = \square$

② $16 - 4 = \square$

⑦ $15 - 2 = \square$

③ $18 - 2 = \square$

⑧ $17 - 6 = \square$

④ $17 - 3 = \square$

⑨ $19 - 7 = \square$

⑤ $19 - 4 = \square$

⑩ $18 - 4 = \square$



10より
おおきいかず 13
●10より おおきいかずの
ひきざん



日にち： 月 日

名まえ _____

・たしざんをしましょう。

① $17 - 2 =$

⑥ $19 - 4 =$

② $16 - 5 =$

⑦ $14 - 1 =$

③ $18 - 4 =$


⑧ $19 - 7 =$

④ $16 - 3 =$

⑨ $15 - 4 =$

⑤ $18 - 2 =$

⑩ $17 - 3 =$



10より
おおきいかず 13
●10より おおきいかずの
ひきざん



日にち： 月 日

名まえ _____

・たしざんをしましょう。

① $17 - 4 =$

⑥ $18 - 3 =$

② $19 - 2 =$

⑦ $17 - 1 =$

③ $18 - 5 =$

⑧ $18 - 4 =$

④ $17 - 6 =$

⑨ $16 - 1 =$

⑤ $16 - 4 =$

⑩ $15 - 2 =$



10より
おおきいかず 13
● 10より おおきいかずの
ひきざん

10

日にち： 月 日

名まえ _____

・ つぎの けいさん を しましょう。

① $15 - 3 = \square$

⑥ $11 + 6 = \square$

② $12 + 6 = \square$

⑦ $18 - 5 = \square$

③ $19 - 4 = \square$

⑧ $17 - 1 = \square$

④ $14 - 3 = \square$

⑨ $13 + 4 = \square$

⑤ $17 + 2 = \square$

⑩ $16 - 2 = \square$



10より
おおきいかず 13

● 10より おおきいかずの
ひきざん



日にち： 月 日

名まえ _____

・ つぎの けいさんを しましょう。

① $14 + 5 =$

⑥ $17 - 3 =$

② $18 - 5 =$

⑦ $12 + 5 =$

③ $19 - 1 =$

⑧ $17 - 2 =$

④ $11 + 5 =$

⑨ $15 - 4 =$

⑤ $16 - 4 =$

⑩ $12 + 3 =$



10より
おおきいかず 13
●10より おおきいかずの
ひきざん

12

日にち： 月 日

名まえ _____

・つぎのけいさんをしましょう。

① $12 + 1 = \square$

⑥ $19 - 2 = \square$

② $17 - 5 = \square$

⑦ $12 + 4 = \square$

③ $12 + 6 = \square$

⑧ $16 - 5 = \square$

④ $19 - 4 = \square$

⑨ $19 - 1 = \square$

⑤ $17 - 3 = \square$

⑩ $11 + 6 = \square$



10より
おおきいかず 13
●10より おおきいかずの
ひきざん

13

日にち： 月 日

名まえ _____

・つぎのけいさんをしましょう。

① $18 - 7 =$

⑥ $19 - 3 =$

② $19 - 5 =$

⑦ $12 + 3 =$

③ $12 + 1 =$

⑧ $14 - 2 =$

④ $19 - 2 =$

⑨ $12 + 7 =$

⑤ $13 + 5 =$

⑩ $16 - 3 =$



10より
おおきいかず 13
●10より おおきいかずの
ひきざん

14

日にち： 月 日

名まえ _____

・つぎのけいさんをしましょう。

① $18 - 1 = \square$

⑥ $12 + 2 = \square$

② $19 - 6 = \square$

⑦ $17 - 6 = \square$

③ $12 + 7 = \square$

⑧ $15 - 3 = \square$

④ $17 - 1 = \square$

⑨ $13 + 2 = \square$

⑤ $16 + 2 = \square$


⑩ $19 - 5 = \square$



10より
おおきいかず 13
●10より おおきいかずの
ひきざん

15

めざせ90点!



名まえ _____

・つぎのけいさんをしましょう。(各10点)

① $16 - 3 = \square$

⑥ $12 + 5 = \square$

② $11 + 6 = \square$

⑦ $17 - 5 = \square$

③ $18 - 2 = \square$

⑧ $14 - 3 = \square$

④ $15 - 1 = \square$

⑨ $16 + 2 = \square$

⑤ $13 + 4 = \square$


⑩ $19 - 4 = \square$



10より
おおきいかず 13
●10より おおきいかずの
ひきざん

16

めざせ90点!



名まえ _____

・つぎのけいさんをしましょう。(各10点)

① $16 - 4 = \square$

⑥ $18 - 1 = \square$

② $18 - 5 = \square$

⑦ $11 + 4 = \square$

③ $12 - 1 = \square$

⑧ $17 - 3 = \square$

④ $14 + 4 = \square$

⑨ $14 + 2 = \square$

⑤ $13 + 6 = \square$

⑩ $19 - 4 = \square$



10より
おおきいかず 13
● 10より おおきいかずの
ひきざん

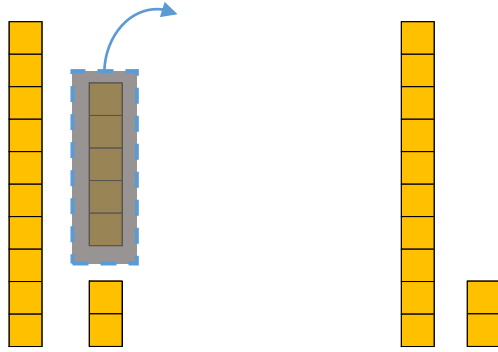


日にち： 月 日

名まえ _____

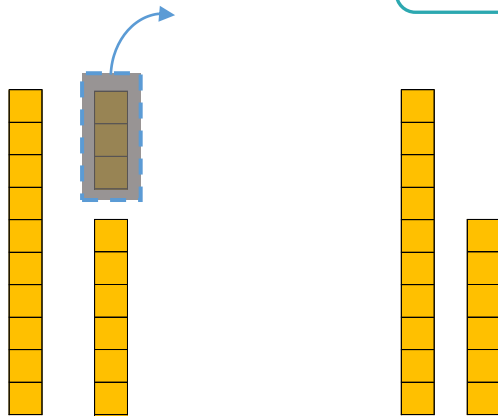
- にかずをかきましょう。(うすいじはなぞりましょう。)

① 17から 5をひいたかずは 12 です。



$$\text{しき} : 17 - 5 = 12$$

② 19から 3をひいたかずは 16 です。



$$\text{しき} : 19 - 3 = 16$$





10より
おおきいかず 13
● 10より おおきいかずの
ひきざん

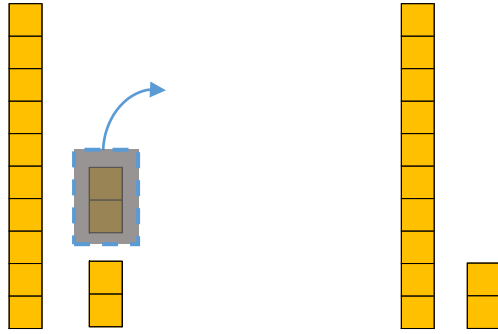


日にち： 月 日

名まえ _____

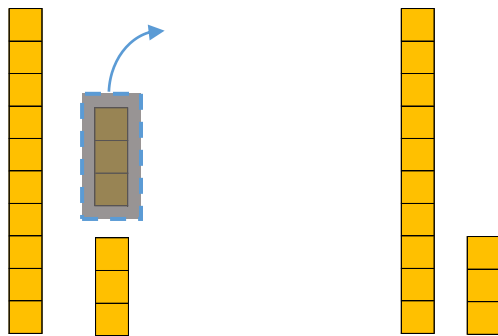
- にかずをかきましょう。(うすいじはなぞりましょう。)

① 14から 2をひいたかずは **12** です。



$$\text{しき} : 14 - 2 = 12$$

② 16から 3をひいたかずは **13** です。



$$\text{しき} : 16 - 3 = 13$$





10より
おおきいかず 13
● 10より おおきいかずの
ひきざん

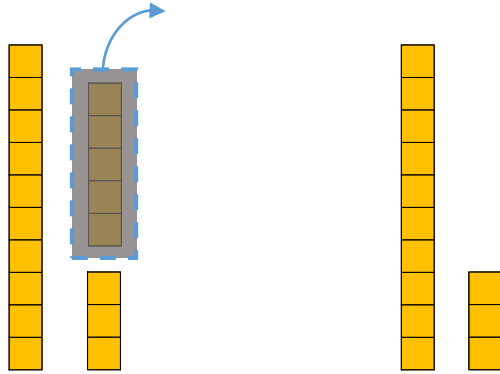


日にち： 月 日

名まえ _____

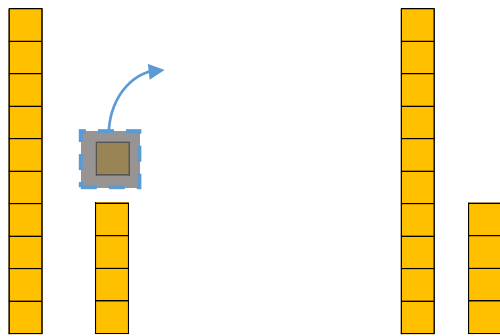
・ □ にかずをかきましょう。

① 18から 5をひいたかずは 13 です。



$$\text{しき} : 18 - 5 = 13$$

② 15から 1をひいたかずは 14 です。



$$\text{しき} : 15 - 1 = 14$$





10より
おおきいかず 13
● 10より おおきいかずの
ひきざん

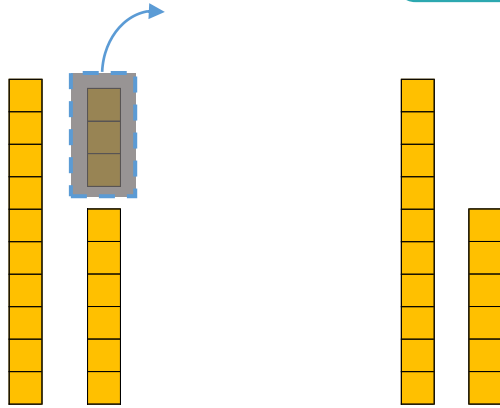
4

日にち： 月 日

名まえ _____

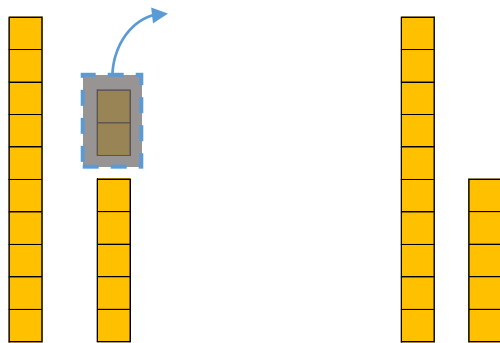
・ □ にかずをかきましょう。

① 19から 3を ひいた かずは 16 です。



$$\text{しき} : 19 - 3 = 16$$

② 17から 2を ひいた かずは 15 です。



$$\text{しき} : 17 - 2 = 15$$





10より
おおきいかず 13
●10より おおきいかずの
ひきざん



日にち： 月 日

名まえ _____

・たしざんをしましょう。(うすいじはなぞりましょう。)

① $15 - 2 = 13$

⑥ $16 - 4 = 12$

② $19 - 4 = 15$

⑦ $18 - 3 = 15$

③ $13 - 1 = 12$

⑧ $17 - 5 = 12$

④ $18 - 5 = 13$

⑨ $14 - 2 = 12$

⑤ $12 - 1 = 11$

⑩ $15 - 1 = 14$



10より
おおきいかず 13
●10より おおきいかずの
ひきざん



日にち： 月 日

名まえ _____

・たしざんをしましょう。(うすいじはなぞりましょう。)

① $19 - 4 = 15$

⑥ $19 - 1 = 18$

② $17 - 3 = 14$

⑦ $17 - 6 = 11$

③ $18 - 2 = 16$

⑧ $15 - 2 = 13$

④ $17 - 5 = 12$

⑨ $19 - 2 = 17$

⑤ $19 - 6 = 13$

⑩ $14 - 3 = 11$



10より
おおきいかず 13
●10より おおきいかずの
ひきざん



日にち： 月 日

名まえ _____

・たしざんをしましょう。

① $18 - 1 = 17$

⑥ $19 - 1 = 18$

② $16 - 4 = 12$

⑦ $15 - 2 = 13$

③ $18 - 2 = 16$

⑧ $17 - 6 = 11$

④ $17 - 3 = 14$

⑨ $19 - 7 = 12$

⑤ $19 - 4 = 15$

⑩ $18 - 4 = 14$



10より
おおきいかず 13
● 10より おおきいかずの
ひきざん



日にち： 月 日

名まえ _____

・たしざんをしましょう。

$① \quad 17 - 2 = 15$

$⑥ \quad 19 - 4 = 15$

$② \quad 16 - 5 = 11$

$⑦ \quad 14 - 1 = 13$

$③ \quad 18 - 4 = 14$


$⑧ \quad 19 - 7 = 12$

$④ \quad 16 - 3 = 13$

$⑨ \quad 15 - 4 = 11$

$⑤ \quad 18 - 2 = 16$

$⑩ \quad 17 - 3 = 14$



10より
おおきいかず 13
●10より おおきいかずの
ひきざん



日にち： 月 日

名まえ _____

・たしざんをしましょう。

① $17 - 4 = 13$

⑥ $18 - 3 = 15$

② $19 - 2 = 17$

⑦ $17 - 1 = 16$

③ $18 - 5 = 13$

⑧ $18 - 4 = 14$

④ $17 - 6 = 11$

⑨ $16 - 1 = 15$

⑤ $16 - 4 = 12$

⑩ $15 - 2 = 13$



10より
おおきいかず 13
● 10より おおきいかずの
ひきざん

10

日にち： 月 日

名まえ _____

・ つぎの けいさん を しましょう。

① $15 - 3 = 12$

⑥ $11 + 6 = 17$

② $12 + 6 = 18$

⑦ $18 - 5 = 13$

③ $19 - 4 = 15$

⑧ $17 - 1 = 16$

④ $14 - 3 = 11$

⑨ $13 + 4 = 17$

⑤ $17 + 2 = 19$

⑩ $16 - 2 = 14$



10より
おおきいかず 13

● 10より おおきいかずの
ひきざん



日にち： 月 日

名まえ _____

・ つぎの けいさん を しましょう。

① $14 + 5 = 19$

⑥ $17 - 3 = 14$

② $18 - 5 = 13$

⑦ $12 + 5 = 17$

③ $19 - 1 = 18$

⑧ $17 - 2 = 15$

④ $11 + 5 = 16$

⑨ $15 - 4 = 11$

⑤ $16 - 4 = 12$

⑩ $12 + 3 = 15$



10より
おおきいかず 13
● 10より おおきいかずの
ひきざん

12

日にち： 月 日

名まえ _____

・ つぎの けいさんを しましょう。

① $12 + 1 = 13$

⑥ $19 - 2 = 17$

② $17 - 5 = 12$

⑦ $12 + 4 = 16$

③ $12 + 6 = 18$

⑧ $16 - 5 = 11$

④ $19 - 4 = 15$

⑨ $19 - 1 = 18$

⑤ $17 - 3 = 14$

⑩ $11 + 6 = 17$



10より
おおきいかず 13

●10より おおきいかずの
ひきざん

13

日にち： 月 日

名まえ _____

・つぎのけいさんをしましょう。

① $18 - 7 = 11$

⑥ $19 - 3 = 16$

② $19 - 5 = 14$

⑦ $12 + 3 = 15$

③ $12 + 1 = 13$

⑧ $14 - 2 = 12$

④ $19 - 2 = 17$

⑨ $12 + 7 = 19$

⑤ $13 + 5 = 18$

⑩ $16 - 3 = 13$



10より
おおきいかず 13
●10より おおきいかずの
ひきざん

14

日にち： 月 日

名まえ _____

・つぎのけいさんをしましょう。

① $18 - 1 = 17$

⑥ $12 + 2 = 14$

② $19 - 6 = 13$

⑦ $17 - 6 = 11$

③ $12 + 7 = 19$

⑧ $15 - 3 = 12$

④ $17 - 1 = 16$

⑨ $13 + 2 = 15$

⑤ $16 + 2 = 18$


⑩ $19 - 5 = 14$



10より
おおきいかず 13
●10より おおきいかずの
ひきざん

15

めざせ90点!



名まえ _____

・つぎのけいさんをしましょう。(各10点)

① $16 - 3 = 13$

⑥ $12 + 5 = 17$

② $11 + 6 = 17$

⑦ $17 - 5 = 12$

③ $18 - 2 = 16$

⑧ $14 - 3 = 11$

④ $15 - 1 = 14$

⑨ $16 + 2 = 18$

⑤ $13 + 4 = 17$


⑩ $19 - 4 = 15$



10より
おおきいかず 13
●10より おおきいかずの
ひきざん

16

めざせ90点!



名まえ _____

・つぎのけいさんをしましょう。(各10点)

① $16 - 4 = 12$

⑥ $18 - 1 = 17$

② $18 - 5 = 13$

⑦ $11 + 4 = 15$

③ $12 - 1 = 11$

⑧ $17 - 3 = 14$

④ $14 + 4 = 18$

⑨ $14 + 2 = 16$

⑤ $13 + 6 = 19$

⑩ $19 - 4 = 15$