



10より おおきいかず 9

● おおきいかずは
どちらでしょう

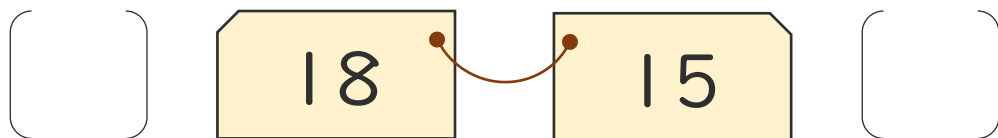
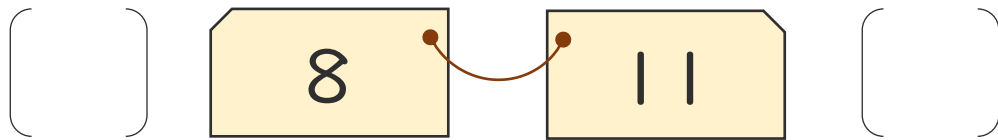
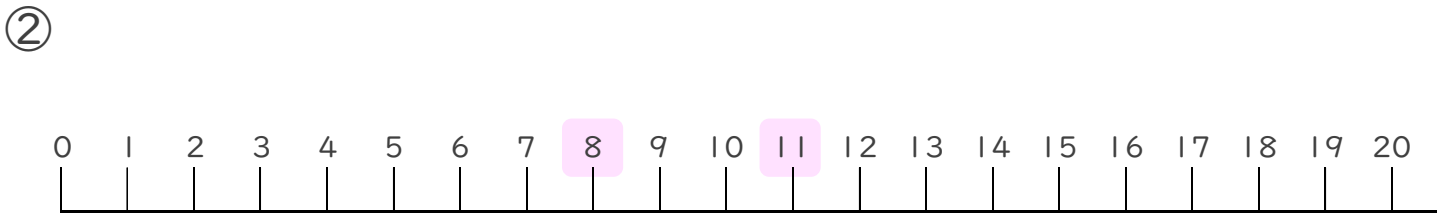
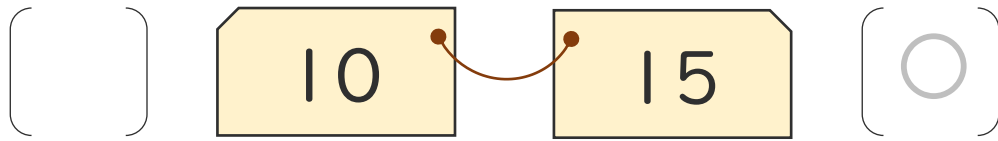
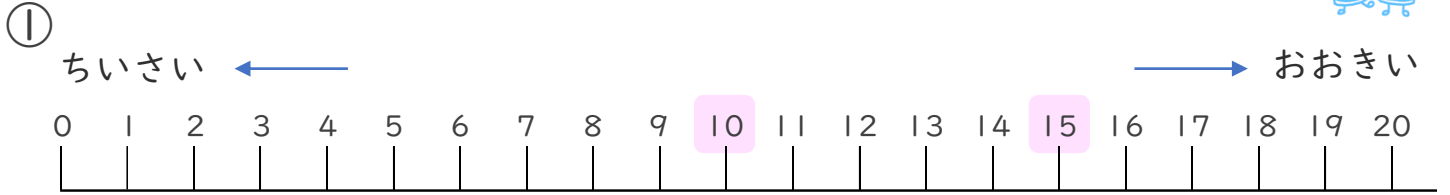


日にち： 月 日

名まえ _____

・ おおきいほうに ○ をつけましょう。(うすいじはなぞりましょう。)

かずのせんをみながらやってみよう!





10より
おおきいかず 9

● おおきいかずは
どちらでしょう



日にち： 月 日

名まえ _____

・ おおきいほうに ○ をつけましょう。(うすいじはなぞりましょう。)

①

(○) 20 18 ()

②

() 14 16 ()

③

() 11 7 ()

④

() 15 19 ()





10より
おおきいかず 9

● おおきいかずは
どちらでしょう

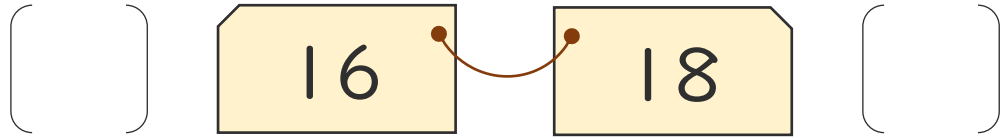


日にち： 月 日

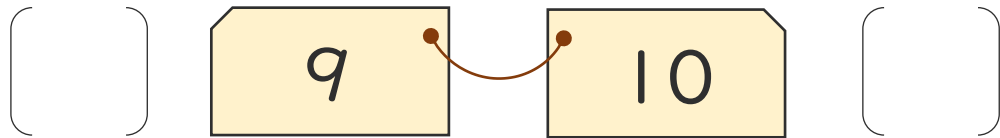
名まえ _____

・ おおきいほうに ○ を つけましょう。

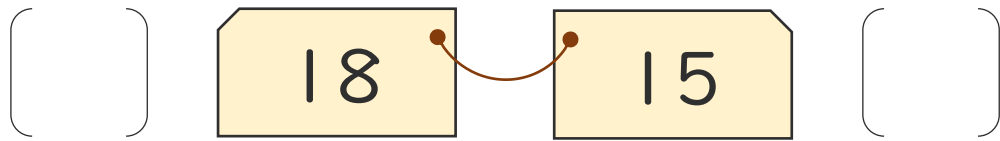
①



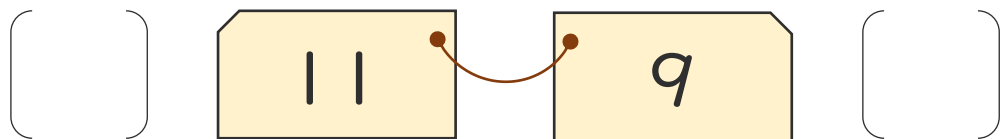
②



③



④





10より
おおきいかず 9

● おおきいかずは
どちらでしょう

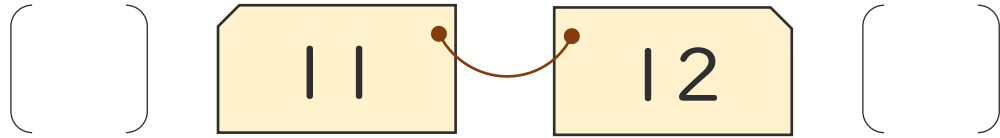


日にち： 月 日

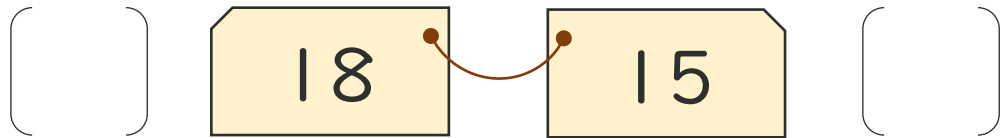
名まえ _____

・ おおきいほうに ○ をつけましょう。

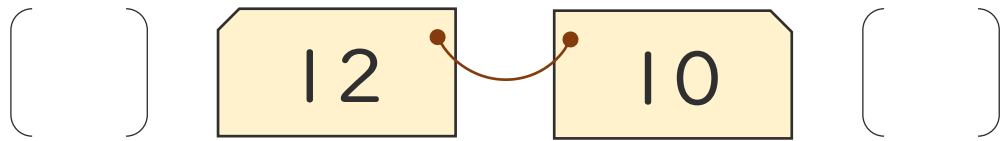
①



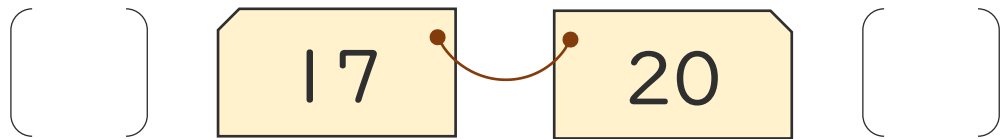
②



③



④





10より
おおきいかず 9

● おおきいかずは
どちらでしょう

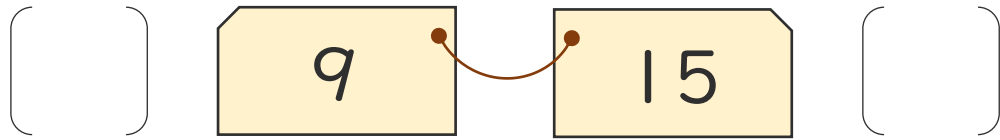


日にち： 月 日

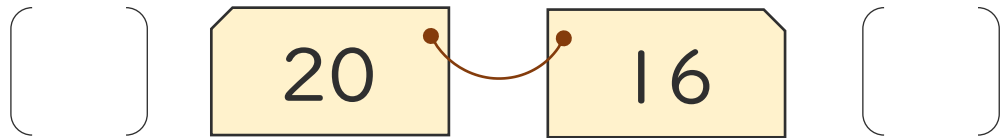
名まえ _____

・ おおきいほうに ○ をつけましょう。

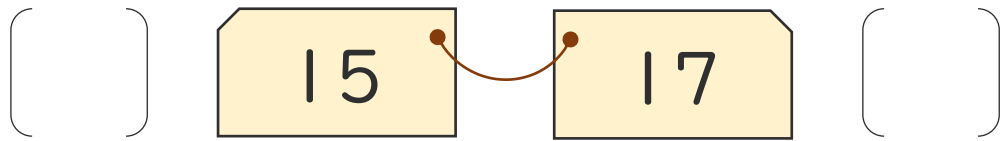
①



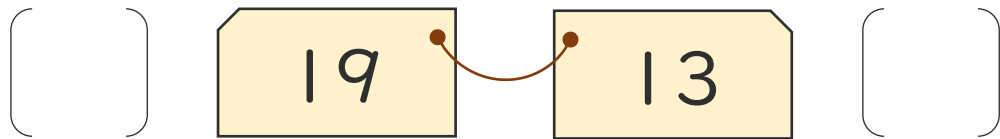
②



③



④





10より
おおきいかず 9

● おおきいかずは
どちらでしょう



日にち： 月 日

名まえ _____

・ おおきいほうに ○ をつけましょう。

①

() 19 17 ()

②

() 13 14 ()

③

() 15 16 ()

④

() 12 8 ()





10より
おおきいかず 9

● おおきいかずは
どちらでしょう



日にち： 月 日

名まえ _____

・ おおきいほうに○をつけましょう。

①

() 19 18 ()

②

() 14 20 ()

③

() 16 8 ()

④

() 9 12 ()



10より
おおきいかず 9

● おおきいかずは
どちらでしょう



日にち： 月 日

名まえ _____

・ おおきいほうに ○ をつけましょう。

①

() 9 11 ()

②

() 14 15 ()

③

() 20 18 ()

④

() 16 13 ()



10より
おおきいかず 9

● おおきいかずは
どちらでしょう

12

日にち： 月 日

名まえ _____

・ おおきいほうに○をつけましょう。

①

() [12] --- [13] ()

②

() [16] --- [11] ()

③

() [20] --- [17] ()

④

() [9] --- [14] ()





10より
おおきいかず 9

● おおきいかずは
どちらでしょう

13

日にち： 月 日

名まえ _____

・ おおきいほうに○をつけましょう。

①

() [15] --- [11] ()

②

() [12] --- [15] ()

③

() [19] --- [20] ()

④

() [18] --- [14] ()





10より
おおきいかず 9

● おおきいかずは
どちらでしょう

14

日にち： 月 日

名まえ _____

・ おおきいほうに○をつけましょう。

①

() [15] --- [17] ()

②

() [11] --- [8] ()

③

() [14] --- [12] ()

④

() [16] --- [18] ()






10より
おおきいかず 9

● おおきいかずは
どちらでしょう

15

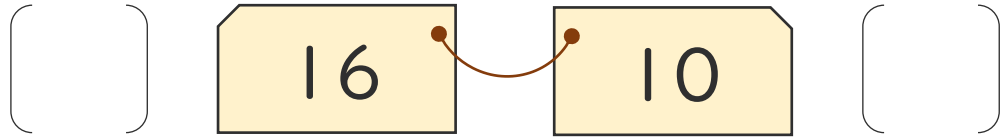
めざせ100点!



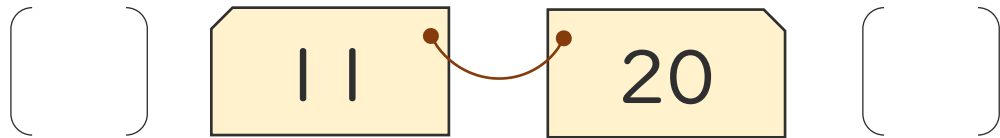
名まえ _____

・ おおきいほうに○をつけましょう。(各25点)

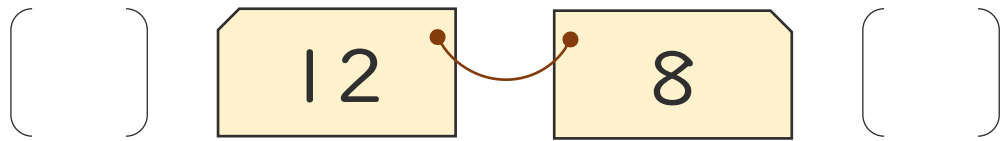
①



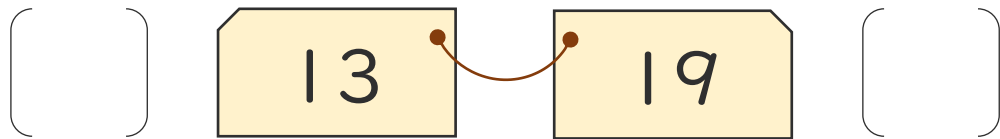
②



③



④






10より
おおきいかず 9

● おおきいかずは
どちらでしょう

16

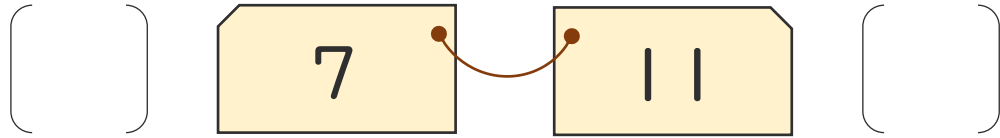
めざせ100点!



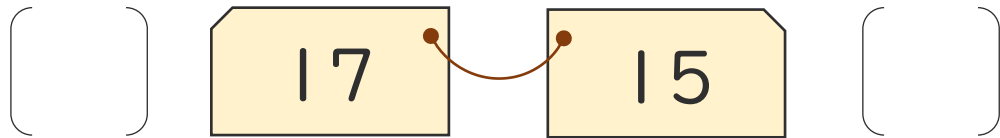
名まえ _____

・ おおきいほうに○をつけましょう。(各25点)

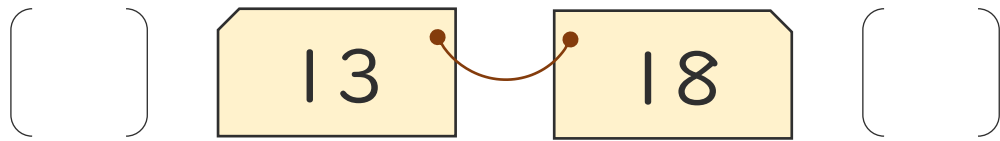
①



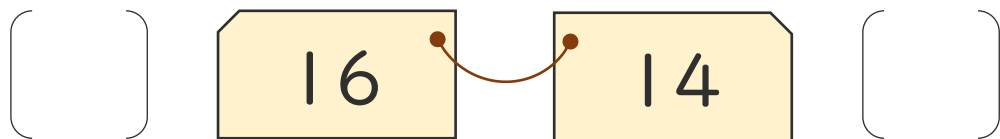
②



③



④





10より
おおきいかず 9

● おおきいかずは
どちらでしょう

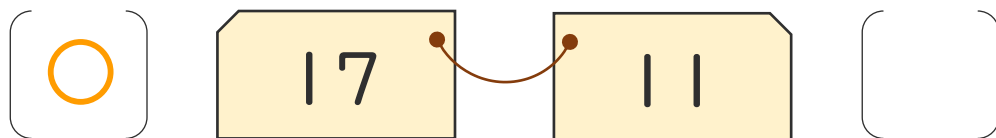
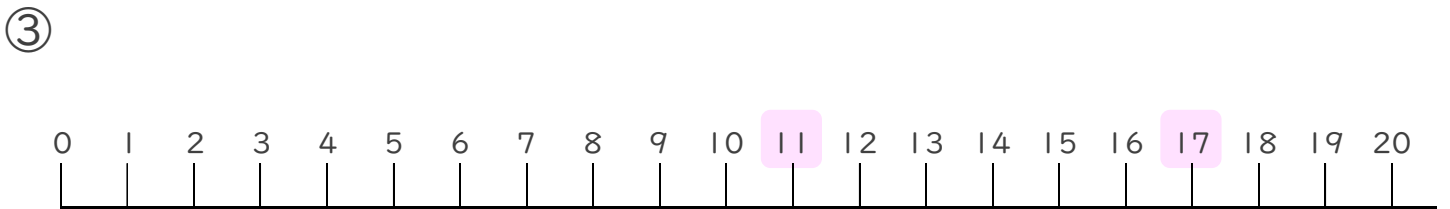
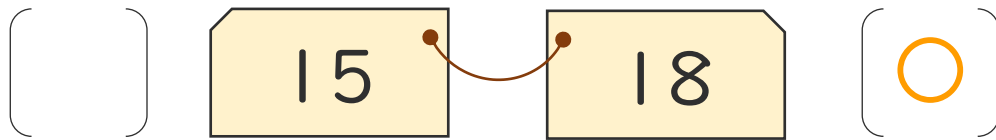
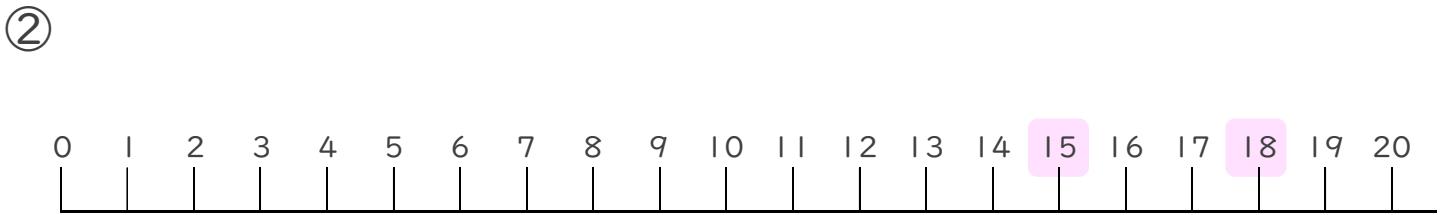
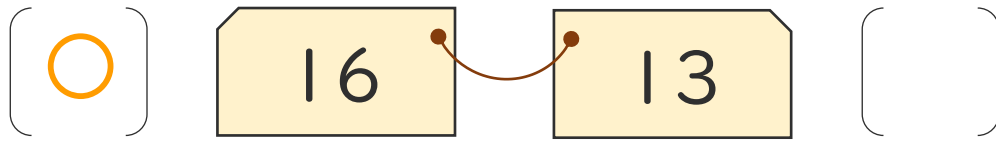
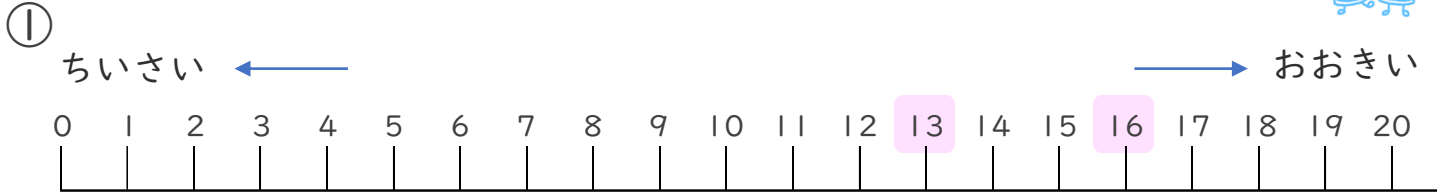


日にち： 月 日

名まえ _____

・ おおきいほうに ○ をつけましょう。(うすいじはなぞりましょう。)

かずのせんをみながらやってみよう!





10より
おおきいかず 9

● おおきいかずは
どちらでしょう



日にち： 月 日

名まえ _____

・ おおきいほうに ○ をつけましょう。(うすいじはなぞりましょう。)

①

(○) 20 18 ()

②

() 14 16 (○)

③

(○) 11 7 ()

④

() 15 19 (○)





10より
おおきいかず 9

● おおきいかずは
どちらでしょう



日にち： 月 日

名まえ _____

・ おおきいほうに ○ をつけましょう。

①

() 16 18 (○)

②

() 9 10 (○)

③

(○) 18 15 ()

④

(○) 11 9 ()





10より
おおきいかず 9

● おおきいかずは
どちらでしょう



日にち： 月 日

名まえ _____

・ おおきいほうに ○ をつけましょう。

①

() 11 12 (○)

②

(○) 18 15 ()

③

(○) 12 10 ()

④

() 17 20 (○)





10より
おおきいかず 9

● おおきいかずは
どちらでしょう



日にち： 月 日

名まえ _____

・ おおきいほうに ○ をつけましょう。

①

() 9 15 (○)

②

(○) 20 16 ()

③

() 15 17 (○)

④

(○) 19 13 ()



10より
おおきいかず 9

● おおきいかずは
どちらでしょう



日にち： 月 日

名まえ _____

・ おおきいほうに ○ をつけましょう。

①

(○) 19 17 ()

②

() 13 14 (○)

③

() 15 16 (○)

④

(○) 12 8 ()





10より
おおきいかず 9

● おおきいかずは
どちらでしょう



日にち： 月 日

名まえ _____

・ おおきいほうに ○ をつけましょう。

①

(○) 19 18 ()

②

() 14 20 (○)

③

(○) 16 8 ()

④

() 9 12 (○)





10より
おおきいかず 9

● おおきいかずは
どちらでしょう



日にち： 月 日

名まえ _____

・ おおきいほうに ○ をつけましょう。

①

() 9 11 (○)

②

() 14 15 (○)

③

(○) 20 18 ()

④

(○) 16 13 ()





10より
おおきいかず 9

● おおきいかずは
どちらでしょう

12

日にち： 月 日

名まえ _____

・ おおきいほうに○をつけましょう。

①

() 12 13 (○)

②

(○) 16 11 ()

③

(○) 20 17 ()

④

() 9 14 (○)





10より
おおきいかず 9

● おおきいかずは
どちらでしょう

13

日にち： 月 日

名まえ _____

・ おおきいほうに○をつけましょう。

①

(○) 15 11 ()

②

() 12 15 (○)

③

() 19 20 (○)

④

(○) 18 14 ()





10より
おおきいかず 9

● おおきいかずは
どちらでしょう

14

日にち： 月 日

名まえ _____

・ おおきいほうに ○ をつけましょう。

①

() 15 17 (○)

②

(○) 11 8 ()

③

(○) 14 12 ()

④

() 16 18 (○)






10より
おおきいかず 9

● おおきいかずは
どちらでしょう

15

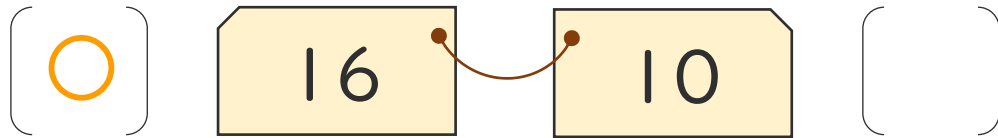
めざせ100点!



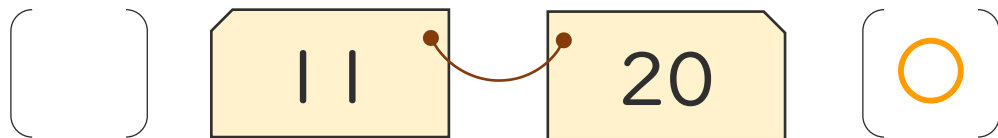
名まえ _____

・ おおきいほうに○をつけましょう。(各25点)

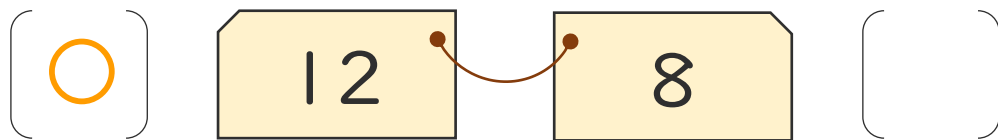
①



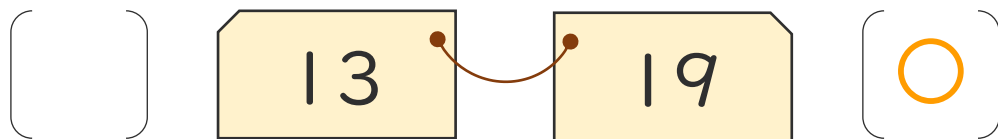
②



③



④






10より
おおきいかず 9

● おおきいかずは
どちらでしょう

16

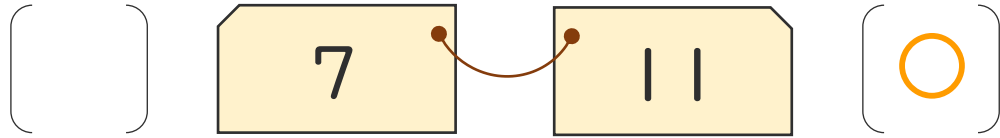
めざせ100点!



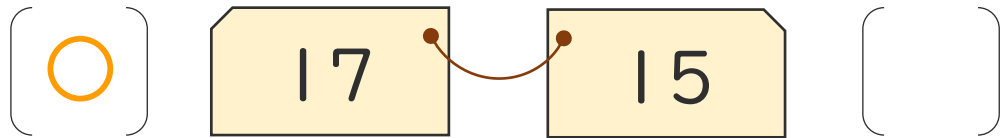
名まえ _____

・ おおきいほうに○をつけましょう。(各25点)

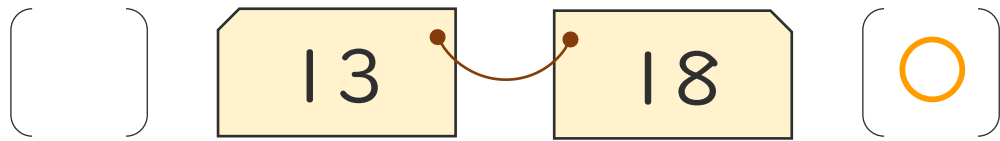
①



②



③



④

