



3つの かずのけいさん！

◎3つのかずのたしざんを
しきにあらわしてみよう



日にち： 月 日

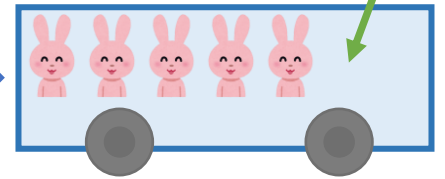
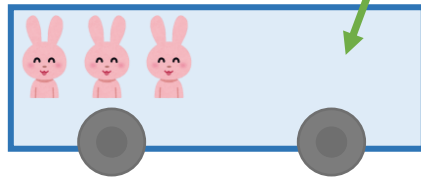
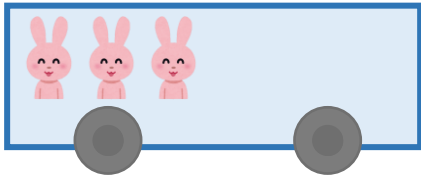
名まえ _____

- うさぎは、みんなでなんびきになりましたか。
(うすいじはなぞりましょう。)

3びきのっています。

2ひきのります。

1びきのります。



☆1つのしきにあらわしてみましよう。

しき：
$$\begin{array}{c} \text{■ ■ ■} \\ \boxed{3} \end{array} + \begin{array}{c} \text{■ ■} \\ \boxed{2} \end{array} + \begin{array}{c} \text{■} \\ \boxed{1} \end{array} = \begin{array}{c} \text{■ ■ ■ ■ ■} \\ \boxed{} \end{array}$$

$\boxed{5}$

こたえ： びき



3つの かずのけいさん!

● 3つのかずのたしざんをしきにあらわしてみよう



日にち： 月 日

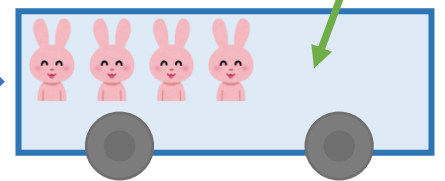
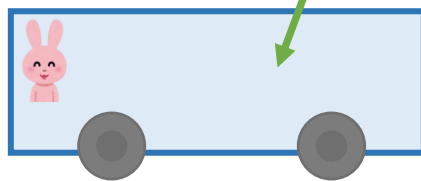
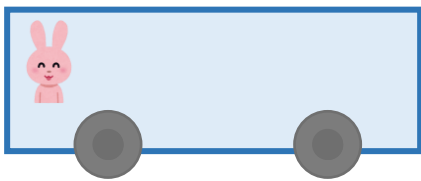
名まえ _____

- うさぎは、みんなでなんびきになりましたか。
(うすいじはなぞりましょう。)

1びきのっています。

3びきのります。

4びきのります。



☆ 1つのしきにあらわしてみましよう。

しき： $\begin{array}{c} \square \\ | \end{array} + \begin{array}{c} \square \square \square \\ | \end{array} + \begin{array}{c} \square \square \square \square \\ | \end{array} = \begin{array}{c} \square \square \square \square \square \square \square \square \\ | \end{array}$

4

こたえ： びき



3つの かずのけいさん!

◎3つのかずのたしざんを
しきにあらわしてみよう



日にち： 月 日

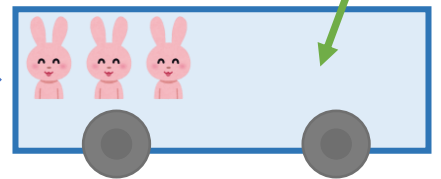
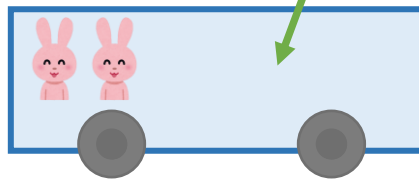
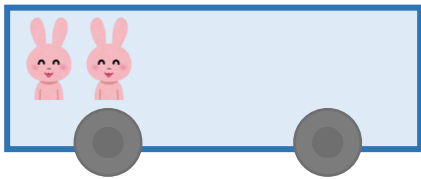
名まえ _____

- うさぎは、みんなでなんびきになりましたか。
(うすいじはなぞりましょう。)

2ひきのっています。

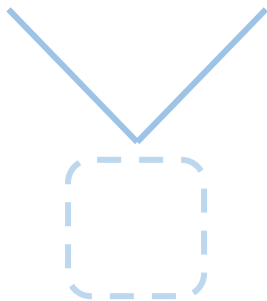
1ひきのります。

2ひきのります。



☆1つのしきにあらわしてみましよう。

しき：
$$\begin{array}{c} \text{■} \text{■} \\ \square \end{array} + \begin{array}{c} \text{■} \\ \square \end{array} + \begin{array}{c} \text{■} \text{■} \\ \square \end{array} = \begin{array}{c} \text{■} \text{■} \text{■} \text{■} \\ \square \end{array}$$



こたえ： ひき



3つの
かずのけいさん！

◎3つのかずのたしざんを
しきにあらわしてみよう

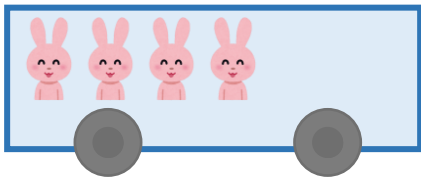


日にち： 月 日

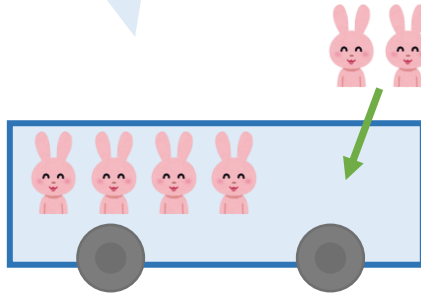
名まえ _____

・ うさぎは、みんなでなんびきになりましたか。

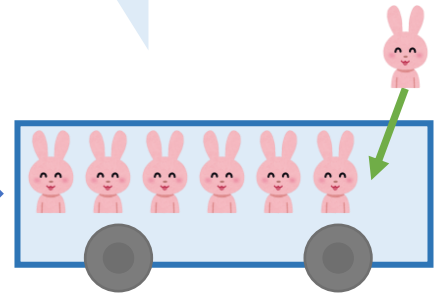
4ひきのっています。







2ひきのります。




1ひきのります。



☆1つのしきにあらわしてみましよう。

しき：  +  +  = 



こたえ：  ひき



3つの
かずのけいさん！

◎3つのかずのたしざんを
しきにあらわしてみよう



日にち： 月 日

名まえ _____

・ つぎのけいさんをしましょう。(うすいじはなぞりましょう。)

$$\textcircled{1} \quad 2 + 4 + 1 = \boxed{7}$$



$$\textcircled{2} \quad 9 + 1 + 3 = \boxed{13}$$



$$\textcircled{3} \quad 3 + 1 + 5 = \boxed{}$$



$$\textcircled{4} \quad 4 + 6 + 2 = \boxed{}$$





3つの
かずのけいさん！

◎3つのかずのたしざんを
しきにあらわしてみよう



日にち： 月 日

名まえ _____

・ つぎのけいさんをしまししょう。(うすいじはなぞりましよう。)

① $1 + 4 + 2 =$

② $7 + 3 + 1 =$

③ $6 + 1 + 3 =$

④ $8 + 2 + 4 =$



3つの
かずのけいさん！

◎ 3つのかずのたしざんを
しきにあらわしてみよう



日にち： 月 日

名まえ _____

・ つぎのけいさんをしましょう。

① $5 + 5 + 6 =$



② $8 + 1 + 1 =$



③ $4 + 6 + 3 =$

④ $3 + 4 + 2 =$



3つの
かずのけいさん！

◎ 3つのかずのたしざんを
しきにあらわしてみよう



日にち： 月 日

名まえ _____

・ つぎのけいさんをしまししょう。

① $2 + 3 + 3 =$



② $6 + 2 + 1 =$



③ $3 + 7 + 4 =$

④ $9 + 1 + 2 =$



3つの
かずのけいさん！

◎ 3つのかずのたしざんを
しきにあらわしてみよう



日にち： 月 日

名まえ _____

・ つぎのけいさんをしまししょう。

① $1 + 6 + 2 =$



② $8 + 2 + 4 =$



③ $4 + 6 + 1 =$

④ $5 + 2 + 3 =$



3つの
かずのけいさん！

● 3つのかずのたしざんを
しきにあらわしてみよう



日にち： 月 日

名まえ _____

・ つぎのけいさんをしまししょう。

$$\textcircled{1} \quad 2 + 8 + 5 = \square$$

$$\textcircled{2} \quad 4 + 3 + 2 = \square$$

$$\textcircled{3} \quad 9 + 1 + 4 = \square$$

$$\textcircled{4} \quad 2 + 1 + 3 = \square$$



3つの
かずのけいさん！

● 3つのかずのたしざんを
しきにあらわしてみよう



日にち： 月 日

名まえ _____

・ つぎのけいさんをしまししょう。

① $7 + 1 + 2 =$

② $3 + 2 + 1 =$

③ $6 + 4 + 3 =$

④ $1 + 9 + 5 =$



3つの
かずのけいさん！

● 3つのかずのたしざんを
しきにあらわしてみよう



日にち： 月 日

名まえ _____

・ つぎのけいさんをしまししょう。

① $2 + 5 + 1 =$

② $5 + 3 + 1 =$

③ $4 + 6 + 5 =$

④ $8 + 2 + 3 =$



3つの
かずのけいさん！

● 3つのかずのたしざんを
しきにあらわしてみよう



日にち： 月 日

名まえ _____

・ つぎのけいさんをしまししょう。

① $2 + 8 + 5 =$

② $7 + 3 + 2 =$

③ $4 + 4 + 2 =$

④ $5 + 1 + 3 =$



3つの
かずのけいさん！

● 3つのかずのたしざんを
しきにあらわしてみよう



日にち： 月 日

名まえ _____

・ つぎのけいさんをしまししょう。

① $1 + 4 + 3 =$

② $3 + 7 + 1 =$

③ $9 + 1 + 4 =$

④ $6 + 1 + 2 =$




3つの
かずのけいさん！

● 3つのかずのたしざんを
しきにあらわしてみよう

15

めざせ100点!



名まえ _____

・ つぎのけいさんをしまししょう。(各25点)

① $5 + 1 + 3 =$

② $3 + 7 + 4 =$

③ $1 + 8 + 1 =$

④ $6 + 4 + 2 =$




3つの
かずのけいさん！

● 3つのかずのたしざんを
しきにあらわしてみよう

16

めざせ100点!



名まえ _____

・ つぎのけいさんをしまししょう。(各25点)

① $2 + 2 + 4 =$

② $7 + 2 + 1 =$

③ $4 + 6 + 3 =$

④ $9 + 1 + 4 =$



3つの かずのけいさん！

◎3つのかずのたしざんを
しきにあらわしてみよう



日にち： 月 日

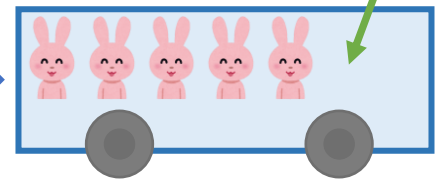
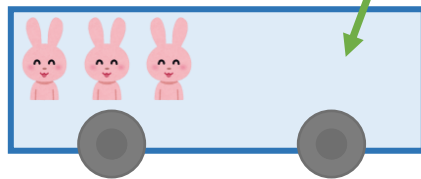
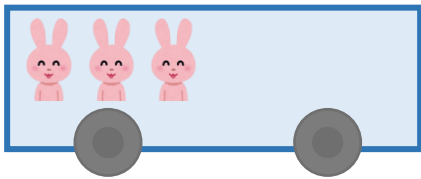
名まえ _____

- うさぎは、みんなでなんびきになりましたか。
(うすいじはなぞりましょう。)

3びきのっています。

2ひきのります。

1びきのります。



☆1つのしきにあらわしてみましよう。

しき： $\begin{array}{c} \text{■} \text{■} \text{■} \\ \boxed{3} \end{array} + \begin{array}{c} \text{■} \text{■} \\ \boxed{2} \end{array} + \begin{array}{c} \text{■} \\ \boxed{1} \end{array} = \begin{array}{c} \text{■} \text{■} \text{■} \text{■} \text{■} \text{■} \\ \boxed{6} \end{array}$

5

こたえ： $\boxed{6}$ びき



3つの かずのけいさん!

● 3つのかずのたしざんをしきにあらわしてみよう



日にち： 月 日

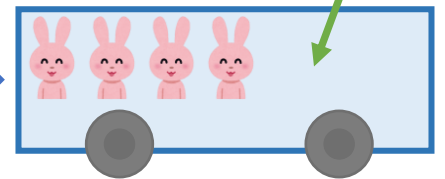
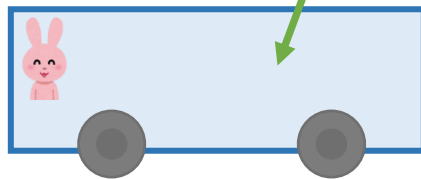
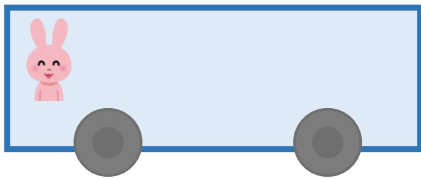
名まえ _____

- うさぎは、みんなでなんびきになりましたか。
(うすいじはなぞりましょう。)

1びきのっています。

3びきのります。

4びきのります。



☆ 1つのしきにあらわしてみましよう。

しき： $1 + 3 + 4 = 8$

4

こたえ： 8 びき



3つの かずのけいさん！

◎3つのかずのたしざんを
しきにあらわしてみよう

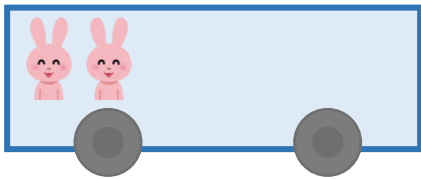


日にち： 月 日

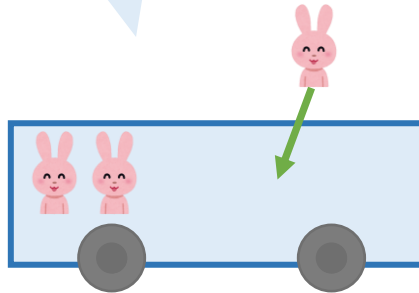
名まえ _____

- うさぎは、みんなでなんびきになりましたか。
(うすいじはなぞりましょう。)

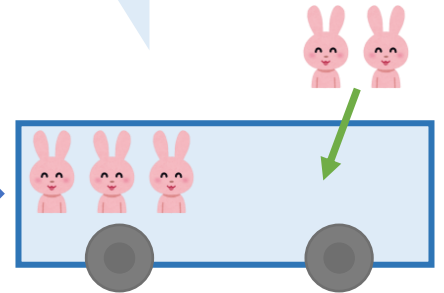
2ひきのっています。



1ひきのります。



2ひきのります。



☆1つのしきにあらわしてみましよう。

しき： $\begin{array}{c} \text{■} \text{■} \\ \boxed{2} \end{array} + \begin{array}{c} \text{■} \\ \boxed{1} \end{array} + \begin{array}{c} \text{■} \text{■} \\ \boxed{2} \end{array} = \begin{array}{c} \text{■} \text{■} \text{■} \text{■} \\ \boxed{5} \end{array}$

$\boxed{3}$

こたえ： $\boxed{5}$ ひき



3つの かずのけいさん！

◎3つのかずのたしざんを
しきにあらわしてみよう



日にち： 月 日

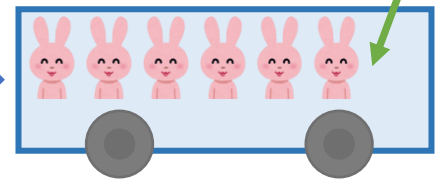
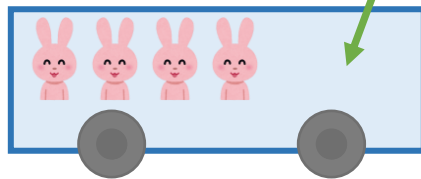
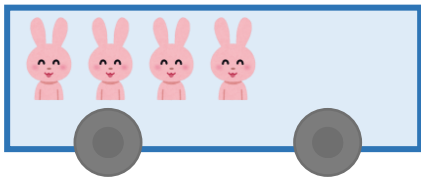
名まえ _____

・うさぎは、みんなでなんびきになりましたか。

4ひきのっています。

2ひきのります。

1ひきのります。



☆1つのしきにあらわしてみましよう。

しき： $\overbrace{4}^{4}$ + $\overbrace{2}^{2}$ + $\overbrace{1}^{1}$ = $\overbrace{7}^{7}$

6

こたえ： $\overbrace{7}^{7}$ ひき



3つの
かずのけいさん！

◎ 3つのかずのたしざんを
しきにあらわしてみよう



日にち： 月 日

名まえ _____

・ つぎのけいさんをしまししょう。(うすいじはなぞりましよう。)

$$\textcircled{1} \quad 2 + 4 + 1 = \boxed{7}$$



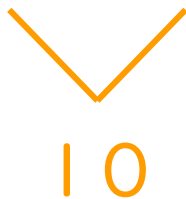
$$\textcircled{2} \quad 9 + 1 + 3 = \boxed{13}$$



$$\textcircled{3} \quad 3 + 1 + 5 = \boxed{9}$$



$$\textcircled{4} \quad 4 + 6 + 2 = \boxed{12}$$





3つの
かずのけいさん！

◎ 3つのかずのたしざんを
しきにあらわしてみよう



日にち： 月 日

名まえ _____

・ つぎのけいさんをしまししょう。(うすいじはなぞりましよう。)

$$\textcircled{1} \quad 1 + 4 + 2 = \boxed{7}$$

5

$$\textcircled{2} \quad 7 + 3 + 1 = \boxed{11}$$

10

$$\textcircled{3} \quad 6 + 1 + 3 = \boxed{10}$$

7

$$\textcircled{4} \quad 8 + 2 + 4 = \boxed{14}$$

10





3つの
かずの けいさん！

◎ 3つのかずのたしざんを
しきにあらわしてみよう



日にち： 月 日

名まえ _____

・ つぎの けいさんを しましょう。

$$\textcircled{1} \quad 5 + 5 + 6 = \boxed{16}$$



$$\textcircled{2} \quad 8 + 1 + 1 = \boxed{10}$$



$$\textcircled{3} \quad 4 + 6 + 3 = \boxed{13}$$



$$\textcircled{4} \quad 3 + 4 + 2 = \boxed{9}$$





3つの
かずの けいさん！

◎ 3つのかずのたしざんを
しきにあらわしてみよう



日にち： 月 日

名まえ _____

・ つぎの けいさんを しましょう。

$$\textcircled{1} \quad 2 + 3 + 3 = \boxed{8}$$



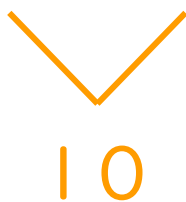
$$\textcircled{2} \quad 6 + 2 + 1 = \boxed{9}$$



$$\textcircled{3} \quad 3 + 7 + 4 = \boxed{14}$$



$$\textcircled{4} \quad 9 + 1 + 2 = \boxed{12}$$





3つの
かずのけいさん！

◎ 3つのかずのたしざんを
しきにあらわしてみよう



日にち： 月 日

名まえ _____

・ つぎのけいさんをしましょう。

$$\textcircled{1} \quad 1 + 6 + 2 = \boxed{9}$$



$$\textcircled{2} \quad 8 + 2 + 4 = \boxed{14}$$



$$\textcircled{3} \quad 4 + 6 + 1 = \boxed{11}$$



$$\textcircled{4} \quad 5 + 2 + 3 = \boxed{10}$$





3つの
かずのけいさん！

● 3つのかずのたしざんを
しきにあらわしてみよう



日にち： 月 日

名まえ _____

・ つぎのけいさんをしましょう。

$$\textcircled{1} \quad 2 + 8 + 5 = \boxed{15}$$

\searrow
 \swarrow
 10

$$\textcircled{2} \quad 4 + 3 + 2 = \boxed{9}$$

\searrow
 \swarrow
 7

$$\textcircled{3} \quad 9 + 1 + 4 = \boxed{14}$$

\searrow
 \swarrow
 10

$$\textcircled{4} \quad 2 + 1 + 3 = \boxed{6}$$

\searrow
 \swarrow
 3





3つの
かずのけいさん！

◎3つのかずのたしざんを
しきにあらわしてみよう



日にち： 月 日

名まえ _____

・ つぎのけいさんをしましょう。

$$\textcircled{1} \quad 7 + 1 + 2 = \boxed{10}$$

8

$$\textcircled{2} \quad 3 + 2 + 1 = \boxed{6}$$

5

$$\textcircled{3} \quad 6 + 4 + 3 = \boxed{13}$$

10

$$\textcircled{4} \quad 1 + 9 + 5 = \boxed{15}$$

10





3つの
かずのけいさん！

◎3つのかずのたしざんを
しきにあらわしてみよう



日にち： 月 日

名まえ _____

・ つぎのけいさんをしましょう。

$$\textcircled{1} \quad 2 + 5 + 1 = \boxed{8}$$

7

$$\textcircled{2} \quad 5 + 3 + 1 = \boxed{9}$$

8

$$\textcircled{3} \quad 4 + 6 + 5 = \boxed{15}$$

10

$$\textcircled{4} \quad 8 + 2 + 3 = \boxed{13}$$

10





3つの
かずのけいさん！

◎ 3つのかずのたしざんを
しきにあらわしてみよう

13

日にち： 月 日

名まえ _____

・ つぎのけいさんをしましょう。

$$\textcircled{1} \quad 2 + 8 + 5 = 15$$

10

$$\textcircled{2} \quad 7 + 3 + 2 = 12$$

10

$$\textcircled{3} \quad 4 + 4 + 2 = 10$$

8

$$\textcircled{4} \quad 5 + 1 + 3 = 9$$

6





3つの
かずのけいさん！

● 3つのかずのたしざんを
しきにあらわしてみよう

14

日にち： 月 日

名まえ _____

・ つぎのけいさんをしましょう。

$$\textcircled{1} \quad 1 + 4 + 3 = \boxed{8}$$

5

$$\textcircled{2} \quad 3 + 7 + 1 = \boxed{11}$$

10

$$\textcircled{3} \quad 9 + 1 + 4 = \boxed{14}$$

10

$$\textcircled{4} \quad 6 + 1 + 2 = \boxed{9}$$

7




3つの
かずの けいさん！

● 3つのかずの たしざんを
しきに あらわしてみよう

15

めざせ100点!



名まえ _____

・ つぎの けいさんを しましょう。(各25点)

$$\textcircled{1} \quad 5 + 1 + 3 = \boxed{9}$$

6

$$\textcircled{2} \quad 3 + 7 + 4 = \boxed{14}$$

10

$$\textcircled{3} \quad 1 + 8 + 1 = \boxed{10}$$

9

$$\textcircled{4} \quad 6 + 4 + 2 = \boxed{12}$$

10






3つの
かずのけいさん！

● 3つのかずのたしざんを
しきにあらわしてみよう

16

めざせ100点!



名まえ _____

・ つぎのけいさんをしましょう。(各25点)

$$\textcircled{1} \quad 2 + 2 + 4 = \boxed{8}$$

4

$$\textcircled{2} \quad 7 + 2 + 1 = \boxed{10}$$

9

$$\textcircled{3} \quad 4 + 6 + 3 = \boxed{13}$$

10

$$\textcircled{4} \quad 9 + 1 + 4 = \boxed{14}$$

10

