



3つの かずのけいさん 2

● 3つのかずのひきざんをしきにあらわしてみよう



日にち： 月 日

名まえ _____

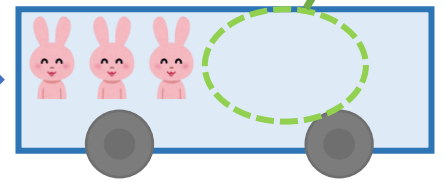
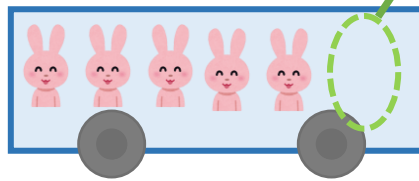
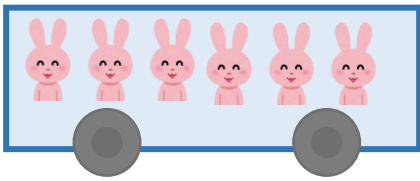
・ うさぎは、なんびきのこっていますか。

(うすいじはなぞりましょう。)

6びきのっています。

1びきおりました。

2ひきおりました。



☆ 1つのしきにあらわしてみましよう。

しき： $6 - 1 - 2 = \square$

5

こたえ： びき



3つの かずのけいさん 2

3つのかずのひきざんを
しきにあらわしてみよう



日にち： 月 日

名まえ _____

うさぎは、なんびきのこっていますか。

(うすいじはなぞりましょう。)

7ひきのっています。

2ひきおりました。

3びきおりました。

☆1つのしきにあらわしてみましよう。

しき： $7 - 2 - \square = \square$

5

こたえ： ひき



3つのかずのけいさん 2

3つのかずのひきざんをしきにあらわしてみよう



日にち： 月 日

名まえ _____

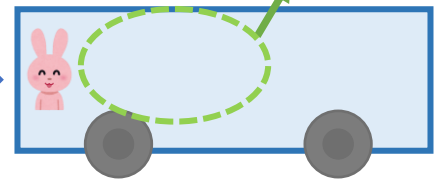
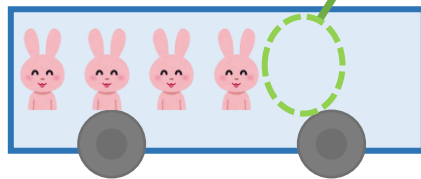
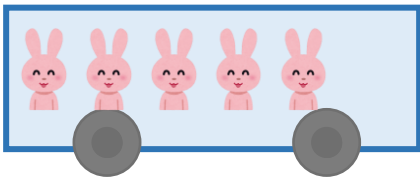
うさぎは、なんびきのこっていますか。

(うすいじはなぞりましょう。)

5ひきのっています。


1ひきおりました。

3ひきおりました。



☆1つのしきにあらわしてみましよう。

しき： $5 - \square - \square = \square$



こたえ： ひき



3つの かずのけいさん 2

3つのかずのひきざんをしきにあらわしてみよう



日にち： 月 日

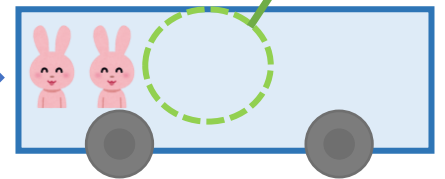
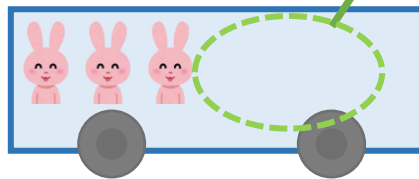
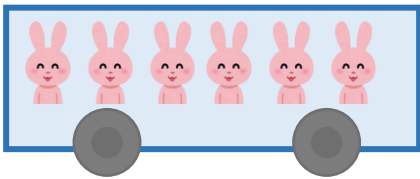
名まえ _____

うさぎは、なんびきのこっていますか。





6びきのっています。

3びきおりました。


1びきおりました。



☆1つのしきにあらわしてみましよう。

しき：  -  -  = 

- - =



こたえ： ひき



3つの
かずのけいさん 2

3つのかずのひきざんを
しきにあらわしてみよう



日にち： 月 日

名まえ _____

・ つぎのけいさんをしまししょう。(うすいじはなぞりましよう。)

$$\textcircled{1} \quad 9 - 2 - 6 = \boxed{\quad}$$



$$\textcircled{2} \quad 18 - 8 - 2 = \boxed{\quad}$$



$$\textcircled{3} \quad 8 - 1 - 5 = \boxed{\quad}$$



$$\textcircled{4} \quad 12 - 2 - 1 = \boxed{\quad}$$





3つの
かずのけいさん 2

3つのかずのひきざんを
しきにあらわしてみよう



日にち： 月 日

名まえ _____

・ つぎのけいさんをしまししょう。(うすいじはなぞりましよう。)

① $10 - 2 - 4 =$



② $13 - 3 - 5 =$



③ $7 - 1 - 3 =$



④ $15 - 5 - 2 =$



3つの
かずのけいさん 2

3つのかずのひきざんを
しきにあらわしてみよう



日にち： 月 日

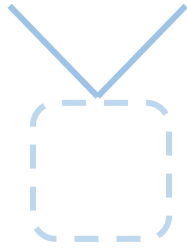
名まえ _____

・ つぎのけいさんをしましょう。

① $5 - 2 - 1 = \square$



② $16 - 6 - 4 = \square$



③ $3 - 1 - 1 = \square$

④ $19 - 9 - 7 = \square$





3つの
かずのけいさん 2

3つのかずのひきざんを
しきにあらわしてみよう




日にち： 月 日


名まえ _____

・ つぎのけいさんをしまししょう。

① $14 - 4 - 6 = \square$



② $4 - 1 - 1 = \square$



③ $11 - 1 - 5 = \square$

④ $6 - 2 - 1 = \square$



3つの
かずのけいさん 2

3つのかずのひきざんを
しきにあらわしてみよう



日にち： 月 日

名まえ _____

・ つぎのけいさんをしましょう。

① $17 - 7 - 8 =$

② $8 - 2 - 4 =$

③ $13 - 3 - 3 =$

④ $6 - 1 - 2 =$



3つの
かずのけいさん 2

● 3つのかずのひきざんを
しきにあらわしてみよう



日にち： 月 日

名まえ _____

・ つぎのけいさんをしましょう。

① $14 - 4 - 2 =$

② $8 - 4 - 1 =$

③ $9 + 1 + 4 =$

④ $13 - 3 - 7 =$





3つの
かずのけいさん 2

● 3つのかずのひきざんを
しきにあらわしてみよう



日にち： 月 日

名まえ _____

・ つぎのけいさんをしましょう。

① $2 + 8 + 5 =$

② $12 - 2 - 8 =$

③ $5 - 2 - 1 =$

④ $11 - 1 - 6 =$



3つの
かずのけいさん 2

● 3つのかずのひきざんを
しきにあらわしてみよう



日にち： 月 日

名まえ _____

・ つぎのけいさんをしましょう。

① $9 - 4 - 3 =$

② $4 + 3 + 2 =$

③ $16 - 6 - 7 =$

④ $13 - 3 - 5 =$



3つの
かずのけいさん 2

● 3つのかずのひきざんを
しきにあらわしてみよう



日にち： 月 日

名まえ _____

・ つぎのけいさんをしましょう。

① $3 - 1 - 1 =$

② $14 - 4 - 6 =$

③ $9 + 1 + 4 =$

④ $10 - 3 - 2 =$





3つの
かずのけいさん 2

● 3つのかずのひきざんを
しきにあらわしてみよう



日にち： 月 日

名まえ _____

・ つぎのけいさんをしましょう。

① $15 - 5 - 2 =$

② $19 - 9 - 4 =$

③ $6 - 2 - 1 =$

④ $2 + 1 + 3 =$






3つの
かずのけいさん 2

● 3つのかずのひきざんを
しきにあらわしてみよう

15

めざせ100点!



名まえ _____

・ つぎのけいさんをしまししょう。(各25点)

① $16 - 6 - 1 =$

② $7 - 2 - 2 =$

③ $3 + 7 + 8 =$

④ $11 - 1 - 5 =$




3つの
かずのけいさん 2

● 3つのかずのひきざんを
しきにあらわしてみよう

16

めざせ100点!



名まえ _____

・ つぎのけいさんをしましょう。(各25点)

① $7 + 1 + 2 =$

② $17 - 7 - 5 =$

③ $8 - 4 - 3 =$

④ $18 - 8 - 4 =$



3つの かずのけいさん 2

3つのかずのひきざんを
しきにあらわしてみよう



日にち： 月 日

名まえ _____

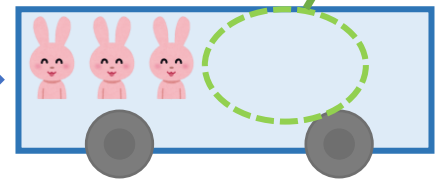

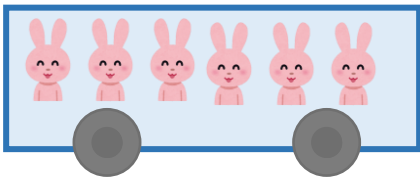
うさぎは、なんびきのこっていますか。

(うすいじはなぞりましょう。)

6びきのっています。

1びきおりました。

2ひきおりました。



☆1つのしきにあらわしてみましよう。

しき： $6 - 1 - 2 = 3$

5

こたえ： 3 びき



3つの かずのけいさん 2

3つのかずのひきざんを
しきにあらわしてみよう



日にち： 月 日

名まえ _____

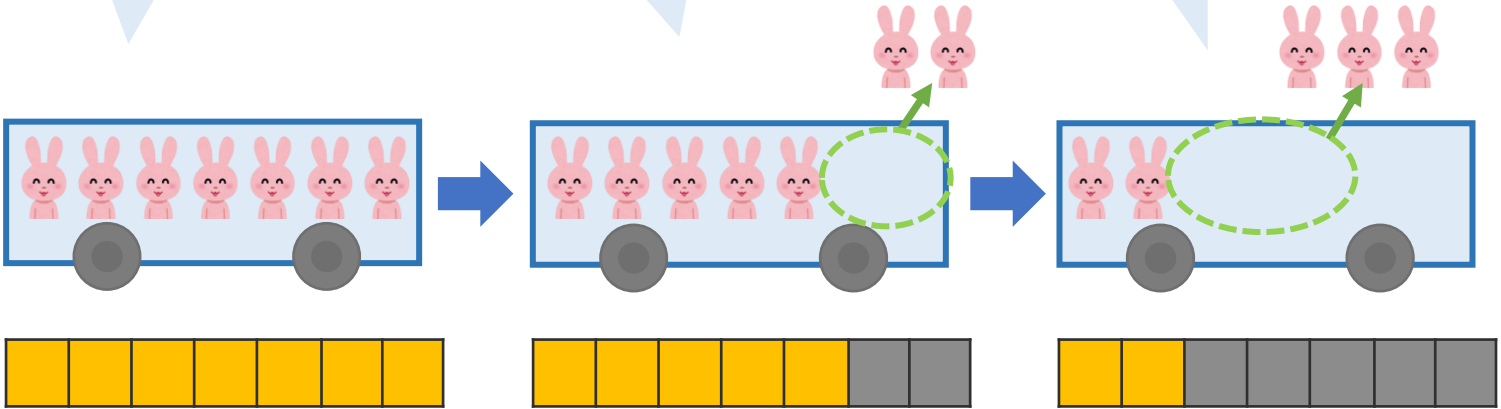
うさぎは、なんびきのこっていますか。

(うすいじはなぞりましょう。)

7ひきのっています。

2ひきおりました。

3びきおりました。



☆1つのしきにあらわしてみましよう。

しき： $7 - 2 - 3 = 2$

5

こたえ： 2 ひき



3つの かずのけいさん 2

3つのかずのひきざんをしきにあらわしてみよう



日にち： 月 日

名まえ _____

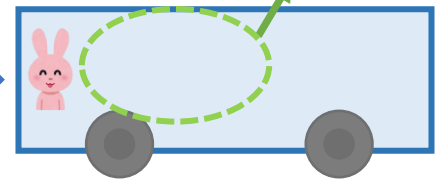
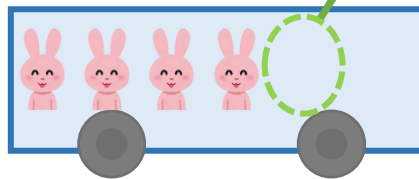
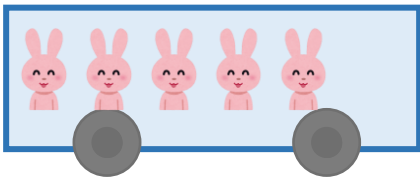
うさぎは、なんびきのこっていますか。

(うすいじはなぞりましょう。)

5ひきのっています。

1ひきおりました。

3ひきおりました。



☆1つのしきにあらわしてみましよう。

しき： $5 - 1 - 3 = 1$

4

こたえ： 1 ひき





3つの かずのけいさん 2

3つのかずのひきざんを
しきにあらわしてみよう



日にち： 月 日

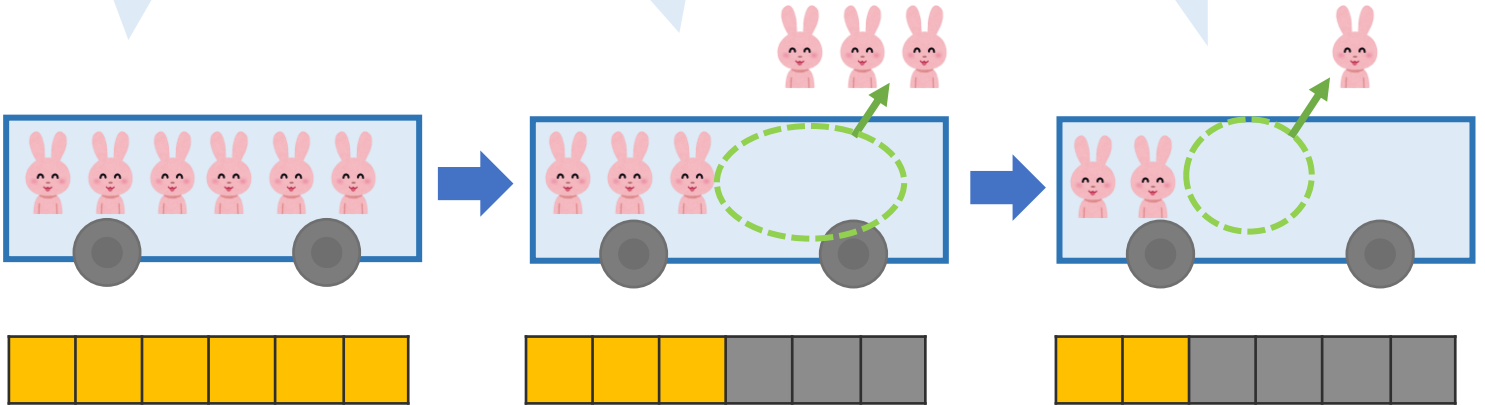
名まえ _____

うさぎは、なんびきのこっていますか。

6びきのっています。

3びきおりました。

1びきおりました。



☆1つのしきにあらわしてみましよう。

しき： $6 - 3 - 1 = 2$

3

こたえ： 2 ひき



3つの かずのけいさん 2

3つのかずのひきざんを
しきにあらわしてみよう



日にち： 月 日

名まえ _____

・ つぎのけいさんをしまししょう。(うすいじはなぞりましよう。)

$$\textcircled{1} \quad 9 - 2 - 6 = \boxed{1}$$



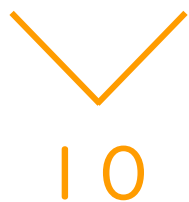
$$\textcircled{2} \quad 18 - 8 - 2 = \boxed{8}$$



$$\textcircled{3} \quad 8 - 1 - 5 = \boxed{2}$$



$$\textcircled{4} \quad 12 - 2 - 1 = \boxed{9}$$





3つの
かずのけいさん 2

3つのかずのひきざんを
しきにあらわしてみよう



日にち： 月 日

名まえ _____

・ つぎのけいさんをしまししょう。(うすいじはなぞりましよう。)

$$\textcircled{1} \quad 10 - 2 - 4 = \boxed{4}$$



$$\textcircled{2} \quad 13 - 3 - 5 = \boxed{5}$$



$$\textcircled{3} \quad 7 - 1 - 3 = \boxed{3}$$



$$\textcircled{4} \quad 15 - 5 - 2 = \boxed{8}$$





3つの
かずのけいさん 2

3つのかずのひきざんを
しきにあらわしてみよう



日にち： 月 日

名まえ _____

・ つぎのけいさんをしましょう。

$$\textcircled{1} \quad 5 - 2 - 1 = \boxed{2}$$

3

$$\textcircled{2} \quad 16 - 6 - 4 = \boxed{6}$$

10

$$\textcircled{3} \quad 3 - 1 - 1 = \boxed{1}$$

2

$$\textcircled{4} \quad 19 - 9 - 7 = \boxed{3}$$

10





3つの
かずのけいさん 2

3つのかずのひきざんを
しきにあらわしてみよう



日にち： 月 日

名まえ _____

・ つぎのけいさんをしましょう。

$$\textcircled{1} \quad 14 - 4 - 6 = \boxed{4}$$

10

$$\textcircled{2} \quad 4 - 1 - 1 = \boxed{2}$$

3

$$\textcircled{3} \quad 11 - 1 - 5 = \boxed{5}$$

10

$$\textcircled{4} \quad 6 - 2 - 1 = \boxed{3}$$

4





3つの
かずのけいさん 2

3つのかずのひきざんを
しきにあらわしてみよう



日にち： 月 日

名まえ _____

・ つぎのけいさんをしましょう。

$$\textcircled{1} \quad 17 - 7 - 8 = \boxed{2}$$

10

$$\textcircled{2} \quad 8 - 2 - 4 = \boxed{2}$$

6

$$\textcircled{3} \quad 13 - 3 - 3 = \boxed{7}$$

10

$$\textcircled{4} \quad 6 - 1 - 2 = \boxed{3}$$

5





3つの
かずのけいさん 2

3つのかずのひきざんを
しきにあらわしてみよう



日にち： 月 日

名まえ _____

・ つぎのけいさんをしましょう。

$$\textcircled{1} \quad 14 - 4 - 2 = \boxed{8}$$

10

$$\textcircled{2} \quad 8 - 4 - 1 = \boxed{3}$$

4

$$\textcircled{3} \quad 9 + 1 + 4 = \boxed{14}$$

10

$$\textcircled{4} \quad 13 - 3 - 7 = \boxed{3}$$

10





3つの かずのけいさん 2

3つのかずのひきざんを
しきにあらわしてみよう



日にち： 月 日

名まえ _____

・ つぎのけいさんをしましょう。

$$\textcircled{1} \quad 2 + 8 + 5 = \boxed{15}$$

10

$$\textcircled{2} \quad 12 - 2 - 8 = \boxed{2}$$

10

$$\textcircled{3} \quad 5 - 2 - 1 = \boxed{2}$$

3

$$\textcircled{4} \quad 11 - 1 - 6 = \boxed{4}$$

10





3つの
かずのけいさん 2

3つのかずのひきざんを
しきにあらわしてみよう

12

日にち： 月 日

名まえ _____

・ つぎのけいさんをしましょう。

$$\textcircled{1} \quad 9 - 4 - 3 = \boxed{2}$$

5

$$\textcircled{2} \quad 4 + 3 + 2 = \boxed{9}$$

7

$$\textcircled{3} \quad 16 - 6 - 7 = \boxed{3}$$

10

$$\textcircled{4} \quad 13 - 3 - 5 = \boxed{5}$$

10





3つの
かずのけいさん 2

● 3つのかずのひきざんを
しきにあらわしてみよう



日にち： 月 日

名まえ _____

・ つぎのけいさんをしましょう。

$$\textcircled{1} \quad 3 - 1 - 1 = \boxed{1}$$

2

$$\textcircled{2} \quad 14 - 4 - 6 = \boxed{4}$$

10

$$\textcircled{3} \quad 9 + 1 + 4 = \boxed{14}$$

10

$$\textcircled{4} \quad 10 - 3 - 2 = \boxed{5}$$

7





3つの
かずのけいさん 2

3つのかずのひきざんを
しきにあらわしてみよう

14

日にち： 月 日

名まえ _____

・ つぎのけいさんをしましょう。

$$\textcircled{1} \quad 15 - 5 - 2 = \boxed{8}$$

10

$$\textcircled{2} \quad 19 - 9 - 4 = \boxed{6}$$

10

$$\textcircled{3} \quad 6 - 2 - 1 = \boxed{3}$$

4

$$\textcircled{4} \quad 2 + 1 + 3 = \boxed{6}$$

3




3つの
かずのけいさん2

3つのかずのひきざんを
しきにあらわしてみよう

15

めざせ100点!



名まえ _____

・ つぎのけいさんをしましょう。(各25点)

$$\textcircled{1} \quad 16 - 6 - 1 = \boxed{9}$$

10

$$\textcircled{2} \quad 7 - 2 - 2 = \boxed{3}$$

5

$$\textcircled{3} \quad 3 + 7 + 8 = \boxed{18}$$

10

$$\textcircled{4} \quad 11 - 1 - 5 = \boxed{5}$$

10






3つの
かずのけいさん 2

3つのかずのひきざんを
しきにあらわしてみよう

16

めざせ100点!



名まえ _____

・ つぎのけいさんをしましょう。(各25点)

$$\textcircled{1} \quad 7 + 1 + 2 = \boxed{10}$$

8

$$\textcircled{2} \quad 17 - 7 - 5 = \boxed{5}$$

10

$$\textcircled{3} \quad 8 - 4 - 3 = \boxed{1}$$

4

$$\textcircled{4} \quad 18 - 8 - 4 = \boxed{6}$$

10